

Omar has anOmar has anOmar has anOmar has an



المعلم عمر حسن إبراهيم عطا الله
مادة الدراسات الاجتماعية

الاسم:

www.almanahj.com



اهلا وسهلا بكم في موقع
الصف الخامس



الدراسات الاجتماعية



1

Alhayer

Omar has anOmar has anOmar has anOmar has anOmar has an



دائرة التعليم والمعرفة
DEPARTMENT OF EDUCATION



وزارة التربية والتعليم
Ministry of Education

المراجعة النهائية

المعلم عم حسن إبراهيم عطا الله
مادة الدراسات الاجتماعية

www.almananj.com

الوحدة الأولى
حضارتنا العريقة

2



الدراسات الاجتماعية



Alhayer

1: هي كل جهد يقوم به الانسان لتحسين ظروف حياته مادية ومعنوية 3



A التطور

B التمدن

C السياسة

D الحضارة

2: كان يتم تمييز أمة عن أمة من خلال

4

A الزي

B أسلوب العيش

C القيم الدينية

D جميع ما ذكر

www.almanahj.com

3: هي بقايا حيوانات ونباتات عاشت في عصور بيولوجية قديمة



A الحيوان

B الأحافير

C العلم

D السياسة

4: من العوامل المساعدة على قيام الحضارة

4

A الموقع الجغرافي والمناخ

B وفرة المياه

C التربة الخصبة

D جميع ما ذكر

4

؟: + التربة الخصبة = الزراعة

5



A الحيوان

B الماء

C التربة

D التضاريس

6: قامت في ضفاف نهر النيل في مصر حضارة الفراعنة التي عرفت



A بلاد الرافدين

B حضارة بلاد الشام

C حضارة وادي النيل

D حضارة ماجان

www.almanahj.com

7: استخدم المصريون القدماء لرفع الماء

7



A الدلو


B الخرطوم

C المضخة

D الشادوف

8: استخدم المصريون القدماء في الزراعة

8



A الفأس

B الجرار

C المنجل والمحراث

D التكنولوجيا

5

عمل الفراغة في القدم ب

9



التجارة

A

الصناعة

B

الزراعة

C

الفضاء

D

تم استخدام الكتابة الهيروغليفية في حضارة

10



بلاد الرافدين

A

حضارة بلاد الشام

B

حضارة وادي النيل

C


حضارة ماجان

D

www.almanahj.com

استخدم المصريون القدماء في وسائل التواصل

11



الهيروغليفية

A

المسمارية

B

الابجدية

C

جميع ما ذكر

D

جمع المصريون القدماء الأشهر في ثلاثة فصول

12



الفيضان

A

البذر

B

البذر والحصاد

C

الفيضان والبذر والحصاد

D

6

من الحضارات التي قامت في بلاد الشام

13



الأراميون والبابليون والكنعانيون

A

الأراميون والاشوريون والكنعانيون

B

الأراميون والفينيقيون والكنعانيون

C

الأراميون والكلدانيون والكنعانيون

D

قامت حضارة الأراميون والفينيقيون والكنعانيون في

14



بلاد الرافدين

A

بلاد الشام

B

شبه الجزيرة العربية

C

www.almanahj.com ماجان

D

استخدم الفينيقيون في وسائل التواصل الكتابة

15

أ ب ت ث ج ح
 خ د ذ ر ز س
 ش ص ض ط ظ ع
 غ ف ق ك ل م
 ن ه و ي

الهيروغليفية

A

المسمارية

B

الابجدية

C

جميع ما ذكر

D

أول الشعوب البحرية في التاريخ

16



البابليون

A

الفرعنة

B

الفينيقيون

C

الأراميون

D

7

كان للفينيقيين مراكز تجارية على سواحل

17



A البحر المتوسط

B البحر الأسود

C البحر الميت

D البحر الأحمر

أقدم الحضارات الانسانية تقع في العراق هي حضارة

18



A بلاد الرافدين

B بلاد الشام

C شبه الجزيرة العربية

D ماجان www.almanahj.com

استخدم الانسان في بلاد الرافدين في وسائل التواصل الكتابة

19



A الهيروغليفية

B المسمارية

C الابدجية

D جميع ما ذكر

عمر المخطوطات اللوحية يرجع :

20



A 3000 ق.م

B 4000 ق.م

C 5000 ق.م

D 2000 ق.م

8

الحضارات في شبه الجزيرة العربية اعتمدت على

21



A استثمار الموارد- والتواصل مع الحضارات

B استثمار الموارد

C الاقتصاد والسياسة

D السياسة

نشأت الممالك فيشبه الجزيرة

22



A الشرق

B الشمال

C الغرب

D الشمال والجنوب

www.almanahj.com

معلم بارز في اليمن أنهار قديماً وعلم على ترميمه الشيخ زايد

23



أثار سد مأرب باليمن

A سد شويب

B سد حام

C مأرب

D سد الموجب

قامت في شمال شبه الجزيرة العربية حضارة

24



A الانباط

B تدمر

C ماجان

D دلمون

9

25 : مدينة البتراء التي تقع في جنوب الأردن تابعة لحضارة



A دلمون

B ماجان

C وادي النيل

D الأنباط

26 : تبرز الأهمية الاقتصادية للأنباط في نشاط

26



A الزراعي

B الصناعي

C الفضاء

D التجاري

www.almanahj.com

27 : استكمل الكلمات الناقصة في جملة عمل على سد

27

A الشيخ زايد - ترميم - مأرب

B الشيخ خليفة- ترميم - مأرب

C الشيخ زايد - ترميم - شويب

D الشيخ محمد - ترميم - مأرب



آثار سد مأرب باليمن

28 : أبرز معلم صناعي في دولة الإمارات جزيرة

28

A طناب الكبرى

B أبو موسى

C النخلة

D دلما



النشاط رقم واحد: عزيزي التلميذ ضلل مربع الإجابة الصحيحة فيما يلي :

قامت حضارة دلمون في :

29



A اليمن

B العراق

C البحرين

D الأردن

كانت الحضارات قديماً ترتبط بـ:

30



A الجبل

B الوادي

C التل

D السهل

عمل سكان ماجان في

31

4

A التجارة

B الصناعة

C الزراعة

D جميع ماذكر

النشاط رقم واحد :عزيزي التلميذ ضلل مربع الإجابة الصحيحة فيما يلي :



قامت حضارة ماجان في :

32

A اليمن

B العراق

C الإمارات وعمان

D الأردن

موقع ساروق الحديد موجود في

33



A أبو ظبي

B الشارقة

C دبي

D عجمان

الذي أكتشف ساروق الحديد هو

34

A الشيخ زايد رحمه الله

B الشيخ راشد رحمه الله

C الشيخ محمد بن زايد حفظه الله

D الشيخ محمد بن راشد حفظه الله



12

35 من لا يعرف ماضيه لا يستطيع أن يعيش حاضره ومستقبله »



A من أقوال الشيخ راشد بن سعيد رحمه الله

B من أقوال الشيخ زايد بن سلطان رحمه الله

C من أقوال الشيخ خليفة بن زايد حفظه الله

D من أقوال الشيخ صقر القاسمي حفظه الله

36 نحن في دولة الإمارات لسنا أمة طارئة على التاريخ



A من أقوال الشيخ راشد بن سعيد رحمه الله

B من أقوال الشيخ زايد بن سلطان رحمه الله

C من أقوال الشيخ خليفة بن زايد حفظه الله

D من أقوال الشيخ محمد بن راشد حفظه الله

www.almanahj.com

37 تاريخ وطننا الإمارات يمتد لما يقارب :



A 6000y

B 5000y

C 4000y

D 7000y

38 تقع على الساحل الجنوبي من الخليج العربي تشمل الإمارات وعمان :



A دلمون

B الانباط

C وادي النيل

D ماجان

13

39 كلمة من شطرين (ما) و (جان) في السومرية تعني هيكل السفينة »



A ماجان

B دلمون

C النيل

D مأرب

40 اطلق على حضارة البحرين مصطلح دلمون لانها



A محاطة بالجبال

B محاطة بالرمال

C محاطة بالصخور

D محاطة بالمياه

www.almanahj.com

41 : تمتد حضارة دلمون من الشمال إلى الجنوب



A الرافدين - النيل

B الرافدين - ماجان

C الشام - اليمن

D فيلكا - ماجان

42 : من الدروس المستفادة من مقولة صاحب السمو الشيخ زايد رحمه الله من لا يعرف ماضيه لا يستطيع أن يعيش حاضره ومستقبله



A دراسة الماضي وأخذ العبر منه

B الابتعاد عن الماضي

C الاهتمام في الحاضر والمستقبل

D جميع ما ذكر

14

أفسر أرتباط قيام الحضارات على المناطق الساحلية

43

4

أعتدال المناخ

A

توافر مصادر الرزق

B

الموقع الاستراتيجي

C

جميع ماذكر

D

من الحضارات التي قامت في الإمارات حضارة

44

الكنعانيون

A

الأكاديون

B

الفينيقيون

C

أم النار

D

www.almanahj.com

عمل سكان ماجان في

45

4

التجارة

A

الصناعة

B

الزراعة

C

جميع ماذكر

D

عمل السكان في دلمون ب

46



الزراعة والصناعة

A

الزراعة

B

السياحة

C

الصناعة فقط

D

15

شجرة لعبت دور كبير في حياة الانسان في منطقة الخليج قديماً

47



A الزيتون

B الرومان

C النخيل

D البرتقال

كان ظهور الاختام الدلمونية الدائرية في حضارة

48

A الكنعانيون

B الأكاديون

C دلمون

D أم النار



www.almanahj.com

تم اكتشاف موقع ساروق الحديد عام

49

2002

A 2002

B 2003

C 2004

D 2005

اكتشاف توصل له الشيخ محمد بن راشد في دبي عام ٢٠٠٢ هو

50



A هيلي

B ام النار

C القصيص

D ساروق الحديد

16

حدث عالمي سيحدث في دبي يرتبط بالموقع الأثري ساروق الحديد

51



أكسبو

A

مهرجان دبي

B

القرية العالمية

C

عالم فيراري

D

يقع ساروق الحديد في الصحراء:

52



الكبرى

A

اريزونا

B

الربع الخالي

C

الدهنا

D

www.almanahj.com

: اكتشاف في الموقع

53

4

قطع ذهبية

A

قطع برونزية

B

احافير

C

جميع ما ذكر

D

من أبرز المنجزات في عهد الباني المؤسس في مجال الزراعة

54

4

زراعي محاصيل جديد

A

زيادة رقعة الأراضي الزراعية

B

تقلص مساحة التصحر

C

جميع ما ذكر

D

17

من العوامل التي ساهمت في تواصل حضارة ماجان مع حضارات العالم

55



الموقع المتطرف

A

الموقع الاستراتيجي

B

الموقع المنعزل

C

الموقع المنزوي

D

من الأدلة على التواصل مع حضارة بلاد الرافدين وجود

56



الاختام

A

الابراج الاسمنتية

B

القلاع

C

الأبراج الطينية

D

هل كان هناك ترابط وتواصل مع حضارة دلمون ما الدليل

57



- ظهرت صناعة الأسلحة والحلي بصورة متطورة
- التوصل إلى تقنية صهر النحاس
- أصبح النحاس المادة الأساسية لصنع أدوات الإنسان القديم
- العثور على 32 موقعا قريبا منها (عرجا ، الأميل ، الواسط)
- فحم الخشب هو الوقود المستخدم لعمليات صهر النحاس

وصول نحاس ماجان إلى الرافدين باسم نحاس دلمون

A

وصول ذهب ماجان إلى الرافدين باسم نحاس دلمون

B

وصول فضة ماجان إلى الرافدين باسم نحاس دلمون

C

وصول حديد ماجان إلى الرافدين باسم نحاس دلمون

D

من الأدلة على تواصل دلمون مع حضارة بلاد الرافدين وجود

58



الاختام

A

الابراج الاسمنتية

B

القلاع

C

الأبراج الطينية

D



إصدار ترقيم وطني

A

دعم ورعاية مشاريع المسح والتنقيب

B

ترميم الاثار

C

تدمير المواقع الأثرية

D

كل ما ينتقل من عادات وتقاليد وعلوم وفنون وعلوم وآداب مفهوم



التنمية

A

البيئة

B

العادات

C

موروثنا الشعبي

D

www.almanahj.com

هو كل ما خلفه الأجداد للأبناء والأبناء



الموروث الشعبي

A

التراث

B

السنع

C

التقاليد

D

الصورة التالية تدل على نوع من أنواع البيئة المؤثرة في التراث الشعبي



البيئة الجبلية

A

البيئة الساحلية

B

البيئة الصحراوية

C

البيئة الريفية

D

19

الصورة التالية تدل على نوع من أنواع البيئة المؤثرة في التراث الشعبي

63



A البيئة الجبلية

A

B البيئة الساحلية

B

C البيئة الصحراوية

C

D تدمير المواقع الأثرية

D

الصورة التالية تدل على نوع من أنواع البيئة المؤثرة في التراث الشعبي

64



A البيئة الجبلية

A

B البيئة الساحلية

B

C البيئة الصحراوية

C

D موروثنا الشعبي

D

www.almanahj.com

: لقد ترك لنا الأسلاف من أجدادنا كثير من التراث الشعبي من أقوال

65



A الشيخ زايد رحمه الله

A

B الشيخ راشد رحمه الله

B

C الشيخ خليفة رعاه الله

C

D الشيخ محمد بن زايد رعاه الله

D

الصورة التالية تدل على التعبير اللفظي المختصر والمتداول هذا مفهوم

66



A المثل الشعبي

A

B التراث

B

C الحضارة

C

D السياسة

D

20

استكمل المثل التالي « أحفظ ولا تتهم يارك »

67



جسدك

A

بيتك

B

ملابسك

C

مالك

D

ترويها الجدات والأمهات للأطفال باللهجة الإماراتية هذا تعريف

68



القصة

A

الخرافة

B

الرواية

C

الحكاية

D

www.almanahj.com

واحدة من التالي ليس من وظائف الخروفة :

69

تربية الأطفال

A

مضيعة للوقت

B

بناء الشخصية

C

تقديم العون للمحتاج

D



من أشهر الحكايات الشعبية الإماراتية حكاية

70

الأسد والطفل

A

أم الدويس

B

ليلي والذئب

C

جميلة والغول

D



21

تستخدم للترويح عن النفس وتخفيف ضغط الحياة هي

71



الحروب

A

كرة القدم

B

الشطرنج

C

الأهازيج الشعبية

D

أكمل الكلمات الناقصة (طاح بيد الله .. كسر حوي عبدالله)

72



الرياح

A

المطر

B

الغيوم

C

الندى

D

www.almanahj.com

أكمل الكلمات الناقصة (طاح المطر كسر حوي سعود)

73



مطر

A

برعود

B

رياح

C

غيوم

D

أكمل الكلمات الناقصة (طاح المطر من كسر حوي بن طوق)

74



تحت

A

فوق

B

خلفي

C

أمامي

D

22

نحرص على الاحتفاظ بتقاليدنا الأصيلة وتراثنا العربي من أقوال

75



الشيخ زايد

A

الشيخ محمد

B

الشيخ سلطان

C

الشيخ راشد

D

مختلف القواعد التي تنظم سلوك الأفراد خلال معاملتهم اليومية هذا مفهوم

76



الدستور

A

العادات

B

التراث

C

السنع

D

www.almanahj.com

تقوم على السنع العديد من الأخلاقيات مثل

77

4

الإخلاص

A

الأمانة والتطوع

B

الصدق والكرم

C

جميع ما ذكر

D

الصورة التالية تدل على عادة أصيلة في المجتمع الإماراتي

78



الصدق

A

التطوع

B

الكرم

C

الأمانة

D

23

لابد من الحفاظ على تراثنا القديم من أقوال صاحب السمو

79



A الشيخ زايد بن سلطان رحمه الله

B الشيخ محمد بن راشد رعاه الله

C الشيخ سلطان بن محمد رعاه الله

D الشيخ راشد بن سعيد رحمه الله

من الفاعليات التي تقيمها الدولة للحفاظ على التراث

80



A متحف اللوفر

B القرية العالمية

C مهرجان قصر الحصن

D مهرجان دبي للتسوق

عاصمة الثقافة الإسلامية التي تقام فيها ايام الشارقة التراثية هي إمارة

81



A دبي

B الشارقة

C عجمان

D الفجيرة

قادت الشارقة على مدى أعوام سلسلة من المشروعات من أقوال صاحب السمو الشيخ

82



A الشيخ زايد بن سلطان رحمه الله

B الشيخ سلطان بن محمد رعاه الله

C الشيخ محمد بن راشد رعاه الله

D الشيخ راشد بن سعيد رحمه الله

24

مهرجان ليوا عجمان للرطب في إمارة

83



A الشارقة

B أم القيوين

C ليوا

D عجمان

84 يتميز المجتمع الإماراتي بمخزون تراثي غني ومعبر عن الهوية الوطنية منها

4

A الزبي الشعبي

B اللهجة المحلية

C الشعر والأمثال

D جميع ما ذكر

www.almanahj.com

85 المجتمع الإماراتي يتميز بمنظومة أخلاقية فطرية قوامها

4

A التدين وتقدير المرأة

B التسامح والتقيد بأداب خاصة في المجالس

C العطف على الصغير واحترام الكبير

D جميع ما ذكر

86 الاهتمام بالسنع والهوية الوطنية يؤسس في المجتمع



A التماسك

B التفكك

C الانهيار

D التراجع

25

هناك شخصية محورية في حياة كل مواطن إماراتي

87



A الشيخ زايد

B الشيخ خليفة

C الشيخ هزاع

D الشيخ عبدالله

مؤسس وباني الدولة هو الشيخ

88



A الشيخ زايد

B الشيخ راشد

C الشيخ صقر

D الشيخ محمد

www.almanahj.com

الشعر العربي الذي كان الشيخ زايد فارسه

89



A النثر

B الشعر المسرحي

C الشعر الملحمي

D الشعر النبطي

سيطر على سلوك الشيخ زايد الجانب الانساني الذي تميز ب

90

4

A الشرف

B النخوة

C أخلاق الفروسية

D جميع ما ذكر

26

يقصد بالفرزة

91



A نجدة المحتاج

B العطف

C الكرم

D الضيافة

من مقومات المجتمع الإماراتي

92

4

A وحدة الجغرافيا والبيئة العامة

B وحدة التاريخ

C وحدة اللغة

D جميع ما ذكر

www.almanahj.com

عرف المجتمع الإماراتي العديد من المجالس التي تناقش السنع

93



A المجالس النسائية

B مجالس النواب

C مجالس الشورى

D المجالس الشعبية

كلمة الترحيب القديمة في المجالس

94



A هالوا

B شو

C لا يوجد تحية

D مرحبا الساعة

27

طريقة التحية الغالبة في الإمارات

95



السلام باليد

A

الضرب على الصدر

B

بالكوع

C

المخاشمة

D

تعتبر رمز للضيافة

96



شراب العصير

A

كولا

B

قهوة

C

الحليب

D

www.almanahj.com

اكمل المثل التالي فنيال الضحى أخير من ذلول

97



الكولا

A

الماء

B

العصير

C

القهوة

D

يمسك الفنجان باليد والدلة باليد

98



اليمنى واليسرى

A

اليسرى واليمنى

B

لا يهم

C

جميع ما ذكر

D



دائرة التعليم والمعرفة
DEPARTMENT OF EDUCATION
AND KNOWLEDGE



وزارة التربية والتعليم
Ministry of Education

كتاب النشاط



المعلم عم حسن إبراهيم عطا الله
مادة الدراسات الاجتماعية

www.almanhajj.com
ملاحق الوحدة
الأولى



الدراسات الاجتماعية



Alhayer


حدد دلالة الصور التالية درس الحضارات




من الآثار النحاسية لحضارة مجان



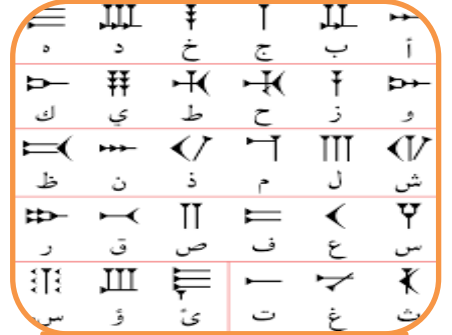
www.almanahj.com




آثار سد مأرب باليمن



حدد دلالة الصور التالية درس الحضارات



www.almanahj.com




حضارات وصور ترتبط بالموقع

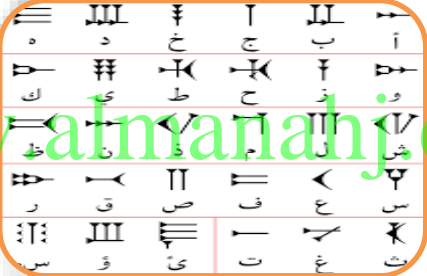
الموقع



الموقع



الموقع



الموقع



الانباط

الموقع




الحضارة الفينيقية

حدد الرابط بين الصور التالية



www.almanahj.com



ماذا يجمع الصور التالية



www.almanahj.com





دائرة التعليم والمعرفة
DEPARTMENT OF EDUCATION
AND KNOWLEDGE



وزارة التربية والتعليم
Ministry of Education

كتاب النشاط



المعلم عم حسن إبراهيم عطا الله
مادة الدراسات الاجتماعية

www.almanahj.com
الوحدة الثانية
روح الاتحاد



الدراسات الاجتماعية



Alhayer

النشاط 1: تسارعت الدول الاستعمارية للسيطرة على دول

الخليج

C

جنوب اسيا

B

العالم

A

النشاط 2: أول من وصل للمنطقة هو الاستعمار

البريطاني

C

البرتغالي

B

الهولندي

A

النشاط 3: الهدف من قدومهم إلى المنطقة هو احتكار

الصناعة

C

التجارة

B

الزراعة في المنطقة

A

النشاط 4: أكمل الجمل التالية

www.almanahj.com

- & - كان الهدف السيطرة على سواحل و..... و.....
- & - شجعهم على ذلك
- & - استولى البوكيرك عام على جزيرة.....
- & - تحول اهتمام البوكيرك إلى الذي يسيطر على مدخل

النشاط 5: سيطر البرتغاليون على موانئ ومدن تجارية مثل

دمشق والرباط

C

جلفار و خورفكان

B

القاهرة وعمان

A

النشاط 6: لماذا تمت السيطرة على هذه المناطق لانها تمتاز بـ

الازدهار

C

التخلف

B

الازدهار والازدهام

A



النشاط 7: جلفار هو الاسم القديم كان يطلق على إمارة

عجمان

C

الشارقة

B

رأس الخيمة

A

النشاط 8: هو خور على هيئة فكين بين (جبلين) هذا يشير إلى

خور فكان

C

خور الشارقة

B

خور دبي

A

النشاط 9: بعد محاولة الاحتلال السيطرة على المنطقة كان موقف أهل المنطقة

مستسلم

C

مقاوم

B

متخاذل

A

النشاط 10: أكمل الجمل التالية

www.almanahj.com

- & - العوامل التي ساعدت على دحر المحتل
 & - القوة التي برزن هي قوة شككت تحدي خطير للمحتل
 & - من الشخصيات التي برزت في المنطقة عام 1820 الشيخ
 والذي لقب بـ..... جد الشيخ حاكم

النشاط 11: قوة القواسم كانت قوة

برية

C

بحرية

B

جوية

A

النشاط 12: معاهدة الحماية على المنطقة كانت عام

1720

C

1920

B

1820

A



النشاط 13: كان تاريخ الحملة الأولى البريطانية على رأس الخيمة عام

1819

C

1809

B

1805

A

النشاط 14: من أسباب الحملة الأولى

عاود القواسم النشاط البحري

C

مهاجمة القواسم

B

حماية العرب

A

النشاط 15: هدف الحملة الثانية كان

توقيع معاهدة حماية

C

تدمير القوة البحرية

B

فرض السيطرة الاستعمارية

A

النشاط 16: أكمل الجمل التالية

- & - أعلنت بريطانيا عام أنها سوف تنسحب من المنطقة عام
 & - سارع قائدنا المغفور له الشيخ بهمة عالية نحو
 & - أهم حدث تاريخي في المنطقة هو
 & - التفكير في الوحدة هو عبارة عن التفكير في

النشاط 17: وقع القواسم معاهدة تعهدوا فيها احترام السفن التي تحمل الراية

الهولندية

C

البرتغالية

B

البريطانية

A

النشاط 18: من نتائج الحملة الثانية الحاق ضربة قاسمة بالقواسم

تدمير

C

فشل

B

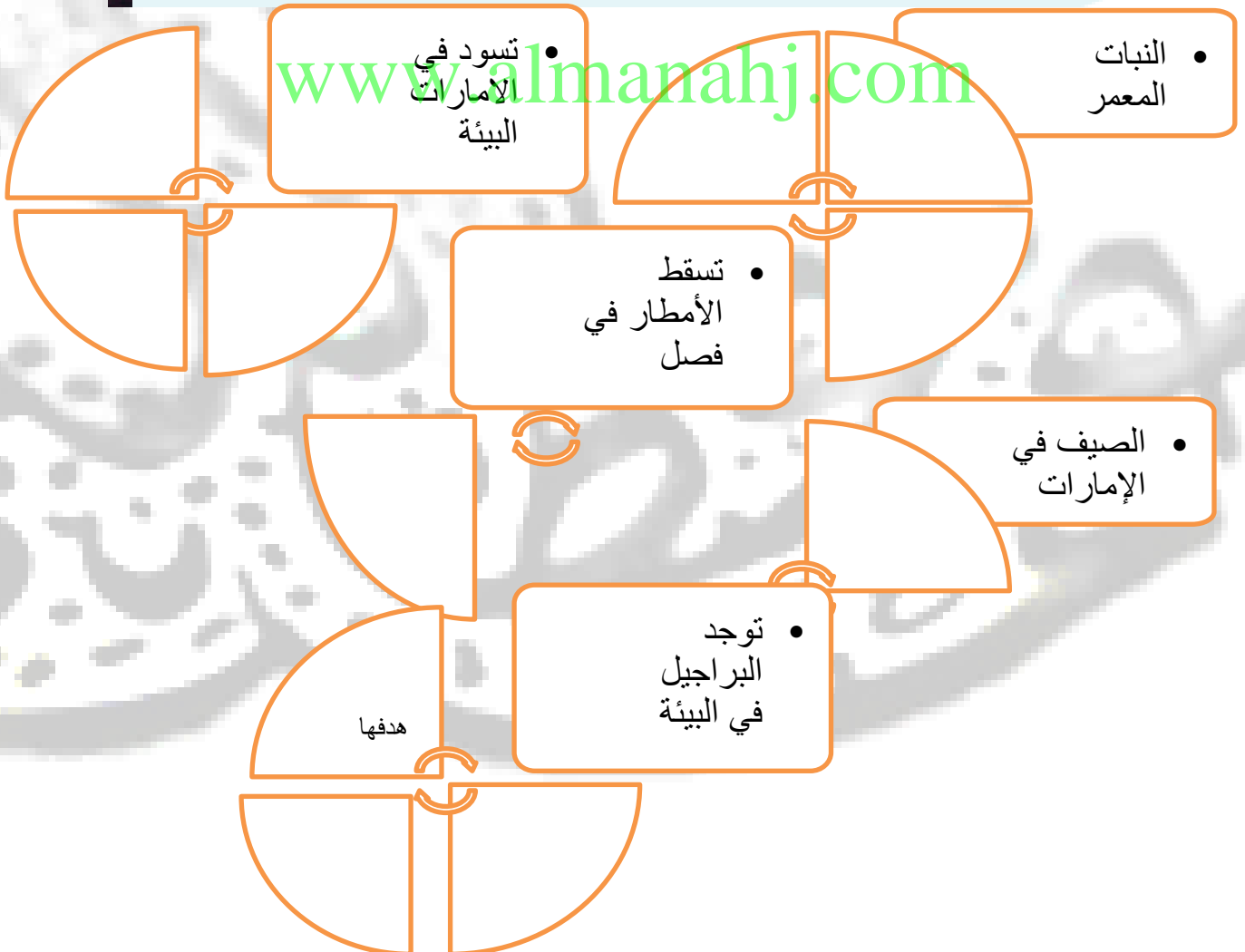
نجاح

A



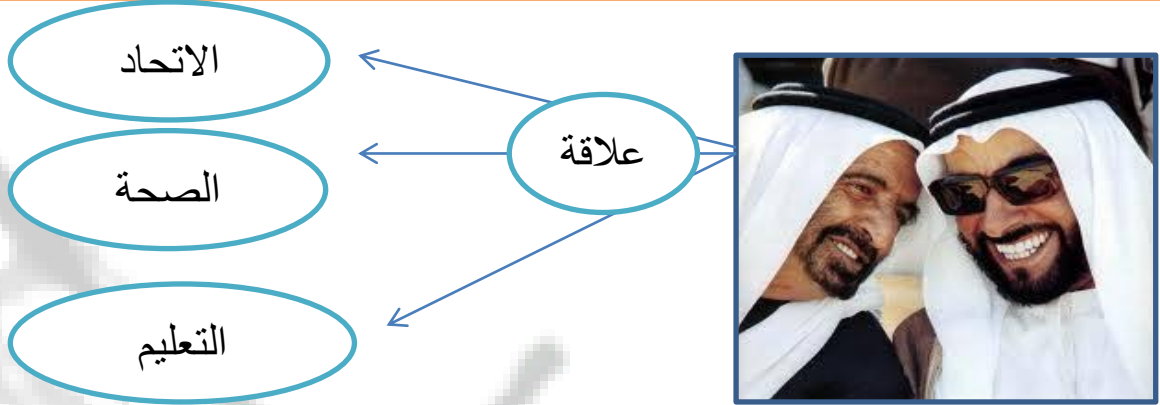
بعد قراءة النص التالي أجب عن الأسئلة التالية :

تحتوي البيئة الإماراتية على النباتات الصحراوية المعمرة كأشجار الغاف والسدر والسمر، وبما أن مواسم سقوط الأمطار متذبذبة في كمياتها ومرتبطة بفصل الشتاء فزراها مكسوة بالثلال الرملية الذهبية من شمس الصيف القوية وبعض من بيوت الشعر البدوية المتفرقة في الأماكن الصحراوية، وهنا يختلف الحال عن المناطق الساحلية حيث بيوت البراجيل القريبة من الساحل المصنوعة من الطين والتي صُممت من أجل التغلب على حرارة الجو بارتفاع البراجيل فيها



الهدف العام : قيام الاتحاد (فكر وتطبيق)

النشاط الأول : طبيعة العلاقة بين محتويات الصورة التالية



النشاط الثاني : ضلل رمز الإجابة الصحيحة :

فكر في قيام الاتحاد وتوحيد أركان الدولة ، هو صاحب السمو الشيخ
 محمد صقر زايد سعود

شارك الشيخ زايد رحمه الله في وضع بذور الوحدة هو الشيخ
 سعيد راشد خليفة محمد

كان تأسيس دولة الإمارات العربية في عام
 1971 1982 1981 1972

تل مرتفع من الرمال يقع بالصحراء هو
 الجبل الوادي العرقوب الهضبة

أول رئيس لدولة الإمارات العربية المتحدة هو الشيخ
 محمد راشد سعود زايد

إن رفع مستوى المواطن والدولة ككل هو رائدنا وفوق كل شيء،
 والدولة مثل الشجرة التي يجب أن تحظى بعناية مواطنيها وحرصهم
 على تنميتها، وكل مواطن عليه أن يحترم وطنه

.....-.....-2018m

.....-.....-1439h

2018-2019
SCHOOL YEARمن أقوال زايد
رحمه الله

الهدف العام: قيام الاتحاد فكر وتطبيق .

النشاط 22 عزيزي المجتهد استخرج من الكلمات الموجودة في الصندوق إجابة الأسئلة التالية ؟ من خلال اختيار الإجابة الصحيحة فيما يلي

ع	ز	ا	ل	ا	ي
ر	د	و	ا	يد	ب
ق	ب	ل	ن	ي	د
و	ي	ر	ا	ا	شد
ب	ا	ل	ث	1971	ة
ا	ل	س	د	ي	ر

الخطوة الأولى في قيام الاتحاد :
 دبي الأول دبي الثاني
 السديرة إعلان الاتحاد

الخطوة الثانية في قيام الاتحاد :
 دبي الأول دبي الثاني
 السديرة إعلان الاتحاد

الخطوة الرابعة في قيام الاتحاد :
 دبي الأول دبي الثاني
 السديرة إعلان الاتحاد

الخطوة الثالثة في قيام الاتحاد :
 دبي الأول دبي الثاني
 السديرة إعلان الاتحاد

أول نائب لرئيس للاتحاد :
 زايد راشد
 محمد صقر

أول رئيس للاتحاد :
 زايد راشد
 محمد صقر

تتكون دولة الإمارات من إمارات

سبع عشرة
 خمس تسع

.....-.....-2018m

.....-.....-1439h

لا بد من الحفاظ على تراثنا؛ لأنه الأصل والجذور، وعلينا أن نتمسك بأصولنا وجذورنا العميقة.

من أقوال زايد
رحمه الله

النشاط 23: (أ) صف البيئة المحلية في الإمارات من حيث

البيئة	المسكن	النبات	الشتاء والصيف	وجود البراجيل
الصحراوية				
الساحلية				

-10-2018m

-2-1440h

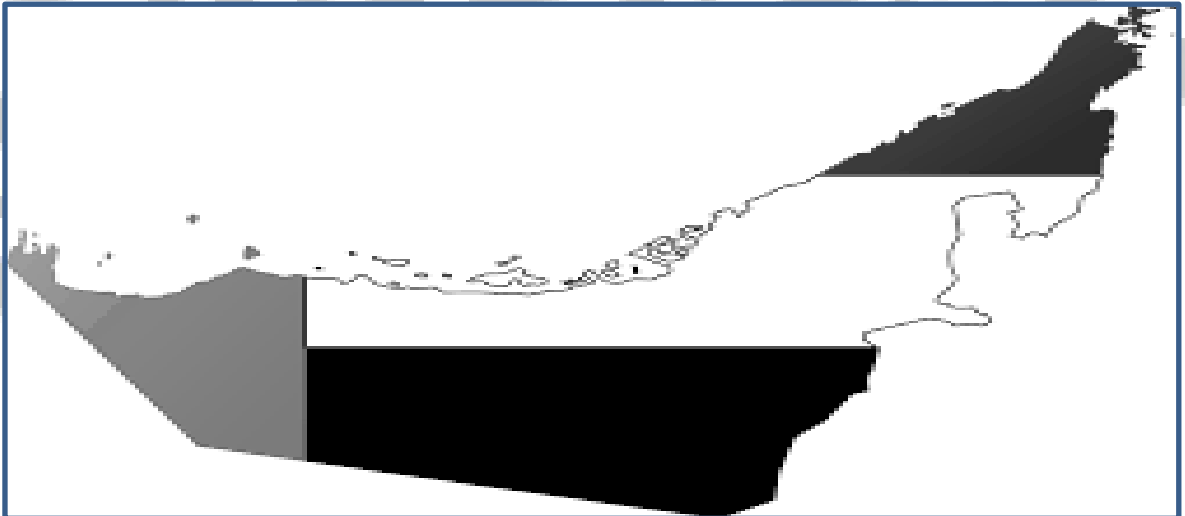
النشاط 23: (ب) استكمل الخط الزمني بما يناسب من الخطوة الأولى للاتحاد حتى تولي الشيخ خليفة الحكم؟ بالعودة للكتاب صفحة 63

www.almanahj.com

عين على خريطة العالم كل من البرتغال وبريطانيا والخليج العربي



عين على خريطة الإمارات موقع أبوظبي ودبي و عرقوب السديرة



اقرأ النص التالي ثم أجب عن ما يأتي :

تعتبر منطقة الخليج العربي من المناطق ذات الموقع الاستراتيجي المهم ولقد زاد الاهتمام العالمي بمنطقة الخليج العربي بعد ظهور النفط بكميات اقتصادية مما جعل دول مجلس التعاون تركز الاهتمام على الاستقرار والأمن في المنطقة ولقد مرت فكرة قيام مجلس التعاون بعدة مراحل ، أولاً مقابلات بين القادة الخليجين عام 1980 ، و ثانياً جولة وزير خارجية الكويت في الدول الخليجية ، ثالثاً اجتماع وزراء خارجية دول مجلس التعاون ، رابعاً إعلان قيام مجلس التعاون الخليجي في 25 مايو . 1981

www.almanahj.com

&متى زاد الاهتمام العالمي بمنطقة الخليج العربي ؟

&ماهي أول مراحل قيام مجلس التعاون الخليجي ؟

&متى أعلن عن قيام مجلس التعاون الخليجي ؟

&ما هي ثالث مرحلة في قيام مجلس التعاون الخليجي ؟

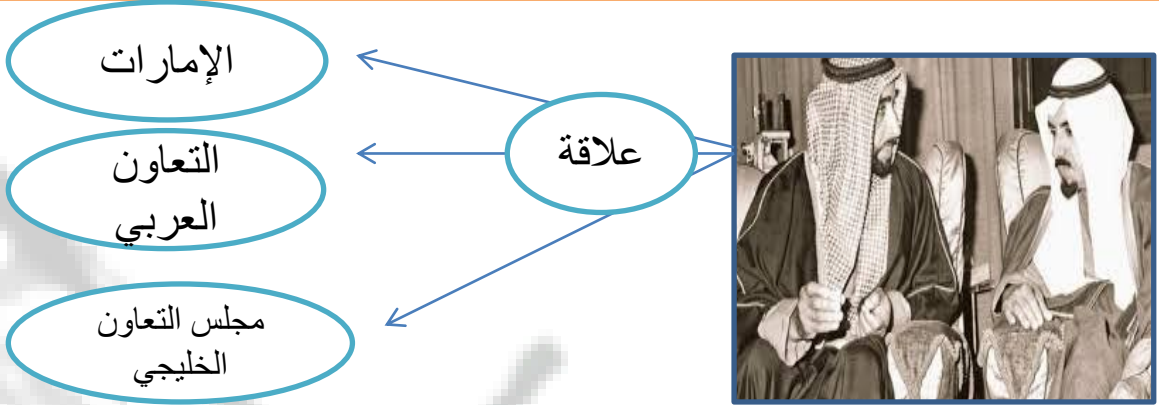
وضح ما تدل عليه الأرقام التالية وسجله على الخريطة :



6	5	4	3	2	1
---	---	---	---	---	---

الهدف العام : قيام الاتحاد (فكر وتطبيق)

النشاط الأول : طبيعة العلاقة بين محتويات الصورة التالية



النشاط الثاني : ضلل رمز الإجابة الصحيحة :

فكر في قيام مجلس التعاون الخليجي ، هو صاحب السمو الشيخ زايد زايد خالد زايد جابر جابر

أول اجتماع ثنائي بين زايد وجابر كان في أبوظبي عام
1980 1996 1976 1986

كان تأسيس مجلس التعاون الخليجي في عام
1972 1981 1982 1971

القمة الخامسة والعشرون لمجلس التعاون الخليجي عرفت بقمة
خالد محمد زايد جابر

النشاط الثالث : ما هي روابط الوحدة بين دول المجلس :

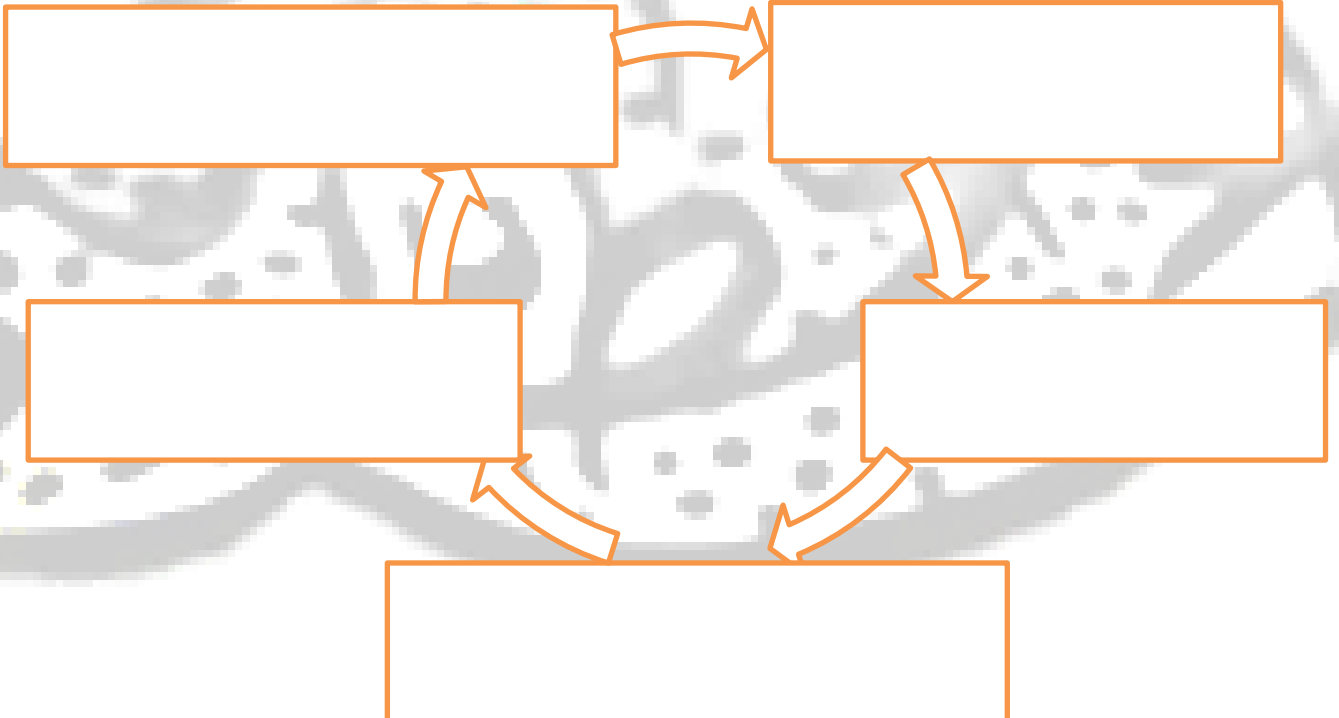


اقرأ النص التالي ثم لخص إنجازات الشيخ زايد رحمه الله



وقد نعى المجلس الأعلى لدول مجلس التعاون الخليجي في قمته الـ 25 (قمة زايد) التي عقدت في المنامة في 21 ديسمبر 2004م - المغفور له بإذن الله - الشيخ زايد بن سلطان آل نهيان - رحمه الله - معبراً عن عميق مشاعر الأسي والحزن، ومستذكراً رحلة حياته المليئة بالأعمال الجليلة والإنجازات الكبيرة، الحافلة بالعطاء الصادق والعمل المخلص الدؤوب لما فيه خير دولة الإمارات العربية المتحدة وتقدمها وازدهارها ورخاء شعبها، ودوره في تعزيز مسيرة مجلس التعاون لدول الخليج العربية وإسهامه الكبير في تأسيسه، وما قدمه من جهد كبير لخدمة قضايا الأمتين العربية والإسلامية وسلام المنطقة والعالم.

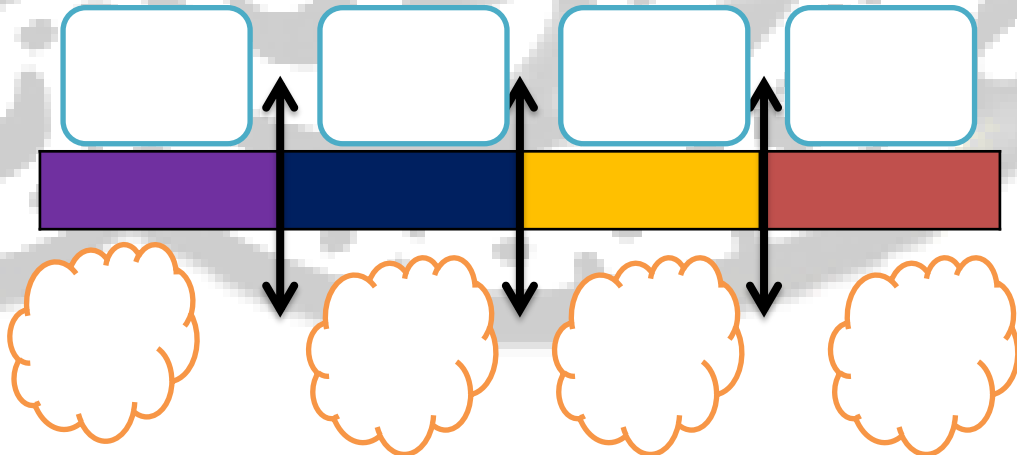
www.almanahj.com



استكمل الخريطة الذهنية التالية التي تمثل خطوات قيام مجلس التعاون الخليجي

الخطوات

لديك مجموعة من الصور صمم خط زمني يمثل التسلسل الزمني لها « تصاعدي من اليمين » بالعودة للكتاب صفحة 68

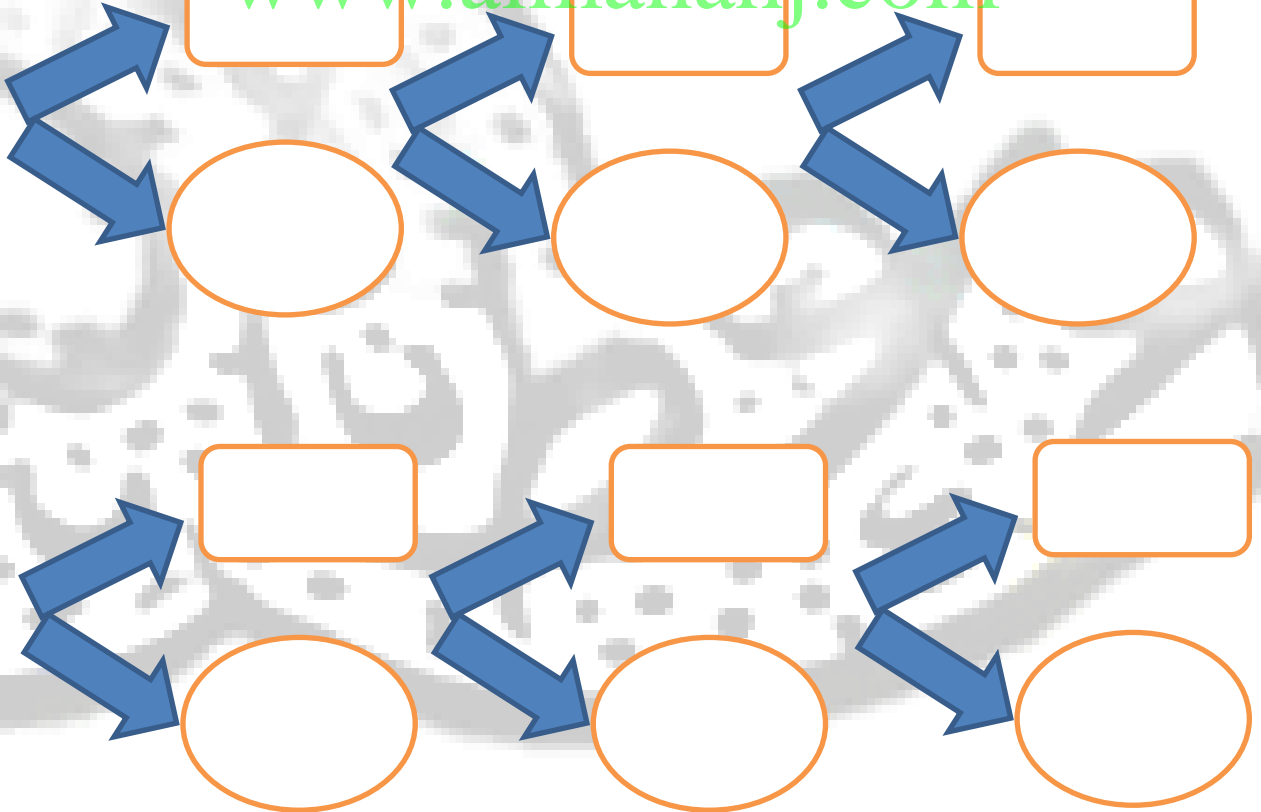


ضع دائرة على الصورة التي تمثل شعار دول مجلس التعاون الخليجي



استكمل المخطط التالي الخاص بدول مجلس التعاون وقادة المجلس المربع القائد والدائرة الدولة

www.almanahj.com



قارن بين اتحاد دولة الإمارات ومجلس التعاون الخليجي

دولة الإمارات	دول مجلس التعاون الخليجي	أوجه المقارنة
		عدد الأعضاء
		المؤسس
		تاريخ التأسيس
		الموقع
		الحاكم الحالي
		العمر
		الأهداف
.....	
.....	
.....	
.....	
.....	
.....	الروابط الوجدية
.....	
.....	
.....	
.....	
		الخطوة الأولى في الاتحاد

النشاط 32: يمثل وثيقة وطنية توضح القواعد الأساسية في الدولة هو

العدل

C

الدستور

B

الحكومة

A

النشاط 33: واحدة من التالي ليس من أهداف الدستور

يخل بالنظام

C

يؤكد الحقوق والواجبات

B

النهوض بالبلاد

A

النشاط 34: أول دستور وضع عام

1971

C

1972

B

1982

A

النشاط 35: أكمل الجمل التالية

www.almanahj.com

& - من حقوقي في الدستور و.....

& - من واجباتي في الدستور و.....

& - الدستور يحدد شكل



النشاط 36: احترام القوانين الصادرة من الدولة هو

لاشيء مما ذكر

C

واجب

B

حق

A

النشاط 37: من أهم مبادئ الدستور

عدم احترام القانون

C

الظلم

B

المساواة

A



النشاط 38: تم إقرار الخدمة الوطنية من أجل الوطن

لا هدف

C

حماية

B

تقليل الشباب

A

النشاط 39: الذي أصدر قرار الخدمة الوطنية هو الشيخ

خليفة بن زايد

C

محمد بن راشد

B

محمد بن زايد

A

النشاط 40: صدر قرار الخدمة الوطنية عام

2014

C

2013

B

2015

A

النشاط 41: أكمل الجمل التالية

& - الخدمة الوطنية مقدس على كل مواطن
 & - تعني التزام المواطن بتحمل المسؤولية اتجاه الوطن والمواطن هي
 & - الهيئة العليا المشرفة على الخدمة الوطنية هي وهي فرض
 على كل من بلغ وان يكون

النشاط 42: أصدر الشيخ خليفة بن زايد حفظه قانون حماية

الشيبة

C

الشاب

B

الطفل

A

النشاط 43: رقم الخط الساخن لحماية الطفل هو

899900

C

988800

B

800988

A



النشاط 44: هو الأساس الذي يقوم عليه التعليم هو التعليم

الأساسي

C

الإعدادي

B

الثانوي

A

النشاط 45: الطفل في رأي القانون كل ما هو دون عام

20

C

18

B

15

A

النشاط 46: من حقوق الطفل المعاملة

العنيفة

C

الجيدة

B

القاسية

A

النشاط 47: أكمل الجمل التالية

www.almanahj.com

& - من حقوق الطفل كما جاء في القانون

..... و.....

..... و..... و.....

..... و.....



النشاط الأول : طبيعة العلاقة بين محتويات الصورة التالية



النشاط 49: ضل رمز الإجابة الصحيحة :

من شهداء الوطن، سقط شهيد وقت العدوان الإيراني
 محمد سالم زايد سعود

الجزيرة التي سقط فيها أول شهيد هي جزيرة
 دلما أبو موسى طناب الكبرى طناب الصغرى

تم احتلال الجزر الامارتية في عام
 1971 1982 1981 1972

الاحتلال كان الاتحاد
 قبل بعد خلال جميع ما ذكر

عمل الشهيد سالم في مهنة
 الشرطي الطبيب المهندس المحامي

2018m-.....

1439h-.....

العلاج بالعمل هو أحدث الوسائل للقضاء على الأمراض النفسية
 والتغلب على المشاكل التي تعترض إنسان هذا العصر.

من أقوال زايد
 رحمه الله

على خريطة الإمارات عين مواقع الجزر المحتلة



اليمن هي دولة تقع جنوب غرب شبه الجزيرة العربية في غرب قارة آسيا، يحد اليمن من الشمال المملكة العربية السعودية ومن الشرق سلطنة عمان ولها ساحل جنوبي على بحر العرب وساحل غربي على البحر الأحمر.

ودولة الإمارات وقيادتها سباقة في تقديم المساعدات الإنسانية للأشقاء ويعتبر مشروع إعادة بناء سد مأرب القديم في اليمن نموذجاً لهذا العطاء. ففي 2 أكتوبر 1982 م وضع الباني المؤسس - المغفور له بإذن الله - الشيخ زايد بن سلطان آل نهيان - رحمه الله - حجر الأساس لهذا المشروع لينهي الدمار الذي تسببه الفيضان، ويجدد خصوبة الأراضي الزراعية. وتعم الفائدة على أجزاء كبيرة من اليمن.

www.almanahj.com

الدولة العربية التي ورد ذكرها في النص هي

العراق اليمن مصر العراق

قامت الإمارات في عهد الشيخ زايد بإعادة بناء سد

الموجب شويب مأرب العالي

تقع اليمن في جنوب غرب قارة

آسيا أوروبا أفريقيا

يحد اليمن من الشمال

السعودية العراق عُمان الإمارات

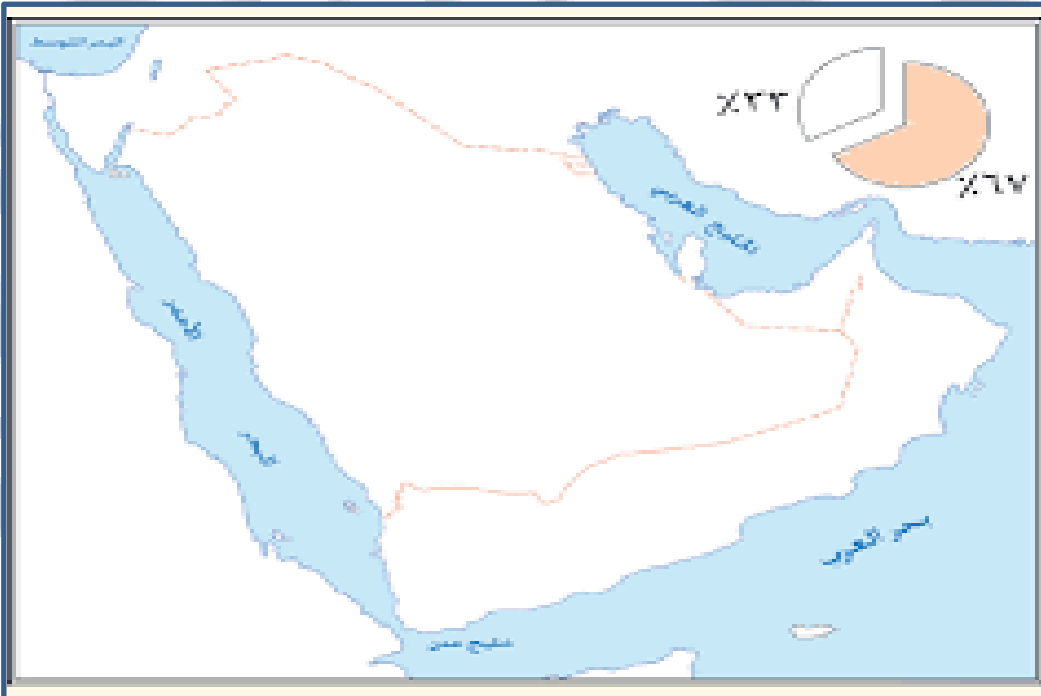
تقد الإمارات المساعدات الإنسانية لدولة

السعودية العراق اليمن الإمارات

(الحزم - الأمل - سد مأرب - الغذائية - الطبية - السعودية - 2015)

- 1- تقدم دولة الإمارات العربية المتحدة المساعدات و..... لليمن
- 2- شاركت دولة الإمارات في عاصفة
- 3- في عام توقفت عاصفة الحزم وكانت بداية إعادة
- 4- في عام 1982 أمر الشيخ زايد إعادة بناء
- 5- ساندت الإمارات في عاصفة الحزم

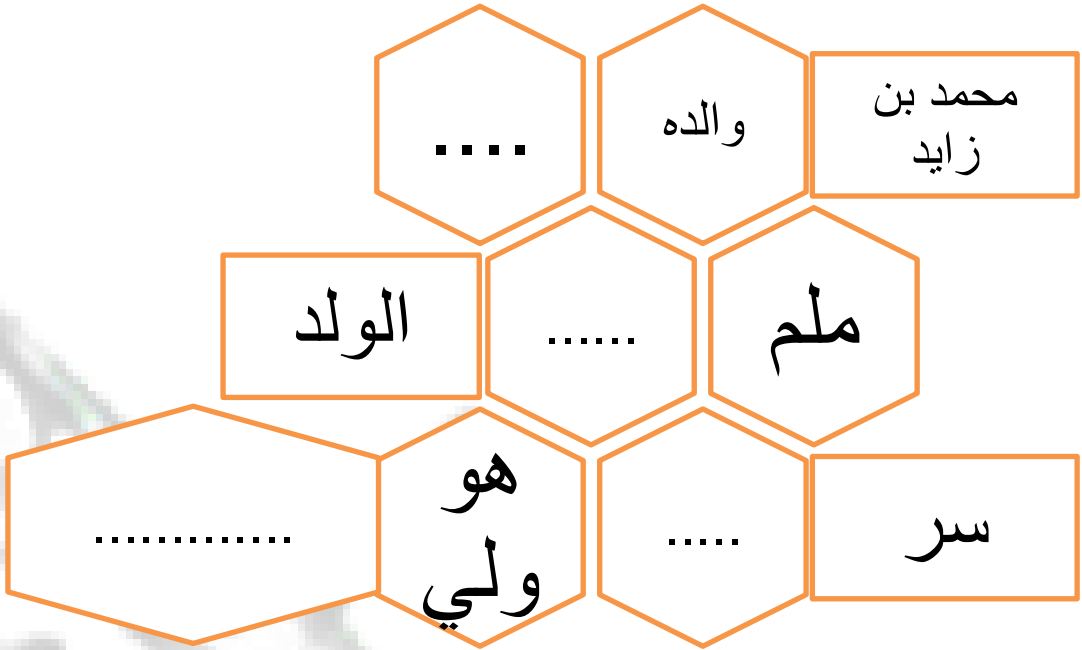
على خريطة شبه الجزيرة العربية عين موقع اليمن - الإمارات -
السعودية - سلطنة عمان - ضع دائرة على بحر العرب و
خليج عدن



أن ما قدمه شهداء الوطن من تضحيات فداء ودفاع عن
 فاستحقوا أن يذكرهم..... وهو مصدر
 لكل مواطن

دعم أسر الشهداء عمق التلاحم بين القيادة و..... ومن
 مظاهر دعم الشهداء وجه صاحب السمو الشيخ سلطان بن محمد القاسمي
 بإقامة ساحة في طريق المليحة ، وأمر الشيخ حميد بن راشد ببناء
 في منطقة الجرف في عجمان ، من جانبه أصدر
 الشيخ حمد بن محمد الشرقي من الرسوم
 المحلية في الفجيرة ، أمر صاحب السمو الشيخ محمد بن زايد بإنشاء
 لمتابعة احتياجات أسر الشهداء ، من
 جانبها استحدثت وزارة التربية والتعليم لدعم التعليم
 لأبناء الشهداء

www.almanahj.com



www.almanahj.com

استخلص من النصوص صفحة 89-90-91 بعض أقوال الشيخ محمد بن زايد

.....

.....

.....

.....

.....

.....

.....



دائرة التعليم والمعرفة
DEPARTMENT OF EDUCATION
AND KNOWLEDGE



وزارة التربية والتعليم
Ministry of Education

كتاب النشاط



المعلم عم حسن إبراهيم عطا الله
مادة الدراسات الاجتماعية

www.almananj.com
الوحدة الأولى
الاجابات



الدراسات الاجتماعية



Alhayer

الوحدة الأولى

D	89	D	67	D	45	C	23	D	1
D	90	B	68	A	46	A	24	D	2
A	91	B	69	C	47	D	25	B	3
D	92	B	70	C	48	D	26	D	4
D	93	D	71	A	49	A	27	B	5
D	94	B	72	D	50	C	28	C	6
D	95	B	73	A	51	C	29	D	7
C	96	B	74	C	52	D	30	C	8
D	97	A	75	D	53	D	31	C	9
a	98	D	76	D	54	C	32	C	10
		D	77	B	55	C	33	A	11
		C	78	D	56	D	34	D	12
		A	79	A	57	B	35	C	13
		C	80	A	58	D	36	B	14
		B	81	D	59	D	37	C	15
		B	82	D	60	D	38	C	16
		D	83	B	61	A	39	A	17
		D	84	A	62	D	40	A	18
		D	85	B	63	D	41	B	19
		A	86	C	64	A	42	A	20
		A	87	A	65	D	43	A	21
		A	88	A	66	d	44	d	22

الأختام	القلاع	النحاس
وادي النيل	الشادوف	المحراث
المنجل	سد مأرب	البتراء
الهيروغليفية	الأبجدية	السومرية

دلمون	ماجان	الانباط
المسمارية	التواصل	الأحافير
الاثار	المناخ	الموقع
التربة	التواصل	الحرثة

دلمون	+	ماجان	=	شبه الجزيرة العربية
الاهرامات	+	الهيروغليفية	=	وادي النيل
السومرية	+	المسمارية	=	الرافدين
الانباط	+	البتراء	=	جنوب الاردن
الفينيقية	+	الابجدية	=	بلاد الشام

قام الشيخ زايد بإعادة ترميم سد مأرب

اكتشف محمد ج بن راشد موقعى ساروق الحديد واستبطن من شعاع
لمعرض اكسبوا

حول الشيخ زايد الصحراء إلى أرض خضراء

في اليوم الوطني أحياء للتراث الجداد

www.almanahj.com

الرزفة واليولة من العادات الاصيلة في المجتمع الاماراتي

هم حكام الامارات زايد وخليفة ومحمد بن زايد في أبوظبي

ولد الشيخ زايد في قصر الحصن ودفن في المسجد



دائرة التعليم والمعرفة
DEPARTMENT OF EDUCATION
AND KNOWLEDGE



وزارة التربية والتعليم
Ministry of Education

كتاب النشاط



المعلم عم حسن إبراهيم عطا الله
مادة الدراسات الاجتماعية

www.almanahj.com
الوحدة الثانية
الاجابات



الدراسات الاجتماعية



Alhayer

1971	1968	16						C	1
زايد - الاتحاد								B	2
توحيد المنطقة								B	3
القوة والتعاون				الخليج العربي	بحر عُمان	البحر الأحمر			4
	B	18	A	17				التفكك السياسي	
العودة للكتاب			19		سوقطرة	1507			
&نبات معمر — السدر — الغاف — البطم &البيئات في الامارات - السااحلية — الجبلية — الصحراوية & وهي عبارة عن مكيف هواء محلي & تسقط الأمطار — في الشتاء			20		الخليج العربي	مضيق هرمز			
				& توجد البراجيل في البيئة الساحلية & عن مكيف هواء محلي	20			D	5
								A	6
								A	7
								C	8
								B	9
			الاتحاد	1	21	الاتحاد	التعاون		10
زايد - راشد - 1971 - العرقوب - زايد			2		البريطاني	القواسم	زايد بن خليفة		
السديرة دبي الأول دبي الثاني قيام الاتحاد زايد راشد سبع			22	أبوظبي	زايد	الأول			
					مرفق	23	B	11	
					مرفق	24	A	12	
					مرفق	25	A	13	
					مرفق	25	B	14	
					مرفق	26	B	15	

النشاط23: (أ) صف البيئة المحلية في الإمارات من حيث

البيئة	المسكن	النبات	الشتاء والصيف	وجود البراجيل
الصحراوية	بيت الشعر	شوكي	حار في الصيف	لا يوجد
الساحلية	العريش	زهور	معتدل في الصيف	يوجد

-10-2018m

-2-1440h

النشاط 23: (ب) استكمل الخط الزمني بما يناسب من الخطوة الأولى للاتحاد حتى تولي الشيخ خليفة الحكم؟ بالعودة للكتاب صفحة 63

تولي الشيخ خليفة

3-11-
2004

وفاة الشيخ زايد

2-11-
2004

قيام الدولة

2-12-
1971

دبي الثاني

18-7-
1971

دبي الأول

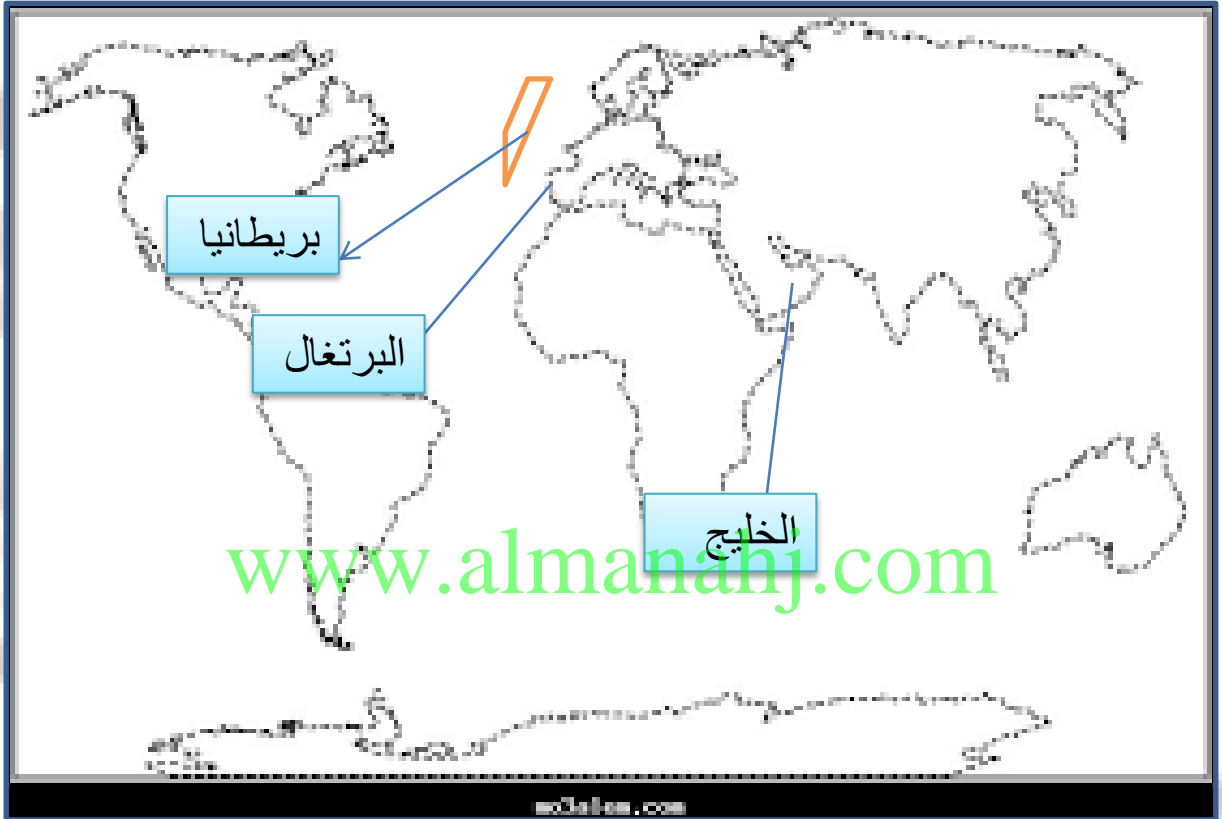
25-2-
1968

السديرة

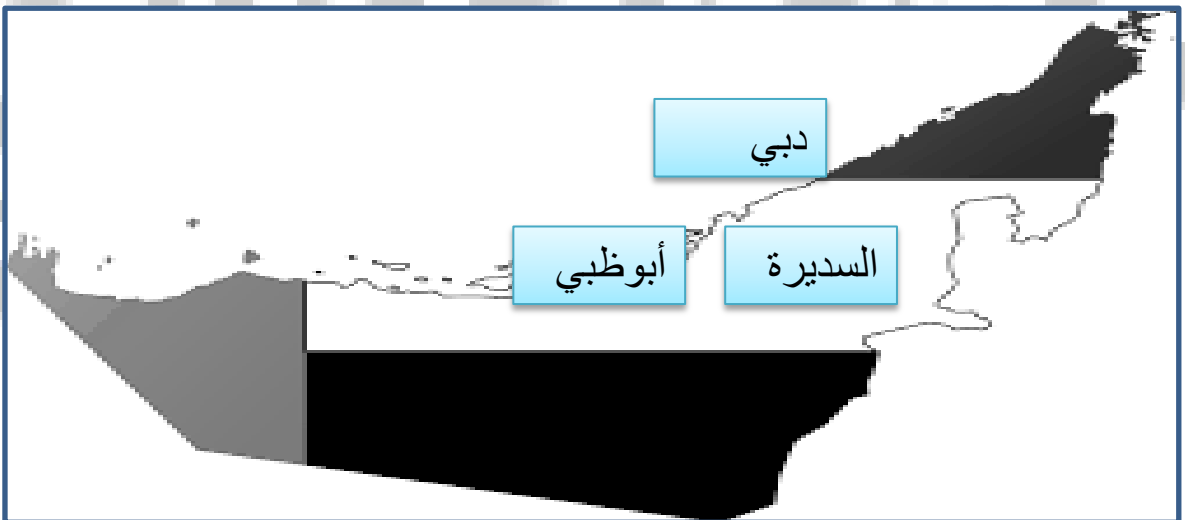
18-2-
1968

www.almanahj.com

عين على خريطة العالم كل من البرتغال وبريطانيا والخليج العربي



عين على خريطة الإمارات موقع أبوظبي ودبي وعرقوب السديرة



اقرأ النص التالي ثم أجب عن ما يأتي :

تعتبر منطقة الخليج العربي من المناطق ذات الموقع الاستراتيجي المهم ولقد زاد الاهتمام العالمي بمنطقة الخليج العربي بعد ظهور النفط بكميات اقتصادية مما جعل دول مجلس التعاون تركز الاهتمام على الاستقرار والأمن في المنطقة ولقد مرت فكرة قيام مجلس التعاون بعدة مراحل ،أولا مقابلات بين القادة الخليجين عام 1980 ، و ثانيا جولة وزير خارجية الكويت في الدول الخليجية ، ثالثا اجتماع وزراء خارجية دول مجلس التعاون ، رابعا إعلان قيام مجلس التعاون الخليجي في 25 مايو . 1981

www.almanahj.com

بعد ظهور النفط

&متى زاد الاهتمام العالمي بمنطقة الخليج العربي ؟

اجتماع زايد وجابر عام 1976

&ماهي أول مراحل قيام مجلس التعاون الخليجي ؟

25-5-1981

&متى أعلن عن قيام مجلس التعاون الخليجي ؟

اجتماع وزراء الخارجية لدول الخليج

&ما هي ثالث مرحلة في قيام مجلس التعاون الخليجي ؟

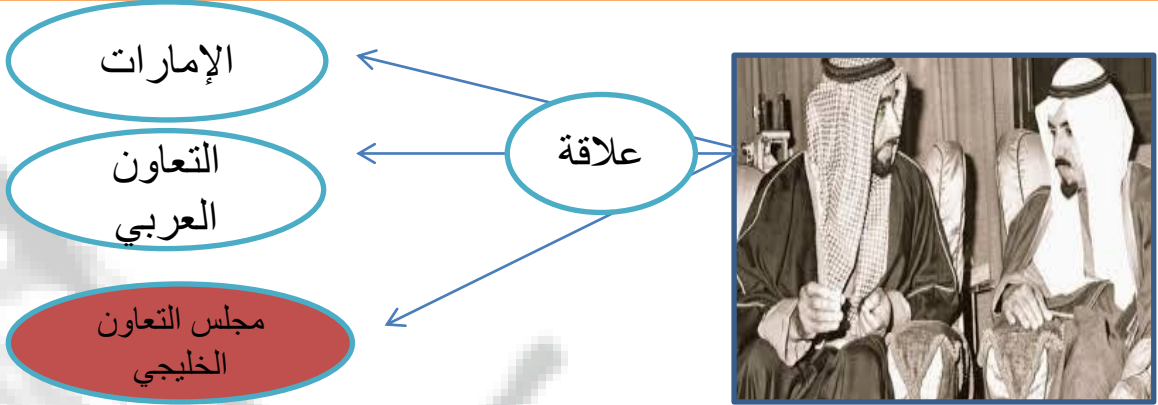
وضح ما تدل عليه الأرقام التالية وسجله على الخريطة :



1	السعودية	2	الإمارات	3	الكويت	4	البحرين	5	عمان	6	قطر
---	----------	---	----------	---	--------	---	---------	---	------	---	-----

الهدف العام : قيام الاتحاد (فكر وتطبيق)

النشاط الأول : طبيعة العلاقة بين محتويات الصورة التالية



النشاط الثاني : ضلل رمز الإجابة الصحيحة :

فكر في قيام مجلس التعاون الخليجي ، هو صاحب السمو الشيخ زايد وخالد زايد وجابر زايد جابر

أول اجتماع ثنائي بين زايد وجابر كان في أبوظبي عام
1980 1996 1976 1986

كان تأسيس مجلس التعاون الخليجي في عام
1972 1981 1982 1971

القمة الخامسة والعشرون لمجلس التعاون الخليجي عرفت بقمة
جابر خالد محمد زايد

النشاط الثالث : ما هي روابط الوحدة بين دول المجلس :

التاريخ

اللغة

الدين

التاريخ

اقرأ النص التالي ثم لخص إنجازات الشيخ زايد رحمه الله



وقد نعى المجلس الأعلى لدول مجلس التعاون الخليجي في قَمْتِه الـ25 (قمة زايد) التي عُقدت في المنامة في 21 ديسمبر 2004م - المغفور له بإذن الله - الشيخ زايد بن سلطان آل نهيان - رحمه الله - معبراً عن عميق مشاعر الأسي والحزن، ومستذكراً رحلة حياته المليئة بالأعمال الجليلة والإنجازات الكبيرة، الحافلة بالعطاء الصادق والعمل المخلص الدؤوب لما فيه خير دولة الإمارات العربية المتحدة وتقدمها وازدهارها ورخاء شعبها، ودوره في تعزيز مسيرة مجلس التعاون لدول الخليج العربية وإسهامه الكبير في تأسيسه، وما قدمه من جهد كبير لخدمة قضايا الأمتين العربية والإسلامية وسلام المنطقة والعالم.

www.almanahj.com

تأسيس مجلس التعاون

قيام دولة الإمارات

نشر السلام

تقديم المساعدات

دعم القضايا العربية

استكمل الخريطة الذهنية التالية التي تمثل خطوات قيام مجلس التعاون الخليجي

لقاء القادة الثنائي

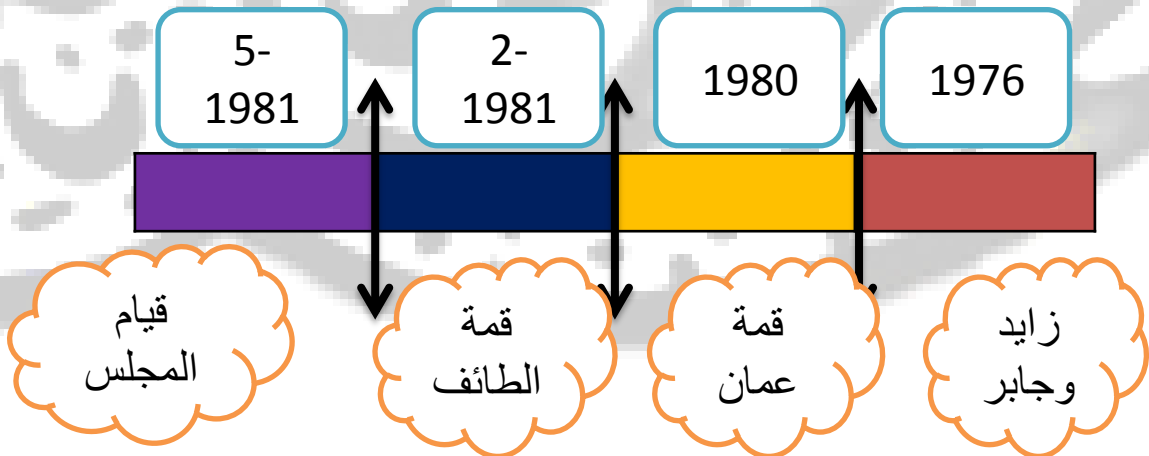
اجتماع زايد وجابر

الخطوات

اجتماع وزراء الخارجية

جولة وزير خارجية الكويت

لديك مجموعة من الصور صمم خط زمني يمثل التسلسل الزمني لها « تصاعدي من اليمين » بالعودة للكتاب صفحة 68



ضع دائرة على الصورة التي تمثل شعار دول مجلس التعاون الخليجي



استكمل المخطط التالي الخاص بدول مجلس التعاون وقادة المجلس المربع القائد والدائرة الدولة



قارن بين اتحاد دولة الإمارات ومجلس التعاون الخليجي

دولة الإمارات	دول مجلس التعاون الخليجي	أوجه المقارنة
7	6	عدد الأعضاء
زايد	زايد وجابر	المؤسس
2-12-1971	25-5-1981	تاريخ التأسيس
شبه الجزيرة العربية	شبه الجزيرة العربية	الموقع
خليفة بن زايد	لايوجد حاكم واحد	الحاكم الحالي
47	37	العمر
التعاون والترابط وتكوين دولة قوية	تحقيق التنسيق والتعاون بين دول المجلس في كافة المجالات	الأهداف
الدين اللغة العادات التاريخ المصير	الدين اللغة العادات التاريخ المصير	الروابط الوجدانية
السديرة	زايد وجابر الثنائي	الخطوة الأولى في الاتحاد

النشاط 32: يمثل وثيقة وطنية توضح القواعد الأساسية في الدولة هو

العدل

C

الدستور

B

الحكومة

A

النشاط 33: واحدة من التالي ليس من أهداف الدستور

يخل بالنظام

C

يؤكد الحقوق والواجبات

B

النهوض بالبلاد

A

النشاط 34: أول دستور وضع عام

1971

C

1972

B

1982

A

النشاط 35: أكمل الجمل التالية

التعليم
الصحة الأمن
صيانة الدستور وطاعة الحاكم

العلم

& - من حقوقي في الدستور
& - من واجباتي في الدستور
& - الدستور يحدد شكل



النشاط 36: احترام القوانين الصادرة من الدولة هو

لاشيء مما ذكر

C

واجب

B

حق

A

النشاط 37: من أهم مبادئ الدستور

عدم احترام القانون

C

الظلم

B

المساواة

A



النشاط 38: تم إقرار الخدمة الوطنية من أجل الوطن

لا هدف

C

حماية

B

تقليل الشباب

A

النشاط 39: الذي أصدر قرار الخدمة الوطنية هو الشيخ

خليفة بن زايد

C

محمد بن راشد

B

محمد بن زايد

A

النشاط 40: صدر قرار الخدمة الوطنية عام

2014

C

2013

B

2015

A

النشاط 41: أكمل الجمل التالية

& - الخدمة الوطنية - واجب مقدس على كل مواطن
& - تعني التزام المواطن بتحمل المسؤولية اتجاه الوطن والمواطن هي .. **الخدمة الوطنية**.
& - الهيئة العليا المشرفة على الخدمة الوطنية هي **هيئة الخدمة الوطنية**. وهي فرض
على.. **الذكور** . كل من بلغ **18** وان يكون **بالغ عاقل**

النشاط 42: أصدر الشيخ خليفة بن زايد حفظه قانون حماية

الشيبة

C

الشاب

B

الطفل

A

النشاط 43: رقم الخط الساخن لحماية الطفل هو

899900

C

988800

B

800988

A



النشاط 44: هو الأساس الذي يقوم عليه التعليم هو التعليم

الأساسي

C

الإعدادي

B

الثانوي

A

النشاط 45: الطفل في رأي القانون كل ما هو دون عام

20

C

18

B

15

A

النشاط 46: من حقوق الطفل المعاملة

العنيفة

C

الجيدة

B

القاسية

A

النشاط 47: أكمل الجمل التالية

www.almanahj.com

& - من حقوق الطفل كما جاء في القانون

الأمن - الحرية - الحماية - المعاملة الحسنة - الاسم - التعبير



النشاط الأول : طبيعة العلاقة بين محتويات الصورة التالية



النشاط 49: ضل رمز الإجابة الصحيحة :

من شهداء الوطن، سقط شهيد وقت العدوان الإيراني
 محمد سالم زايد سعود

الجزيرة التي سقط فيها أول شهيد هي جزيرة
 دلما أبو موسى طناب الكبرى طناب الصغرى

تم احتلال الجزر الامارتية في عام
 1971 1982 1981 1972

الاحتلال كان الاتحاد
 قبل بعد خلال جميع ما ذكر

عمل الشهيد سالم في مهنة
 الشرطي الطبيب المهندس المحامي

2018m-.....

1439h-.....

العلاج بالعمل هو أحدث الوسائل للقضاء على الأمراض النفسية
 والتغلب على المشاكل التي تعترض إنسان هذا العصر.

من أقوال زايد
 رحمه الله

على خريطة الإمارات عين مواقع الجزر المحتلة



- ١- طنب الكبرى
- ٢- طنب الصغرى
- ٣- أبوموسى

اليمن هي دولة تقع جنوب غرب شبه الجزيرة العربية في غرب قارة آسيا، يحد اليمن من الشمال المملكة العربية السعودية ومن الشرق سلطنة عمان ولها ساحل جنوبي على بحر العرب وساحل غربي على البحر الأحمر.

ودولة الإمارات وقيادتها سباقة في تقديم المساعدات الإنسانية للأشقاء ويعتبر مشروع إعادة بناء سد مأرب القديم في اليمن نموذجاً لهذا العطاء. ففي 2 أكتوبر 1982 م وضع الباني المؤسس - المغفور له بإذن الله - الشيخ زايد بن سلطان آل نهيان - رحمه الله - حجر الأساس لهذا المشروع لينهي الدمار الذي تسببه الفيضان، ويجدد خصوبة الأراضي الزراعية. وتعم الفائدة على أجزاء كبيرة من اليمن.

www.almanahj.com

الدولة العربية التي ورد ذكرها في النص هي

العراق اليمن مصر العراق

قامت الإمارات في عهد الشيخ زايد بإعادة بناء سد

الموجب شويب مأرب العالي

تقع اليمن في جنوب غرب قارة

آسيا أوروبا أفريقيا

يحد اليمن من الشمال

السعودية العراق عُمان الإمارات

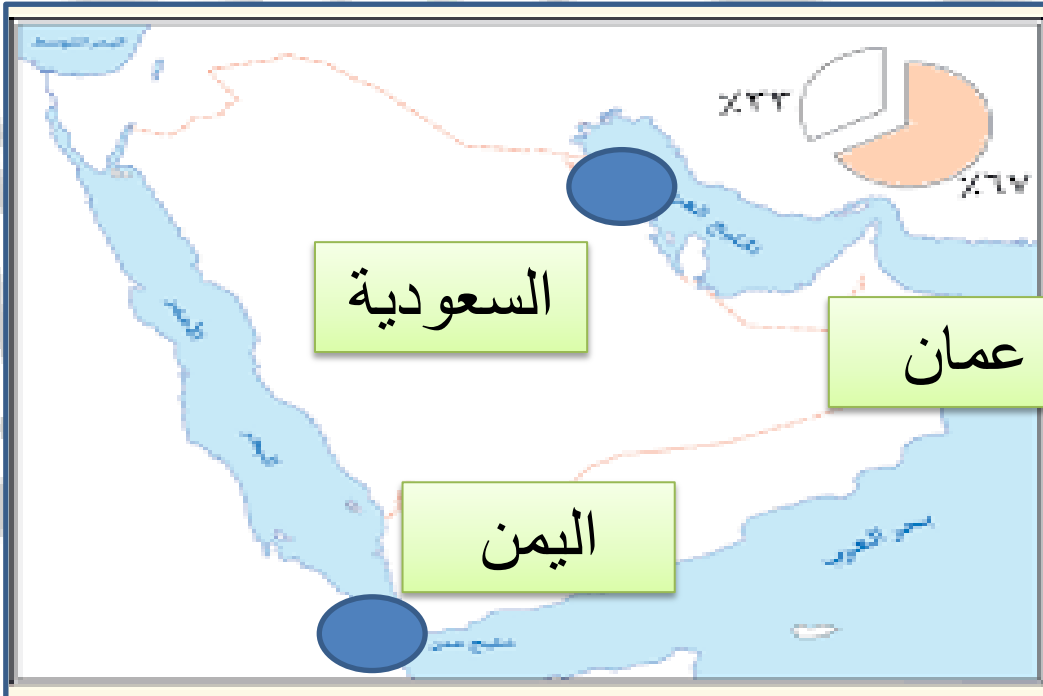
تقد الإمارات المساعدات الإنسانية لدولة

السعودية العراق اليمن الإمارات

(الحزم - الأمل - سد مأرب - الغذائية - الطبية - السعودية - 2015)

- 1- تقدم دولة الإمارات العربية المتحدة المساعدات **الغذائية** و **الطبية** لليمن
- 2- شاركت دولة الإمارات في عاصفة **الحزم**
- 3- في عام . **2015** توقفت عاصفة الحزم وكانت بداية إعادة **الأمل**
- 4- في عام 1982 أمر الشيخ زايد إعادة بناء **سد مأرب**
- 5- ساندت الإمارات **السعودية** . في عاصفة الحزم

على خريطة شبه الجزيرة العربية عين موقع اليمن - الإمارات -
السعودية - سلطنة عمان - ضع دائرة على بحر العرب و
خليج عدن



أن ما قدمه شهداء الوطن من تضحيات فداء **للوطن** . ودفاع عن **الوطن** **والدين** فاستحقوا أن يذكرهم **التاريخ** . وهو مصدر **فخر** لكل مواطن دعم أسر الشهداء عمق التلاحم بين القيادة و**الشعب** ومن مظاهر دعم الشهداء وجه صاحب السمو الشيخ سلطان بن محمد القاسمي بإقامة ساحة **الشهداء** في طريق المليحة ، وأمر الشيخ حميد بن راشد ببناء **نصب تذكاري** في منطقة الجرف في عجمان ، من جانبه أصدر الشيخ حمد بن محمد الشرقي **إعفاء أبناء الشهداء** . من الرسوم المحلية في الفجيرة ، أمر صاحب السمو الشيخ محمد بن زايد بإنشاء **مكتب في ديوان ولي العهد لأسر الشهداء** . لمتابعة احتياجات أسر الشهداء ، من جانبها استحدثت وزارة التربية والتعليم **لجنة مستقلة** لدعم التعليم لأبناء الشهداء

www.almanahj.com