

تم تحميل هذا الملف من موقع المناهج الإماراتية



almanahj.com

موقع
المناهج الإماراتية

*للحصول على أوراق عمل لجميع الصفوف وجميع المواد اضغط هنا

<https://almanahj.com/ae>

* للحصول على أوراق عمل لجميع مواد الصف الخامس اضغط هنا [5/ae/com.almanahj//:https](https://almanahj.com/ae/5)

* للحصول على جميع أوراق الصف الخامس في مادة اجتماعيات ولجميع الفصول, اضغط هنا [5social/ae/com.almanahj//:https](https://almanahj.com/ae/social/5)

* للحصول على أوراق عمل لجميع مواد الصف الخامس في مادة اجتماعيات الخاصة بـ الفصل الأول اضغط هنا

<https://almanahj.com/ae/5social1>

* لتحميل كتب جميع المواد في جميع الفصول للـ الصف الخامس اضغط هنا [grade5/ae/com.almanahj//:https](https://almanahj.com/ae/grade5)

* لتحميل جميع ملفات المدرس سوزان العدوي اضغط هنا

للتحدث إلى بوت المناهج على تلغرام: اضغط هنا [bot_almanahj/me.t//:https](https://t.me/bot_almanahj)



عام التسامح
YEAR OF TOLERANCE



مدرسة الحكمة الخاصة
AL HIKMAH PRIVATE SCHOOL

ملزمة إثرائية
تطبيق لمهارات مادة الدراسات الاجتماعية والتربية الوطنية
الصف الخامس

إعداد

أ/ سوزان العدوي

مراجعة وتدقيق
موجه الدراسات الاجتماعية
أ/ وفاء حسانين

م.م.ت للشؤون الأكاديمية
أ/ ابتسام النجار

المدير التنفيذي لمدارس الحكمة الخاصة - عجمان
أ/ عائشة بنت سيف المطوع

رؤيتنا : تعليم ابتكاري لمجتمع معرفي ريادي عالمي

قامت العديد من الحضارات في الوطن العربي فمنها حضارة وادي النيل وحضارة بلاد الشام وحضارة بلاد الرافدين ، فمن أهم إنجازات المصريين القدماء الكتابة الهيروغليفية وأيضا اهتمامهم بعلم الفلك وجمعوا السنة في ثلاثة فصول هم (الفيضان والبذر والحصاد) وأيضا استخدموا الشادوف لري الأراضي الزراعية ، أما الكنعانيون فقد اهتموا بالزراعة والصناعة و اخترعوا الحروف الأبجدية المكونة من (22) حرف ، كما تفوق الفينيقيون في الصناعة ويعتبروا أيضا هم أول الشعوب البحرية في التاريخ.

اختر الاحياة الصحيحة مما يأتي :-

- 1- وسيلة استخدمها المصريين القدماء لرفع الماء من النهر
- المنجل - المحراث - الشادوف - الفأس
- 2- جمع المصريون القدماء السنه في فصل.
- اثنين - ثلاثة - أربع - خمس
- 3- يعتبر هم أول الشعوب البحرية في التاريخ.
- المصريون - الكنعانيون - الفينيقيون - الاشوريون
- 4- نقشت الكتابة المسمارية علي ألواح من
- الذهب - الطين - الفضة - الماس
- 5- كان المصريون يكتبون النصوص باللغة الهيروغليفية .
- الدينية - الاجتماعية - السياسية - الاقتصادية
- 6- تم اكتشاف ساروق الحديد عام
- 2002 - 2003- 2004- 2005-
- 7- سميت حضارة دلمون بهذا الاسم لأن المياه تحيط بها من جهات.
- اثنين - ثلاثة - أربع - خمس
- ماذا تتوقع أن يحدث اذا لم تتوفر المياه والتربة الخصبه والمناخ الملائم لنشوء الحضارات ؟
.....

س: اقرأ الشكل التالي قراءة تحليلية ثم أجب عما يليه من أسئلة :-

25 سبتمبر 2019 موعد الانطلاق إلى محطة الفضاء الدولية

ديسمبر 2017
انطلق التسجيل الإلكتروني في برنامج الإمارات لرواد الفضاء

أبريل 2018
انتهاء فترة التسجيل وبدء عملية اختيار المرشحين

أبريل 2019
اختيار هزاع المنصوري ليكون أول رائد فضاء إماراتي وسلطان التبادي بديلاً له لنفس المهمة

● نسخة من القرآن الكريم

● صورة القائد المؤسس الشيخ زايد

● كتاب قصتي لصاحب السمو الشيخ محمد بن راشد

● صور عائلية وهدايا تذكارية

● 30 بذرة لشجرة الغاف

10 كيلوجراما
يحملها هزاع المنصوري معه تتضمن

س: اختر الإجابات الصحيحة من الآتي :-

- 1- متي أنطلق هزاع المنصوري لمحطة الفضاء الدولية ؟.....
- 2017- 2018- 2019-
- 2- متي انتهت فترة التسجيل لاختيار المرشحين لهذه المهمة ؟.....
- 2017- 2018- 2019-
- 3- كان هزاع المنصوري يحمل معه كم كيلو جرام
5- 10 - 15-
- 4- الفترة ما بين انطلاق التسجيل في برنامج الإمارات لرواد الفضاء وبين اختيار هزاع المنصوري كم عام
- عامين ثلاث - أربعة
- 5- حمل هزاع المنصوري معه للفضاء صورة للشيخ
- محمد بن راشد - زايد بن سلطان - خليفة بن زايد

س: ما هو شعورك تجاه الإنجاز العظيم الذي قام به رائد الفضاء هزاع المنصوري ؟

.....

اقرأ النص الآتي ثم أجب عن الاسئلة :-

تصارعت الدول الاستعمارية للسيطرة علي منطقة الخليج العربي ، وأولي القوي الاستعمارية هي البرتغال ، وكان هدفهم السيطرة علي تجارة الشرق، وقاموا بالسيطرة علي عدة موانئ هامة مثل جلفار (رأس الخيمة) بالإضافة إلى خورفكان ودبا ، ومن ثم بدأت القوي الاستعمارية تتنافس للسيطرة علي المنطقة ومنها هولندا وبريطانيا ، لكن العرب لم يقفوا مكتوفي الأيدي بل رفعوا راية المقاومة وتم بناء أسطول عربي ضخم وهو أسطول القواسم الذي كان يضم أكثر من 60 سفينة ضخمة وحوالي عشرين ألف بحار والذي نجح في القضاء علي النفوذ البرتغالي في الخليج العربي .

السؤال الأول : اختر الإجابة الصحيحة من بين البدائل لكل عبارة فيما يأتي:

- 1- أول قوي استعمارية وصلت لمنطقة الخليج العربي هي
 - بريطانيا - البرتغال - هولندا
- 2- جلفار هو الاسم القديم لإمارة
 - عجمان - أم القيوين - رأس الخيمة
- 3- كان أسطول القواسم يتكون من سفينة
 - أكثر من 60 - أقل من 60 - 60 فقط
- 4- كان أسطول القواسم يوجد به ألف بحار.
 - 20 - 50 - 40

س: بم تفسر ؟

1- تصارع القوي الاستعمارية للسيطرة علي منطقة الخليج العربي ؟

.....

.....



س: حلل الشكل التالي ثم أجب عن الأسئلة الآتية :-



س: اختر الإجابة الصحيحة مما يأتي :-

- 1- سوف يتم افتتاح الحدث العالمي إكسبو 2020 في شهر
- سبتمبر - أكتوبر - نوفمبر
- 2- من المتوقع أن ان يستضيف إكسبو زائر.
- 30 مليون - 40 مليون - 25 مليون
- 3- من المتوقع أن ينتهي إكسبو في عام
2020- 2021- 2022-
- 4- سوف يقام الحدث الدولي إكسبو 2020 في إمارة
- دبي - أبوظبي - الشارقة
- 5- شعار إكسبو 2020 مأخوذ من الآثار التي وجدت في منطقة
- الظفرة - ام القيوين - ساروق الحديد
- 6- من المتوقع أن يكون هناك متطوع في إكسبو 2020.
- 20 ألف - 30 ألف - 40 ألف

س: صنف النباتات الطبيعية الآتية وفق الجدول التالي:



السممر

الغاف

الفقع

حماض الجبل

نباتات حولية	نباتات معمرة
.....
.....

س: استكمل الجدول الآتي بما يناسب من الكلمات

(بلاد الشام - بلاد الرافدين - أختام دائرية - أبراج طينية)

الأدلة	منطقة التواصل الحضاري	الحضارة
.....	ماجان
.....	دلمون


س: اختر الإجابات الصحيحة ثم أكمل الجدول الآتي :-

(اجتماع دبي الثاني - 2 ديسمبر 1971 - اجتماع عرقرب السديرة - 25 فبراير 1968م - إعلان قيام الاتحاد)

التاريخ	الحدث
18 فبراير 1968م
.....	اجتماع دبي الأول
18 يوليو 1971م
.....

س: استكمل الخط الزمني الآتي:-

..... 25 فبراير 1968م 2 ديسمبر 1971



اجتماع (عرقوب السديرة) اجتماع دبي الثاني

س: أجب عن الأسئلة الآتية:-

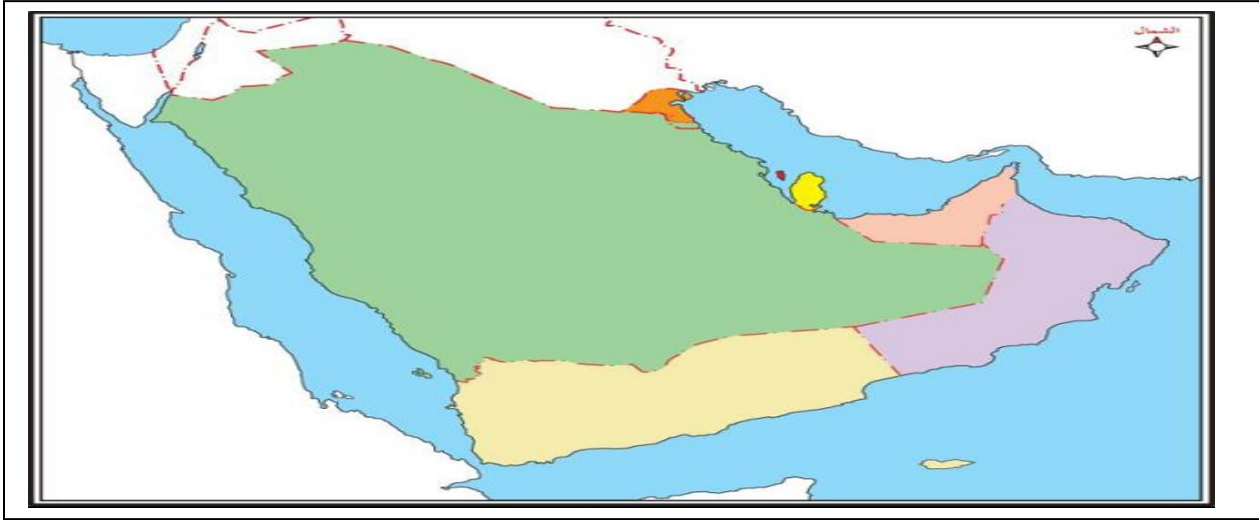


1- ضع دائرة حول الحضارات القديمة التي نشأت علي أرض دولة الإمارات العربية المتحدة :-

س: اختر الإجابة الصحيحة من بين البدائل لكل عبارة فيما يأتي:

- 1- تقع حضارة ماجان في شبه الجزيرة العربية
 - الشمال
 - الشرق
 - الغرب
 - الجنوب
- 2- سميت دلمون بهذا الاسم لأن المياه تحيط بها من جهة .
 - اثنين
 - ثلاث
 - أربع
 - خمس
- 3- اكتشف الشيخ الموقع الأثري ساروق الحديد.
 - خليفه بن زايد
 - محمد بن راشد
 - محمد بن زايد
 - زايد بن سلطان
- 4- تم اكتشاف موقع ساروق الحديد عام
 - 2002
 - 2003
 - 2004
 - 2005

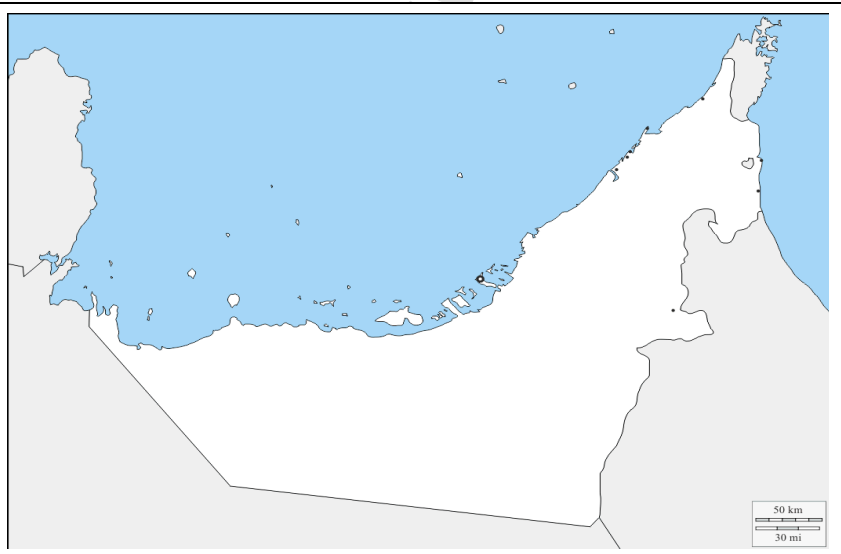
س: أمامك خريطة صماء لشبه الجزيرة العربية ، أجب عن الآتي :-



س: حدد علي الخريطة الصماء الآتي :-

- 1- دول مجلس التعاون الخليجي
- 2- البحر الأحمر
- 3- بحر العرب
- 4- الخليج العربي
- 5- بحر عمان

س: أمامك خريطة صماء لدولة الإمارات العربية المتحدة العربية ، حدد عليها المطلوب



- 1- الخليج العربي
- 2- العاصمة السياسية للدولة
- 3- العاصمة الثقافية للدولة
- 4- العاصمة الاقتصادية للدولة
- 5- سلطنة عمان
- 6- المملكة العربية السعودية
- 7- الإمارة التي تسكن بها