

المادة: الرياضيات

التاريخ: / 4 / 8201

الزمن:

الاسم:

الصف: الرابع الشعبة.....

السؤال الأول :

_ حوط أفضل وحدة قياس :

* وزن قطة (5 Kg أو 5 g)

* طول ملعب كرة القدم (m أو Cm)

* وزن موزة (40 Kg أو 40 g)

* طول المفتاح (cm أو m)

* وزن سيارة (2000 g أو 2000 Kg)

* طول قلم الرصاص (cm أو m)

• سعة علبة عصير صغيرة (250ml أو 250 L)

• طول الزرافة (8 m أو 8 cm)

• كتلة الفيل (100 kg أو 100 g)

• طول القطار (m أو km أو mm)

السؤال الثاني :

أكمل بما يناسب :

$5 \text{ Kg} = \text{-----} \text{ g}$

$24000 \text{ m} = \text{-----} \text{ Km}$

$8000 \text{ g} = \text{-----} \text{ Kg}$

$3 \text{ m} = \text{-----} \text{ Cm}$

$600 \text{ Cm} = \text{-----} \text{ m}$

$7 \text{ m} = \text{-----} \text{ Cm}$

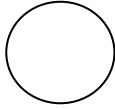
$1 \text{ Cm} = \text{-----} \text{ mm}$

$400 \text{ Cm} = \text{-----} \text{ m}$

www.almanahj.com

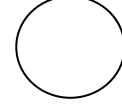
ضع > أو < أو = : (3 درجات)

2 Km



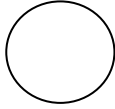
200 m

27 m



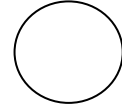
16 Km

4 m



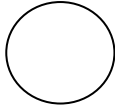
4 cm

5000 g



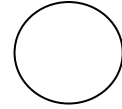
5 Kg

8 kg



8 g

6 mm



60 Cm


☞ انتهت الأسئلة ☞

☞ مع أطيب الأمنيات بالتوفيق والنجاح ☞


أوراق عمل عن المحيط والمساحة

مؤشرات الأداء : 1 _ حساب المحيط 2 _ حساب المساحة

_ احسب محيط و مساحة كل شكل :

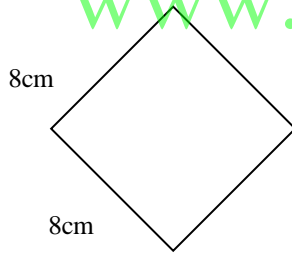


----- = المحيط
----- = المساحة



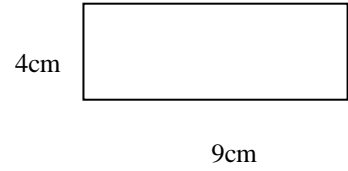
----- = المحيط
----- = المساحة

_ احسب محيط و المساحة كل شكل باستخدام القانون :



----- = المحيط

----- = المساحة



----- = المحيط

----- = المساحة

www.almanahj.com

المعلمة : هالة المصري

www.almanahj.com