



والتوفيق  
تهنياتي لكم بالدجاج



التدريبات  
الفصل الدراسي الثاني  
2017-2018

تدريبات لا تغني عن  
الكتاب

مدرسة  
علاء الدين

مادة الدراسات الاجتماعية والتربية الوطنية  
الصف الرابع

الهدية  
خديجة

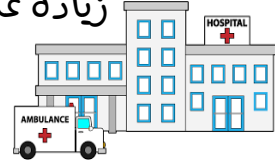
إعداد المعلمة : خديجة محمد الهندي

مدرسة : أحمد بن ماجد ح<sup>1</sup>



علل؟

زيادة عدد الواليد وقلة عدد الوفيات؟



.....

.....

.....

ما هي أسباب النهو السكاني في دولة الإمارات

ارتفاع مستوى المعيشة



.....

.....

.....

.....

من أنا

عام زايد



YEAR OF ZAYED

اختر الإجابة الصحيحة فيما يلي:

ظهر التنمية في دولة الإمارات بعد اكتشاف:

( المترو - النفط - الشوارع )

عدد السكان في دولة الإمارات في حالة:

( تراجع مستمر - ثبات - زيادة مستمرة )

أرض جافة قاحلة قليلة المطر  
فمن أنا؟؟

.....

امتداد لليابسة محاطة بالماء من  
ثلاث جهات  
فمن أنا؟؟

.....

عملية التغير نحو الأحسن والأفضل  
فمن أنا؟؟

.....



ماذا ينتج عن قلة الأمطار وارتفاع  
درجات الحرارة في المناطق الصحراوية؟

.....

.....

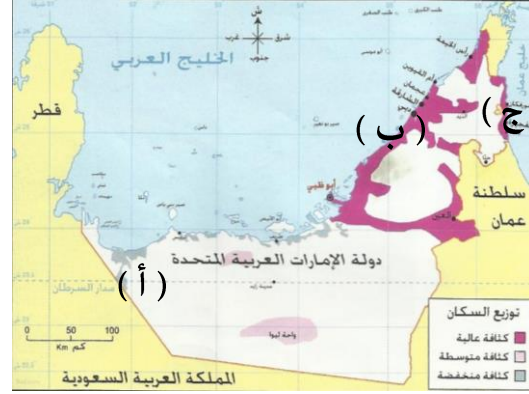




عن خلال الخريطة أحب عما يلي:

العوامل المؤثرة في توزيع السكان في دولة الإمارات؟

- لماذا يقل السكان في المنطقة المشار إليها بـ (أ)



اذكر اسم مناطق التركيز السكاني والمشار إليهم بـ:

(ب) السهل الساحلي

(ج) السهل الساحلي

● يتركز 70% من السكان في دولة الإمارات في:

السهول الحصوية الساحل الشرقي الساحل الغربي

● السهول الحصوية تضم بعض المدن الصغيرة مثل:

الفجيرة حتا واحة ليوا

● تقع مدينة أم القيوين في:

السهول الحصوية الساحل الغربي الإقليم الصحراوي

● تقع مدينة كلباء في:

الساحل الشمالي الساحل الشرقي الإقليم الصحراوي

● تقع مدينة العين في:

الساحل الغربي الساحل الشرقي الإقليم الصحراوي

اختار الإجابة الصحيحة فيما يلي:

● توفر فرص العمل.





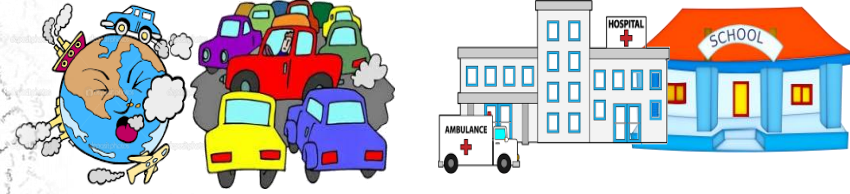
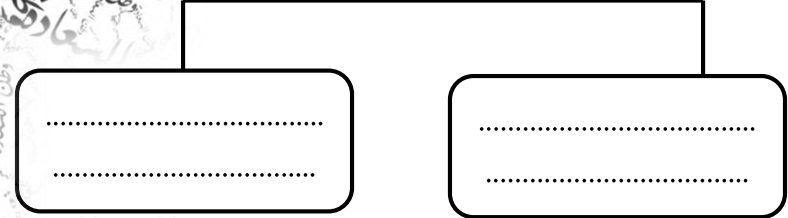
عام زايد

YEAR OF ZAYED

أكمل

المخطط التالي

أهمية التعداد السكاني



ضع المفاهيم التالية في مكانها المناسب:


( التلوث - التعداد السكاني - بطاقة الهوية )

- عملية يقوم بها جهاز مختص داخل الدولة بهدف تسجيل عدد السكان المتواجدين في الدولة في يوم محدد وتاريخ محدد. (.....)
- إلحاق الضرر بالبيئة ناجم عن زيادة في عدد السكان. (.....)
- هي بطاقة إلكترونية تصدرها الدولة وترجع أهميتها إلى أنها تسهل لحاملها الحصول على الخدمات الحكومية جميعها وتثبت هويته. (.....)



من هي الجهة الرسمية في دولة الإمارات العربية المتحدة التي أنجزت مشروع بطاقة الهوية الذكية؟

.....  
.....





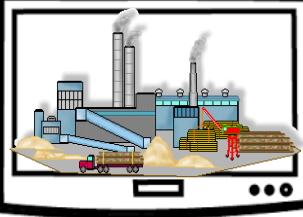
عن خلال الشكل الذي أفاكك أهب عما يلي:

- يبلغ عدد السكان في عام 1980 م .....
- يبلغ عدد السكان في عام 2016 م .....
- اكتب حقيقة: .....
- أيهما أكثر الذكور أم الإناث في المجتمع الإماراتي .....





الأنشطة الاقتصادية في دولة الإمارات العربية المتحدة



الثروة .....

الثروة .....

الثروة .....


الثروة .....

الثروة .....

الثروة .....

اهتمام دولة الإمارات العربية المتحدة بتنوع مصادر الدخل؟

علل؟



تحويل الهادة..... إلى مادة .....

تنقسم الصناعة إلى نوعين

أنواع الصناعة

الصناعة

الصناعة

هي تحويل المواد الخام إلى منتجات مفيدة

هي استخراج المعادن والنفط والغاز من باطن الأرض

من أنا

حفر الأرض للحصول على موارد نافعة كالمعادن أو الفلزات أو الوقود




صنف الصناعات التالية حسب معطيات الجدول

الصناعة	صناعة تحويلية	صناعة استخراجية
الألمونيوم		
استخراج النفط		
الملابس		
استخراج الغاز		
الأدوية		

أولا «الصناعة والتجارة»



ضع دائرة على البضائع التي تستوردها بلادي من الخارج



من أنا

نشاط يقوم به  
الإنسان من أعمال  
البيع والشراء  
للحصول على الأموال



وتنقسم إلى قسمين



1 (.....)

هي السلع والبضائع  
التي تباع خارج  
الدولة .

2 (.....)

السلع والبضائع التي  
تشتري من خارج  
الدولة

ضع علامة (√) أسفل صورة وسائل النقل المستخدمة  
قديما في التجارة :



تانيا « الثروة الزراعية والثروة السمكية والحيوانية »

YEAR OF ZAYED



عام زايد واستمتع بالتلوين



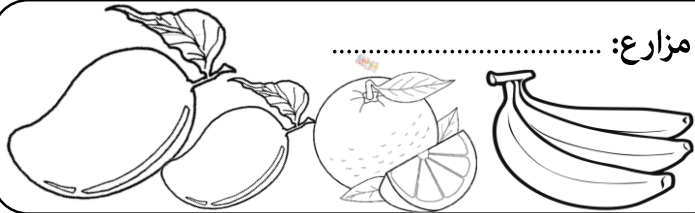
جهود الإمارات للنهوض بالثروة السمكية

أكمل بطاقة الهوية لأنواع المزروعات في دولة الإمارات:

مزارع:




مزارع:



مزارع:



مزارع:



من القائل " أعطوني زراعة أعطيكم حضارة "

الشيخ .....

اكتب أسماء أشهر الأسماك في بلادنا



#الانترنت\_افضل\_استخداما  
\_في\_الإمارات



من جهود دولة الإمارات للنهوض بالثروة الحيوانية



ضع الكلمات المساعدة التالية في مكانها المناسب  
الصحراء / سويحان / الأمن الغذائي

- من أهم مناطق زراعة الزهور في دولة الإمارات .....
- توفير الغذاء بدون نقص هو .....
- يلقب الشيخ زايد بالرجل الذي روض .....





## أنواع السياحة

أكمل الخطط التالي



السياحة بغرض تعرف على المعالم الأثرية والتراثية

السياحة.....



السياحة بهدف التسويق وشراء المنتجات

السياحة.....



السياحة بهدف العلاج والاستشفاء

السياحة.....



دورة كأس الخليج العربي

السياحة بهدف متابعة البطولات الرياضية

السياحة.....



السياحة بغرض الترويح عن النفس

السياحة.....



برج ..... في .....



جزيرة ..... في .....



جزر ..... في .....



جزيرة ..... في .....

أكمل أهم المعالم السياحية في بلدنا

من أنا

السفر والانتقال من دولة إلى دولة أخرى بهدف

الترفيه والاستكشاف والترويح عن النفس



من مقومات السياحة في دولة الإمارات العربية المتحدة

- .....
- .....
- .....



فكر قبل أن تنشر



هوط الصور الدالة على الأسباب الطبيعية لتلوث



من أنا  
هو أي تغير ضار يؤثر على الهواء أو الماء أو الأرض أو ما يضر بصحة الإنسان والكائنات الحية الأخرى

ما أضرار التلوث المترتبة على كل من:

الأضرار	
.....	الإنسان
.....	الحيوان
.....	الكائنات الحية



التلوث

التلوث

تلوث

تلوث

تلوث

أنواع التلوث





الاسم: ..... الصف الرابع: (.....)



من أنا

عدم قدرة مستخدمي الطرق على الانتقال  
من مكان إلى آخر بالسرعة المناسبة



من أنا

أول مدينة خالية من الكربون والنفائات  
الصناعية صديقة للبيئة، تعمل بطاقة الشمسية  
مدينة .....  
تقع في إمارة .....



المحل	السبب	المشكلة
.....	.....	المشكلة هي ..... الهروي
.....	.....	
.....		

ما هي أضرار الازدهام الهروي

1.....




2.....



3.....



الكلول التي تعتمد لها دولة الإمارات  
العربية المتحدة لحماية البيئة



تشجيع استخدام .....



إنشاء .....



الاهتمام .....



إصدار .....

مشروع في دبي عمل على تشجيع وسائل النقل الجماعي وقلل  
من تأثير الازدهام الهروي .....





أولا وثانيا < انتشار الإسلام في منطقة الإمارات ومدينة دبا >>



من رسائل الدعوة إلى الإسلام



أرسل إلى



يرافقه

ملكي

( ..... و ..... )

أبناء

سارع أهل عمان بالدخول إلى الإسلام

علل ،

سرعة دخول أهل عمان في الإسلام ؟

أثر الإسلام في منطقة الإمارات وعمان ؟

اختار الإجابة الصحيحة فيما يلي :

- دخل أهل الإمارات وعمان الإسلام ( طوعية - إكراه - إجبار )
- تسمى منطقة الإمارات وعمان قديما باسم: ( الساحل - الغبراء - الدهماء )
- فتح الرسول مكة المكرمة في السنة : ( 7 هـ - 8 هـ - 9 هـ )
- دبا ثاني أكبر مدن إمارة : ( عجمان - رأس الخيمة - الفجيرة )
- دبا الحصن مدينة تابعة لإمارة : ( الشارقة - الفجيرة - دبي )
- المضيق الذي يكون قريبا من مدينة دبا : ( هرمز - باب المندب - ملقا )
- تطل دبا على بحر: ( العرب - عمان - الأحمر )

هيزات رسائل الرسول لأهل الإمارات وعمان:



ضع الكلمات التالية في مكانها المناسب:

( ترانزيت - الأسرة - التكافل الاجتماعي )

التعاون بين أفراد المجتمع ..... دبا كانت تمثل مركزا تجاريا بين الشرق والغرب وهي ما يطلق عليه اليوم

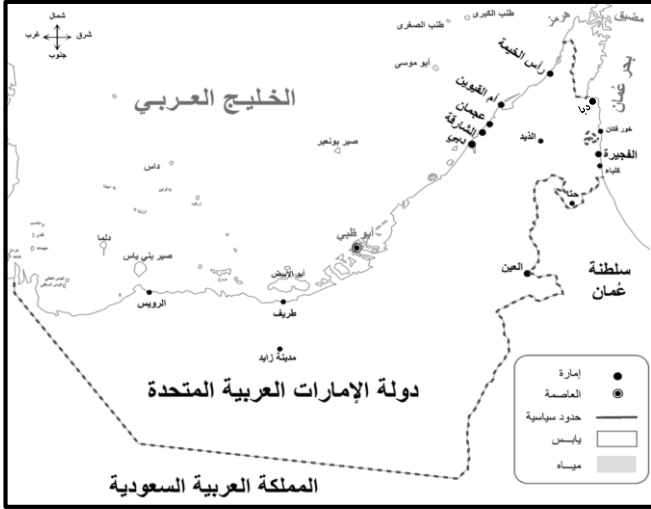
نواة المجتمع .....

.....1 .....2 .....3



ثالثا < المهلب بن أبي صفرة >

على الخريطة التي أمامك :  
- حوط المدينة التي ولد فيها.  
- ما اسم المسطح المائي الذي تطل عليه المدينة التي ولد فيها ولونه.



سنة ميلادي

اسمي

مكان ولادتي

أولى غزواتي كانت لبلاد

كنيتي

مدينة

من هو الصحابي الذي أعجب بالمهلب بن أبي صفرة

من صفات المهلب بن أبي صفرة



أنا المهلب بن أبى صفرة شخصية لا تنسها فأكمل مقتطفات من جوانب حياتى وإنجازاتى فيما يلى :



ولدت فى 7 هـ وكانت  
وفاتى فى 82 هـ فكم عمره  
عند وفاته ؟؟

الصحابى الجليل الذى  
أطلق على لقب " سيد  
أهل العراق " هو



كانت أولى غزواتى إلى بلاد  
.....  
حيث حققت النصر




ساهمت فى حركة  
الفتوحات الإسلامية فى بلاد  
.....و.....



ما النصيحة التى قدمتها  
لأولادى

شاركت بالفتوحات  
الإسلامية ومن المعركة التى  
خضتها معركة  
..... ضد .....



حاربت فئته خرجت عن  
الاسلام حتى حققت النصر  
عليهم فمن هذه الفئة ؟



أصبحت واليا على ولاية  
.....

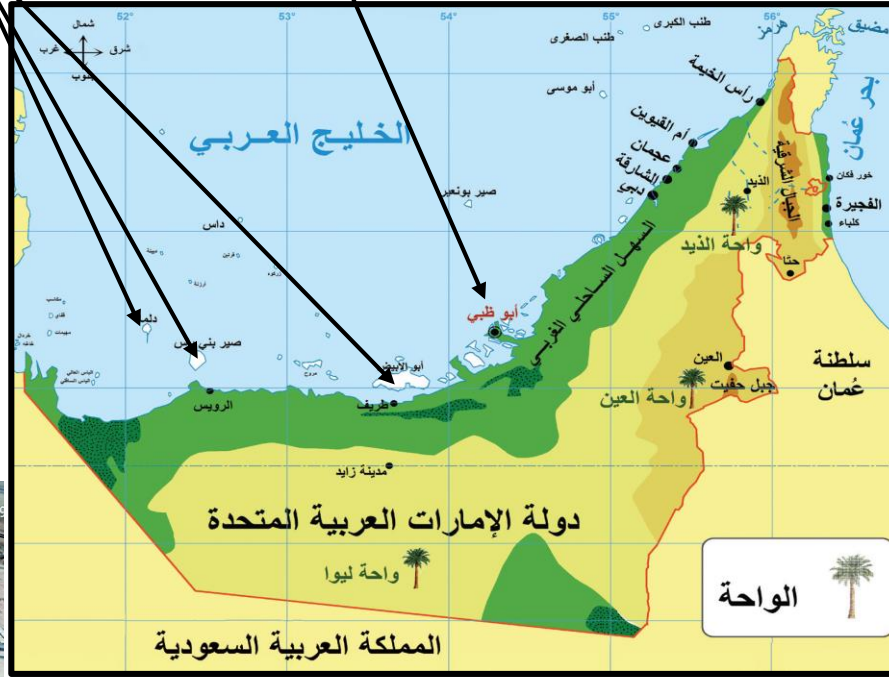
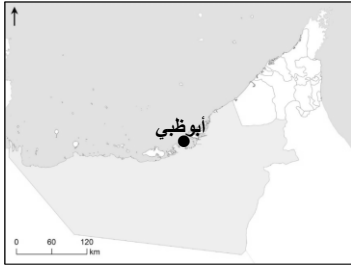


عدد الجزر التابعة لإمارة أبوظبي  
 أكثر من ..... جزيرة

تعتبر أبوظبي ..... دولة الإمارات العربية المتحدة.

تعود تسمية أبوظبي بهذا الاسم  
 لكثرة حيوان .....

أبوظبي ..... الإمارات  
 السبع من حيث المساحة



تسمى أبوظبي قديماً

قبيلة التي استقرت بأبوظبي قبيلة

الشيخ  
 هو أول حاكم آل نهيان في أبوظبي



الذي شيد قلعة



تقع فيها أكبر مدينة ألعاب مغطاه في  
 العالم وهي .....



من أبرز المعالم لإسلامية في أبوظبي  
 جامع .....

هوط على الخريطة

الواحات التابعة لإمارة أبوظبي

وتعتبر من أجمل واحاتها



يقع في  
 أبوظبي جسر .....





إكسبو 2020  
دبي، الإمارات العربية المتحدة  
DUBAI, UNITED ARAB EMIRATES  
مدينة مرشحة

ستستضيف دبي في 2020 معرض



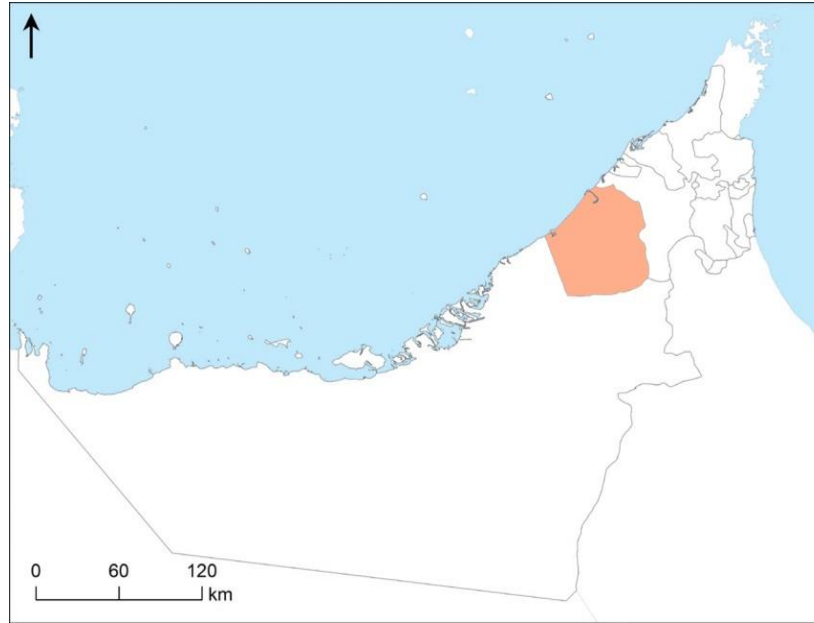
أشهر ميناء بحري في منطقة  
الشرق الأوسط ميناء



يوجد بها أعلى برج هو برج

## أستكمل العبارات التالية بها يناسبها

دبي ..... الإمارات السبع من حيث المساحة



تعتبر أسرة ( آل ..... )  
حكام إمارة دبي من فرع البوفلاسة  
المنتمية إلى حلف بني ياس  
من أهم الموارد الاقتصادية في دبي :



تتميز دبي بكثرة الجزر الصناعية مثل :



من المواقع الأثرية في دبي





تانيا : إمارتا الشارقة ورأس الخيمة



في الثاني من ديسمبر 1971م  
ساهم الشيخ

في قيام الاتحاد


سميت رأس الخيمة بهذا  
الاسم نسبة إلى

لإرشاد السفن للميناء

كانت تسمى رأس الخيمة  
قدما

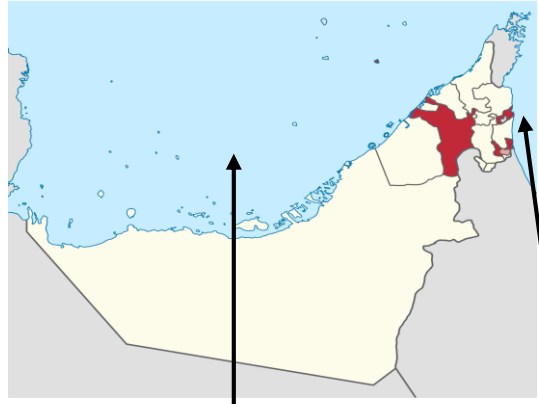
من الجزر الصناعية في  
رأس الخيمة

أهم ما يميز إمارة الشارقة



أستكمل العبارات التالية بما يناسبها

السبع من حيث المساحة




هي الإمارة الوحيدة التي تملك سواحل على  
بحر ..... والخليج

تعد رأس الخيمة الإمارة  
لدولة الإمارات من حيث المساحة



تشتهر رأس الخيمة بالقلع  
مثل قصر




أعلى جبل في الدولة  
جبل



الشيخ

منطقة ..... حيث  
عيون المياه الحارة



هي عاصمة

والكتب



تحمل لواء العلم والثقافة  
بقيادة



حكمت الشارقة قبيلة

وظهرت كقوة



## ثالثا : الفجيرة وأم القيوين وعجمان

الاسم : ..... الصف الرابع : ( ..... )



عرفت الفجيرة بالتاريخ القديم .....

يصدر النفط الخام من أبوظبي  
للأسواق العالمية .....من أشهر القلاع وأضخمها  
.....أقد مسجد باق في الإمارات  
مسجد .....

## الفجيرة

تطل إمارة  
الفجيرة على بحر  
.....

## اختار الإجابة الصحيحة فيما يلي :

- إمارة الاستجمام والراحة والطبيعة الخلابة :
- ( عجمان - الشارقة - الفجيرة )
- كانت إمارة الفجيرة الموطن الأول لـ :
- ( القواسم - الشرقيين - النعيم )
- أصغر إمارة من حيث المساحة :
- ( رأس الخيمة - عجمان - أم القيوين )
- إمارة أهلها مشهورون بصيد السمك وتجارة اللؤلؤ :
- ( رأس الخيمة - عجمان - أم القيوين )
- إمارة تقع بين إماراتي رأس الخيمة والشارقة :
- ( دبي - عجمان - أم القيوين )

من أكبر الجزر السياحية  
.....مدينة أثرية  
.....يحكمها الشيخ  
.....

## أم القيوين

تسمية أم القيوين  
بهذا الاسم  
.....

- إمارة عرفت بأنها أكبر مركز لصناعة القوارب التقليدية :
- ( الشارقة - دبي - عجمان )
- سادس إمارة من حيث المساحة :
- ( عجمان - رأس الخيمة - أم القيوين )
- تطل الفجيرة على مسطح مائي وهو :
- ( البحر الأحمر - بحر عمان - الخليج العربي )

## أهم ما يميز عجمان



.....



.....

يحكمها الشيخ  
.....

## عجمان

أهم مدن عجمان  
.....

## من أنا

منطقة جغرافية محددة المساحة تخصص للمحافظة على الموارد البيئية المتجددة قد تحتوي على حيوانات أو نباتات مهددة بالإفراض (.....)

**اختار الإجابة الصحيحة فيما يلي :**

- كل ما خلفه الأجداد لكي يكون عبرة من الماضي ونهجا يستقي منه الأبناء الدروس ليعبروا بها من الحاضر إلى المستقبل :  
( الحضارة - التراث - النهج )
- يشمل المباني والأماكن التاريخية والآثار والتحف :  
( التراث - التراث الغير الهادي - التراث الهادي )
- يشمل التصرفات والممارسات وأشكال التعبير والمعارف والمهارات كالمهرجانات التقليدية والتقاليد الشفهية والملاحم والعادات وأساليب المعيشة والحرف التقليدية :  
( التراث - التراث الغير الهادي - التراث الهادي )
- حوط الصورة التي لا تنتمي لتراث الغير الهادي:



- واحدة من التالي ليس من الأمثلة على التراث الهادي هي:  
( القلاع - الهادي - الحرف )
- واحدة من التالي ليست من التراث الغير الهادي :  
( التصرفات - التحف - المعارف )



أسباب الاهتمام بالتراث الهادي

المخطط التالي  
أكمل

.....

.....

أسباب الاهتمام بالتراث الغير الهادي

.....

.....

أهدد التراث الهادي وغير الهادي من خلال الصور التالية





## اختار الإجابة الصحيحة فيما يلي :

- مكان لجمع وحفظ الآثار القديمة وكل ما يتصل بالتراث الحضاري:

( المتحف - البيت - النادي )

- متاحف تصور حياة الماضي والوثائق والأدوات القديمة :

( الفنية - العلمية - التاريخية )

- متاحف تعرض أعمالا فنية فقط :

( العلمية - التاريخية - الفنية )

- متاحف تقدم معروضات عن العلوم الطبيعية والتقنية:

( الفنية - العلمية - التاريخية )

- متحف أقيم بجانب دار الاتحاد التي تم توقيع وثيقة الاتحاد فيها:

( اللوفر - الاتحاد - رأس الخيمة الوطني )

- أقدم بناء تاريخي في أبوظبي:

( قصر الحصن - القاسمية - الفهيدي )

- يبلغ عدد المتاحف في الشارقة :

( 14 - 15 - 16 )

- أنشئ الأرشيف الوطني في إمارة :

( دبي - أبوظبي - الشارقة )

قلعة من أقدم المباني الصامدة في دولة الإمارات وكانت قديما حامية لدبي ومقر للحاكم والحكومة:

( الفهيدي - الحصن - القاسمية )

## صل صورة المتحف بالإمارة التي يقع فيها :



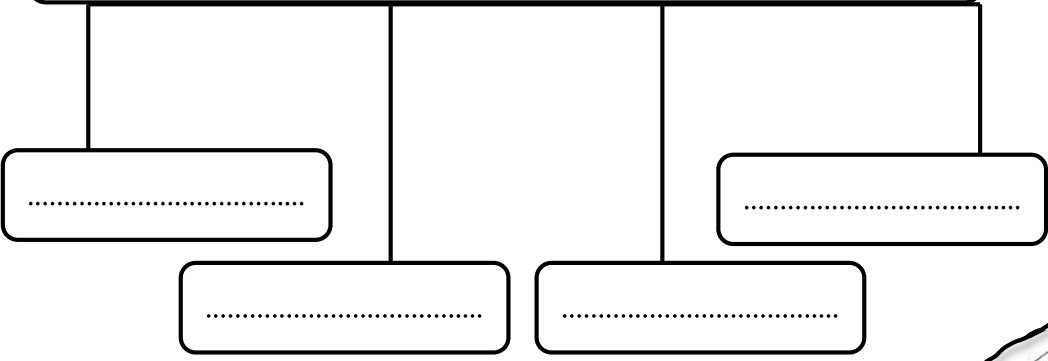


ضع الكلمات التالية في مكانها المناسب:

( الألعاب الشعبية - الهوية الوطنية - الطب الشعبي - الأحشام )

- إن العادات والتقاليد الإماراتية الأصيلة هي جزء من ملامح .....
- تظهر العادات والتقاليد بوضوح في الأعياد والزواج و.....و.....
- نتعلم العادات والتقاليد من التربية ومن مخالطة .....

أهم الآداب والعادات التي تتركس السلوكيات الطيبة قولا وفعلا



صن سنع بلادي:

أبد بصب القهوة للجالسين والضيوف من اليمين إلى .....

ممسكا الدلة باليد .....

و ..... باليد اليمنى



اختر الإجابة الصحيحة فيما يلي:

- جملة من العادات والتقاليد المتعارف عليها وتشمل معرفة القواعد والآداب العامة في التصرف مع الآخرين:
- ( التراث - السنع - العادات والتقاليد )
- نتعلم السنع والعادات والتقاليد من مجالس:
- ( الشباب - الكبار - الصغار )
- من ركائز العادات والتقاليد في دولة الإمارات:
- ( الأخلاق الإسلامية - الحضارة - الزيارات )
- ( الذرابة في الرمسة ) تعني آداب:
- ( الطعام - الحديث - السلام )
- الفزعة تعني:
- ( التطوع - الأمانة - مساعدة المحتاج )
- اكتساب العادات والتقاليد يتم بـ:
- ( التلقين - الممارسة - الاجتهاد )

على فاذا يدل صن  
الفنجان



# نهوذج هل التدرلبلات



مادة الدراسات الاجتماعية والتربية الوطنية  
الصف الرابع



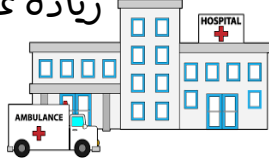
إعداد المعلمة : خديجة محمد الهندي

مدرسة : أحمد بن ماجد ح<sup>1</sup>



علل؟

زيادة عدد الواليد وقلة عدد الوفيات؟



● **بناء المستشفيات** .....



● **التطعيم** .....



● **توفير الأطباء** .....

اختر الإجابة الصحيحة فيما يلي:

ظهر التنمية في دولة الإمارات بعد اكتشاف:

( المترو - **النفط** - الشوارع )

عدد السكان في دولة الإمارات في حالة:

( تراجع مستمر - ثابت - **زيادة مستمرة** )

من أنا

عام زايد



YEAR OF ZAYED

أرض جافة قاحلة قليلة المطر  
فمن أنا؟؟

..... **الصحراء** .....

امتداد لليابسة محاطة بالماء من  
ثلاث جهات  
فمن أنا؟؟

..... **شبه الجزيرة** .....

عملية التغير نحو الأحسن والأفضل  
فمن أنا؟؟

..... **التنمية** .....



ماذا ينتج عن قلة الأمطار وارتفاع  
درجات الحرارة في المناطق الصحراوية؟

..... **قلة عدد السكان** .....

الزراعة



ارتفاع مستوى المعيشة



..... **زيادة عدد الواليد**  
..... **وقلة عدد الوفيات** .....

..... **استقدام العاملين** .....







عن خلال الخريطة أجب عما يلي:

العوامل المؤثرة في توزيع السكان في دولة الإمارات؟

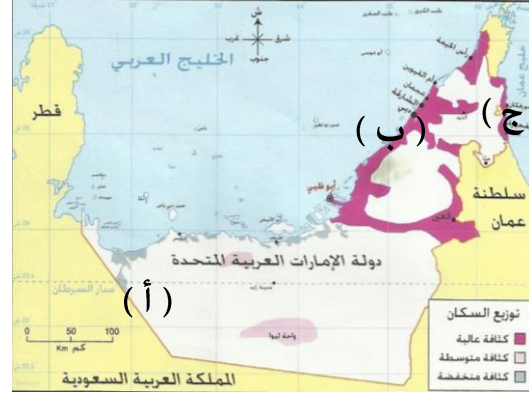
- لماذا يقل السكان في المنطقة المشار إليها بـ (أ)

..... **قلة فرص العمل** .....

اذكر اسم مناطق التركيز السكاني والمشار إليهم بـ:

..... (ب) السهل الساحلي... **الغربي** .....

..... (ج) السهل الساحلي... **الشرقي** .....



● **الموقع على الساحل**



● **توفر المياه الجوفية والتربة**



● **سهولة المواصلات**



● **توفر الموارد الطبيعية**



● **توفر فرص العمل**

● يتركز 70% من السكان في دولة الإمارات في:

السهول الحصوية الساحل الشرقي

● السهول الحصوية تضم بعض المدن الصغيرة مثل:

الفجيرة حتا

● تقع مدينة أم القيوين في:

السهول الحصوية الساحل الغربي

● تقع مدينة كلباء في:

الساحل الغربي الساحل الشرقي

● تقع مدينة العين في:

الساحل الغربي الساحل الشرقي

الساحل الغربي

واحة ليوا

الإقليم الصحراوي

الإقليم الصحراوي

الإقليم الصحراوي

اختار الإجابة الصحيحة فيما يلي:



أهمية التعداد السكاني

تجنب المشكلات السكانية  
كالازدحام والتلوث.....

توفير الخدمات الصحية  
والتعليمية والمرافق كافة



ضع المفاهيم التالية في مكانها المناسب:

( التلوث - التعداد السكاني - بطاقة الهوية )

عملية يقوم بها جهاز مختص داخل الدولة بهدف تسجيل عدد السكان المتواجدين

في الدولة في يوم محدد وتاريخ محدد. (التعداد السكاني)

إلحاق الضرر بالبيئة ناجم عن زيادة في عدد السكان. (التلوث.....)

هي بطاقة إلكترونية تصدرها الدولة وترجع أهميتها إلى أنها تسهل لحاملها

الحصول على الخدمات الحكومية جميعها وتثبت هويته. (بطاقة الهوية...)



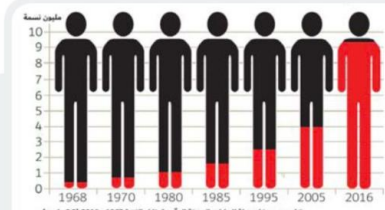
الهيئة الاتحادية

للهوية والجنسية.....



من هي الجهة الرسمية في دولة الإمارات العربية المتحدة التي

أنجزت مشروع بطاقة الهوية الذكية؟



الشكل في الكتاب  
الدرسي ص 25 <



عن خلال الشكل الذي أعفك أهب عبا يلي:

- يبلغ عدد السكان في عام 1980 م . مليون نسمة
- يبلغ عدد السكان في عام 2016 م . 9.1 مليون نسمة
- اكتب حقيقة :

يبلغ عدد سكان دولة الإمارات في 2016 م 9.1 مليون نسمة

- أيهما أكثر الذكور أم الإناث في المجتمع الإماراتي الذكور...




الأنشطة الاقتصادية في دولة الإمارات العربية المتحدة

YEAR OF  
ZAYED


عام  
زايد



الصف الرابع: (.....)



الثروة السمكية



الثروة الحيوانية



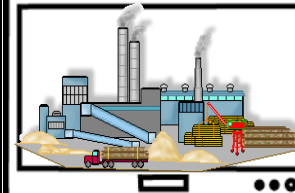
الثروة الزراعية



السياحة



التجارة




الصناعة

اهتمام دولة الإمارات العربية المتحدة  
بتنوع مصادر الدخل؟

علل؟

لبناء اقتصاد قوي



تحويل الهادة..... الخام... إلى مادة... جديدة... أكثر نفعاً للإنسان

تنقسم الصناعة إلى نوعين

صنف الصناعات التالية حسب معطيات الجدول

الصناعة	صناعة تحويلية	صناعة استخراجية
الألمونيوم	✓	
استخراج النفط		✓
الملابس	✓	
استخراج الغاز		✓
الأدوية	✓	

أنواع الصناعة

الصناعة  
التحويلية

هي تحويل المواد  
الخام إلى منتجات  
مفيدة

الصناعة  
الاستخراجية

هي استخراج المعادن  
والنفط والغاز من  
باطن الأرض

من أنا


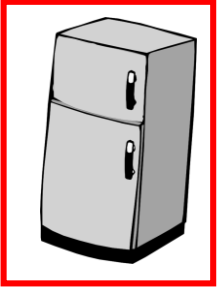
حفر الأرض للحصول على موارد نافعة كالمعادن أو الفلزات أو الوقود

التعدين





ضع دائرة على البضائع التي تستوردها بلادي من الخارج



من أنا

نشاط يقوم به  
الإنسان من أعمال  
البيع والشراء  
للحصول على الأموال



وتنقسم إلى قسمين



1 (الصادرات...)

هي السلع والبضائع  
التي تباع خارج  
الدولة .

2 (الواردات...)

السلع والبضائع التي  
تشتري من خارج  
الدولة

ضع علامة (√) أسفل صورة وسائل النقل المستخدمة  
قديماً في التجارة :



تانيا < الثروة الزراعية والثروة السمكية والحيوانية >> YEAR OF ZAYED



عام زايد واستمتع بالتلوين

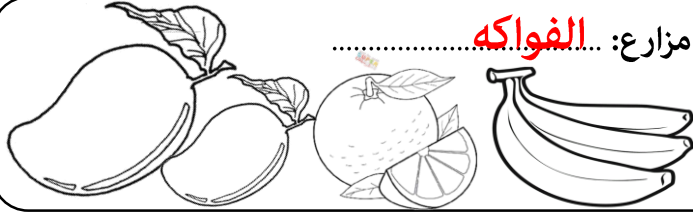


أكمل بطاقة الهوية لأنواع المزروعات في دولة الإمارات:

مزارع: **الخضراوات** .....




مزارع: **الفواكه** .....



مزارع: **الزهور** .....



مزارع: **النخيل** .....



من القائل " أعطوني زراعة أعطيكم حضارة "

الشيخ **زايد** .....

اكتب أسماء أشهر الأسماك في بلادنا



..... **الهامور** .....



..... **الصافي** .....



..... **الكنعد** .....

#الانترنت\_افضل\_استخداما  
\_في\_الإمارات



جهود الإمارات للنهوض بالثروة السمكية

إقامة أسواق مخصصة لبيع الأسماك



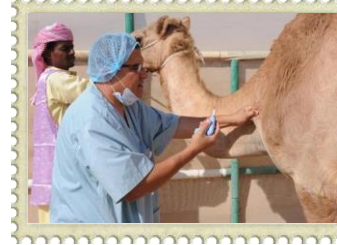
توفير أدوات الصيد الحديثة



تقديم المساعدات المالية



من جهود دولة الإمارات للنهوض بالثروة الحيوانية



..... **الرعاية البيطرية** .....



..... **توفير الأعلاف** .....

ضع الكلمات المساعدة التالية في مكانها المناسب  
الصحراء / سويحان / الأمن الغذائي

• من أهم مناطق زراعة الزهور في دولة الإمارات... **سويحان** .....

• توفير الغذاء بدون نقص هو ..... **الأمن الغذائي** .....

يلقب الشيخ زايد بالرجل الذي روض ..... **الصحراء** .....



## أنواع السياحة

أكمل الخطط التالي



السياحة بغرض تعرف على  
المعالم الأثرية والتراثية

السياحة التاريخية.....



السياحة بهدف التسويق  
وشراء المنتجات

السياحة التسويقية.....



السياحة بهدف العلاج  
والاستشفاء

السياحة العلاجية.....



السياحة بهدف متابعة  
البطولات الرياضية

السياحة الرياضية.....



السياحة بغرض الترويح عن  
النفس

السياحة الترفيهية.....



برج خليفة في دبي.....



جزيرة المرجان في رأس الخيمة.....



جزر العالم في دبي.....



جزيرة النخلة في دبي.....

أكمل اسم العالم في خريطة

من أنا



السفر والانتقال من دولة إلى دولة أخرى بهدف

الترفيه والاستكشاف والترويح عن النفس

..... السياحة .....

من مقومات السياحة في دولة الإمارات العربية المتحدة

• الأمن والاستقرار.....

• توفر مراكز التسوق.....

• توفر الخدمات كالفنادق والحدائق ووسائل النقل

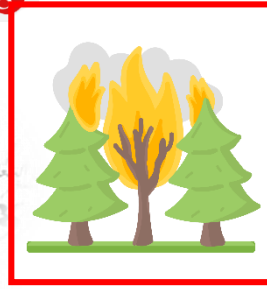




فكر قبل أن تنشر



هوط الصور الدالة على الأسباب الطبيعية لتلوث



من أنا  
هو أي تغير ضار يؤثر على الهواء أو الماء أو الأرض أو ما يضر بصحة الإنسان والكائنات الحية الأخرى


**التلوث**

ما أضرار التلوث المترتبة على كل من:

الأضرار	
انتشار الأمراض	الإنسان
انقراض الحيوانات أو موتها	الحيوان
هلاك أعداد لا حصر لها من الكائنات الحية	الكائنات الحية



الكائنات الحية



تلوث السمعي

تلوث الاشعاعي

تلوث التربة

تلوث الماء

تلوث الهواء

أنواع التلوث

تانيا < الازدهام الهروي >، تالنا < جهود دولة الإمارات في حماية البيئة >

أهل الجدول حسب الععطيات فيما يلي:



من أنا




عدم قدرة مستخدمي الطرق على الانتقال  
من مكان إلى آخر بالسرعة المناسبة  
...الازدهام الهروي...



من أنا

أول مدينة خالية من الكربون والنفايات  
الصناعية صديقة للبيئة، تعمل بطاقة الشمسية  
مدينة... مصدر...  
تقع في إمارة... أبو ظبي...



المحل	السبب	المشكلة
	ضيق الشوارع	المشكلة هي الازدهام الهروي
	زيادة عدد السيارات استخدام النقل الجماعي	

ما هي أضرار الازدهام الهروي

1. الحوادث




2. تأخر الموظفين والطلاب



3. التلوث



الكلول التي تعتمد لها دولة الإمارات  
العربية المتحدة لحماية البيئة



إنشاء المحميات الطبيعية  
تشجيع استخدام النقل الجماعي



إصدار القوانين

الاهتمام الزراعة

مشروع في دبي عمل على تشجيع وسائل النقل الجماعي وقلل  
من تأثير الازدهام الهروي... مترو دبي





أولا وثانيا «انتشار الإسلام في منطقة الإمارات ومدينة دبا»

من رسائل الدعوة إلى الإسلام



أرسل إلى حامل الرسالة



..... عمرو بن العاص

يرافقه

..... أبا زيد الأنصاري

..... ملكي عمان

..... (عبدو و جيفر)

..... أبناء الجلندي

أثر الإسلام في منطقة الإمارات وعمان ؟

1..... الاهتمام بالأسرة.....

2..... تشجيع العلم والعلماء.....

3..... إتقان العمل والكسب الحلال

العودة للكتاب المدرسي صفحة 56

سارع أهل عمان بالدخول إلى الإسلام .. طواعية

علل ،

سرعة دخول أهل عمان في الإسلام ؟

..... السماحة والعدل في الدين الاسلامي

ضع الكلمات التالية في مكانها المناسب:

( ترانزيت - الأسرة - التكافل الاجتماعي)

التعاون بين أفراد المجتمع ..... **التكافل الاجتماعي**

دبا كانت تمثل مركزا تجاريا بين الشرق والغرب وهي ما يطلق عليه اليوم

..... **ترانزيت**

نواة المجتمع ..... **الأسرة**

## اختار الإجابة الصحيحة فيما يلي :

- دخل أهل الإمارات وعمان الإسلام

( طواعية - إكراه - إجبار )

- تسمى منطقة الإمارات وعمان قديما باسم:

( الساحل - الغبراء - الدهماء )

- فتح الرسول مكة المكرمة في السنة :

( 7 هـ - 8 هـ - 9 هـ )

- دبا ثاني أكبر مدن إمارة :

( عجمان - رأس الخيمة - الفجيرة )

- دبا الحصن مدينة تابعة لإمارة :

( الشارقة - الفجيرة - دبي )

- المضيق الذي يكون قريبا من مدينة دبا :

( هرمز - باب المنذب - ملقا )

- تطل دبا على بحر:

( العرب - عمان - الأحمر )

هيزات رسائل الرسول لأهل الإمارات وعمان:

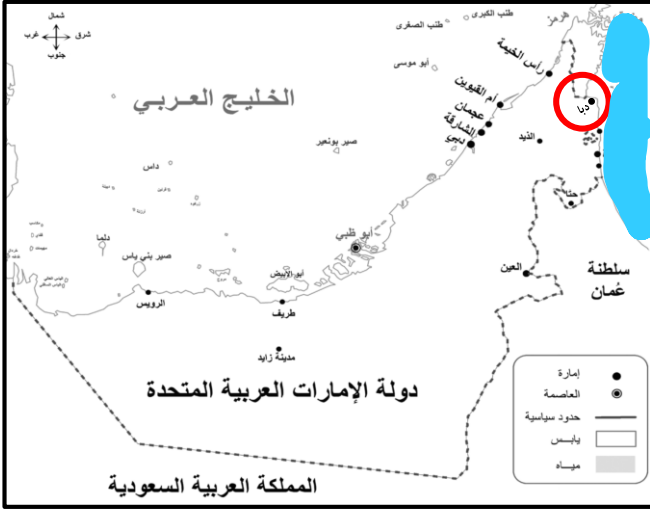
1 الإيجاز ..... 2 الحكمة والموعظة ..... 3 الكلمة الطيبة







ثالثا < المهلب بن أبي صفرة >



على الخريطة التي أمامك :  
 - حوط المدينة التي ولد فيها.  
 - ما اسم المسطح المائي الذي تطل عليه المدينة التي ولد فيها ولونه.  
**بحر عمان**

سنة ميلادي  
**٦٩٧**

مكان ولادتي

مدينة **دبا**

اسمي

**المهلب بن أبي صفرة الأزدي القحطاني**

أولى غزواتي كانت لبلاد **السند**

كنيتي

**أبو سعيد**

من هو الصحابي الذي أعجب بالمهلب بن أبي صفرة

**عمر بن الخطاب**

من صفات المهلب بن أبي صفرة

**الكرم والحلم والشجاعة والقيادة وحسن التدبير**



أنا المهلب بن أبى صفرة شخصية لا تنسها فأكمل مقتطفات من جوانب حياتى وإجازاتى فيها يلى :



ولدت فى 7 هـ وكانت  
وفاتى فى 82 هـ فكفم كان  
عمره عند وفاته ؟؟  
.....**75 عاما**.....

الصحابى الجليل الذى  
أطلق على لقب " سيد  
أهل العراق " هو  
.....**عبدالله بن الزبير**.....



كانت أولى غزواتى إلى بلاد  
.....**السند**.....  
حيث حققت النصر




ساهمت فى حركة  
الفتوحات الإسلامية فى بلاد  
.....**السند**.....و.....**تركستان**.....



ما النصيحة التى قدمتها  
لأولادى  
فى **الاتحاد قوة وفى**  
التفرق ضعف

شاركت بالفتوحات  
الإسلامية ومن المعركة التى  
خضتها معركة  
.....**القادسية**..... ضد **الفرس**



حاربت فئته خرجت عن  
الاسلام حتى حققت النصر  
عليهم فمن هذه الفئة ؟  
.....**الخوارج**.....



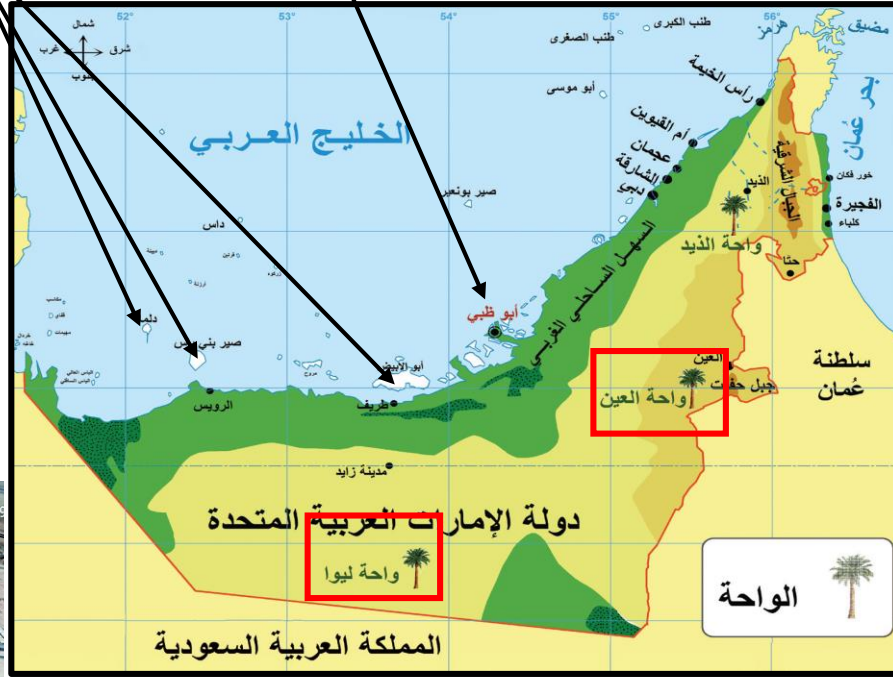
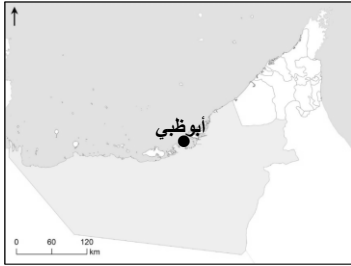
أصبحت واليا على ولاية  
.....**خراسان**.....

عدد الجزر التابعة لإمارة أبوظبي  
 أكثر من **200** جزيرة

تعتبر أبوظبي ..... **عاصمة** ..... دولة الإمارات العربية المتحدة.

تعود تسمية أبوظبي بهذا الاسم  
 لكثرة حيوان ..... **الظبي** .....

أبوظبي ..... **أكبر** ..... الإمارات  
 السبع من حيث المساحة



تسمى أبوظبي قديماً  
 ..... **أم النار** .....

قبيلة التي استقرت بأبوظبي قبيلة  
 ..... **بني ياس** .....

الشيخ **ذياب بن عيسى** .....  
 هو أول حاكم آل نهيان في أبوظبي



الذي شيد قلعة  
 ..... **الحصن** .....



تقع فيها أكبر مدينة ألعاب مغطاه في  
 العالم وهي ..... **عالم فيراري** .....

## هوط على الخريطة

الواحات التابعة لإمارة أبوظبي  
 وتعتبر من أجمل واحاتها



من أبرز المعالم لإسلامية في أبوظبي  
 جامع **الشيخ زايد** .....



يقع في  
 أبوظبي جسر  
 ..... **المقطع** .....







إكسبو 2020  
دبي، الإمارات العربية المتحدة  
DUBAI, UNITED ARAB EMIRATES  
مدينة مرشحة

ستستضيف دبي في 2020 معرض  
إكسبو



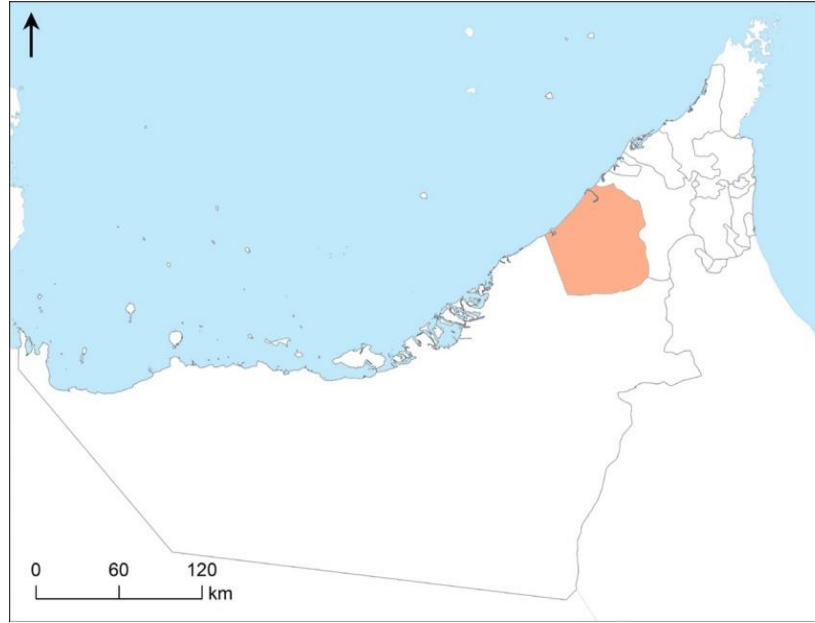
أشهر ميناء بحري في منطقة  
الشرق الأوسط ميناء  
جبل علي



يوجد بها أعلى برج هو برج  
خليفة

## أستكمل العبارات التالية بها يناسبها

دبي ..... ثاني ..... الإمارات السبع من حيث المساحة



تعتبر أسرة ( آل ... مكتوم ..... )  
حكام إمارة دبي من فرع البو فلاسة  
المنتمية إلى حلف بني ياس  
من أهم الموارد الاقتصادية في دبي :

السياحة



التجارة



العقارات



تتميز دبي بكثرة الجزر الصناعية مثل :



جزر العالم



جزيرة النخلة جميرا



جميرا



القيصم



في الثاني من ديسمبر 1971م  
ساهم الشيخ  
**خالد بن محمد القاسمي**  
في قيام الاتحاد

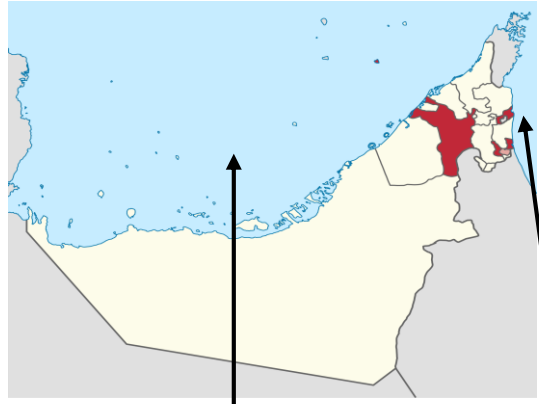
سميت رأس الخيمة بهذا  
الاسم نسبة إلى  
**الخيمة التي كانت تنصب على الساحل**  
لإرشاد السفن للميناء  
كانت تسمى رأس الخيمة  
قدما  
**جلفار**

من الجزر الصناعية في  
رأس الخيمة **المرجان**

أهم ما يميز إمارة الشارقة

أستكمل العبارات التالية بما يناسبها

الشارقة ..... **ثالث** ..... الإمارات  
السبع من حيث المساحة




**السوق المركزي**

مشروع ثقافة بلا حدود  
(مكتبة لكل بيت)

تعد رأس الخيمة الإمارة ..... **الرابعة** .....  
لدولة الإمارات من حيث المساحة



تشتهر رأس الخيمة بالقلع  
مثل قصر **الزباء**



أعلى جبل في الدولة  
جبل **جيس**



هي الإمارة الوحيدة التي تملك سواحل على  
بحر ..... **عمان** ..... والخليج ... **العربي**



الشيخ ..... **صقر القاسمي**


منطقة ..... **خت** ..... حيث  
عيون المياه الحارة



هي عاصمة  
**الثقافة** ..... والكتب



تحمل لواء العلم والثقافة  
بقيادة  
**سلطان بن محمد لقاسمي**



حكمت الشارقة قبيلة  
..... **القواسم** .....  
وظهرت كقوة  
..... **بحرية** .....



ثالثا : الفجيرة وأم القيوين وعجمان

الاسم : .....

الصف الرابع : ( ..... )



عرفت الفجيرة بالتاريخ القديم **أرض عمالقة البحار**



يصدر النفط الخام من أبوظبي  
للأسواق العالمية **ميناء الفجيرة**

من أشهر القلاع وأضخمها  
**قلعة الفجيرة**

أقدم مسجد باق في الإمارات  
**البدية**

## الفجيرة

تطل إمارة  
الفجيرة على بحر  
**عمان**

## اختار الإجابة الصحيحة فيما يلي :

- إمارة الاستجمام والراحة والطبيعة الخلابة :

( عجمان - الشارقة - **الفجيرة** )

- كانت إمارة الفجيرة الموطن الأول لـ :

( القواسم - **الشرقيين** - النعيم )

- أصغر إمارة من حيث المساحة :

( رأس الخيمة - **عجمان** - أم القيوين )

- إمارة أهلها مشهورون بصيد السمك وتجارة اللؤلؤ :

( رأس الخيمة - عجمان - **أم القيوين** )

- إمارة تقع بين إماراتي رأس الخيمة والشارقة :

( دبي - عجمان - **أم القيوين** )

- إمارة عرفت بأنها أكبر مركز لصناعة القوارب التقليدية :

( الشارقة - دبي - **عجمان** )

- سادس إمارة من حيث المساحة :

( عجمان - رأس الخيمة - **أم القيوين** )

- تطل الفجيرة على مسطح مائي وهو :

( البحر الأحمر - **بحر عمان** - الخليج العربي )



من أكبر الجزر السياحية  
**جزيرة السينية**

مدينة أثرية  
**الدور**

يحكمها الشيخ  
**سعود بن راشد المعلا**

## أم القيوين

تسمية أم القيوين  
بهذا الاسم  
**نسبة إلى القوة  
البرية والبحرية**

## أهم ما يميز عجمان



**محمية الزوراء**

**متحف عجمان**

يحكمها الشيخ  
**حميد بن راشد النعيمي**

## عجمان

أهم مدن عجمان  
**مصفوت  
المنامة**

## من أنا

منطقة جغرافية محددة المساحة تخصص للمحافظة على الموارد البيئية المتجددة قد تحتوي على حيوانات أو نباتات مهددة بالإفراض ( **المحمية** )



## اختار الإجابة الصحيحة فيما يلي :

- كل ما خلفه الأجداد لكي يكون عبرة من الماضي ونهجا يستقي منه الأبناء الدروس ليعبروا بها من الحاضر إلى المستقبل :
- ( الحضارة - التراث - النهج )
- يشمل المباني والأماكن التاريخية والآثار والتحف :
- ( التراث - التراث الغير الهادي - التراث الهادي )
- يشمل التصرفات والممارسات وأشكال التعبير والمعارف والمهارات كالمهرجانات التقليدية والتقاليد الشفهية والملاحم والعادات وأساليب المعيشة والحرف التقليدية :
- ( التراث - التراث الغير الهادي - التراث الهادي )
- حوط الصورة التي لا تنتمي لتراث الغير الهادي :



- واحدة من التالي ليس من الأمثلة على التراث الهادي هي :
- ( القلاع - المباني - الحرف )
- واحدة من التالي ليست من التراث الغير الهادي :
- ( التصرفات - التحف - المعارف )



أسباب الاهتمام بالتراث الهادي

المخطط التالي  
أكمل

• .....الافتخار...بالماضي.....

• .....لأنها..موروثات..مهمة.....

أسباب الاهتمام بالتراث الغير الهادي

• .....يشجع على الاحترام.....

يساعد على الحوار بين الأفراد

أحدد التراث الهادي وغير الهادي من خلال الصور التالية

التراث  
المادي



التراث  
غير مادي  
( معنوي )



التراث  
غير مادي  
( معنوي )



التراث  
المادي



## اختار الإجابة الصحيحة فيما يلي:

- مكان لجمع وحفظ الآثار القديمة وكل ما يتصل بالتراث الحضاري:

( المتحف - البيت - النادي )

- متاحف تصور حياة الماضي والوثائق والأدوات القديمة:

( الفنية - العلمية - التاريخية )

- متاحف تعرض أعمالا فنية فقط:

( العلمية - التاريخية - الفنية )

- متاحف تقدم معروضات عن العلوم الطبيعية والتقنية:

( الفنية - العلمية - التاريخية )

- متحف أقيم بجانب دار الاتحاد التي تم توقيع وثيقة الاتحاد فيها:

( اللوفر - الاتحاد - رأس الخيمة الوطني )

- أقدم بناء تاريخي في أبوظبي:

( قصر الحصن - القاسمية - الفهيدي )

- يبلغ عدد المتاحف في الشارقة:

( 14 - 15 - 16 )

- أنشئ الأرشيف الوطني في إمارة:

( دبي - أبوظبي - الشارقة )

قلعة من أقدم المباني الصامدة في دولة الإمارات وكانت قديما حامية لدبي ومقر للحاكم والحكومة:

( الفهيدي - الحصن - القاسمية )

## صل صورة المتحف بالإمارة التي يقع فيها:



ضع الكلمات التالية في مكانها المناسب:

( الألعاب الشعبية - الهوية الوطنية - الطب الشعبي - الأحشام )

- إن العادات والتقاليد الإماراتية الأصيلة هي جزء من ملامح **الهوية الوطنية**
- تظهر العادات والتقاليد بوضوح في الأعياد والزواج و..... و..... **الألعاب الشعبية** و..... **الطب الشعبي**
- نتعلم العادات والتقاليد من التربية ومن مخالطة **الأحشام**.....

أهم الآداب والعادات التي تركز السلوكيات الطيبة قولا وفعلا

آداب صب القهوة

آداب الحديث

آداب الطعام

آداب السلام

صن سنع بلادي:

أبد بصب القهوة للجالسين والضيوف من اليمين إلى **اليسار**.....ممسكا الدلة باليد **اليسرى**.....و..... **الفناجين**..... باليد اليمنىعلى فاذا يدل نص  
الفنجان

دليل على الانتهاء من شرب القهوة

اختر الإجابة الصحيحة فيما يلي:

- جملة من العادات والتقاليد المتعارف عليها وتشمل معرفة القواعد والآداب العامة في التصرف مع الآخرين:
- ( التراث - **السنع** - العادات والتقاليد )
- نتعلم السنع والعادات والتقاليد من مجالس:
- ( الشباب - **الكبار** - الصغار )
- من ركائز العادات والتقاليد في دولة الإمارات:
- ( **الأخلاق الإسلامية** - الحضارة - الزيارات )
- ( الذرابة في الرمسة ) تعني آداب:
- ( الطعام - **الحديث** - السلام )
- الفزعة تعني:
- ( التطوع - الأمانة - **مساعدة المحتاج** )
- اكتساب العادات والتقاليد يتم بـ:
- ( التلقين - **الممارسة** - الاجتهاد )