

الدرس الأول : رحلة المعرفة .

صل بين المفهوم و تفسيره .

المفهوم	التفسير
1 المَوْقِعَ الجُغرافي	مَوْقِعَ المَكَانِ بالنِّسبَةِ لليباسَةِ والماءِ
2 خُطوطُ الطُّولِ	وهي عبارةٌ عن خُطوطٍ وهميةٍ تُرسمُ على مُودَجِ الكُرَةِ الأَرْضِيَّةِ وتَبْدُو على شَكْلِ دَوَائِرٍ تامَّةٍ الاستدارةِ
3 دَوَائِرُ العَرْضِ	مَوْقِعَ جِسْمٍ ما على سَطْحِ الكُرَةِ الأَرْضِيَّةِ
4 المَوْقِعَ الفَلْكي	وهو دائرةُ العَرْضِ الرِّئِيسَةِ، وتُقَسَّمُ العالَمُ إلى نِصْفَيْنِ مُتساوِيَيْنِ [شَمالي وجَنوبي]،
5 المَوْقِعَ النِّسْبِي	وهي خُطوطٌ طوليَّةٌ يوازي بعضها البعض.
6 خَطُّ الاستواءِ	وهو خَطُّ الطُّولِ الرِّئِيسِي [خَطُّ الصَّفَرِ] وَيُقَسَّمُ العالَمُ إلى نِصْفَيْنِ مُتساوِيَيْنِ (شَرْقي و غربي)
7 خَطُّ جَرِينتَش	وهو مَوْقِعُ المَكَانِ بالنِّسبَةِ لخطوطِ الطُّولِ وَ دَوَائِرِ العَرْضِ

ب- أكمل الفراغات بما يناسب :

- 1- نعيش على كوكب وهو يتكون من و
 - 2- يرمز اللون الأزرق في الخريطة إلى و اللون البني يرمز إلى
 - 3- أكبر القارات مساحة هي و أصغرها
 - 4- أكبر المحيطات مساحة
 - 5- تقع دولة الإمارات في قارة
 - 6- قارات العالم القديم هي و و
 - 7- بالنسبة لخط الاستواء تقع دولة الامارات في جهة و بالنسبة لخط جرينتش في جهة
 - و تمر بدولة الامارات دائرة عرض
- معلومات مهمة :

1	عدد دوائر العرض 180 دائرة عرض (90 في الشمال و 90 في الجنوب)
2	دائرة العرض الرئيسية هي دائرة الاستواء و درجتها صفر و تقسم الكرة الارضية إلى قسم شمالي و قسم جنوبي
3	عدد خطوط الطول 360 خط طول (180 في الشرق و 180 في الغرب)
4	خط الطول الرئيسي هو خط جرينتش و درجته صفر و يقسم الكرة الأرضية إلى قسم شرقي و قسم غربي
5	نستفيد من خطوط الطول في تحديد الموقع الفلكي للدول و معرفة الوقت و الزمن .
6	نستفيد من دوائر العرض في تحديد المناخ و النبات الطبيعي .

العملية الحسابية لخطوط الطول و دوائر العرض هي كالتالي :

- 1- إذا كان الرقمين نفس الجهة تكون العملية طرح
 - 2- إذا كان الرقمين من جهتين مختلفتين تكون العملية جمع .
- مثال لدوائر العرض : 90 شمالا و 40 شمالا (90 - 40 = 50 شمالا دائرة عرض)
90 شمالا و 40 جنوبا (90 + 40 = 130 دائرة عرض)
مثال لخطوط الطول : 60 شرقا و 30 غربا (60 + 30 = 90 خط طول)

ضع علامة أمام الجمل الصحيحة و علامة أمام الجمل الغير صحيحة :

يَقَعُ مَدَارُ السَّرَطَانِ فِي نِصْفِ الكُرَّةِ الجَنُوبِيِّ	
يُقَسَّمُ خَطُّ الاسْتِواءِ الكُرَّةِ الأَرْضِيَّةِ إِلَى نِصْفَيْنِ شَمَالًا وَجَنُوبًا	
مَدَارُ الجَدِيِّ يَقَعُ شَمَالِ خَطِّ الاسْتِواءِ	
تُعْرَفُ دَائِرَةُ العَرْضِ الرَّئِيسَةِ بِخَطِّ جَرِينْتَش	
يَمُرُّ خَطُّ الاسْتِواءِ عِنْدَ دَائِرَةِ عَرْضِ صَفْرٍ	
القُطْبُ الشَّمَالِيُّ عِنْدَ دَائِرَةِ عَرْضِ 23,5 شَمَالًا	
عدد خطوط الطول 180 خط طول	

www.almanahj.com

الدرس الثاني : موقع بلادي

أكمل الجدول التالي الخاص بدولة الإمارات :

	العاصمة
	الرئيس
	تاريخ التأسيس
	مساحة الدولة
من دائرة عرض إلى دائرة عرض من خط طول إلى خط طول	الموقع الفلكي
عدد دوائر العرض التي تمر بالدولة عدد خطوط الطول التي تمر بالدولة	باستخدام الرياضيات احسب
	قارات العالم القديم
	الموقع بالنسبة لقارة آسيا
	الموقع بالنسبة للوطن العربي

ضعي المفاهيم التالية في مكانها الصحيح :

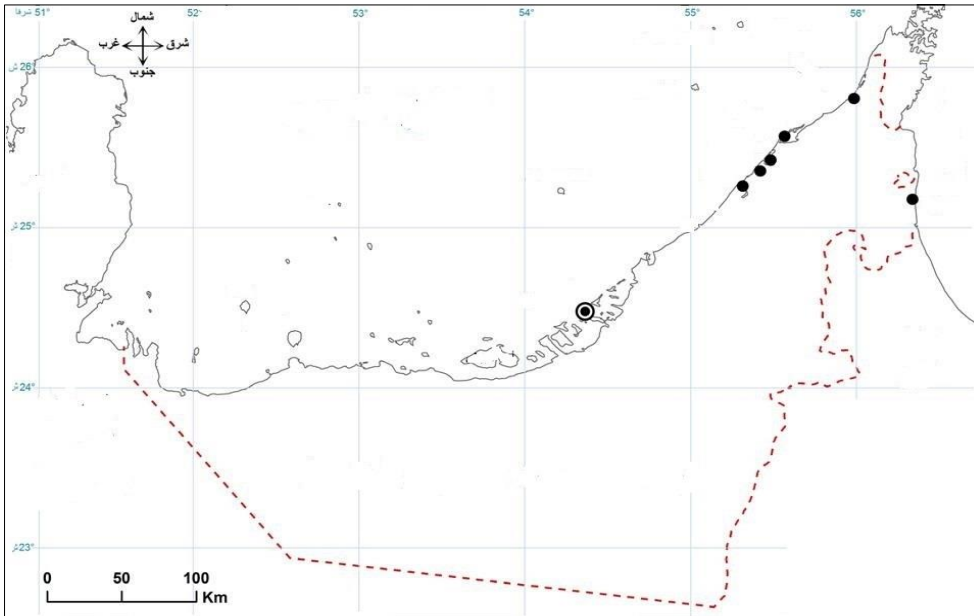
(1- شبه الجزيرة 2- الحدود السياسية 3- الخليج 4- تجارة الترانزيت 5- الحضارة)

حُطُوطٌ حَدَدَهَا الْإِنْسَانُ، وَرُسِمَتْ حَتَّى تَفْصَلَ بَيْنَ حُدُودِ دَوْلَةٍ وَدَوْلَةٍ أُخْرَى	
مِنْطَقَةٌ مِنَ الْيَابِسِ مُحَاطَةٌ بِالْمَاءِ مِنْ ثَلَاثِ جِهَاتٍ	
تَسْتَوْرِدُ السَّلْعَ ثُمَّ تُعِيدُ تَصْدِيرَهَا إِلَى دَوْلِ الْعَالَمِ	
لِسَانٌ كَبِيرٌ مِنَ الْمَاءِ مُحَاطٌ بِالْيَابِسِ مِنْ ثَلَاثِ جِهَاتٍ	
كُلُّ جَهْدٍ قَامَ بِهِ الْإِنْسَانُ لِتَحْسِينِ ظُرُوفِ حَيَاتِهِ	

أكمل الجمل التالية بما يناسبها :

- 1- يَمْرَ مَدَارٍ فِي الْجُزْءِ الْجَنُوبِيِّ مِنْ دَوْلَةِ الْإِمَارَاتِ الْعَرَبِيَّةِ الْمُتَّحِدَةِ.
- 2- تَقَعُ دَوْلَةُ الْإِمَارَاتِ فِي جِهَةٍ بِالنِّسْبَةِ لِقَارَةِ آسِيَا .
- 3- يَمْتَدُّ الْوَطَنُ الْعَرَبِيُّ فِي قَارَتِي وَ.....
- 4- تُشْرِفُ دَوْلَةُ الْإِمَارَاتِ الْعَرَبِيَّةِ الْمُتَّحِدَةِ بِحُدُودِهَا عَلَى مَسْطَحَيْنِ مَائِيَّيْنِ، وَهُمَا : وَ.....
- 5- حُدُودُ دَوْلَةِ الْإِمَارَاتِ : يَحْدُهَا شَرْقًا بَحْرٌ وَ..... ، وَجَنُوبًا وَغَرْبًا وَشِمَالًا
- 6- مِنْ الْحَضَارَاتِ الَّتِي ظَهَرَتْ عَلَى أَرْضِ دَوْلَةِ الْإِمَارَاتِ الْعَرَبِيَّةِ الْمُتَّحِدَةِ حَضَارَةٌ وَحَضَارَةٌ فِي أَبُو ظَبْيٍ، وَحَضَارَةٌ فِي الشَّارِقَةِ

على الخريطة حدد التالي : (1- بحر عمان 2- الخليج العربي 3- سلطنة عمان 4- المملكة العربية السعودية 5- مضيق هرمز 6- المدن السبع (أبوظبي - دبي - الشارقة - عجمان - أم القيوين - رأس الخيمة - الفجيرة)



عائشة عامر راشد مدرسة سميرة بنت خياط

الدَّرْسُ الثالثُ: طَبِيعَةُ بِلَادِي 1 الجِبَالِ وَالسَّهُولِ :

أولاً: اكتب المصطلح المناسب أمام الجمل التالية :

- 1- كُنْتَلَهُ ضَخْمَةً مِنَ الصَّخُورِ الْمُرْتَفَعَةِ عَنْ سَطْحِ الْأَرْضِ ذَاتَ قَمَمٍ تَتَمَيَّزُ بِالْحِدَّةِ وَالرِّتْفَاعِ (.....)
 - 2- أَرْضٌ طَوِيلَةٌ مَنْخَفِضَةٌ تُحِيطُهَا أَرْضٌ مُرْتَفَعَةٌ مِنَ الْجَوَانِبِ (.....)
 - 3- هِيَ أَرْضٌ مَنْبَسَطَةٌ قَلِيلَةُ الرِّتْفَاعِ. (.....)
 - 4- هِيَ السَّهُولُ الْمُطَّلَّةُ عَلَى الْبَحْرِ. (.....)
- ثانياً: أكمل المخططات التالية :

الأهمية الاقتصادية للجبال		
الأهمية الاقتصادية للسهول الساحلية		
الأهمية الاقتصادية للسهول الداخلية		

www.almanahj.com

أكمل الجدول التالي :

وجه المقارنة	السهل الساحلي الشرقي	السهل الساحلي الغربي
المسطح المائي الذي يطل عليه		
الاتساع		
أهم المدن		

أكمل :

- من أشهر السهول الداخلية سهول و سهول
- أعلى قمة جبلية في دولة الامارات هي و تقع في الجهة من دولة الإمارات و تحديدا في مدينة
- من أشهر الأودية في دولة الإمارات وادي و وادي
- يتميز السهل الساحلي الشرقي بضيق مساحته بسبب
- عاصمة دولة الامارات تقع على السهل الساحلي

الدَّرْسُ الرَّابِعُ: طَبِيعَةُ بِلَادِي 2 الْجَزْرِ وَالْكُتْبَانُ الرَّمْلِيَّةُ : معلومات مهمة خاصة بالجزر :

- 1- تمتلك دولة الإمارات أكثر من 200 جزيرة تقع في الخليج العربي .
- 2- أكبر الجزر الاماراتية هي جزيرة أبو الأبيض .
- 3- الجزر المحتلة هي : طناب الكبرى و طناب الصغرى و أبو موسى (احتلتها ايران عام 1971 م)
- 4- **أهميَّة الجزر:**
 - 1- موانئ لتصدير النفط والغاز مثل جزيرة داس.
 - 2- محميات طبيعية مثل جزيرة صير بني ياس.
 - 3- مناطق سكنية مثل جزيرة دَلْما.
- 5- **أنا استطيع التمييز بين الجزيرة و شبه الجزيرة —**

الجزيرة هي :

وشبه الجزيرة هي :

الصحراء :

الصحراء : هي أرض جافة قليلة المطر. هل تعلمي أن أكثر شكل تضاريسي في الامارات هو الصحراء و تمثل أكثر من 70% من مساحة الدولة
ومن أهم خصائصها:

- 1- الحرارة المرتفعة صيفاً، والمنخفضة شتاءً.
 - 2- ندرة المطر.
 - 3- قلة الغطاء النباتي.
 - 4- قلة عدد السكان.
- تنتشر في صحاري دولة الإمارات العربية المتحدة العديد من الواحات،
الواحة هي : مناطق منخفضة في الصحراء تتوافر فيها المياه.
يعتمد السكان في الواحات على المياه الجوفية كمصدر أساسي للماء واستخدموها في الزراعة
أهم الأعمال في المناطق الصحراوية : 1- الزراعة و أهمهما أشجار النخيل 2- تربية الحيوانات..



أكمل الشكل التالي:

أهمية الصحراء	
أشهر الواحات في الإمارات	
واحة العين	واحة ليوا

* هيا يا صغيرتي على الشكل وضحي خصائص الصحراء



اكتبي اسفل الصورة اسم الظاهرة التضاريسية :



أكملي بيانات الشكل التالي :

أهميتها الاقتصادية	الظاهرة التضاريسية
	الجبال
	السهول الساحلية
	السهول الداخلية
	الصحراء
	الجزر

الدَّرْسُ الخامسُ: المُنَاخُ والحَيَاةُ الطَّبِيعِيَّةُ في بِلَادِي: اقارن بين المَنَاخِ و الطقس :

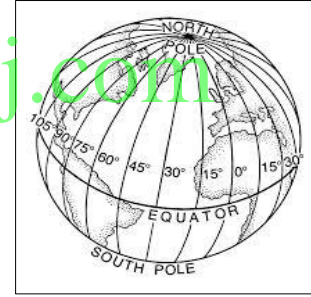
المناخ	وجه الشبه	الطقس
لفترة زمنية طويلة	كلاهما يمثل حالة الجو	لفترة زمنية قصيرة

عناصر المناخ هي: درجة الحرارة - الامطار - الرياح - الرطوبة
مناخ دولة الإمارات هو المناخ الصحراوي الحار

خصائص مناخ دولة الإمارات :

الشتاء	الصيف
انخفاض درجات الحرارة الامطار قليلة نادرة	ارتفاع درجة الحرارة ارتفاع الرطوبة في المناطق الساحلية

من الصور وضحي العوامل المؤثرة في المناخ (مناخ دولة الإمارات)



www.almanahj.com

.....

فسري المقصود بالنبات الطبيعي :

أنواع النبات الطبيعي في دولة الإمارات العربية المتحدة	
النبات الحولي	النبات المعمر
يعيش لفترة زمنية قصيرة (فترة سقوط المطر) . و السبب في ذلك : 1- الجذور الصغيرة التي لاتصل للمياه الجوفية من النباتات الحولية : 1-الحماض 2- الفقع (الكمأ) 3- الخبيز 4-المرار	يعيش لفترة زمنية طويلة . يساعده على ذلك : 1- الجذور الطويلة التي تصل للمياه الجوفية 2- الأوراق الصغيرة من النباتات المعمرة : 1-السدر 2- السمر 3- الغاف

أهمية النبات الطبيعي :

1- رعي الحيوان. 2- الحصول على الأخشاب الوقود. 3- صناعة الأدوية.

الحياة البرية (الحيوانات) : أهم أنواع الحيوانات البرية:

1- الثدييات مثل [الأرنب - الغزال - الهر]

2- الزواحف مثل [السحالي - الحيات]

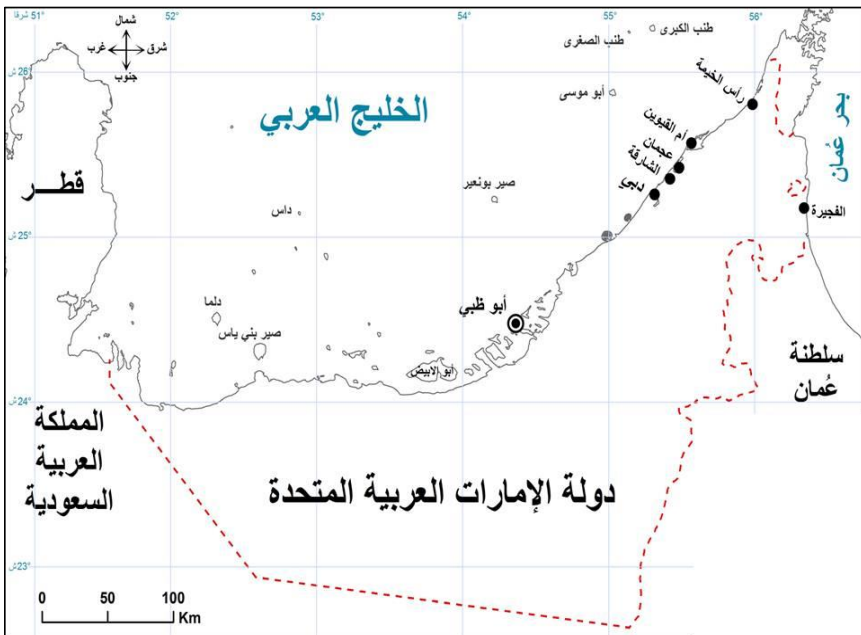
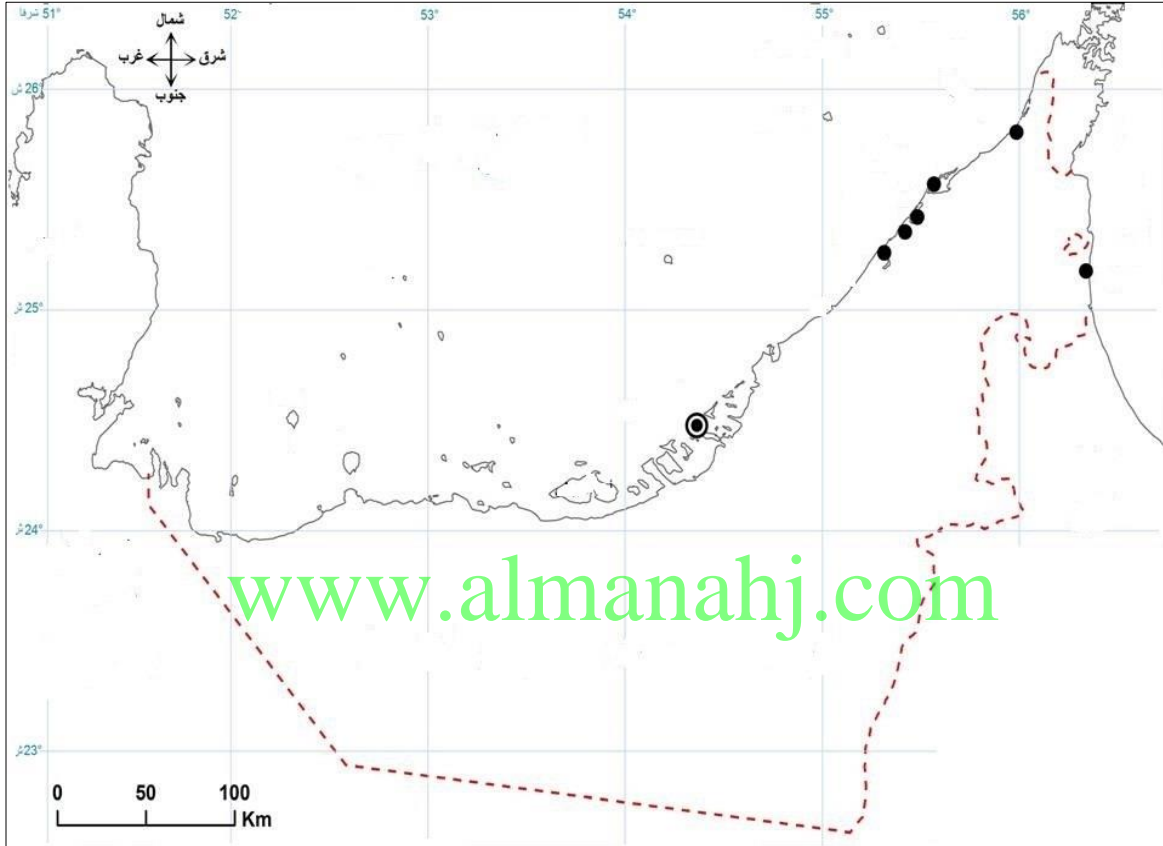
3- الطيور مثل [الحباري - الكروان - الصفردي]

معلومة مهمة : فسّر تنوع الثروة البرية بدولة الإمارات العربية المتحدة؟
السبب : تنوع المناخ والنبات الطبيعي وأشكال السطح

هيا صغيرتي الجميلة على الخريطة حدي قارات العالم :



- على خريطة الإمارات حدد التالي : 1 - مضيق هرمز 2- الخليج العربي 3- بحر عمان
4- دولة الإمارات 5- المملكة العربية السعودية 6- سلطنة عمان
7- المدن الإماراتية السبع (أبو ظبي - دبي - الشارقة - عجمان - أم القيوين - رأس الخيمة - الفجيرة)
8- ضعي دائرة حول عاصمة دولة الإمارات .



صل بين المطلوب و الاجابة على الخريطة:

- 1- عاصمة دولة الإمارات
- 2- محمية طبيعية
- 3- الدولة المجاورة للدولة من جهة الشرق
- 4- مدينة على بحر عمان
- 5- أكبر الجزر الإماراتية .
- 6- جزيرة سكنية
- 7- ضع دائرة حول الجزر المحتلة

الوحدة الثانية : الدرس الأول: الإمارات قبل الاتحاد

- ضع خطأ تحت الإجابة الصحيحة من بين القوسين :

- 1- يعتبر صاحب القرار في الأسرة الإماراتية قديماً : [الجد - الآباء - الأحفاد]
 - 2- أول مدرسة شبه نظامية في الإمارات هي مدرسة التيمية في : [دبي - الشارقة - أبو ظبي]
 - 3- بيت يصنع من سعف النخيل : [بيت الحجر - بيت الشعر - بيت العريش]
 - 4- يعمل على إدخال الهواء البارد إلى البيت قديماً : [البراجيل - السرود - الحبال]
 - 5- يصنع من ليف النخل : [بيت الشعر - السرود - الحبال]
- 2- من الحرف الإماراتية قديماً :

- 1- 2 - 3-

-3- ضع إشارة () أمام العبارة الصحيحة وإشارة () أمام العبارة غير الصحيحة :

- 1- اعتمد التعليم في دولة الإمارات العربية المتحدة قديماً على المطوع والمطوعة ()
- 2- انتشرت حرفة الصيد والغوص على اللؤلؤ على سواحل الإمارات قديماً ()
- 3- مدرسة الأحمدية أول مدرسة شبه نظامية أنشئت في أبو ظبي ()
- 4- لعبت المرأة الإماراتية أدورا رئيسة في عملية التنمية قبل ظهور النفط ()

-4- اكمل الفراغات التالية بما يناسب :

- 1- تتكون من ثلاثة أجيال أو أكثر ويقيمون في مسكن واحد
- 2- يعرف بئر الماء في اللهجة الإماراتية قديماً باسم
- 3- أول مدرسة شبه نظامية أنشئت في أبو ظبي عرفت باسم مدرسة

من الصور وضح دور المرأة قديماً قبل الاتحاد :



سمات الأسرة الإماراتية :

- 1- التعاون والتكافل والترابط بين أفراد الأسرة.
- 2- تنعم الأسرة بالاستقرار الاجتماعي رغم صعوبة الحياة.
- 3- يعتبر الجد هو رب الأسرة.

أكمل الجدول التالي :

نوع المبنى	المكان
	السهول الساحلية
	المناطق الجبلية
	المناطق الصحراوية

على الصورة وضحي فوائد النخلة



من خلال الصور أكتب مواد البناء المستخدمة في المباني الآتية:



مراحل تطور التعليم في دولة الإمارات :

نظامي	شبه نظامي	تعليم الكتاتيب
هي مدارس حديثة مجهزة بالوسائل التكنولوجية و لها مناهج و توقيت منظم	مدارس افتتحها تجار اللؤلؤ وهي مجانية و كانت تُقدّم لطلابها المطعم والمشرب والكساء إلى جانب الكتب والأدوات. أول مدرسة [التيمية المحمودية]. في الشارقة	عبارة عن تعليم بسيط متمثل في تعليم القرآن و الاحاديث و الحساب و اللغة العربية . يقوم بتعليم البنين المطوع و تعليم البنات المطوعة . ومن أهم صفات المطوع أن يكون حافظاً للقرآن و حكيماً و يخشى الله.

أصنّف المهّن الآتيّة حسب المناطق المُختلفة في دولة الإمارات العربية المتحدة قديماً وفقاً للشكل الآتي:
[الغوص على اللؤلؤ - الرعي - الزراعة - صيد الأسماك]

المناطق الساحلية	المناطق الداخلية
www.almanahj.com	

الدّرس الثّاني: الفِكرُ الوحدويّ :

ضعي المفهوم المناسب " (الأفلاج - القبيلة - الحلف)

مجموعة من الناس ينتمون إلى أصل واحد مشترك تجمعهم رابطة الدم،
المُعاهدة على التعاون ومد يد العون
وهي عبارة عن قناة تحفر على سطح الأرض لتجميع المياه الجوفية للزراعة.

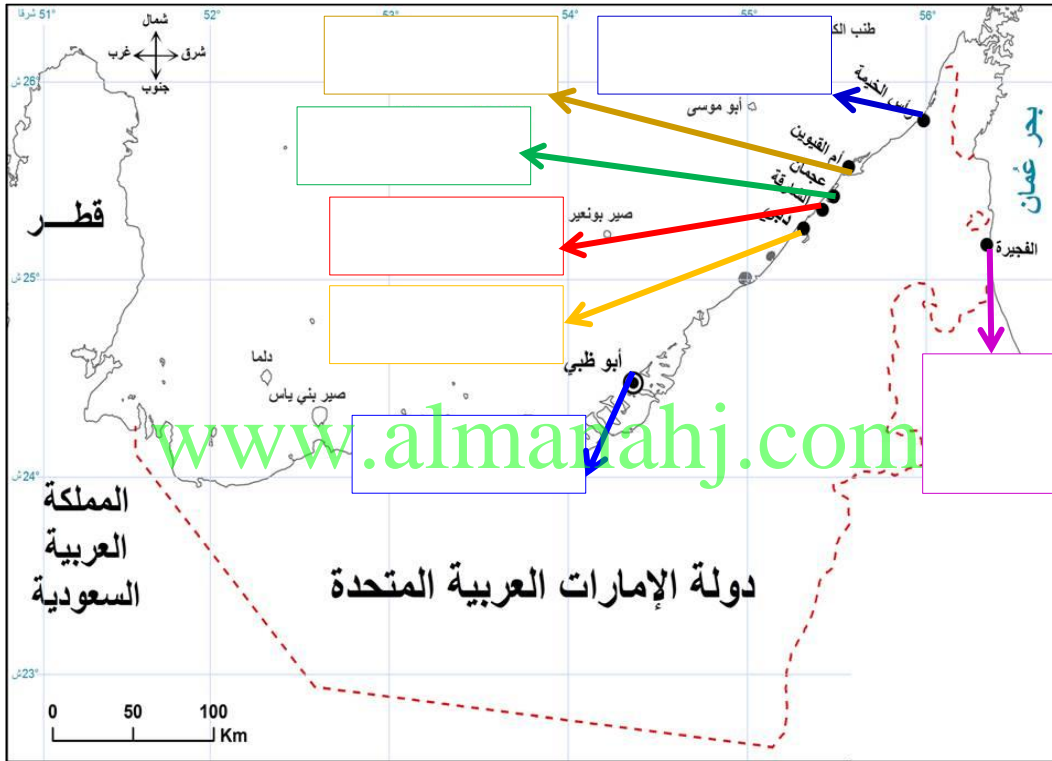
أقارن بين حلف بني ياس والقواسم، وفق مُعطيات الجدول الآتي:

المقارنة	حلف بني ياس	حلف القواسم
الزعامة		
مقرهم		
نوع القوة		

أضَعُ عَلامَةً (✓) داخل المُرَبَّعِ الدَّالِ عَلَى العَبْرَةِ الصَّحِيحَةِ:

- 1- تَرَجِّعُ أَصُولُ سَكَّانِ الإِمَارَاتِ العَرَبِيَّةِ المَتَّحِدَةِ إِلَى قَبَائِلِ عَرَبِيَّةٍ قَحْطَانِيَّةٍ وَعَدْنَانِيَّةٍ. ()
- 2- يَنْتَسِبُ الرِّسُولُ صَلَّى اللهُ عَلَيْهِ وَسَلَّمَ إِلَى قَبِيلَةِ الأَوْسِ وَالخَزْرَجِ. ()
- 3- اسْتَقَرَّتْ قَبِيلَةُ بَنِي يَاسٍ فِي الطَّفْرَةِ وَأَبُوظَبْيٍ. ()
- 4- القَبِيلَةُ مَجْمُوعَةٌ مِنَ النَّاسِ لَا يَنْتَمُونَ إِلَى أَصْلِ وَاحِدٍ مُشْتَرَكٍ. ()

على خريطة دولة الامارات حددي اهم القبائل "



أَكْمَلِ العَبْرَاتِ الآتِيَةَ بِمَا يُنَاسِبُهَا:

- 1- لُقِّبَ الشَّيْخُ زَايِدُ بْنُ خَلِيفَةَ آلِ نَهْيَانَ بِلقَبِ
- 2- حَكَّمَ الشَّيْخُ زَايِدُ الأَوَّلُ إِمَارَةَ أبُوظَبْيٍ وَهُوَ فِي سَنِّ
- 3- أوَّلُ مَنْ نَادَى إِلَى فِكْرَةِ الأِتِّحَادِ بَيْنَ الإِمَارَاتِ هُوَ الشَّيْخُ
- 4- سَبَبُ فَشْلِ فِكْرَةِ الأِتِّحَادِ الَّتِي نَادَى بِهَا الشَّيْخُ زَايِدُ بَرِيطَانِيَا الَّتِي كَانَتْ تَسْتَعْمِرُ سَاحِلَ الإِمَارَاتِ

أَصْنَفُ الكَلِمَاتِ وَالجَمَلِ الآتِيَةَ حَسَبَ مُعْطِيَاتِ الشُّكْلِ.

[الفُرُوسِيَّةُ - بِنَاءُ الأَفْلاجِ - قَلْعَةُ الجَاهِلِيِّ - الشَّجَاعَةُ - الحَنَكَةُ السِّيَاسِيَّةُ - نَشْرُ الأَمْنِ والأَمَانِ]

الصفات	الإنجازات

رتب خطوات بوضع الرقم الصحيح (1 - 2 - 3 - 4)



www.almanahj.com

أكمل التالي :

- 1- أعلن عن قيام دولة الإمارات في
- 2- أول رئيس لدولة الإمارات هو
- 3- أول نائب رئيس لدولة الإمارات هو
- 4- الإمارة التي تنضم الى الاتحاد لحظة إعلانه

الهيكل التنظيمي لحكومة بلادي

الدرس الثالث: ركائز من بلادي :

1- رئيس الدولة و نائب رئيس

2- المجلس الأعلى : يُمثّل السّلطة العُليا ويتكوّن من حُكّام الإمارات

3- مجلس الوزراء : يتكوّن من رئيس مجلس الوزراء ونائبه وعدد من الوزراء

4- المجلس الوطني : يتكوّن من 40 عضواً يمثلون الإمارات السبع

5- القضاء الاتحادي : المحاكم مُختلفة درجاتها و القضاء منفصل لتحقيق العدالة

الدستور: هُوَ مَجْموعَةٌ مِنَ القَوَاعِدِ والقَوَانِينِ تُنظِّمُ الحُكْمَ فِي الدَّوْلَةِ وتُبَيِّنُ حَقُوقَ كُلِّ فَرْدٍ وواجباته.

صنف التالي حسب الجدول :

- 1- يَحْمِي مَمْتَلِكاتِي 2- احترامُ الدَّستور. 3- حَمايَةُ الأَمْوالِ العامَّةِ 4- يُوَفِّرُ الحَقُوقَ الأَساسِيَّةَ
- 5- المُساواةُ أَمامَ القانونِ 6- الدِّفاعُ عَنّ الدَّوْلَةِ.

واجبات	حقوق

- وضح أهمية الدستور ؟

.....

- تخيل دولة بلا قوانين ؟

.....

www.almanahj.com

بطاقة تعريفية :

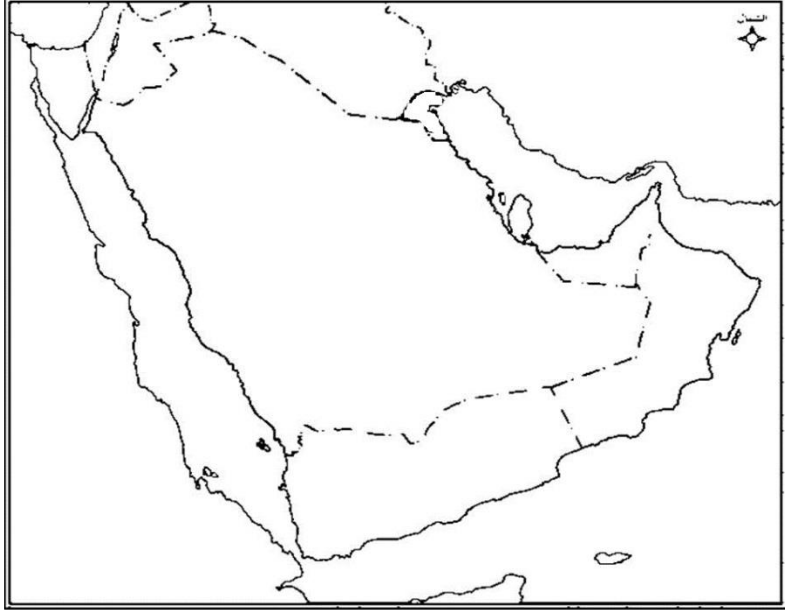
اسم	سالم سهيل
السكن	المنيعة برأس الخيمة
الوظيفة	شرطي
مقر العمل	مركز شرطة طناب الكبرى
تاريخ الاستشهاد	30-نوفمبر-1971
مكان الاستشهاد	جزيرة طناب الكبرى
سبب الاستشهاد	المواجهة مع القوات الإيرانية التي احتلت الجزر الثلاث
سبب احتلال إيران للجزر الثلاث	- موقع الجزر المهم - الاستفادة من الموارد الطبيعية
سبب الاحتفال بيوم الشهيد	تعزير و تقدير لتضحيات الشهداء
ما قدمت الامارات للشهداء	اطلق أسماء الشهداء على الشوارع والمساجد والمدارس .ومشروع [أرشيف الشهداء] وإنشاء متحفاً يخلد بطولات الشهداء يشكّل سجلاً تاريخياً حافلاً بالإنجازات

عاصفة الحزم : حلف بقيادة السعودية و مشاركة الامارات لمساعدة اليمن .

من أسباب مشاركة دولة الإمارات العربية المتحدة في عاصفة الحزم:

- الحرص على أمن الخليج واستقراره. - العمل على عودة الاستقرار لليمن.

على خريطة مجلس التعاون حدد التالي : 1- الامارات 2- السعودية 3- اليمن



السؤال الأول : ضع إشارة أمام العبارة الصحيحة وإشارة أمام العبارة غير الصحيحة:

- 1- تتكون اليابسة على الكرة الأرضية من سبع قارات . ()
- 2- يعرف خط الطول الرئيسي بخط جرينتش ()
- 3- يبلغ مجموع دوائر العرض 360 دائرة عرضية . ()
- 4- تبلغ مساحة دولة الإمارات 83,600 كم ()
- 5- تأسست دولة الإمارات العربية المتحدة في 2 ديسمبر عام 1971 م ()
- 6- يمر مدار الجدي في الجزء الجنوبي من دولة الإمارات العربية المتحدة ()
- 7- أعلى قمة في جبال دولة الإمارات هي قمة جبل حفيت . ()
- 8- تتركز الجبال في دولة الإمارات في المنطقة الشرقية ()
- 9- من الجزر الإماراتية المحتلة جزيرة طنب الكبرى ()
- 10- مناخ دولة الإمارات المناخ الاستوائي ()
- 11- من النباتات المعمرة في دولة الإمارات نبات الغاف ()
- 12- يعد بيت الطين من أشهر البيوت البدوية في دولة الإمارات ()
- 13- أول مدرسة شبه نظامية في دولة الإمارات هي المدرسة التيمية المحمودية ()
- 14- انتشرت حرفة الصيد والغوص على اللؤلؤ على سواحل الإمارات العربية المتحدة قديما ()
- 15- تزعمت قبيلة آل نهيان حلف بني ياس في دولة الإمارات العربية المتحدة . ()
- 16- لقب الشيخ زايد بن خليفة آل نهيان بلقب زايد الثاني ()
- 17- يتكون المجلس الأعلى من حكام الإمارات السبع ()

رتب الهيكل التنظيمي لحكومة دولة الإمارات العربية المتحدة:

- (1- المجلس الأعلى 2- القضاء الاتحادي 3- رئيس الدولة 4- المجلس الوطني
5- نائب رئيس الدولة 6- مجلس الوزراء)

اختر الاجابة الصحيحة :

- 1- الأسرة التي تتكون من ثلاثة أجيال أو أكثر تعرف بالأسرة::
الممتدة النواة الصغيرة الحديثة
- 2- هي الخلية الأساسية في بناء المجتمع:
الأب الأم المجتمع الأسرة
- 3- واحدة من التالي ليست من سمات الأسرة الممتدة:
التعاون والتكافل التمزق الجدرب الأسرة الاستقرار
- 4- لعبت دور أساسي في عملية التنمية هي:
الدولة المرأة الجد الأمة
- 5- يعلم الأطفال القرآن والحديث والحساب قديماً هو:
المعلم الشيخ المطوع العالم
- 6- المكان الذي كان يتعلم به الأطفال في القدم:
المدرسة الكتاب الجامعة الكلية
- 7- بيت يصنع من سعف النخيل يستخدم في فصل الصيف هو:
العريش الطين بيت الشعر
- 8- مكيف الهواء المحلي الذي تغلب به السكان على الطبيعة هو:
البراجيل المهفه المروحه
- 9- تزعم حلف بني ياس قبيلة:
القواسم آل نهيان الشرقي النعيم
- 10- مقر حلف القواسم في إمارة:
دي الشارقة ابوظبي عجمان
- 4- مقر حلف بني ياس في إمارة:
دي الشارقة ابوظبي عجمان
- 5- أول من فكر في العمل الوجدوي هو الشيخ
-زايد الثاني زايد الأول خليفة راشد