

ما كمية العسل التي سيستخدمها عمر في غضون خمسة أيام؟

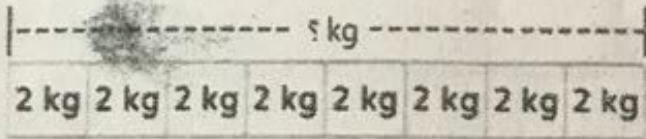
العسل	اليوم
5 mL	الأحد
5 mL	الاثنين
5 mL	الثلاثاء
5 mL	الأربعاء
5 mL	الخميس

24 مليلتراً (C)

35 مليلتراً (A)

11 مليلتراً (D)

25 مليلتراً (B)



تأكل فطنا خديجة كيلوجرامين من الطعام كل شهر. كم من الطعام تأكله الفطتان في 8 أشهر؟

14 كيلوجراماً (C)

4 كيلوجرامات (A)

16 كيلوجراماً (D)

10 كيلوجرامات (B)



أي مما يلي من المرجح أن يكون سعة كوب الكاكاو؟

لتران (C)

10 مليلترات (A)

5 لترات (D)

100 مليلتراً (B)

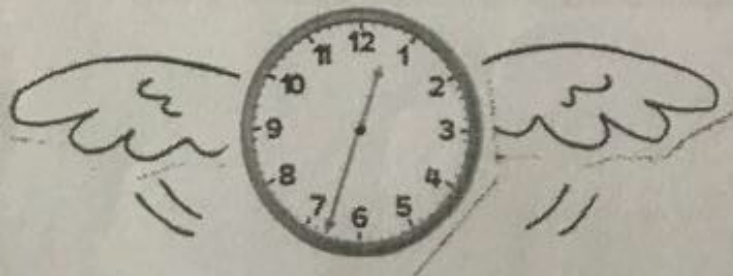
انظر إلى أين يشير عقرب الدقائق. كم دقيقة مرت بعد الساعة؟

35 دقيقة (C)

25 دقيقة (A)

38 دقيقة (D)


33 دقيقة (B)





هيا يا صغيرتي اجيبي عن الاسئلة التالية

اشترى أحمد علبتى عصير. سعة  
علبة العصير الواحدة موصحة.  
ما السعة الإجمالية لعلبتى العصير؟



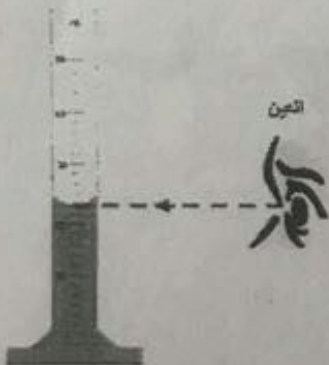
إذا صببت هذا السائل بالتساوى فى ثلاثة  
أوعية. فما كمية السائل التى ستوجد فى  
كل وعاء؟



أوجد السعة الإجمالية للسائل المبين فى  
الأوعية التالية.



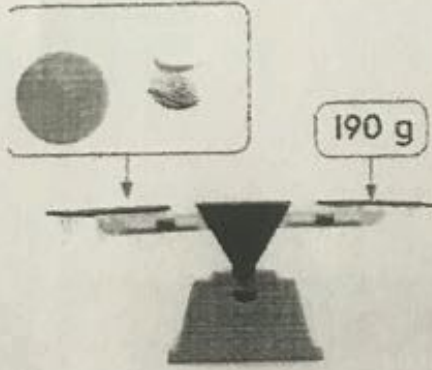
سعة إبريق واحد موصحة. ما السعة  
الإجمالية لإبريقين بالترات؟



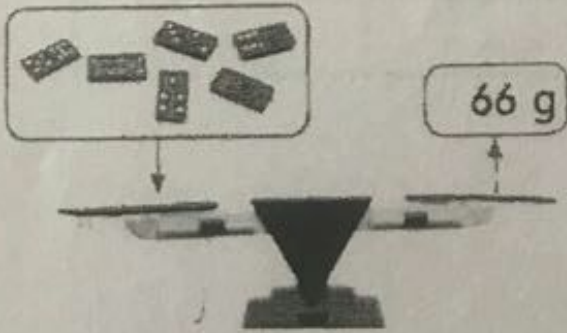
## هيا يا صغيرتي اجيبي عن الاسئلة التالية

يبيع أحد المتاجر في المركز التجاري كعكًا مملحًا مخبوزًا طازجًا. فهل سيكون من المنطقي أكثر قياس كتلة الكعكة المملحة المخبوزة بالجرامات أم بالكيلوجرامات؟

كرة الجولف لها كتلة بمقدار 45 جرامًا.  
ما كتلة كرة البيسبول؟



ما كتلة قطعة واحدة من قطع الدومينو هذه؟






مكتب السيدة نورة



ارجع إلى التمثيل البياني بالأعمدة. كم مشبكًا ورقيًا لدى السيدة نورة أكثر مما لديها من أقلام رصاص وعبوات صمغ مجتمعين؟

- (A) 0 مشابك ورقية (C) 10 مشابك ورقية  
(B) 5 مشابك ورقية (D) 15 مشبكًا ورقيًا

يوضح مفتاح الرسم التصويري أن كل رمز  يساوي 6 أقلام. كم رمزًا يساوي 18 قلمًا؟

- (A) رمزان (C) 4 رموز  
(B) 3 رموز (D) 5 رموز

الأنشطة غير المدرسية

علامات الإحصاء	النشاط
	تدريب على الفنون
//	تدريب كرة القدم
//	نادي القراءة

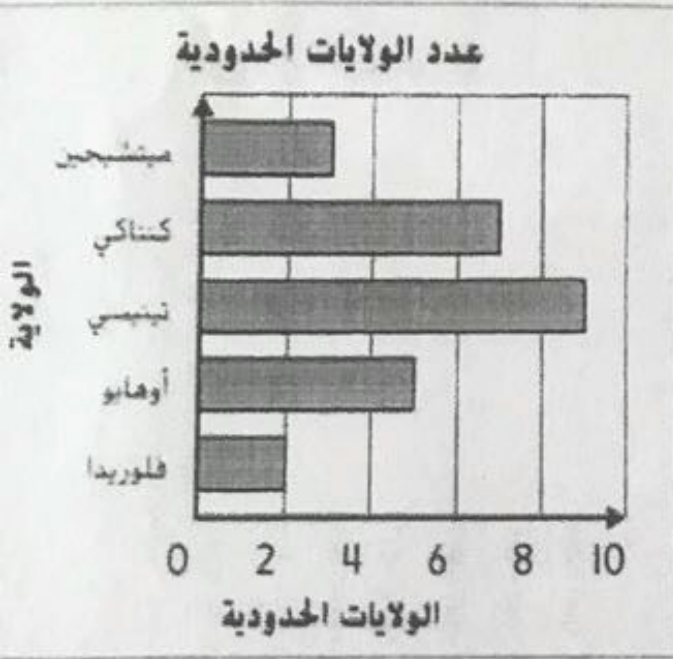
وفقًا لمخطط الإحصاء، كم عدد الطلاب الذين شاركوا في الاستطلاع؟

- (A) 16 طالبًا (C) 18 طالبًا  
(B) 17 طالبًا (D) 19 طالبًا

## استخدم التمثيل البياني

كم ولاية إضافية تحدّ ولاية أوهايو بالإضافة إلى ولاية ميتشيجين؟ اكتب جملة عددية.

كم ولاية إضافية تحدّ تينيسي بالإضافة لأوهايو وفلوريدا مجتمعين؟



اكتب معادلة جمع لتوضيح إجمالي عدد الطلاب الذين خضعوا لاستطلاع الرأي.

كم طالبًا إضافيًا يفضل السفر بالطائرة على السفر بالقطار والسيارة مجتمعين؟

