

الاسم:	
الصف:	


مراجعة لاختبار الرياضيات
(التقويم الأول للفصل الدراسي الثالث)

اخترى الاجابة الصحيحة فيما يلي:




- 1- الوحدة الأفضل لقياس كتلة الشكل التالي هي
 a. الجرام b. الكيلوجرام
 c. اللتر d. الميليلتر

- 2- قيمة الوحدة المترية التي تستخدم للسعات الكبيرة هي :
 a. الجرام b. الكيلوجرام
 c. اللتر d. الميليلتر



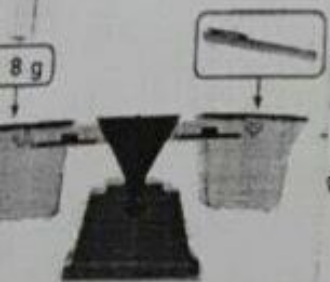
- 3- إذا صببت هذا السائل بالتساوي في وعائين فما قيمة السائل في كل وعاء؟
 a. 40 b. 20 c. 50 d. 30



- 4- ما قيمة السائل التي ستوجد في الوعاء إذا صببت 35 mL فيه؟
 a. 65mL b. 75mL c. 85mL d. 80mL

- 5- الوحدة الأفضل لقياس كتلة التلفاز هي
 a. الجرام b. الكيلوجرام
 c. المتر d. السنتيمتر

- 6- الوحدة الأصغر للكتلة هي
 a. الجرام b. الكيلوجرام
 c. المتر d. السنتيمتر



- 7- يبين الميزان ذو الكفتين كتلة قلم تحديد واحد. ما هي كتلة 4 أقلام تحديد؟

- a. 32 جرام b. 24 جرام c. 30 جرام d. 31 جرام

- 8- 911 جراما - = 238 جراما ، المجهول هو

- a. 670 جرام b. 673 جرام c. 660 جرام d. 663 جرام



تقدير الكتلة و قياسها

ضع دائرة حول الوحدة الأفضل لقياس كل كتلة

ممحاة

جرام كيلوجرام

مكتب المعلم

جرام كيلوجرام

قلم رصاص

جرام كيلوجرام

مسطرة

جرام كيلوجرام

دبوس

جرام كيلوجرام

مجلد

جرام كيلوجرام

ضع دائرة حول أفضل تقدير لكل كتلة مما يلي



6 kg

6 g



3kg

3 g



15,000 kg

15 g

www.almanahj.com

التطبيق

يحتاج حسين إلى المساعدة في نقل مكتبه . فهل تقدير ٥٠ جراما أم تقدير ٥٠ كيلوجراما أكثر منطقية لكتلة المكتب ؟ اشرح

أكمل الجمل التالية بالوحدة المناسبة


قطعة النقد المعدنية فئة ١٠ فلسات لها كتلة تقترب من ١ -----

كرة الطائرة لها كتلة تقترب من ١ -----

Telling time Worksheet

Write the time.

1 a.




1 : 44

1 b.



9 : 44

1 c.



3 : 24

2 a.




6 : 23

2 b.



6 : 48

2 c.



3 : 53

3 a.



_____ : _____

3 b.



_____ : _____

3 c.



_____ : _____

4 a.



_____ : _____

4 b.




_____ : _____

4 c.



_____ : _____

10 - المقص له كتلة بمقدار 55 جراما. ما كتلة الدباسة؟



485 .d

480 .c

385 .b

330 .a



11- الوقت الذي تبينه الساعة التناظرية التالية

11:11 .d

12:11 .c

12:55 .b

11:55 .a

www.almanahj.com

12- إذا كان عقرب الدقائق يشير إلى الرقم 3. وعقرب الساعات يشير إلى الرقم 5 فإن الوقت هو

15 : 3 .d

5 : 15 .c

5:3 .b

3 : 5 .a

13- بدأت فاطمة في ترتيب المنزل الساعة 1:10 مساءً، وانتهت من الترتيب الساعة 3:15 مساءً. كم

من الوقت قضت فاطمة في ترتيب لمنزل؟

.d ساعتان و 5 دقائق

.c ساعتان و 10 دقائق

.b ثلاثة ساعات

.a ساعتان



14- أوجدي الفترة الزمنية لفيلم الكرتون التالي:

.c 4 ساعات و 45 دقيقة

.b 3 ساعات و 45 دقيقة

.a 3 ساعات و 35 دقيقة

Telling time Worksheet

Draw the hands on the clock.

1 a.



10:53

1 b.



4:57

1 c.



10:28

2 a.



7:03

2 b.



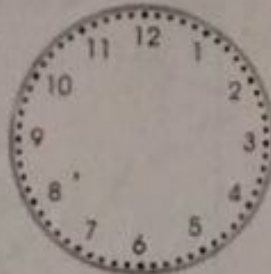
8:38

2 c.



8:22

3 a.



11:13

3 b.



3:58

3 c.



2:03

4 a.



1:04

4 b.



10:51

4 c.



12:55

ما كمية العسل التي سيستخدمها عمر في غضون خمسة أيام؟

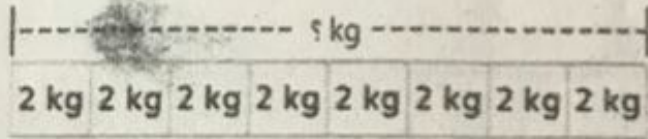
اليوم	العسل
الأحد	5 mL
الاثنين	5 mL
الثلاثاء	5 mL
الأربعاء	5 mL
الخميس	5 mL

Ⓐ 35 مليلترا

Ⓒ 24 مليلترا

Ⓑ 25 مليلترا

Ⓓ 11 مليلترا



تأكل فطنا خديجة كيلوجرامين من الطعام كل شهر. كم من الطعام تأكله الفطتان في 8 أشهر؟

Ⓐ 4 كيلوجرامات

Ⓒ 14 كيلوجراما

Ⓑ 10 كيلوجرامات

Ⓓ 16 كيلوجراما

www.almanahj.com



أي مما يلي من المرجح أن يكون سعة كوب الكاكاو؟

Ⓐ 10 مليلترات

Ⓒ لتران

Ⓑ 100 مليلترا

Ⓓ 5 لترات

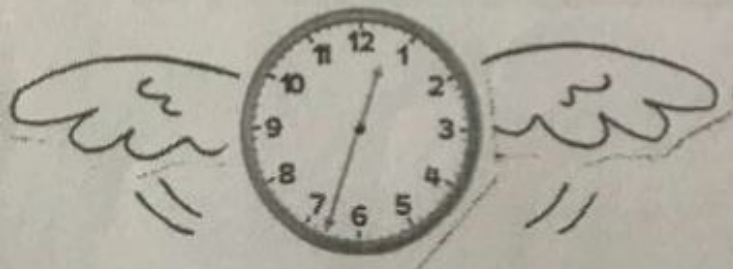
انظر إلى أين يشير عقرب الدقائق. كم دقيقة مرت بعد الساعة؟

Ⓐ 25 دقيقة

Ⓒ 35 دقيقة

Ⓑ 33 دقيقة

Ⓓ 38 دقيقة




هيا يا صغيرتي اجيبي عن الاسئلة التالية



اشترى أحمد علبتي عصير. سعة
علبة العصير الواحدة موصحة.
ما السعة الإجمالية لعلبتي العصير؟

إذا صببت هذا السائل بالتساوي في ثلاثة
أوعية. فما كمية السائل التي ستوجد في
كل وعاء؟




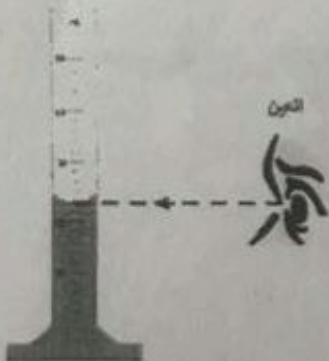
أوجد السعة الإجمالية للسائل المبين في
الأوعية التالية.



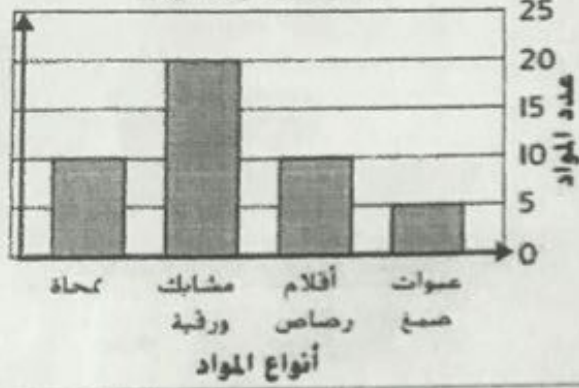
www.almanahj.com



سعة إبريق واحد موصحة. ما السعة
الإجمالية لإبريقين باللترات؟




مكتب السيدة نورة



ارجع إلى التمثيل البياني بالأعمدة. كم مشبكًا ورقيًا لدى السيدة نورة أكثر مما لديها من أقلام رصاص وعبوات صمغ مجتمعين؟

- (A) 0 مشابك ورقية (C) 10 مشابك ورقية
(B) 5 مشابك ورقية (D) 15 مشبكًا ورقيًا

يوضح مفتاح الرسم التصويري أن كل رمز  يساوي 6 أقلام. كم رمزًا يساوي 18 فيلنا؟

- (A) رمزان (C) 4 رموز
(B) 3 رموز (D) 5 رموز

www.almanahj.com

وفقًا لمخطط الإحصاء، كم عدد الطلاب الذين شاركوا في الاستطلاع؟

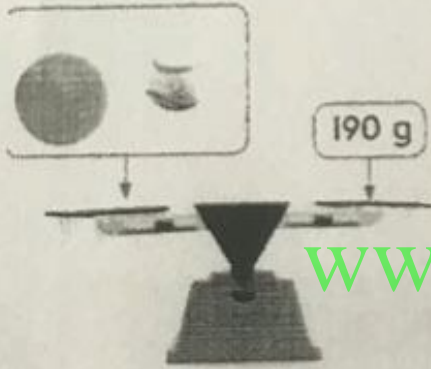
- (A) 16 طالبًا (C) 18 طالبًا
(B) 17 طالبًا (D) 19 طالبًا

الأنشطة غير المدرسية	
علامات الإحصاء	النشاط
	تدريب على الفنون
	تدريب كرة القدم
	نادي القراءه

هيا يا صغيرتي اجيبي عن الاسئلة التالية

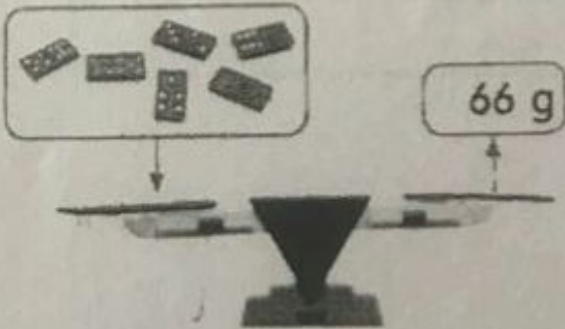
يبيع أحد المتاجر في المركز التجاري كعكًا مملحًا مخبوزًا طازجًا. فهل سيكون من المنطقي أكثر قياس كتلة الكعكة المملحة المخبوزة بالجرامات أم بالكيلوجرامات؟

كرة الجولف لها كتلة بمقدار 45 جرامًا.
ما كتلة كرة البيسبول؟



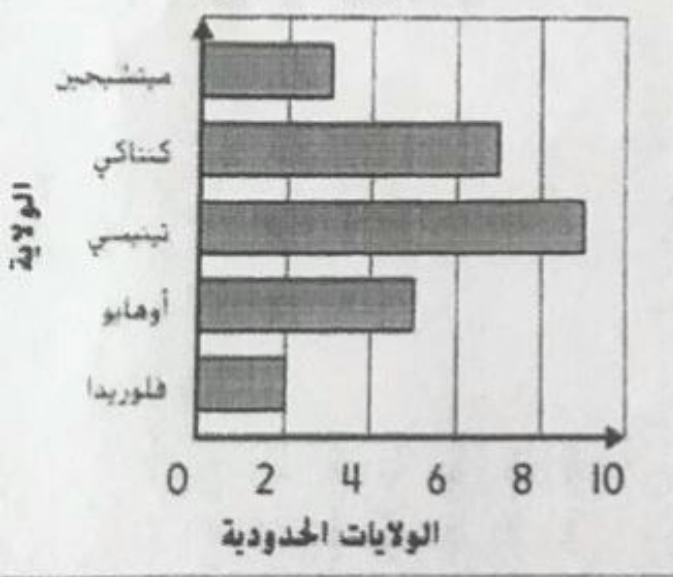
www.almanahj.com

ما كتلة قطعة واحدة من قطع الدومينو هذه؟



استخدم التمثيل البياني

عدد الولايات الحدودية

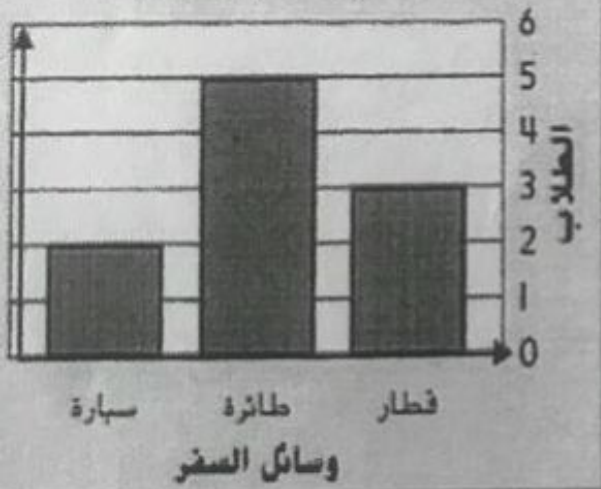


كم ولاية إضافية تحدد ولاية أوهايو بالإضافة إلى ولاية ميتشيجان؟ اكتب جملة عددية.

كم ولاية إضافية تحدد تينيسي بالإضافة لأوهايو وفلوريدا مجتمعين؟

www.almanahj.com

وسائل السفر المفضلة



اكتب معادلة جمع لتوضيح إجمالي عدد الطلاب الذين خضعوا لاستطلاع الرأي.

كم طالبًا إضافيًا يفضل السفر بالطائرة على السفر بالقطار والسيارة مجتمعين؟