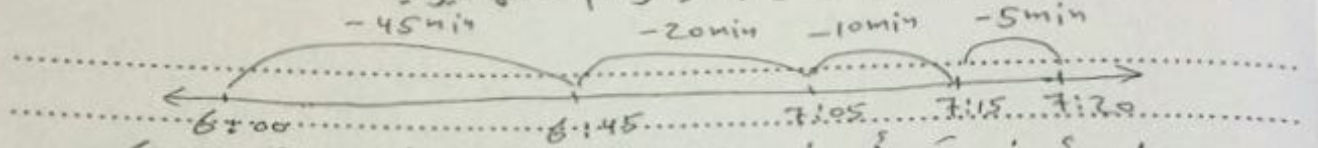


كل ما يحتاجه الطالب في جميع الصفوف من أوراق عمل واختبارات ومذكرات، يجده هنا في الروابط التالية لأفضل مواقع تعليمي إماراتي 100 %

<u>تطبيق المناهج الإماراتية</u>	<u>الاجتماعيات</u>	<u>الرياضيات</u>
<u>الصفحة الرسمية على التلغرام</u>	<u>الاسلامية</u>	<u>العلوم</u>
<u>الصفحة الرسمية على الفيسبوك</u>	<u>الانجليزية</u>	
<u>التربية الاخلاقية لجميع الصفوف</u>	<u>اللغة العربية</u>	
<u>التربية الرياضية</u>		
مجموعات التلغرام.	مجموعات الفيسبوك	قنوات تلغرام
<u>الصف الأول</u>	<u>الصف الأول</u>	<u>الصف الأول</u>
<u>الصف الثاني</u>	<u>الصف الثاني</u>	<u>الصف الثاني</u>
<u>الصف الثالث</u>	<u>الصف الثالث</u>	<u>الصف الثالث</u>
<u>الصف الرابع</u>	<u>الصف الرابع</u>	<u>الصف الرابع</u>
<u>الصف الخامس</u>	<u>الصف الخامس</u>	<u>الصف الخامس</u>
<u>الصف السادس</u>	<u>الصف السادس</u>	<u>الصف السادس</u>
<u>الصف السابع</u>	<u>الصف السابع</u>	<u>الصف السابع</u>
<u>الصف الثامن</u>	<u>الصف الثامن</u>	<u>الصف الثامن</u>
<u>الصف التاسع عام</u>	<u>الصف التاسع عام</u>	<u>الصف التاسع عام</u>
<u>الصف التاسع متقدم</u>	<u>الصف التاسع متقدم</u>	<u>الصف التاسع متقدم</u>
<u>الصف العاشر عام</u>	<u>الصف العاشر عام</u>	<u>الصف العاشر عام</u>
<u>الصف العاشر متقدم</u>	<u>الصف العاشر متقدم</u>	<u>الصف العاشر متقدم</u>
<u>الحادي عشر عام</u>	<u>الحادي عشر عام</u>	<u>الحادي عشر عام</u>
<u>الحادي عشر متقدم</u>	<u>الحادي عشر متقدم</u>	<u>الحادي عشر متقدم</u>
<u>ثاني عشر عام</u>	<u>الثاني عشر عام</u>	<u>الثاني عشر عام</u>
<u>ثاني عشر متقدم</u>	<u>ثاني عشر متقدم</u>	<u>ثاني عشر متقدم</u>

1) ستغادر رهام منزلها الساعة 7: 20 مساءً . وهي ترغب في أن تستعد قبل هذا بمقدار 5 دقائق . وتحتاج إلى 10 دقائق لتجهيز حقيبتها وإلى 20 دقيقة لتناول الطعام وإلى 45 دقيقة لتنهي أعمالها المنزلية . ما آخر وقت يمكن أن تبدأ فيه رهام أعمالها اليومية



بجانباً من تبيأ عين الساعة الساعة 6:55
الساعة 6:55 ماء + 80 دقيقة = 7:20 ماء

2) ملأت منال دلوأ بالمياه . استخدمت 3 لترات منها للشطف . واستخدمت لترين لملء حوض الطيور . ولا يزال هناك 3 لترات متبقية في الدلو . كم من المياه كان معها في البداية ؟

- (1) 6 لترات
- (2) 4 لترات
- (3) 8 لترات
- (4) 18 لتراً

3) تبقى مع عصام 3 كيلو جرام من الموز وبناع 8 كيلو جرام في السوق . وأعطى نصف هذه الكمية لجيرانه . كم من الموز كان معه في البداية ؟

- (1) 15 كيلو جرام
- (2) 11 كيلو جرام
- (3) 5 كيلو جرام
- (4) 24 كيلو جرام

4) أنهى علي واجباته المنزلية الساعة 5 : 40 مساءً . وكان قد درس لمدة 4 ساعات و 20 دقيقة . في أي وقت بدأ علي دراسته ؟

- (1) 10 صباحاً
- (2) 10 مساءً
- (3) 1 : 20 مساءً
- (4) 1 : 40 مساءً

1 (يستغرق حمد 50 دقيقة لإتمام التسوق . فإذا بدأ الساعة 12 : 2 مساءً . ففي أي وقت ينتهي

(1) 2 : 42 مساءً (2) 3 : 02 مساءً (3) 2 : 52 مساءً (4) 3 : 07 مساءً

2 (استغرق حسن ساعتين و 17 دقيقة لكتابة تقريره . وبدأ الكتابة الساعة 3 : 30 مساءً . في أي وقت أنهى تقريره ؟

$$\begin{array}{r} 2:17 \\ + 3:30 \\ \hline 5:47 \end{array}$$

الوقت الذي أنهى فيه التقرير

5:47

3 (بدأت تمام عملها الساعة 8 : 25 صباحاً . وأخذت استراحة الساعة 10 : 11 صباحاً . كم دقيقة عملت تمام قبل أخذ استراحة ؟

$$\begin{array}{r} 10:11 \\ - 8:25 \\ \hline 1:46 \end{array}$$

الوقت الذي عملت تمام فيه

1:46

4 (أوجد الفترة الزمنية

وقت الانتهاء (صباحاً)

وقت البدء (صباحاً)

alManahj.com/ae

ساعة ركوب دراجة... 11:15 دقيقة



5 (اكتب الوقت . ثم ارسم العقربين على الساعة لتبين الفترة الزمنية

..... الساعة : مساءً



قبل 20 دقيقة



بعد 35 دقيقة


1) اكتب الوقت المبين على كل ساعة رقمية أو تناظرية بالأعداد والكلمات .



الساعة الثانية عشر وثلاثون دقيقة
.....12:36.....



الساعة العاشرة وعشر دقائق
.....10:10.....



التاسع وعشرون دقيقة
.....9:25.....



الساعة الواحدة والربع
.....1:15.....




الساعة الثامنة وخمسة دقائق
.....8:55.....



الساعة العاشرة وخمسة وعشرون دقيقة
.....10:58.....

2) ارسم عقارب الساعة لتبين الوقت



8 : 50



السابعة الإربع



3 : 30

3) صل كل كلمة أو مجموعة كلمات بمعناها

- | | |
|------------------------------------|----------------------|
| 60 ثانية | (1) الساعة التناظرية |
| ساعة تبين الوقت بالأرقام ونقطتين | (2) الساعة الرقمية |
| 60 دقيقة | (3) الدقيقة |
| ساعة تبين الوقت بعقري دقائق وساعات | (4) الساعة |



150 g



135 g

- (1) اكتب معادلة بها حرف يمثل المجهول . ثم حلها
(1) ما الكتلة الإجمالية لثمرتي الفاكهة .

$$150 \text{ g} + 135 \text{ g} = f$$

المجهول هو 285 g
الكتلة الإجمالية هي 285 g

- (2) ما كتلة كتابين



320 g



$$320 + 320 = w$$

المجهول هو 640 g
كتلة كتابين هي 640 g

- (3) ما كتلة 5 أزرار



6 g



$$6 + 6 + 6 + 6 + 6 = m$$

المجهول هو 30 g
كتلة 5 أزرار هي 30 g

alManahj.com/ae

- (4) اوجد كل مجهول .

(1) 5 كيلو جرامات $\times 8 = 40$ كيلو جرام . المجهول هو 5.....

(2) 250 جراماً + 121 جراماً = 371 جراماً . المجهول هو 121.....g

(3) 600 جراماً - 200 جراماً = 400 جراماً . المجهول هو 200.....g

(4) 56 كيلو جراماً \div 7 كيلو جراماً = 8 كيلو جرام . المجهول هو 7.....g

(5) طالب كتلته 46 كيلو جراماً وطالب آخر كتلته 57 كيلو جراماً . فما الفرق بالكتلة بينهما ؟

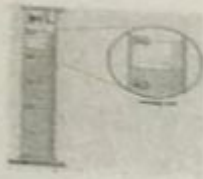
(1) 103 كيلو جرام (2) 11 كيلو جرام (3) 1 كيلو جرام (4) غير ذلك

(6) تأكل بطة ساري 2 كيلو جرام أسبوعياً . كم من الطعام تأكل في شهر ؟ الشهر 4 أسابيع

(1) 8 كيلو جرام (2) 10 كيلو جرام (3) 6 كيلو جرام (4) غير ذلك

(7) يسع كل كيس 3 كيلو جرام من الفاكهة . إذا كان يوجد 18 كيلو جرام . فكم كيس ستحتاج لتوزيعها بالتساوي ؟

(1) 21 كيس (2) 15 كيس (3) 54 كيس (4) 6 أكياس



1 (ما كمية السائل التي ستوجد في الوعاء إذا صببت 35 مليلتر فيه

$$42 \text{ ml} + 35 \text{ ml} = 77 \text{ ml}$$

الكمية الى 77 ml

2 (ضع دائرة حول الوحدة الأفضل لقياس كل كتلة

3 (نظارة شمسية

2 (حاسوب

1 (فرشاة أسنان

جرام - كيلو جرام

جرام - كيلو جرام

جرام - كيلو جرام

3 (ضع دائرة حول أفضل تقدير



5 Kg - 5 g



30 Kg - 30 g



15 Kg - 15 g

alManahj.com/ae



900 Kg - 900 g



5 Kg - 5 g



15 Kg - 15 g

4 (يرغب حسن في قياس كتلة قطة . فهل من المنطقي أن يقيس كتلة القطة بالجرام أم بالكيلو جرام ؟

بالكيلو جرام لأن الجرام وحدة صغيرة نسبياً
بالنسبة لكتلة القطة

5 (كمية المادة في جسم ما هي الكتلة

تطلب من مكتبة النجاح
ت: 07-2332322

1 (كل واحد لتر يساوي 1.000 مليلتر

2 (ضع دائرة حول الوحدة الأفضل لقياس كل سعة

4 (حوض سمك

3 (مسبح

2 (قارورة عصير

1 (إناء حساء

مليلتر - لتر

مليلتر - لتر

مليلتر - لتر

مليلتر - لتر

3 (ضع دائرة حول أفضل تقدير



3 mL - 3 L



10 L - 10 mL



4 mL - 4 L

4 (تحتاج وصفة لميس إلى 100 مليلتر من الحليب . وليس لديها إلا كوب قياس سعته 10 مليلتر . كم مرة ستحتاج إلى ملء كوب القياس لتحصل على كمية الحليب الصحيحة لوصفتها ؟

10 (4 مرة

alManahj.com/ae

5 (3 مرة

2 (2 مرة

1 (1 مرة

5 (غسل احمد سيارته . ملأ دلوين من الماء بصابون ودلوين من الماء النظيفة . سعة كل دلو هي 9 لترات .

ما السعة الإجمالية للدلاء الأربعة ؟

$$2 + 2 = 4$$

السعة الإجمالية

$$4 \times 9 = 36$$

36 لتر

هي

6 (السعة الإجمالية لعدد 6 أباريق هي 18 لتراً . ما سعة كل أباريق إذا كان بكل منها الكمية نفسها ؟

$$18 \div 6 = 3$$

سعة كل أباريق هي 3 لتر

7 (يسع حوض سمك إلى 81 لتراً من الماء . ودلوه يسع 9 لترات . كم دلو مياه يلزم لملء حوض السمك ؟

18 (4 دلو

729 (3 دلو

9 (2 دلو

81 (1 دلو