



الصف : الثاني

المادة : الرياضيات  
عدد صفحات الأسئلة : ( 5 )امتحان نهاية الفصل الدراسي الثالث  
للعام الدراسي 2017 / 2018 م

100

ضع دائرة حول رمز الإجابة الصحيحة فيما يأتي :



(1) ما الوقت الظاهر في الساعة ؟

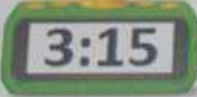
a) 4:30

b) 5:30

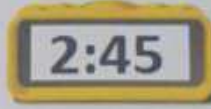
c) 4:15

(2) حدد الساعة التي تشير إلى الوقت 3 إلا ربع .


a)



b)



c)

[alManahj.com/ae](http://alManahj.com/ae)

(3) حدد وقت تناول عفاف لوجبة العشاء .

a) 6:40 PM

b) 6:40 AM

c) 9:15 AM



(4) ذهب محمد إلى الشاطئ مع عائلته لمدة 3 أسابيع.

كم عدد الأيام التي قضاها محمد على الشاطئ ؟

a) 14

b) 28

c) 21

5) ما الوحدة الأفضل لقياس وقت الذهاب إلى المتجر ؟

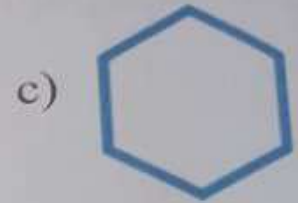


a) ساعات

b) أشهر

c) أسابيع

6) أي من الأشكال التالية عبارة عن خماسي الأضلاع ؟



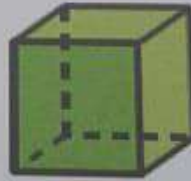
alManahj.com/ae

رأى خالد إشارة أثناء سيره في المتجر. لم يكن للإشارة أي أضلاع أو زوايا.  
ما شكل الإشارة؟

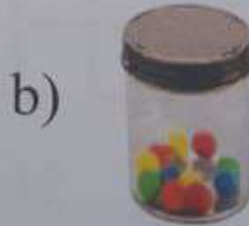
a) مستطيل

b) مثلث

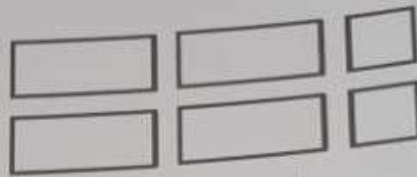
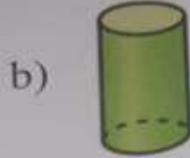
c) دائرة



7) حدد الجسم الذي له نفس شكل



9) أنا شكلٌ ثلاثي الأبعاد . لدي 5 وجوه و 8 أضلاع و 5 رؤوس . فأي شكلٍ أنا؟



10) حدد الشكل الذي تكوّنه الأوجه



alManahj.com/ae




ف الأجزاء المتساوية في الشكل

a) أثلاث

b) نصفان

c) أرباع



المربعات التي تكون المستطيل

a) 9

b) 12

c) 1

تابع امتحان نهاية الفصل الدراسي الثالث لمادة الرياضيات للصف الثاني للعام الدراسي 2017/2018م

(13) ركض راشد سباق الـ 100 متر ثلاث مرات . كم عدد الأمتار التي ركضها إجمالاً ؟

- a) 200                      b) 100                      c) 300

(14) 55 سنتيمتراً + 45 سنتيمتراً =

- a) 110 سنتيمتر                      b) 1 متر                      c) 90 سنتيمتر

(15) كم يبلغ طول قلم التلوين بالسنتيمترات ؟



- a) 9                      b) 84                      c) 10

يبلغ طول معظم قطع الحلوى في التمثيل البياني بالنقاط المجمعة أدناه ؟



- a) 2                      b) 3                      c) 4

17) أي الأشكال يفضل استخدام الكوب لقياس حجم السائل فيه ؟



18) حدد العلاقة بين الكوب و اللتر .

- a) الكوب > اللتر      b) الكوب = اللتر      c) الكوب < اللتر

19) كم عدد العملات من فئة 25 فلساً التي تحتاجها لشراء العنصر أدناه ؟

[alManahj.com/ae](http://alManahj.com/ae)



- a) 2      b) 3      c) 4

20) دي لها 2 عملة من فئة 25 فلساً و 4 عملات من فئة 10 فلسات، تريد شراء 1 كيس من البسكويت المملح مقابل 1 درهم . تحتاج من مال إضافي؟



- a) 35 فلساً      b) 20 فلساً      c) 10 فلساً

انتهت الأسئلة  
بالتوفيق والنجاح