

كل ما يحتاجه الطالب في جميع الصفوف من أوراق عمل واختبارات ومذكرات، يجده هنا في الروابط التالية لأفضل مواقع تعليمي إماراتي 100 %

<u>تطبيق المناهج الإماراتية</u>	<u>الاجتماعيات</u>	<u>الرياضيات</u>
<u>الصفحة الرسمية على التلغرام</u>	<u>الاسلامية</u>	<u>العلوم</u>
<u>الصفحة الرسمية على الفيسبوك</u>	<u>الانجليزية</u>	
<u>التربية الاخلاقية لجميع الصفوف</u>	<u>اللغة العربية</u>	
<u>التربية الرياضية</u>		
مجموعات التلغرام.	مجموعات الفيسبوك	قنوات تلغرام
<u>الصف الأول</u>	<u>الصف الأول</u>	<u>الصف الأول</u>
<u>الصف الثاني</u>	<u>الصف الثاني</u>	<u>الصف الثاني</u>
<u>الصف الثالث</u>	<u>الصف الثالث</u>	<u>الصف الثالث</u>
<u>الصف الرابع</u>	<u>الصف الرابع</u>	<u>الصف الرابع</u>
<u>الصف الخامس</u>	<u>الصف الخامس</u>	<u>الصف الخامس</u>
<u>الصف السادس</u>	<u>الصف السادس</u>	<u>الصف السادس</u>
<u>الصف السابع</u>	<u>الصف السابع</u>	<u>الصف السابع</u>
<u>الصف الثامن</u>	<u>الصف الثامن</u>	<u>الصف الثامن</u>
<u>الصف التاسع عام</u>	<u>الصف التاسع عام</u>	<u>الصف التاسع عام</u>
<u>الصف التاسع متقدم</u>	<u>الصف التاسع متقدم</u>	<u>الصف التاسع متقدم</u>
<u>الصف العاشر عام</u>	<u>الصف العاشر عام</u>	<u>الصف العاشر عام</u>
<u>الصف العاشر متقدم</u>	<u>الصف العاشر متقدم</u>	<u>الصف العاشر متقدم</u>
<u>الحادي عشر عام</u>	<u>الحادي عشر عام</u>	<u>الحادي عشر عام</u>
<u>الحادي عشر متقدم</u>	<u>الحادي عشر متقدم</u>	<u>الحادي عشر متقدم</u>
<u>ثاني عشر عام</u>	<u>الثاني عشر عام</u>	<u>الثاني عشر عام</u>
<u>ثاني عشر متقدم</u>	<u>الثاني عشر متقدم</u>	<u>الثاني عشر متقدم</u>

الاسم

الوقت بالساعة

الدرس 1

السؤال الأساسي

كيف نستخدم الوقت وأمره؟

الاستكشاف والشرح

أنا سعيدة جداً بالذهاب إلى المدرسة؟

أليس أليس سيكون قد تأخرنا.

الساعة 4

توجيهات المعلم: كتب الأعداد الناقصة على الساعة.
استخدم 🕒 لتوضيح الوقت لكل ساعة. ارسد عقيرين على الساعة لتوضح الساعة 4.
كتب الوقت.

الوحدة 9 الوقت

553-55

ممارسات في الرياضيات

الملاحظة والحساب

توضح الساعة الرقمية الساعة والدقائق على شاشة.



الساعة 3
الدقيقة

في الساعة التناظرية، يشير عقرب الساعات إلى الساعة وهو الأقصر.

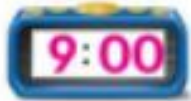
يشير عقرب الدقائق إلى الدقيقة وهو الأطول.



alManahj.com/ae

استخدم 🕒، اذكر الوقت الظاهر أمامك. اكتب الوقت.

1.




9 الساعة

2.



11 الساعة

3.



6 الساعة

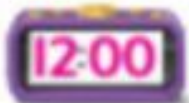
ما أوجه التشابه بين الساعة التناظرية وخط الأعداد؟

حديث في الرياضيات

الاسم _____

أعتمد على نفسي

استخدم ⌚. اذكر الوقت الظاهر أمامك. اكتب الوقت.



12 الساعة




8 الساعة



1 الساعة

ارسم الساعة على الساعة. اكتب الوقت.



ممارسات في الرياضيات

حل المسائل

وضّح الوقت على كل ساعة.

10. يصل مازن إلى المنزل في الساعة 3. ويصل يوسف إلى المنزل بعد ساعة واحدة. فما الوقت الذي يصل فيه يوسف إلى المنزل؟

11. يبدأ تمرين كرة السلة في الساعة 4:00. يأكل محمود وجبة خفيفة قبل ساعتين من التمرين. فما الوقت الذي يأكل فيه محمود الوجبة الخفيفة؟

alManahj.com/ae

12. إنها بعد الساعة 7 وقبل الساعة 9. فما الوقت إذا كان موجودًا تمامًا على الساعة؟ وضّح الوقت الظاهر على وجه الساعة التناظرية.

ما الوقت عندما يكون عقرب الساعات على 5 وعقرب الدقائق على 12؟ كيف علمت ذلك؟

الكتابة في الرياضيات

الإجابة النموذجية: الساعة 5؛ يخرّبنا عقرب الساعات بالساعة وعندما يكون عقرب الدقائق على 12، فإنها تكون الساعة بالضبط.

الدرس 1
الوقت بالساعة

واجباتي المنزلية

مساعد الواجب المنزلي

يمكنك معرفة وكتابة الوقت بالساعة.



إنها الساعة 5 أو 5:00.

alManahj.com/ae

تمرين


اذكر الوقت الظاهر أمامك. اكتب الوقت.



8 الساعة



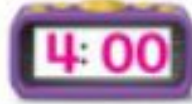
1 الساعة



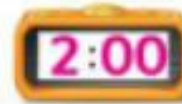
7 الساعة

ارسم العقارب في كل ساعة. ثم اكتب الوقت.

4.00 .5



4. الساعة 2



6. الوقت على ساعة خالد هو 3 ساعات بعد 2:00. اكتب الوقت الموجود على ساعتك.

الساعة
الرقمية

alMarahj.com/ae

مراجعة المفردات

أكمل كلاً من العبارات التالية.

عقرب الساعات الساعة التناظرية عقرب الدقائق الساعة الرقمية

7. تمتلك الساعة التناظرية عقرباً للساعات وعقرباً للدقائق.
8. يشير عقرب الساعات إلى الساعة على الساعة التناظرية.
9. تستخدم الساعة الرقمية الأرقام على الشاشة لإظهار الوقت.
10. يشير عقرب الدقائق إلى الدقيقة على الساعة التناظرية.

الرياضيات في المنزل طوال اليوم الطيب من طهلك تنظر إلى ساعة تناظرية أو رقمية موضعها الوقت بالساعة وأخبرك منهم إخبارك بالوقت.



الدرس 1 الوقت بالساعة

الوقت بالنصف ساعة

التمرين 2
سؤال أساسي
كيف نستخدم الوقت بأفضل؟

الاستكشاف والشرح

راجع عمل الطلاب.



alManahj.com/ae

معلومات الاتصال: 559-560
موقعنا: شارع الشيخ زايد، دبي، الإمارات العربية المتحدة

559-560 الوحدة 9 الوقت

ممارسات في الرياضيات

إرشاد مفيد

يتحرك عقرب الساعات منتصف الساعة إلى العدد التالي عندما يمر نصف ساعة.

الملاحظة والحساب

يمكنك معرفة الوقت بالنصف ساعة. نصف ساعة يساوي 30 دقيقة. بين الساعتين أن الساعة **2 ونصف**.



الساعة 2:30



يشير عقرب الساعة ما بين 2 و 3، بينما يشير عقرب الدقائق إلى 6.

استخدم [Icon] في الوقت الظاهر املأ كتب الوقت

<p>1.</p>   <p>9</p> <p>ونصف _____</p>	<p>2.</p>   <p>1</p> <p>ونصف _____</p>	<p>3.</p>   <p>6</p> <p>ونصف _____</p>
---	---	---

حديث في الرياضيات الساعة 8 ونصف. بين معنى نصف ساعة.

الاسم _____

أعتد على نفسي

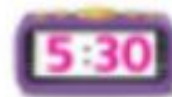
استخدم 🕒. اذكر الوقت الظاهر أمامك. واكتب.

4.



10 ونصف

5.



5 ونصف


6.



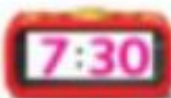
11 ونصف

www.alManahj.com/ae

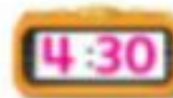
9. 6 ونصف



8. 7 ونصف



7. 4 ونصف



www.alManahj.com/ae

مبنى المنهج والكتاب © مؤسسة المنهج للتعليم الإلكتروني

ممارسات في الرياضيات



حل المسائل



10. يستيقظ علي الساعة 7 ونصف. وينبغي أن يغادر إلى المدرسة بعدها بساعة، بين الوقت حين ينبغي أن يغادر علي إلى المدرسة والكتبه.

استخدم الساعات الموضحة.



بدء اليوم الدراسي تدريب كرة القدم ينطلق المنبه

ماذا يحدث عند كل وقت من تلك الأوقات؟

المنبه ينطلق

6:30

تدريب كرة القدم

3:30

بدء اليوم الدراسي

8:30

كيف تختلف قراءة الساعة الرقمية عن قراءة الساعة التناظرية؟ اشرح.

الكتابة في الرياضيات

الإجابة النموذجية: عندما نقرأ ساعة تناظرية، يجب أن ننظر إلى

عقرب الساعات وعقرب الدقائق لتحديد الوقت. وعندما تستخدم

الساعة الرقمية، ننظر فقط إلى الأرقام على الشاشة.

الدرس 2 الوقت بالنصف ساعة

الدرس 2
الوقت بالنصف ساعة

واجباتي المنزلية

مساعد الواجب المنزلي

يمكنك معرفة وكتابة الوقت بالنصف ساعة.

عقرب الساعات



عقرب الدقائق
الساعة 3 ونصف أو 3:30


alManahj.com/ae

تمرين

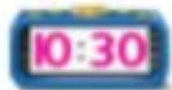
اذكر الوقت الظاهر أمامك، واكتبه.



وتنصف 10



وتنصف 5



وتنصف 9

ارسم العقارب في كل ساعة. اكتب الوقت.

4. الواحدة ونصف

5. ١١ ونصف

6. ستذهب أماني إلى المدينة مع عائلتها. وسيفادرون بعد رجوعها من المدرسة بساعة. تعود أماني من المدرسة في الساعة 3:30. فكم ستكون الساعة عندما يفادرون؟

7.

مراجعة المفردات

بين الوقت بعد مرور نصف ساعة باستخدام الساعة الثانية.

الرياضيات في المنزل من لفطك الوقت بالساعة وانظف مع أن يشارك مجموعتك الساعة بعد مرور نصف ساعة من ذلك الوقت أو بعد أن تمر نصف ساعة.

الاسم _____

حل المسائل:
الإسراع الجيد إيماناً بـ

الفرص 3
الوقت المناسب
لقد اتفقت هذه المسألة



قلير كيب
الجميع!

تعتبر الحافلات بانتظار كل نصف ساعة
تعتبر الحافلة رقم 1 في الساعة 9:30
وتعتبر الحافلة رقم 2 في الساعة 10:00
في وقت مغادرة الحافلات رقم 3 و 4

1 الفهم شو خطاً تحت ما تعرفه.
و (توسط) حول ما عليك إيماناً.

2 التخطيط كيف سأحل المسألة؟

3 الحل إيماناً بـ
10:30 11:00
 9:30 . 10:00 .
 الحافلة 1 الحافلة 2 الحافلة 3 الحافلة 4

4 التحقق هل إجابتي صحيحة؟

565-566 الوحدة 9 الوقت



تمرين على الإستراتيجية

يحصل كل صف دراسي على استراحة مدتها 30 دقيقة بالتوالي. كل الصف الأول يحصل على الاستراحة في الساعة 1:00. متى يحصل الصف الرابع على الاستراحة؟

1 **الفهم** ضع خطاً تحت ما تعرفه. و **خوذة** حول ما عليك إيجاد.

2 **التخطيط** كيف سأمثل المسألة؟

3 **الحل** سأقوم بـ...
إيجاد نمط.

1:00	1:30	2:00	2:30
الصف 1	الصف 2	الصف 3	الصف 4

بدأ الصف الرابع في الساعة 2:30.

4 **التحقق** هل إجابتي صحيحة؟ الشرح.
راجع لتفسيرات الطلاب.





4_5791974...




ممارسات في
الرياضيات

الاسم _____

تطبيق الإستراتيجية

أوجد نمطاً للحل. استخدم المساحة المتوفرة.

1. يغير طلاب المعلمة من الأنشطة كل ساعة في الصباح. فتبدأ القراءة في الساعة 8:30. ثم يقومون بثلاثة أنشطة أخرى. فمتى يبدأ كل نشاط منها؟

8:30, 9:30, 10:30, 11:30

alManahj.com/ae

2. يبدأ الطلاب العمل في أنشطة التعليم في الساعة 10:30. ويحصلون على الاستراحة بعد ذلك بساعتين. فما وقت بدء استراحة الطلاب؟

12:30

3. يغير طلاب المعلمة من الأنشطة كل ساعة بعد الظهر. فتبدأ الرياضيات في الساعة 1:00. وتبدأ الكتابة بعد الرياضيات. ما وقت بدء الكتابة؟

1:30

اختيار إستراتيجية

- إيجاد شرط.
- تشكيلها بنفسك.
- رسم صورة.

مراجعة الإستراتيجيات

4. تمتلك سهى 8 أزواج من الأحذية. وتضع عدداً متساوياً من الأحذية في حقيبتين، فكم حذاء ستضع في كل حقيبة؟



4

أحذية

5. تتكلف البطاقة البريدية 45 فلساً. يريد ماجد شراء بطاقتين بريديتين. وكان معه عملتان فئة ربع درهم، وعملتان فئة عشرة فلسات، و 3 عملات فئة 5 فلسات فكم تكلفه المال؟

85 فلساً

وكم عدد الفلسات التي يحتاجها لشترى البطاقتين البريديتين؟

5

فلسات

6. يصل قطار مترو الأنفاق إلى المحطة على رأس الساعة وعند منتصفها. والساعة الآن 4:30. أسرة هنا في طريقها للمحطة ولكنها ستستغرق ساعة. ما أبكر وقت يمكن للأسرة هنا فيه ركوب قطار مترو الأنفاق؟

5:30

الدرس 3 حل المسائل

الدرس 3

حل المسائل، إيجاد نمط

واجباتي المنزلية



ستزور عائلة هدى صديقتها وسيستغرق الأمر منهم أربع ساعات للوصول إلى هناك. سيقدرون في الساعة 10:30. فما الوقت الذي يصلون فيه إلى منزل الجدة؟

1 الفهم ضع خطًا تحت ما تعرفه. وحوط حول ما عليك إيجاده.

2 التخطيط كيف ستحل المسألة؟

3 الحل إيجاه بخط.

10:30 11:30 12:30 1:30 2:30

ساعة واحدة ساعة واحدة ساعة واحدة ساعة واحدة ساعة واحدة سيصلون في الساعة 2:30.

4 التحقق هل إجابتي صحيحة؟

حل المسائل



ضع خطأ تحت ما تعرفه. و حوِّط حول ما عليك إيجاده. أوجد نمطًا للحل.

1. هناك طائرة واحدة تغادر من المدينة إلى منتجع التزلج كل ساعة. تغادر الطائرة الأولى في الساعة 10:00. تغادر الطائرة الأخيرة في الساعة 4:00 كم عدد الطائرات التي تطير إلى المنتجع كل يوم؟



2. وصل صف السيد سالم إلى حديقة الحيوان في الساعة 9:30. وقابلوا حارس الحديقة بعد 30 دقيقة. وبعد 30 دقيقة طيور. أيا طيور الخطرين ما الخطب التي تهاجمه طيور الخطرين؟

alManahj.com/ae

10:30

3. تريد عائلة منصور أخذ جولة في حافلة سياحية. وتغادر هذه الحافلة محطة الحافلات كل نصف ساعة. الساعة 1:00. الآن وقد فاتتهم الحافلة للتو. فما أوقات وصول الحافلتين القادمتين؟

1:30 2:00



ارسم العقارب في كل ساعة. اكتب الوقت.

9. 8 ونصف



10. الساعة 11



11. الواحدة ونصف



اكتب الوقت.

13.



1 الساعة

12.



ونصف 7

14. لدى سعيد ثلاثة صفوف على التوالي. مدة كل صف ساعتين. يأتي موعد الصف الأول لسعيد في الساعة 7:00. فمتى ينتهي الصف الأخير لسعيد؟

1:00

تمرين على الاختبار

15. يذق جرس الصف الدراسي كل 30 دقيقة. يذق الجرس الأول في الساعة 8:30. فما الوقت الذي سيدق فيه الجرس 4؟

10:30



10:00



11:30



9:30



التحقق من تقدمي

مراجعة المفردات

أكمل كلاً من العبارات التالية.

دقيقة الساعة التناظرية ساعة

الساعة الرقمية نصف ساعة

1. 60 دقيقة هي _____ ساعة واحدة.

2. 30 دقيقة هي _____ نصف ساعة واحدة.

3. 60 ثانية هي _____ دقيقة واحدة.

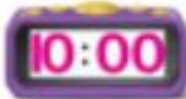
4. الساعة الرقمية لا تستخدم إلا الأعداد لإظهار الوقت.

5. الساعة التناظرية تتطلب عقرب ساعات وعقرب دقائق لإظهار الوقت.

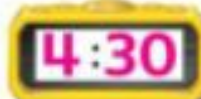
مراجعة المفاهيم

اذكر الوقت الظاهر أمامك. اكتب الوقت.

6.



7.



8.



↓
ممارسات في الرياضيات

الملاحظة والحساب

يمكنك معرفة الوقت بربع الساعة. هناك 15 دقيقة في ربع الساعة. وهناك 4 أرباع ساعة في الساعة.

الساعة الواحدة الواحدة وربع الواحدة ونصف الثانية إلا ربع



استخدم 🕒. اذكر الوقت الظاهر أمامك. اكتب الوقت.

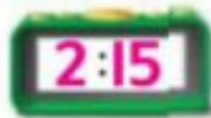


حديث في الرياضيات
عندما تكون الساعة 4:15، أين سيكون عقرب الدقائق؟ اشرح.

أعتد على نفسي

استخدم ⌚. اذكر الوقت الظاهر أمامك. اكتب الوقت.

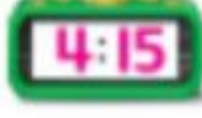
4.



5.



6.

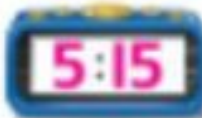


ارسم العقارب في كل ساعة. اكتب الوقت.

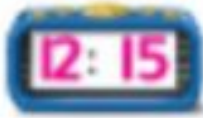
7. 2 إلى أربع



8. 5 إلى أربع



9. 12 إلى أربع

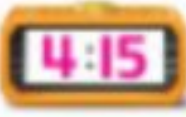


اقرأ الوقت. اكتب الوقت الظاهر على الساعة الرقمية.

12. التاسعة وثلاثون دقيقة



11. الرابعة وخمسة عشرة دقيقة



10. الثانية عشرة وخمسة وأربعون دقيقة



↓
ممارسات في
الرياضيات

حل المسائل



43. هالة في المدرسة. وينتهي اليوم الدراسي في الساعة 3:15. ولكن كان عليها الانتظار 3 ساعات إضافية. فكم الساعة الآن؟

12:15

44. يذهب فالح إلى بيت صديقه في الساعة 2:15. ضع دائرة حول الساعة التي توضح هذا الوقت.



alManahj.com/ae



أبغني!

1:45

مسألة مهارات التفكير العليا
لو نطلق على كل فترة 15 دقيقة في الساعة اسم ربع ساعة؟

الإجابة النموذجية: ربع الشيء هو جزء من أجزائه الأربعة. ويوجد أربع

فترات مدتها 15 دقيقة في الساعة الواحدة. لذا فكل فترة مدتها

15 دقيقة هي ربع ساعة.

الدرس 4 الوقت بالربع ساعة

ممارسات في الرياضيات

حل المسائل



33. هالة في المدرسة. وينتهي اليوم الدراسي في الساعة 3:15. ولكن كان عليها الانتظار 3 ساعات إضافية. فكم الساعة الآن؟

12:15

34. ذهب فالح إلى بيت صديقه في الساعة 2:15. ضح دائرة حول الساعة التي توضح هذا الوقت.



اتبعني!

1:45

35. ذهبت أسرة نورا في زرع. غادروا في الساعة 9:45. وقادوا السيارة لمدة 3 ساعات. وتوقفوا بعد ذلك لتناول الغداء. واستغرق ذلك ساعة واحدة. فمتى انتهوا من تناول الغداء؟

مسألة مهارات التفكير العليا لم يطلق على كل فترة 15 دقيقة في الساعة اسم ربع ساعة؟

الإجابة النموذجية: ربع الشيء هو جزء من أجزاء الأربعة. ويوجد أربع

فترات مدتها 15 دقيقة في الساعة الواحدة. لذا فكل فترة مدتها

15 دقيقة هي ربع ساعة.

الدرس 4 الوقت بالربع ساعة

الدرس 4
الوقت بالربع ساعة

واجباتي المنزلية

مساعد الواجب المنزلي

يمكنك معرفة الوقت بالربع ساعة.

8 وربع



8 ونصف



9 إلا ربع



alManahj.com/ae

تمرين

استخدم 🕒. اذكر الوقت الظاهر أمامك. وكتبه.

1.



2.




3.



ارسم العقارب في كل ساعة. اكتب الوقت.

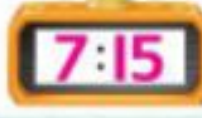
4. 6 ورعب



5. 3 إلا رعب



6. 7 ورعب



7. ذهبت نجاد إلى المدرسة في الساعة 8:15. وغادرت المدرسة في الساعة 2:45. إذا وصلت المدرسة في الساعة 8:45. فكم عدد الساعات التي قضتها في المدرسة؟

alManahj.com/ae

6 ساعات

مراجعة المفردات

8. ضع دائرة حول الساعة التي تظهر مثالاً على ربع ساعة.



الرياضيات في المنزل اطلب من طفلك استخدام الكلمات "إلا ربع" و "ورعب" لوصف الوقت في الساعة 6:15 و 8:45





الدرس 5

السؤال الأساسي

كيف استخدم الوقت بأمرنا؟

الوقت بمعدل خمس دقائق



الاستكشاف والشرح

الاسم _____

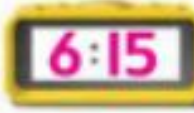
أعتمد على نفسي

اذكر الوقت الموضَّح أمامك. استخدم 🕒 لتساعدك. اكتب الوقت.

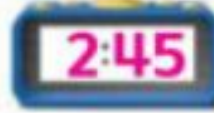
5.



6.




7.



اذكر الوقت الموضَّح أمامك. ارسم العقارب لتبين الوقت.


8.



9.



10.



11. 2:20



12. 8:45



13. 1:25



ممارسات في
الرياضيات

حل المسائل



14. إذا اقترب عقرب الساعات من 11
وأشار عقرب الدقائق إلى 10، فما الوقت الآن؟

10:50



15. يركب مجموعة من الأشخاص عربة الملاهي
كل 5 دقائق، والساعة الآن 3:00. وتوجد
7 مجموعات من الأشخاص قبل لميس
وعائلتها، كم ستكون الساعة عندما
تركب عاتلة لميس العربة؟

3:35



16. تستغرق مشاهدة العرض التمهيدي
للفيلم 20 دقيقة. إذا كان العرض
التمهيدي يبدأ في الساعة 7.
فمتى سيبدأ عرض الفيلم؟

7:20

ما الوقت عندما يكون عقرب الساعات
بين 5 و 6 وعقرب الدقائق على 7؟ اشرح.

الكتابة في
الرياضيات

الإجابة النموذجية الساعة 5:35. الساعة بعد 5:00 لأن عقرب

الساعات يوجد بين 5 و 6. لقد عددت بالخمسة ووجدت أن الساعة

هي 5:35.

الدرس 5 الوقت بمعدل خمس دقائق

الدرس 5

الوقت بمعدل
خمس دقائق

واجباتي المنزلية

مساعدة الواجب المنزلي

يستغرق عطر الدقائق 5 دقائق لينتقل إلى
الرقم التالي.
عد بالخمس دقائق لتذكر الوقت.
بين هذه الساعة أن الساعة 4 و 35 دقيقة.
وهذه هي طريقة أخرى لبيان الوقت.



4:35

تمرين

اقرأ الوقت. اكتب الوقت.



5:45



6:40




7:55

اذكر الوقت الموضح أمامك. ارسم عقرب الدقائق لتبين الوقت.


4.



5.



6.



7. الساعة 1:00. ينتظر سلطان وصول عامر. قال عامر إنه سيأتي سلطان خلال 25 دقيقة. ولكنه وصل متأخراً 5 دقائق. كم كانت الساعة عندما تقابل عامر وسلطان؟



alManahj.com/ae

تمرين على الاختبار

8. يغادر القطار الساعة 10:40. أي ساعة تبين أن الساعة 10:40؟



الرياضيات في المنزل اطلب من طفلك النظر إلى ساعة نظريه واختاره كم الساعة وأطلب منه إختيار كم ستكون الساعة بعد 5 دقائق. وبعد 10 دقائق. وبعد 25 دقيقة. وبعد 50 دقيقة.



الملاحظات والحساب

ممارسات في الرياضيات

إرشاد مفيد

الساعة 12:00 PM هي الظهيرة.
والساعة 12:00 AM هي منتصف الليل.

يُرمز للساعات من منتصف الليل حتى الظهيرة بالرمز **AM**. بينما يُرمز للساعات من الظهيرة إلى منتصف الليل بالرمز **PM**.

أقرأ قصة قبل النوم



8:00 PM



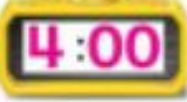
8:00 AM

اذكر الوقت الموضح للنشاط. وكتبه. وضع دائرة حول AM أو PM.

3. اللعب بعد المدرسة




AM
PM



2. الذهاب للنوم



AM
PM



1. درس رسم



AM
PM



كيف يمكنك تذكر إذا كانت الساعة AM أم PM؟

حديث في الرياضيات

ممارسات في الرياضيات

حل المسائل



12. لدى بدر تدريب كرة في الساعة 4:00. فهل سيكون التدريب في الساعة 4:00 AM أم 4:00 PM؟

PM



AM

13. الساعة 2:25، ستذهب رنا إلى المكتبة خلال ساعة. بين على الساعة وقت ذهابها إلى المكتبة، وضع دائرة حول AM أو PM

alManahj.com/ae

14. الساعة 3:00 AM، هل هذا وقت عودتك من المدرسة للمنزل أم ستكون نائماً في السرير؟

نائم

شريد ربهام الذهاب إلى حفل الغداء الذي تقيمه صديقتها أسماء. تتول الدعوى إن حفل الغداء سيبدأ في الساعة 1:30 AM. وهذا خطأ. ما الخطأ في الدعوى؟

الكتابة في الرياضيات

الإجابة النموذجية: ينبغي أن تكون الساعة 1:30 PM.

فإذا كانت الساعة 1:30 AM، فينفي أن يكون هذا بعد

منتصف الليل.

واجباتي المنزلية

الدرس 6
PM و AM

مساعد الواجب المنزلي

إرشاد مفيد

الساعة 12:00 PM هي الظهر
والساعة 12:00 AM هي منتصف الليل

انظر إلى الخبر



9:00 PM

الاستيقاظ



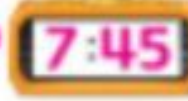
9:00 AM

اذكر الوقت الموضح للنشاط. واكتبه. وضع دائرة حول AM أو PM.


1. الذهاب إلى المدرسة. 2. لعب الرياضة. 3. ترتيب الفراش



AM
PM



AM
PM



AM
PM



أعتمد على نفسي

اذكر الوقت الموضح للنشاط. واكتبه وضع دائرة حول AM أو PM.

6. السياحة



5. تنظيف الحمام




4. تناول الإفطار




اذكر الوقت الموضح للنشاط. ارسم العقارب على الساعة لتوضح الساعة وضع دائرة حول AM أو PM.

9. تناول العشاء



8. نائم في السرير



7. تدريب كرة القدم



أكمل كل عبارة. اكتب منتصف الليل أو الظهيرة.

منتصف الليل الظهيرة

10. عند منتصف الليل أكون نائما عادة.

11. في الظهيرة قد أتناول غدائي.

اذكر الوقت الموضح للنشاط. ارسـم العقارب على الساعة. وضع دائرة حول AM أو PM.

6. التسوق



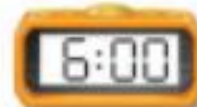
AM
PM

5. اللعب بالطائرة الورقية



AM
PM

4. صباح الديكة



AM
PM



الاستيقاظ
في حال نوم

7. ذهب أحمد وجاسم إلى معرض المدينة مع والديهم ووصلوا هناك في الساعة 10:00 AM وظلوا هناك لمدة 4 ساعات ونصف ساعة. فهل عادوا للمنزل في الصباح أم في المساء؟

مراجعة المفردات

أكمل كلاً من العبارات التالية.

AM

PM

8. لدى بلال درس رسم في الساعة 4:30 PM
9. يتناول جمال العشاء في الساعة 5:30 PM
10. تناولت منال الإفطار في الساعة 6:00 AM

الرياضيات في المنزل أسأل طفلك عدة مرات خلال الـ 24 ساعة القادمة عن الساعة. وهل هي ساعة أم مساءً.



الاسم

العلاقات الزمنية

الدرس 7



السؤال الأساسي
كيف نستخدم الوقت بأمرنا؟

الاستكشاف والشرح

3. التسوق لشراء أغراض البقالة 	2. غسل الوجه 	1. الانضمام لصديق 
أيام	دقائق	ساعة

alManahj.com/ae

نوصيكم بالعلم، حياكم حول الوحدة الأولى لغرض الوقت لكل حدث.



الوحدة 9 الوقت

591-592

28/12/2016 04:45

ممارسات في الرياضيات

الملاحظة والحساب

اختر الوحدات الأفضل لقياس الوقت.

العلاقات الزمنية	
دقيقة واحدة = 60 ثانية	
ساعة واحدة = 60 دقيقة	
يوم واحد = 24 ساعة	
أسبوع واحد = 7 أيام	
شهر واحد = حوالي 4 أسابيع	
عام واحد = 12 شهرا أو 52 أسبوعا	

1. حوِّط حول الوحدة الأفضل لقياس الوقت لكل حدث.
لتنظيف الأنف من المخاط بالمنديل
ثوان
ساعات

2. حوِّط حول الوحدة الأفضل لقياس الوقت لكل حدث.

للاستعداد للمدرسة

ثوان

دقائق

الاسم

أعتمد على نفسي

حوط حول الوحدة الأفضل لقياس الوقت لكل حدث.

4. لإنهاء الصف الثاني



أشهر
أيام

3. لغسل الأطباق



ساعات
دقائق

6. لبناء بيت الشجرة



يوم
شهر

5. للذهاب إلى المتجر



أسابيع
ساعات

alManahj.com/ae

8. لشحذ القلم الرصاص



ثواني
ساعات

7. لتناول طعام الغداء



ساعات
دقائق

ممارسات في الرياضيات

حل المسائل



استخدم إستراتيجية حل المسائل لحل المسائل. اكتب الإجابة.

9. ذهبت خديجة إلى الشاطئ مع عائلتها لمدة 4 أسابيع. كم عدد الأيام التي قضتها خديجة على الشاطئ؟

28

يوماً _____

10. كم عمرك لأقرب عام وشهر ويوم؟

راجع إجابة الطلاب. يوفنا

alManahj.com/ae

11. عاش عمر في لندن مع أسرته لمدة عامين. كم عدد الأسابيع التي عاشها في لندن؟

104

أسابيع _____

واجباتي المنزلية

مساعد الواجب المنزلي

اختر الوحدات الأفضل لقياس الوقت.

العلاقات الزمنية	
دقيقة واحدة = 60 ثانية	
ساعة واحدة = 60 دقيقة	
يوم واحد = 24 ساعة	
أسبوع واحد = 7 أيام	
شهر واحد = حوالي 4 أسابيع	
عام واحد = 12 شهرا أو 52 أسبوعا	

1. حول حول الوحدة الأفضل لقياس الوقت لكل حدث.

للعب مع القط

دقائق

أيام

2. حول حول الوحدة الأفضل لقياس الوقت لكل حدث.



لبناء منزل

سنوات

عام

→ 4_5791974... 🔍 🏠 ⋮

حوط حول الوحدة الأفضل لقياس الوقت لكل حدث.
3. ركوب الزورق



1 ثانية | 1 دقيقة | 1 ساعة

4. اقرأ الوقت. حوط حول الساعة الصحيحة.

9:00
alManahj.com/ae



5. يسافر صالح في عطلة لزيارة عمته وعمه.
وسيطرل لمدة شهر واحد. فكم المدة التي سيسافرها صالح تقريباً؟

30 يوماً

6. كتب أسامة الأعداد التالية. استمر في استخدام النمط. ما العدد الذي
سيكون رقم 19 في هذا النمط؟

3, 6, 9, 12, 15, 18, . . . 42

استخدام التقويم

الدرس 8
المؤن الأساسي
بعد استخدام الوقت وأمرها

الاستكشاف والشرح

بين التقويم الأيام والأسابيع والشهور في العام

يونيو						
الجمعة	الجمعة	الجمعة	الأربعاء	الثلاثاء	الاثنين	الأحد
4	3	2	1			
11	10	9	8	7	6	5
18	17	16	15	14	13	12
25	24	23	22	21	20	19
		30	29	28	27	26

توضيات المثلث: أشر إلى الشهر في هذا التقويم حدد اسم الشهر، وحدد اسم الشهر الذي يليه أو بعد الشهر السابق، واذكر اليوم الذي يليه أو بعد اليوم الذي يسبقه.

597-59 الوحدة 9 الوقت

ممارسات في الرياضيات

الملاحظة والحساب

بين التقويم الأيام والأسابيع والشهور في العام.

استخدم التقويم للإجابة عن الأسئلة.

يونيو						
السبت	الجمعة	الخميس	الأربعاء	الثلاثاء	الاثنين	الأحد
4	3	2	1			
11	10	9	8	7	6	5
18	17	16	15	14	13	12
24	23	22	21	20	19	18
	30	29	28	27	26	25



almanahj.com/ae

1. اليوم هو الخميس، 9 يونيو.
أوجد التاريخ قبل أسبوع واحد، الخميس، 2 يونيو

استخدم التقويم للإجابة عن الأسئلة.

2. غدا هو الاثنين، 13 يونيو.
أوجد التاريخ بعد أسبوعين منذ ذلك الحين، الاثنين، 27 يونيو

3. ما تاريخ السبت الثالث في شهر يونيو؟ الاثنين، 27 يونيو