



صغيرتي اكتبي اسم الشكل ، ثم عدد الأوجه والأضلاع والرؤوس:


المجسم	اسم المجسم	عدد الأوجه	عدد الأضلاع	عدد الرؤوس
	هرم	6		8
	.....	.....	.....	.....
	.....	.....	.....	.....
	.....	.....	.....	.....

حوطي الأشكال المطابقة للوصف:

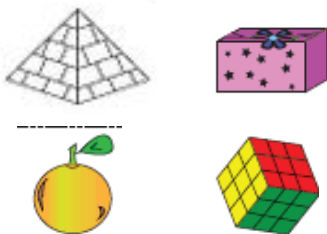
6 أوجه ، 12 أضلاع ، 8 رؤوس




1 أوجه ، 0 أضلاع ، 1 رأس



5 أوجه ، 8 أضلاع ، 5 رؤوس



2 أوجه ، 0 أضلاع ، 0 رأس



(1) أختاري الإجابة الصحيحة لكل سؤال :

(1) رسمت نورة شكلاً له 6 أضلاع و6 زوايا ، فما الشكل الذي رسمته ؟

مربع      خماسي الأضلاع      شبه منحرف      سداسي الأضلاع

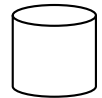
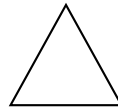

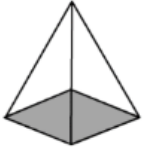
(2) رسمت هند 3 مثلثات و مربعان ، فكم عدد الزوايا التي رسمها ؟

7 زوايا      13 زاوية      17 زاوية      18 زاوية

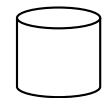
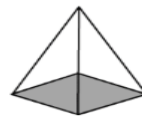

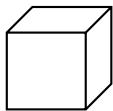
(3) رسمت منى مربع ، ثم رسمت من فوقه مباشرة مربع ، ما شكل الإطار الخارجي المرسوم ؟

خماسي الأضلاع      شبه منحرف      متوازي أضلاع      مستطيل

(4) الشكل الذي لا ينتمي للمجموعة هو .....



(5) شكل ثلاثي الأبعاد وله 6 أوجه متساوية و 12 ضلع و 8 رؤوس .



(6) شكل ثلاثي الأبعاد له 5 أوجه و 8 أضلاع ..

مخروط

مستطيل منشور

هرم

مكعب

(7) شكل ثلاثي الأبعاد ليس له أوجه و لا أضلاع و لا رؤوس ؟

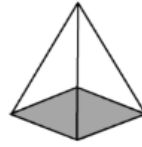
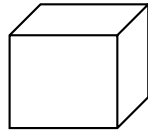
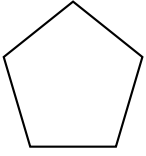
كرة

دائرة

اسطوانة

مخروط

➤ اکتبي اسم کل مجسم أو کل شکل فیما یلی :



.....

.....

.....

.....

➤ حوטי الأشکال المطابقة للوصف فیما یلی :


3 أضلاع و 3 زوايا



شبه منحرف



1 أوجه و 0 أضلاع و 0 زوايا




6 أوجه و 12 ضلع و 8 رؤوس

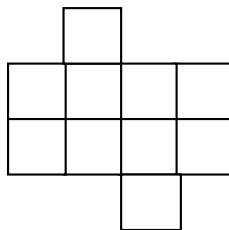


➤ احسبي مساحة کل شکل فیما یلی :

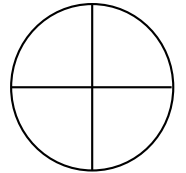
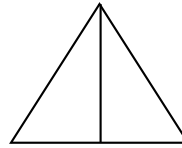
..... وحدة مربعة



..... وحدة مربعة





➤ اکتبي فیما یلی ( نصفین أو أثلاث أو أرباع )



.....

.....



.....

.....

1. قصت أريام شكلا وألصقته على صورة بدا الشكل شبيها بقمع المثلجات . ما الشكل الذي قامت بقصه ؟

○ مربع      ○ مثلث      ○ دائرة      ○ مستطيل

2. رسمت ريم 2 مربع ورسمت أمنة مستطيلين ومثلث . فكم عدد الزوايا لدى ريم وأمنة إجمالاً؟

○ 8      ○ 16      ○ 19      ○ 20

3. اشترت مريم شريحة فطيرة . وقد تشاركت هي وصديقتها بشاير في الشريحة بالتساوي . فما المقدار الذي أكلته كل من الفتاتين؟

○ ثلث الفطيرة      ○ نصف الفطيرة      ○ ربع الفطيرة      ○ خمس الفطيرة

4. لدى ميرة شطيرة من المرطب وتريد مشاركتها مع 3 من صديقاتها . حددي الكلمة التي تصف كيف ستقسم ميرة الشطيرة؟

○ أثلاث      ○ أنصاف      ○ أرباع      ○ أخماس