

حل مراجعة
الفصل الثالث

اليوم: الاربعاء التاريخ: 6-2019 --

الاسم: الصف والشعبة: الثاني

الموضوع : مراجعة عامة

السؤال الاول : ضع دائرة يا صغيري على الاجابة الصحيحة :

1- اختار العملة من فئة 25 فلس



{ (ج) }



(ب)



(ا)

2- 7 أمتار يسوي سنتيمتر

500

{ 700 }

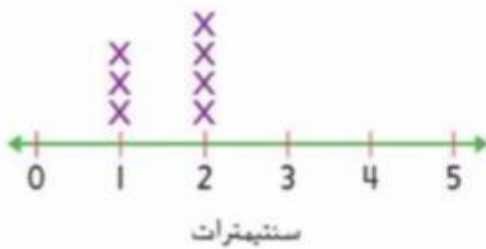
300

(ج)

(ب)

(ا)

طول أصبع القدم



3- كم يبلغ طول معظم أصابع الأقدام؟

ج-3

{ 2 } ب-

ا- 1

4- ما هي وحدة القياس المناسبة لدلو كبير من الماء

ج- سنتيمتر

ب- [لتر]

ا- كوب



السؤال الثاني : حول يا صغيري الساعات الرقمية الى ساعات تناظرية :

ارسم عقرب الساعة الموضحة للساعة
الرقمية



8:30



1:30



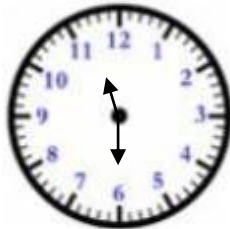
10:00



4:00



5:30



11:30



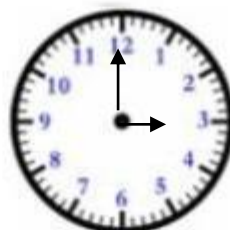
9:00



6:30



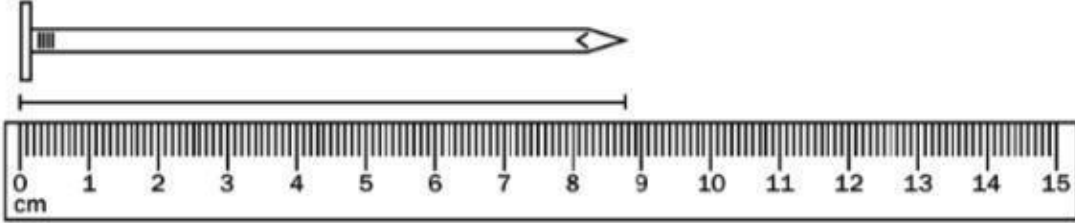
7:30



3:00

Ms Makinson TpT, 2014

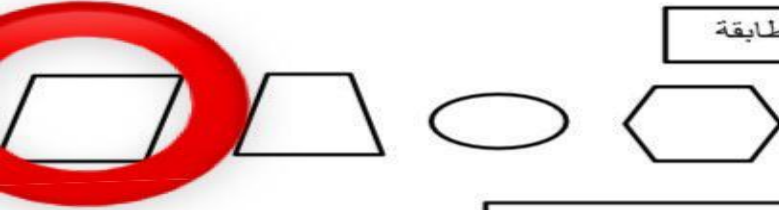
السؤال الثالث : جديا صغيري قياس المسامير :



9 cm


السؤال الرابع : أجب عن الاسئلة التالية :

السؤال الأول : ارسم دائرة حول الأشكال المطابقة



1- متوازي الأضلاع

السؤال الثاني : اكتب اسم الشكل . وضع دائرة حول الشكل



خماسي

السؤال الثالث : أكمل الجدول التالي : اكتب اسم الشكل أو عدد الأضلاع أو الزوايا لكل شكل ارسم الشكل

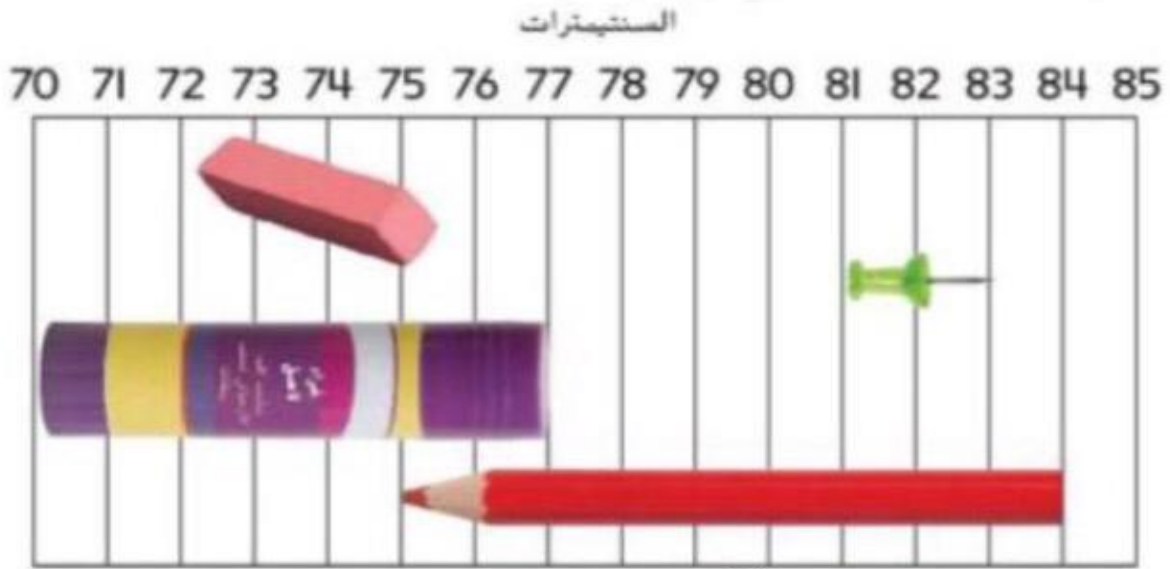
الشكل	اسم الشكل	عدد الأضلاع	عدد الزوايا
	مثلث	3	3
	مربع	4	4

السؤال الرابع : حل المسائل :

إذا كان لشكل 0 أضلاع و 0 زوايا . فما هو الشكل ؟ ارسم الشكل .

دائرة

السؤال الخامس : جد يا صغيري قياس الاجسام التالية :

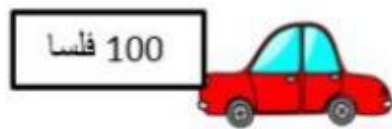


1- كم يبلغ طول الدبوس؟.....² سنتيمترات

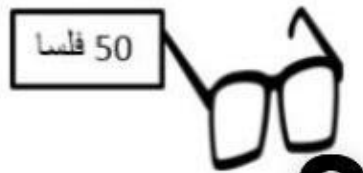
2- كم يبلغ طول علبة الصمغ؟.....⁷ سنتيمترات

3- أيهما أطول המחاه أم علبة الصمغ؟.....³

كم عدد العملات من فئة 25 فلسا التي نحتاجها لشراء كل عنصر ؟



4 ----- 25 فلسا



2 ----- 25 فلسا



3 ----- 25 فلسا



(تمناني لكم بالتوفيق و النجاح)

