

## المادة / علوم

# الصف السادس الابتدائي

## الفصل الدراسي / الثاني

حل أنشطة  
الوحدة السادسة

الفصل الحادي عشر

الفصل الثاني عشر

حل أنشطة  
الوحدة الخامسة

الفصل التاسع

الفصل العاشر

حل أنشطه  
الوحدة الرابعة

الفصل السابع

الفصل الثامن



### كيف تتعرّف الكواكب؟

#### أكوّن فرضية

هل تؤثر الأدوات التي يستعملها العلماء لدراسة النجوم والكواكب في المعلومات التي يحصلون عليها؟ أكتب إجابتي في صورة فرضية: "إذا غيرت الأدوات التي أستعملها في تفحص جسم ما فإن ...".

### تختلف النتائج

#### أختبر فرضيتي

- 1 أصل نموذجًا. أغلق الصندوق بورق الجرائد، ثم أضع الصندوق في الطرف الآخر من الغرفة. يمثل هذا الصندوق كوكبًا مجهولًا.
- 2 لاحظ. أقف في طرف الغرفة البعيد عن الصندوق وأنظر إلى الصندوق من خلال الشفافية الملونة. أرسم ما أرى بالتفصيل.
- 3 لاحظ. أنظر إلى الصندوق دون استخدام الشفافية. أرسم ما أرى بالتفصيل. أصب الاختلافات بين ما أراه دون استخدام الشفافية، وما رأيته باستخدام الشفافية من قبل.

#### أحتاج إلى:



- صندوق كرتوني
- ورق جرائد
- شريط لاصق شفاف
- شفافية بلاستيكية ملونة.



# الوحدة الرابعة الفصل السابع الدرس الاول حلول

منصة مدرسية تعليمية

1. لاحظ. اقرب من الصندوق لرؤيته عن قرب، وأدوّن ما لاحظته.

## أستخلص النتائج

2. أستنتج. كيف اختلفت مشاهدتي للصندوق من خلال الشفافية البلاستيكية الملونة عن مشاهدتي له بدونها؟ وما المعلومات الجديدة التي حصلت عليها من مشاهدتي له عن قرب؟ أوضّح.

## يختلف الحجم واللون

3. أستنتج. ما الفرق بين رؤية الكوكب من خلال منظار فلكي على الأرض، وآخر في الفضاء؟ ما سبب هذا الاختلاف؟ ما المعلومات الجديدة التي يمكن الحصول عليها من رحلات استكشاف الفضاء؟

## سبب الاختلاف في اختلاف الادوات المستخدمة





# الوحدة الرابعة الفصل السابع الدرس الاول حلول

منصة مدرسية تعليمية

أَسْتَكْشِفُ أَكْثَرَ

ما المعلومات التي يمكن الحصول عليها إذا هبطت مشيار فضائي على سطح كوكب؟ كيف يمكنني تمثيل عملية الهبوط باستعمال نموذجي الخاص؟ أكون فرضية، وأصمم تجربة لاختبارها.

استقصاء مفتوح

أفكر في سؤال حول طرق مراقبة الأجسام في الفضاء.

◀ سؤالي هو:

**ماهي طرق مراقبة الاجسام الفضائية؟**

◀ كيف اختبر سؤالي:

◀ نتائجي هي:



# الوحدة الرابعة الفصل السابع الدرس الأول حلون

منصة مدرسته تعليمية

أحتاج إلى:

• مصباح يدوي



## دوران الأرض حول محورها وحول الشمس


1. أعمل نموذجًا. أعمل مع مجموعة مكونة من ثلاثة تلاميذ؛ يمثل التلميذ الأول الشمس، والثاني الأرض، والثالث القمر.

2. يبقى التلميذ الأول دون حراك حاملاً مصباحاً كهربائياً مضيئاً.

3. يدور التلميذ الثاني حول نفسه ببطء، وحول التلميذ الأول، ويستمر في دورانه حول نفسه. ▲ أهدر. إذا شعر التلميذ بالدوار يتوقف فوراً.

4. يدور التلميذ الثالث حول التلميذ الثاني ماشياً بسرعة، ويبقى مواجهاً له.

5. لاحظ كيف يسقط ضوء المصباح اليدوي على التلميذ الثاني والتلميذ الثالث.



# الوحدة الرابعة الفصل السابع الدرس الثاني حلول

منصة مدرسية تعليمية



## ما سبب تغير أوجه القمر؟

### الهدف

يظهر القمر أحياناً مستديراً تماماً، وفي أوقاتٍ أخرى يظهر على شكل هلالٍ صغير، أو يختفي أحياناً. لماذا يظهر القمر بأشكالٍ أو أطوارٍ مختلفة؟ لمعرفة ذلك أعمل نموذجاً يوضح تغير موقع القمر بالنسبة للشمس والأرض.


### الخطوات

- 1 أعمل نموذجاً. تمثل كرة السلة الشمس، وكرة المضرب الأرض، وكرة تنس الطاولة القمر. أضع الشمس عند طرف الطاولة. أستخدم قلم التخطيط في تعميم نصف كرة تنس الطاولة ليمثل الجزء المعتم من القمر، والجزء الأبيض يمثل الجزء المضاء. وعندما يدور القمر حول الكرة التي تمثل الأرض يجب أن يبقى الجزء المضاء مواجهاً للشمس، والجزء المعتم بعيداً عنها.
- 2 ألاحظ. أعاون مع زميلي لأرتب نموذج الشمس والأرض والقمر بطريقة يشاهد فيها من على الأرض القمر يدور.
- 3 أدون البيانات: أرسّم مخططاً لمواقع الشمس والقمر والأرض في النموذج. وأكتب أسماء الأجزاء، ووصفاً لما سيبدو عليه القمر لمُشاهدٍ على الأرض.
- 4 أجرب. أحرك الكرة التي تمثل القمر حول الأرض، وأقارن كيف يظهر القمر من مواضع مختلفة على الأرض. أضيف هذه المعلومات إلى مخططي.



# الوحدة الرابعة الفصل السابع الدرس الثاني حلول

منصة وزارة التعليم



## أستخلص النتائج

٥ أفسر البيانات. هل يتغير شكل القمر وحجمه حقيقة؟ لو أتيح لي مشاهدة القمر من الشمس، هل سيكون له أطوار؟ أوضح ذلك.

**نعم يوجد للقمر اطوار**

٦ أفسر البيانات. ما الذي يسبب ظهور القمر بأطوار مختلفة؟

**دوران القمر حول الارض وظل الأرض**





# الوحدة الرابعة الفصل السابع الدرس الثاني حلول

منصة مدرسية تعليمية

أَسْتَكْشِفُ أَكْثَرَ

هل تظهر الأرض بأطوار مختلفة لو شاهدتها من القمر. أكتب توقعًا وأصمم نموذجًا مماثلًا للاختبار توقعي، وأنفذ تجربة، وأشارك زملائي بما أتوصل إليه.

نعم اتوقع ذلك

استقصاءً مفتوح

أفكر في سؤال حول عمل نموذج لكوكب له أكثر من قمر.

◀ سؤالي هو:

كيف تدور عدة أقمار حول كوكب واحد

◀ كيف أختبر سؤالي:

◀ نتائجي هي:



#### عمل نموذج للخسوف والكسوف



١. اعمل نموذجًا. أحصل على كرتين من الفلين مختلفتين في الحجم، حجم إحداهما ضعف حجم الأخرى على الأقل.

٢. لاحظ. أضيء مصباحًا يدويًا وأسلط ضوءه مباشرة على الكرة الكبيرة من مسافة ١ متر تقريبًا. أضغ الكرة الصغيرة بين المصباح اليدوي والكرة الكبيرة، مع مراعاة أن تكون الكرة الصغيرة على بعد ١٠ سم تقريبًا من الكرة الكبيرة. أدون ملحوظاتي.

#### يتكون مناطق ظل وشبه ظل وضوء

٣. لاحظ. أكرر الخطوة الثانية بعد وضع الكرة الكبيرة بين المصباح اليدوي والكرة الصغيرة.



#### تظلم الكرة الصغيرة

٤. أستنتج. ماذا يمثل كل من المصباح اليدوي والكرة الصغيرة والكرة الكبيرة في هذا النموذج؟

#### الشمس والقمر والكوكب

٥. أفسر البيانات. ما الظاهرتان اللتان مثلتهما الخطوتان ٢ و ٣ في هذا النموذج؟

#### الكسوف والخسوف

# الوحدة الرابعة الفصل السابع الدرس الثاني حلون

منصة مدرسية تعليمية

## احتاج إلى:

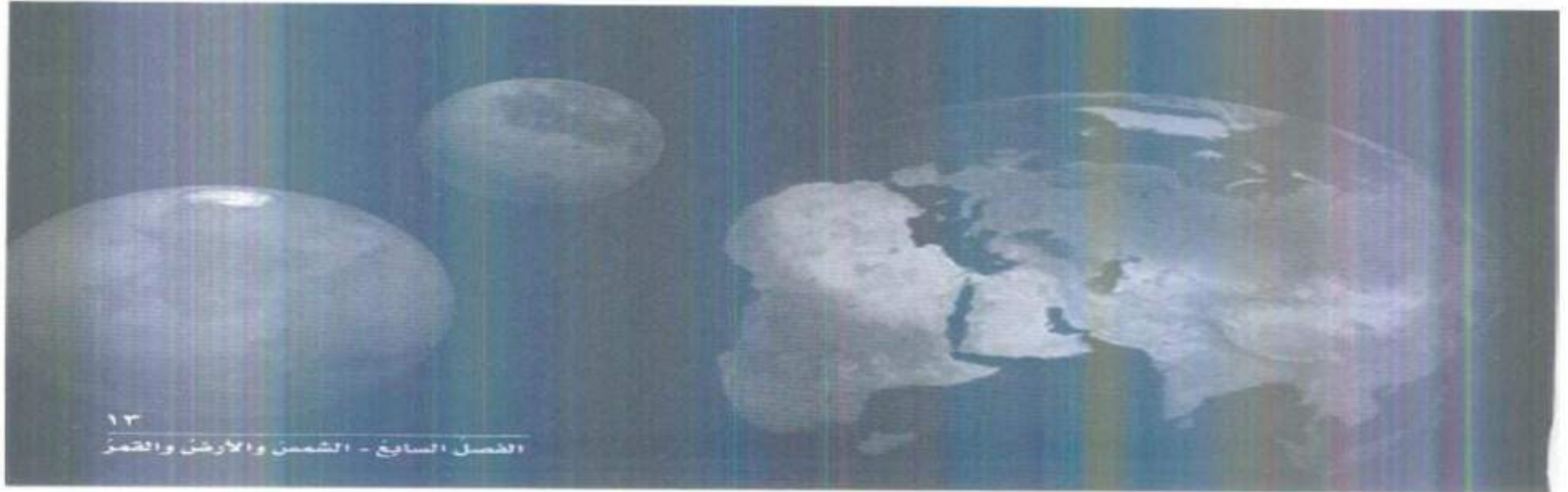
- شريط لاصق
- طبق ورقى مقوى
- مسطرة مثربة
- كرة مطاطية.

## المهارة: التواصل

لقد قرأت عن أجرام في نظامنا الشمسي تدور حول نفسها أو حول غيرها. إن قوة الجاذبية هي التي تجعل القمر يدور حول الأرض، كما تجعل الأرض وكواكب أخرى تدور حول الشمس. كيف تؤثر الجاذبية في جسم يدور؟ ما دور سرعة الجسم واتجاهه في هذا؟ للإجابة عن أسئلة مثل هذه يقوم العلماء بجمع بيانات وإجراء تجارب، ثم يتواصل العلماء بالنتائج التي يحصلون عليها عبر شبكة المعلومات أو المقالات، أو الكتب أو التلفاز والإذاعات، أو يقدمون عروضاً أو مقابلات.

## أتعلم

عندما أتواصل مع الآخرين فإني أشاركهم بمعلومات. وقد أقوم بذلك عن طريق التحديث أو الكتابة أو الرسم أو استعمال إشارات اللغة أو التمثيل والتقليد أو لغة الإشارة. في هذا النشاط سوف أختبر كيف يتحرك جسم في الفضاء، ثم أتواصل مع زملائي في الصف بما توصلت إليه.





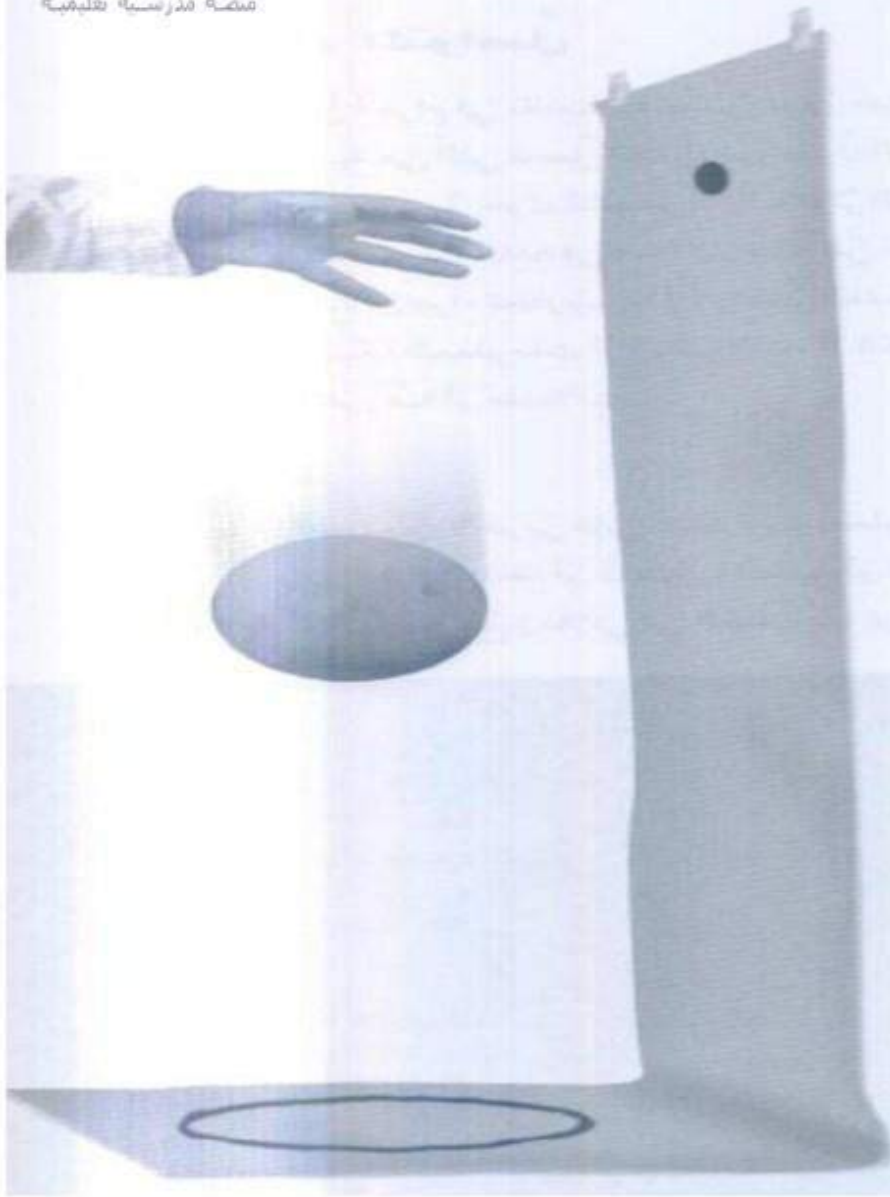


### أجرّب

1 الصقّ طبق الورق المقوّى على الأرض والجدار كما في الشكل المجاور، ثمّ أرسم دائرة في أسفل الطبق لتمثّل سطح الأرض، وأرسم نقطة كبيرة سوداء على ارتفاع 1 م من الدائرة.

2 أمسك كرة مطاطية على ارتفاع مواز للنقطة السوداء، وأسقطها، وأرسم المسار الذي سقّطت فيه على الورق المقوّى.

3 أمسك الكرة المطاطية ثانية على الارتفاع السابق نفسه وأسقطها برميها بقوة بسيطة. كرّر هذه الخطوة ثلاث مرات، وفي كلّ مرة استخدم قوة أكبر. أرسم مسار الكرة في كلّ مرة.







أطبّق

1 عندما رميت الكرة من جانب النقطة السوداء، هل كان مسارها مستقيماً أم منحنيًا؟ لماذا؟

**مستقيماً بسبب الجاذبية الأرضية**

2 كيف أثرت الجاذبية على الكرة عندما رميتها بقوة؟

**جذبتها لا أسفل بسرعة أكبر**

3 ماذا يمكن أن يحدث لو أن مدفعا أطلق الكرة في مدار حول الأرض؟ أرسّم المسار الذي اعتقد أن الكرة سوف تتحرك فيه.



# الوحدة الرابعة الفصل السابع الدرس الثاني

منصة مدرسية تعليمية

1 أتوقع . ماذا يحدث إذا تحركت الكرة بسرعة، وتحررت من الجاذبية الأرضية؟

2 أتواصل . أعرض نتائجي وتفسيراتي على زملائي . يمكنني أن أكتب تقريراً، أو أرسم رسوماً متحركة، أو أصمم ملصقاً أو أستخدم لغة الإشارة.

**اجب بنفسك**



# الوحدة الرابعة الفصل الثامن الدرس الاول حلول

منصة مدرستنا تعليمية

أحتاج إلى



- الرسم المبيّن أدناه
- ٤ قطع من الصلصال
- ٤ كرات زجاجية

كيف نُميِّز بين الكوكب والنجم؟

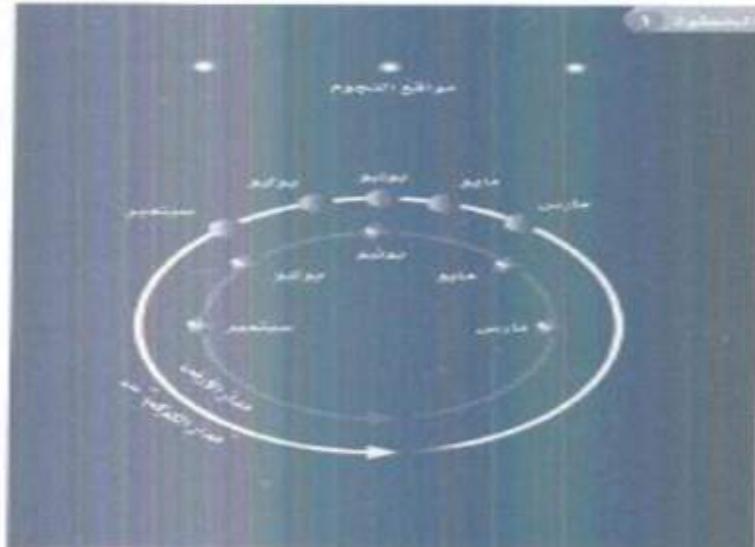
أكوّن فرضية

تبدو بعض النقاط المضيئة في السماء في أثناء الليل وهي تتحرك بعضها بالنسبة إلى بعض. كيف يمكن أن نعرف إن كان هذا كوكبًا أو نجمًا؟ أكتب إجابتي في صورة توقع: "إذا كان الجرم المرئي كوكبًا فإنه سيبدو..."

**أكبر واقرب وليس مضيئا بدرجة كبيره**

أختبر فرضيتي

1. أعمل نموذجًا. أعمل نسخة من الرسم المجاور، وأستعمل الصلصال لأثبت الكرات الزجاجية في مواقع النجوم الثلاثة.
2. أثبت كرة زجاجية في موقع الكوكب (س) على مداره في شهر مارس. أرسّم خطًا من موقع الأرض إلى موقع الكوكب (س) في مارس. أمدد الخط حتى يصل إلى مستوى النجوم، وأضع رقم (١) في هذا الموقع، ليمثل الموقع الذي يظهر فيه الكوكب "س" بالنسبة إلى النجوم.
3. أكرّر الخطوة السابقة لكل من مواقع الكوكب (س) في الأشهر مايو ويونيو ويوليو وسبتمبر وأضع الأرقام "٢" و"٣" و"٤" و"٥"، على الترتيب، لتمثل مواقع ظهور الكوكب الشهرية.







حلول

الدرس الاول

الفصل الثامن

الوحدة الرابعة

منصة مدرسية تعليمية

أستخلصُ النتائجَ

1 أفسرُ البيانات. أصفُ حركةَ الكوكبِ "س" بالنسبةِ للنجومِ من مارسٍ إلى مايو. وأقارنها مع حركةِ من مايو إلى يونيو، ومن يونيو إلى يوليو، ومن يوليو إلى سبتمبر.

2 استنتج. كيفَ أُميزُ بينَ الكوكبِ والنَّجمِ؟

أستكشفُ أكثرَ

ماذا يحدثُ إذا زادتِ المسافةُ بينَ مدارِ الأرضِ ومدارِ الكوكبِ "س"؟ أضعُ توقعًا، وأختبرُهُ.

لظهر لنا الكوكب بصورة اصغر





منصة مدرسية تعليمية

## الدرس الأول

## الفصل الثامن

## الوحدة الرابعة

استقصاءً مفتوحاً

أفكر في سؤالي حول حركة النجوم.

◀ سؤالي هو:

**كيف تتحرك النجوم**

◀ كيف أختبر سؤالي:

◀ نتائجي هي:



# الوحدة الرابعة الفصل الثامن الدرس الاول حلول

منصة مدرسية تعليمية

## أحتاج إلى:

- آلة حاسبة
- قلم
- ورقة
- فرجار
- جدول بيانات

## حجوم الكواكب

1 استعمل الأرقام أنظر إلى جدول أقطار الكواكب. افترض أن ثمة نموذج مقياس يُبين أن قطر الأرض يساوي 2 سم. احسب أقطار الكواكب الأخرى على هذا المقياس بالستمرات بضرب كل قطر في قطر الأرض.

2 اعمل نموذجًا. أرسم على ورقة دائرة تمثل كل كوكب مستخدمًا الأقطار التي قمت بحسابها في الخطوة 1. أرسم الدائرة الصغرى داخل الدائرة الكبرى، واكتب اسم كل كوكب لمجاذاة دائرته.

3 أقرن. ما الكوكب الأكبر؟ ما الكوكب الأصغر؟

## اصفر الكواكب عطارد وأكبرها المشتري

4 أكبر قمر في النظام الشمسي له قطر يساوي 0.4 من قطر الأرض. أي الكواكب الداخلية أقرب حجمًا إلى هذا القمر؟

الكوكب	القطر (مضروبًا في قطر الأرض)
عطارد	$0.38 \times$ قطر الأرض
الزهرة	$0.95 \times$ قطر الأرض
الأرض	$1 \times$ قطر الأرض
المريخ	$0.53 \times$ قطر الأرض
المشتري	$11.2 \times$ قطر الأرض
زحل	$9.5 \times$ قطر الأرض
أورانوس	$4.0 \times$ قطر الأرض
نبتون	$3.9 \times$ قطر الأرض

عطارد

# الوحدة الرابعة الفصل الثامن الدرس الثاني حلون

منصة مدرسية تعليمية



كيف يؤثر بُعد النجم عن الأرض في سطوعه؟

أتوقع

هل يمكن معرفة مدى السطوع الحقيقي لنجم ما بالنظر إليه من الأرض؟ أكتب إجابتي في صورة توقع كالآتي: "إذا كان الجرم الساطع بعيداً جداً عنا فسوف ...".

يكون اقل سطوعاً

أختبر توقعي



1. لاحظ. يحمل تلميذان المصباحين الكهربائيين المضيئين، ويقفان على بُعد مترين مني. وأقوم بدور الملاحظ الذي يقوم بتسجيل ما يراه. هل أحد المصباحين أسطع من الآخر؟ كيف يمكن معرفة ذلك؟

لا



2. لاحظ. يقترب التلميذ الذي يحمل المصباح الصغير إلى مسافة 0,5 متر مني، بينما يتعد التلميذ الذي يحمل المصباح الكبير إلى مسافة 8 أمتار. أسجل ما أراه. هل يظهر أحد المصباحين لي الآن أسطع من الآخر؟ كيف تغير سطوعهما؟

البعيد اقل سطوعاً من القريب



# الوحدة الرابعة الفصل الثامن الدرس الثاني حلول

منصة مدرسته تعليمية

٢ أقيس. اطلب إلى التلميذين التحرك إلى الأمام أو إلى الخلف حتى يظهر سطوعا المصباحين لي متساويين، ثم أقيس بُعد كل من المصباحين عني.

## أستخلص النتائج

١ أفسر البيانات. إذا رأيت مصدرين للضوء من بعيد فهل يخيّرنا مدى سطوعيهما الظاهري عن سطوعيهما الحقيقي؟

## أستكشف أكثر

هل تؤثر عوامل أخرى في السطوع الظاهري للنجم؟ أبحث في هذا السؤال، وأصمم تجربة لاختبار أحد هذه العوامل.

**القرب والبعد يؤثر في السطوع والليل والنهار كذلك**





# الوحدة الرابعة الفصل الثامن الدرس الثاني حلول

استقصاء مفتوح

أفكر في سؤالي حول لون النجوم، وكيف يؤثر اللون في سطوع النجم الظاهري.

◀ سؤالي هو:

**ما هو تأثير اللون في سطوع النجم؟**

◀ كيف أختبر سؤالي:

◀ نتاجي هي:



# الوحدة الرابعة الفصل الثامن الدرس الثاني حلول

منصة مدرسته تعليمية

## أحتاج إلى

- بالون
- شريط قياس متري
- قلم تخطيط

## الكون المتغير

1. أعمل نموذجًا. أنفخ بالونًا إلى ثلث حجمه تقريبًا، وأحافظ على فوهة البالون مغلقة دون ربطها. وأطلب إلى زميلي رسم ثلاث نقاط (أ، ب، ج) على البالون.

2. أقيس أطلب إلى زميلي قياس محيط البالون من منتصفه باستخدام الشريط المتري، وقياس المسافة بين كل زوجين من النقاط. وأسجل نتائج القياس.



3. أجرب. أنفخ البالون إلى نصفه تقريبًا. ماذا حدث للمسافة بين النقاط؟ أطلب إلى زميلي قياس المسافة بين كل زوج من النقاط، وتسجيل نتائج القياس.

## زادت المسافة بين النقاط

1. لاحظ. ماذا حدث للنقاط عند نفخ البالون؟

## تزيد المسافة بينهم

2. أستنتج. لو افترضت أنني أقف على واحدة من النقاط الثلاث فكيف تبدو لي النقاط الأخرى عند نفخ البالون؟

## اصغر وابتعد



منصة مدرسته تعليمية

### احتياج التجربة



- ميزان ذكي كفتين
- كتل معيارية
- وعاء شفاف جاف
- ماء
- مخبر مدرج



### ما كثافة الماء؟

#### أكوّن فرضية

هل تعتمد كثافة الماء على كميته؟ إذا غيّرت كمية الماء فهل تتغير كثافته؟  
اكتب جوابي في صورة فرضية كالآتي: "إذا غيّرت كمية الماء فإن كثافة الماء سوف...".

## تظل كما هي ولا تتغير

#### أختبر فرضيتي

- 1 أقيس كتلة الوعاء الشفاف الجاف، ثم أصب ماء في المخبر المدرج ليصل إلى تدريج ٢٥ مل. ولقياس كمية الماء بدقة أضع المخبر المدرج أمام عيني بحيث تكون قاعدة تقعر سطح الماء عند مستوى نظري، ويجب أن يكون مستوى قاعدة التقعر عند التدريج ٢٥ مل. أسكب الماء في الوعاء الشفاف. وأقيس كتلة الماء والوعاء معاً.
- 2 أسجل البيانات. أسجل كتلة الوعاء فارغاً، ثم كتلة الوعاء والماء معاً.
- 3 أستخدم الأرقام. أحدد كتلة الماء عن طريقي طرح كتلة الوعاء الفارغ من الكتلة الكلية للوعاء والماء. أسجل النتائج.




# الوحدة الرابعة الفصل الثامن الدرس الثاني حلول

منصة مدرسية تعليمية

1 استخدم الأرقام. أحدد كثافة الماء. وكثافة المادة هي كمية كتلة المادة في حجم معين. أقم كتلة الماء بالجرامات على حجم الماء بالملمترات، وأقرب الإجابة إلى أقرب منزلة عشرية.

2 أكرّر الخطوات من 1 - 4 ثلاث مرات، وأستخدم 50 مل، و75 مل، و100 مل من الماء في كل مرة.

3 اتواصل. أمتل النتائج التي حصلت عليها في رسم بياني خطي بحيث يمثل المحور الأفقي الحجم، والمحور الرأسي الكتلة.



4 أستخلص النتائج

5 أفسر البيانات هل تتغير كثافة الماء مع تغير كتلته؟

لا

# الوحدة الخامسة الفصل التاسع الدرس الأول حلول

منصة مدرسية تعليمية

أستكشف أكثر

هل هذه العلاقة صحيحة وتتنطبق على سوائل أخرى؟ أكرز هذا النشاط مستخدمًا الزيت. هل يصح هذا في الأجسام الطليّة؟

**نعم هذه العلاقة صحيحة وتتنطبق على كل المواد**

استقصاء مفتوح

فكر في سؤال حول العوامل التي تؤثر في كثافة جسم ما.

◀ سؤالي هو:

**ماهي العوامل التي تؤثر في كثافة الأجسام؟**

◀ كيف اختبر سؤالي:

◀ نتائجي هي:

# الوحدة الخامسة الفصل التاسع الدرس الأول حلول

منصة مدرسية تعليمية

## تأثير الكثافة

### أحتاج إلى:

- مخبر مُدرّج سعة ١٠٠ مل عدد ٢
- صبغة طعام
- زرق قميص
- ٢٠ مل من الماء، جلسرين، زيت ذرة، زيت أطفالي.



١ أتوقع. ماذا يحدث إذا سكبت ماء، وجليسرين نقياً وزيت أطفالي، وزيت ذرة في مخبر مُدرّج دون أن أمزجها معاً.

## تترتب فوق بعض دون اختلاط

٢ أقيس. أضيف صبغة ملونة زرقاء إلى ٢٠ مل من الماء، وأسكب الماء في مخبر مُدرّج سعته ١٠٠ مل.

٣ لاحظ. أسكب ببطء ٢٠ مل من زيت الذرة في المخبر المُدرّج، ثم ٢٠ مل من الجليسرين، ثم ٢٠ مل من زيت الأطفالي. أصف ما يحدث لكل مادة في المخبر المُدرّج.

٤ اتواصل. أرسم مخططاً يبيّن المخبر المُدرّج والمواد فيه، وأكتب أسماءها.

٥ أستنتج. علام يدلّ المخطط بشأن كثافة كلّ مادة؟

٦ أتوقع. لو وضعت زرق قميص في المخبر المُدرّج فأين يستقر؟ وأين تستقر كذلك قطعة فلين وقطعة نقد؟

## الزر والنقد في القاع والفلين تطفو



# الوحدة الخامسة الفصل التاسع الدرس الثاني لول

منصة مدرسية تعليمية

## هل يمكن فصل مكونات حبر قلم التخطيط؟

### أتوقع

أتخيل أن ملابسي قد تلطخت بحبر تدرّب من قلم تخطيط. ما أول شيء يمكن أن أفعله لإزالة الحبر عن ملابسي؟ وماذا يمكن أن يحدث لو غمرت الملابس وعليها الحبر في الماء؟ أكتب توقعي كالآتي: "إذا غمرت ملابس عليها بقع من أنواع مختلفة من الحبر في الماء فإنها سوف...".

## يتغير لونها

### أختبر توقعي

١ أقيس  $\Delta$  اكون أحذر. أقص ثلاث قطع من ورقة الترشيح؛ طول كل منها ١٠ سم، وعرضها ٥ سم.

٢ استخدم المتغيرات. أضع نقطة حبر سوداء صغيرة (قطرها حوالي ٥, ٠ سم) على كل ورقة ترشيح باستخدام قلم تخطيط أسود من نوع مختلف في كل مرة. يجب أن تكون النقاط على بُعد ٢ سم من الحافة السفلى لورقة الترشيح.

٣ أجرّب. أضع إحدى الأوراق داخل الكأس، وأثبتها باستخدام مشبك كما هو موضح في صورة الخطوة (٣). أضيف الماء إلى الكأس بما يكفي ليلاسن طرف الورقة، بحيث يكون سطح الماء أسفل نقطة الحبر.

٤ لاحظ. بعد (١٠) دقائق، أرفع ورقة الترشيح، وأضعها على منشفة



# الوحدة الخامسة الفصل التاسع الدرس الثاني لون

منصة مدرسية تعليمية

ورقية، وأراقب ورقة الترشيح المبللة حتى تجف. أكرر الخطوة السابقة مع أوراق الترشيح الأخرى.

٥ أفسر البيانات. ماذا حدث لتقطع الحبر والماء؟ هل تأثرت أنواع الحبر الثلاثة بالطريقة نفسها؟

استخلص النتائج

٦ استنتج. لماذا اعتقد أن بعض الألوان انتقلت عبر ورق الترشيح مسافة أكبر من غيرها.

## بسبب كثافة كل لون

أستكشف أكثر

أغير المواد المستخدمة في النشاط، وأستخدم الكحول الطبي بدلاً من الماء. هل يكون نمط اليقع هو نفسه لكل حبر قلم في كل مرة؟ هل يمكن استعمال هذه الطريقة على أنها طريقة موثوقة لتحديد نوع الحبر؟

نعم



منصة مدرسية تعليمية

# الوحدة الخامسة الفصل التاسع الدرس الثاني

استقصاء مفتوح

فكر في سؤال حول كيفية فصل مكونات الحبر في قلم حبر جاف، أو قلم جرافيت (رصاص ضمتنا).

◀ سؤالي هو:

**كيف يمكن فصل مكونات الحبر الجاف؟**

◀ كيف أختبر سؤالي:

◀ نتائجي هي:





# الوحدة الخامسة الفصل التاسع الدرس الثاني حلول

منصة مدرسية تعليمية

## أحتاج إلى

- ملح طعام
- ميزان
- مخبر مدرج
- ماء
- كأس سعة ٢٥٠ مل
- قضيب تحريك



## تحضير محلول مشبع

١ أتوقع. ما كمية الملح التي يمكن أن تذوب في ١٠٠ مللتر من الماء؟

٥٠ جم

٢ أقيس. أزن ١٠ جرامات من ملح الطعام باستخدام الميزان.

٣ اجرب. أضيف ملح الطعام إلى ١٠٠ مل من الماء في كأس زجاجية، وأحرك حتى يذوب الملح كلياً، ويبدو المحلول صافياً.

٤ اكرر الخطوات ٢، ٣ حتى يتوقف الذوبان ويبدأ الملح بالترسب في قاع الكأس.

٥ استخدم الأرقام. ما كمية الملح التي ذابت في الماء؟ هل كان توقعي صحيحاً؟

نعم

٦ أستنتج. لماذا لا يرى الملح بعد ذوبانه؟

لأنه دخل في المسافات البينية لذرات الماء

٧ أتوقع. اعتماداً على بياناتي، أقدّر كمية الملح التي تذوب في لتر واحد من الماء. في درجة حرارة الغرفة.

٢٠٠ جم

# الوحدة الخامسة الفصل التاسع الدرس الثاني لول

منصة مدرسته تعليمية

## أحتاج إلى

- ملعقة
- مواد لأعداد المخلوط
- كأس بلاستيكي
- منخل
- صحن زجاجي عميق
- كيس بلاستيكي
- مغناطيس
- قمع مع ورقة ترشيح



## كيف يمكن فصل المخلوط؟

### أكون فرضية

كيف يمكن استخدام الخواص الفيزيائية لفصل مكونات المخلوط بعضها عن بعض؟ أكتب إجابتي بصيغة فرضية: إذا مزجنا الملح، والحصى، وبرادة الحديد، وحرزًا بلاستيكيًا معًا فعندها يمكن استخدام الخواص الفيزيائية الآتية لفصل الأجزاء في المخلوط:

..... تستخدم في فصل الملح، و ..... تستخدم في فصل الرمل، و ..... تستخدم في فصل برادة الحديد، و ..... تستخدم في فصل الحصى، و ..... تستخدم في فصل الحرز البلاستيكي.

### ورقة الترشيح

### المغناطيس

### الماء

### المنخل

### كأس

### أختبر فرضيتي

1 أخذت ملعقة من كل من الملح والرمل والحصى وبرادة الحديد والحرز البلاستيكي، وأضعها جميعًا في كأس بلاستيكي. وهكذا أكون المخلوط الذي استخدمته في هذه التجربة، وأسجل ملاحظاتي بعد كل خطوة من الخطوات التالية.

2 أجرب. أضع المنخل فوق الصحن الزجاجي العميق، وأسكب المخلوط فيه. أهرأ المنخل حتى يتوقف سقوط أي دقائق منه في الصحن، وأنقل المواد التي بقيت في المنخل إلى الوعاء الأخر.

# الوحدة الخامسة الفصل العاشر الدرس الأول حلول



1 أقلب كيس البلاستيك من الداخل إلى الخارج، وأضع داخله مغناطيسًا، ثم أمررت المغناطيس فوق الصحن. أقلب الكيس البلاستيكي مرة أخرى لتجميع المواد التي التقطها المغناطيس داخله.



2 أضيف الماء إلى ما تبقى من المخلوط حتى يصل مستواه إلى ارتفاع 2 سم فوق المواد الموجودة في الوعاء. أستخدم الملعقة لجمع المواد التي طفت على سطح الماء، وأضعها جانبًا.



3 أحرك المخلوط. وأضع ورقة الترشيح في القمع وأسكب المخلوط فيه، وأستخدم كأسًا زجاجية لتجميع الماء الراشح.

4 ألاحظ: أترك كأس الماء في مكان جاف ودافئ مدة يومين.

## أستخلص النتائج

5 أستنح. ما العملية المسؤولة عن فصل الماء عن الملح؟

## التبخير

6 أتواصل. أشارك زملائي في مناقشة كيفية فصل مكونات المخلوط المختلفة. أقارن نتائجي مع فرضيتي وأراجعها وأعدّلها إذا لزم الأمر.



# الوحدة الخامسة الفصل العاشر الدرس الأول حلول

منصة مدرسية تعليمية

4 أجرب. أضع الكيس المغلق جانبًا مدةً من الزمن يحددها معلّمي.

5 أسجل البيانات. بعد انقضاء المدة التي حدّدها معلّمي أقيس كتلة الكيس الممتلئ.

## أستخلص النتائج

6 أفسر البيانات. هل تغيرت كتلة الكيس ومحتوياته؟ لماذا كان من المهم المحافظة على الكيس مغلقًا حتى بعد أخذ قياساتي؟

**لعدم تسرب منه شيء**

7 استتج.  $\Delta$  أكون حذرًا. الآن أفتح الكيس. وأستخدم العدسة المكبرة، وأنظر إلى ما بداخله. هل محتويات الكيس لها الخصائص نفسها التي لاحظتها سابقًا؟

**نعم ولكن بشكل ادق**

8 أفسر البيانات. أستخلص النتائج بالاعتماد على تجربتي هذه، أخدًا في الحسبان كتلة وخصائص المواد في الكيس قبل التجربة وبعدها. ماذا أستتج؟

# الوحدة الخامسة الفصل العاشر الدرس الأول حلول

منصة مدرسية تعليمية

أستكثف أكثر

هل ستتغير الكتلة في تجارب أخرى ينتج فيها مركبات جديدة؟ أجب باستخدام فلز آخر لاختبار توقعي، وأشارك زملائي في الصف في نتائجي.

**نعم ستتغير النتائج**

استقصاء مفتوح

فكر في سؤال حول ماذا يحدث عندما يحترق جسم ما.

◀ سؤالي هو:

**كيف يؤثر الاحتراق على الأجسام؟**

◀ كيف أختبر سؤالي:

◀ نتائجي هي:



### أحتاج إلى:



- صوف الفولاذي
- عدسة مكبرة
- كأس زجاجية
- خل
- ماء
- كيس بلاستيكي قابل للغلاق
- ميزان
- كتل جرامية
- قفازات يدوية
- نظارات وقاية

## ماذا يحدث عندما يصدأ الفلزُّ؟

### أتوقع

ماذا أتوقع أن يحدث عندما يصدأ فلزُّ؟ إذا قست كتلة الفلز قبل أن يصدأ، ترى هل تتغير الكتلة بعد أن يصدأ؟ أكتب جوابي في صورة توقع كالآتي: "عندما يصدأ الصوف الفولاذي (سلك المواعين) بسبب تعرضه للهواء فإن كتلته الكلية.....".

## تزداد الكتلة

### أختبر توقعي

1. ألاحظ. أنظر من قرب إلى الصوف الفولاذي باستعمال العدسة المكبرة، وأصف خصائصه.

## تغير لونه إلى اللون البني





# الوحدة الخامسة الفصل العاشر الدرس الأول حلول

منصة مدرسية تعليمية

## أحتاج إلى:

- قرصين فسوارٍ مُضادَّ للحموضة (٢)
- دوري زجاجي (٢)
- مخبرٍ مُدرَّج
- ماء



## سرعة التفاعل الكيميائي؟

١ أيهما يتفاعل في الماء أسرع: قرصٌ صحيحٌ فسوارٍ من دواءٍ مُضادَّ للحموضة أم قرصٌ مطحونٌ؟ اختبر ذلك باستعمال قرصين دواء: قرصٍ صحيحٍ وآخر مطحونٍ، وأضعُهما في كأسين متشابهتين تمامًا، وأكتب اسميهما (صحيح) و(مطحون) على الكأسين.

٢ استعمل المتغيرات. أصب كميات متساوية من الماء لها درجة الحرارة نفسها في كلتا الكأسين. أطحن أحد الأقراص على ورقة. وأحرص ألا أفقد أي جزء من المكونات.

٣ أجرب. أضيف في الوقت نفسه قرصًا مضادًا للحموضة صحيحًا إلى الكأس المكتوب عليها (صحيح) والقرص الآخر المطحون للكأس المكتوب عليها (مطحون).

٤ ألاحظ. في أي الكأسين بدأ التفاعل أولاً، وانتهى أولاً؟ أي الكأسين كان التفاعل فيها شديدًا؟

يكون التفاعل اشد في القرص المطحون ودرجة حرارته اعلى

٥ استنتج. ما المتغير الذي اختبرته؟ وكيف أثر هذا المتغير في سرعة التفاعل الكيميائي؟

درجة الحرارة وحجم الجزيئات



# الوحدة الخامسة الفصل العاشر الدرس الثاني لول

منصة مدرسية تعليمية

## أحتاج الي



- كؤوس بلاستيكية صغيرة ونظيفة
- ماء
- أقراص مضادة للحموضة
- عصير ليمون
- صودا الخبز ذائبة في الماء
- حل أبيض
- صابون سائل شفاف
- حليب عائي الدسم
- قطارة
- عصير الكرنب الأحمر
- نظارات واقية
- معطف



## ما الأحماض؟ وما القواعد؟

### أتوقع

يتحوّل عصير الكرنب الأحمر إلى اللون الزهري في الأحماض، وإلى اللون الأخضر المزرق في القواعد. ويزداد تغيّر اللون مع ازدياد قوة الحمض أو القاعدة، بينما لا تسبّب المواد المتعادلة تغيّراً في لون عصير الكرنب الأحمر. أيّ المواد أتوقع أنّها حمضية، أو قاعدية، أو متعادلة؟ أكتب جوابي حول توقّعي في جدول يشبه الجدول أدناه.

### أختبر توقّعي

- 1 أتوقّع. أضع ملصقاً لكل عينة على الكؤوس البلاستيكية، ثم أسكب كمية قليلة من العينة في الكأس، وأكتب توقّعاتي في الجدول الآتي:
- 2 ألاحظ.  $\Delta$  أحذر. أضيف عدة نقاط من عصير الكرنب الأحمر إلى العينة الأولى، وأسجل أيّ تغيرات حدثت للون. أضيف المزيد من العصير عند الحاجة، وأكرّر هذه العملية لبقية المواد.

### أستخلص النتائج

- 1 أصنف. أيّ العينات حمضية، وأيها قاعدية، وأيها متعادلة، وأسجل هذه النتائج.
- 2 أفسّر البيانات. أقارن بين هذه البيانات التي حصلت عليها مع توقّعاتي. وأبيّن الفرق بينها.

# الوحدة الخامسة الفصل العاشر الدرس الأول حلول

منصة مدرسته تعليمية

العينه	التوقع / حمضي، قاعدي، متعادل	اللون مع عصير الكرنب الأحمر	النتيجه / حمضي، قاعدي، متعادل
الماء	متعادل		
مياه غازية	حمضيه		
عصير الليمون	حمضي		
صودا الخبز ذائبة في الماء	قلوي		
حل أبيض	قلوي		
صابون سائل شفاف	اجب بنفسك		
حليب نحالي الدسم	اجب بنفسك		

أستكشف أكثر

هل الأطعمة أو المشروبات العادية حمضية، أم قاعدية، أم متعادلة؟ أختبر توقعاتي، وأشارك زملائي بنتائجي.

**منها ما هو حمضي وقاعدي ومتعادل**





منصة مدرسية تعليمية

# الوحدة الخامسة الفصل العاشر الدرس الثاني

استقصاء مفتوح

أفكر في سؤال حول اختبار نوعية التربة، من حيث درجة الحموضة والقاعدية

◀ سؤالي هو:

**هل تختلف كل تربة في درجة الحموضة و القاعدية ؟**

◀ كيف أختبر سؤالي:

◀ نتائجي هي:



# الوحدة الخامسة الفصل العاشر الدرس الثاني حلول

منصة مدرسية تعليمية

## أحتاج إلى



- كأس زجاجية شفافة
- مسحوق الخبيز
- مخبر مدرج سعة ١٠٠ مل
- ماء مقطر
- كاشف عصير الكرنب الأحمر
- قطارة
- خيل شفاف
- ورقة الرقم الهيدروجيني

## التعداد

١ أذوب في كأس بلاستيكية شفافة كمية قليلة من مسحوق الخبز في ٥٠ مل من الماء المقطر.

٢ أصبغ. أضيف عصير الكرنب الأحمر إلى محلول مسحوق الخبز نقطة نقطة. يتحول لون عصير الكرنب الأحمر إلى اللون الزهري في الأحماض وإلى اللون الأخضر المزرقي في القواعد. ما لون المحلول؟ وهل المحلول حمضي أم قاعدي؟

## حمضي

٣ ألاحظ.  $\Delta$  أكون حذرًا. أضيف الخل الصافي إلى المحلول نقطة نقطة. الخل محلول حمضي. ما عدد النقاط التي يحتاج إليها المحلول ليكتسب اللون الأرجواني الأصلي لعصير الكرنب الأحمر؟

## قاعدي

٤ أستنتج. ترى، ماذا حدث لهذا المحلول؟ ماذا يمكن أن تكون قيمة الرقم الهيدروجيني؟ أستعمل ورقة مقياس الرقم الهيدروجيني لفحص توقعاتي.

أقل من ٤ في القاعدي  
وأعلى منها في الحمضي



# الوحدة السادسة الفصل الحادي عشر الدرس الاول

منصة مدرستنا تعليمية

أحتاج إلى



- بطاقة ورق مقوي
- شريط لاصق
- مسطرة مترية
- كرة زجاجية
- ساعة إيقاف



## كيف نقيس السرعة؟

أكوّن فرضية

هل تعتمد سرعة الجسم على المسافة التي يقطعها؟ أكتب فرضية على النحو التالي: "إذا زادت المسافة التي تقطعها الكرة الزجاجية فإن.....".

## الزمن المستغرق يزيد

أختبر فرضيتي

1. اجعل البطاقة في صورة سطح مائل، وأثبته فوق سطح آخر مستوي طويل وأملس.
2. أضع علامة عند بداية السطح المائل لتشير إلى نقطة البداية، وعلامة أخرى على بُعد ١ متر منها لتمثل نقطة النهاية والمسافة بين النقطتين متغير مستقل.
3. أقيس. أضع الكرة أعلى السطح المائل. ثم أتركها تتدحرج، وأقيس الزمن الذي تستغرقه للوصول إلى نقطة النهاية.
4. أكثّر الخطوة الثالثة أكثر من مرة مع تغيير نقطة النهاية، في كل مرة لتصبح على بُعد ٢ متر، و ٣ أمتار.





# الوحدة السادسة الفصل الحادي عشر الدرس الاول

منصة مدرسية تعليمية

أستخلصُ النتائج

1. أستمعل الأرقام. أقسّم في كل مرة المسافة المقطوعة على الزمن المسجّل. والقيمة التي أحصل عليها هي معدل سرعة الكرة الزجاجية.
2. اتواصل. هل حصلت على القيمة نفسها في كل مرة؟ أكتب تقريرًا أصف فيه حركة الكرة الزجاجية.

**لا - تغيرت النتائج**

أستكشفُ أكثر

ماذا يحدث لسرعة الكرة إذا سلكت مسارًا منحنياً، هل تصبح سرعتها أكبر من سرعتها في مسارٍ مستقيم أم أقل؟ أكتب فرضية، وأصمّم تجربة للاختبار ذلك.

**تقل سرعتها**

استقصاء مفتوح

إلى أي مدى يؤثر ميل السطح في سرعة الكرة؟ أفكّر في صياغة سؤالٍ حول أثر التدرج في ميل المنحنى على سرعة الكرة، ثم أصمّم تجربة للتحقق من الإجابة.

◀ سؤالٍ هو:

**ما هو تأثير ميل السطح على السرعة؟**

◀ كيف أختبرُ سؤالِي:

◀ نتائجي هي:



# الوحدة السادسة الفصل الحادي عشر الدرس الاول

منصة مدرسية تعليمية

أحتاج الى

• ساعة إيقاف.



## السرعة اللحظية

- 1 سنعمل معًا في مجموعات، بحيث يكون بيننا (عداء، طالب يقيس الزمن، طالب يقيس المسافة).
- 2 نقيس عند سماع (انطلق) يبدأ العداء الركض، وفي اللحظة نفسها يبدأ ضغط ساعة الإيقاف لقياس الزمن. وعند التوقف نقيس المسافة المقطوعة. نكرّر العملية أربع أو خمس مرات.
- 3 نعيد العملية مرة أخرى مصحوبة بتبادل الأدوار بين الطلاب.
- 4 أمثلُ القراءات بيانيًا، بحيث تكون المسافة على المحور العمودي، والزمن على المحور الأفقي.
- 5 أفسر البيانات: هل يقطع الجسم مسافات متساوية في فترات زمنية متساوية؟ ولماذا؟

لا- بسبب التغير في السرعة عن كل مرة



# الوحدة السادسة الفصل الحادي عشر الدرس الثاني

منصة مدرسته تعلمه

أحتاج إلى



- ميزان ذي كفتين
- كتل معيارية
- كرات تنس طاولة
- كرات تنس أرضي
- كرات قطنية



هل تسقط الأجسام الأثقل بسرعة أكبر؟

أكونُ فرضيةً

أشارَ العالمُ جاليليو في أواخر القرن السادس عشرَ جدلاً بقوله إنَّ كتلةَ الجسم لا تؤثرُ في سرعة سقوطه من مرتفع نحو الأرض. فهل تتفقُ معهُ في هذا القول؟ أكتبُ فرضيةً على النحو التالي "إذا زادت كتلةُ الجسم فإنَّ...".

**سرعته أثناء سقوطه حراً تزيد**

أختبرُ توقعي

1. لاحظ. استعمل الميزان والكتل المعيارية لقياس كتلة كل كرة. وأرثب الكتل تصاعدياً من الأخف إلى الأثقل.

2. أجرّب. أمسك كرتين مختلفتين بكلتا يدي وأسقطهما من الارتفاع نفسه وفي اللحظة نفسها. لاحظ وأسجل أي الكرتين لامست الأرض أولاً، أو أيهما لامست الأرض معاً. أعيد التجربة لأتحقق من ذلك.

3. أكرّر الخطوة الثانية لتجربة الأزواج المحتملة كلها من الكرات.





# الوحدة السادسة الفصل الحادي عشر الدرس الثاني

منصة مدرسية تعليمية

## أستخلصُ النتائج

1 أفسر البيانات. هل كانت الفرضية التي وضعتها صحيحة؟ أكتب تفسيراً مختصراً لتوضيح ذلك.

**نعم سرعته اثناء سقوطه حراً تزيد بزيادة كتلته**

2 أستنتج. سقطت الكرات في الهواء في أثناء إجراء التجربة. فإذا أجريت التجربة على سطح القمر، حيث لا يوجد هواء، فكيف يكون سقوط الكرات؟ أفسر إجابتي.

**بشكل اسرع ولكن جاذبية الارض تختلف عنها في القمر**

## أستكشفُ أكثر

هل يمكن أن تختلف نتائج التجربة إذا أسقطت كرات لها الكتلة نفسها، ولكنها مختلفة الكثافة؟ أكتب فرضية، ثم أستخدم كتلاً معيارية متساوية معلقة في بالونات متفخخة بحجوم مختلفة؛ لأتحقق من صحة فرضيتي.

**لا تختلف نتائج التجربة لكرات لها الكتلة نفسها وتختلف في الكثافة**



# الوحدة السادسة الفصل الحادي عشر الدرس الثاني

منصة مدرسية تعليمية

استقصاء مفتوح

أكون فرضية تتعلق بسقوط أجسام أسطحها مختلفة المساحة، ثم أصمم تجربة وأنفذها للتحقق من الفرضية.  
◀ سؤالي هو:

**هل تتغير السرعة بتغير الكتلة و الكثافة ؟**

◀ كيف أختبر سؤالي:

◀ نتائجي هي:



# الوحدة السادسة الفصل الحادي عشر الدرس الثاني

منصة مدرسته تعليمية

أحتاج إلى	
• بالون	
• خيط	



## القوى غير المتزنة المؤثرة في البالون

- 1 أمرؤ خيطًا من خلال ماصّة عصير طويلة، ثمّ أربطه وأشدّه بين مقعدين متباعدين.
- 2 أنفخ البالون، وأظلل ضاغطًا على عنقه لمنع خروج الهواء منه، وأثبت البالون بالماصّة.
- 3 ألاحظ. أترك البالون، وأسجل ما ألاحظه.

## تتحرك البالونه في عكس اتجاه خروج الهواء منها

- 1 استنتج. هل أثرت قوة غير متزنة في البالون؟ أفسّر ذلك.

## نعم – بسبب خروج الهواء مندفعًا منها

- 2 كيف تتغير حركة البالون إذا نفخته أكثر من ذي قبل؟ أكتب توقّعاتي وأختبرها، وأسجل ما توصلت إليه.

## تزيد سرعتها والمسافة التي تتحركها بسبب زيادة كمية وسرعة خروج الهواء منها





# الوحدة السادسة الفصل الثاني عشر الدرس الأول

منصة مدرسته تعليمية

## أحتاج الي ا



- ثلاثة مفاتيح
- ثلاثة مصابيح كهربائية
- ١,٥ فولت مع قواعدها.
- ثلاث بطاريات ١,٥ فولت مع قواعدها.
- أسلاك معزولة بنهايات مكشوفة


أي المفاتيح الكهربائية يتحكم في إضاءة كل مصباح كهربائي؟

أتوقع

يضيء المصباح الكهربائي ما لم يكن هناك انقطاع في مسار التيار الكهربائي بين قطبي (طرفي) البطارية. سوف أفحص مسارات تيارات كهربائية مختلفة باستخدام مفاتيح كهربائية، ثم أتوقع أي المصابيح الكهربائية تضيء إذا فتحت أو أغلقت المفتاح الكهربائي.

أختبر توقعي

① أرتب دائرة كهربائية حسب المخطط الموضح، مع الإبقاء على جميع المفاتيح الكهربائية مفتوحة.



# الوحدة السادسة الفصل الثاني عشر الدرس الأول



منصة مدرسية تعليمية



٢ أتوقع . أفحص المفتاح الأول . أتوقع أي المصباح يصل مسار التيار الكهربائي من أحد قطبي البطارية إلى القطب الآخر عند إغلاق المفتاح ؟ أي المصباح سيضيء عندما يكون المفتاح الكهربائي مغلقاً ؟ أسجل توقعاتي .

٣ أجرب . أغلق الدائرة الكهربائية باستخدام المفتاح الكهربائي الأول ، وأسجل ملحوظاتي ، ثم أفتح المفتاح .

## يضئ المصباح الاول القريب من المفتاح

٤ أكرر الخطوتين ٢ ، ٣ مع المفتاحين ٢ و ٣ .

## يضئ المصباح ٢ و ٣

### أستخلص النتائج

٥ أفسر البيانات . أفتح ملحوظاتي التي دوّنتها . أي توقعاتي كان صحيحاً ؟ وأيها كان خاطئاً ؟ ما مصدر الخطأ ؟



# الوحدة السادسة الفصل الثاني عشر الدرس الأول

منصة مدرسية تعليمية

## أَسْتَكْشِفُ أَكْثَرَ

أي المفاتيح يجب أن يكون مغلقًا للحصول على أقوى إضاءة ممكنة من مصباح واحد؟ ماذا يحدث لو أغلقت أكثر من مفتاح. أصنم تجربة لاختبار أي المفاتيح المغلقة يُعطي إضاءة أقوى ما يمكن. أنقذ التجربة، وأسجل نتائجي.

## استقصاء مفتوح

هل يمكن لِمفتاح كهربائي أن يُضيء مصباحًا واحدًا، ولا يضيء بقية المصابيح. أفكر في سؤال حول كيف أصل البطارية والأسلاك والمصابيح الكهربائية الثلاثة والمفتاح الكهربائي معًا، لتكوين دائرة كهربائية بحيث يُطفئ فيها مصباح واحد ويبقى مصباحان مُضاءين. أضغ خطة وأنقذ تجربة للإجابة عن سؤالي.

◀ سؤالي هو:

**كيف يؤثر ترتيب المفاتيح والمصابيح على التحكم في الدائرة الكهربائية؟**

◀ كيف أختبر سؤالي:

◀ نتائجي هي:






# الوحدة السادسة الفصل الثاني عشر الدرس الأول

منصة مدرسية تعليمية

## أختار المواد

- بطاريات
- أسلاك كهربائية
- مفتاح كهربائي
- مصباح كهربائي



## قياس التيار الكهربائي

- 1 أركب: دائرة كهربائية لمصباح يدوي، باستعمال بطارية ومفتاح كهربائي ومصباح كهربائي وأسلاك كهربائية.
- 2 ألاحظ. أغلق الدائرة الكهربائية باستخدام المفتاح الكهربائي، وأسجل نتائجي.

## يضيء المصباح

- 3 أفصل الدائرة الكهربائية، وأوصل بها بطارية أخرى. أتأكد أن القطب الموجب للبطارية الثانية يلامس القطب السالب للأولى.
- 4 أغلق الدائرة الكهربائية. هل شدة إضاءة المصباح الكهربائي كما هي في السابق؟ لماذا؟

## لا - تتغير الشدة

- 5 استنتج. كيف استدل على سريان كهرباء أكثر في دائرة كهربائية؟

## بشدة إضاءة المصباح



# الوحدة السادسة الفصل الثاني عشر الدرس الثاني

منصة مدرسية تعليمية

## أحتاج إلى



- كيس بلاستيكي شفاف
- برادة حديد
- قضيب مغناطيسي
- خيط
- مسطرة مترية
- كليب
- بوصلة

كيف تؤثر قوى المغناطيس؟


أتوقع

يمكن للمغناطيس أن يسحب أو يدفع غيره من المغناطيسات. في أي أجزاء القضيب المغناطيسي تتركز أكبر قوة؟ اكتب توقعي.

## في الاطراف

أختبر توقعي

1 الاحفظ. أضع برادة حديد في كيس بلاستيكي وأغلقه جيدًا وأضع الكيس فوق قضيب مغناطيسي. هل تشكل البرادة الحديد شكلًا منتظمًا. أرسّم الشكل كما لاحظته.



2 أجرب. أعلق قضيبًا مغناطيسيًا باستخدام المسطرة المترية، كما في الصورة، وأقرب إليه قضيبًا مغناطيسيًا آخر. وأراقب كيف يتحرك. أسجل ملاحظاتي. وأكرّر ذلك لكل جهة من المغناطيسي.

# الوحدة السادسة الفصل الثاني عشر الدرس الثاني



مادة دراسية



أضع المسطرة المترية مستوية على الطاولة، وأضع البوصلة عند التدرج صفر للمسطرة. أوجه المسطرة إلى اتجاه شرق غرب. أبدأ في تحريك المغناطيس من عند التدرج ١٠٠ سم على المسطرة المترية، نحو البوصلة. أسجل المسافة التي بدأت عندها إبرة البوصلة في التحرك، وأكرر ذلك للطرف الآخر من المغناطيس.

## أستخلص النتائج

أفشر البيانات. أتفحص جميع ملاحظاتي. أيها يدعم توقعاتي؟ وأيها لا يتفق معها؟ أوضح ذلك. هل كانت توقعاتي صحيحة؟ لماذا؟

نعم

## أستكشف أكثر

أفترض أنني وضعت قضيبين مغناطيسيين على استواء واحد، وفي خط مستقيم؛ بحيث يلامس القطب الشمالي لمغناطيس القطب الجنوبي للآخر. ترى أين تتركز أكبر قوة لهذا المغناطيس المزدوج؟ أصمم تجربة لاختبار توقعي، وأكتب تقريرًا عن مدى دقته.

## في الاطراف للأقطاب





# الوحدة السادسة الفصل الثاني عشر الدرس الثاني

منصة مدرسية تعليمية

استقصاء مفتوح

ما الأنماط التي يمكن أن تظهر، إذا وضعت المغناطيسات في أوضاع أخرى. أفكر في سؤال حول كيفية وضع مغناطيسات معاً لعمل أنماط مختلفة. أضع خطة وأنفذها للإجابة عن سؤالي.

◀ سؤالي هو:

**هل تؤثر اوضاع عدة مغناطيسات معا في قوتهم؟**

◀ كيف أختبر سؤالي:

◀ نتائجي هي:



# الوحدة السادسة الفصل الثاني عشر الدرس الثاني

منصة مدرسية تعليمية

أحتاج الى	
•	قطعتين من سلك كهربائي معزول، ١ م، ٢ م
•	قلم رصاص
•	بوصلية
•	بطارية
•	مشبك أوراق صغير
•	مسمار

## صنّع مغناطيس كهربائي

١ ألف سلكًا معزولًا حول قلم رصاصي ٢٥ لفّة، ثم أنزع القلم.  
٢ الأخطأ: أضع بوصلية تحت الملف، ثم أوجه الملف بحيث يصبح متعامدًا مع إبرة البوصلة، أوصل طرفي السلك بقطبي بطارية. أدوّن ملاحظاتي.

### يتحرك مؤشر البوصلة

٣ أثبت طرفي السلك بالبطارية، وأجرب أن يجذب الملف أكبر قدر ممكن من مشابك الورق الصغيرة الفلزية. ما أكبر سلسلة من المشابك جذبت؟  
٤ أكثر الخطلوتين ٢، ٣ بعد وضع مسبار داخل الملف، ثم أكثر النشاط باستخدام ملف أطول؟

### يزيد عدد المشابك التي تجذب

٥ أفسر البيانات: كيف يمكنني صنّع مغناطيس كهربائي قويّ بالمواد التي استخدمتها؟

### بالطريقة المذكورة في التجربة السابقة



