

تم تحميل هذا الملف من موقع المناهج الإماراتية



almanahj.com

موقع  
المناهج الإماراتية

\*للحصول على أوراق عمل لجميع الصفوف وجميع المواد اضغط هنا

<https://almanahj.com/ae>

\* للحصول على أوراق عمل لجميع مواد الصف الثالث اضغط هنا <https://almanahj.com/ae/3>

\* للحصول على جميع أوراق الصف الثالث في مادة اجتماعيات ولجميع الفصول, اضغط هنا [3social/ae/com.almanahj//:https](https://almanahj.com/ae/3social)

\* للحصول على أوراق عمل لجميع مواد الصف الثالث في مادة اجتماعيات الخاصة بـ الفصل الثاني اضغط هنا

<https://almanahj.com/ae/3social2>


\* لتحميل كتب جميع المواد في جميع الفصول للـ الصف الثالث اضغط هنا [grade3/ae/com.almanahj//:https](https://almanahj.com/ae/grade3)

\* لتحميل جميع ملفات المدرس عمر حسن اضغط هنا

للتحدث إلى بوت المناهج على تلغرام: اضغط هنا [bot\\_almanahj/me.t//:https](https://t.me/bot_almanahj)



#عام التسامح - 2019



الاسم : ..... الصف: الثالث ( ) التاريخ : / / 2019

الهدف العام : البوصلة والقبلة ؟

النشاط الأول : الجهات الأصلية تلعب دور كبير في تحديد جهة القبلة ،عزيزي معن النظر في الصورة التالية ثم أجب ؟




ايهما أصح في صلاته ولماذا ؟

.....

النشاط الثاني : ضع دائرة حول رمز الإجابة الصحيحة ؟  
حمد في الصورة استدل على طريقه من خلال

A	البوصلة	B	الشمس	C	القبلة
---	---------	---	-------	---	--------





#عام التسامح - 2019



الإسم : ..... الصف: الثالث ( ) التاريخ : / / 2019

الهدف العام : البوصلة والقبلة ؟

النشاط الأول : ضع دائرة حول رمز الإجابة الصحيحة حمد في الصورة استدل على طريقه من خلال ؟

A	البوصلة	B	الشمس	C	القبلة
---	---------	---	-------	---	--------



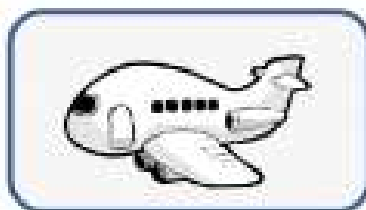
في الليل نستخدم ..... لنستدل على الطريق ؟

A	البوصلة	B	الشمس	C	القبلة
---	---------	---	-------	---	--------

نحتاج للتعرف عليها من أجل الصلاة ؟

A	البوصلة	B	الشمس	C	القبلة
---	---------	---	-------	---	--------

ما ذا يحتاج سائق الطائرة ؟





#عام التسامح - 2019



الاسم : ..... الصف: الثالث ( ) التاريخ : / / 2019

الهدف العام : البوصلة والقبلة ؟

النشاط الأول : ضع دائرة حول رمز الإجابة الصحيحة في النهار نستدل على الطرق من خلال ؟

A	البوصلة	B	الشمس	C	القبلة
---	---------	---	-------	---	--------

في الليل نستخدم ..... لنستدل على الطريق ؟

A	البوصلة	B	الشمس	C	القبلة
---	---------	---	-------	---	--------

نحتاج للتعرف عليها من أجل الصلاة ؟

A	البوصلة	B	الشمس	C	القبلة
---	---------	---	-------	---	--------

اكتب الكلمة المناسبة تحت الصورة ؟  
نستدل بالشمس على الاتجاه - بوصلة - الكعبة



.....

.....

