

كل ما يحتاجه الطالب في جميع الصفوف من أوراق عمل واختبارات ومذكرات، يجده هنا في الروابط التالية لأفضل مواقع تعليمي إماراتي 100 %

<u>تطبيق المناهج الإماراتية</u>	<u>الاجتماعيات</u>	<u>الرياضيات</u>
<u>الصفحة الرسمية على التلغرام</u>	<u>الاسلامية</u>	<u>العلوم</u>
<u>الصفحة الرسمية على الفيسبوك</u>	<u>الانجليزية</u>	
<u>التربية الاخلاقية لجميع الصفوف</u>	<u>اللغة العربية</u>	
<u>التربية الرياضية</u>		
مجموعات التلغرام.	مجموعات الفيسبوك	قنوات تلغرام
<u>الصف الأول</u>	<u>الصف الأول</u>	<u>الصف الأول</u>
<u>الصف الثاني</u>	<u>الصف الثاني</u>	<u>الصف الثاني</u>
<u>الصف الثالث</u>	<u>الصف الثالث</u>	<u>الصف الثالث</u>
<u>الصف الرابع</u>	<u>الصف الرابع</u>	<u>الصف الرابع</u>
<u>الصف الخامس</u>	<u>الصف الخامس</u>	<u>الصف الخامس</u>
<u>الصف السادس</u>	<u>الصف السادس</u>	<u>الصف السادس</u>
<u>الصف السابع</u>	<u>الصف السابع</u>	<u>الصف السابع</u>
<u>الصف الثامن</u>	<u>الصف الثامن</u>	<u>الصف الثامن</u>
<u>الصف التاسع عام</u>	<u>الصف التاسع عام</u>	<u>الصف التاسع عام</u>
<u>الصف التاسع متقدم</u>	<u>الصف التاسع متقدم</u>	<u>الصف التاسع متقدم</u>
<u>الصف العاشر عام</u>	<u>الصف العاشر عام</u>	<u>الصف العاشر عام</u>
<u>الصف العاشر متقدم</u>	<u>الصف العاشر متقدم</u>	<u>الصف العاشر متقدم</u>
<u>الحادي عشر عام</u>	<u>الحادي عشر عام</u>	<u>الحادي عشر عام</u>
<u>الحادي عشر متقدم</u>	<u>الحادي عشر متقدم</u>	<u>الحادي عشر متقدم</u>
<u>ثاني عشر عام</u>	<u>الثاني عشر عام</u>	<u>الثاني عشر عام</u>
<u>ثاني عشر متقدم</u>	<u>ثاني عشر متقدم</u>	<u>ثاني عشر متقدم</u>

<http://almanahj.com/ae/>

Name _____ Date _____

Science Practice Test 2


Directions: Use the words in the word box to complete the sentences.

repel	poles	attract	physical change	chemical change
heat	cool	solid	liquid	gas

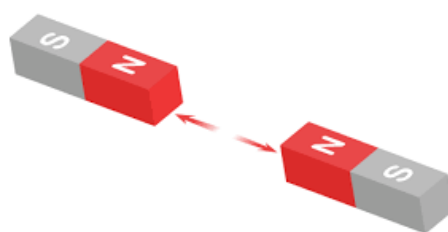
1. A magnet can _____ or pull some objects.
2. When you change the size or shape of matter, it is called a _____.
3. A magnet has two _____.
4. When matter goes through a _____, it is not easy to change it back.
5. When water freezes, it becomes a _____, or ice.
6. When you put the same poles together, they _____ each other.
- 7-8. When you _____ a solid, it can become a _____.
- 9-10. When a _____ condenses, or _____, it turns back into a liquid.

Directions: Use the pictures to answer the questions.

11. Which object is NOT magnetic.



12. Which picture shows "repel".



13. Which picture shows a chemical change?

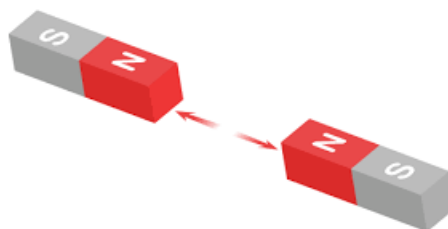


14. Which picture shows a physical change?

<http://almanahj.com/ae/>



15. Which picture shows "attract"?





16. The picture shows a physical change. True or False? _____



17. The picture shows a physical change. True or False? _____



18. The picture shows a chemical change. True or False? _____



19. The pencil is magnetic. True or False? _____



20. The staples are magnetic. True or False? _____

21. Which picture shows heating?



22. Which picture shows water vapor or a gas?

<http://almanahj.com/ae/>



23. Which picture shows cooling?



24-25. How can you tell if something is a physical change or a chemical change?

<http://almanahj.com/ae/>