

يمكنك الحصول على جميع الملفات من أوراق عمل وامتحانات ومذكرات وملخصات لجميع الصفوف وجميع المواد الخاصة بالمنهاج الإماراتي من خلال الرابط التالي

<https://www.almanahj.com>

كما يمكنك الحصول على جميع الملفات لجميع الفصول عبر تحميل تطبيق المناهج من خلال الرابط التالي:

<https://play.google.com/store/apps/details?id=com.almanahj.UAEapplication>

يمكنك الحصول على جميع الروابط الخاصة بمجموعات المناهج الإماراتية على مواقع التواصل الاجتماعي واتساب وفيسبوك وتلغرام من خلال الدخول على الرابط التالي:

<http://t.me/almanahj>



6) تعرف مريم أن في العام الواحد ثلاثمئة وخمسة وستين يوماً . كيف يمكنها كتابة هذا العدد

a) 356

b) 3560

c) 365

7) حدد نمط الأعداد الذي يمثل العد بمقدار 10 تصاعدياً

a) 170,180,190

b) 170,175,180

c) 100,200,300

8) حوِّط على العدد الأكبر

a) 733

b) 753

c) 735

9) حوِّط على العدد الأصغر

a) 437

b) 438

c) 430

[www.almanahj.com](http://www.almanahj.com)




10) لدى فاطمة 368 من بذور زهرة دوار الشمس . فكم عدد المئات التي لديها ؟

a) 8 مئات

b) 6 مئات

c) 3 مئات

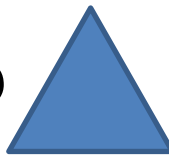
11) ما الشكل رقم 12 في النمط ؟




a)



b)



c)



12) كم عدد العشرات في 700

a) 70

b) 7

c) 700

(13) العدد 265 يكتب بالحروف

- (a) مئتان وستة وخمسون  
(b) مئتان وخمسة وستون  
(c) خمسمئة وستة وعشرون  
(d) ستمئة واثنان وخمسون

(14) اكتب العدد الناقص في النمط 630 , 640 , ....., 660

- a) 645  
b) 670  
c) 650

(15) حدد نمط الأعداد الذي يمثل العد بمقدار 5 تنازليا

- a) 110 , 120 , 130  
b) 105 , 100 , 95  
c) 90 , 80 , 70

(16) ما العدد الأكبر من العدد 430

- a) 199  
b) 288  
c) 431

(17) ما ناتج جمع  $400+500=.....$

- a) 900  
b) 100  
c) 909

(18) ما الحد الجمعي الناقص  $.....+10 = 867$

- a) 767  
b) 877  
c) 857

(19) ما العدد الناقص  $456 - ..... = 356$

- a) 100  
b) 10  
c) 0

(20) لدى مريم 164 كرة زجاجية ولدى فاطمة 100 كرة زجاجية فما إجمالي عدد

الكرات الزجاجية التي مع الفتاتين ؟

- a) 174  
b) 264  
c) 165

(21) حدد تفكيك العدد 136 لإيجاد حل الجمل العددية للجمع  $136 + 98 = .....$

- a)  $130+6$   
b)  $134+2$   
c)  $132+4$

(22) أي جمل عددية يمكن أن تساعدك في حل 800 - 300

a) 8-3

b) 8-2

c) 8-1

(23) ما ناتج 400 - 400=.....

a) 100

b) 800

c) 0

(24) أي مسائل الطرح التالية بحاجة الى إعادة تجميع من أجل حلها

c) 267-145

a) 456-321

b) 423-215

(25) في الحقل 800 زهرة قطف المزارع 556 زهرة منها , كم عدد الزهور المتبقية في الحقل ؟

a) 244

b)344

c) 322

(26) ما ناتج 8-0 =.....

a) 8

b) 0

c) 10

[www.almanahj.com](http://www.almanahj.com)

**السؤال الثالث : أوجد ناتج كل مما يأتي**

$$\begin{array}{r} 700 \\ +100 \\ \hline \end{array}$$

$$\begin{array}{r} 378 \\ + 10 \\ \hline \end{array}$$

$$\begin{array}{r} 345 \\ + 100 \\ \hline \end{array}$$

$$\begin{array}{r} 859 \\ + 43 \\ \hline \end{array}$$

$$\begin{array}{r} 654 \\ +124 \\ \hline \end{array}$$

$$\begin{array}{r} 476 \\ + 149 \\ \hline \end{array}$$

$$\begin{array}{r} 765 \\ + 315 \\ \hline \end{array}$$

$$\begin{array}{r} 700 \\ -100 \\ \hline \end{array}$$

$$\begin{array}{r} 378 \\ - 10 \\ \hline \end{array}$$

$$\begin{array}{r} 345 \\ - 100 \\ \hline \end{array}$$

$$\begin{array}{r} 400 \\ - 400 \\ \hline \end{array}$$

$$\begin{array}{r|l} 8 & 1 & 4 \\ - & 3 & 4 \\ \hline & & \end{array}$$

$$\begin{array}{r|l} 6 & 5 & 4 \\ - & 1 & 3 & 2 \\ \hline & & & \end{array}$$

$$\begin{array}{r|l} 4 & 0 & 0 \\ - & 2 & 3 & 4 \\ \hline & & & \end{array}$$

$$\begin{array}{r|l} 6 & 3 & 4 \\ - & 1 & 5 & 9 \\ \hline & & & \end{array}$$

### السؤال الرابع :

(28) لدى جودي 562 كتابا كيف يمكن لجودي أن تضع هذا العدد باستخدام الصيغة الموسعة

$$562 = \underline{\quad\quad\quad} + \underline{\quad\quad\quad} + \underline{\quad\quad\quad}$$

[www.almanahj.com](http://www.almanahj.com)

(29) يبيع متجر ما الكرات الزجاجية في عبوات فيها 240 أو 260 أو 265 كرة زجاجية تريد مريم شراء 500 كرة زجاجية ، ما العبوتان اللتان ستشتريهما مريم ؟ العبوتان اللتان ستشتريهما مريم يوجد فيهما .....كرة زجاجية و .....كرة زجاجية

(30) تتابع فاطمة حالة الطقس منذ 249 يوما ، كان الجو ممطرا في 152 يوم ، كم عدد الأيام التي لم يكن الجو فيها ممطرا

\_\_\_\_\_ ○ \_\_\_\_\_ ○ \_\_\_\_\_

(31) قارن بوضع < أو > أو =

$$419 \text{ ○ } 419$$

$$601 \text{ ○ } 106$$

$$637 \text{ ○ } 641$$

## السؤال الخامس :

يبين جدول العلامات المجاور الطعام الذي يفضله 20 طالبا .

الاجمالي	العلامات الأحصائية	الطعام المفضل
3		الدجاج
4		اللحم
7		السمك
6		البرجر

(32) أكمل الفراغات في الجدول المجاور

(33) أي الطعام يفضله معظم ( أكثر ) الطلاب ؟

.....

(34) أي الطعام يفضله أقل الطلاب ؟

.....

(35) كم عدد الطلاب الذين يفضلون البرجر ؟

.....

(36) كم إجمالي عدد الطلاب الذين شاركوا بالتصويت ؟

.....

(37) استخدم جدول العلامات أعلاه لرسم تمثيل بياني بالصورة

[www.almanahj.com](http://www.almanahj.com)

							الدجاج
							اللحم
							السمك
							البرجر

## السؤال السادس :

استخدم الجدول المجاور للإجابة عن الأسئلة التالية :

الاجمالي	العلامات	الحيوان المفضل
4	////	الببغاء
5	///	القطعة
2	//	الكلب

(38) ما الحيوان الذي يفضله معظم الأشخاص

.....

(39) بكم يزيد عدد الأشخاص الذين يفضلون القطط

عن عدد الأشخاص الذين يفضلون الكلاب ؟

.....

(40) كم إجمالي عدد الأشخاص الذين يفضلون الببغاء والقطط ؟

.....

حَوط حول الصورة التي تطابق الكلمة.

3. تمثيل بياني بالصور



الحيوان الأليف المفضل

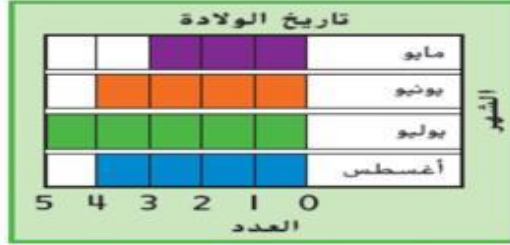
سمكة	رنب	قط	كلب	حصان
1	2	3	4	5

المحتاج كل صورة حيوان - 1 صوت

نوع الكتاب	الإحصاء	الاجمالي
مغامرات	11	
مدرسة	11	
رياضة	11	

تمرين على الاختبار

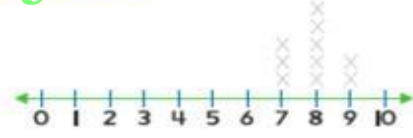
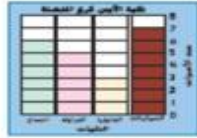
9. كم إجمالي عدد الأشخاص الذين ولدوا في مايو وأغسطس؟



- 7  8
- 3  4

مراجعة المفردات

4. ضع دائرة حول التمثيل البياني بالنقاط الممثلة.



تمرين على الاختبار

7. كم عدد الأشخاص الذين يمتلكون 5 قطعاً؟



- 2  3
- 0  1

تمرين على الاختبار

15. توجد 4 زرافات في حديقة الحيوان. كل زرافة لها 4 أرجل. فكم عدد الأرجل إجمالاً؟

- 2  4  8  16