

تم تحميل هذا الملف من موقع المناهج الإماراتية



\*للحصول على أوراق عمل لجميع الصفوف وجميع المواد اضغط هنا

<https://almanahj.com/ae>

\* للحصول على أوراق عمل لجميع مواد الصف الثاني اضغط هنا <https://almanahj.com/ae/2>

\* للحصول على جميع أوراق الصف الثاني في مادة رياضيات ولجميع الفصول, اضغط هنا [2math/ae/com.almanahj//:https](https://almanahj.com/ae/2math)

\* للحصول على أوراق عمل لجميع مواد الصف الثاني في مادة رياضيات الخاصة بـ الفصل الثاني اضغط هنا

<https://almanahj.com/ae/2math2>

\* لتحميل كتب جميع المواد في جميع الفصول للـ الصف الثاني اضغط هنا [grade2/ae/com.almanahj//:https](https://almanahj.com/ae/grade2)

للتحدث إلى بوت المناهج على تلغرام: اضغط هنا [bot\\_almanahj/me.t//:https](https://t.me/bot_almanahj)



20		درجة الامتحان		الأول		أسئلة الامتحان التكويني	
الرياضيات	المادة الدراسية	الثاني	الفصل الدراسي	2019-2020	العام الدراسي		
الثاني/	الصف/الشعبة	6	عدد الصفحات	45 دقيقة	زمن الاختبار		
			اسم الطالب	عام	المسار		
على الطالب التأكد من عدد صفحات الأسئلة (الإجابة على الورقة نفسها)							

رقم السؤال	درجة السؤال	الدرجة المستحقة للطالب
الأول	10	
الثاني	10	
المجموع	20	

السؤال الأول	
ضع دائرة حول الإجابة الصحيحة فيما يأتي:	10


كم عدد المئات؟		1
A	5	
B	3	
C	2	

سبعمئة وخمسة وعشرون		ما العدد؟
A	572	5
B	725	
C	720	

حدد نمط الأعداد الذي يمثل العد بمقدار 10 تصاعدي.		6
A	230, 240, 250	
B	110, 115, 120	
C	330, 320, 310	

578      ○ 578		قارن .
A	<	7
B	>	
C	=	

ما الشكل رقم 11 في النمط؟



8

A



B



C



كيف يمكنك تفكيك العدد 31 لإيجاد حل الجملة العددية للجمع؟

$$199 + 31 = \dots\dots\dots$$

9

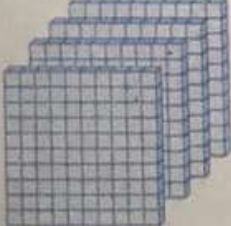
A 28+3

B 29+2

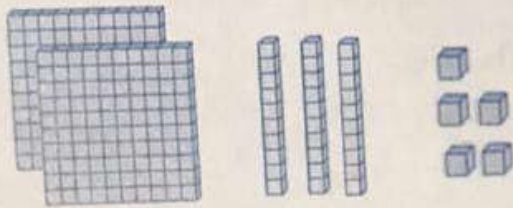
C 30+1

أوجد ناتج الجمع.		<b>10</b>
$500+100=.....$		
A	700	
B	600	
C	500	

السؤال الثاني:	
10	يجب كتابة خطوات الحل التفصيلية للمفردات الإختبارية كافة

اكتب كم عدد المئات والعشرات والآحاد.		<b>11</b>
		
<u>4</u> مئات = <u>40</u> عشرات = <u>400</u> آحاد		

اكتب العدد بالصيغة الموسّعة. ثم اكتب العدد.



5 أحاد و 3 عَشَرات و 2 مئات

$$\underline{\hspace{2cm}} + \underline{\hspace{2cm}} + \underline{\hspace{2cm}} = \underline{\hspace{2cm}}$$

12

أوجد ناتج جمع كل مما يلي:

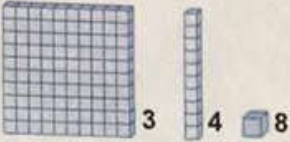
13

□		
2	9	4
+	1	0

14

□		
4	6	7
+	2	5

انتهت الأسئلة

		ما العدد؟	
			2
A	843		
<input checked="" type="radio"/>	B 348		
C	344		

		ما هو قيمة الرقم المظلل بالأحمر في 6 <u>7</u> 4؟	
A	7		3
<input checked="" type="radio"/>	B 70		
C	700		

		ما العدد 513 بالكلمات؟	
<input checked="" type="radio"/>	A خمسمئة وثلاثة عشر		4
B	خمسمئة وواحد وثلاثين		
C	تسعمئة وخمسة عشر		