

تم تحميل هذا الملف من موقع المناهج الإماراتية



*للحصول على أوراق عمل لجميع الصفوف وجميع المواد اضغط هنا

<https://almanahj.com/ae>

* للحصول على أوراق عمل لجميع مواد الصف الثاني اضغط هنا <https://almanahj.com/ae/2>

* للحصول على جميع أوراق الصف الثاني في مادة رياضيات ولجميع الفصول, اضغط هنا [2math/ae/com.almanahj//:https](https://almanahj.com/ae/2math)

* للحصول على أوراق عمل لجميع مواد الصف الثاني في مادة رياضيات الخاصة بـ الفصل الثاني اضغط هنا

<https://almanahj.com/ae/2math2>

* لتحميل كتب جميع المواد في جميع الفصول للـ الصف الثاني اضغط هنا [grade2/ae/com.almanahj//:https](https://almanahj.com/ae/grade2)

للتحدث إلى بوت المناهج على تلغرام: اضغط هنا [bot_almanahj/me.t//:https](https://t.me/bot_almanahj)

دائرة التعليم والمعرفة

مدرسة الرؤية الخاصة

العام الدراسي 2019 - 2020

الفصل الدراسي الثاني

التاريخ: 2020 / 2 / 24



ورقة عمل رقم (6)

الاسم : -----

الصف الثاني / -----

المادة : رياضيات

الموضوع : مهارات الطرح

المعلمة : نها قلعه جي

مؤشرات الأداء :

- 1- أن يتمكن من طرح 10 و 100 ذهنياً .
- 2- أن يتمكن من تفكيك عشرة أو مئة من أجل إعادة التجميع للطرح .

السؤال الأول :

فك المئات للطرح :

$$500 - 98$$



$$\underline{\hspace{2cm}} - 98 = \underline{\hspace{2cm}}$$

$$\underline{\hspace{2cm}} + \underline{\hspace{2cm}} = \underline{\hspace{2cm}}$$

$$500 - 98 = \text{إذا} \text{-----}$$

$$324 - 96$$



$$\underline{\hspace{2cm}} - 96 = \underline{\hspace{2cm}}$$

$$\underline{\hspace{2cm}} + \underline{\hspace{2cm}} = \underline{\hspace{2cm}}$$

$$324 - 96 = \text{إذا} \text{-----}$$

السؤال الثاني :

كيف يمكنك تفكيك 244 لحل 244 - 95

244 و 100



144 و 95



144 و 100



200 و 44



السؤال الثالث أوجد الحد الناقص:

$587 - \underline{\hspace{2cm}} = 387$

$954 - \underline{\hspace{2cm}} = 942$

$800 - 500 = \underline{\hspace{2cm}}$

$900 - 300 = \underline{\hspace{2cm}}$

$$\begin{array}{r} 900 \\ - \square \\ \hline 300 \end{array}$$

$$\begin{array}{r} 700 \\ - \square \\ \hline 200 \end{array}$$

$$\begin{array}{r} 300 \\ - \square \\ \hline 300 \end{array}$$

$$\begin{array}{r} \square \\ - 300 \\ \hline 300 \end{array}$$

$$\begin{array}{r} \square \\ - 500 \\ \hline 400 \end{array}$$

$$\begin{array}{r} \square \\ - 200 \\ \hline 500 \end{array}$$

السؤال الرابع :

أوجد ناتج 400 - 400

900

800

0

100

أوجد ناتج 700 - 200

200

500

300

400

يوجد 236 حافلة مدرسة في موقف الحافلات ثم تحركت حافلات المدرسة وظلت 98 حافلة في الموقف كم عدد الحافلات المتحركة

139

137

136

138

السؤال الخامس: أوجد الناتج :

$$1) \begin{array}{r} 738 \\ - 10 \\ \hline \end{array}$$

$$2) \begin{array}{r} 245 \\ - 100 \\ \hline \end{array}$$

$$3) \begin{array}{r} 358 \\ - 100 \\ \hline \end{array}$$

$$4) \begin{array}{r} 358 \\ - 10 \\ \hline \end{array}$$

$$5) \begin{array}{r} - 366 \\ 10 \\ \hline \end{array}$$

$$6) \begin{array}{r} - 982 \\ 100 \\ \hline \end{array}$$

$$7) \begin{array}{r} - 673 \\ 10 \\ \hline \end{array}$$

$$8) \begin{array}{r} - 329 \\ 100 \\ \hline \end{array}$$

$$5) 700 - 100 = \square$$

$$7) 300 - 300 = \square$$

$$6) 353 - 100 = \square$$


$$8) 900 - 10 = \square$$

$$9) 842 - \square = 832$$

$$11) \square - 10 = 243$$

$$10) 535 - \square = 435$$

$$12) \square - 100 = 294$$



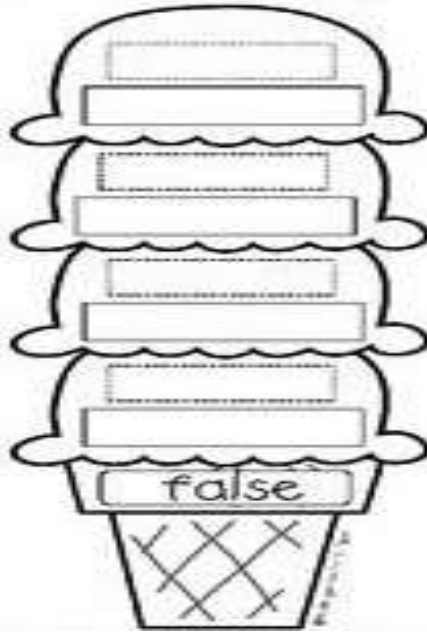

السؤال السادس: أوجد الناتج

$$800 - 300 =$$

ثم مثل ذلك على خط الأعداد



السؤال السابع: أصنف الجمل العددية الآتية :



$$500 - 200 = 300$$

$$700 - 100 = 300$$

$$200 - 200 = 0$$

$$900 - 0 = 900$$

$$1200 - 400 = 800$$

$$700 - 600 = 200$$

السؤال الثامن:

أي جملة عددية ممايلي يمكن أن تساعدك في حل $700 - 500$ ؟

$$7-2$$



السؤال التاسع:

أوجد الناتج باستخدام حقائق الجمع :

1)
$$\begin{array}{r} 900 \\ - 200 \\ \hline \end{array}$$

2)
$$\begin{array}{r} 90 \\ - 20 \\ \hline \end{array}$$

3)
$$\begin{array}{r} 9 \\ - 2 \\ \hline \end{array}$$

4)
$$\begin{array}{r} 500 \\ - 300 \\ \hline \end{array}$$

5)
$$\begin{array}{r} 50 \\ - 30 \\ \hline \end{array}$$

6)
$$\begin{array}{r} 5 \\ - 3 \\ \hline \end{array}$$

7)
$$\begin{array}{r} 900 \\ - \square \\ \hline 300 \end{array}$$

8)
$$\begin{array}{r} 700 \\ - \square \\ \hline 200 \end{array}$$

9)
$$\begin{array}{r} 300 \\ - \square \\ \hline 300 \end{array}$$

10)
$$\begin{array}{r} \square \\ - 300 \\ \hline 300 \end{array}$$

11)
$$\begin{array}{r} \square \\ - 500 \\ \hline 400 \end{array}$$

12)
$$\begin{array}{r} \square \\ - 200 \\ \hline 50 \end{array}$$

السؤال العاشر : أصنف الجمل العددية الآتية :

$$370 - 10 = 360$$


$$327 - 100 = 227$$

$$770 - 100 = 650$$

$$167 - 10 = 157$$

$$738 - 100 = 738$$

$$820 - 10 = 810$$



السؤال الحادي عشر:

1) قرأت حصة 160 قصة خلال فصل الصيف . وقرأت مريم 10 قصص أقل مما قرأت حصة . فكم عدد القصص التي قرأتها مريم ؟

260

10

150

170



2) ذهب 500 ولد و أب إلى مباراة كرة السلة و حضر المباراة 300 أب، فكم عدد الأولاد الذين حضروا المباراة ؟

الحل:

3) ذهب 800 شخص لمشاهدة مباراة كرة قدم و غادر منهم 200 شخص قبل إنتهاء المباراة، فكم عدد الأشخاص الذين استمروا حتى النهاية ؟

الحل: