

تم تحميل هذا الملف من موقع المناهج الإماراتية



almanahj.com

موقع
المناهج الإماراتية

*للحصول على أوراق عمل لجميع الصفوف وجميع المواد اضغط هنا

<https://almanahj.com/ae>

* للحصول على أوراق عمل لجميع مواد الصف الثاني اضغط هنا <https://almanahj.com/ae/2>

* للحصول على جميع أوراق الصف الثاني في مادة رياضيات ولجميع الفصول, اضغط هنا [2math/ae/com.almanahj//:https](https://almanahj.com/ae/2math)

* للحصول على أوراق عمل لجميع مواد الصف الثاني في مادة رياضيات الخاصة بـ الفصل الثاني اضغط هنا

<https://almanahj.com/ae/2math2>

* لتحميل كتب جميع المواد في جميع الفصول للـ الصف الثاني اضغط هنا [grade2/ae/com.almanahj//:https](https://almanahj.com/ae/grade2)

* لتحميل جميع ملفات المدرس هيفاء سعيد المسماري اضغط هنا

للتحدث إلى بوت المناهج على تلغرام: اضغط هنا [bot_almanahj/me.t//:https](https://t.me/bot_almanahj)

وزارة التربية والتعليم
المجلس التعليمي 3 - النطاق 4
مدرسة الفجيرة للتعليم الأساسي ح 1

مادة الرياضيات

مراجعة الاختبار
التكويني الأول



الاسم : _____

الصف : الثاني الأساسي ()

الفصل الدراسي الثاني

العام الدراسي 2019 - 2020

إعداد المعلمة هيفاء سعيد المسماري





اختر الإجابة الصحيحة مما يلي :

(1) ما هو الرقم الذي يمثل منزلة المئات في العدد 568 .

A) 5

B) 6

C) 8

(2) كم عدد الآحاد الموجودة في 3 مئات ؟

A) 3

B) 30

C) 300

(3) لدى سارة 398 قلماً. فكم عدد العشرات التي لديها ؟

A) 3 عشرات

B) 9 عشرات

C) 8 عشرات

(4) يحتوي عدد على 6 عشرات و 5 آحاد و 7 مئات ؟

A) 767

B) 756

C) 765

(5) ما هي الصيغة الموسعة للعدد 342 ؟

A) $300 + 42$

B) $300 + 40 + 2$

C) $3 + 4 + 2$





(6) يفكر راشد في عدد ، يوجد في هذا العدد 6 آحاد و 5 عشرات، ويوجد فيه نفس الرقم في المئات والعشرات ؟

- A) 656 B) 665 C) 556
-

(7) ما هي قيمة العدد الذي يمثل فيه السهم؟
764
↑

- A) 700 B) 70 C) 7
-

(8) حوط العدد الذي يمثل فيه السهم المئات.

- A) 1,029 B) 1,398 C) 1,000
↑ ↑ ↑
-

(9) حدد نمط الأعداد الذي يمثل العد بمقدار 5 تنازلياً.

- A) 520, 515, 510 B) 575, 580, 585 C) 655, 555, 455
-

(10) انظر إلى الأحرف الإبجدية وحدد العدد الترتيبي للحرف F ؟

A B C D E F G H I J K L

- A) السابع B) السادس C) الخامس





11) كيف يمكن تفكيك العدد 245 لإيجاد حل الجملة العددية للجمع.

$$245 + 98 = \underline{\hspace{2cm}}$$

- A) $100 + 45$ B) $243 + 2$ C) $200 + 8$

12) أوجد ناتج الجمع . $500 + 300 = \underline{\hspace{2cm}}$

- A) 800 B) 500 C) 8

13) أوجد الحد الجمعي الناقص . $756 + \underline{\hspace{2cm}} = 856$

- A) 100 B) 10 C) 200

14) أوجد ناتج الجمع . $239 + 10 = \underline{\hspace{2cm}}$

- A) 259 B) 239 C) 249

15) يوجد 189 بقرة و 158 خروفاً في مزرعة ماجد .
ما إجمالي عدد الحيوانات الموجودة في المزرعة ؟

- A) 237 B) 347 C) 337





16) أوجد ناتج الجمع . $163 + 185 = \underline{\hspace{2cm}}$

A) 483

B) 843

C) 348


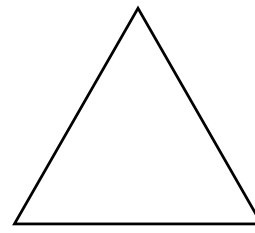

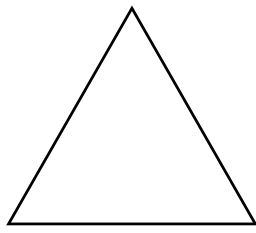

17) أوجد ناتج الجمع . $373 + 465 = \underline{\hspace{2cm}}$

A) 838

B) 738

C) 938

18) ما الشكل رقم 14 في النمط ؟



A) النجمة

B) المثلث

C) المربع

19) أوجد ناتج الجمع . $500 + 10 = \underline{\hspace{2cm}}$

A) 500

B) 510

C) 501





* اكتب العدد بالكلمات.

357 (1)

23 (2)

1000 (3)

* اكتب العدد.

(1) ستمئة واثنان وثمانون.

(2) خمسمئة وواحد.

(3) مئة وتسعة عشر.

* قارن واكتب < أو > أو = :

818 ○ 899

111 ○ 109

* اجمع.

	آحاد	عشرات	مئات
		<input type="text"/>	<input type="text"/>
	3	6	4
+	3	5	4

	آحاد	عشرات	مئات
		<input type="text"/>	<input type="text"/>
	9	6	3
+	7	4	1

5



وزارة التربية والتعليم
المجلس التعليمي 3 - النطاق 4
مدرسة الفجيرة للتعليم الأساسي ح1

مادة الرياضيات

مراجعة الاختبار
التكويني الأول



إجابات الأسئلة

إعداد المعلمة هيفاء سعيد المسماري



✱  اختر الإجابة الصحيحة مما يلي :

(1) ما هو الرقم الذي يمثل منزلة المئات في العدد 568 .

A) 5

B) 6

C) 8

(2) كم عدد الآحاد الموجودة في 3 مئات ؟

A) 3

B) 30

C) 300

(3) لدى سارة 398 قلماً. فكم عدد العشرات التي لديها ؟

A) 3 عشرات

B) 9 عشرات

C) 8 عشرات

(4) يحتوي عدد على 6 عشرات و 5 آحاد و 7 مئات ؟

A) 767

B) 756

C) 765

(5) ما هي الصيغة الموسعة للعدد 342 ؟

A) $300 + 42$

B) $300 + 40 + 2$

C) $3 + 4 + 2$





6) يفكر راشد في عدد ، يوجد في هذا العدد 6 آحاد و 5 عشرات، ويوجد فيه نفس الرقم في المئات والعشرات ؟

A) 656

B) 665

C) 556

7) ما هي قيمة العدد الذي يمثل فيه السهم؟
764
↑

A) 700

B) 70

C) 7

8) حوط العدد الذي يمثل فيه السهم المئات.

A) 1,029
↑

B) 1,398
↑

C) 1,000
↑

9) حدد نمط الأعداد الذي يمثل العد بمقدار 5 تنازلياً.

A) 520, 515, 510

B) 575, 580, 585

C) 655, 555, 455

10) انظر إلى الأحرف الإبجدية وحدد العدد الترتيبي للحرف F ؟

A B C D E F G H I J K L

A) السابع

B) السادس

C) الخامس





11) كيف يمكن تفكيك العدد 245 لإيجاد حل الجملة العددية للجمع.

$$245 + 98 = \underline{\hspace{2cm}}$$

- A) $100 + 45$ B) $243 + 2$ C) $200 + 8$

12) أوجد ناتج الجمع. $500 + 300 = \underline{\hspace{2cm}}$

- A) 800 B) 500 C) 8

13) أوجد الحد الجمعي الناقص. $756 + \underline{\hspace{2cm}} = 856$

- A) 100 B) 10 C) 200

14) أوجد ناتج الجمع. $239 + 10 = \underline{\hspace{2cm}}$

- A) 259 B) 239 C) 249

15) يوجد 189 بقرة و 158 خروفاً في مزرعة ماجد. ما إجمالي عدد الحيوانات الموجودة في المزرعة؟

- A) 237 B) 347 C) 337





16) أوجد ناتج الجمع . $163 + 185 = \underline{\hspace{2cm}}$

A) 483

B) 843

C) 348


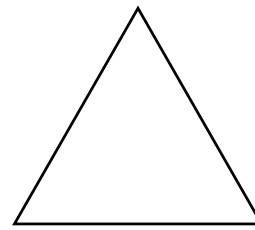

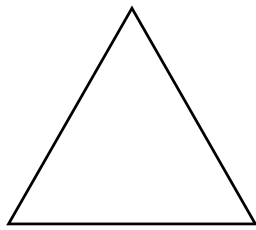

17) أوجد ناتج الجمع . $373 + 465 = \underline{\hspace{2cm}}$

A) 838

B) 738

C) 938

18) ما الشكل رقم 14 في النمط ؟



A) النجمة

B) المثلث

C) المربع

19) أوجد ناتج الجمع . $500 + 10 = \underline{\hspace{2cm}}$

A) 500

B) 510

C) 501





* اكتب العدد بالكلمات.

ثلاثمئة و ثلاثة وخمسون

357 (1)

ثلاثة وعشرون

23 (2)

ألف

1000 (3)

* اكتب العدد.

(1) ستمئة واثنان وثمانون.

682

(2) خمسمئة وواحد.

501

(3) مئة وتسعة عشر.

119

* قارن واكتب < أو > أو = :

818 < 899

111 > 109

* اجمع.

مئات	عشرات	آحاد
1	1	
4	6	3
4	5	3
9	1	6

مئات	عشرات	آحاد
1	1	
3	6	9
1	4	7
5	1	6

5



