

الوحدة الثالثة

جغرافية وطني المملكة العربية السعودية



- ◆ الدرس التاسع: الموقع والحدود
- ◆ الدرس العاشر: الجبال والهضاب
- ◆ الدرس الحادي عشر: المناطق الرملية
- ◆ الدرس الثاني عشر: الأودية
- ◆ الدرس الثالث عشر: المناطق الساحلية والجُزُر
- ◆ الدرس الرابع عشر: المناطق الإدارية



سوف أتعلم في هذه الوحدة

- ◆ موقع وطني وحدوده
- ◆ الأشكال الطبيعية لأرض وطني
- ◆ مناطق وطني
- ◆ معالم مدن وطني



تقع المملكة العربية السعودية في الجنوب الغربي لقارة آسيا، وتشغل أكثر من ثلثي مساحة شبه الجزيرة العربية التي تربط بين ثلاث قارات هي: آسيا وأوروبا وإفريقيا.



ما أهمية موقع وطني المملكة العربية السعودية؟

- ❖ يحوي الموقع قبة المسلمين.
- ❖ يتوسط الموقع بين قارات متعددة، ويربط بينها.
- ❖ يتوسط الموقع دول العالم، ويمثل ذلك أهمية كبيرة.



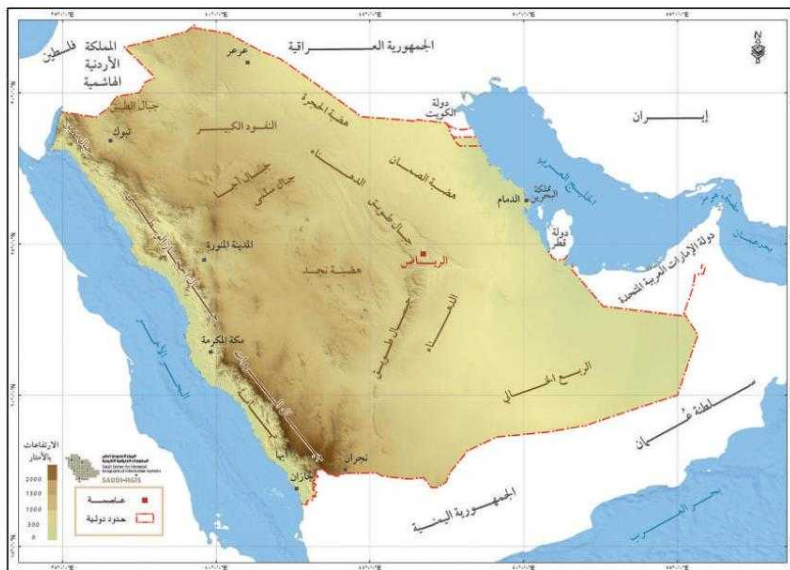
نشاط ١

ينظر الطلبة إلى الخريطة الآتية، ويجيبون عن الأسئلة:



- أ- المقدسات الإسلامية في وطني هي: **الكعبة**، و **المسجد النبوي**
- ب- يطل وطني على مسطحين مائيين مهمين، هما: **الخليج العربي**، و **البحر الأحمر**
- ج- تحيط بوطني حدود مشتركة مع دول عربية شقيقة، هي: **الإمارات**
- **اليمن - العراق - سلطنة عمان - المملكة الأردنية**

تبلغ مساحة المملكة العربية السعودية مليوني كم (٢,٠٠٠,٠٠٠ كم^٢)
وتمثل هذه المساحة ٧٠٪ من مساحة شبه الجزيرة العربية



١- يحدّ وطني المملكة العربية السعودية:

- أ- الشمال ← الكويت، والعراق، والمملكة الأردنية.
- ب- الشرق ← الإمارات العربية المتحدة، ومملكة البحرين، وقطر، والخليج العربي.
- ج- الجنوب ← سلطنة عمان، واليمن.
- د- الغرب ← البحر الأحمر.

٢- يستعرض الطلبة الخريطة السابقة، ويحدّدون مواقع الأماكن الآتية:

- أ- خليج العقبة
- ب- جزر فرسان
- ج- الخفجي
- د- موقع مشروع نيوم



الجبال:

السلاسل الجبلية تضي شكلاً طبيعياً رائعاً على وطني المملكة العربية السعودية.

١ جبال الحجاز

سلسلة جبال موازية للبحر الأحمر، وهي أكثر الجبال امتداداً وارتفاعاً في شبه الجزيرة العربية، إذ يتراوح عرضها بين ٤٠ و ١٤٠ كم، وسميت بهذا الاسم؛ لأنها تحجز بين هضبة نجد وسهول تهامة.

للاطلاع



تتكون سلسلة جبال الحجاز من الجبال الآتية:

- ◆ جبال مدين: في الجهة الشمالية بمحاذاة العقبة والبحر الأحمر.
- ◆ جبال الحجاز الوسطى: تبدأ من النهاية الجنوبية لجبال مدين بمحاذاة سهول تهامة.
- ◆ جبال السروات: تبدأ من جنوب مكة حتى باب المندب جنوب غربي اليمن.

للاطلاع

ارتفاعات الجبال في وطني:

ارتفاع القمم الجبلية فيه يصل إلى نحو ٣٠١٥ م عن مستوى سطح البحر


جبل السودة قرب أبها

ارتفاع القمم الجبلية فيها يصل إلى نحو ٢٥٠٠ م عن مستوى سطح البحر

الجبال القريبة من مكة المكرمة

ارتفاع القمم الجبلية فيها يصل إلى نحو ٢٠٠٠ م عن مستوى سطح البحر

الجبال القريبة من المدينة المنورة




رسم توضيحي يبين ارتفاعات الجبال

٢ جبال طويق

تقع جبال طويق في منطقة نجد، وتسمى أيضاً بجبال العارض أو اليمامة.

للاطلاع

تمتد جبال طويق ٨٠٠ كم تقريباً من حدود القصيم الجنوبية إلى مشارف وادي الدواسر ومنطقة الربع الخالي جنوباً على شكل طوق أو قوس يتجه طرفاه باتجاه الغرب، ويتراوح عرضه في الوسط بين ١٠ كم و ٢٠ كم عند الأطراف الشمالية والجنوبية.



جبال طويق

٣ الجبال المنفردة



جبل أحد

مثل: جبلي **أجأ وسلمى** في حائل، و**جبل أحد**.
جبل **أحد** في المدينة المنورة يبلغ طوله من الشرق إلى الغرب نحو سبعة كيلومترات.
ولهذا الجبل مكانته التاريخية في سيرة نبينا محمد ﷺ حيث دارت أحداث معركة أحد، وقال فيه النبي ﷺ: «إن **أحداً** جبل يحبنا ونحبه» رواه مسلم.

◀ الحرات والبراكين:

تنتشر في **غرب المملكة العربية السعودية**، ومن أشهرها: **حرة البرك**، و**حرة الرحا**، و**حرة خيبر**، و**حرة كئيب**، و**حرة رهاط**، و**حرة واقم**.

للاطلاع


جبل **أحد** من المعالم الجغرافية المرتبطة بالتاريخ الإسلامي والتي تفخر بوجودها في الوطن.

؟ ما الحرات؟

الحرّات هي **سطوح لابيّة سوداء** نتجت عن **تدفقات بركانية قديمة**، واللابية هي الالفا أي **الحجارة السوداء**.

للاطلاع

الحرّات في وطني مواقع طبيعية رائعة، وتعدّ من الثروات الطبيعية التي يجب المحافظة عليها.



فوهة الجبل الأبيض البركاني في خيبر



١

نشاط

قال الشاعر عمرو بن كلثوم:

كأسيافٍ بأيدي مُصَلِّتينا

فأعرضت اليمامةً وأشْمَخَرَّتْ

يتحدث هذا الشاعر عن جبال مهمة في وطني، فما هي (بالاستعانة بالصورة أسفل الصفحة)؟

جبال طويق



للاطلاع



الهضبة في الجغرافيا هي أرض مرتفعة مسطحة .

الهضاب:

تعدُّ الهضاب من أكثر التضاريس اتساعاً في المملكة العربية السعودية، ومن أهمها:

١ هضبة عسير ونجران:

تقع غرب المملكة العربية السعودية، ويبلغ ارتفاعها بين ٩٠٠ و ١٧٠٠ متر.

٢ هضبة حِمْيَ:


تقع شمال غربي المملكة العربية السعودية، وهي متوسطة الارتفاع.

٣ هضبة نجد:

تمتد وسط شبه الجزيرة العربية، وهي أكبر الهضاب فيها، وتقع فيها مدينة الرياض عاصمة وطني.

٤ هضبة الصَّمَان:

وهي هضبة صخرية شرق المملكة العربية السعودية.



هضبة نجران



هضبة نجد



١

نشاط

قام بعض الطلبة برحلة ممتعة إلى حرّة رهاط على بعد ١٩ كلم جنوب شرقي المدينة المنورة وتمتد إلى مكة المكرمة.

فماذا نتوقع أن يشاهدوا في هذا المكان من معالم تضاريسية؟

١. بركان رهاط.
٢. جبل المنسا.
٣. معالم جيولوجية وتاريخية واقتصادية.



حرّة رهاط



يتميّز وطني المملكة العربية السعودية بوجود مناطق رملية واسعة تغطي نحو **ثلث مساحته**.

من أبرز هذه المناطق الرملية:

◆ النفود الكبير ◆ الدهناء ◆ الربع الخالي

؟ كيف تكونت هذه الرمال العظيمة؟

نشأت هذه الرمال منذ أكثر من ١٧ ألف سنة، وساعدت الرياح على تجمعها.

للإطلاع

أسباب التصحر المناخية:

- ◆ تغير المناخ مثل قلة الأمطار.
- ◆ ارتفاع درجة الحرارة.
- ◆ ارتفاع المياه الجوفية المالحة.
- ◆ انجراف التربة.

أسباب التصحر البشرية:

- ◆ قطع الأشجار والنباتات.
- ◆ الرعي الجائر للابل والأغنام.
- ◆ إتلاف التربة الطبيعية بالسيارات وغيرها.


١ رمال الربع الخالي:

◆ تقع جنوب المملكة العربية السعودية، وتعد **أكبر صحراء رملية في العالم**، ويقع الجزء الأعظم منها داخل الأراضي السعودية. وجزء من الربع الخالي يتبع المنطقة الشرقية، والجزء الآخر يتبع منطقة نجران.

◆ يمثل الربع الخالي **موطناً للحضارات القديمة** التي اندثر أغلبها **وغمرته الرمال**. ولم تتوان الحكومة السعودية في البحث والتقيب فيها، وإجراء دراسات لاكتشاف أسرارها.



حقل الشيبة



الربع الخالي



النفود الكبير



استخراج عظام الكتف والعضد لأحد الفيلة المنقرضة في رواسب البحيرات القديمة في صحراء النفود

◆ في هذه الرمال كثير من المعادن النفيسة، والآثار القديمة المطمورة، إضافة إلى بعض الواحات والأشكال الجاذبة للسياحة.

◆ من إنجازات وطني اليوم استخراج النفط في الربع الخالي من موقع حقل الشيبة الذي بدأت فيه شركة أرامكو السعودية في عام ١٤١٩هـ.

٢ النفود الكبير:

◆ منطقة رملية على شكل مثلث وتغطي أجزاء كبيرة من نجد، وتمتد شمالاً.

للإطلاع

وُجد في صحراء النفود بعض المخلوقات الحيوانية والنباتية التي حُفظت داخل الطبقات الرسوبية عبر الأزمنة الجيولوجية القديمة، وهذا يدل على العمق الحضاري لوطني.



الدهناء

٣ رمال الدهناء:

على شكل قوس يصل بين النفود الكبير في الشمال، والريبع الخالي، وهي تمثل الجزء الأوسط من المناطق الرملية في المملكة العربية السعودية.




١ نشاط

يذكر الطلبة أسماء الصحارى الرملية وفقاً للوصف الآتي:

- أ- أكبر صحراء رملية في العالم: رمال الريع الخالي.
- ب- منطقة رملية كبيرة على شكل قوس: رمال الدهناء.
- ج- منطقة رملية على شكل مثلث في نجد: النفود الكبير.



ليس في المملكة العربية السعودية أنهار، ولكن فيها عدد كبير من الأودية التي تجري فيها المياه وقت تساقط الأمطار، ومن أشهرها:



وادي الرمة

١ وادي الرُّمَّة:

وادي الرُّمَّة: من أهم الظواهر الطبيعية، فهو أطول وادٍ في وطني، يصل طوله إلى حوالي ١٠٠٠ كم، ويعبر المملكة من الغرب إلى الشرق، ويبتدئ من جبال المدينة المنورة، مخترقاً منطقة القصيم.



وادي حنيضة

٢ وادي حنيضة:

يقع وادي حنيضة وسط مدينة الرياض، وينحدر من الشمال إلى الجنوب. سُمي بوادي حنيضة نسبة إلى القبيلة التي سكنته وهي (بنو حنيضة)، وعلى ضفافه تقع الدرعية عاصمة الدولة السعودية الأولى.



وادي الدواسر

٣ وادي الدواسر:

يقع في جنوب نجد ويمر بهضبة طويق وينتهي عند أول الربع الخالي.



وادي تفلث

٤ وادي تفلث:


يبدأ من جبال عسير الجنوبية في سراة قحطان، ويتجه نحو الشمال باتجاه وادي الدواسر.



وادي العقيق

٥ وادي العقيق:

يبدأ من منطقة العقيق جنوب المدينة المنورة، ويمتد شمالاً حتى ينتهي في وادي قناة وهو من أشهر أودية المدينة المنورة.




وادي السرحان

٦ وادي السرحان:

يمتد من جنوب غربي الجوف إلى الأردن.



وادي بيشة



وادي حلي

٧ وادي بيشة:

وادي ضخم يقع جنوب غرب المملكة العربية السعودية، ويمتد من جبال الحجاز إلى وادي الدواسر.

تلاطلاع

أودية البحر الأحمر:

تبدأ من السفوح الغربية، وتتجه نحو البحر الأحمر وتهامة غرباً، ومنها: وادي جازان، وادي بيش، وادي حلي، وادي عتود، وادي رابغ، وادي الصفراء بالقرب من المدينة المنورة.




١

نشاط

١- شيدت حكومتنا كثيراً من السدود على الأودية.

فما فائدتها؟

- أ- توليد الطاقة الكهربائية .
- ب- الحماية من أخطار الفيضانات .
- ج- تخزين المياه العذبة .



سد الملك فهد بن عبدالعزيز في بيشة

٢. ما أبرز السدود في وطني؟

- أ - سد الملك فهد بن عبدالعزيز في وادي بيشة.
 ب - سد وادي نجران.
 ج - سد وادي جازان.
 د - سد الليث
 هـ - سد المضيق



٢

نشاط

يتصرف بعض المواطنين تصرفاً غير سليم عند جريان الأودية.

ما التصرفات السليمة وغير السليمة؟

التصرف غير السليم	التصرف السليم
١. قطع مجرى المياه.	١. عدم المجازفة بقطع
٢. ترك الأطفال يلعبون في تجمعات المياه.	٢. لا تترك الأطفال يلعبون في تجمعات المياه.
٣. الشرب من المياه.	٣. عدم الشرب من المياه.



المناطق الساحلية والجزر

يوجد في الخليج العربي، والبحر الأحمر عدد من الجزر السعودية الجميلة؛ لذلك قررت حكومة وطني ضمن رؤية ٢٠٣٠ إنشاء مشروع كبير لاستثمار هذه الجزر والاستفادة منها.

أهم الجزر السعودية:

١- **جزر فرسان:** تقع في جنوب شرقي الجزء الجنوبي من البحر الأحمر، وتبعد عن سواحل جازان نحو ٤٠ كيلومتراً. ومن أهم هذه الجزر: فرسان الكبرى، والسقيد، وقمّاح، وفيها سكان مقيمون.

جزيرة فرسان الكبرى يبلغ طولها نحو ٦٦ كيلومتراً وعرضها بين ٥ و ٨ كيلومترات.

٢- جزيرة أم القماري:

تقع في البحر الأحمر جنوب مدينة القنفذة، وتبعد عنها بنحو ١٩ كيلومتراً.

٣- جزيرتا ثيران وصنافر:

تقعان شمال البحر الأحمر عند مدخل خليج العقبة.

٤- جزيرة كُران:

تقع في الخليج العربي شرق المملكة العربية السعودية.

٥- جزيرة جَنّا:

تقع في الخليج العربي شرق المملكة العربية السعودية.

للاطلاع

أكثر من ١٣٤٠ جزيرة سعودية في البحر الأحمر والخليج العربي
أكثر من ١٢٠٠ نوع من الأسماك في البحر الأحمر والخليج العربي

للاطلاع



تبلغ مساحة مشروع البحر الأحمر نحو ٣٤ ألف كيلومتر مربع،

ويتضمن تطوير ٢٢ جزيرة، ضمن رؤية ٢٠٣٠ وسيصبح وجهة سياحية رائدة بعد عدة سنوات.



جزيرتا ثيران و صنافر

﴿ مهرجان الحريد السياحي في جزر فرسان:

من المهرجانات الثقافية المحلية، وهو تقليد قديم يكون في نهاية شهر مارس ومطلع شهر أبريل سنوياً، عندما تتجمع أسماك الحريد بأعداد كبيرة على سواحل الجزر، يصيد الصيادون والأهالي كثيراً منها بسهولة.



مهرجان الحريد السياحي في جزر فرسان



الشعب المرجانية

في وطني المملكة العربية السعودية كنوز طبيعية بحرية عديدة، منها الشعب المرجانية.

؟ فما الشعب المرجانية؟

الشعب المرجانية هي كائنات حية تتكون في المياه الضحلة، وتحقق التوازن البيئي البحري.



١

نشاط

أ- من فوائد الجزر في المملكة العربية السعودية التي اعتنت بها رؤية وطني ٢٠٣٠:

- ١- الاستثمار الاقتصادي.
- ٢- تطوير قطاع السياحة في المملكة.
- ٣- توفير المزيد من فرص العمل.

ب- جزيرة سعودية يسكن فيها نحو ٢٣ ألف مواطن، وتبعد عن جازان نحو ٤٠ كم، فما هي؟

..... جزيرة فرسان





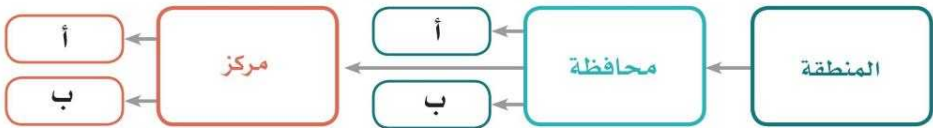
المناطق الإدارية

يتكون وطني المملكة العربية السعودية من ثلاث عشرة منطقة إدارية.



مناطق المملكة الإدارية

يرأس كل منطقة إدارية أمير المنطقة، وتتكون من محافظات من فئتي (أ) و(ب)، وكل محافظة يتبعها مراكز من فئتي (أ) و(ب).



منطقة الرياض مقر الإمارة: مدينة الرياض



مدينة الرياض



للاطلاع

من أكبر محافظات منطقة الرياض:
الدرعية، الخرج، الدوادمي، المجمعة،
القويعية، الأفلاج، وادي الدواسر،
الزلفي، شقراء، حوطة بني تميم،
عفيف، الغاط.

الموقع:

تقع في وسط المملكة العربية السعودية.

الخصائص:

- فيها العاصمة الرياض.
- فيها مقر الدولة والأجهزة الحكومية.
- هي منطلق توحيد المملكة العربية السعودية.



نشاط

أ- ما المهرجان الذي يقام بمنطقة الرياض سنوياً؟

..... مهرجان الجنادرية

ب- ما اسم المطار الدولي الذي يخدم منطقة الرياض؟

..... مطار الملك خالد الدولي

منطقة مكة المكرمة مقر الإمارة: مدينة مكة المكرمة

٢



المسجد الحرام بمكة المكرمة



الموقع:

تقع منطقة مكة المكرمة في غرب المملكة العربية السعودية.

تلاطلاع

من أكبر محافظات منطقة
مكة المكرمة:
جدة، الطائف، القنفذة، الليث،
رابع، خليص، الخرمة، رنية،
تربة.

الخصائص:

- هي مهبط الوحي.
- تضم المقدسات الإسلامية، منها: المسجد الحرام،
والكعبة المشرفة، ومشاعر الحج مثل: (عرفات
ومزدلفة ومنى).
- وقوعها على ساحل البحر الأحمر.

٢

نشاط

أ- أين يتجه المصلون في قبلتهم؟

..... إلى الكعبة بمكة المكرمة.

ب- ما المدينة الساحلية الكبيرة في منطقة مكة المكرمة؟

..... جدة

منطقة المدينة المنورة مقر الإمارة: مدينة المدينة المنورة

٣



المسجد النبوي بالمدينة المنورة



الموقع:

تقع في غرب المملكة العربية السعودية.

الإخصائص:

- فيها المسجد النبوي.
- تطل بعض مدنها على ساحل البحر الأحمر.
- فيها المعالم والآثار الإسلامية، مثل: مسجد قباء، وجبل أحد، وموقع بدر.

للاطلاع

من أكبر محافظات منطقة
المدينة المنورة:
ينبع، العلا، مهد الذهب،
الحناكية.



٣


نشاط

أ- ما المدينة التي تقع في منطقة المدينة المنورة وتطل على البحر الأحمر؟

..... ينبع

ب- ما الحدث التاريخي الذي ارتبط بجبل أحد؟

..... غزوة أحد



مدينة بريدة



الموقع:

تقع في وسط المملكة العربية السعودية تقريباً.

الخصائص:

- تمتاز بثروتها الزراعية، ومن أشهر محاصيلها الزراعية: التمور.
- فيها وادي الرّمة وروافده.
- فيها مواقع أثرية موهلة في القدم.

للاطلاع

من أكبر محافظات منطقة القصيم:
عنيزة، الرس، المذنب، البكيرية،
البدائع.

نشاط

أ- أين تقع عين عبّس التي يرجع إليها عنتره بن شداد في منطقة القصيم؟

عين عبس منطقة تاريخية أثرية تقع في منطقة القصيم وسط المملكة العربية السعودية.

ب- ما أبرز منتجات منطقة القصيم؟

..... التمور والليمون والبرتقال.



المتنزه البحري بمدينة الدمام



الموقع:

تقع في الجزء الشرقي من المملكة العربية السعودية.

الإخصائص:

- تعدّ من أغنى مناطق المملكة العربية السعودية بالنفط، وفيها أكبر حقول النفط في العالم، وتحتوي مزارع نخيل كثيرة.
- يوجد فيها مواقع تاريخية لحضارات قديمة.
- تطل على ساحل الخليج العربي.

تلاطلاع

من أكبر محافظات المنطقة الشرقية: الأحساء، حفر الباطن، الجبيل، القطيف، الخبر، العبد، الخفجي.

5

نشاط

أ- ماذا كانت تسمى منطقة الشرقية تاريخياً؟

..... البحرين

ب- أين يقع أول مسجد أقيمت فيه صلاة الجمعة بعد المسجد النبوي في عهد

النبي ﷺ؟

..... منطقة الشرقية في الأحساء



مدينة أبها



الموقع:

تقع في جنوب غربي المملكة العربية السعودية.

الخصائص:

- ♦ تتمتع بموقع جغرافي فريد بتضاريسه المتنوعة.
- ♦ تُعدُّ من المناطق السياحية المتميزة؛ لما تتمتع به من مناخ معتدل وجمالٍ طبيعة.
- ♦ تتميز بتراثها الاجتماعي العريق.

للاطلاع

من أكبر محافظات منطقة عسير:
خميس مشيط، بيشة، النماص،
محائل، ظهران الجنوب، تليلث.

نشاط ٦

أ- أين يقع وادي أبها؟

..... منطقة عسير.

ب- لماذا يرتاد السائحون من الداخل والخارج منطقة عسير؟

..... وجود المناطق الجذابة مثل الجبل الأخضر والمحميات الطبيعية.



مدينة تبوك



الموقع:

تقع في الجهة الشمالية الغربية من المملكة العربية السعودية.

الخصائص:

- ♦ تمتاز بالآثار التاريخية الإسلامية والقديمة.
- ♦ تتمتع بنهضة زراعية كبيرة.
- ♦ تطل بعض مدنها على البحر الأحمر.

معلومات

من أكبر محافظات منطقة
تبوك:
الوجه، ضباء، تيماء، أملج.

أ- ما الغزوة التي ارتبطت بمنطقة تبوك في العهد النبوي؟

..... غزوة تبوك.

ب- ما المدينة التي فيها بئر هَدَاج في منطقة تبوك؟

..... مدينة تيماء



مدينة حائل



الموقع:

تقع في شمال المملكة العربية السعودية.

الخصائص:

- ♦ تمتاز بتنوع تضاريسها ما بين سهول، وجبال، وتكوينات رملية.
- ♦ منطقة زراعية ورعوية؛ لوفرة مصادر المياه فيها.
- ♦ تشتهر بجبلي أجأ وسلمى.

تلاطلاع

من أكبر محافظات منطقة حائل: بقعاء.

٨

نشاط

أ- لماذا سميت حائل بهذا الاسم؟

لأنها موضع يقع بين أرض اليمامة وبين أرض باهلة وتحول حائل بين هاتين المنطقتين.

ب- ما أشهر جبال منطقة حائل؟

أجا وسلمى



مدينة عرعر



الموقع:

تقع في أقصى الشمال من المملكة العربية السعودية.

الخصائص:

- تعد من أكبر المناطق في مجال الثروة الحيوانية في وطني.
- منطقة غنية بالمعادن، مثل: الفوسفات.
- فيها مناطق أثرية وتاريخية.

للاطلاع

من أكبر محافظات منطقة
الحدود الشمالية:
رفحاء، طريف.

اشتهرت منطقة الحدود الشمالية بمشروع نفطي كبير كان يربط بين شرق المملكة والبحر المتوسط، فما هو؟

خط الأنابيب «تابلاين»



مدينة جازان



الموقع:

تقع في أقصى الجنوب الغربي من المملكة العربية السعودية.

الخصائص:

- تمتاز بخصوبة التربة، وكثرة الأودية.
- تشتهر بالزراعة، واستزراع الروبيان والأسماك وصيدها.
- تشتهر بالجزر البحرية الجميلة.

للاطلاع

من أكبر محافظات منطقة جازان:
صبياء، أبو عريش، صامطة،
الدر، بيش.

نشاط

أ- ما أشهر جزيرة تابعة لمنطقة جازان؟

جزر فرسان

ب- ما أشهر منتج زراعي استثماري في منطقة جازان؟

الفل

للاطلاع

تعد منطقة جازان من أكبر المناطق الإدارية من حيث الكثافة السكانية نسبة إلى مساحتها.



مدينة نجران



الموقع:

تقع في جنوب المملكة العربية السعودية.

الخصائص:

- تمتاز بكثير من الآثار التاريخية القديمة.
- تشتهر بمنتجاتها الزراعية.
- تشتهر بتضاريسها المتنوعة.

للاطلاع

من أكبر محافظات منطقة نجران:
شورة.


نشاط 11

أ- وقعت في منطقة نجران قصة أصحاب الأخدود، ما الآية القرآنية التي ذكرتها؟

{قتل أصحاب الأخدود (٤) النار ذات الوقود (٥) إذ هم عليها قعود (٦) وهم على ما يفعلون بالمؤمنين شهود}

ب- ما أبرز معالم منطقة نجران السياحية؟

قصر الإمارة التاريخي - قصر العان - قلعة رعويم - سد وادي نجران



مدينة الباحة



الموقع:

تقع في الجنوب الغربي من المملكة العربية السعودية.

الخصائص:

- جمال الطبيعة، واعتدال المناخ.
- منطقة جذب للسياح.
- بها غابات طبيعية.

للاطلاع

من أكبر محافظات منطقة الباحة:
بلجرشي، المنندق، المخواة، قلو.


نشاط ١٢

أ- من الصحابي المشهور في رواية الحديث النبوي الذي قدم من منطقة الباحة؟

أبو هريرة. الصحابي الجليل راوي الحديث

ب- ما اسم القرية التاريخية في المنطقة؟

قرية دوس



مدينة سكاكا



الموقع:

تقع في الجزء الشمالي من المملكة العربية السعودية.

الخصائص:

- تمتاز بوفرة مياهها وعذوبتها.
- تعدّ أرضها من أخصب الأراضي الزراعية.
- فيها مواقع تاريخية عريقة.

تلاطلاع

من أهم محافظات منطقة الجوف:
القريات، دومة الجندل.

١٣

نشاط

أ- لماذا تشتهر منطقة الجوف في الزراعة؟

تتميز بوفرة مياهها، وتعدّ أرضها من أخصب الأراضي الزراعية.

ب- كانت تسمى مدينة (قيدار) قديماً، فما هي؟

الجوف



تقويم
الوحدة الثالثة

١ يختار الطلبة الإجابة الصحيحة:

أ- يجري وادي الرُّمَّة في منطقة:

جازان الحدود الشمالية القصيم

ب- تقع جزر فرسان في:

البحر العربي البحر المتوسط البحر الأحمر

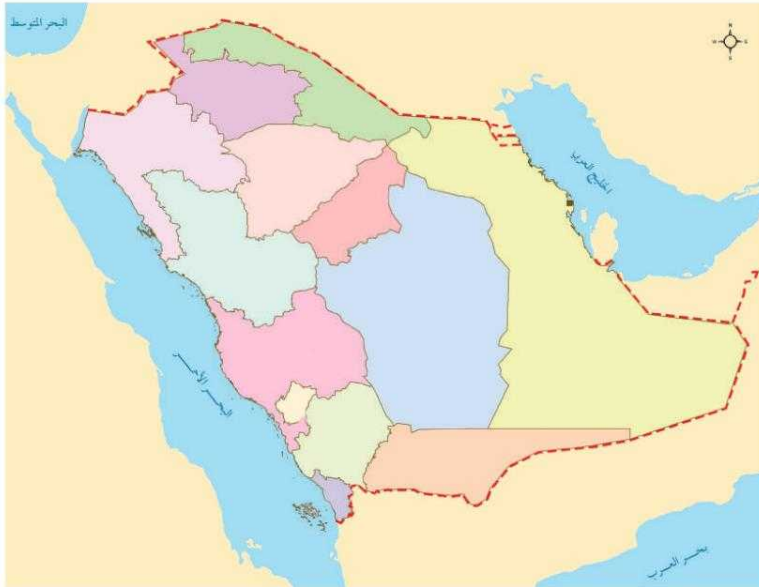
ج- يقع جبل أحد في:

مكة المكرمة المدينة المنورة الرياض

د- يقع وادي حنيفة في:

القصيم تبوك الرياض

٢ يحدّد الطلبة على الخريطة المنطقة الإدارية التي توجد بها المدرسة:



٣ يضع الطلبة المحافظات الآتية وفق مناطقها الإدارية في الجدول:

ينبع - جدة - الطائف - مهد الذهب - الخرج - الدرعية

منطقة الرياض	منطقة مكة المكرمة	منطقة المدينة المنورة
الدرعية.....	جدة.....	ينبع.....
الخرج.....	الطائف.....	مهد الذهب.....

٤ يضع الطلبة الجزر الآتية وفق موقعها في الجدول:

جزيرة كُزَّان - جزيرة أم القماري - جزيرة جنا - جزر فرسان

البحر الأحمر	الخليج العربي
جزيرة أم القماري	جزيرة كران
جزر فرسان	جزيرة جنا

٥ يذكر الطلبة أهمية موقع المملكة العربية السعودية.

- أهمية دينية تتمثل في وجود البيت الحرام بالمملكة.
- أهمية اقتصادية تتمثل في سيطرة المملكة على العديد من المنافذ البحرية.
- أهمية سياسية تتمثل في دور المملكة الفعال في المنظمات الإقليمية والدولية.

٦ يضع الطلبة علامة (✓) أمام العبارة الصحيحة، وعلامة (x) أمام العبارة غير الصحيحة:



أ- جبلي أجا وسلمى وجبل أحد من الجبال المنفردة.



ب- جبال الحجاز هي أقل الجبال امتداداً وارتفاعاً.



ج- الحرّات هي سطوح لابية سوداء.



د- هضبة عسير ونجران هي أكبر الهضاب في وطني.



هـ- رمال الربع الخالي هي أكبر صحراء رملية في وطني.



و- رمال النفود الكبير على شكل قوس.



ز- يتم استخراج النفط في الربع الخالي.



ح- لا يعتبر الربع الخالي موطناً للحضارات القديمة.

٧ يكمل الطلبة الفراغات الآتية بالكلمات الصحيحة:

المرتفعات - المنخفضات - المسجد الحرام - المسجد النبوي - الخليج العربي - البحر الأحمر - ثلثي

أ- تعتبر الجبال والهضاب من **المرتفعات**

ب- تعتبر الأودية من **المنخفضات**

ج- مكة المكرمة والمدينة المنورة يوجد بهما **المسجد الحرام**

و **المسجد النبوي**

د- يطل وطني على مسطحين مائيين هما: **الخليج العربي**

و **البحر الأحمر**

هـ- تشغل مساحة المملكة العربية السعودية: **ثلثي** مساحة الجزيرة العربية.