



دائرة التعليم والمعرفة
DEPARTMENT OF EDUCATION
AND KNOWLEDGE

مدرسة الهير للتعليم الأساسي والثانوي
مادة الدراسات الاجتماعية والتربية الوطنية
المعلم عمر حسن

الاسم :

الهدف العام : مراجعة عامة للاختبارات

اليوم	التاريخ	المادة المقررة في الاختبار
الثلاثاء	28-11-2017	الصفحات من 15-70

الصف الثاني



1

- 1- انتم جميعاً تعيشون على سطحي ، هي :
 A- الأرض B- المريخ C- القمر D- عطارد
- 2 يتكون كوكب الأرض من قسمين الماء م:
 A- اليابس B- القمر C- البحر D- المريخ
- 3 يحيط بكوكب الأرض :
 A- الماء B- الهواء C- التراب D- النباتات
- 4 واحدة من الآتية لا تعتبر من الكائنات الحية :
 A- النبات B- الحيوان C- الانسان D- الجماد
- 5 الكوكب الازرق هو كوكب :
 A- الأرض B- المريخ C- القمر D- عطارد
- 6 أساس الحياة هو :
 A- الماء B- الهواء C- الرمل D- الغاز
- 7 تحتاج له كل الكائنات الحية للتنفس:
 A- الماء B- الهواء C- الرمل D- الغاز
- 8 شكل الكرة الأرضية :
 A- دائرة B- كروي C- مربع D- مستطيل
- 9 عمري 12 سنة تظهر عندي الشمس
 A- الليل B- النهار C- اليوم D- الشهر
- 10 اللون الأخضر والأصفر والبني على نموذج الرض هو لون:
 A- اليابس B- القمر C- البحر D- المريخ

النشاط الثاني : صل بين الصورة والكلمة



الحركة
اليومية

الحركة
السنوية



الليل

النهار

النشاط الثالث : ضع إشارة (v) أمام الإجابة الصحيحة وإشارة (x) أمام العبارة الغير صحيحة فيما يلي :

- 1-) () ينتج عن قلة المياه موت الكائنات الحية والجفاف.
- 2-) () تدور الأرض حول نفسها وحول الشمس .
- 3-) () تستغرق الأرض في دورتها حول الشمس 365 يوم وربع
- 4-) () تستغرق الأرض في دورتها حول نفسها يوم 24 ساعة
- 5-) () تظهر النجوم في النهار والقمر في الليل .
- 6-) () يأتي وقت النوم مع ظهور الشمس والذهاب إلى المدرسة مع ظهور القمر
- 7-) () ينتج عن دوران الأرض حول نفسها تعاقب الليل والنهار
- 8-) () ينتج عن دوران الأرض حول الشمس الفصول الأربعة
- 9-) () ابي يعمل في الليل
- 10-) () الشمس هي المصدر الرئيس للحرارة
- 11-) () القمر ينير الأرض في الليل .
- 12-) () الفضاء هو المكان الذي توجد فيه الرض والشمس والقمر .

النشاط الرابع : استكمل الفراغات الموجودة في الجمل التالية بالكلمات المناسبة من صندوق المعرفة :

- الشتاء -
- الصيف- الخريف
- الربيع - سنة-
- 365 وربع -
- الاعتدال الربيعي
- الانقلاب
- الشتوي -
- الانقلاب الصيفي
- الاعتدال
- الخريفي

- يحدث في 21 مارس
- يحدث في 21 ديسمبر
- يحدث في 23 سبتمبر
- يحدث في 21 يونيو
- نذهب إلى البحر في فصل
- نلبس الملابس الثقيلة في فصل
- تسقط أوراق الشجر في فصل
- تسقط الأمطار في فصل
- يستغرق دورة الأرض حول الشمس كاملة أي
-اليوم

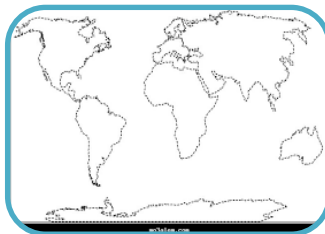


النشاط السادس : ضع دائرة على الإجابة الصحيحة

- 1- للمياه على سطح الأرض اشكال مختلفة واحدة من التالية ليس منها :
A- الأرض B- البحر C- المحيط D- الأنهار
- 2 مسطحات مائية أصغر من المحيط وأقل عمق :
A- الأرض B- البحر C- المحيط D- الأنهار
- 3 مسطح كبير جداً من الماء المالح :
A- الأرض B- البحر C- المحيط D- الأنهار
- 4 مسطح مائي تحيط به اليابس من ثلاث جهات :
A- الخليج B- البحر C- المحيط D- الأنهار
- 5 ممر مائي ضيق يفصل يابس عن يابس ويصل ماء بماء :
A- الأرض B- البحر C- المضيق D- الأنهار
- 6 وسيلة النقل في البحار والمحيطات هي :
A- السيارة B- الطائرة C- القطار D- السفينة
- 7 يغوص الغواص في الخليج بحث عن :
A- السمك B- اللؤلؤ C- الرمل D- الحوت



النشاط الثامن : صل بين الصورة والكلمة



القارة

محيط



أمريكا الشمالية



أمريكا الجنوبية



أوروبا



آسيا



أفريقيا



اوقيانوسيا



القارة المتجمدة الجنوبية





النشاط الحادي عشر : استكمل الفراغات في الجمل الآتية من الكلمات المناسبة في صندوق المعرفة

القارة
إفريت
سبع
أربع
الغلاف المائي
المياه المالحة
المياه العذبة
الغلاف الأرضي
في آسيا
أكبر
باردة

- 1- القارة القطبية الجنوبية جداً
- 2- قارة آسيا من قارات العالم
- 3- تقع دولة الإمارات العربية المتحدة
- 4- قسم من الكرة الأرضية تغطيه اليابسة هو
- 5- تقسم المياه على سطح الأرض إلى مياه
- 6- القسم الذي تغطيه المياه يسمى
- 7- عدد المحيطات والقارات
- 8- أعلى قمة في قارة آسيا هي قمة
- 9- مساحة كبيرة من اليابس هي

OMAR

النشاط الثاني عشر : على خريطة العالم سمي القارات من خلال تحديد معنى الأرقام

--1
--2
--3
--4
--5
--6
--7



- أوروبا - آسيا
- أفريقيا- استراليا
- امريكا الجنوبية
- أمريكا الشمالية
- القارة المتجمدة
- المحيط الهادي
- المحيط الهندي
- المحيط الأطلسي
- المحيط المتجمد الشمالي

النشاط الثالث عشر : رتب القارات والمحيطات التالية من الأكبر إلى الأصغر

- القارات 1-.....-2.....
--3.....-4.....
--5.....-6.....
--7.....
- المحيطات-1.....-2.....
--3.....-4.....

النشاط الرابع عشر : اكتب اسم الحيوان الذي يعيش في القارات الآتية :

- اللاما-
- البطريق-
- الجمال- الكنغر

- في قارة آسيا أمريكا الجنوبية
- القارة المتجمدة الجنوبية
- استراليا

1- عدد قارات العالم، هي :

2 -A 3 -B 4 -C 7 -D

2 عدد المحيطات هو :

2 A 3 -B 4 -C 7 -D

3 أكبر القارات هي قارة :

A- أوروبا B- اسيا C- أفريقيا D- استراليا

4 أصغر القارات هي قارة :

A- أوروبا B- اسيا C- أفريقيا D- استراليا

5 تبلغ نسبة المياه على سطح الأرض :

- 29% -A 71% -B 3% -C 97% -D

6 تبلغ نسبة اليابس على سطح الأرض :

29% A 71% -B 3% -C 97% -D

7 تبلغ نسبة المياه العذبة :

- 29% A 71% -B 3% -C 97% -D

8 تبلغ نسبة المياه المالحة :

29% A 71% -B 3% -C 97% -D

9 موقع المكان بالنسبة للمناطق المجاورة هو مفهوم

A- الموقع الفلكي B- الموقع النسبي C- الموقع المكاني

10 موقع الدولة بالنسبة لخطوط الطول ودوائر العرض :

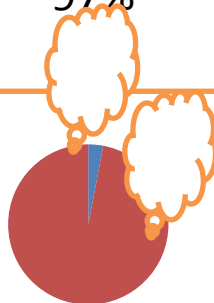
A - الموقع الفلكي B- الموقع النسبي C- الموقع المكاني

النشاط السادس عشر أكتب النسبة في المكان المخصص : المياه العذبة والمياه


المالحة ونسبة المياه على الأرض ونسبة اليابس

29% - 71% - 3% - 97%

■ 1
■ 2



■ 1
■ 2



OMAR

النشاط السابع عشر : حدد موقع الإمارات بالنسبة للصور الآتية صل



وسط العالم (القلب)



جنوب غرب شبه الجزيرة العربية



شرق الوطن العربي

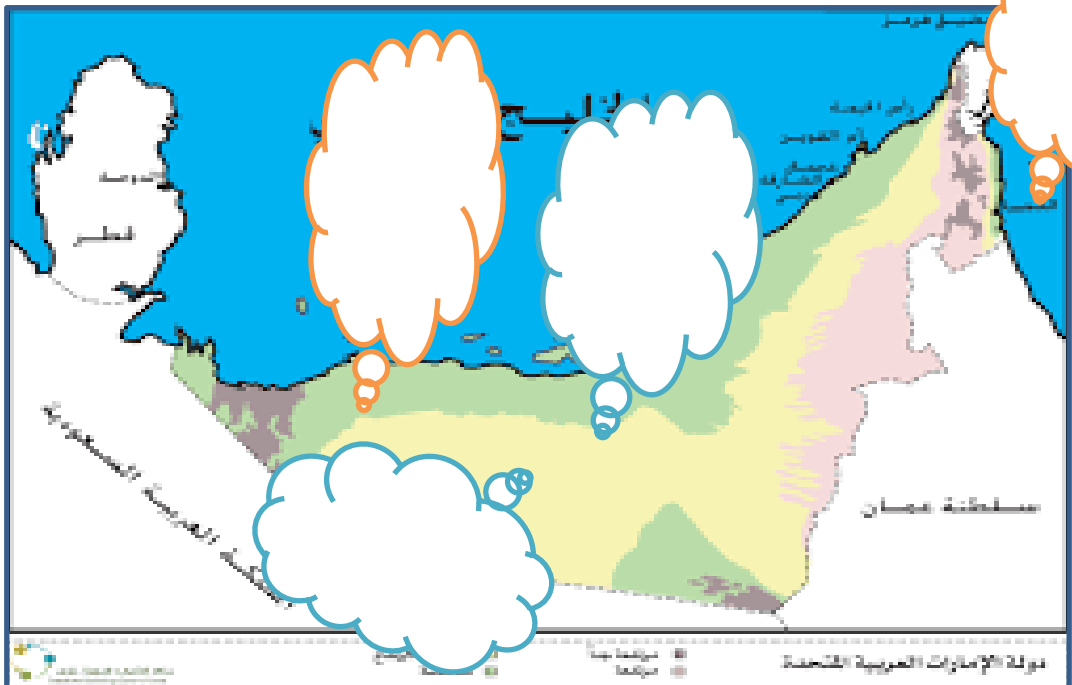
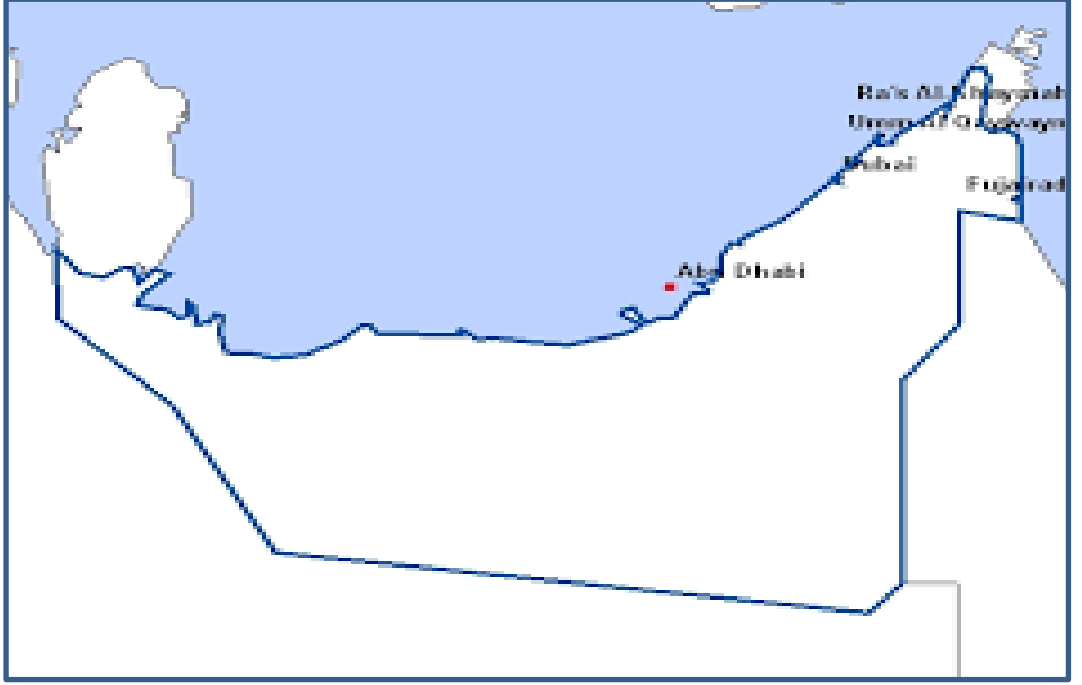
النشاط الثامن عشر : ما هي قارات العالم القديم ؟

..... و..... و.....

النشاط التاسع عشر : على خريطة الإمارات عين كل من السعودية وعمان والخليج العربي وبحر عمان ؟



النشاط العشرون : على خريطة الإمارات الطبيعية عين مظاهر التضاريس الآتية « الجبال والسهول والصحراء والواحات » لون المناطق المرتفعة والمنخفضة والمتوسطة بالألوان المتعارف عليه



- 1- تقسم السهول الساحلية في الإمارات ،إلى :
 2 -A 3 -B 4 -C 7 -D
- 2 هي ارض مرتفعة له قمة :
 A -- الجبال B- السهول C- الصحراء D- الواحات
- 3 أرض منخفضة مستوية تمتد بالقرب من البحار
 A- الجبال B- السهول C- الصحراء D- الواحات
- 4 كثبان رملية صفرا تغطي مساحة كبيرة من الدولة :
 A-الجبال - B-السهول - C-الصحراء - Dالواحات
- 5أرض منخفضة وسط الصحراء تتوفر فيها المياه العذبة :
 - A-الجبال - B-السهول - C-الصحراء - Dالواحات
- 6 من الصفات التي لا توجد في السهل الساحلي الغربي :
 Aالطول - Bالضيق - Cالاتساع - Dكثرت المدن
- 7 يقع السهل الساحلي الشرقي على بحر :
 - A- الميتم - B-المتوسط - C-الأحمر - D- عُمان
- 8 يقع السهل الساحلي الغربي على الخليج :
 - A- الميتم - B-المتوسط - C-العربي - D- عُمان
- 9 عدد إمارات بلادي هو
 A- سبع B- ثمان C- تسع
- 10 يقع مسجد الشيخ زايد في إمارة :
 A - دبي B- ابوظبي C- الشارقة D- راس الخيمة
- 11 يقع برج خليفة في إمارة :
 A - دبي B- ابوظبي C- الشارقة D- راس الخيمة

النشاط الثاني والعشرون : الإمارة الوحيدة التي تقع على ساحل بحر عُمان هي



دبي



أبو ظبي



الشارقة



عجمان



أم القيوين



راس الخيمة



الفجيرة



صحراء



واحة



سهل



جبل

النشاط الرابع والعشرون : استكمل الفراغات الموجودة في الجمل التالية بالكلمات المناسبة من صندوق المعرفة :

- عاصمة
- الاقتصادية
- الثقافة
- اصغر
- صيد السمك
- جبل جيس
- بحر عمان
- سوق الجمعة

- الفجيرة إمارة جميلة يوجد فيهاوتطل على
- إمارة راس الخيمة يوجد فيها أعلى جبل وهو.....
- تشتهر إمارة أم القيوين في
- إمارة عجمان تعتبر منالإمارات في الدولة
- أبوظبي دولة الإمارات ..
- دبي هي العاصمةلدولة الإمارات
- الشارقة هي عاصمة



الخص



الرحى



الكاجوة



التعاون



كرم الضيافة

النشاط السادس والعشرون : استكمل الفراغات الموجودة في الجمل التالية بالكلمات المناسبة من صندوق المعرفة :

- الخص
- التلي
- الرحي
- المطوع
- الكتاتيب
- الحساب
- القرآن
- التحميدة

- حافة تقام للطلبة عند ختم القرآن هي
- في الكتاتيب كان يتعلم الطلبة و.....
- مكان تعلم فيه الطلبة قديماً
- علم الطلبة في القدم
- تطحن بها الحبوب هي
- يصنع بها الملابس والسجاد
- يصنع منه السلال



الرعي



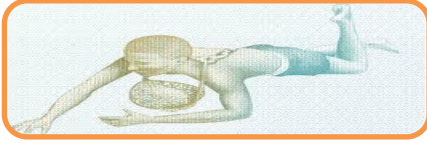
الصيد البري



الصيد البحري



الزراعة



الغوص

النشاط الثامن والعشرون : استكمل الفراغات الموجودة في الجمل
التالية بالكلمات المناسبة من صندوق المعرفة :

- اللؤلؤ
- التمور
- الالبان
- الحيوانات
البرية

- من مهنة الغوص نستخرج

- تستفيد من زراعة النخيل

- من مهنة رعي الاغنام والابل نحصل على

- في الصيد البري نحصل على
..... التي يمكن أكلها

- 1- تتكون دولة الإمارات من إمارات :
 A- سبع 7 B- ثمان 8 C- تسع 9 D- ست 6
- 2 العين عبارة عن :
 A - قرية B- دولة C- مدينة D- إمارة
- 3 الشيخ خليفة حاكم إمارة :
 A دبي B- الشارقة C- ابوظبي D- عجمان
- 4 أكبر إمارة هي :
 A - دبي B- الشارقة C- ابوظبي D- عجمان
- 5 الشيخ محمد بن راشد حاكم إمارة
 A - دبي B- الشارقة C- ابوظبي D- عجمان
- 6 رئيس الدولة هو الشيخ :
 A خليفة B- حمد C- سلطان D- محمد
- 7 نائب رئيس الدولة هم الشيخ :
 A خليفة B- حمد C- سلطان D- محمد
- 8 باني الاتحاد هو الشيخ رحمه الله :
 A- خليفة B- زايد C- سلطان D- محمد
- 9 الخطوة الأولى في الاتحاد :
 A- دبي الأول B- السديرة C- دبي الثاني D- قيام الدولة
- 10 الخطوة الثانية في الاتحاد :
 A - دبي الأول B- السديرة C- دبي الثاني D- قيام الدولة
- 11 الخطوة الثالثة في الاتحاد :
 A - دبي الأول B- السديرة C- دبي الثاني D- قيام الدولة
- 12 الخطوة الرابعة في الاتحاد :
 A دبي الأول B- السديرة C- دبي الثاني D- قيام الدولة
- 13 والد ووالدة الشيخ زايد هما :
 A- سلطان وسلامة B- خليفة وسلامة C- محمد وفاطمة



محمد
بن
راشد



خليفة



زايد



السديرة



دبي
الثاني



دبي
الأول



مؤسس
الاتحاد



قيام
الدولة






مستشفى



تعليم



الفضاء



العمران



الجيش



البيئة

السهل الساحلي الشرقي	السهل الساحلي الغربي	أوجه المقارنة
		الطول
		الاتساع
		الامتداد
		يشرف على
		من المدن
		من الإمارات
		الجبال
		السكان

الحركة السنوية	الحركة اليومية	أوجه المقارنة
		جهة الدوران
		تدور حول
		المدة
		الايام والساعات
		ينتج عنها

اليابس	المياه	أوجه المقارنة
		اللون
		النسبة
		مثال