

تم تحميل هذا الملف من موقع المناهج العُمانية



almanahj.com

موقع
المناهج الإماراتية

* للحصول على أوراق عمل لجميع الصفوف وجميع المواد اضغط هنا

<https://almanahj.com/ae>

* للحصول على أوراق عمل لجميع مواد الصف الثاني اضغط هنا

<https://almanahj.com/ae/2>

* للحصول على جميع أوراق الصف الثاني في مادة اجتماعيات ولجميع الفصول, اضغط هنا

<https://almanahj.com/ae/2social>

* للحصول على أوراق عمل لجميع مواد الصف الثاني في مادة اجتماعيات الخاصة بـ الفصل الأول اضغط هنا

<https://almanahj.com/ae/2social1>

* لتحميل كتب جميع المواد في جميع الفصول للـ الصف الثاني اضغط هنا

<https://almanahj.com/ae/grade2>

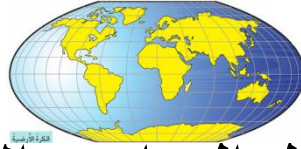
* لتحميل جميع ملفات المدرس سارة منصور اضغط هنا

للتحدث إلى بوت على تلغرام: اضغط هنا

https://t.me/almanahj_bot

مُرَاجَعَةٌ دِرَاسَاتِ اجْتِمَاعِيَّةِ صَف (2)

(العَامُ الدِّرَاسِي ٢٠١٨-٢٠١٩)



الفصل الدراسي الأول

ملخص مهارات ومعارف الوحدة الأولى (بيئتي الإماراتية)

مهارة التصنيف	مهارة الربط	مهارة الاكتشاف
مهارة التلوين	مهارة إكمال الجمل	مهارة التمييز



سارة منصور

اسم الطالب
الصف والشعبة

مُعَلِّمَةُ المَادَّة: سارة منصور

الدرس ١ : كوكب الأرض

السؤال الأول : ضع علامة صح أمام العبارة الصحيحة وعلامة خطأ أمام العبارة الخاطئة :

- () () ١) يرمز اللون الأخضر للماء واللون الأزرق لليابسة .
- () () ٢) ينتج عن دوران الأرض حول نفسها الليل والنهار .
- () () ٣) ينتج عن دوران الأرض حول الشمس الفصول الأربعة .
- () () ٤) الكرة الأرضية كبيرة جدا وهي تدور ثم تتوقف .
- () () ٥) كوكب الأرض يعيش عليه الإنسان وشكله دائري ويحيط به الغلاف الجوي .
- () () ٦) في فصل الربيع تتساقط الأوراق .
- () () ٧) يعتدل الجو وتشرق الشمس في فصل الشتاء .
- () () ٨) الكرة الأرضية لونها أخضر و أزرق .
- () () ٩) اذهب الى البحر في فصل الصيف
- () () ١٠) تظهر الشمس بالليل .
- () () ١١) اذهب للمدرسة في النهار .
- () () ١٢) اللون الأخضر على سطح الكرة الأرضية هو لون الماء.
- () () ١٣) الكرة الأرضية على شكل دائري .
- () () ١٤) يظهر القمر في الليل .
- () () ١٥) الكرة الأرضية لونها أبيض و أسود.
- () () ١٦) تتساقط أوراق الشجر في الشتاء .
- () () ١٧) الكرة الأرضية تشبه المربع .
- () () ١٨) الكوكب الأرضي يسمى بالكوكب الأخضر .
- () () ١٩) تحدث فصول السنة عندما تدور الأرض حول نفسها .



- (٢٠) يحدث تعاقب الليل والنهار عندما تدور الأرض حول الشمس . ()
- (٢١) اظهر بعد غياب الشمس فانا الليل . ()
- (٢٢) تدور الأرض حول نفسها كل ٢٤ ساعة ()

السؤال الثاني : اكمل الفراغات التالية :

(الكرة الأرضية - النهار - الفصول الاربعة - الشتاء - الأزرق - الخريف - الليل والنهار - الشرق - الغرب - الحركة اليومية - الصيف - الشمس - القمر - الصيف و الخريف والشتاء والربيع -الفضاء - اليابسة - الحركة السنوية - الأزرق)

- ابدا عند طلوع الشمس فأنا
- تغزر الأمطار في فصل
- الكرة التي يعيش عليها الإنسان هي
- لون الماء هو اللون
- أنا أنير الأرض ليلا .
- اذهب إلى البحر في فصل
- يتكون كوكب الارض من الماء و
- ينتج عن دوران الأرض حول نفسها تعاقب
- ينتج عن دوران الأرض حول الشمس حدوث
- المكان الذي توجد به الأرض والشمس والقمر
- أشكال المصدر الرئيسي للحرارة
- تتساقط اوراق الأشجار في فصل
- هو لون المياه على الخريطة .
- نحن الفصول الأربعة
- ينتج عن دوران الأرض حول نفسها
- تدور الأرض حول الشمس من إلى وتسمى بالحركة

السؤال الثالث : استكمل البطاقة التعريفية مستعينا بالكلمات :

(دائري - اليابسة - الازرق - الكائنات الحية - الكرة الأرضية - الماء)



أنا

شكلي

لون الماء هو اللون

تعيش على سطحي

اللون الأخضر هو لون

أكمل الصورة التي أمامك مستعينا بالكلمات الآتية :

(الطائرات - الهواء)



السؤال الرابع : اكتب فصول السنة المناسبة لكل صورة :



الدرس ٢ : القارات والمحيطات

السؤال الأول : ضع علامة صح أمام العبارة الصحيحة وعلامة خطأ أمام العبارة الخاطئة :

- () (١) عدد قارات العالم تسعة .
- () (٢) أستراليا أصغر قارات العالم من حيث المساحة .
- () (٣) تقع الإمارات العربية المتحدة في قارة أوروبا .
- () (٤) القارة القطبية الجنوبية قارة باردة جدا .
- () (٥) قارة أستراليا تحيط بها المياه من جميع الجهات .
- () (٦) الانهار من أنواع المياه العذبة .
- () (٧) الماء العذب هو ماء يحتوى على ملح .
- () (٨) تشرف دولة الإمارات العربية المتحدة على الخليج العربي .



- () ٩) القارة القطبية الجنوبية يوجد بها سكان .
- () ١٠) نسبة الماء اكثر من نسبة اليابس على سطح الأرض .
- () ١١) عدد المحيطات في العالم خمسة .
- () ١٢) تمثل نسبة اليابسة حوالي ٧١% من الكرة الارضية .
- () ١٣) الخلجان من أنواع المياه العذبة .
- () ١٤) الغلاف الارضي هو الجزء الذي تغطيه اليابسة .
- () ١٥) نسبة المياه العذبة في العالم كبيرة .
- () ١٦) الماء العذب هو ماء لا يحتوي على ملح .
- () ١٧) المحيطات أصغر من البحار .
- () ١٨) أكبر المحيطات مساحة المحيط الهندي .
- () ١٩) يعيش سمك السالمون في المحيط الهادي
- () ٢٠) وسيلة النقل في البحار والمحيطات هي السفن والقوارب .
- () ٢١) تغطي المياه القسم الأكبر من سطح الارض .
- () ٢٢) نسبة المياه العذبة في العالم كثيرة .
- () ٢٣) تمثل المياه المالحة حوالي (٣%) من الغلاف المائي .
- () ٢٤) تمثل نسبة اليابسة (٢٩%) من مساحة الأرض .
- () ٢٥) نسبة المياه المالحة أكبر من المياه العذبة .

السؤال الثاني : اكمل الفراغات التالية :

(استراليا - القارة - البحار - آسيا - المالحة - افرست - الخليج - اليابسة - المضيق

- الهادي - الأنهار - العذبة - الماء - المحيط - العربي)

١- قطعة كبيرة من اليابسة على سطح الأرض

٢- تشتهر قارة آسيا بأعلى قمة جبل

٣- تتصل المحيطات بالخليج عبر فتحات ضيقة تسمى

٤- أكبر قارات العالم من حيث المساحة قارة

٥- الغلاف الأرضي هو الجزء الذي تغطيه

٦- مسطحات مائية أصغر من المحيطات هي

٧- أصغر قارات العالم مساحة هي قارة

٨- مسطح مائي تحيط به اليابسة من ثلاث جهات

٩- أكبر المحيطات مساحة هو المحيط

١٠- أكبر نسبة مياه على الكرة الأرضية هي المياه

١١- الغلاف المائي هو القسم الذي تغطيه

١٢- احتاج ان اشرب المياه

١٣- من أنواع المياه العذبة

١٤- مسطح مائي أكبر من البحار

١٥- تشرف دولة الامارات العربية المتحدة على الخليج

السؤال الثالث : صل بين الصورة والكلمة المناسبة لها :



1 - بحر



2- محيط



3- مضيق



4 - خليج

السؤال الرابع : اكتب المسميات الآتية في أماكنها الصحيحة:

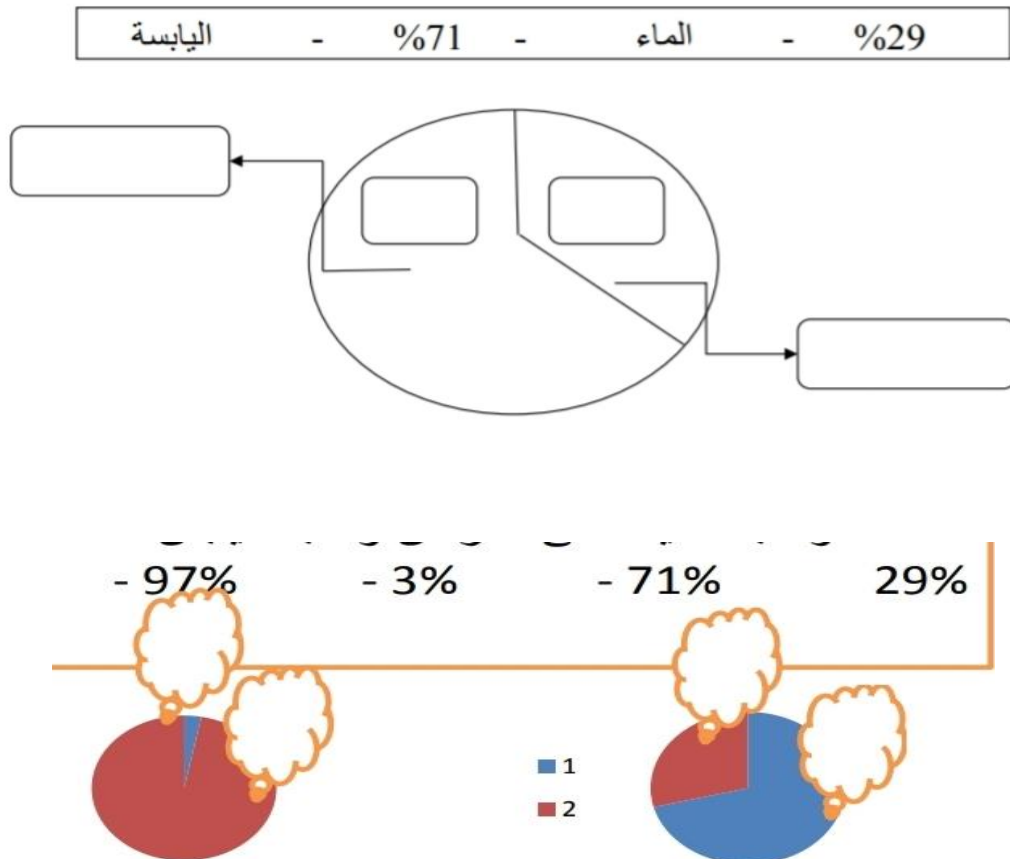
(آسيا - افريقيا - أمريكا الشمالية - أمريكا الجنوبية - القطبية الجنوبية - أوروبا - استراليا)



السؤال الخامس : اختر الإجابة الصحيحة :

١. اكبر قارات العالم مساحة وسكانا
(آسيا - أوروبا - أفريقيا)
٢. تقع قمة (إفرست) أعلى قمة في العالم في قارة
(استراليا - أوروبا - آسيا)
٣. سميت بالقارة السمراء
(أوروبا - اسيا - أفريقيا)
٤. من أشهر الجبال في قارة اوروبا جبال
(إفرست - الأخضر - الألب)

السؤال السادس: أكمل الشكل الآتي مستعينا بالكلمات :



الدرس ٣: موقع بلادي

السؤال الأول : ضع علامة صح أو علامة خطأ :

١. تقع دولة الإمارات العربية المتحدة في قلب الخليج العربي . ()
٢. قارات العالم القديم هي استراليا وامريكا الشمالية واوروبا . ()
٣. تقع دولة الامارات العربية المتحدة في قارة افريقيا . ()
٤. الدولة الإمارات العربية المتحدة امتداد للوطن العربي من جهة الغرب . ()
٥. الدول المجاورة لدولة الإمارات هي دولة قطر وسلطنة عمان والمملكة العربية السعودية . ()
٦. الواحة أرض منخفضة وسط الصحراء . ()
٧. السهول أرض مرتفعة تمتد بالقرب من البحار . ()
٨. الصحراء كثبان رميلة صفراء اللون . ()
٩. الجبال أرض مرتفعة لها قمم واضحة . ()
١٠. السهل الساحلي الغربي يطل على بحر عمان . ()
١١. أقرب إمارة للسهل الساحلي الشرقي هي إمارة الفجيرة . ()
١٢. السهل الساحلي الشرقي يطل على الخليج العربي . ()
١٣. أقرب إمارات للسهل الساحلي الغربي هي إمارة أبو ظبي . ()
١٤. السهل الساحلي الشرقي يتميز أنه قصير وضيق . ()
١٥. السهل الساحلي الغربي يتميز انه طويل وواسع . ()
١٦. أبو ظبي هي عاصمة دولة الإمارات العربية المتحدة وبها مسجد الشيخ زايد . ()
١٧. رأس الخيمة فيها جبل جيس وهو أعلى جبل في دولة الإمارات العربية المتحدة . ()
١٨. عجمان أصغر الإمارات مساحة . ()



١٩. دبی هي العاصمة الاقتصادية . ()
٢٠. الفجيرة هي عاصمة الفن والثقافة . ()
٢١. اشتهرت أم القيوين بوجود أكبر الأسواق التقليدية (سوق الجمعة) ()
٢٢. دبی هي الاكبر مساحة بين مدن دولة الإمارات العربية المتحدة . ()
٢٣. عجمان عرفت بصناعة القوارب التقليدية . ()
٢٤. أم القيوين تشتهر بصيد الأسماك وتجارة اللؤلؤ . ()
٢٥. تقع دولتنا الحبيبة في موقعا متميزا بين قارات العالم القديم . ()
٢٦. تعتبر دولة الإمارات في إحدى النقاط التجارية الهامة . ()

السؤال الثاني : اختر الإجابة الصحيحة مما بين القوسين :

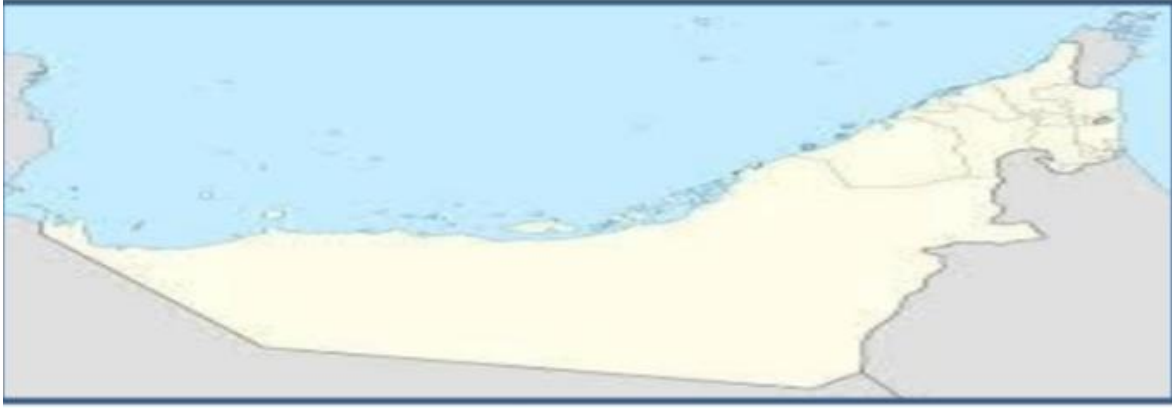
(أ) آسيا - شرق - قلب - الموقع الجغرافي - قطر وسلطنة عمان - آسيا وأفريقيا وأوروبا
- الواحة - السهول - الجبال - الصحراء - السهل الساحلي الشرقي - طويل وواسع
- السهل الساحلي الغربي - ضيق و قصير - جبل جيس - دبي - الشارقة - الفجيرة -
سوق الجمعة - أبو ظبي - رأس الخيمة - أم القيوين - عجمان)

- (١) تقع دولة الإمارات العربية المتحدة في قارة
- (٢) موقع المكان بالنسبة للمناطق المجاورة له هو
- (٣) دولة الإمارات العربية المتحدة هي الخليج العربي.
- (٤) قارات العالم القديم هي
- (٥) الدول المجاورة لدولة الامارات العربية المتحدة مثل المملكة العربية السعودية
و..... و.....



- ٦) تقع دولة الامارات العربية المتحدة الوطن العربي .
- ٧) أرض منخفضة مستوية تمتد بالقرب من البحار هي
- ٨) أرض مرتفعة لها قمم واضحة هي
- ٩) كثبان رملية صفراء اللون تغطي مساحة كبيرة من أرض دولة الإمارات هي
- ١٠) أرض منخفضة وسط الصحراء
- ١١) أنا أطل على الخليج العربي.
- ١٢) السهل الساحلي الشرقي يتميز أنه و
- ١٣) أنا أطل على بحر عمان .
- ١٤) السهل الساحلي الغربي يتميز أنه و
- ١٥) هي عاصمة الفن والثقافة .
- ١٦) اماره فيها اعلى جبل في دولة الإمارات العربية المتحدة .
- ١٧) هي العاصمة الاقتصادية وهي ثاني أكبر الإمارات مساحة .
- ١٨) اماره تشتهر بصيد الأسماك وتجارة اللؤلؤ وتربية الأحياء المائية .
- ١٩) هي عاصمة دولة الإمارات وأكبر الإمارات مساحة وبها مقر رئاسة الدولة .
- ٢٠) هو أعلى قمة في دولة الإمارات ويعتبر وجهة سياحية .
- ٢١) أصغر الإمارات مساحة وتشتهر بصناعة القوارب التقليدية هي إمارة
- ٢٢) أكبر الأسواق التقليدية بإمارة الفجيرة هو
- ٢٣) هي تطل على بحر عمان وبها ميناء لتصدير النفط .

السؤال الثالث : على خريطة الإمارات عين كل من السعودية - عمان - الخليج العربي :



السؤال الرابع : صل بين موقع الإمارات والخريطة المناسبة لها :
وسط العالم (قلب)



شرق الوطن العربي

سنة 2018

Al Manara Private School (Alshamkha)

السؤال الخامس : صل بين الكلمة والصورة الصحيحة :



صحراء

واحة

سهل

جبل

السؤال السادس : اكمل الآتي :

السهل الغربي	السهل الشرقي	وجه المقارنة
		الطول (قصير - طويل)
		الاتساع (ضيق - واسع)
خليج	بحر	يقع على
		أسماء المدن

السؤال السادس : صل بين كل إمارة والصورة المناسبة لها :



دبي



أبو ظبي



الشارقة



عجمان



أم القيوين



راس الخيمة



الفجيرة

سارة منصور

Al Manara Private School (Alshamkha)