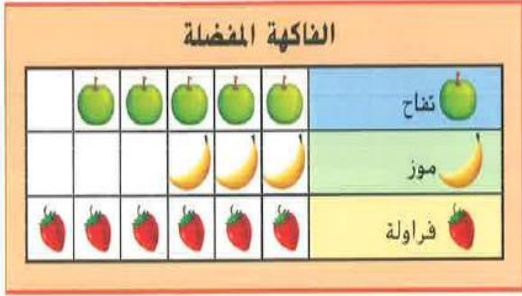


اختبار رياضيات للصف الأول الأساسي في مهارات الفصل الدراسي الثالث

20

5

السؤال الأول : استخدم التمثيل البياني المصور في الإجابة عن الأسئلة التالية.



1 - ما عنوان التمثيل البياني المصور ؟

2 - كم شخصًا شارك في استطلاع الرأي ؟

3 - كم شخصًا يحب الفراولة ؟

4 - ما الفاكهة التي حصلت على 5 أصوات ؟

5 - بكم يزيد عدد من اختاروا التفاح عن من اختاروا الموز ؟

4

السؤال الثاني : استخدم جدول العلامات في الإجابة عن الأسئلة التالية.

الأشكال التي أراها

الشكل	العدد بالرموز	الإجمالي
مربع	1 IIII	
مثلث	IIII	
دائرة	II IIII	

1 اكتب الإجمالي في جدول العلامات .



2 - كم عدد المربعات ؟

3 - أي أشكال لها العدد الأكثر ؟

4 - ما أقل الأشكال عددًا ؟

السؤال الثالث : ارسمي عقرب الدقائق لعرض الوقت . اكتب الوقت على الساعة الرقمية .

4



السؤال الرابع : ظللي الإجابة الصحيحة فيما يلي.

1 - أي ساعة تظهر الساعة 8 ؟

8 :30



7 :30





8 :00



9 :00



2 - شكل له 3 أضلاع و 3 رؤوس



شبه منحرف

3 - حوطي الجسم الأقصر من قلم الرصاص



4 - شكل له 0 أضلاع و 0 رؤوس



www.almanahj.com

السؤال الخامس: ارسمي الشكل وأكتب اسمه .

أنا شكل ثنائي الأبعاد لدي 4 رؤوس
وكل أضلاعي لها نفس الطول
فأي شكل أنا ؟

السؤال السادس: صلي الكلمة بما يناسب .

◆ مثلث

◆ شبه منحرف

◆ شكل مفتوح

◆ دائرة

