

كل ما يحتاجه الطالب في جميع الصفوف من أوراق عمل واختبارات ومذكرات، يجده هنا في الروابط التالية لأفضل مواقع تعليمي إماراتي 100 %



<u>تطبيق المناهج الإماراتية</u>	<u>الاجتماعيات</u>	<u>الرياضيات</u>
<u>الصفحة الرسمية على التلغرام</u>	<u>الاسلامية</u>	<u>العلوم</u>
<u>الصفحة الرسمية على الفيسبوك</u>	<u>الانجليزية</u>	
<u>التربية الاخلاقية لجميع الصفوف</u>	<u>اللغة العربية</u>	
<u>التربية الرياضية</u>		
<b>مجموعات التلغرام.</b>	<b>مجموعات الفيسبوك</b>	<b>قنوات تلغرام</b>
<u>الصف الأول</u>	<u>الصف الأول</u>	<u>الصف الأول</u>
<u>الصف الثاني</u>	<u>الصف الثاني</u>	<u>الصف الثاني</u>
<u>الصف الثالث</u>	<u>الصف الثالث</u>	<u>الصف الثالث</u>
<u>الصف الرابع</u>	<u>الصف الرابع</u>	<u>الصف الرابع</u>
<u>الصف الخامس</u>	<u>الصف الخامس</u>	<u>الصف الخامس</u>
<u>الصف السادس</u>	<u>الصف السادس</u>	<u>الصف السادس</u>
<u>الصف السابع</u>	<u>الصف السابع</u>	<u>الصف السابع</u>
<u>الصف الثامن</u>	<u>الصف الثامن</u>	<u>الصف الثامن</u>
<u>الصف التاسع عام</u>	<u>الصف التاسع عام</u>	<u>الصف التاسع عام</u>
<u>الصف التاسع متقدم</u>	<u>الصف التاسع متقدم</u>	<u>الصف التاسع متقدم</u>
<u>الصف العاشر عام</u>	<u>الصف العاشر عام</u>	<u>الصف العاشر عام</u>
<u>الصف العاشر متقدم</u>	<u>الصف العاشر متقدم</u>	<u>الصف العاشر متقدم</u>
<u>الحادي عشر عام</u>	<u>الحادي عشر عام</u>	<u>الحادي عشر عام</u>
<u>الحادي عشر متقدم</u>	<u>الحادي عشر متقدم</u>	<u>الحادي عشر متقدم</u>
<u>ثاني عشر عام</u>	<u>الثاني عشر عام</u>	<u>الثاني عشر عام</u>
<u>ثاني عشر متقدم</u>	<u>ثاني عشر متقدم</u>	<u>ثاني عشر متقدم</u>

<p><b>الصف: الاول الأساسي</b>  <b>المادة: رياضيات</b>  <b>الدرس: وحدات الطول الغير قياسي</b>  <b>التاريخ: 2018 / 4 / 15</b>  <b>إعداد المعلمة: JANA RABII</b></p>	 <p>مدرسة الرؤية الخاصة VISION PRIVATE SCHOOL</p> <p>عام زايد 2018</p>	 <p>دائرة التعليم والمعرفة DEPARTMENT OF EDUCATION AND KNOWLEDGE</p> <p>دائرة التعليم والمعرفة مدرسة الرؤية الخاصة الفصل الدراسي الثالث</p>
<p><b>مؤشرات الأداء: ان يقارن التلميذ بين الأطوال</b></p>		

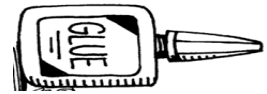

ضع رقم (1) على الشيء القصير ورقم (2) على الشيء الاقصر ورقم (3) على الاقصر علي الاطلاق.



:




[alManahj.com/ae](http://alManahj.com/ae)




**JANA RABII**

مدرسة الرؤية الخاصة

اكتب 1 للجسم الطويل و 2 للجسم الاطول و 3 للجسم الاطول علي الاطلاق



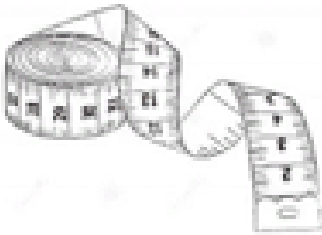
St-Takla.org



3SLAY.COM



[alManahj.com/ae](http://alManahj.com/ae)



**JANA RABII**

مدرسه الرؤيه الخاصه

استخدم  للقياس



\_\_\_\_\_



\_\_\_\_\_


[alManahj.com/ae](http://alManahj.com/ae)



\_\_\_\_\_



استخدم العملات المعدنية للقياس

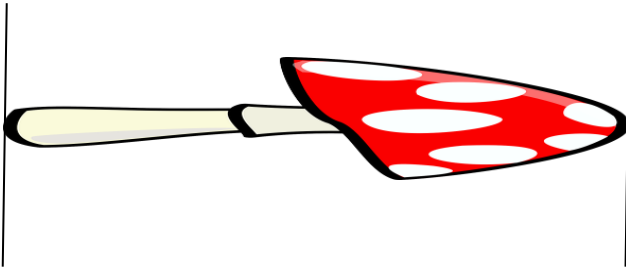


\_\_\_\_\_



\_\_\_\_\_

[alManalij.com/ae](http://alManalij.com/ae)




\_\_\_\_\_

**JANA RABII**

مدرسه الرؤيه الخاصه


ثمره موز تنمو بمقدار 1 مكعب كل يوم. وفي يوم الاربعاء كان طولها 4 مكعبات. فكم يبلغ طولها يوم الجمعة.

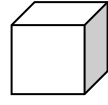
الايام	المكعبات
الاربعاء	4
الخميس	
الجمعه	



[alManahj.com/ae](http://alManahj.com/ae)

محمود اكل جزره طولها مكعبين. بينما عاطف اكل جزره طولها 4 مكعبات. فكم يزيد طول الجزره التي اكلها عاطف عن التي اكلها محمود؟





ارسم جسما يبلغ طوله 8 مكعبات



\*\*\*\*\*



ارسم جسما يبلغ طوله 5 عملات معدنيه.



[alManahj.com/ae](http://alManahj.com/ae)

\*\*\*\*\*

قلم التحديد اطول من عبوه الصمغ وعبوه الصمغ اطول من مشبك الورق. هل مشبك الورق اطول من قلم التحديد ام اقصر منه؟

