

الصف: الاول الأساسي

المادة: رياضيات

الدرس : الاطوال ودرس الساعه

التاريخ: 24 / 4 / 2018

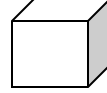
إعداد المعلمة : JANA RABII



دائرة التعليم و المعرفة
مدرسة الرؤية الخاصة
الفصل الدراسي الثالث

مؤشرات الأداء : تدريب التلميذ علي قراءه الساعه .

تدريب التلميذ علي تحديد الاطول والاقصر.

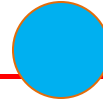



استخدم المكعب كوحده للقياس





استخدم كوحده للقياس.





اكتب الوقت الصحيح فالساعة الرقمية

:



:



:



:



:



:




:



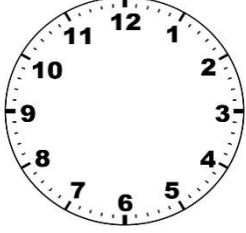
:



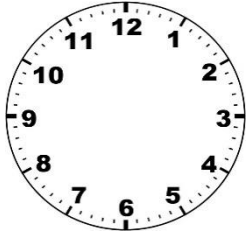
ارسم عقرب الساعات وعقرب الدقائق تبع الوقت المكتوب



3:30



5:00



8:45

اختر الاجابه الصحيحه من بين الاقواس

1. نصف الساعه (40 - 30 - 50)



2. عقرب الدقائق (طويل _ قصير _ متوسط)

3. الساعه عندما تكون السادسه (6 :00 - 9 :30 - 9 :00)

. الساعه تساوي (90دقيقه - 80دقيقه _ 60دقيقه)

حدد الاطول





رتب من الاقصر الى الاطول.

