



النموذج التدريبي لمادة العلوم الفصل الدراسي الثالث الصف الأول

www.almanahj.com
إدارة التقييم والامتحانات

2017
18



الهدف

تهيئة الطلاب لتطبيق الامتحانات



إرشادات

www.almanahj.com

1. الاطلاع على النماذج التدريبية مسبقاً .
2. إمكانية توليد نماذج تدريبية على نمط النماذج المرفقة .
3. توظيف جهاز العرض في التدريب .
4. تنفيذ المفردات التدريبية بصورة فردية أو جماعية .
5. إنجاز التدريب ضمن الوقت المخصص قبل بداية الامتحان .

حوط الإجابة الصحيحة :



* ميزان ذو كفتين



* مسطرة



* مقياس حرارة

1- أداة تقيس الطول:



* الأتمار
الصناعية



* الفحم



* الجازولين

2- تحصل السيارة على الطاقة من:



* صلصة الطماطم



* الزيت



* الحليب

3- مادة سائلة تنساب ببطء:


-4 قوة شد:



* ج



* ب

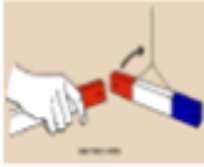


* ج

-5 القطب الشمالي والقطب الجنوبي
يتجاذبان:



* ج



* ب



* ج

-6 المغناطيس يجذب:



* مشابك من
الحديد



* أقلام شمعية



* صوف

www.almanahj.com

-7 تكبر الأشياء:



* مغناطيس



* عدسة



* مسطرة

* الصوت

* الظل

* الشعاع

-8 يحجب الجسم الضوء فيتكون:

* يظل ثابتا

* يتغير

* لا يتغير

-9 طول الظل:



* ليس لها شكل
محدد

* شكلها محدد

* شكلها لا يتغير

السؤال الثاني

أولاً: صل بخط بين الجسم وصفاته:



كرة زجاجية قابلة
للكسر

كرة من الخشب خشنة

كرة حمراء قابلة
للثني

كرة لينة ملونة

www.almanahj.com

ثانياً: اكتب في الجدول الأجسام التي تطفو على الماء والأجسام التي تغوص في الماء؟



بطة من البلاستيك



مفتاح حديد



قارب من الورق



صخرة

أجسام تغوص	أجسام تطفو

ثالثا: ضع دائرة حول الآلة البسيطة :




مطرقة




آلة خياطة كهربائية



شاحنة



مجذاف



بكرة

رابعا: ضع إشارة \checkmark امام الجملة الصحيحة ، وإشارة \times أمام الجملة الخاطئة.

www.almanafj.com

1- (.....) الحرارة تجعل الأجسام باردة.

2- (.....) الاحتكاك هو القوة التي تسرع حركة الأشياء.

3- (.....) يمكن الحصول على الكهرباء من البطاريات.

4- (.....) الحركة هي تغيّر موقع جسم ما.

انتهت الأسئلة