

كل ما يحتاجه الطالب في جميع الصفوف من أوراق عمل واختبارات ومذكرات، يجده هنا في الروابط التالية لأفضل مواقع تعليمي إماراتي 100 %

<u>تطبيق المناهج الإماراتية</u>	<u>الاجتماعيات</u>	<u>الرياضيات</u>
<u>الصفحة الرسمية على التلغرام</u>	<u>الاسلامية</u>	<u>العلوم</u>
<u>الصفحة الرسمية على الفيسبوك</u>	<u>الانجليزية</u>	
<u>التربية الاخلاقية لجميع الصفوف</u>	<u>اللغة العربية</u>	
<u>التربية الرياضية</u>		
مجموعات التلغرام.	مجموعات الفيسبوك	قنوات تلغرام
<u>الصف الأول</u>	<u>الصف الأول</u>	<u>الصف الأول</u>
<u>الصف الثاني</u>	<u>الصف الثاني</u>	<u>الصف الثاني</u>
<u>الصف الثالث</u>	<u>الصف الثالث</u>	<u>الصف الثالث</u>
<u>الصف الرابع</u>	<u>الصف الرابع</u>	<u>الصف الرابع</u>
<u>الصف الخامس</u>	<u>الصف الخامس</u>	<u>الصف الخامس</u>
<u>الصف السادس</u>	<u>الصف السادس</u>	<u>الصف السادس</u>
<u>الصف السابع</u>	<u>الصف السابع</u>	<u>الصف السابع</u>
<u>الصف الثامن</u>	<u>الصف الثامن</u>	<u>الصف الثامن</u>
<u>الصف التاسع عام</u>	<u>الصف التاسع عام</u>	<u>الصف التاسع عام</u>
<u>الصف التاسع متقدم</u>	<u>الصف التاسع متقدم</u>	<u>الصف التاسع متقدم</u>
<u>الصف العاشر عام</u>	<u>الصف العاشر عام</u>	<u>الصف العاشر عام</u>
<u>الصف العاشر متقدم</u>	<u>الصف العاشر متقدم</u>	<u>الصف العاشر متقدم</u>
<u>الحادي عشر عام</u>	<u>الحادي عشر عام</u>	<u>الحادي عشر عام</u>
<u>الحادي عشر متقدم</u>	<u>الحادي عشر متقدم</u>	<u>الحادي عشر متقدم</u>
<u>ثاني عشر عام</u>	<u>الثاني عشر عام</u>	<u>الثاني عشر عام</u>
<u>ثاني عشر متقدم</u>	<u>الثاني عشر متقدم</u>	<u>الثاني عشر متقدم</u>

Name: _____ Grade 1: ___ Date: _____

Circle the correct answers (5)

1. _____ are how something looks, feels, Smells, sounds and tastes
 - a. Temperature
 - b. Properties
 - c. Shadows

2. Wood , plastic, rubber and metal are examples of:
 - a. Materials
 - b. Liquids
 - c. Gases

3. A _____ makes smaller things look larger?
 - a. Ruler
 - b. Thermometer
 - c. Hand lens

4. When a solid object blocks the light it is called a:
 - a. Shadow
 - b. Property
 - c. Liquid

5. What does this picture show?
 - a. Floating
 - b. Sinking
 - c. Solubility



Fill in the correct answer (4)

<u>Gases</u>	<u>Liquid</u>	<u>Matter</u>	<u>Solid</u>
---------------------	----------------------	----------------------	---------------------






1. All things are made of _____.

2. A _____ does not have its own shape.

3. A _____ has a shape of its own.

4. The air is made of different _____

What are the following solid objects made from? (5)

Wood	Plastic	Rubber	Glass	Metal
				
				
				
				
				

Match the tools with their function. (4)




Ruler

Measures the temperature.



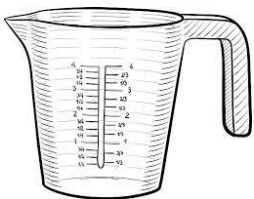
Balance

Measures how much space a liquid can take up.



Thermometer

Measures length.



Measuring Cup

Measures mass.

Circle the correct form of matter (5)

	<p>Solid</p> <p>Liquid</p> <p>Gas</p>		<p>Solid</p> <p>Liquid</p> <p>Gas</p>
	<p>Solid</p> <p>Liquid</p> <p>Gas</p>		<p>Solid</p> <p>Liquid</p> <p>Gas</p>
	<p>Solid</p> <p>Liquid</p> <p>Gas</p>		<p>Solid</p> <p>Liquid</p> <p>Gas</p>
	<p>Solid</p> <p>Liquid</p> <p>Gas</p>		<p>Solid</p> <p>Liquid</p> <p>Gas</p>
	<p>Solid</p> <p>Liquid</p> <p>Gas</p>		<p>Solid</p> <p>Liquid</p> <p>Gas</p>

Label which liquid flows *quickly* and which flows *slowly*

