

كل ما يحتاجه الطالب في جميع الصفوف من أوراق عمل واختبارات ومذكرات، يجده هنا في الروابط التالية لأفضل مواقع تعليمي إماراتي 100 %

<u>تطبيق المناهج الإماراتية</u>	<u>الاجتماعيات</u>	<u>الرياضيات</u>
<u>الصفحة الرسمية على التلغرام</u>	<u>الاسلامية</u>	<u>العلوم</u>
<u>الصفحة الرسمية على الفيسبوك</u>	<u>الانجليزية</u>	
<u>التربية الاخلاقية لجميع الصفوف</u>	<u>اللغة العربية</u>	
<u>التربية الرياضية</u>		
<b>مجموعات التلغرام.</b>	<b>مجموعات الفيسبوك</b>	<b>قنوات تلغرام</b>
<u>الصف الأول</u>	<u>الصف الأول</u>	<u>الصف الأول</u>
<u>الصف الثاني</u>	<u>الصف الثاني</u>	<u>الصف الثاني</u>
<u>الصف الثالث</u>	<u>الصف الثالث</u>	<u>الصف الثالث</u>
<u>الصف الرابع</u>	<u>الصف الرابع</u>	<u>الصف الرابع</u>
<u>الصف الخامس</u>	<u>الصف الخامس</u>	<u>الصف الخامس</u>
<u>الصف السادس</u>	<u>الصف السادس</u>	<u>الصف السادس</u>
<u>الصف السابع</u>	<u>الصف السابع</u>	<u>الصف السابع</u>
<u>الصف الثامن</u>	<u>الصف الثامن</u>	<u>الصف الثامن</u>
<u>الصف التاسع عام</u>	<u>الصف التاسع عام</u>	<u>الصف التاسع عام</u>
<u>الصف التاسع متقدم</u>	<u>الصف التاسع متقدم</u>	<u>الصف التاسع متقدم</u>
<u>الصف العاشر عام</u>	<u>الصف العاشر عام</u>	<u>الصف العاشر عام</u>
<u>الصف العاشر متقدم</u>	<u>الصف العاشر متقدم</u>	<u>الصف العاشر متقدم</u>
<u>الحادي عشر عام</u>	<u>الحادي عشر عام</u>	<u>الحادي عشر عام</u>
<u>الحادي عشر متقدم</u>	<u>الحادي عشر متقدم</u>	<u>الحادي عشر متقدم</u>
<u>ثاني عشر عام</u>	<u>الثاني عشر عام</u>	<u>الثاني عشر عام</u>
<u>ثاني عشر متقدم</u>	<u>ثاني عشر متقدم</u>	<u>ثاني عشر متقدم</u>

المادة : علوم

التاريخ : ..... / ..... / 2019

الموضوع : الموقع والحركة  
معلمة المادة : صفاء خير




دولة الإمارات العربية المتحدة  
دائرة التعليم والمعرفة  
مدرسة الرؤية الخاصة

العام الدراسي 2018-2019  
الفصل الدراسي الثالث


الصف: الأول الشعبة: .....  
ورقة عمل

مؤشرات الأداء : يحدد التلميذ بعض الطرق التي تتحرك بها الأجسام


1 ( أكتب الكلمات المناسبة للصور التالية :  
( خط مستقيم - خط منحن - إلى الأمام ثم إلى الخلف - حركة دائرية )



2 ( صل الصورة بما يناسبها :



شد



دفع

أعطوا الاحترام كي تكسبوا الاحترام

المادة : علوم  
التاريخ : ..... / 5 / 2019

الموضوع : الدفع والشد  
معلمة المادة : صفاء خير

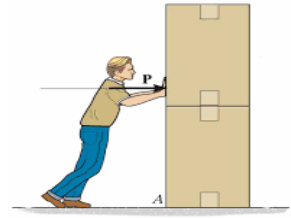


دولة الإمارات العربية المتحدة  
دائرة التعليم والمعرفة  
مدرسة الرؤية الخاصة

العام الدراسي 2018-2019  
الفصل الدراسي الثالث

الصف: الأول

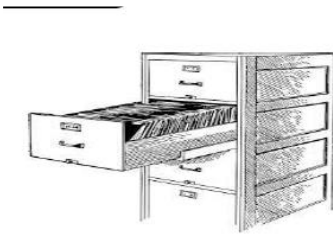

أكتب نوع القوة : ( دفع - شد - جاذبية ):



\_\_\_\_\_

\_\_\_\_\_

\_\_\_\_\_



\_\_\_\_\_

\_\_\_\_\_

\_\_\_\_\_



\_\_\_\_\_

\_\_\_\_\_

\_\_\_\_\_

\_\_\_\_\_

المادة : علوم

التاريخ : ..... / ..... / 2019

الموضوع :



دولة الإمارات العربية المتحدة  
دائرة التعليم والمعرفة  
مدرسة الرؤية الخاصة

العام الدراسي 2018-  
2019

الصف: الأول الشعبة: .....  
ورقة عمل رقم ( )

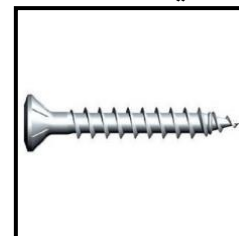
**السؤال الأول :** من خلال الصور التالية حدد نوع القوة ( شد – الجاذبية – دفع ) ؟



**السؤال الثاني :** من خلال الصور التالية حدد قطبي المغناطيس ؟ وكيف يحدث التجاذب والتنافر بينهما ؟



**السؤال الثالث :** من خلال الصور التالية حدد الأجسام التي يجذبها المغناطيس والأجسام التي لا يجذبها المغناطيس ( يجذب – لا يجذب ) ؟



المادة : علوم

التاريخ : ..... / ..... / 2019




دولة الإمارات العربية المتحدة  
دائرة التعليم والمعرفة  
مدرسة الرؤية الخاصة

الموضوع : المغناطيس  
معلمة المادة : صفاء خير

العام الدراسي 2018-  
2019

الصف: الأول الشعبة: .....  
ورقة عمل

## 1 / حوط الأجسام التي يجذبها المغناطيس :



## 4 / ضع علامة (✓) أو (x) أمام العبارة المناسبة:

1. يجذب المغناطيس الأشياء المصنوعة من حديد ( )

2. القوة هي الدفع فقط ( )

3. المغناطيس له أشكال وألوان مختلفة ( )

4. المغناطيس هو نوع من الحديد ( )

5. تتحرك الأجسام بشكل منحن فقط ( )



## 5 / أرسم

A. مغناطيس حذوه الحصان .

B. مغناطيس مستقيم .

C. حدد اتجاهات المغناطيس

N

S

D. حدد موقع قوة الجذب .

E. حدد لون كل اتجاه .

A

B

المادة : علوم

التاريخ : ..... / ..... / 2019



دولة الإمارات العربية المتحدة  
دائرة التعليم والمعرفة  
مدرسة الرؤية الخاصة





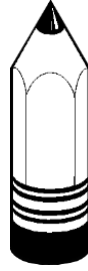
الموضوع : المغناطيس

العام الدراسي 2018-  
2019

الصف: الأول الشعبة: .....

ورقة عمل رقم ( )

صل الأشياء التي يجذبها المغناطيس ؟



السؤال الثاني : ضع اشارة صح أمام العبارة الصحيحة و اشارة خطأ أمام الخاطئة :

- المغناطيس نوع من الحديد . ( )
- للمغناطيس أشكال وألوان مختلفة ( )
- يجذب المغناطيس الأجسام المصنوعة من البلاستيك. ( )