

الدليل الإرشادي للفصل الدراسي الثاني

2017/2016



إدارة التقييم والامتحانات

الصف : الأول

المادة : العلوم

المهارة الاستدلال

الأمثلة :

1- اكتب رقم الصورة التي تتناسب مع الوصف المناسب لها في الجدول:

www.almanahj.com



| غائم | مشمس | ممطر | ثلجي |
|------|------|------|------|
| | | | |

| غائم | مشمس | ممطر | ثلجي |
|------|------|------|------|
| 2 | 1 | 4 | 3 |

الإجابة :

الدليل الإرشادي للفصل الدراسي الثاني

2017/2016

بصريح



إدارة التقييم والامتحانات

الصف : الأول

المادة : العلوم

المهارة : الاستنتاج

الأمثلة :

2- اكتب رقم الأداة المناسبة لكل مما يلي:

أ- أداة قياس كمية المطر. (.....)

ب- أداة قياس سرعة الرياح. (.....)

ج- أداة قياس درجة الحرارة. (.....)

د- أداة قياس اتجاه الرياح. (.....)



| د | ج | ب | أ |
|---|---|---|---|
| 3 | 1 | 4 | 2 |

الإجابة :

الدليل الإرشادي
للفصل الدراسي الثاني

2017/2016



إدارة التقييم والامتحانات

الصف : الأول

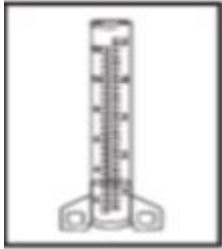
المادة : العلوم

المهارة : الاستنتاج

الأمثلة :

3- ضع دائرة حول الأداة التي يمكن أن يستخدمها خالد لقياس سخونة الجو في حديقة منزله.

1- 2- دوارة الرياح 3- الترمومتر 4- مقياس المطر



مقياس المطر



دوارة الرياح



الترمومتر

الإجابة

الترمومتر

الدليل الإرشادي
للفصل الدراسي الثاني

2017/2016



إدارة التقييم والامتحانات

الصف : الأول

المادة : العلوم

المهارة : الاستدلال

الأمثلة :

4- ضع دائرة حول ما يمثله الشكل التالي:



السلسلة الغذائية

دورة الماء

دورة الحياة

الإجابة

دورة الماء

الدليل الإرشادي
للفصل الدراسي الثاني

2017/2016



إدارة التقييم والامتحانات

الصف : الأول

المادة : العلوم

المهارة : الاستنتاج

الأمثلة :

5- ضع دائرة حول الفصل الذي تفقد فيه الشجرة أوراقها:

www.almanahj.com



1- الشتاء

2- الصيف

3- الخريف

4- الربيع

الاجابة

3- الخريف

الدليل الإرشادي
للفصل الدراسي الثاني

2017/2016



إدارة التقييم والامتحانات

الصف : الأول

المادة : العلوم

المهارة : التوقع

الأمثلة :

6- أتوقع هبوب عاصفة عندما أرى :



(3)

سحاب المزن - ركامي



(2)

سحاب القرع



(1)

السحاب الركامي

الإجابة

3- سحاب المزن - ركامي

الدليل الإرشادي للفصل الدراسي الثاني

2017/2016



إدارة التقييم والامتحانات

الصف : الأول



المادة : العلوم

المهارة : التقويم

الأمثلة

7- حوِّط الرّمز الذي يدلّ على الإجابة الصحيحة أو الخطأ في العبارات التالّية:

| م | العبارة | الاجبة |
|---|---|---|
| 1 | أقرب نجم إلى الأرض هو الشمس |   |
| 2 | تدور الأرض حول محورها دورة كاملة كل 24 ساعة. |   |
| 3 | يستغرق دوران القمر حول الأرض دورة واحدة في اليوم. |   |
| 4 | تعرف المواد التي لا نحصل عليها من الأرض بالمواد المصنّعة. |   |
| 5 | الأداة التي يستخدمها الأرنب للحفر في التربة هي الأسنان. |   |

| | | | | |
|---|---|---|---|--|
| 5 | 4 | 3 | 2 | 1 |
|  |  |  |  |  |

الإجابة :

الدليل الإرشادي للفصل الدراسي الثاني

2017/2016



إدارة التقييم والامتحانات


الصف : الأول

المادة : العلوم

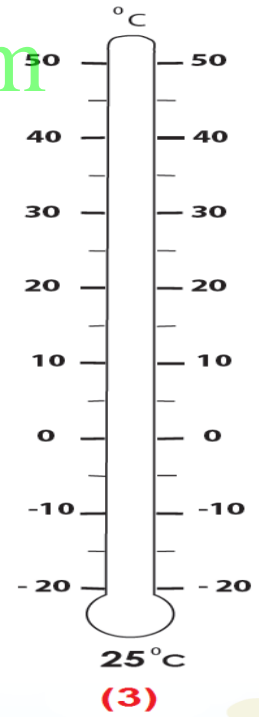
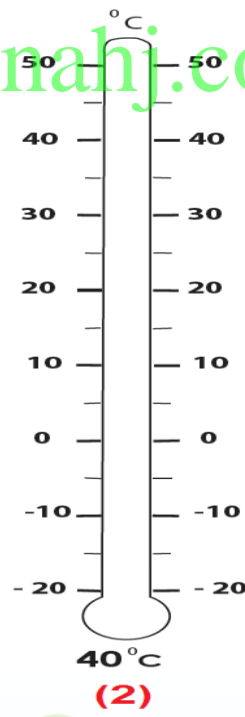
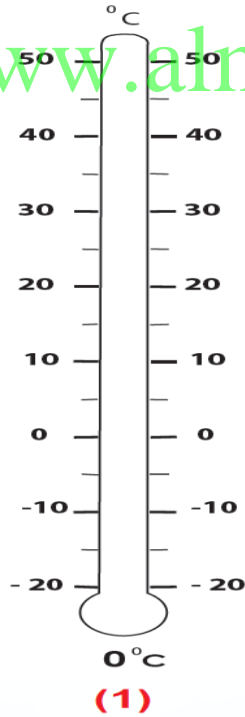
المهارة : الاستدلال

الأمثلة:

8- لَوْن الترمومترات التالية تبعًا لدرجة الحرارة المدوّنة أسفل كلٍّ منها، ثم أجب.



www.almanahj.com



الدليل الإرشادي للفصل الدراسي الثاني

2017/2016



إدارة التقييم والامتحانات

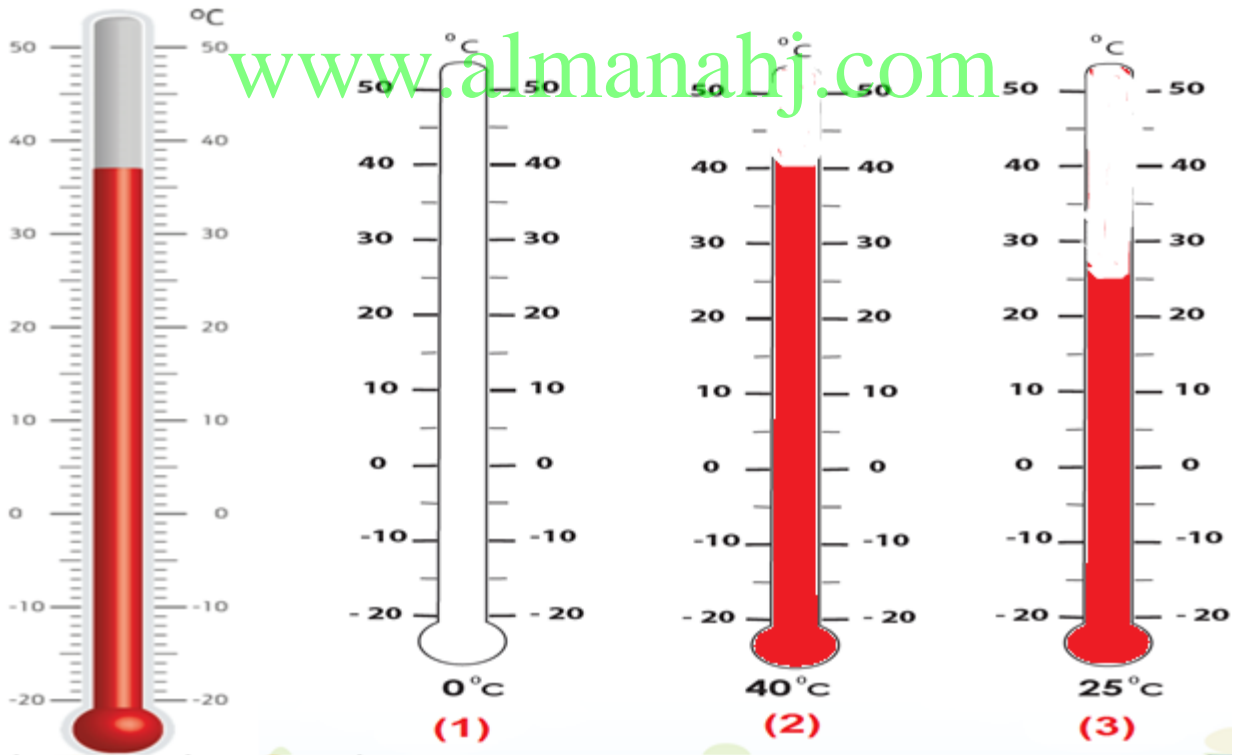
الصف : الأول

المادة : العلوم

المهارة : الاستدلال

الإجابة :

8- لَوْن الترمومترات التالية تبعًا لدرجة الحرارة المدونة أسفل كلٍّ منها، ثمَّ أجب:



الدليل الإرشادي للفصل الدراسي الثاني

2017/2016



إدارة التقييم والامتحانات


الصف : الأول

المادة : العلوم

المهارة : التصميم – التوقع - القياس

الأمثلة:

9- ضع في الفراغ رمز الإجابة الصحيحة:



- أ- الترمومتر الذي يقيس درجة حرارة الشمس في الصيف مباشرة هو رقم
- ب- الترمومتر الذي يقيس درجة حرارة الشمس في الصيف في الظل هو رقم

الإجابة :

| | |
|---|---|
| ب | أ |
| 3 | 2 |

الدليل الإرشادي
للفصل الدراسي الثاني

2017/2016



إدارة التقييم والامتحانات

الصف : الأول

المادة : العلوم

المهارة : التوقع

الأمثلة:

10- اكتب بين القوسين الرّقم المناسب لحالات الظل المتكوّن للشجرة من الآتية:

أ- في منتصف اليوم ب- في الصباح

www.almanahj.com



(.....)



(.....)

الإجابة:

ب

أ

الدليل الإرشادي
للفصل الدراسي الثاني

2017/2016



إدارة التقييم والامتحانات

الصف : الأول

المادة : العلوم

المهارة : التصنيف

الأمثلة:

11- صنّف الموارد الطبيعيّة و المواد المصنّعة بكتابة الرقم المناسب لكلّ منها في الجدول التالي:



مواد مصنّعة

موارد طبيعيّة

.....

.....

الإجابة :

مواد مصنّعة

موارد طبيعيّة

2, 4, 5

6, 3, 1

الدليل الإرشادي
للفصل الدراسي الثاني

2017/2016



إدارة التقييم والامتحانات

الصف : الأول

المادة : العلوم

المهارة : المقارنة

الأمثلة:

12- انقل رقم الجملة التي تصف بيت القندس وعش طائر الحباك إلى المكان المناسب في الجدول:

- 1- بيته على الشجر.
2- بيته في الماء .
3- يبني من الطين و العصي.
4- يبني من الاغصان الصغيرة



عش طائر الحباك



بيت القندس

الإجابة :

عش طائر الحباك

4 ، 1

بيت القندس

3 ، 2