

المقارنة حتى العدد 1000



هيا يا صغيري قارن بين الأعداد . اكتب < أو > أو =

456 ○ 678

365 ○ 356

824 ○ 101

198 ○ 456

570 ○ 550

235 ○ 234

753 ○ 813

285 ○ 582

126 ○ 126

999 ○ 998

497 ○ 670

602 ○ 601

استخدم البطاقات المرقمة لكتابة أعداد بثلاثة أرقام.

1

6

8

- أعداد أكبر من 800 . _____ ، _____

- أعداد أصغر من 600 . _____ ، _____

- أعداد أكبر من 150 و أصغر من 600 _____ ، _____

- أعداد أكبر من 600 . _____ ، _____



قراءة الأعداد إلى 1000 و كتابتها



اقرأ العدد . اكتب العدد

1- تسعة و خمسون -----

2- سبعمائة و ثمانية و ثلاثون -----

3- ثلاثمائة و خمسة -----

4- ثمانمائة و ثمانية و خمسون -----

اكتب العدد بالحروف . اقرأ العدد

----- 987 -1

----- 546 -2

----- 700 -3

----- 498 -4

www.almanahj.com

حل المسائل

توجد ستمائة و ثلاثة و عشرون بطة بالبحيرة ، اكتب عدد البط الموجود في البحيرة .



----- بطة .

يوجد في حديقة الحيوانات 263 دجاجة . اكتب عدد الدجاجات الموجودة في الحديقة بالحروف

اكتب كل عدد بالصيغة الموسعة ثم اكتب العدد

ثمانة واثنان وثلاثون ----- + ----- + ----- = -----
خمسائة وأربعة وخسون ----- + ----- + ----- = -----

اكتب العدد

سبعمائة وخمسة وتسعون -----	مئة وخمسة وثلاثون -----
أربعمائة وواحد -----	ثلاثمائة وثمانية عشر -----

اكتب العدد بالحروف www.almanahj.com

----- 725

----- 247

----- 365


----- 884

اكتب الأعداد الناقصة ثم اكتب نمط العدد

600 , 700 , _____ , 900 النمط هو _____	_____, 520 , 525 , 530 , _____ النمط هو _____
324 , _____ , _____ , 354 , 364 النمط هو _____	763 , _____ , 563 , 463 , _____ النمط هو _____

السؤال الأول: اكتب عدد المئات والعشرات والآحاد

----- مئات = ----- عشرات = ----- آحاد



500 = ---- آحاد

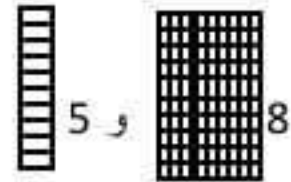
700 = ----- مئات

200 = ----- عشرات

984 = ----- مئات ----- عشرات ----- آحاد

السؤال الثاني: اكتب عدد المئات والعشرات والآحاد ثم

آحاد	عشرات	مئات
.....



و 5

8

السؤال الثالث: اكتب العدد بالصيغة الموسعة ثم اكتب العدد

4 مئات و 3 عشرات و 5 آحاد = ----- + ----- + ----- = -----

السؤال الرابع: اقرأ العدد ثم اكتب

2 - ستمائة -----

1- مئتان و اثنان و اربعون -----

السؤال الخامس: اكتب العدد بالحروف ثم اقرأ العدد

السؤال السادس : اكتب الأعداد الناقصة ثم اكتب نمط العد

1- 440 – 450 – 460 - ----- - 480

النمط هو -----

2- 515 – 520 – 525 - ----- - 545

النمط هو -----

السؤال الثامن: قارن . استخدم خط الأعداد إذا لزم الأمر اكتب = - < - >

142 ○ 124

365 ○ 356

101 ○ 824

السؤال التاسع : حل المسائل

www.almanahj.com

1- استخدم الحروف الأبجدية التالية للإجابة عن الاسئلة :

A B C D E F G H I J K L M N O P Q R S T U V W X Y Z

ما العدد الترتيبي للحرف D ؟

ما العدد الترتيبي للحرف A ؟

2- تكتب خلود عددا يتكون من ستة أحاد و أربعة عشرات و خمس مئات ، ما هذا العدد ؟

3- توجد سبعمائة و ستة و عشرين إوزة بالبحيرات ، اكتب عدد الأوز الموجود في

البحيرة ؟

الاسم:..... الصف الثاني (الوحدة 5)

اكتب عدد المئات والعشرات والآحاد

----- مئات = ----- عشرات = ----- آحاد



----- مئات = ----- عشرات = ----- آحاد



اكتب عدد المئات والعشرات والآحاد

985 = ----- مئات = ----- عشرات = ----- آحاد

803 = ----- مئات = ----- عشرات = ----- آحاد

www.almanahj.com

اكتب عدد المئات والعشرات والآحاد

----- آحاد = 600	----- عشرات = 500
----- عشرات = 700	----- مئات = 300


اكتب عدد المئات والعشرات والآحاد ثم اكتب العدد

مئات	عشرات	آحاد

3 و 1



9 و



6

اكتب العدد بالصيغة الموسعة

654 = ----- + ----- + -----

741 = ----- + ----- + -----

المعلمة ... بقولة التمام