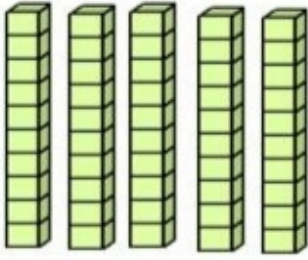



عدّ مجموعات من عشرة، ثم اكتب الأعداد.

6



_____ = عشرات _____
ستون



_____ = عشرات _____
أربعون

يوجد 4 مربعات، يحتوي كل مربع على 10 أزرار بداخله. فما عدد الأزرار الموجودة إجمالاً؟

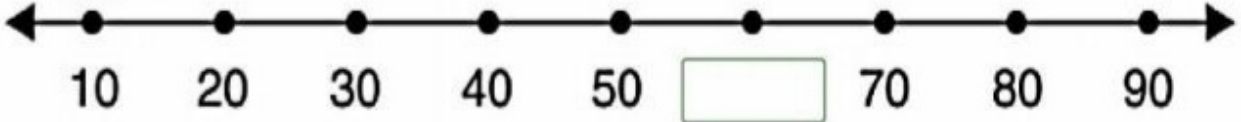
7

زرًا _____

ما العدد المفقود في خط الأعداد الآتي.

6

اكتب إجابتك داخل
المستطيل.




اكتب العشرات والآحاد. ثم اكتب العدد.

6

العشرات	الآحاد	العشرات	الآحاد

خمسة وأربعون


3 حوط حول مجموعة مكونة من عشرة. اكتب عدد العناصر الإضافية. ثم اكتب العدد.



ثمانية عشر

10 و _____ إضافية

3 حوط حول مجموعة مكونة من عشرة. اكتب عدد العناصر الإضافية. ثم اكتب العدد.

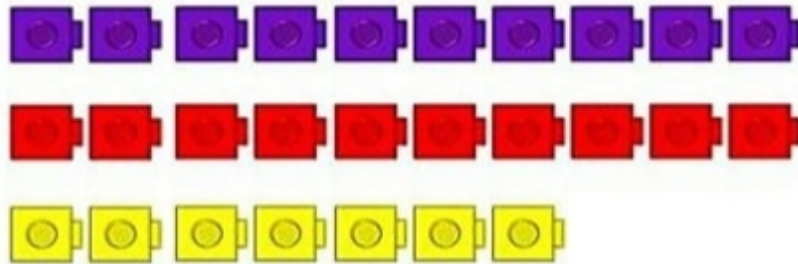


ثلاثة عشر

10 و _____ إضافية

www.almanahj.com

5 عدّ. ارسـم دائرة حول مجموعات من عشرة، ثم اكتب الأعداد.



عشرات و _____ إضافية تساوي _____

5 تفكر شيماء في عدد، فيه 9 عشرات و 7 أحاد، فما هو العدد؟

A 79

B 70

C 97



تدريب على الاختبار التحريري القصير ① لمادة الرياضيات للفصل الدراسي ② فبراير 2018 م

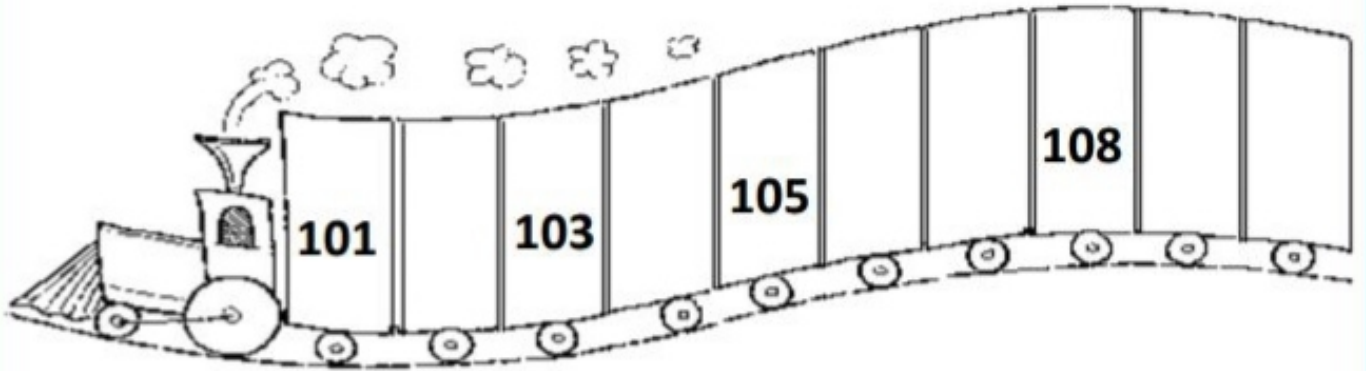


اسم البطل: الصف الأول الأساسي () / 2 / 2018م

أكمل كتابة العدد الناقص في كل ما يلي يا مفكر.

1

5



www.almanahj.com

