


يارب أعني في اختباراتي
واجعل نهايتها فرح وأبد خوفي
بالطمأنينه
اللهم وفقني ويسر أمري
وبشرني بما يسعدني




أوراق مراجعة للصف الاول الفصل الدراسي الثاني

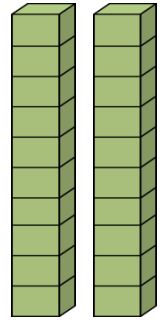
عد مجموعات العشرات واكتب العدد



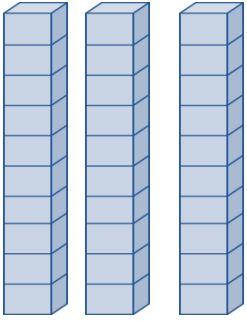
..... = عشرات



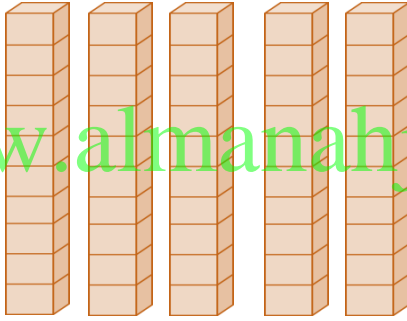
..... = عشرات



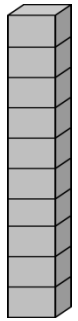
..... = عشرات



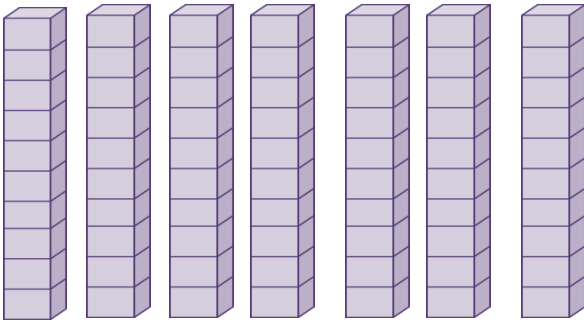
..... = عشرات



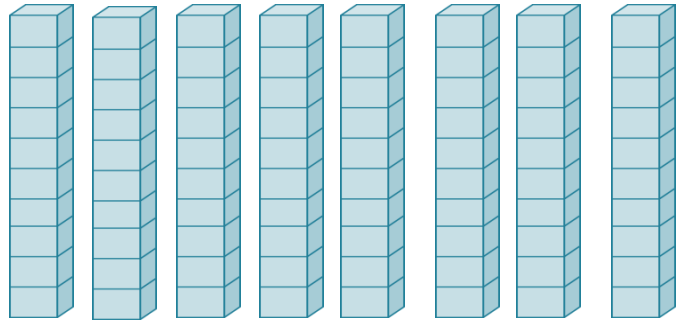
..... = عشرات



..... = عشرات



..... = عشرات



..... = عشرات

www.almanahj.com

أكمل العد بالعشرات

10 , 20 , , , , , , ,

5 , 15 , , , , , ,

3 , 13 , 23 , , , , , ,

www.almanahj.com

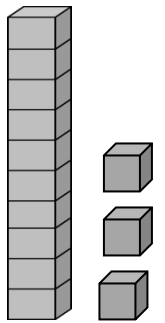
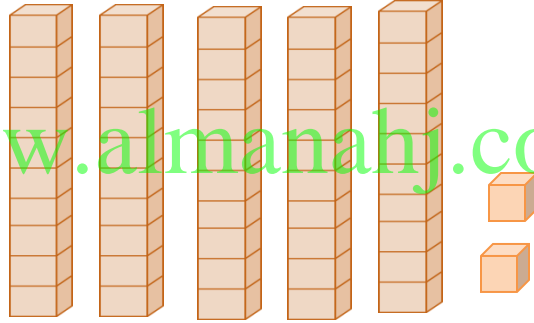
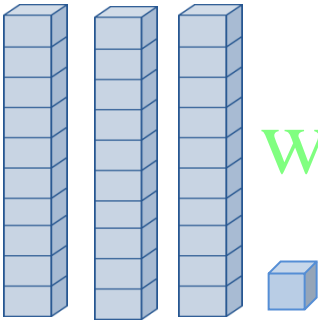
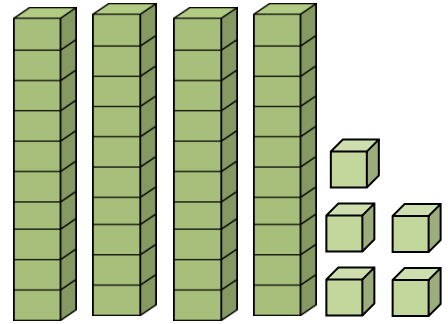
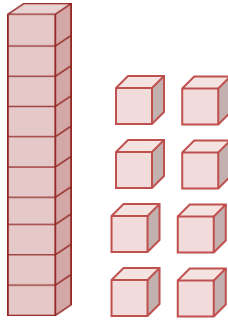
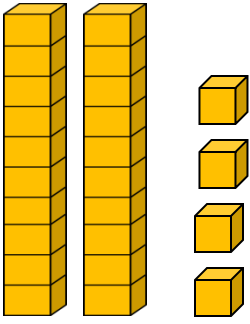
42 , 52 , , , , ,

36 , 46 , 56 , 66 , , , , ,


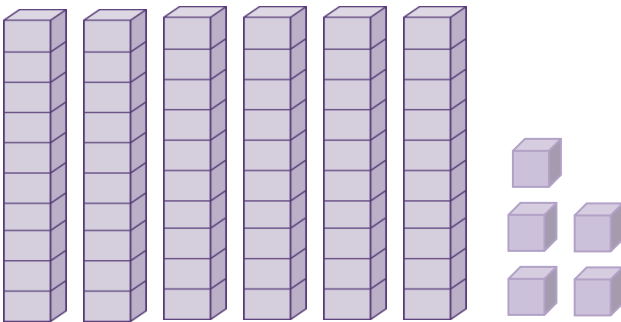
11 , 21 , , , , ,

68 , 78 , , , , ,

عد ثم أكتب كل عدد



www.almanahj.com



أكمل كتابة الأعداد ...

34 , 35 ,36 , , , , , , ,

3 , 4 , 5 , 6 , 7, , , , ,

50 , 51 ,52 , , , , , ,

www.almanahj.com

76 , 77, 78 , , , , ,

98 , 99, , , , , ,

111 , 112 , , , , , ,

118 , 119 , , , , , ,

عد ثم أجمع

$$4 \text{ عشرات} + 2 \text{ عشرات} = \dots\dots\dots \text{ عشرات}$$

$$6 \text{ عشرات} + 4 \text{ عشرات} = \dots\dots\dots \text{ عشرات}$$

$$3 \text{ عشرات} + 5 \text{ عشرات} = \dots\dots\dots \text{ عشرات}$$

$$7 \text{ عشرات} + 1 \text{ عشرات} = \dots\dots\dots \text{ عشرات}$$

$$2 \text{ عشرات} + 0 \text{ عشرات} = \dots\dots\dots$$

$$6 \text{ عشرات} + 2 \text{ عشرات} = \dots\dots\dots$$

$$1 \text{ عشرات} + 8 \text{ عشرات} = \dots\dots\dots$$

$$5 \text{ عشرات} + 5 \text{ عشرات} = \dots\dots\dots$$

$$\begin{array}{r} 4 \text{ عشرات} \\ + \\ 3 \text{ عشرات} \\ \hline \end{array}$$

$$\begin{array}{r} 5 \text{ عشرات} \\ + \\ 1 \text{ عشرات} \\ \hline \end{array}$$

$$\begin{array}{r} 8 \text{ عشرات} \\ + \\ 0 \text{ عشرات} \\ \hline \end{array}$$

$$\begin{array}{r} 7 \text{ عشرات} \\ + \\ 2 \text{ عشرات} \\ \hline \end{array}$$

$$\begin{array}{r} 5 \text{ عشرات} \\ + \\ 2 \text{ عشرات} \\ \hline \end{array}$$

$$\begin{array}{r} 1 \text{ عشرات} \\ + \\ 2 \text{ عشرات} \\ \hline \end{array}$$

عد ثم أجمع

$$\begin{array}{r} 30 \\ + \\ 20 \\ \hline \end{array}$$

$$\begin{array}{r} 40 \\ + \\ 30 \\ \hline \end{array}$$

$$\begin{array}{r} 40 \\ + \\ 10 \\ \hline \end{array}$$

$$\begin{array}{r} 50 \\ + \\ 30 \\ \hline \end{array}$$

$$\begin{array}{r} 10 \\ + \\ 20 \\ \hline \end{array}$$

$$\begin{array}{r} 80 \\ + \\ 20 \\ \hline \end{array}$$

$$\begin{array}{r} 10 \\ + \\ 10 \\ \hline \end{array}$$

$$\begin{array}{r} 20 \\ + \\ 20 \\ \hline \end{array}$$

$$\begin{array}{r} 60 \\ + \\ 20 \\ \hline \end{array}$$

$$\begin{array}{r} 70 \\ + \\ 20 \\ \hline \end{array}$$

www.almanahj.com

عد ثم أجمع

$$\begin{array}{r} 39 \\ + \\ 27 \\ \hline \end{array}$$

$$\begin{array}{r} 45 \\ + \\ 9 \\ \hline \end{array}$$

$$\begin{array}{r} 47 \\ + \\ 5 \\ \hline \end{array}$$

$$\begin{array}{r} 38 \\ + \\ 4 \\ \hline \end{array}$$

$$\begin{array}{r} 15 \\ + \\ 5 \\ \hline \end{array}$$

$$\begin{array}{r} 86 \\ + \\ 6 \\ \hline \end{array}$$

$$\begin{array}{r} 17 \\ + \\ 14 \\ \hline \end{array}$$

$$\begin{array}{r} 28 \\ + \\ 3 \\ \hline \end{array}$$

$$\begin{array}{r} 39 \\ + \\ 13 \\ \hline \end{array}$$

$$\begin{array}{r} 26 \\ + \\ 7 \\ \hline \end{array}$$

www.almanahj.com

عد ثم أجمع

$$\begin{array}{r} 37 \\ + \\ 37 \\ \hline \end{array}$$

$$\begin{array}{r} 46 \\ + \\ 19 \\ \hline \end{array}$$

$$\begin{array}{r} 45 \\ + \\ 15 \\ \hline \end{array}$$

$$\begin{array}{r} 39 \\ + \\ 14 \\ \hline \end{array}$$

$$\begin{array}{r} 25 \\ + \\ 25 \\ \hline \end{array}$$

$$\begin{array}{r} 56 \\ + \\ 6 \\ \hline \end{array}$$

$$\begin{array}{r} 57 \\ + \\ 14 \\ \hline \end{array}$$

$$\begin{array}{r} 28 \\ + \\ 3 \\ \hline \end{array}$$

$$\begin{array}{r} 39 \\ + \\ 31 \\ \hline \end{array}$$

$$\begin{array}{r} 26 \\ + \\ 27 \\ \hline \end{array}$$

www.almanahj.com

عد ثم أ طرح

$$\begin{array}{r} 90 \\ - 60 \\ \hline \end{array}$$

$$\begin{array}{r} 30 \\ - 20 \\ \hline \end{array}$$

$$\begin{array}{r} 70 \\ - 50 \\ \hline \end{array}$$

$$\begin{array}{r} 20 \\ - 20 \\ \hline \end{array}$$

$$\begin{array}{r} 80 \\ - 40 \\ \hline \end{array}$$

$$\begin{array}{r} 60 \\ - 10 \\ \hline \end{array}$$

$$\begin{array}{r} 90 \\ - 30 \\ \hline \end{array}$$

$$\begin{array}{r} 70 \\ - 20 \\ \hline \end{array}$$

$$\begin{array}{r} 80 \\ - 30 \\ \hline \end{array}$$

$$\begin{array}{r} 60 \\ - 40 \\ \hline \end{array}$$

www.almanahj.com

عد ثم أ طرح

6 عشرات - 4 عشرات = عشرات

4 عشرات - 2 عشرات = عشرات

7 عشرات - 1 عشرات = عشرات

6 عشرات - 4 عشرات = عشرات

6 عشرات - 2 عشرات = عشرات

2 عشرات - 0 عشرات = عشرات

5 عشرات - 5 عشرات = عشرات

9 عشرات - 8 عشرات = عشرات

5 عشرات

4 عشرات

-

-

1 عشرات

3 عشرات

7 عشرات

8 عشرات

-

-

2 عشرات

0 عشرات

9 عشرات

5 عشرات

-

-

2 عشرات

2 عشرات

www.almanahj.com

أكتب حقائق الجمع المترابطة

$40 - 10 = \dots$

$\dots + \dots = \dots$

$60 - 40 = \dots$

$\dots + \dots = \dots$

$\dots - \dots = \dots$

$50 + 40 = \dots$

$\dots - \dots = \dots$

$70 + 20 = \dots$

$80 - 30 = \dots$

$\dots + \dots = \dots$

$\dots + \dots = \dots$

$\dots - \dots = \dots$

$40 + 60 = \dots$

$\dots - \dots = \dots$

$50 + 30 = \dots$



$\dots - \dots = \dots$

$80 + 10 = \dots$

$40 - 10 = \dots$



$\dots + \dots = \dots$

أكتب عدد العناصر الإضافية . ثم اكتب العدد



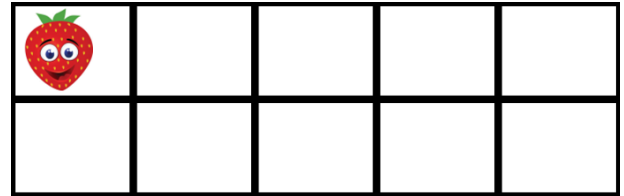

ستة عشر

10 و إضافة.





ثلاثة عشر

www.almanahj.com إضافة. 10 و

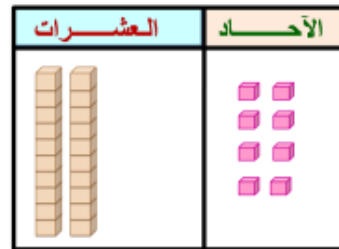
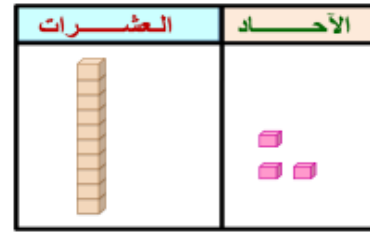
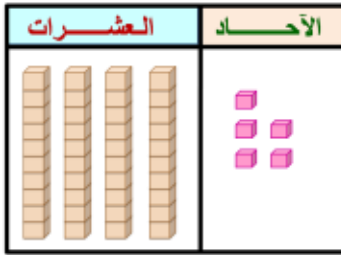


.....
10 و إضافة.

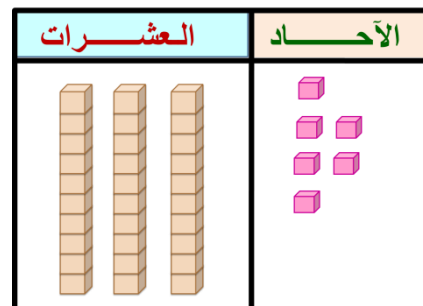
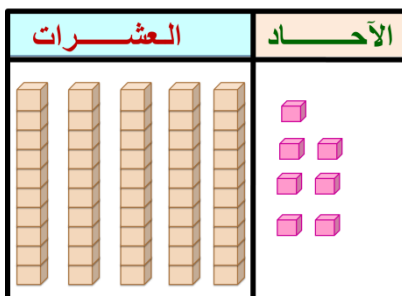
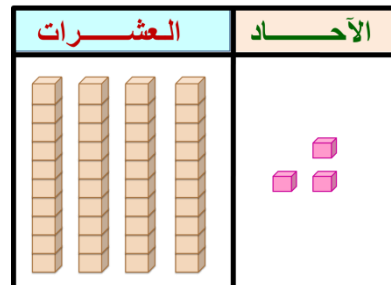
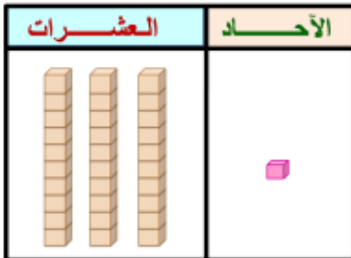


.....
10 و إضافة.




عد ثم أكتب العدد






----- www.almanahj.com -----




عد ثم أكتب العدد

المئات	العشرات	الآحاد
		

المئات	العشرات	الآحاد
		


المئات	العشرات	الآحاد
		

المئات	العشرات	الآحاد
		

www.almanahj.com

المئات	العشرات	الآحاد
		

المئات	العشرات	الآحاد
		

المئات	العشرات	الآحاد
		

المئات	العشرات	الآحاد
