

تم تحميل هذا الملف من موقع المناهج الإماراتية

\*للحصول على أوراق عمل لجميع الصفوف وجميع المواد اضغط هنا

<https://almanahj.com/ae>

\* للحصول على أوراق عمل لجميع مواد الصف الأول اضغط هنا

<https://almanahj.com/ae/1>

\* للحصول على جميع أوراق الصف الأول في مادة اجتماعيات ولجميع الفصول, اضغط هنا

<https://almanahj.com/ae/1social>

\* للحصول على أوراق عمل لجميع مواد الصف الأول في مادة اجتماعيات الخاصة بـ الفصل الأول اضغط هنا

<https://almanahj.com/ae/1social1>

\* لتحميل كتب جميع المواد في جميع الفصول للـ الصف الأول اضغط هنا

<https://almanahj.com/ae/grade1>

للحصول على جميع روابط الصفوف على تلغرام وفيسبوك من قنوات وصفحات: اضغط هنا

[https://t.me/UAElinks\\_bot](https://t.me/UAElinks_bot)

ثانياً: صل بخط بين الصورة والعبارة المناسبة فيما يأتي:

● الشيخ خليفة بن زايد آل نهيان



.5

● الفيل رأس أمي كل صباح



.6

● أسلم على جاري كل يوم



.7

● أذهب إلى مسجد الحي كل يوم



.8

● أعيش في دولة الإمارات العربية المتحدة



.9

ثالثاً: تون المربع أمام العبارة التي توضح حقوق أقرارك عليك:


10. أزوره مرة واحدة في السنة.

11. أساعده عند الحاجة.

12. أهنيه في المناسبات السعيدة.

13. أخطأ في حقه ولا أعتذر.

بإحدى: 19. ضع ( ✓ ) في الدائرة التي تمثل السلوك الذي توافق عليه، و ( ✗ ) في الدائرة التي تمثل سلوك الذي لا توافق عليه:



السؤال الثالث

30

أولاً: استمع إلى معلمي بانتباه، ثم أضع إشارة ( ✓ ) أمام العبارة الصحيحة فيما يأتي:

في فجر يوم جميل أشرفت شمسن قلعة الحصن في مدينة أبو ظبي على ميلاد طفل اسمه زايد، عاش في كتف والديه الشيخ سلطان آل نهيان والشيخة سلامة بنت بطي. تعلم قراءة القرآن الكريم، وبذت عليه منذ صباه علامات الذكاء والشجاعة. قاد دولة الإمارات العربية المتحدة للاتحاد.

20. ولد الشيخ زايد بن سلطان آل نهيان في مدينة الشارقة.

21. اسم والدة الشيخ زايد بن سلطان الشيخة سلامة بنت بطي.

22. قاد الشيخ زايد بن سلطان دولة الإمارات العربية المتحدة للاتحاد.

36

أولاً: حوِّط برسم دائرة حول الاختيار المناسب لكل عبارة مما يأتي:

14. احتفل مع شعب الإمارات باليوم الوطني كل:

- يوم - شهر - سنة

15. حق الجار على الجار أن:

- يحترمه - يزعمه - يؤذيه


16. أخت أبي هي:

- خالتي - عمتي - جنتي

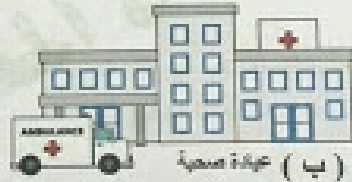
17. تضم دولة الإمارات العربية المتحدة إمارات عددها:

- خمسة - ستة - سبعة

ثانياً: 18. صل بخط بين صورة الحي وصورة الأماكن الرئيسية فيه:



(ج) مدرسة




(ب) عيادة صحية



(أ) منزل



(د) مسجد



الاجتماع لتهيئة الفصل الدراسي الأول لمادة الدراسات الاجتماعية والتربية الوطنية لتسلف الأول للعام الدراسي 2017/2018

23. رتب خطوات قيام اتحاد دولة الإمارات العربية المتحدة بكتابة الأرقام ( 1-2-3 ) في المكان المحدد داخل الدائرة :

( أ )




قيام دولة الإمارات العربية المتحدة

( ب )



اجتماع السيرة

( ج )



الاجتماع الأول في دبي

24. في الشكل الآتي، صل خطأ بين أصحاب المهن واسم الجهة التي يقفون فيها:



الشمال • الجنوب • الشرق • الغرب

رجل الشرطة • المعلمة • المهندس • الطبيبة

انتهت الأسئلة، دعواتنا لكم بالتوفيق والتجاح



المسألة : الدراسات الاجتماعية

والتربية الوطنية

عدد صفحات الأسئلة : ( 5 )

الصف: الأول

امتحان نهاية الفصل الدراسي الأول  
للعلم الدراسي 2017 / 2018 م

السؤال الأول



34

أولاً: ارفع دائرة حول الشكل الذي يناسب العبارات الآتية:

1. الهاتي المؤسس الشيخ زايد بن سلطان آل نهيان - رحمه الله :



2. شكل علم دولة الإمارات العربية المتحدة:



3. أقول حجاً مبرور:



4. الأسرة الممتدة:

