



المركز القومي للاختبارات  
والتقويم التربوي



جمهورية مصر العربية

وزارة التربية والتعليم



# دليل تقويم الطالب في مادة الرياضيات

## الصف الثالث الإعدادي

### الفصل الدراسي الأول



المركز القومي للامتحانات والتقويم التربوي  
قسم تطوير الامتحانات

جمهورية مصر العربية  
وزارة التربية والتعليم  
قطاع الكتب

مولانا  
www.Mwlana.Com

# دليل تقويم التلميذ في مادة الرياضيات

## الصف الثالث الإعدادي

## الفصل الدراسي الأول

مصحف زوجه الرياضيات أ / عادل أبووار

إعداد ومراجعة

أ / حسين محمود حسين

د/ إيمان عبدالله محمد مهدي

أ / عادل محمد عطية

أ / إبراهيم عبداللطيف الصغير

إشراف تربوي

أ.د / مجدي أمين

مدير المركز القومي للامتحانات والتقويم التربوي

# محتوى المنهج لمادة الرياضيات

## الجبر :

الوحدة الأولى: العلاقات والدوال

١. حاصل الضرب الديكارتي
  ٢. العلاقات.
  ٣. الدالة (التطبيق).
  ٤. دوال كثيرات الحدود.
- الوحدة الثانية : النسبة والتناسب والتغير الطردي والتغير العكسي.
١. النسبة.
  ٢. التناسب.
  ٣. التغير الطردي والتغير العكسي.

الوحدة الثالثة: الإحصاء

١. جمع البيانات.
٢. التشتت.

## حساب المثلثات:

الوحدة الرابعة: حساب المثلثات

١. النسب المثلثية الأساسية للزاوية الحادة.
٢. النسب المثلثية الأساسية لبعض الزوايا.

## الهندسة التحليلية:

الوحدة الخامسة: الهندسة التحليلية

١. البعد بين نقطتين.
٢. إحداثيا منتصف قطعة مستقيمة.
٣. ميل الخط المستقيم.
٤. معادلة الخط المستقيم بمعلومية ميله وطول الجزء المقطوع من محور الصادات.

## الأمحاض الإبرائية للفصل الدراسي الأول

بعد دراسة التلميذ لموضوعات الفصل الدراسي الأول يجب أن يكون التلميذ قادراً على أن:

١. يتعرف الزوج المرتب.

٢. يمثل الحاصل الديكارتي لمجموعتين بمخطط سهمي وبياني .

٣. يوجد حاصل الضرب الديكارتي لمجموعتين غير خاليتين.

٤. يحل مسائل غير نمطية على إيجاد الحاصل الديكارتي لمجموعتين.

٥. يميز بين العلاقة والدالة.

٦. يميز بين الدالة الخطية والدالة التربيعية.

٧. يوجد بيان العلاقة.

٨. يمثل بيان العلاقة بمخطط سهمي وآخر بياني.

٩. يوجد المجال والمجال المقابل والمدى للدالة.

١٠. يمثل الدالة الخطية بيانياً.

١١. يمثل الدالة التربيعية بيانياً.

١٢. يوجد القيمة العظمى ومعادلة محور التماثل لمنحى الدالة التربيعية.

١٣. يحل مسائل غير نمطية على إيجاد بيان العلاقة.

١٤. يحل مسائل غير نمطية على الدالة التربيعية.

١٥. يذكر خواص التناسب.

١٦. يوجد الوسط المتناسب لعددتين

١٧. يوجد قيمة حد متناسب في تناسب معلوم.

١٨. يميز بين التغير الطردى والتغير العكسي

١٩. يحل مسائل على النسبة .

٢٠. يحل مسائل على التناسب .

٢١. يحل مسائل على التغير الطردى .

٢٢. يحل مسائل على التغير العكسي .

٢٣. يطبق التغير الطردى أو العكسي في مواقف هندسية وفيزيائية

٢٤. يثبت صحة مطابقة باستخدام خواص التناسب
٢٥. يوجد النسب المثلثية لزاوية في مثلث قائم بمعلومية طولى ضلعين فيه.
٢٦. يعبر عن قياس زاوية بالدرجات . باستخدام الدرجات والدقائق والثواني، والعكس .
٢٧. يحل مسائل باستخدام النسب المثلثية
٢٨. يوجد قيمة مقدار يحوى نسب مثلثية خاصة .
٢٩. يحل مسائل هندسية باستخدام النسب المثلثية .
٣٠. يستخدم الآلة الحاسبة لإيجاد نسبة مثلثية لزاوية معلومة ، والعكس .
٣١. يحل مسائل غير نمطية باستخدام النسب المثلثية .
٣٢. يحل مسائل باستخدام قانون البعد بين نقطتين.
٣٣. يوجد البعد بين نقطتين معلومتين.
٣٤. يوجد احداثيا منتصف قطعة مستقيمة معلوم طرفيها.
٣٥. يوجد ميل مستقيم بمعلومية زاويته مع الاتجاه الموجب لمحور السينات، والعكس.
٣٦. يوجد معادلة مستقيم بمعلومية ميله والجزء المقطوع من محور الصادات .
٣٧. يحل مسائل باستخدام قانون ايجاد احداثيا منتصف قطعة مستقيمة .
٣٨. يحدد العلاقة بين مستقيمين باستخدام الميل.
٣٩. يحل مسائل باستخدام معادلة المستقيم بمعلومية الميل والجزء المقطوع من محور الصادات .
٤٠. يوجد المدى لمجموعة من القيم.
٤١. يحسب الانحراف المعياري لمجموعة قيم محدودة .
٤٢. يحسب الانحراف المعياري لتوزيع تكرارى.
٤٣. يستخدم المتوسطات والانحراف المعياري لمقارنة مجموعتين من القيم.
٤٤. يحل مشكلات غير نمطية باستخدام الانحراف المعياري.

## الوحدة الأولى : العلاقات والدوال

### أسئلة المهارات الأساسية لوحدة العلاقات والدوال

أجب عن الأسئلة التالية:

(١) إذا كان  $(-٢، ١)$  يحقق العلاقة:  $٣س + ب ص = ١$  فإن  $ب =$  .....

(٢) إذا كان  $(س، ٢س)$  يحقق العلاقة:  $٥س - ص = ٦$  فإن  $س =$  .....

(٣) إذا كان  $(٣، أ)$  يحقق العلاقة  $ص - ٢س = ٤$  فإن  $أ =$  .....

(٤) إذا كان المستقيم الممثل للعلاقة:  $٢س - ص = أ$  يقطع محور السينات في النقطة  $(٣، ب)$  فإن

$أ =$  ..... ،  $ب =$  .....

(٥) النقطة  $(٤، ٠)$  تقع على محور .....

(٦) إذا كانت  $(س-١، ١١) = (٨، ص + ٣)$  فإن  $س =$  ..... ،  $ص =$  .....

(٧) إذا كانت  $(س + ٤، ١٢) = (٩، ص - ٢)$  فإن  $س + ٢ ص =$  .....

(٨) إذا كان  $٣ \in \{س، ٥، ٢\} \cap \{٨، ٣، ٥\}$  فإن  $س =$  .....

(٩) إذا كان  $\{س، ٣، ٥\} \cap \{٥، ٨، ٣\} = \{س، ٣\}$  فإن  $س =$  .....

(١٠)  $\{٥، ٢\} \cap \{٥، ٢\} =$  .....

(١١) إذا كان  $\{١، ٢، ٣\} = \{١، أ، ٢\}$  فإن  $أ =$  .....

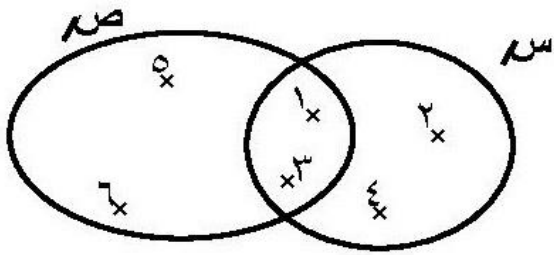
(١٢) عوامل العدد ١٤ هي .....

(١٣) المجموعة التي لا تحتوى على أى عناصر تسمى .....

(١٤) من مضاعفات العدد ٨ .....

(١٥) العوامل الأولية للعدد ١٢ هي .....

ثانياً: أجب عن الأسئلة التالية:



(١٦) في شكل فن المقابل أكمل:

(١)  $S \cap M = \dots\dots\dots$

(٢)  $S - M = \dots\dots\dots$

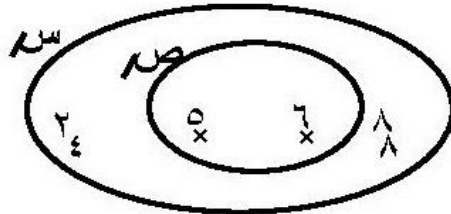
(١٧) إذا كانت  $A = \{1, 2\}$ ،  $B = \{5, 7, 8\}$ ،  $C = \{5, 7, 9\}$ ،

مثل المجموعات  $A$ ،  $B$ ،  $C$  بشكل فن ثم أوجد  $A \cap B$ ،  $(A \cup B) \cap C$

الحل: .....

.....

(١٨) باستخدام شكل فن المجاور أكمل بإحدى الرموز  $[ \supseteq, \neq, \subsetneq, \supset ]$ :



$S \dots\dots\dots \{5\}$

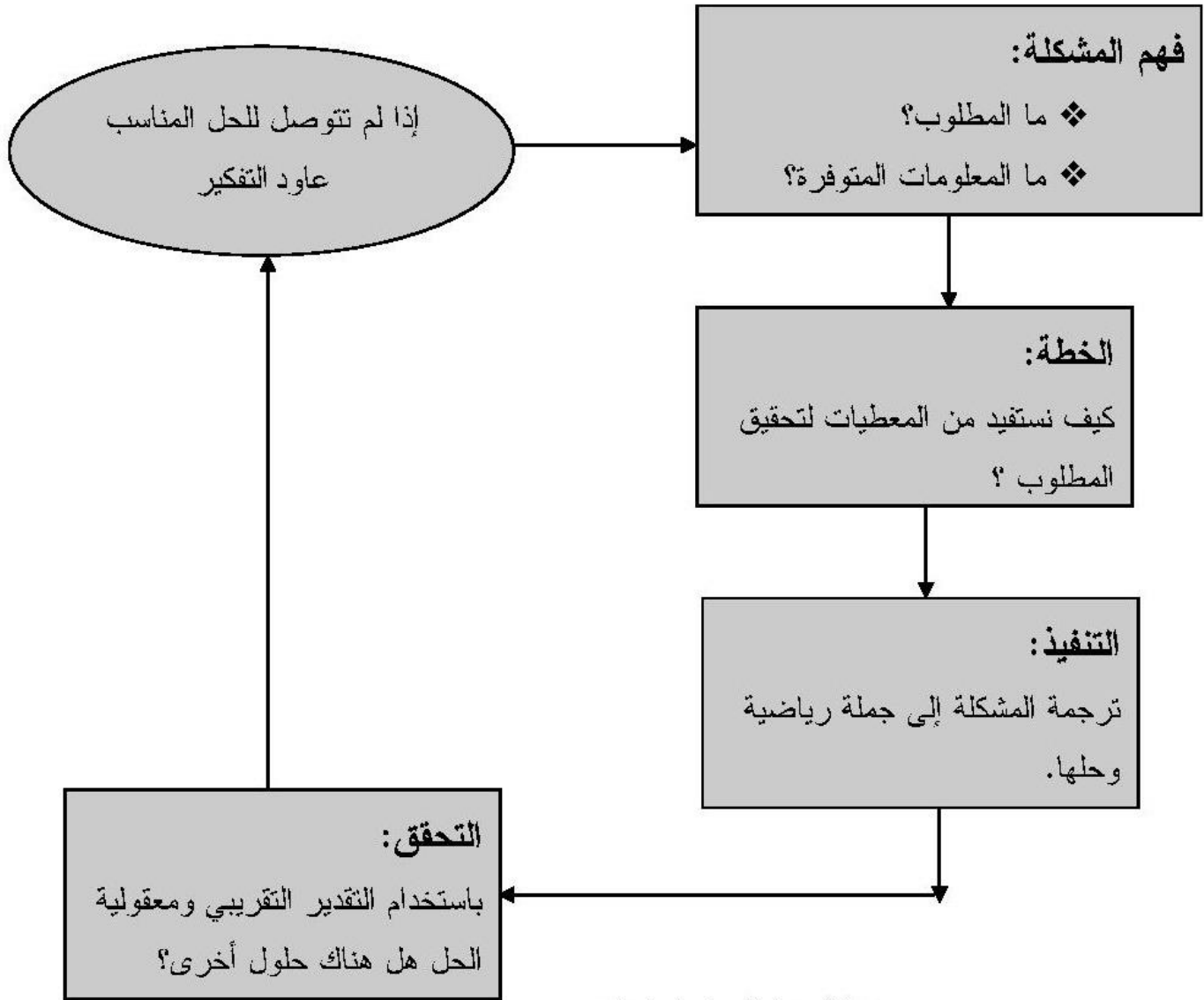
$S \dots\dots\dots 4$

منتخب زوجيه الرياضيات أ / عادل أبووار

## أساليب حل المشكلات

### عملية حل المشكلة:

تتكون عملية حل المشكلة بصورة عامة من ٤ مراحل رئيسية كما هو موضح في الشكل التالي:



مخطط عملية حل المشكلات



## أمثلة لأساليب حل المشكلات

مثال (١): إذا كانت  $S = \{-2, -1, 0, 1, 2\}$ ،  $V = [0, 4]$  وكانت ع علاقة من  $S$  إلى  $V$  بحيث «أع ب» تعني « $A = B$ » لكل  $A \in S$ ،  $B \in V$  اكتب بيان ع، واذكر هل العلاقة دالة من  $S$  إلى  $V$  أم لا؟ مع ذكر السبب.

الحل:

فهم المشكلة:

ما المطلوب؟، ما المعطيات؟

خطة الحل:

كيف نحصل على بيان العلاقة؟ ..... ماذا يفيدنا من المعطيات؟

التنفيذ:

$$A = B$$

$$E = \{(1, 1), (0, 0), (-1, 1)\}$$

ع ليست دالة لأن  $-2 \in S$  ولم يظهر كمسقط أول في بيان ع.

مثال (٢): إذا كان منحنى الدالة  $D(S) = S^2 - 2S + B$  يقطع محور السينات عند  $S = -1$ ،  $S = A$  أوجد قيمة  $A$ ،  $B$ .

الحل:

فهم المشكلة:

ما المطلوب؟، ما المعطيات؟

خطة الحل:

كيف نحصل على قيمة  $A$ ،  $B$ ؟ ..... ماذا يفيدنا من المعطيات؟

التنفيذ:

$$\text{عندما } S = -1 \text{ نضع د(س) = 0}$$

$$1 + 2 + B = \text{صفر} \quad \therefore B = -3$$

$$\text{عندما } S = A \text{ نضع د(س) = 0}$$

$$A^2 - 2A + B = \text{صفر}$$

$$A^2 - 2A - 3 = \text{صفر}$$

$$\therefore (A-3)(A+1) = \text{صفر}$$

$$\therefore A = 3, A = -1$$

التحقق: تحقق من الإجابة بالحل بطريقة أخرى.

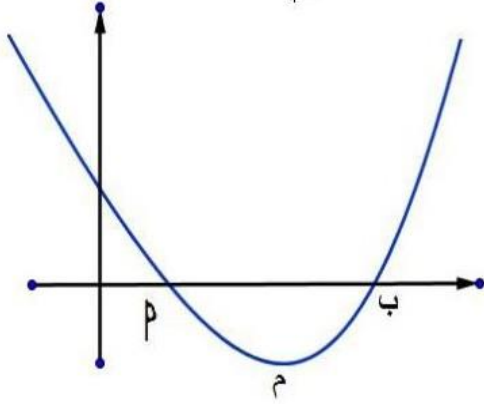
## الاختبار الاول

### السؤال الاول : اكمل العبارات الاتية :

١. اذا كان  $s \supseteq v$  وكانت  $(5, 2) \in s$  فإن  $x$  ص ، فإن  $(5, 2) \in s$  ..... =
٢. اذا كان  $d$  (س)  $= 2s + 3$  وكانت  $(9, 4) \in d$  فإن قيمة  $s =$  .....
٣. اذا كانت  $d: c \leftarrow c$  ،  $d$  (س)  $= 3s - 5$   
 $(4, 7) \in d$  وكان  $\exists$  بيان الدالة  $d$  فإن  $s =$  .....
- ب) وكان  $(8, 4) \in d$  بيان الدالة  $d$  فإن  $s =$  .....
٤. اذا كان  $s \cap v = \{(2, 4), (3, 4), (2, 3), (3, 3), (2, 2), (3, 2)\}$  فإن  $s \cap v =$  .....
٥. اذا كان  $v$  (س  $x$  س)  $> 16$  ،  $\exists 5$  س ،  $(4, 1) \in s$  فإن  $s \cap v =$  .....
٦. اذا كان  $d: v \leftarrow v$  حيث  $d$  (س)  $= 3s + 4$  وكان  $d = 12$  فإن  $h =$  .....

### السؤال الثاني :

١. اذا كانت  $s = \{2, 3, 5\}$  بين اي العلاقات الاتية تعبر عن دالة ثم اوجد مداها إن وجدت
- ع<sub>١</sub>  $= \{(2, 2), (2, 3), (3, 3)\}$  ع<sub>٢</sub>  $= \{(2, 2), (3, 2), (5, 2)\}$  ع<sub>٣</sub>  $= \{(2, 2), (2, 3), (2, 5)\}$



٢. الشكل المقابل يمثل منحنى دالة تربيعية

يقطع محور السينات في  $(1, 0)$  ،  $(4, 0)$  ب

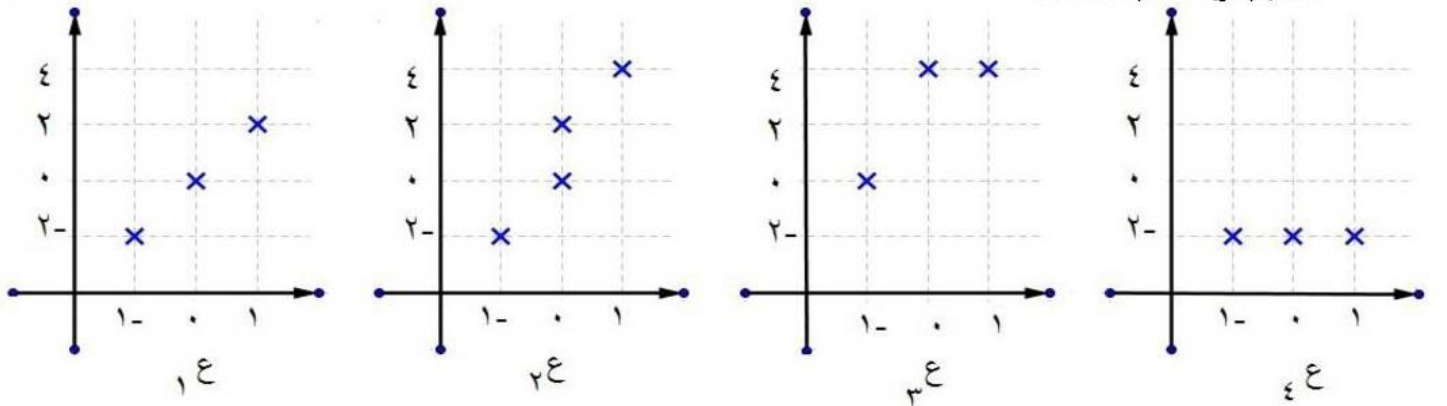
وكانت  $m$  نقطة رأس المنحنى وكان  $d(2) = 4$  و  $d(7) = 8$

اوجد  $d(-2)$  .

### السؤال الثالث :

١. اذا كانت  $s = \{1, 0, -1\}$  ،  $v = \{2, 0, 2, 4\}$  وضح اي العلاقات التالية يعبر عن دالة واذكر

السبب واكتب مداها .

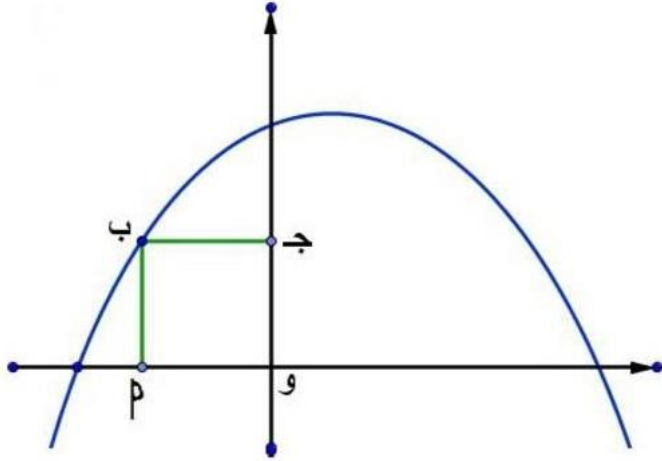


٢. اذا كانت د:  $s \leftarrow v$  ،  $P$  ع ب تعني ان  $P$  تقسم ب حيث  $\exists P$  س ، ب  $\exists v$  ص

وكان س  $U$  ص =  $\{2, 3, 5, 11, 14, 9, 35\}$  وكان  $v$  (س) = 3 ،  $v$  (س x ص) = 12

(P) اوجد عناصر كل من س ، ص

ب) اكتب بيان الدالة و اوجد مدى هذه الدالة



### السؤال الرابع :

١. اذا كان د (س) =  $s^2 - s + 5$

وكان الشكل و P ب ج مربع.

اوجد مساحة المربع و P ب ج

٢. اذا كانت د:  $s \leftarrow v$  ،  $P$  ع ب تعني ان P مضاعف ب لكل  $\exists P$  س ، ب  $\exists v$  ص وكان  $v$  (س) = 4

،  $v$  (ص) = 2 ، وكان س  $U$  ص =  $\{4, 8, 9, 27\}$  اوجد كل من س ، ص واكتب بيان الدالة د

ثم اوجد المجال المقابل والمدى للدالة و ارسم مخطط بياني لها

### السؤال الخامس :

١. اذا كانت س =  $\{P : \exists v, -3 \leq P \leq 3\}$  وكانت ع علاقة معرفة علي س حيث  $P$  ع ب تعني

ان P معكوس جمعي لعدد ب لكل  $P$  ، ب  $\exists s$  اكتب بيان ع وبينها بمخطط سهمي وهل ع دالة ؟

ولماذا ؟ وان كانت دالة اذكر مداها .

٢. ارسم الشكل البياني للدالة د حيث د (س) =  $s^2 - 4s + 3$  متخذاس  $\exists [-1, 5]$  ومن الرسم اوجد :

(اولا) القيمة العظمي أو القيمة الصغري للدالة د

(ثانيا) معادلة محور التماثل لمنحنى الدالة .

## الاختبار الثاني

### السؤال الاول : أكمل ما ياتي :

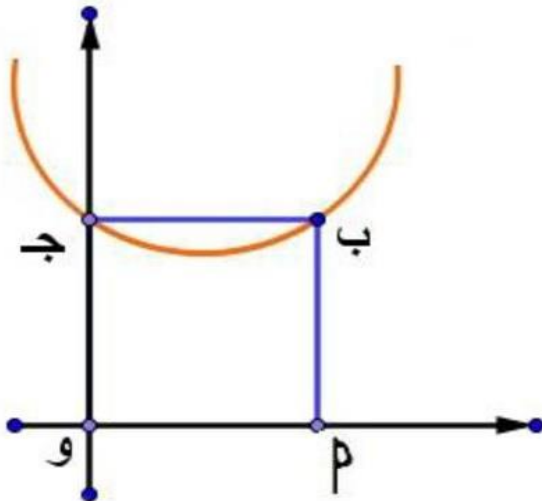
١. اذا كان  $(س - ١, ١) = (١ - ص, ١)$  فإن  $س = \dots\dots\dots$  ،  $ص = \dots\dots\dots$
٢. الدالة الخطية المعرفة بالقاعدة :  $ص = ٢س - ٤$  يمثلها بيانيا بخط مستقيم يقطع محور الصادات في النقطة  $\dots\dots\dots$
٣.  $\{ \dots\dots\dots \} \times \{ \dots\dots\dots \} = \{(٧, ٥), (٦, ٥)\}$
٤. اذا كان  $د(س) = ٢س + ٣$  وكانت  $(٥, ب) \in د$  فإن قيمة  $ب = \dots\dots\dots$
٥. اذا كان  $د(هـ) = هـ^٢ - ٢$  وكان  $د(٥) = ٠$  فإن قيمة  $٢ = \dots\dots\dots$
٦. اذا كان  $د(س) = \sqrt[٥]{\dots\dots\dots}$  فإن  $د(٠) = \dots\dots\dots$

### السؤال الثاني :

١. مثل بيانيا كلا من الدوال الاتية ، من الرسم استنتج احداثي رأس المنحني ومعادلة محور التماثل والقيمة العظمي او الصغري :  $٢ - ٢س = د(س)$  متخذا  $س \in [٣, ٣ -]$   
 $ب(س) = (س - ٢)^٢$  متخذا  $س \in [٥, ١ -]$
٢. اذا كانت  $س = \{-٢, ١, ٠, ١ -\}$  ،  $ص = \{٢, ٤, ٢, ١, \frac{٣}{٤}, ١, \frac{١}{٤}, \frac{١}{٨}\}$  وكانت العلاقة ع علاقة من  $س$  الي  $ص$  حيث  $٢ \in ب$  تعني  $ب = ٢$  لكل  $٢ \in س$  ،  $ب \in ص$  اكتب بيان ع ومثلها بمخطط سهمي واثبت ان ع دالة . واذكر مداها .

### السؤال الثالث

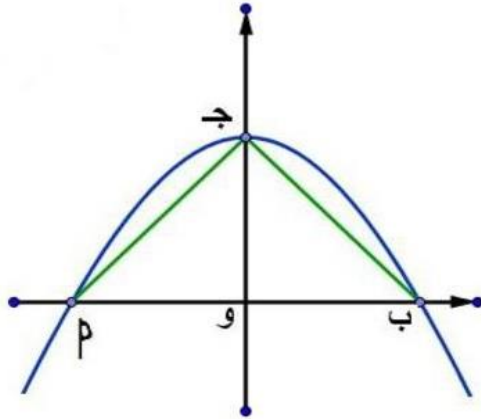
١. اذا كانت  $س = \{٢, ٣, ٤, ٥\}$  ،  $ص = \{٧, ٨, ٩, ١١, ١٣\}$  وكانت ع علاقة من  $س$  الي  $ص$  حيث  $٢ \in ب$  تعني ان  $ب = ٢ + ٢$  اكتب بيان ع ومثلها بمخطط سهمي وهل ع دالة ؟ ولماذا ؟ وان كانت داله اذكر مداها .



٢. في الشكل المقابل : يمثل منحني دالة تربيعية ، اذا كان  $د(س) = (س - ٢) - ٢س - ٤$  وكان  $٢ \in ب$  مربع اوجد قيمة  $ك$  .

### السؤال الرابع :

١. اذا كانت  $S = \{1, 2, 3, 4, 5, 6\}$  وكانت  $E$  علاقة معرفة علي  $S$  حيث  $P \in E$  ب تعني ان  $P + 1 = 2$  و لكل  $P, 1 \in S$  ، اكتب بيان  $E$  ومثلها بمخطط سهمي وهل  $E$  دالة؟ وماذا؟ وان كانت دالة اذكر مداها؟



٢. اذا كان  $D(S) = -4 - S^2$   
أوجد مساحة  $\Delta P$  ب ج

### السؤال الخامس :

١. اذا كان  $D(S) = S^2 - 4S + 3$  وكانت النقطة  $M(1, 4)$  وهي نقطة رأس المنحني اوجد قيمة كل من  $P, 1$  ب  
٢. ارسم منحنى الدالة  $D(S) = -4 - S^2$  في  $[-2, 2]$  ومن الرسم عين اولاً القيمة العظمى للدالة ثانياً معادلة محور التماثل.

منتخب زوجية الرياضيات / عادل أبووار

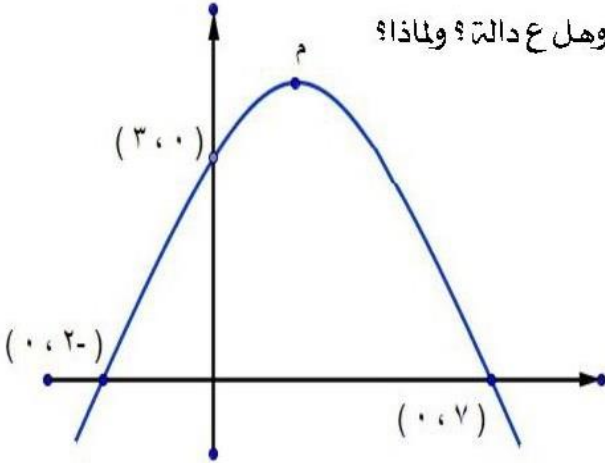
## الاختبار الثالث

### السؤال الاول : اكمل ما يأتي :

١. اذا كان  $(٣, ٤) = (٤ + ص, ٩)$  فان  $ص = \dots$  ،  $ص = \dots$
٢. اذا كانت النقطة  $(٣, ٢-)$  تقع علي محور السينات فان  $ص = \dots$
٣. اذا كان  $ص = \{٥, ٣\}$  ،  $ص = \{٥, ٣, ١\}$  فان  $ص \cap (ص \times ص) = \dots$
٤. اذا كان  $ص$  هي مجموعة الاعداد الحقيقية الموجبة وكانت  $ع$  علاقة علي  $ص$  بحيث  $(ص, ص) \in ع$  تعني أن  $ص^2 = ٢$  فان  $ص$  فاكمل ما يأتي :  $(٢, \dots)$  ،  $(\frac{٢}{٩}, \dots)$  ،  $(٣, \dots)$  ،  $(\frac{٩}{٣٣}, \dots)$
٥. اذا كان  $ع$  علاقة علي مجموعة الاعداد الطبيعية حيث  $ص \in ع$  تعني ان  $ص \times ١٢ = ١٢$  وكان  $ص = \{٤, ٦, ٨, ١٠, ١٢, ١٤, ١٦, ١٨, ٢٠, ٢٢, ٢٤, ٢٦, ٢٨, ٣٠, ٣٢, ٣٤, ٣٦, ٣٨, ٤٠, ٤٢, ٤٤, ٤٦, ٤٨, ٥٠, ٥٢, ٥٤, ٥٦, ٥٨, ٦٠, ٦٢, ٦٤, ٦٦, ٦٨, ٧٠, ٧٢, ٧٤, ٧٦, ٧٨, ٨٠, ٨٢, ٨٤, ٨٦, ٨٨, ٩٠, ٩٢, ٩٤, ٩٦, ٩٨, ١٠٠\}$  فان  $ص = \dots$
٦. اذا كان  $ص = \{٧\}$  ،  $ص - ص = \{٤, ٢\}$  ،  $ص \cap ص = \{٦\}$  فان  $(ص \times ص) \cap (ص \times ص) = \dots$

### السؤال الثاني :

١. اذا كانت  $ص = \{٥, ٤, ٣\}$  ،  $ص = \{٧, ٦, ٤, ٢\}$  وكانت  $ع$  علاقة من  $ص$  الي  $ص$  حيث  $ص \in ع$  تعني أن :  $ص < ٢$  ب اكتب بيان  $ع$  ومثلها بمخطط سهمي وهل  $ع$  دالة؟ ولماذا؟



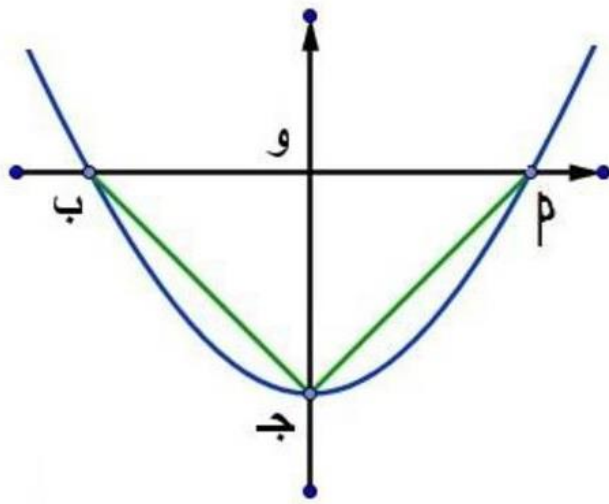
٢. اذا كان  $د(ص) = ص^2 + ب ص + ج$  وكان النقطة  $م$  هي نقطة رأس المنحنى اوجد  $د(٥)$ .

### السؤال الثالث :

١. اذا كانت  $ص = \{٣, ٢, ١, ٠, \frac{١}{٢}, \frac{١}{٣}\}$  وكانت  $ع$  علاقة معرفة علي  $ص$  حيث  $ص \in ع$  تعني ان  $ص$  معكوس ضربي للعدد  $ب$  لكل  $ص \in ص$  . اكتب بيان  $ع$  وهل  $ع$  دالة؟ ولماذا؟
٢. مثل الدالة  $د(ص) = ص^2 + ٢ص + ١$  بيانيا في الفترة  $[٢, ٤]$  ومن الرسم استنتج :  
 اولاً) احداثي رأس المنحنى  
 ثانياً) معادلة محور التماثل  
 ثالثاً) القيمة الصغرى للدالة

### السؤال الرابع :

١. اذا كانت  $ص = \{٥, ٦, ٧\}$  ،  $ص = \{٦, ٧, ٨\}$  ،  $ع = \{٧, ٨, ٩\}$  اوجد  
 $ص \cap (ص \times ص)$  ،  $(ص \cap ص) \times ع$  ،  $ص \cap (ص - ص)$  ،  $ص \cap ع$



٢. اذا كان  $d(s) = s^2 - k$

وكان  $\Delta P$  متساوي الاضلاع مساحته  $= 36\sqrt{9}$  سم<sup>2</sup>

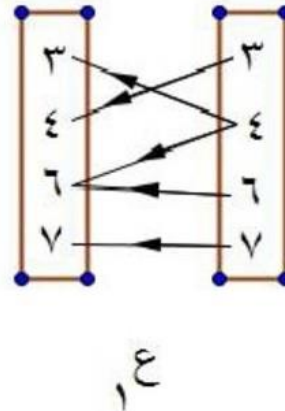
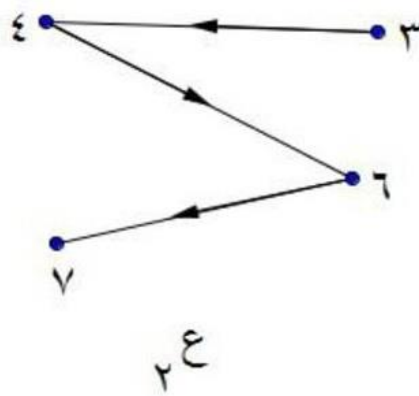
اوجد  $P$  قيمة  $k$ .

ب) احداثي النقطتين  $P$  ،  $b$

### السؤال الخامس

١. اذا كانت  $s = \{3, 4, 6, 7\}$  وكانت  $e_1$  ،  $e_2$  علاقتان علي  $s$  كالخططين الموضحين عبر عن كل

منهما بازواج مرتبة . ووضح أيهما يمثل دالة مع ذكر السبب .



٢. اذا كان  $d(s) = (s^2 + 3k + 2) + s + 6$  ، وكان الاحداثي السيني لرأس منحنى الدالة  $d$  :  $d(s)$

يساوي  $-2$  . اوجد قيمة  $k$  ؟

منتخب زوجة الرياضيات / عادل ادوار

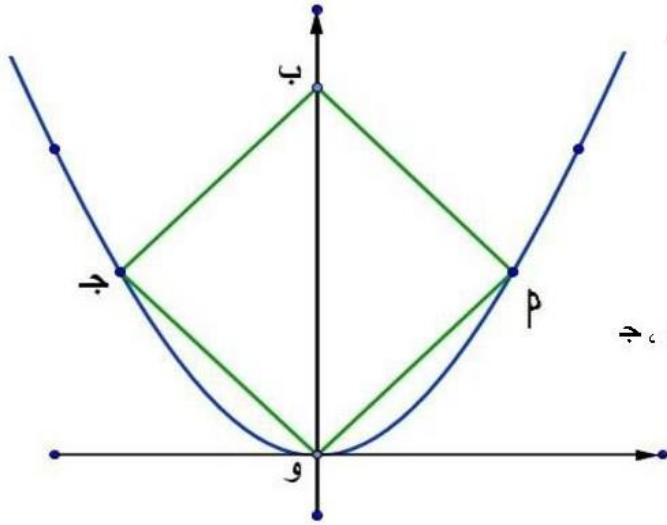
## الاختبار الرابع

### السؤال الاول اكمل العبارات الاتية:

١. اذا كان  $(س, ٧) = (ص^٢, ص)$  فإن  $س = \dots$ ،  $ص = \dots$
٢. اذا كانت  $س = \{٣, ٥\}$  فإن  $س \times س = \dots$
٣.  $\{٣, ٢\} \times \{١\} = \dots$
٤. اذا كان  $د (س) = س^٢ - ٢س - ٤$  فإن  $د (١ + ٥) = \dots$
٥. اذا كانت  $س \supset ص$  وكان  $ن (س \times ص) = ٦, ٤ \exists س, (٧, ١) \exists س \times ص$  فاكمل  
 $(س = \dots) (ب = ص = \dots) (ج = س \times ص = \dots)$
٦. اذا كان  $د : ص \leftarrow ط$  حيث  $د (س) = (س - ٢)^٢$  وكان  $د (س) = س - ٣$  فإن قيمة  $س = \dots$

### السؤال الثاني:

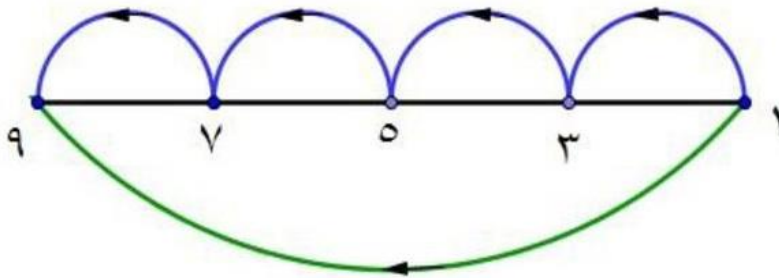
١. اذا كانت  $ط$  مجموعة الاعداد الطبيعية. وكان  $س \in ط$  تعني ان  $س \times ب = ١٢$  لكل  $ب \in ط$ .  
 اكتب بيان  $ع$ . واذا كان  $س \in ط$  اوجد قيمة  $س$ .



٢. في الشكل المقابل: اذا كان  $د (س) = س^٢$  وكان  $س \in ط$  مربع، اوجد احداثيات النقط  $س, ب, ج$ .

### السؤال الثالث:

١. اذا كانت  $س = \{١, ٠, -١\}$  وكانت  $ع$  علاقة المعكوس الجمعي،  $ع$  علاقة المعكوس الضربي اوجد



٢.  $ع = ع \cap ع$  وهل تكون  $ع$  دالة في  $س$ ؟

٢. اذا كان  $س = \{١, ٣, ٥, ٧, ٩\}$

وكانت  $ع$  علاقة علي  $س$  مبينه

بالمخطط السهمي المقابل

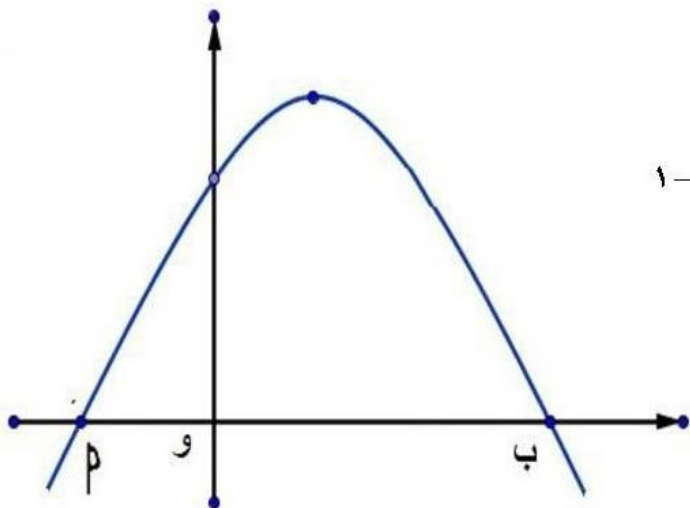
اكتب بيان  $ع$  وهل  $ع$  دالة؟ ولماذا؟



### السؤال الرابع:

١. اذا كانت  $S = \{2, 4, 6\}$  ،  $V = \{1, 2, 3\}$  وكانت  $E$  علاقة من  $S$  الي  $V$  حيث  $P$   $E$   $V$  تعني ان  $3$

تقسم  $P + 2$  ب لكل  $P \in S$  ،  $V \ni P$  اكتب بيان  $E$  ومثلها بمخطط سهمي وهل  $E$  دالة؟ ولماذا؟



٢. في الشكل المقابل الدالة  $D(S) = S^2 + 4S + 1 - K$

وكان  $W = 5$  و  $P$  . اوجد قيمة  $K$  .

### السؤال الخامس:

١. اذا كانت  $S = \{P : P \geq 2, P \geq 3\}$  ،  $V = \{B : B \geq 2, B \geq 3\}$  وكانت  $E$

علاقة من  $S$  الي  $V$  حيث  $P$   $E$   $V$  تعني ان  $P + B = 5$  ولكل  $P \in S$  ،  $V \ni P$  اكتب بيان  $E$  وبينها بمخطط سهمي.

٢. ارسم الشكل البياني للدالة  $D(S) = S^2 - 4$  حيث  $S \in [-3, 3]$  ومن الرسم اوجد :

اولاً) معادلة محور التماثل .

ثانياً) القيمة الصغرى للدالة .

## الاختبار الخامس

### السؤال الاول : اكمل ما ياتي :

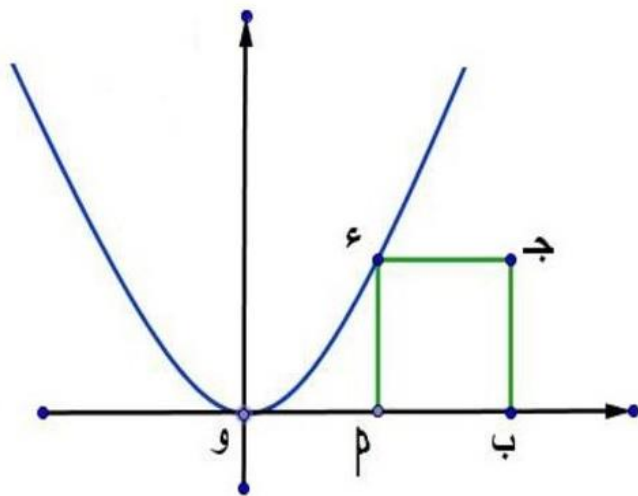
١. اذا كان  $(س، ص) = (٢-س، ٢ص-٣)$  فإن  $س = \dots\dots\dots$  ،  $ص = \dots\dots\dots$
٢. اذا كانت  $ع$  هي مجموعة الاعداد الحقيقية وكانت  $ع$  علاقة علي  $ح$  بحيث  $(پ، ب) \in ع$  ، كان  $پ^٢ = ب$  وكانت الأزواج الاتية تنتمي الي  $ع$  فاكتب الناقص منها .  
 $(١، \dots\dots)$  ،  $(٥-، \dots\dots)$  ،  $(\sqrt{٢}، \dots\dots)$  ،  $(٤، \dots\dots)$  ،  $(٧، \dots\dots)$
٣.  $\{٣\} \times \{٢\} = \{ \dots\dots\dots \}$
٤. اذا كان  $(س، ٢+س) = (٣، ٧-ص)$  فإن  $\frac{س}{ص} = \dots\dots\dots$
٥. اذا كان  $د(س) = ٧-پ$  و  $كان د(٢) = ٣$  فإن قيمة  $پ = \dots\dots\dots$
٦. اذا كان  $د : ع \leftarrow ح$  حيث  $د(س) = س^٢ - ١$  ، و  $كان د(پ) = ٧$  فإن  $پ = \dots\dots\dots$

### السؤال الثاني :

١. مثل بيانيا الدوال الخطية الاتية ، و اوجد نقطة تقاطع المستقيم الممثل لكل منها مع محوري الاحداثيات :  
 $پ) د(س) = ٣س + ١$        $ب) د(س) = ٥س - ٥$
٢. اذا كان  $س = \{١، ٣، ٥\}$  ،  $\{٢، ٤، ٥، ٦\}$  وكانت  $ع$  علاقة من  $س$  الي  $ص$  حيث  $پ$   $ع$  ب تعني ان  $١ + پ = ٥$  ب اكتب بيان  $ع$  ومثلها بمخطط سهمي واخرياتي . وهل  $ع$  داله ولماذا ؟ وان كانت داله اذكر مداها ؟

### السؤال الثالث :

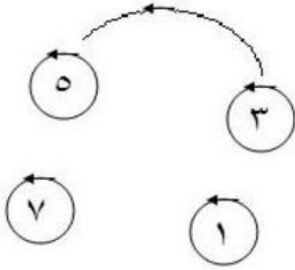
١. اذا كان  $س = \{٢، ٣، ٤، ٥، ٦\}$  وكانت  $ع$  علاقة علي  $س$  حيث  $پ$   $ع$  ب تعني ان  $پ$  تقسم ب اكتب بيان  $ع$  ومثلها بمخطط سهمي .



٢. الشكل المقابل  
اذا كان  $د(س) = س^٢$  وكان  $پ$  جد مربع  
حيث  $ب(٦، صفر)$  اوجد مساحة المربع  $پ$  جد

## السؤال الرابع:

١. اذا كانت  $S = \{5, 3\}$  ،  $V = \{7, 5, 2\}$  وكانت  $E$  علاقة من  $S$  الى  $V$  حيث  $P \in E$  ب تعني أن  $P > 5$  لكل  $P \in S$  ، ب  $\exists S$  ، اكتب بيان  $E$  وهل  $E$  دالة؟ ولماذا؟



٢. المخطط السهمي الموضح يمثل علاقة علي  $S = \{7, 5, 3, 1\}$  اكتب بيان  $E$  وهل  $E$  دالة علي  $S$ ؟ ولماذا؟

## السؤال الخامس:

١. اذا كانت النقطة  $(-1, 2)$  هي نقطة راس المنحني الدالة  $D: (S) = P^2 - 6S + 7$  اوجد قيمة  $J$ .
٢. مثل بيان  $D: (S) = S^2 - 5S$  ،  $S \in E$  متخذ  $S \in [-1, 5]$  ومن الرسم استنتج معادلة محور التماثل.

منهج زوجه الرياضيات / عادل أبووار

الوحدة الثانية : النسبة والتناسب والتغير الطردي  
والتغير العكسي

أسئلة المهارات الأساسية لوحدة النسبة والتناسب والتغير الطردي والتغير العكسي

أولاً : أكمل ما يأتي:

(١) إذا كان $\frac{1}{2} = \frac{س}{٥}$ فإن س = .....
(٢) إذا كان ص = ٣ س فإن $\frac{س}{ص} = \dots\dots\dots$
(٣) إذا كان $\frac{س}{٣} = \frac{١٢}{س}$ فإن س = .....
(٤) إذا كان $\frac{٢٤}{س} = \frac{٤}{ص}$ وكان ع = ٢ ، ص = ١٢ فإن س = .....
(٥) إذا كان $\frac{س}{٩} = \frac{٤}{س}$ وكان س > ص فإن س = .....
(٦) إذا كان أ : ب = ٢ : ٣ وكان أ + ب = ١٥ فإن ب = .....
(٧) إذا كان ٣ س = ١١ ص فإن ص = .....
(٨) إذا كان س + ٣ = $١ - \frac{ص}{٢}$ فإن ص = .....
(٩) إذا كان $\frac{٢ع}{٤} = \frac{١٦}{ع}$ فإن ع = .....
(١٠) إذا كان $\frac{ل}{٤} = \frac{٩}{ل}$ وكان ل < ص فإن ل = .....
(١١) إذا كان أ : ب = ٥ : ٤ ، ب : ج = ٣ : ٢ فإن أ : ب : ج = ... : ... : ...
(١٢) ٣٥ : ٢٥ = ..... : ..... (في أبسط صورة)
(١٣) نسبة مساحة منطقة مربعة طول ضلعها س سم إلى مساحة منطقة مربعة أخرى طول ضلعها ٢ سم كنسبة ..... : .....
(١٤) إذا كان أ ، ب ، ٢ ، ٥ متناسبة فإن أ : ب = .....

ثانياً: أجب عن الأسئلة التالية:

(١٥) إذا كان ص - ٢ س = ١ فأوجد قيمة ص عندما س = ٣

(١٦) مثلث النسبة بين أطوال أضلاعه ٢ : ٣ : ٤ فإذا كان محيطه ٦٣ سم، احسب أطوال أضلاعه.

(١٧) إذا كان ( ٣ ، أ ) يحقق العلاقة ص - ٢ س = ٤ فأوجد قيمة أ.

(١٨) أوجد مجموعة حل المعادلة  $س^٢ + ٨س + ١٢ = ٠$  صفر في ح.

(١٩) مربع طول محيطه ٣٦ سم ومربع آخر طول ضلعه ٨ سم ، أوجد النسبة بين مساحتهما.

## أمثلة لإستراتيجيات حل المشكلات

مثال (١): إذا كان  $\frac{س}{ص} = \frac{٣}{٤}$  ،  $\frac{س}{ع} = \frac{٢}{٥}$  ، وكان  $٣س + ٢ص + ع = ٤٩$

أوجد قيمة كل من س، ص، ع

الحل:

فهم المشكلة:

ما المطلوب؟ ، ما المعطيات؟

خطة الحل:

كيف نحصل على س ، ص ، ع ؟ ..... ماذا يفيدنا من المعطيات؟

التنفيذ:

$$\frac{س}{ص} = \frac{٣}{٤} \quad \therefore \quad \frac{ص}{س} = \frac{٤}{٣} \quad ، \quad \frac{س}{ع} = \frac{٢}{٥}$$

$$\therefore \quad س : ص : ع = ٦ : ٨ : ١٥$$

$$\therefore \quad س = ٦ ك ، ص = ٨ ك ، ع = ١٥ ك$$

$$\therefore \quad ٣س + ٢ص + ع = ١٨ ك + ١٦ ك + ١٥ ك = ٤٩ ك$$

$$\therefore \quad ٤٩ ك = ٤٩ \quad \therefore \quad ك = ١$$

$$\therefore \quad س = ٦ ، ص = ٨ ، ع = ١٥$$

التحقق : تحقق من الإجابة بالحل بطريقة أخرى.

$$ص = \frac{٤}{٣} ، ع = \frac{٥}{٣}$$

$$\therefore \quad ٣س + ٢ص + ع = ٣س + \frac{٨}{٣} + \frac{٥}{٣} = ٤٩$$

$$\therefore \quad س (٦ + ٨ + ١٥) = ٦ \times ٤٩$$

$$س = ٦ ، ص = ٨ ، ع = ١٥$$

منتصر زويبة الرياضيات / عادل أبووار

مثال (٢): عددان صحيحان موجبان النسبة بينهما ٣ : ٧ وإذا طرح من كل منهما ٥ أصبحت النسبة بينهما ١ : ٣ ، فما العددان؟

الحل:

فهم المشكلة:

ما المطلوب؟ ، ما المعطيات؟

خطة الحل:

كيف نحصل على العددين؟ ..... ماذا يفيدنا من المعطيات؟

التنفيذ:

نفرض أن العددان هما ٣ س، ٧ س

$$\frac{1}{3} = \frac{3س - 5}{7س - 5} \quad \therefore$$

$$\therefore 7س - 5 = 15 - 3س$$

$$\therefore 7س - 3س = 15 + 5$$

$$\therefore 4س = 20$$

$$\therefore س = 5$$

∴ العددان هما : ١٥ ، ٣٥

التحقق: تحقق من الإجابة بالحل بطريقة أخرى.

تطبيق: أوجد العدد الذي إذا أضيف إلى كل من الأعداد ١ ، ٧ ، ٢٥ فإنها تكون تناسباً متسلسلاً.

مثال (٣): إذا كانت ص = ١ + ب حيث ب تتغير عكسياً مع مربع س ، وكانت ص = ١٧ عندما س =  $\frac{1}{2}$  أوجد العلاقة بين س ، ص ، ثم أوجد ص عندما س = ٢.

الحل:

فهم المشكلة:

ما المطلوب؟ ، ما المعطيات؟

خطة الحل:

كيف نحصل على العلاقة بين س ، ص؟ ..... ماذا يفيدنا من المعطيات؟

التنفيذ:

$$\begin{aligned} \text{عندما } س = \frac{1}{2} \quad \text{ص} = 17 \\ \therefore ب = 16 \end{aligned}$$

$$\text{ب} = \frac{1}{س} \quad \alpha$$

$$\therefore ب = \frac{م}{س}$$

$$\therefore 16 = م \div \frac{1}{4} \quad \therefore م = 16 \times \frac{1}{4}$$

$$\therefore ب = \frac{4}{س}$$

منتخب زوجيه الرياضيات أ / عادل أبووار

$$\therefore \text{ص} = 1 + \frac{4}{س}$$

$$\text{عندما } س = 2$$

$$\therefore \text{ص} = 2$$

التحقق: تحقق من الإجابة بالحل بطريقة أخرى.

تطبيق:

إذا كان وزن جسم على الأرض (و) يتناسب طردياً مع وزنه على القمر (ر)، إذا كان و = ١٨٢ كجم ، ر = ١ = ٣٥ كجم ؛ فأوجد ر عندما و = ٣١٢ كجم.



اولا : النسبة والتناسب

الاختبار الاول

السؤال الاول: اختر الاجابة الصحيحة من بين الاقواس :

١. الوسط المتناسب بين ٥ ، ٢٠ هو ..... ( ٢٥ ، ١٠٠ ، ١٠ ، ١٠± )
٢. اذا كان س ، ٣ ، ٦ ، ص في تناسب متسلسل فإن  $\frac{س}{ص} = \dots\dots\dots$  (  $\frac{١}{٢}$  ،  $\frac{١}{٩}$  ،  $\frac{١}{٨}$  ،  $\frac{١}{١٦}$  )
٣. اذا كان ٢ ، ٦ ، س + ١٥ كميات متناسبة فإن س = ..... ( ٤ ، ٣ ، ٢ ، ١ )
٤. اذا كان  $\frac{ب}{ب} = \frac{ج}{ج} = \frac{د}{س} = ٣$  فإن  $٣ = \frac{ب}{ب} = \frac{ج}{ج} = \frac{د}{س}$  ..... ( ٥٣ ، ٥٦ ، ٥٩ ، ٥٢٧ )
٥. اذا كان ل ، م ، ٢ ، ١ في تناسب متسلسل فإن ل = ..... ( ٩ ، ٢٧ ، ١ ، ٣ )
٦. اذا كان  $\frac{ب}{٩} = \frac{ب}{٤}$  وكان  $٢ + ب = ٣٤$  فإن  $٣٤ = ب + ٢$  ..... ( ١٨ ، ١٥ ، ١٤ ، ١٢ )

السؤال الثاني :

١. اذا كان ب ، ج ، س في تناسب متسلسل اثبت ان :  $\frac{ب-ج}{ب-ج} = \frac{س-ج}{ب-ج}$
٢. اذا كان  $\frac{ب}{٥} = \frac{ب}{٦} = \frac{ب}{٣}$  اوجد القيمة العددية للمقدار  $\frac{٣+ب}{٤+ب}$

السؤال الثالث :

١. اذا كان  $\frac{ب+ب}{س+ص} = \frac{ب+ب}{٢+س} = \frac{٢+ب}{٣+ص}$  اثبت ان  $\frac{ب}{ب} = \frac{س}{ص}$
٢. ب ، ٢ ، ج ، ٤ س في تناسب متسلسل أثبت ان : ( ٢-ب-٣ ج ) وسط متناسب بين ( ٢-ب ) ، ( ٣-ج-٤ )

السؤال الرابع :

١. اذا كان  $\frac{س}{ب+ب} = \frac{ص}{ج+ب} = \frac{ع}{٢+ع}$  اثبت ان  $\frac{٢-س-ص}{٣-ب-ج} = \frac{٢-س-ص}{٤-ب-ج}$
٢. اذا كان  $\frac{ل}{ل+ل} = \frac{ن}{ل+ن} = \frac{ي}{ل+ي}$  اثبت ان كلام من هذه النسب  $\frac{٢}{٣}$  وأن ل = ن = ي

السؤال الخامس :

١. اوجد العدد الموجب الذي اذا اضيف مربعة الي حدي النسبة  $\frac{١٧}{١١}$  فأنها تصبح  $\frac{٧}{٦}$
٢. اذا كان ب ، ج ، س في تناسب متسلسل اثبت ان :  $\frac{ب}{ج} = \frac{س}{(س+ج)}$

### الاختبار الثاني

السؤال الاول : اختر الاجابة الصحيحة من بين الاقواس :

١. العدد الذي اذا اضيف الي حدي النسبة  $\frac{2}{7}$  اصبحت  $\frac{3}{4}$  هو ..... ( ٢٣ ، ١٣ ، ٧ ، ٢ )

٢. العدد الذي اذا طرح من حدي النسبة  $\frac{17}{23}$  اصبحت  $\frac{2}{4}$  هو ..... ( ٢ ، ٥ ، ٧ ، ١٣ )

٣. اذا كان ١٦ س - ٢ ص = ٢ صفر : س ، ص  $\exists$  ح فإن النسبة  $\frac{س}{ص}$  = ..... (  $\frac{5-}{4}$  ،  $\frac{5}{4}$  ،  $\frac{4-}{5}$  ،  $\frac{4}{5}$  )

٤. اذا كان  $\frac{س}{ص} = \frac{2}{5}$  ،  $\frac{ع}{ص} = \frac{4}{7}$  فإن س : ص : ع = ..... : ..... : .....

( ٧ : ٤ : ٣ ، ٧ : ٥ : ٤ ، ٧ : ٥ : ٣ ، ٢٥ : ٢٠ : ١٢ )

٥. اذا كان  $\frac{ب}{٥} = \frac{٥}{٣}$  فإن  $\frac{ب}{٥} = \frac{٣}{٥}$  ..... ( ١ ، ٢ ، ٥ ، ٣ )

٦. اذا كان ٥ = ٤ ب فإن  $\frac{٥ + ٢ ب}{٥ - ب}$  ..... ( ٧ ، ٣ ، ٥ ، ٢ )

السؤال الثاني :

١. اذا كان س - ٢ ص = ٣ س ص وكانت س ، ص  $\exists$  ح فما قيمة  $\frac{٢ س + ٧ ص}{٣ ص - ٢ س}$

٢. اذا كانت  $\frac{س + ٣}{٣} = \frac{ع + ٥}{٥} = \frac{س + ٤}{٦}$  فأثبت ان :  $\frac{س + ٤}{٦} = \frac{ع + ٥}{٥} = \frac{س + ٣}{٣}$

السؤال الثالث :

١. اذا كان  $\frac{س + ٢ ص}{٤ + ب} = \frac{ع + ٥ ص}{٥ + ٢ ب} = \frac{س + ٤ ج}{٥ + ٢ ج}$  فأثبت ان ٢ = ٣ ب س ، ثم اوجد س : ص : ع

٢. اذا كان ٦ ، ب ، ٥٤ اربعة كميات موجبة في تناسب متسلسل اوجد قيمة ٢ ، ب

السؤال الرابع :

١. اذا كان : ٢ = ٣ = ٤ ج اوجد قيمة  $\frac{ب - ٢ ج}{ب + ٢ ج}$

٢. اذا كان :  $\frac{س}{٢ + ب} = \frac{ص}{٣ - ج} = \frac{ع}{٤ + ب}$  اثبت ان  $\frac{س + ٢ ص}{٤ + ص} = \frac{٧}{١٧}$

السؤال الخامس :

٣. اوجد العدد الحقيقي س الذي يجعل الكميات س + ٢ ، س + ٦ ، س + ١٤ متناسبة

٤. اذا كانت  $\frac{ب}{س - ٤} = \frac{س}{س + ٤} = \frac{٢}{س - ٤}$  اثبت ان كل نسبة  $\frac{س + ٢}{س + ٤} = \frac{ب + ٢}{س + ٤} = \frac{٢}{س + ٤}$

### الاختبار الثالث

السؤال الاول: اكمل العبارات الاتيه:

١. الرابع المتناسب للكميات ٣ ، ٩ ، ٢٧ هو .....
٢. اذا كان  $\frac{س}{٥} = \frac{ص}{٣} = \frac{س+٢ص}{م}$  فإن قيمة  $م =$  .....
٣. الوسط المتناسب بين ٤ ، ٩ يساوي .....
٤. الثالث المتناسب للكميتين ٢ ، ٨ يساوي .....
٥. الاول المتناسب للكميتين ١٦ ، ٣٢ يساوي .....
٦. اذا كان ٣ ب وسط متناسب بين ٢٢ ، ٥ ج فإن  $\frac{ب}{ج} =$  .....

السؤال الثاني:

١. اذا كان ب وسط متناسب بين ٢ ، ج اثبت ان  $\frac{ب}{ج} = \frac{ب+٢}{ب+٢}$  .....
٢. اذا كونت اربع كميات موجبة تناسبا متسلسلا فبين ان الفرق بين الكمية الاولى والكمية الاخيرة لا ينقص عن ثلاثة امثال الفرق الموجب الكميتين الاخريتين

السؤال الثالث:

١. اذا كان  $\frac{٥س+٣ص}{٧ب+٥} = \frac{٥ع+٣ص}{٧ب+٥} = \frac{٥س+٣ص}{٧ب+٥}$  اثبت ان كل نسبة  $\frac{٥س}{١٢} =$  .....
٢. اذا كان  $\frac{س-ج}{س+ج} = \frac{ب-٢}{ب+٢}$  اثبت ان ٢ ، ب ، ج ، س كميات متناسبة

السؤال الرابع:

١. اذا كونت ٢ ، ب ، ج ، س تناسبا متسلسلا اثبت ان  $\frac{س-٢}{س+٢} = \frac{ب-٢}{ب+٢}$  .....
٢. اذا كان  $\frac{س+٢ص}{٤ب+٢} = \frac{٥ع+٣ص}{٧ب+٥} = \frac{٥س+٣ص}{٧ب+٥}$  اثبت ان  $\frac{س}{ص} = \frac{٢}{ب}$  .....

السؤال الخامس:

١. اذا كان  $\frac{٤}{٧} = \frac{٢س-ص}{٢س+ص}$  اوجد قيمة  $\frac{س}{ص}$  ومن ذلك اثبت ان  $\frac{٣س+٢ص}{١٤} = \frac{٤}{٧}$  .....
٢. اذا كانت ب هي وسط متناسب بين ٢ ، ج اثبت ان  $\frac{٢(ب-ج)}{ب} = \frac{٢(ب-ج)}{ب+٢}$  .....

### الاختبار الرابع

السؤال الاول : اختر الاجابة الصحيحة من بين الاقواس

٧. اذا كان  $٧, ٩, ١, ٨$  ..... =  $٧ + ٩$  ب
٨. العدد الذي اذا اضيف لكل من الاعداد  $٦, ٣, ١$  تصبح في تناسب متسلسل هو ..... ( $٤, ٣, ٢, ١$ )
٩. اذا كان  $\frac{٧}{٩} = \frac{ب}{٣} = \frac{٧}{٩}$  فان  $\frac{ب}{٣} = \frac{٧}{٩}$  ..... =  $\frac{٧}{٩}$  ( $١٦, ٨, ٤, ٢$ )
١٠. اذا كان  $٢٤, ٦, ٣, ٦$  كميات متناسبة فان  $س =$  ..... ( $٤٨, ١٨, ١٢, ٩$ )
١١. اذا كان  $٤, ٦, ٦$  كميات متناسبة فان  $ص =$  ..... ( $٢٤, ٢, ٩, ١٠$ )
١٢. اذا كان  $\frac{٧}{١٢} = \frac{ب}{٥} = \frac{٧}{١٢}$  فان  $ك =$  ..... ( $٤, ٣, ٢, ١$ )

السؤال الثاني :

١. اذا كان  $\frac{٧}{١٢} = \frac{ب}{٥} = \frac{٧}{١٢}$  اثبت ان  $\frac{٧}{١٢} = \frac{ب}{٥} = \frac{٧}{١٢}$
٢. اذا كانت  $ب$  هي الوسط المتناسب بين  $٧, ٣$  فاثبت ان  $\frac{٧}{٣} = \frac{ب}{٣}$

السؤال الثالث :

١. اذا كان  $\frac{٧}{١٢} = \frac{ب}{٥} = \frac{٧}{١٢}$  اثبت ان  $\frac{٧}{١٢} = \frac{ب}{٥} = \frac{٧}{١٢}$
٢. اذا كان  $\frac{٧}{١٢} = \frac{ب}{٥} = \frac{٧}{١٢}$  فاوجد  $س : ص$

السؤال الرابع :

١. اذا كان  $\frac{٧}{١٢} = \frac{ب}{٥} = \frac{٧}{١٢}$  فاثبت ان  $\frac{٧}{١٢} = \frac{ب}{٥} = \frac{٧}{١٢}$
٢. اذا كان  $\frac{٧}{١٢} = \frac{ب}{٥} = \frac{٧}{١٢}$  فاثبت ان  $١٣س + (٢٢ - ٣)ص = ٥(٢ + ٧) =$  صفر

السؤال الخامس :

١. اذا كان  $\frac{٧}{١٢} = \frac{ب}{٥} = \frac{٧}{١٢}$  فاوجد  $٣ : ٤$
٢. عددان موجبان النسبة بينهما  $٣ : ٢$ ، مربع نصف اصغرهما يزيد عن ضعف اكبرهما بمقدار  $١٦$  فما هما العددان ؟

الاختبار الخامس

السؤال الاول: اختر الاجابة الصحيحة من بين القوسين

١. الرابع المتناسب للكلمات ٣ ، ١٢ ، ٩ هو ..... ( ٦ ، ٤ ، ٢ ، ١ )
٢. اذا كان  $\frac{٥}{٧} ، \frac{٥}{٧} ، \frac{٥}{٧} = \frac{٥}{٧}$  ..... فان كميات متناسبة فان  $\frac{٥}{٧} ، \frac{٥}{٧} ، \frac{٥}{٧}$  ( ٧ ، ٥ ، ٥ )
٣. اذا كانت ٢٤ ، س ، ٦ ، ٣ كميات متناسبة فان س = ..... ( ٩ ، ١٢ ، ١٨ ، ٤٨ )
٤. العدد الذي اذا اضيف لكل من الاعداد ١ ، ٣ ، ٦ تصيح في تناسب متسلسل هو ( ١ ، ٢ ، ٣ ، ٤ )
٥. الوسط المتناسب بين ٣ ، ٢٧ هو ..... ( ٩ ، ٩ - ، ٩ ± ، ٣ )
٦. اذا كان  $\frac{٣}{٧} = \frac{٣}{٧} ، \frac{٣}{٧} ، \frac{٣}{٧} = \frac{٣}{٧}$  فان  $\frac{٣}{٧} ، \frac{٣}{٧} ، \frac{٣}{٧} = \frac{٣}{٧}$  ..... (  $\frac{٣}{٧} ، \frac{٣}{٧} ، \frac{٣}{٧} ، \frac{٣}{٧}$  )

السؤال الثاني:

١. اذا كان  $\frac{٣}{٧} = \frac{٣}{٧} ، \frac{٣}{٧} ، \frac{٣}{٧} = \frac{٣}{٧}$  اثبت ان  $\frac{٣}{٧} = \frac{٣}{٧} ، \frac{٣}{٧} ، \frac{٣}{٧} = \frac{٣}{٧}$
٢. اذا كان ٢٥ س - ١٦ ص = صفر حيث س ، ص  $\exists$  ح + فأوجد النسبة  $\frac{٣}{٧}$

السؤال الثالث:

١. اذا كان م ، ل ، ن في تناسب متسلسل ، اثبت ان م : ن = م : ل
٢. اذا كان  $\frac{٣}{٧} = \frac{٣}{٧} ، \frac{٣}{٧} ، \frac{٣}{٧} = \frac{٣}{٧}$  اوجد القيمة العددية للمقدار  $\frac{٣}{٧} = \frac{٣}{٧} ، \frac{٣}{٧} ، \frac{٣}{٧} = \frac{٣}{٧}$

السؤال الرابع:

٣. اذا كان  $\frac{٣}{٧} = \frac{٣}{٧} ، \frac{٣}{٧} ، \frac{٣}{٧} = \frac{٣}{٧}$  وكان  $\frac{٣}{٧} = \frac{٣}{٧} ، \frac{٣}{٧} ، \frac{٣}{٧} = \frac{٣}{٧}$  اوجد القيمة العددية لكل من  $\frac{٣}{٧} ، \frac{٣}{٧} ، \frac{٣}{٧}$
٤.  $\frac{٣}{٧} ، \frac{٣}{٧} ، \frac{٣}{٧} = \frac{٣}{٧}$  في تناسب متسلسل اثبت ان  $\frac{٣}{٧} = \frac{٣}{٧} ، \frac{٣}{٧} ، \frac{٣}{٧} = \frac{٣}{٧}$

السؤال الخامس:

٣. اذا كان  $\frac{٣}{٧} = \frac{٣}{٧} ، \frac{٣}{٧} ، \frac{٣}{٧} = \frac{٣}{٧}$  اثبت ان  $\frac{٣}{٧} = \frac{٣}{٧} ، \frac{٣}{٧} ، \frac{٣}{٧} = \frac{٣}{٧}$
٤. اذا كان  $\frac{٣}{٧} ، \frac{٣}{٧} ، \frac{٣}{٧} = \frac{٣}{٧}$  في تناسب متسلسل اثبت ان:  $\frac{٣}{٧} = \frac{٣}{٧} ، \frac{٣}{٧} ، \frac{٣}{٧} = \frac{٣}{٧}$

ثانيا : التغير الطردني والتغير العكسي  
الاختبار الاول

السؤال الاول : اكمل ما ياتي :

١. اذا كانت  $x$  ص  $x^2$  عند ثبوت  $ع$  ،  $x$   $\frac{1}{ع}$  عند ثبوت  $س$  فإن  $x$  .....  
.....

٢. اذا كانت  $٢ \times \frac{1}{\sqrt{ب}}$  فإن  $ب$   $x$  .....  
.....

٣. اذا كان  $ص \times \frac{1}{س}$  وكانت  $ص = ٣$  عندما  $س = ٢$  فإن العلاقة بين  $س$  ،  $ص$  هي .....  
.....

.....	١	٢	س
٨ -	٢٤ -	.....	ص

٤. اذا كان  $ص \times \frac{1}{س}$  فاكمل الجدول التالي

٥. اذا كان  $س$  ،  $ص$  بعدا مستطيل مساحته ثابتة وتساوي  $م$  فإن  $م \times$  .....  
.....

السؤال الثاني :

١. اذا كان  $ص \times س$  ،  $ص = ١٨$  عندما  $س = ٧٢$  فأوجد  $س$  عندما  $ص = ٥$

٢. اذا كان  $\frac{س+١}{س} = \frac{٦}{س}$  ،  $س \neq$  صفر فاثبت أن  $ص \times \frac{1}{س}$

السؤال الثالث :

١. اذا كانت  $ص \times س$  وكانت  $ص = ١٤$  عندما  $س = ٧$  فأوجد قيمة  $ص$  عندما  $س = ٣$  ثم مثل ذلك

بيانيا عندما  $س \in [٧, ٢]$

٢. اذا كانت  $ص$  تتغير طرديا مع  $س$  وتتغير عكسيا مع  $ع$  ، وكانت  $ص = ٤$  عندما  $س = ٦$  ،  $ع = ٣$  ،  
فأوجد قيمة  $ص$  عندما  $س = ٥$  ،  $ع = ٢$  .

السؤال الرابع :

١. اذا كان  $ص$  تتغير عكسيا بتغير  $س$  وكانت  $ص = ٦$  عندما  $س = \frac{٥}{٧}$  اوجد العلاقة بين  $ص$  ،  $س$  ثم اوجد  
قيمة  $ص$  عندما  $س = ٣$

٢. اذا كانت  $س$  تتغير بتغير  $ص$  عندما  $ع$  ثابتة وكانت  $س$  تتغير بتغير  $ع$  عندما تكون  $ص$  ثابتة  
وكانت  $س = ١$  عندما  $ص = ٢$  ،  $ع = ٣$  اوجد العلاقة بين  $س$  ،  $ص$  ،  $ع$  احسب ايضا قيمة  $س$  عندما  $ص = ٤$  ،  
 $ع = ٥$

السؤال الخامس :

١. اذا كانت  $ص \times \frac{1}{س}$  وكانت  $ص = ٨$  عندما  $س = ٣$  اوجد قيمة  $س$  عند  $ص = ٦$

٢. اذا كان  $٢ \times ب \times ج$  ،  $ب \times ٢ \times ج$  فأثبت أن  $ج =$  مقدار ثابت

## الاختبار الثاني

### السؤال الاول اكمل العبارات الاتية

١. اذا كانت  $X \propto \frac{1}{S}$  وكانت  $S = 3$  عندما  $S = 2$  فاذا كانت  $S = 12$  فان  $S = \dots$
٢. اذا كانت  $S^2 \propto S^2 + 25 = 10$  فان  $S \propto \dots$
٣. اذا كان  $S \propto S$  فان  $S = \dots$
٤. اذا كان  $S \propto S$  وكانت  $S = 2$  عندما  $S = 8$  فان  $S = \dots$  عندما  $S = 12$
٥. اذا كان  $S \propto$  المعكوس الضربي للعدد  $S$  فان  $S_1 \dots \dots = X \dots \dots$  فان  $S_2$

### السؤال الثاني:

١. اذا كانت  $S \propto S^2$  وكان  $S = 18$  عندما  $S = 3$  ، اوجد قيمة  $S$  عندما  $S = 5$  وكذلك عندما  $S = 12,5$
٢. اذا كان  $S^2 \propto S^2 + 49 = 14$  فان  $S \propto \frac{1}{S}$  اثبت ان  $S \propto \frac{1}{S}$

### السؤال الثالث:

١. اذا كانت  $S$  تتغير عكسيا بتغير  $S^2$  وكانت  $S = 1$  عندما  $S = 2$  مثل العلاقة بين  $S$  ،  $S^2$  بيانيا ومن الرسم اوجد قيمة  $S$  عندما  $S = \frac{1}{3}$
٢. اذا كانت  $S \propto S$  عند ثبوت  $E$  وكانت  $S \propto E$  عند ثبوت  $S$  وكانت  $S = 2$  عندما  $S = \frac{2}{5}$  ،  $E = \frac{10}{37}$  ، اوجد قيمة  $S$  عندما  $S = 3$  ،  $E = 2$

### السؤال الرابع:

١. اذا كانت  $S \propto \frac{1}{S}$  وكانت  $S = \frac{3}{4}$  عندما  $S = \frac{3}{8}$  اوجد قيمة  $S$  عندما  $S = \frac{1}{4}$  وكذلك قيمة  $S$  عندما  $S = \frac{1}{4}$
٢. اذا كان  $E = 3 - 9 = 7$  فان  $S \propto S$  اثبت ان  $S \propto S$

### السؤال الخامس:

١. اذا كان مكعب  $S$  يتغير عكسيا بتغير مربع  $S$  وكان  $S = 2$  عندما  $S = \frac{1}{2}$  اوجد قيمة  $S$  عندما  $S = 4$
٢. اذا كانت  $S \propto S$  وكانت  $S = 30$  عندما  $S = 12$  . اوجد  $S$  عندما  $S = 10$  ،  $S =$  عندما  $S = 15$

### الاختبار الثالث

السؤال الاول : اختر الاجابة الصحيحة من بين الاجابات المعطاة

1. اذا كان  $x$  ص ،  $x$  س ،  $x$  ع ،  $x$  فان ص تتناسب مع ..... ( س ع ،  $\frac{س}{ع}$  ،  $\frac{ع}{س}$  ، ثابت  $x \frac{س}{ع}$  )
2. اذا كانت  $x^3$  ص = 8 فان ..... ( س  $x$  ص ، ص  $x$  س ،  $x^2$  س  $x$  8 ص ، س  $x$   $\frac{1}{ص}$  )
3. اذا كانت س  $x$  ص<sup>-1</sup> وكانت س = 1 عند ص = 2 فانه عند س = 2 ص = ..... ( 1 ، 2 ، 3 ، 4 )
4. اذا كانت ص =  $\frac{7}{س}$  فان ص تتناسب مع ..... ( س<sup>-2</sup> ، س<sup>-1</sup> ، س ، س<sup>2</sup> )
5. اذا كان  $P = \frac{1}{ب}$  حيث  $P = 7$  ، ب متغيران حقيقيان فان : ..... ( ب  $x$   $\frac{1}{ب}$  ، ب  $x$   $\frac{1}{ب}$  ، ب  $x$   $\frac{1}{ب}$  ، ب  $x$   $\frac{1}{ب}$  )

السؤال الثاني :

1. اذا كانت ص  $x$   $\frac{1}{س}$  وكانت ص = 3 عندما س = 9 اوجد قيمة ص عندما س = 25 وكذلك قيمة س عندما ص =  $\frac{1}{3}$
2. اذا كانت (س - ص)  $x$   $(\frac{1}{س} - \frac{1}{ص})$  اثبت ان س  $x$   $\frac{1}{ص}$

السؤال الثالث :

1. اذا كانت ص  $x$   $\frac{1}{س}$  وكانت ص = 8 عندما س =  $\frac{1}{4}$  اوجد قيمة ص عندما س = 4
2. اذا كان  $\frac{س+5}{ص} = 7$  اثبت ان ص  $x$  س

منصة زوجه الرياضيات / عادل أبووار

السؤال الرابع :

1. اذا كانت ص = 2 + ج ، ج  $x$  س وكانت ص = 7 عندما س = 1 ، اوجد العلاقة بين س ، ص ثم اوجد قيمة ص عندما س = 2
2. اذا كانت س  $x$  ص ، س  $x$  ع وكان س =  $\frac{2}{3}$  عندما ص =  $\frac{3}{4}$  ، ع =  $\frac{14}{9}$  فأوجد ص عندما س =  $\frac{3}{4}$  ،  $\frac{3}{5} = ع$

السؤال الخامس :

1. اذا كانت س تتغير عكسيا بتغير مكعب ص وكانت س = 125 عندما ص = 2 مثل العلاقة بين س ، ص ومن الرسم اوجد قيمة ص عندما س = 27
2. اذا كان ص  $x$  س<sup>2</sup> ، ص = 8 عندما س = 2 فأوجد قيمة ص عندما س = 3



## الاختبار الرابع

السؤال الاول : اكمل ما يأتي :

١. اذا كان  $s$  ،  $v$  كميتان متغيرتان ، وكان  $1 = \frac{s_1 v_1}{s_2 v_2}$  فإن  $s \propto$  .....
٢. اذا كان  $s^2 v^2 = 8s + 16 + 0$  فإن  $s \propto$  .....
٣. اذا كانت  $s \propto v$  وكانت  $s = 4$  عندما  $v = 2$  فإن  $s =$  .....
٤. اذا كان  $s \propto v = 4$  فإن  $v =$  ..... او  $v \propto$  .....
٥. اذا كانت  $s^2 v^2 = 8$  فإن  $s \propto$  .....

السؤال الثاني :

١. اذا كان  $s$  ،  $v$  متغيرين حقيقيين حيث  $s^2 v^2 = 16 + 8s$  ص ل جميع قيم  $s$  ، ص اثبت ان  $s$  تتغير عكسيا بتغير  $v$
٢. اذا كان حجم اسطوانه يتناسب طرديا مع مربع طول نصف قطر قاعدتها  $h$  - كما تتناوب طرديا مع الارتفاع  $e$  وكان حجم الاسطوانه  $= 1040$  سم<sup>3</sup> عندما  $h = 7$  سم ،  $e = 10$  سم فأوجد قيمة الحجم عندما  $h = 4$  سم ،  $e = 7$  سم

السؤال الثالث :

١. اذا كانت  $s \propto v$  ،  $e \propto h$  فأثبت ان  $(s + v)(e + h) \propto (s - v)(e - h)$
٢. اذا كانت  $s \propto v^2$  عند ثبوت  $e$  وكانت  $s \propto e$  عند ثبوت  $v$  وكانت  $e = 6$  عندما  $s = v = 2$  اوجد العلاقة بين  $s$  ،  $v$  ،  $e$

السؤال الرابع :

١. اذا كانت  $\frac{v^2 - s^2}{s + v} = \frac{2}{p}$  فأثبت ان  $s \propto v$  حيث  $s$  ،  $v$  كميتان حقيقيتان موجبتان
٢. اذا كان  $(4s + 7v) \propto (s + 2v)$  حيث  $s$  ،  $v$   $\exists$  ح اثبت ان  $s \propto$  .....

السؤال الخامس :

١. اذا كان  $e = 25 + 2s = 20$  ص فأثبت ان  $s \propto v$  حيث  $s$  ،  $v$  متغيران حقيقيان موجبان
٢. اذا كانت  $s$  تتغير طرديا بتغير  $v$  وعكسيا بتغير  $e^2$  وكانت  $s = 4$  عندما  $v = 64$  ،  $e = 8$  اوجد العلاقة بين  $s$  ،  $v$  ،  $e$  واوجد  $e$  عندما  $s = 3$  ،  $v = 75$

منصة زوجه الرياضيات / عادل أبووار

### الاختبار الخامس

#### السؤال الاول : اكمل ما ياتي :

١. اذا كانت  $P$  تتغير عكسيا مع  $b$  وطرديا مع  $c$  فإن  $P \propto \frac{c}{b}$  .....
٢. اذا كانت  $s \propto v$  ،  $v \propto c$  فإن  $s \propto c$  .....
٣.  $s \propto v$  ،  $v = 8$  عندما  $s = 2$  فإنه عندما  $s = 4$  فإن  $v =$  .....
٤. اذا كان  $P \propto \frac{1}{b}$  ،  $P \propto c$  فإن  $P \propto \frac{c}{b}$  .....
٥. اذا كان  $P \propto \sqrt{b}$  وكانت  $P = 6$  عند  $b = 4$  فإن ثابت التغير = .....

#### السؤال الثاني :

١. اذا كانت  $v$  تساوي مجموع كميتين احدهما تتغير طرديا مع  $s^2$  والاخرى تتغير عكسيا مع  $s$  حيث كل من  $s$  ،  $v$  متغير حقيقي فأوجد العلاقة بين  $s$  ،  $v$
٢. اذا كانت  $v = P$  حيث  $P \propto s^2$  ،  $b \propto \frac{1}{s^2}$  وكانت  $v = 4$  عند  $s = 2$  اوجد العلاقة بين  $s$  ،  $v$

#### السؤال الثالث :

١. اذا كانت  $s \propto (v - 3)$  ،  $c$  تتغير عكسيا بتغير  $(v - 9)$  أثبت أن  $s^2 \propto c$  بتغير بتغير  $\frac{v-3}{v+3}$
٢. اذا كانت  $v \propto s^2$  ،  $v \propto c$  وكانت  $s = 2$  ،  $c = 3$  عند  $v = 8$  اوجد قيمة  $s$  عند  $v = 48$  ،  $c = 2$

#### السؤال الرابع :

١. اذا كان :  $\frac{P}{v} - \frac{P}{s} \propto s - v$  حيث  $P$  ثابت فأثبت ان :  $s$  تتغير عكسيا مع  $v$  حيث  $s \neq v \neq 0$
٢. اذا كانت  $v = P + b + c$  حيث  $P$  ثابت ،  $b \propto s$  ،  $c \propto s^2$  وكانت  $v = 1$  عندما  $s =$  صفر ،  $v =$  صفر عندما  $s \in \left\{ \frac{1}{3}, 1 \right\}$

#### السؤال الخامس :

١. اذا كان  $s$  ،  $v$  متغيرين حقيقيين وكان  $s \propto v$  أثبت ان  $(s^2 - v^2) \propto s \propto v$
٢. اذا كان ٢٠ عامل يستطيعون ري ٥٠ فدان في ٩ ايام فقي كم يوم يروي ١٨ عامل ستون فدان

## الاختبار السادس

### السؤال الاول اكمل ما ياتي

١. اذا كانت  $x \times p = b$  وكانت  $p = 2$  عند  $b = 3$  فإن  $p = 4$  عند  $b = \dots$
٢. اذا كان  $p = 5 = b$  فإن  $p$  تتغير مع  $b$  تغيرا .....
٣. اذا كانت  $v$  تتناسب عكسيا مع  $s$  فإن  $v$  تتناسب طرديا مع .....
٤. اذا كان  $x \times p = s$  ،  $x \times p = v$  فإن .....
٥. اذا كان  $x \times p = b$  فإن  $p = \dots$
- ٦.

### السؤال الثاني :

١. اذا كان  $(b + p) \times \frac{p}{b}$  ،  $(p - b + b) \times \frac{b}{p}$  فأثبت ان  $p^3 + b^3 =$  مقدار ثابت
٢. اذا كانت  $v$  تتغير عكسيا بتغير  $s^2$  وكانت  $v = 1$  عندما  $s = 10$  أوجد قيمة  $s$  عندما  $v = 4$

### السؤال الثالث :

١. اذا كانت  $v \times \frac{1}{s}$  ،  $s = 1$  عندما  $v = 3$  اوجد العلاقة بين  $s$  ،  $v$  ،  
ثم اوجد قيمتي  $s$  عندما  $v \in \{2, 1\}$
٢. اذا كان  $v \times s$  وكانت  $v = 9$  عندما  $s = 26$  اوجد العلاقة بين  $s$  ،  $v$  ، اوجد قيمة  $v$  عند  $s = 20$

### السؤال الرابع :

١. اذا كانت  $s$  تتغير طرديا بتغير  $v$  عند ثبوت  $e$  ،  $s$  تتغير عكسيا بتغير  $e$  عند ثبوت  $v$  ، وكانت  $v = 7$  عندما  $e = 3$  فأوجد قيمة  $v$  عندما  $s = 3$  ،  $e = 4$
٢. اذا كان  $s$  ،  $v$  متغيران حقيقيان وكان  $\frac{s}{v} + \frac{v}{s} = 6$  ، أثبت ان  $s \times v$

### السؤال الخامس :

١. اذا كان  $v = p + 2$  حيث  $p \times \frac{1}{s}$  وكان  $v = 4$  عندما  $s = 3$  اوجد العلاقة بين  $s$  ،  $v$  ثم اوجد قيمة  $v$  عندما  $s = 2$
٢. اذا كان  $p$  ،  $b$  متغيرين حقيقيين ،  $\frac{p}{b} \times p + b$  ،  $\frac{b}{p} \times p - b$  فأثبت ان  $p^2 - b^2$

ثانيا الاحتمالات

الاختبار الاول

السؤال الاول : اكمل العبارات الاتية لتصبح صحيحة.

١. الوسط الحسابي للقيم ١٣، ١٥، ١٢، ٧، ٨ هو .....
٢. مدي المجموعة {٥١، ٥٣، ٥٥، ٥٧، ٥٨، ٦٠} هو .....
٣. الفرق بين اكبر قيمة واصغر قيمة لمجموعة من المفردات تسمى .....
٤. الجذر التربيعي الموجب لمتوسط مربعات الانحرافات القيم عن وسطها الحسابي يسمى .....
٥. الدرجة الاكثر متوالا لمجموعه من البيانات هي .....
٦. اذا كان  $\bar{s}$  الوسط الحسابي لمجموعه من القيم عددها ٩ ، مج  $(\bar{s} - s)^2 = ١٤٤$  فإن

الانحراف المعياري  $\sigma =$  .....

السؤال الثاني

١. لمجموعة القيم الاتية اي المجموعات اكثر تشتتا  
 ا) المجموعة الاولى: ١، ٣، ٥، ٧، ٨، ١٠  
 ب) المجموعة الثانية: ٢، ٥، ٧، ٩، ١٢، ٥٢
٢. احسب الانحراف المعياري لمجموعة القيم ١٦، ٢٢، ٥، ٢٠، ٢٧

السؤال الثالث:

١. احسب الانحراف المعياري لمجموعة القيم ٢٠، ١٧، ١٤، ٣٢، ٦.
٢. من التوزيع التكراري الاتي : اوجد الانحراف المعياري

المجموع	١٠-	٨-	٦-	٤-	٢-	المجموعات
٥٠	٤	١٠	٢١	١٢	٣	التكرار

السؤال الرابع:

١. الجدول الاتي يبين الاعمار بالسنوات لـ ٢٠ شخصا:

العمر	١٥	٢٠	٢٢	٢٣	٢٥	٢٠	المجموع
عدد الاشخاص	٢	٢	٥	٥	١	٤	٢٠

٢. احسب الوسط الحسابي والانحراف المعياري للبيانات التاليه : ١٦، ٢٢، ٥، ٢٠، ٢٧

السؤال الخامس:

١. التوزيع التكراري التالي يوضح عدد الاهداف التي سجلت في عدد من المباريات لكره القدم:

عدد الاهداف	صفر	١	٢	٣	٤	٥	٦
عدد المباريات	١	٤	٦	٩	٥	٣	٢

اوجد الوسط الحسابي والانحراف المعياري

٢. في دراسة لكمية البنزين التي تستهلكها مجموعة من السيارات كانت النتائج فيما يلي:

عدد السيارات	٥	٧	٩	٥	٤
عدد الكيلومترات لكل لتر	٢٥-	٢٧-	٢٩-	٣١-	٣٣-

الهندسة وحساب المثلثات

الوحدة الرابعة: الهندسة التحليلية

الوحدة الخامسة: حساب المثلثات

منشور - زوجه الرياضيات / عادل أبووار

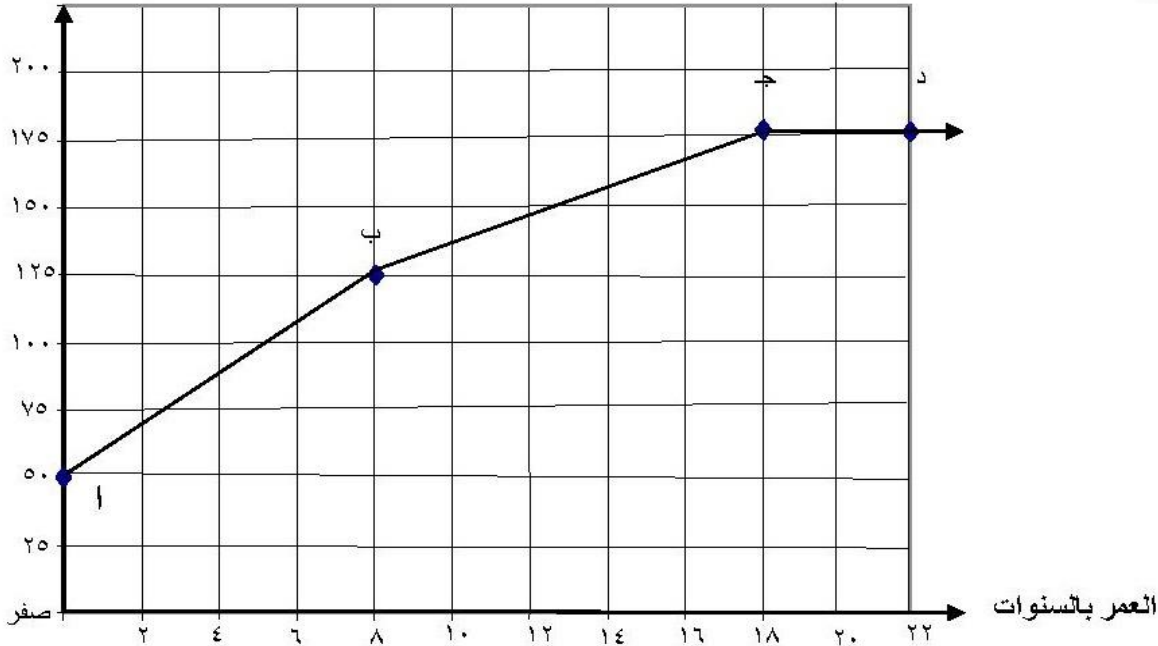
## ثانياً : الهندسة التحليلية

### أسئلة المهارات الأساسية لوحدة الهندسة التحليلية

اختر الإجابة الصحيحة من بين الاجابات المعطاه:

(١) الشكل المقابل يوضح العلاقة بين طول شخص ( بالسنتيمتر ) ، وعمره بالسنوات .  
أولاً: طول محمد عند الولادة :

الطول سم



(أ) ٢٥ سم

(ب) ٥٠ سم

(ج) ١٢٥ سم

(د) ١٧٥ سم

ثانياً: يثبت طول محمد عندما يكون عمره :

(ب) ١٦ سنة

(أ) ١٣ سنة

(د) ٣٣ سنة

(ج) ١٨ سنة

ثالثاً : الفرق بين طول محمد عندما كان عمره ٨ سنوات ، ١٨ سنة هو :

(ب) ١٢٥ سم

(أ) ٥٠ سم

(د) ١٧٥ سم

(ج) ١٥٠ سم

(٢) النقطتان ل ( -٤ ، ٧ ) ، م ( ٣ ، ٩ ) يقعان على الخط المستقيم ل م فإن ميله يساوى :

(ب)  $\frac{2}{7}$

(أ)  $\frac{16}{7}$

(د) ١٦

(ج)  $\frac{7}{2}$

(٣) النقطتان ( ٣ ، ٢ ) ، ب ( -١ ، ٤ ) يقعان على الخط المستقيم  $\longleftrightarrow$  ا ب فإن ميله يساوي :

(أ)  $\frac{٧-}{٣}$  (ب)  $\frac{١-}{٣}$

(ج)  $\frac{٣-}{٧}$  (د) ٣-

(٤) إذا كان ميل المستقيم الذي يمر بالنقطتين ( -٣ ، ٤ ) ، ( ١ ، ص ) هو ٢ فإن ص تساوي:

(أ) ٤ (ب) ٨

(ج) ١٢ (د) ١٦

(٥) إذا كانت ( ٥ ، ب - ٧ ) تقع على محور السينات فإن ب = .....

(أ) ٧- (ب) صفر

(ج) ٧ (د) ١٢

(٦) البعد بين النقطة ( -٥ ، ١٢ ) ونقطة الأصل يساوي ..... وحدة طول

(أ) ٥- (ب) ٥

(ج) ٧ (د) ١٢

**أكمل كل مما يأتي:**

(٧) الشكل الذي يمثل المعادلة ص = ٢ س يمر بنقطة .....

(٨) الدالة الخطية المعرفة بالقاعدة ص = س + ٧ يمثلها بيانياً خط مستقيم يقطع محور السينات في

النقطة .....

(٩) الدالة الخطية المعرفة بالقاعدة ص = ٢س - ١ يمثلها بيانياً خط مستقيم يقطع محور الصادات

في النقطة .....

## أمثلة على استراتيجيات حل المسائل

مثال: أ ب قطر في الدائرة التي مركزها م ؛ فإذا كانت ب ( ٨ ، ١١ ) ، م ( ٥ ، ٧ ) فأوجد معادلة المستقيم العمودي على أ ب من نقطة ب.

الحل:

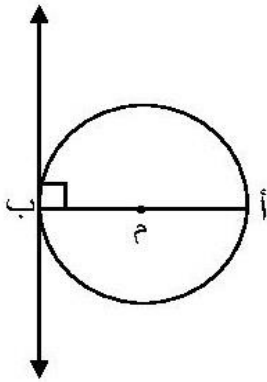
فهم المشكلة:

ما المطلوب؟ ، ما المعطيات؟

خطة الحل:

كيف نحصل على معادلة المستقيم العمودي؟ ..... ماذا يفيدنا من المعطيات؟

التنفيذ:



∴ م منتصف أ ب

$$\therefore (7, 5) = \left( \frac{8 + \text{ص}}{2}, \frac{11 + \text{س}}{2} \right) \quad (\text{بالضرب } \times 2)$$

$$\therefore (14, 10) = (11 + \text{ص}, 8 + \text{س})$$

$$\therefore 14 = 11 + \text{ص} , \quad 10 = 8 + \text{س}$$

$$\therefore \text{ص} = 3 , \quad \text{س} = 2$$

$$\therefore \text{أ} = (3, 2)$$

$$\therefore \text{ميل المستقيم أ ب} = \frac{3 - 11}{2 - 8} = \frac{4}{3}$$

$$\therefore \text{ميل العمودي} = - \frac{3}{4}$$

∴ معادلة المستقيم هي : ص = م س + ج

$$\therefore \text{ص} = - \frac{3}{4} \text{س} + \text{ج}$$

∴ ( ٨ ، ١١ ) ∉ للمستقيم

$$\therefore 11 = - \frac{3}{4} \times 8 + \text{ج}$$

$$\therefore 17 = \text{ج}$$

$$\therefore \text{معادلة العمودي هي: ص} = - \frac{3}{4} \text{س} + 17$$

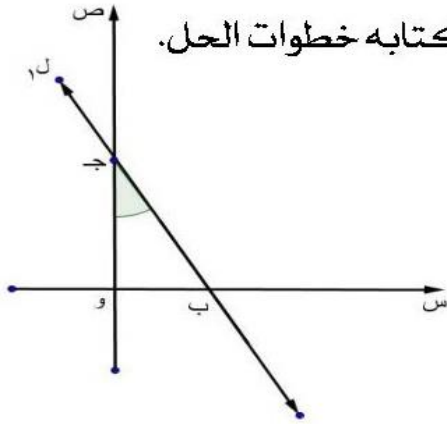
تطبيق: أ ب ج د متوازي أضلاع تقاطع قطراه في هـ حيث أ ( ٣ ، -١ ) ، ب ( ٦ ، ٢ ) ، ج ( ١ ، ٧ ) أوجد طول د هـ.



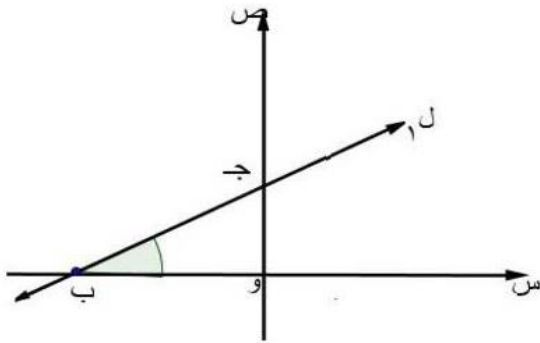
## الاختبار الاول

السؤال الاول:-

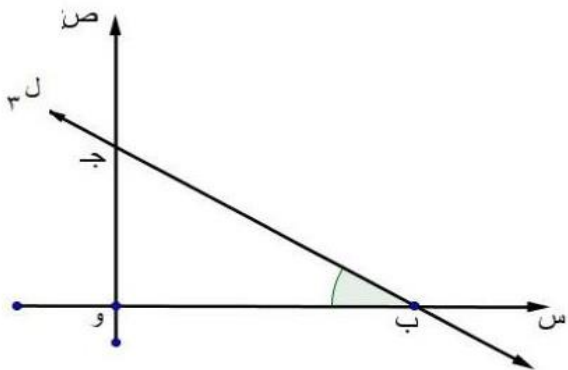
اكمل الجمل الرياضية الاتية ( بدون استخدام الحاسبة ) مع كتابه خطوات الحل.



(١) اذا كان ق  $\widehat{ب} = 30^\circ$ ، فإن ميل المستقيم ل = .....

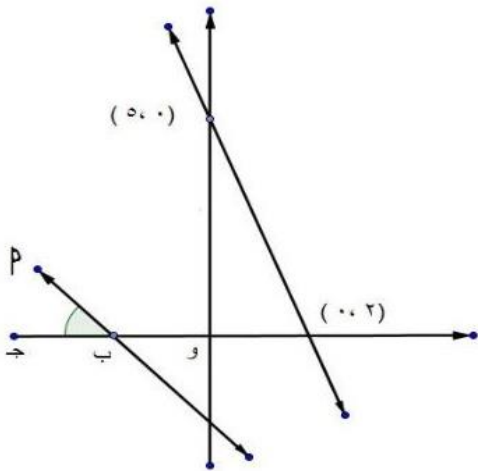


(٢) اذا كان ق  $\widehat{ب} = 30^\circ$ ، ميل المستقيم ل = .....



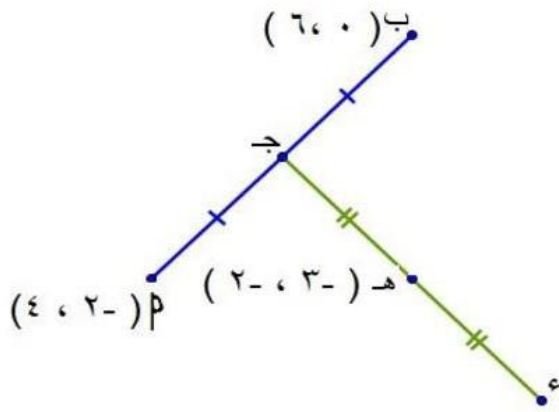
(٣) اذا كان ق  $\widehat{ب} = 30^\circ$  ميل المستقيم ل = .....

(٤) اذا كان  $\widehat{ب} = 45^\circ = \frac{\text{ميل المستقيم ل ١}}{\text{ميل المستقيم ل ٢}}$  = .....



(٥) اذا كان  $پ (١, ١)$ ،  $ب (٢, ٣)$ ،  $ج (٤, ٢)$ ،  $د (٦, ٣)$  وكان  $پ // ج$  فإن  $ك = \dots$

٦) إذا كان  $P(2, 1)$ ،  $B(1, 2)$ ،  $C(0, 3)$ ،  $D(0, 4)$ ، وكان  $AB \perp CD$  فإن  $\frac{س}{ص} = \dots\dots\dots$

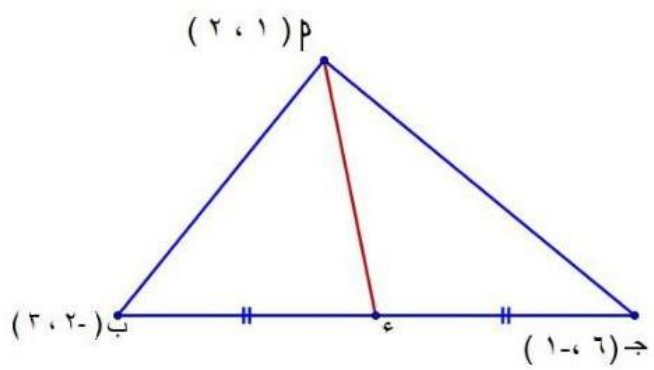


السؤال الثاني :-

١) إذا كانت ج منتصف  $P$  د،

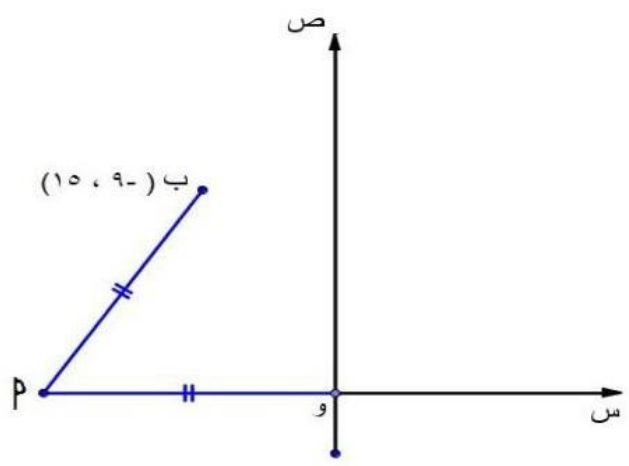
هـ منتصف د ج

أوجد إحداثي النقطة ج، النقطة د.



٢) من الشكل المقابل

أوجد طول  $P$  د.

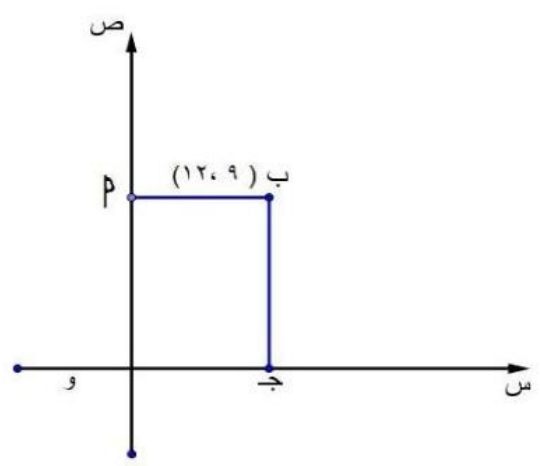


السؤال الثالث :-

١) في الشكل المقابل :-

إذا كانت  $P \in$  محور السينات،

كان  $P = 0$  أو  $P = 10$  أوجد  $P$  ب



٢)  $P \rightarrow$  د مستطيل،

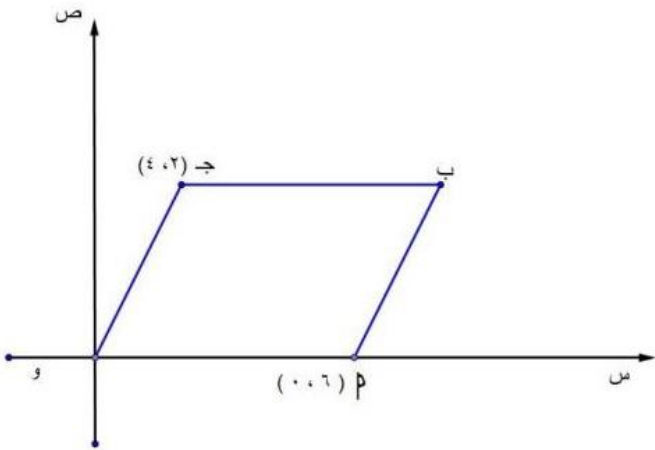
أوجد طول  $P$  ج

السؤال الرابع :-

(١) إذا كان  $P(5, 1)$ ،  $B(6, -7)$  أوجد طول  $PB$ .

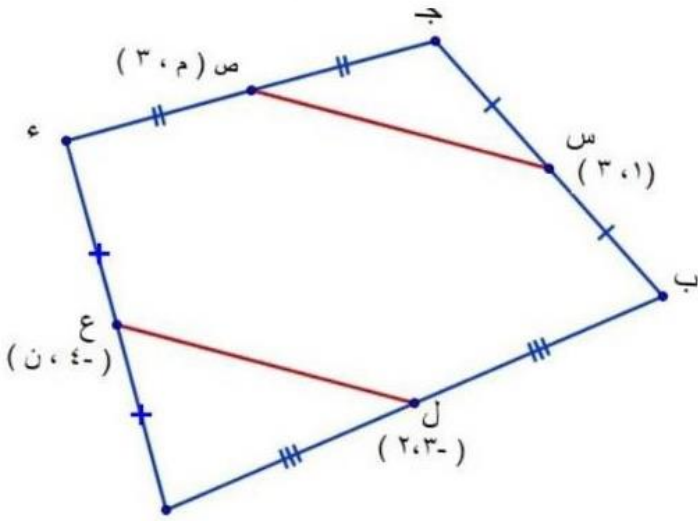
(٢)  $P$  جد متوازي اضلاع،

أوجد طول  $OB$



السؤال الخامس :-

(١) إذا كان  $P(2, -3)$ ،  $B(8, 8)$  وكان  $PB = 10$  وحده طول أوجد قيمة  $K$



(٢)  $P$  جد شكل رباعي فيه  $S, C, E, L$

متصفات ب ج، ج د، د م، م ب على الترتيب

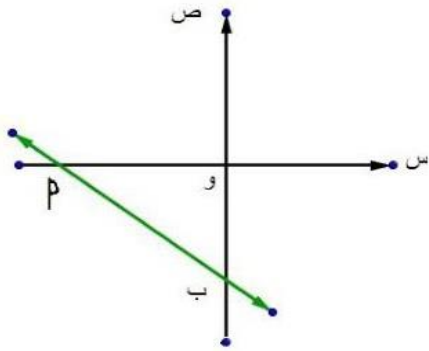
أوجد قيمة  $M + N$

منتخب زوجة الرياضيات أ / عادل أبووار

## الاختبار الثاني

### السؤال الاول

اختر الاجابة الصحيحة من بين الاجابات المعطاة .  
 (١) اذا كان  $٣$  و  $٤ = ٢$  وب فان معادلة  $٢$  هي .....



$$((ص = \frac{٣}{٤}س + \frac{٤}{٣}, ص = \frac{٣}{٤}س + \frac{٤}{٤}, ص = \frac{٤}{٣}س + \frac{٤}{٣}, ص = \frac{٣}{٤}س + \frac{٤}{٣}))$$

(٢) اذا كان  $٢$  (١، ١-)،  $٢$  (ك، ٢)،  $٣$  (٤، ٢)،  $٤$  (٦، ٣) وكان  $٢$  //  $٣$  فان  $ك =$  .....

$$(\frac{١}{٢}, \frac{١}{٢}, ١, \frac{٣}{٢})$$

(٣) اذا كان ميل المستقيم  $٢$   $س + ك + ص = ١٧$  = صفر يساوي  $\frac{٢}{٣}$  فان  $ك =$  .....

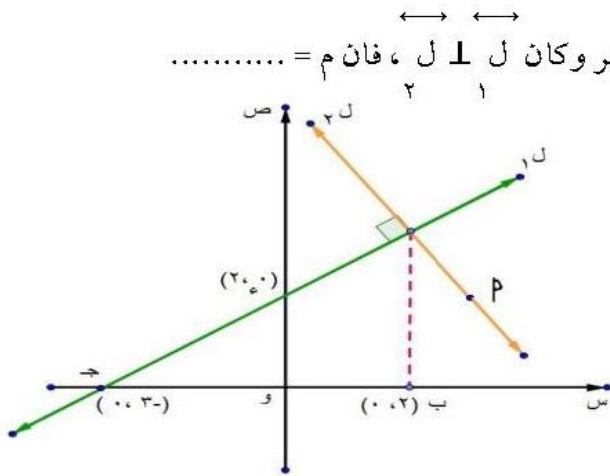
$$(٢, ٢-, ٣-, ٤-)$$

(٤) اذا كان ميل المستقيم  $ص + ك + س = م$  = صفر يساوي  $٣$  وكان المستقيم يمر بالنقطة  $٢$  (٤، ١) فان  $م +$

$$ك = \dots (٧-, ٦-, ٥-, ٤-)$$

(٥) اذا كان  $ل١: ٢ص - ٣س + ٥ =$  صفر،  $ل٢: ٥ص - ك + س =$  صفر وكان  $ل١ \perp ل٢$ ، فان  $م =$  .....

$$(\frac{١٠-}{٣}, ٣-, \frac{١٠-}{٣}, ٤-)$$



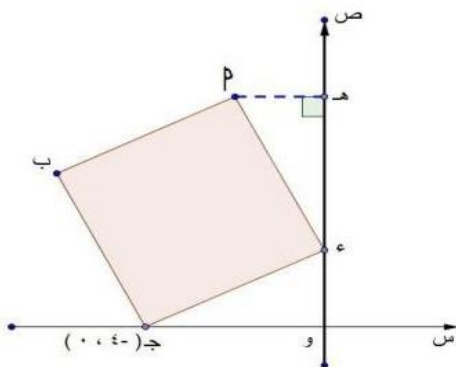
(٦) اذا كان  $ل١ \perp ل٢$ ،  $٢ \exists ل١$  حيث،

$$٢ (م، م) \text{ فان قيمة } م = \dots (\frac{٥}{٣}, \frac{١١}{٦}, \frac{١٣}{٧}, \frac{١٥}{٨})$$

### السؤال الثاني :-

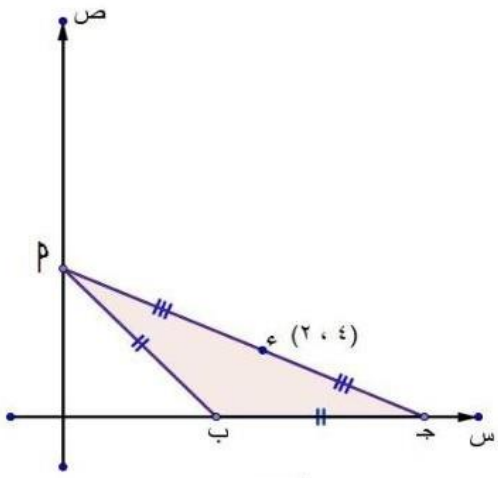
(١) اذا كانت مساحة المربع  $٢$   $بج د = ٢٥$  وحده مربعه

اوجد احداثي النقطة  $٢$ .



٢) من الشكل المقابل :

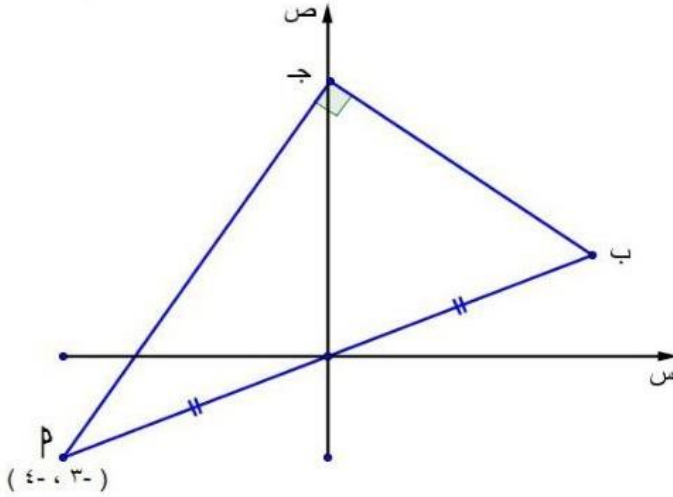
أوجد مساحة  $\triangle PAB$   $\Rightarrow$



السؤال الثالث :-

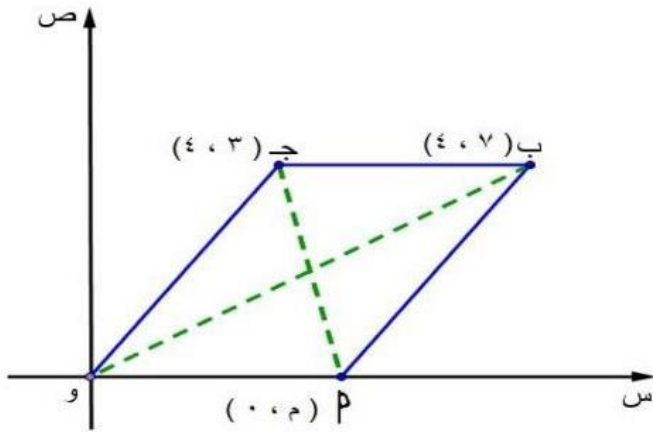
١) إذا كانت  $P(-3, -4)$ ،

أوجد طول  $AB$   $\Rightarrow$



٢) من الشكل المقابل :

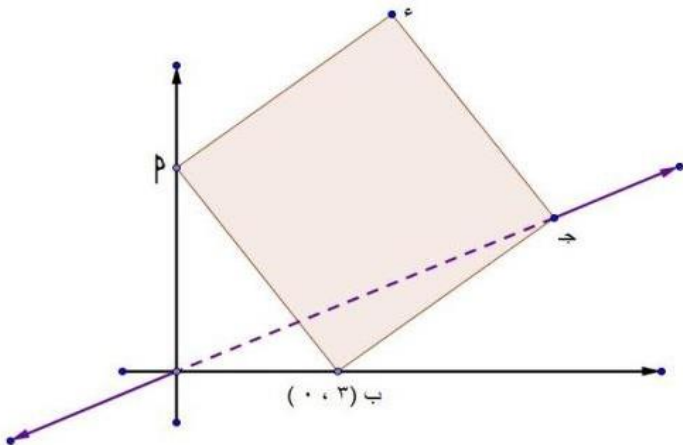
أوجد قيمة  $m$ .



السؤال الرابع :-

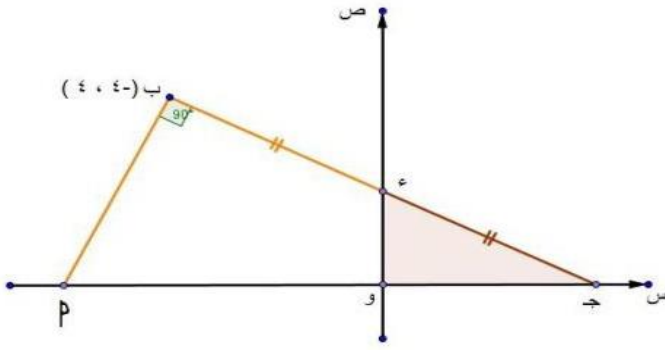
١) إذا كانت مساحة المربع  $PABD = 25$  سم<sup>٢</sup>،

أوجد معادلة  $CD$ .

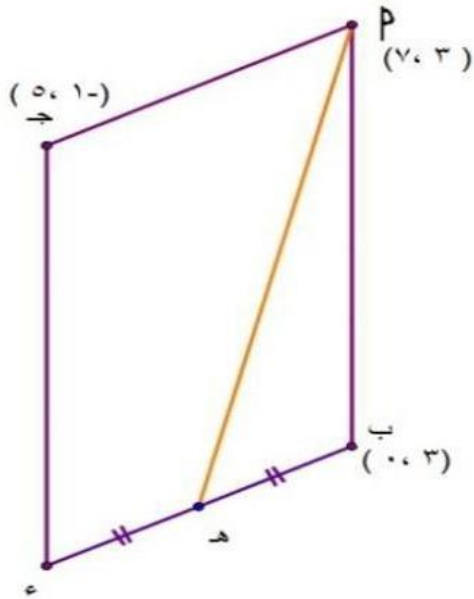


٢ من الشكل المقابل :

أوجد مساحة  $\Delta$   $\Rightarrow$  د.و .

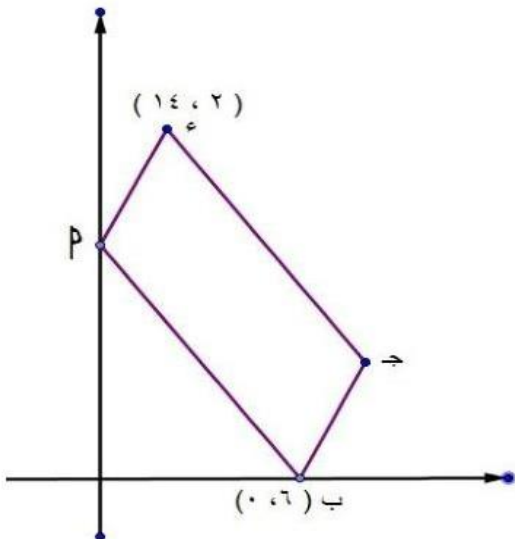


السؤال الخامس:-



١)  $P$   $\Rightarrow$  د متوازي اضلاع ،

هـ منتصف هـ د ، أوجد طول  $P$  هـ .



٢)  $P$   $\Rightarrow$  د متوازي اضلاع ، أوجد إحداثي النقطة  $\Rightarrow$  .

## الاختبار الثالث

السؤال الاول :

اختر الاجابة الصحيحة من بين الاجابات المعطاة .

(١) اذا كان ميل المستقيم  $٢س + كص = ١٧$  صفر يساوي  $\frac{٢}{٣}$  فان  $ك =$  ..... (٢، ٢-، ٣-، ٤-)

(٢) اذا كان ميل المستقيم  $ص + كس + م =$  صفر يساوي  $٣-$  وكان المستقيم يمر بالنقطة  $ا (١، ٤)$

فان  $م + ك =$  ..... (٧-، ٦-، ٥-، ٤-)

(٣) اذا كان ميل المستقيم  $٣س + كص - ١ =$  صفر يساوي  $\frac{٢-}{٣}$  وكان المستقيم يمر بالنقطة  $(٥، ٢-)$ ،

فان  $ك - ٣ =$  ..... (٩، ١٠، ١١، ١٢)

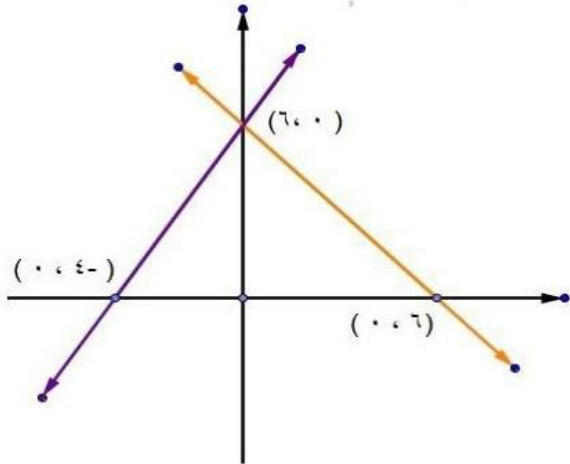
(٤) اذا كان ميل المستقيم المار بالنقطتين  $٣ (ك، ٢ + ك + ١)$ ،  $ب (ك - ٢، ٤ - ك)$  يساوي  $٢-$ ،

فان قيمة  $ك =$  ..... (٥، ٤، ٣، ٢)

(٥) اذا كان ميل المستقيم المار بالنقطتين  $٣ (١، ٣)$ ،  $٣ (١، ٣)$  يساوي  $٣$  فان قيمة  $ك =$  .....

(٩، ٨، ٧، ٦)

(٦) ميل المستقيم المار بالنقطتين  $٣ (٢، ٤-)$ ،  $ب (٣، ٣)$  يساوي  $\frac{٣}{٣}$  فان قيمة  $ك =$  ..... (٣، ١، ٢، ١-)

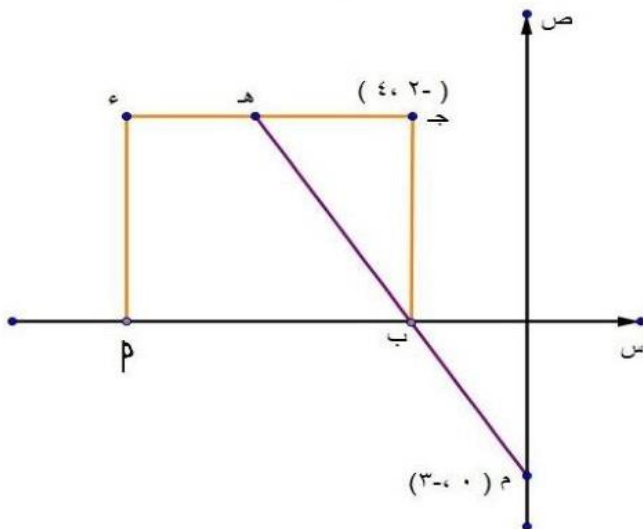


السؤال الثاني :

(١) اذا كان  $١م$  ميل المستقيم  $ل١$ ،

$٢م$  ميل المستقيم  $ل٢$

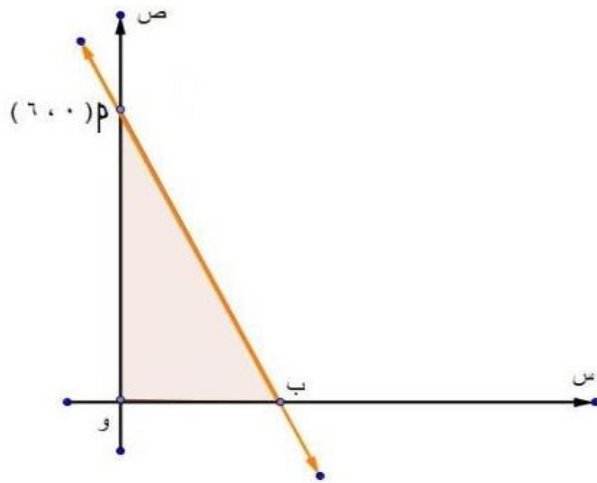
اوجد  $١م + ٢م$  .



(٢) اذا كان  $م$ ،  $ب$ ،  $هـ$  علي استقامة واحده،

وكانت  $\Rightarrow (٤، ٢-)$ ،  $م (٣-، ٠)$

اوجد احداثي النقطة هـ .

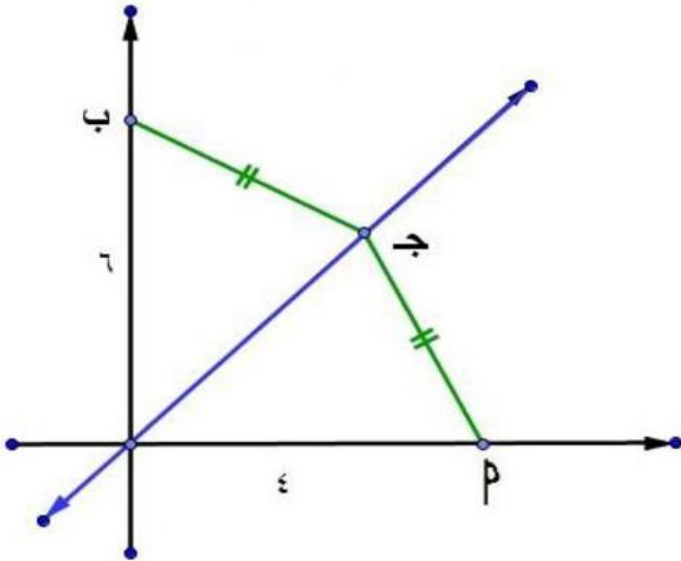


السؤال الثالث :

(١) اذا كانت مساحة  $\Delta$   $ب$  و  $ب = 9$  وحده مربعه،

↔

اوجد معادلة  $ب$ .



(٢) من الشكل المقابل :

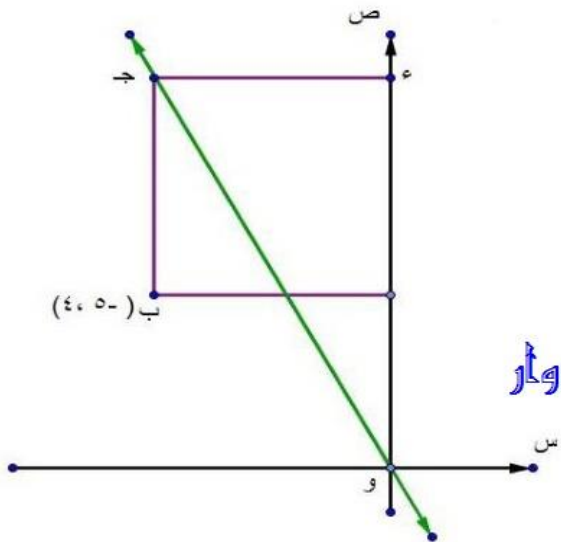
اذا كان  $ب = 4$  وحدة طول، و  $ب = 6$  وحدة طول

↔

، و  $ب$  معادلته هي  $ص = س$ ، اوجد احداثي النقطة  $ج$ .

السؤال الرابع :

(١) اذا كان ميل المستقيم  $م$   $س + م = م - ص - س - ٤$   $ص + ٥$  يساوي  $٢$  اوجد قيمة  $م$ .



(٢) اذا كان  $ب$   $ج$   $د$  مربع،

↔

أوجد معادله و  $ج$ .

منتصر زوجيه الرياضيات / عادل أبووار

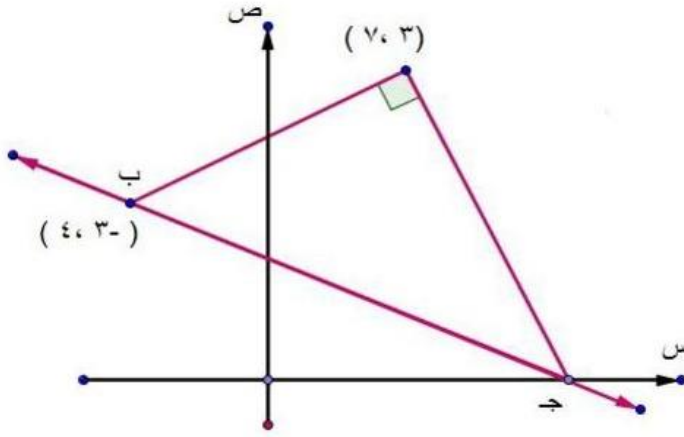


السؤال الخامس :

(١) اذا كان المستقيم المار بالنقطتين  $P(7, 4)$  ،  $B(-3, 2)$  عمودي علي

المستقيم  $(m+1)s + m - 5 = 0$

اوجد قيمة  $m$



(٢) اذا كان  $P(7, 3)$  ،  $B(-3, 4)$

↔

اوجد معادلة  $P$  →

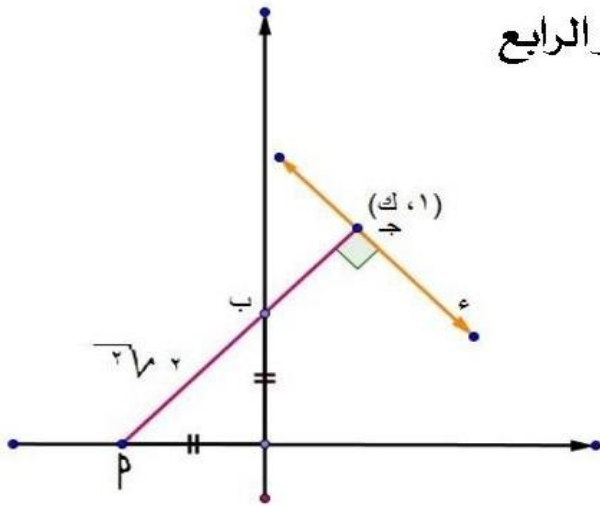
## الاختبار الرابع

السؤال الاول :

(١) من الشكل المقابل :

↔

أوجد معادلة ج د

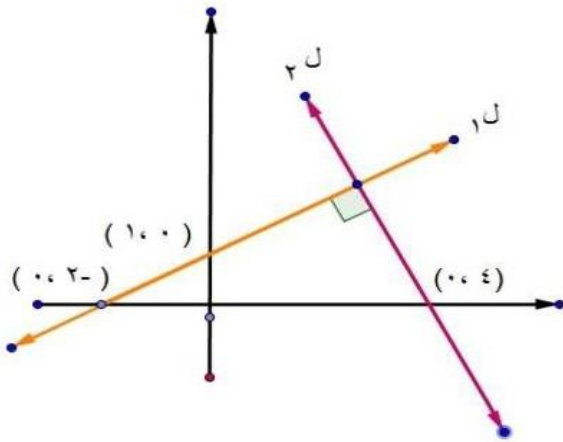
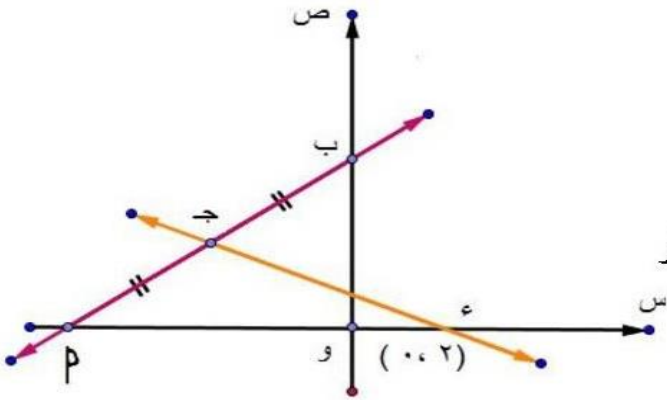


(٢) اذا كان معادله  $پ$  ب هي  $٢س - ٣ص + ١٢ = \text{صفر}$

وكانت ج منتصف  $پ$  ب

↔

أوجد معادلة ج د .



السؤال الثاني :

(١) اذا كان  $ل١ \perp ل٢$  ،

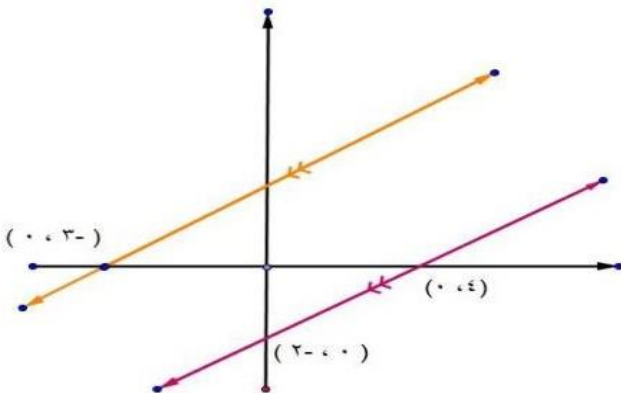
↔

أوجد معادلة ل٢

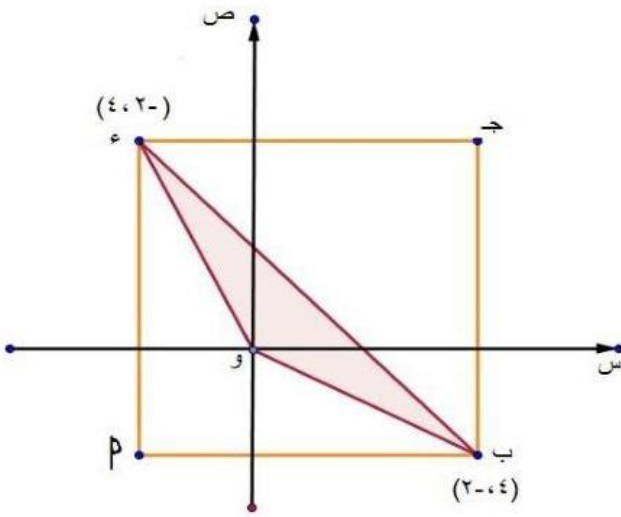
(٢) اذا كان  $ل١ // ل٢$  ،

↔

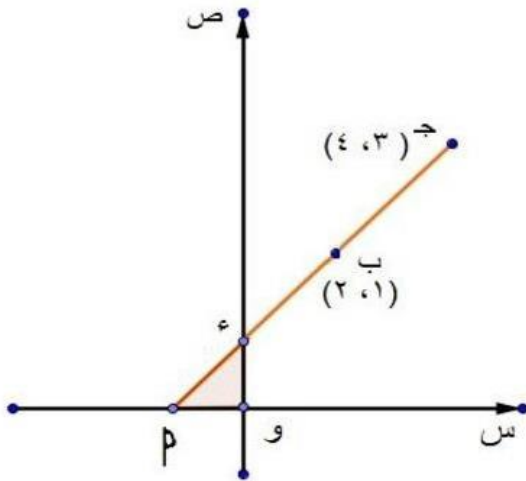
أوجد معادلة المستقيم ل١



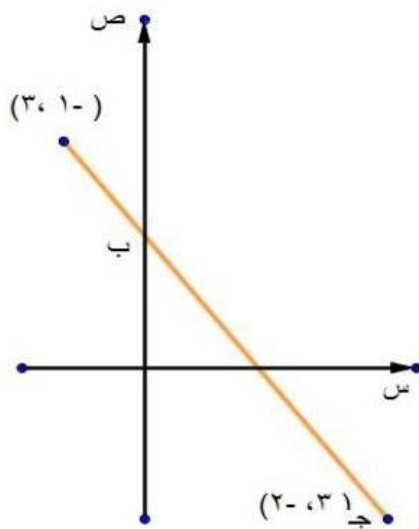
السؤال الثالث :



(١) من الشكل المقابل :-  
أوجد مساحة  $\Delta$  ب د و



(٢) من الشكل المقابل :  
أوجد مساحة  $\Delta$  ب و د .



السؤال الرابع :  
(١) من الشكل المقابل :  
أوجد إحداثي النقطه ب .

(٢) في الشكل المقابل

↔ إذا كان  $Q = (ب, ٠)$  ،  $P = (١, ٨) \in L$  ،

↔ اوجد معادله المستقيم  $L$

السؤال الخامس :

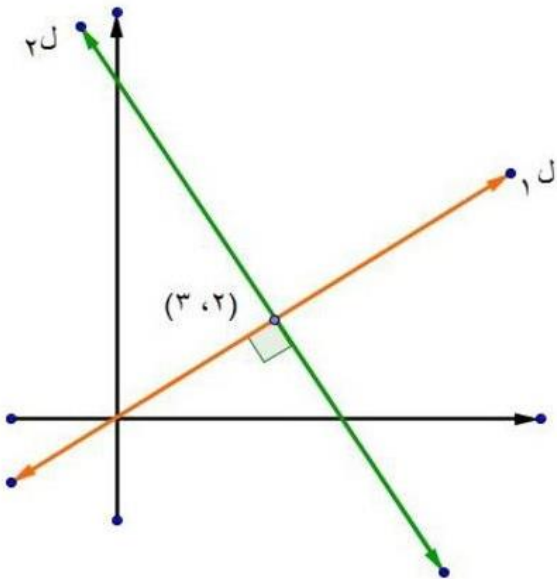
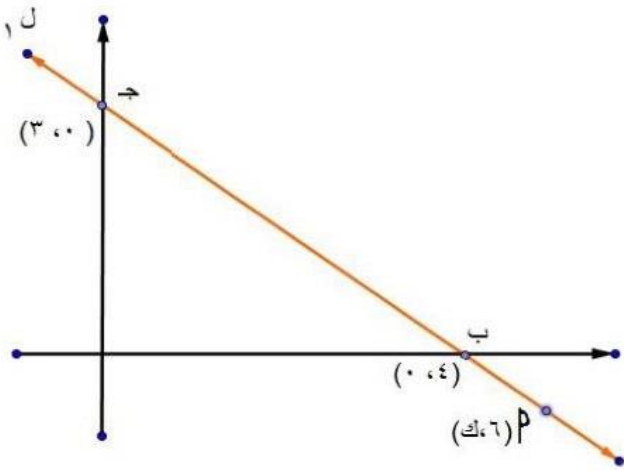
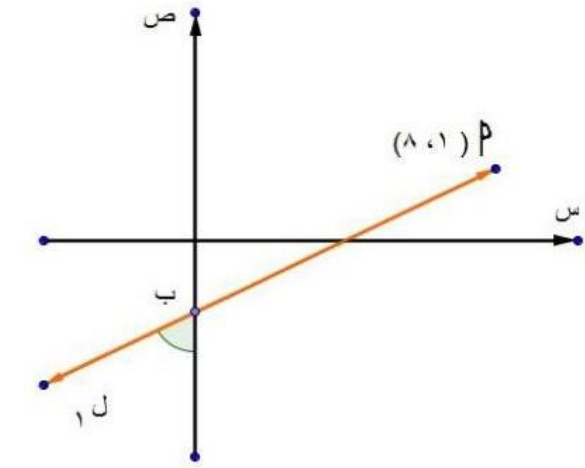
(١) في الشكل المقابل :

↔ إذا كان  $P \in L$

اوجد قيمة  $K$

(٢) من الشكل المقابل :

↔ اوجد معادلة المستقيم  $L_2$



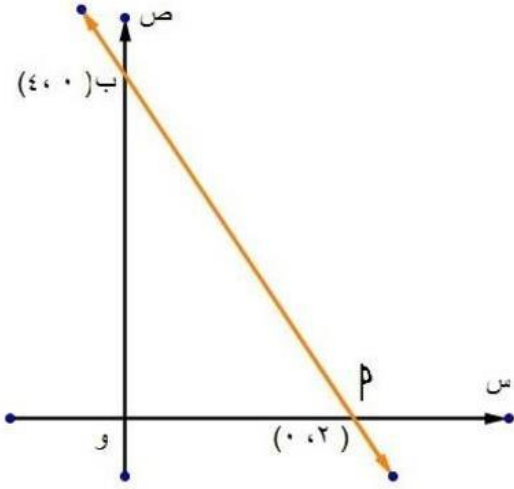
## الاختبار الخامس

السؤال الاول :

(١) في الشكل المقابل :

اذا كان المستقيم ل :  $s + ص + س = ٥$  صفر

اوجد قيمة  $s$  -

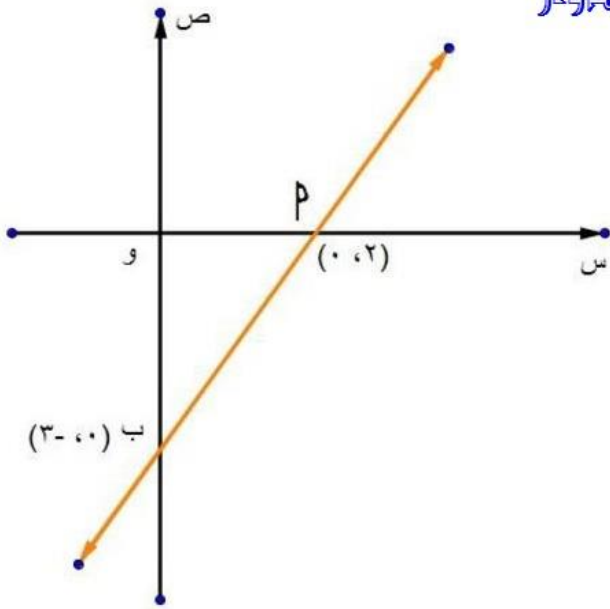


منهج زوجية الرياضيات / عادل أبووار

(٢) في الشكل المقابل :

اذا كان المستقيم ل :  $٣س + ص + s = ٥$  صفر

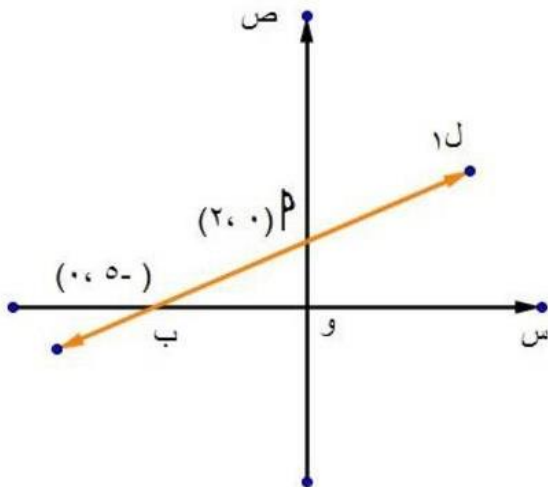
اوجد قيمة  $s$  .

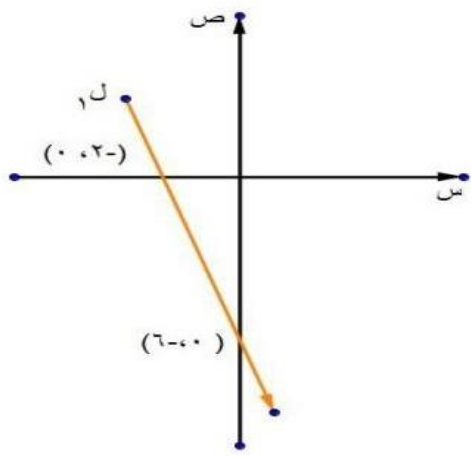


السؤال الثاني :

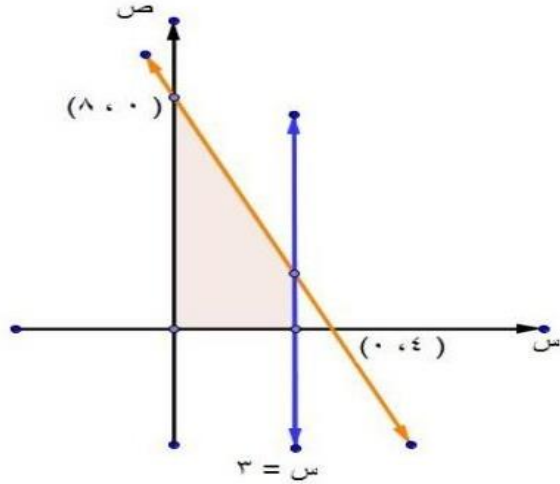
(١) اذا كانت النقطة (ك، ٤)  $\exists$  ل ،

اوجد قيمة ك





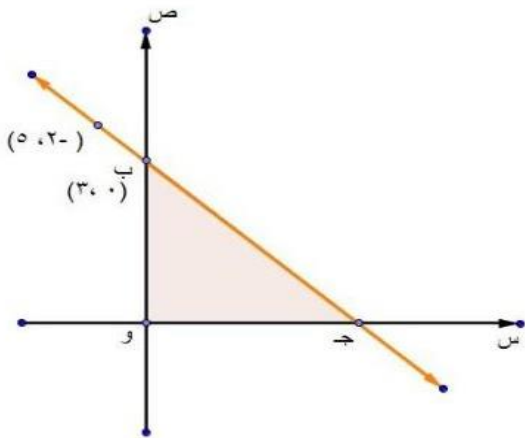
↔  
 ٢) اذا كانت النقطة  $P(ك + ٣, ك + ١)$   $\exists$  ل،  
 اوجد قيمة ك



السؤال الثالث :-

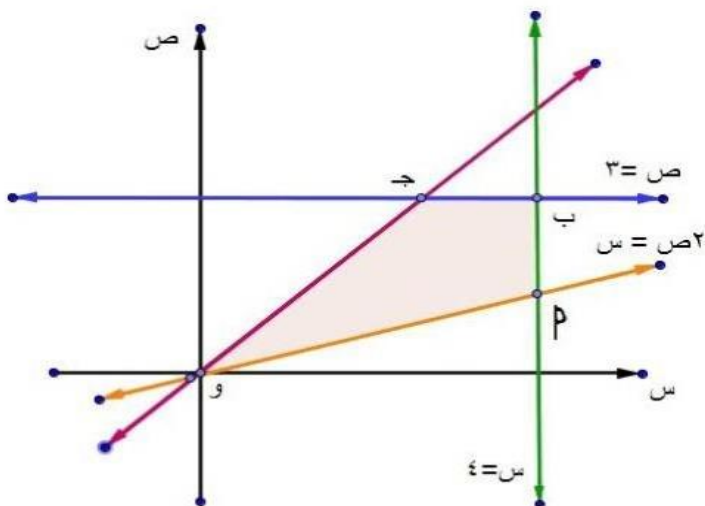
١) في الشكل المقابل :

اوجد مساحة الجزء المظلل



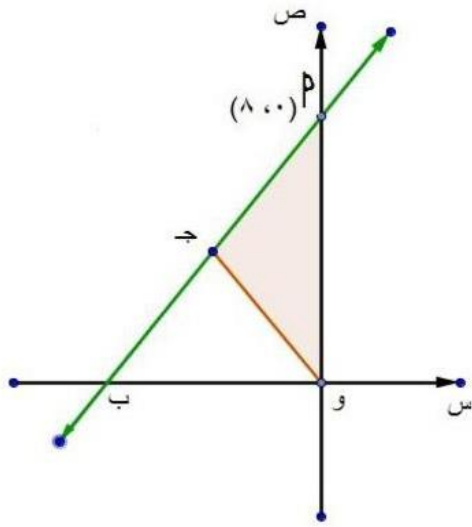
٢) في الشكل المقابل :

اوجد مساحة  $\Delta$  و ب ج



السؤال الرابع :

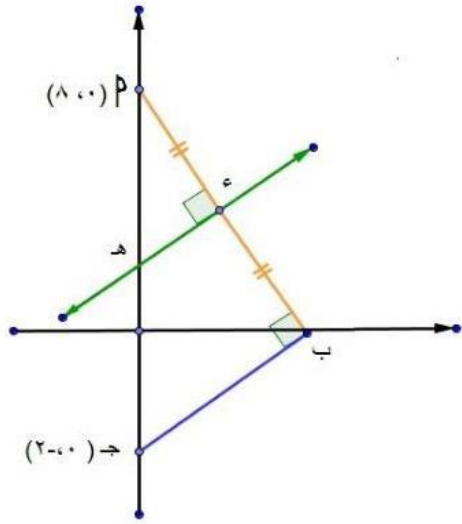
١) اوجد مساحة الشكل و ب ج



(٢) اذا كانت مساحة  $\Delta$   $OP$  و  $OP = 4$  وحده مربعه

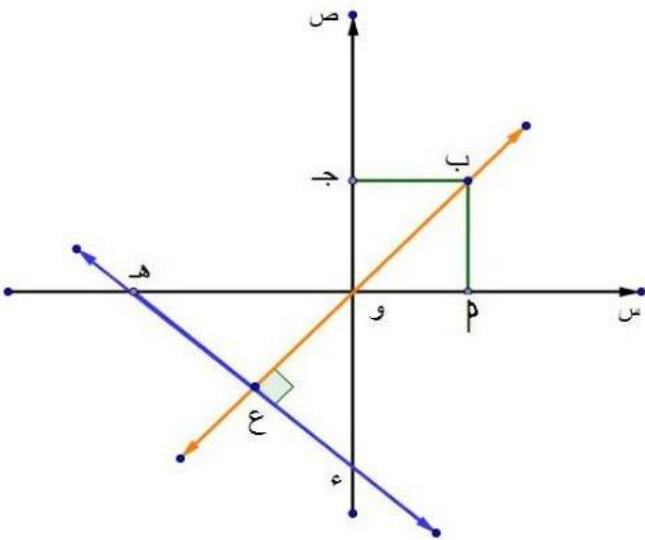
وكان  $OP = 3$

اوجد معادلة  $OP$



السؤال الخامس :

(٣) اوجد معادلة  $OP$



(٤) و  $OP$  مربع طول ضلعه ٢ وحده طول ،

و  $OP = 2\sqrt{3}$  وحده طول ،

ب ، و ، ع علي استقامة واحده

اوجد معادلة  $OP$

## الوحدة الرابعة: حساب المثلثات

### أمثلة على استراتيجيات حل المسائل

مثال (١):

بسبب الريح كسر الجزء العلوي لشجرة فصنع مع الأرض زاوية قياسها  $60^\circ$ ؛ فإذا كانت نقطة تلاقي قمة الشجرة بالأرض تبعد عن قاعدة الشجرة ٤ أمتار، فأوجد طول الشجرة لأقرب متر.

الحل:

فهم المشكلة:

ما المطلوب؟ ، ما المعطيات؟

خطة الحل:

كيف نحصل على طول الشجرة؟ ..... ماذا يفيدنا من المعطيات؟

التنفيذ:

$$\tan 60^\circ = \frac{أ}{٤}$$

$$\therefore أ = ٤ \tan 60^\circ$$

$$\therefore أ = ٤ \sqrt{3}$$

$$\therefore (أب)^2 = (أ-ج)^2 + (ب-ج)^2$$

$$٦٤ = ١٦ + ٤٨ =$$

$$أب = ٨ م$$

$$\therefore \text{طول الشجرة} = ٤ = \sqrt{3} + ٨ \approx ١٥ م$$

التحقق: تحقق من صحة الحل بالحل بطريقة أخرى.

تطبيق: إذا كان: أ ب سلم طوله ٤ أمتار يستند طرفه العلوي أ على حائط رأسي وطرفه ب على أرض أفقية وكانت زاوية ميل السلم على سطح الأرض  $60^\circ$ ، فأوجد طول أ ج حيث أ ج بُعد طرفه العلوي أ عن سطح الأرض.

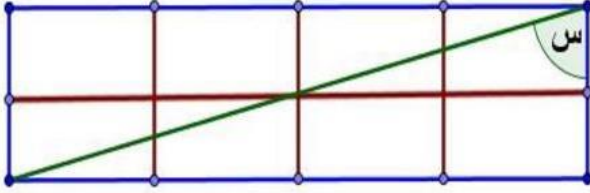


## الاختبار الاول

السؤال الاول: أكمل الجمل الرياضية الآتية :-

(١) جا ٣٠ جتا ٦٠ + جتا ٣٠ جا ٦٠ = .....

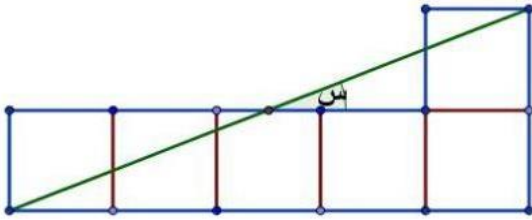
(٢) اذا كان جا (٢٠ + س) =  $\frac{1}{4}$  ، حيث س زاوية حادة فإن ق (س) = .....



(٣) الشكل المقابل مستطيل مقسم

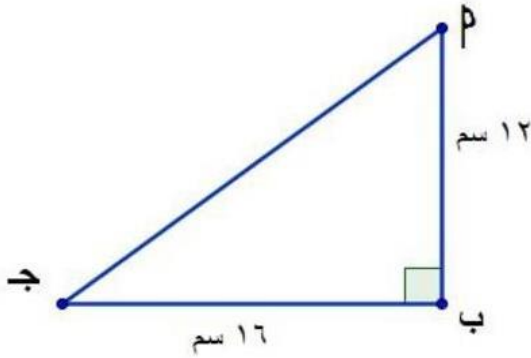
الي ثمانية مربعات متطابقة

طاس +  $\frac{1}{\text{طاس}}$  = .....



(٤) الشكل المقابل ستة مربعات متطابقة

طاس = .....



(٥) من الشكل المقابل

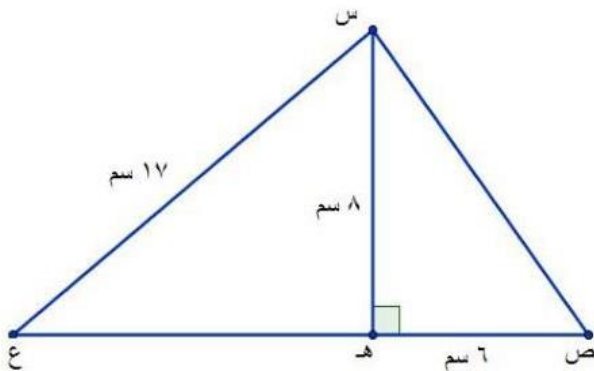
• جا  $\hat{P}$  + جا  $\hat{A}$  = .....

(٦)  $1 + \text{طا} = \hat{A}$  = .....

من الشكل المقابل

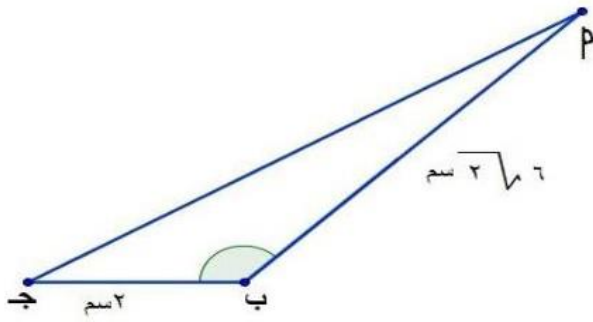
• جتا  $\hat{C}$  + جتا  $\hat{ص}$  = .....

•  $\text{طا} (\text{هـ س ص}) + \text{طا} (\text{هـ س ع}) = \dots$



## السؤال الثاني :-

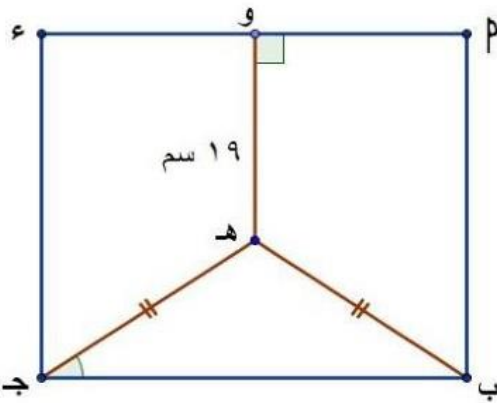
(١)  $\triangle PAB$  مثلث فيه  $PA = PB = 5$  سم ،  $AB = 6$  سم ، رسم  $AD \perp AB$  ج يقطعة في  $S$



$$\text{أوجد قيمة } \frac{\widehat{PAB} + \widehat{P} + \widehat{A}}{2} \text{ ج ا } 25 - 10 \text{ جتا ب}$$

(٢) من الشكل المقابل

إذا كان  $\widehat{C} = 135^\circ$  ، اوجد  $\widehat{A}$

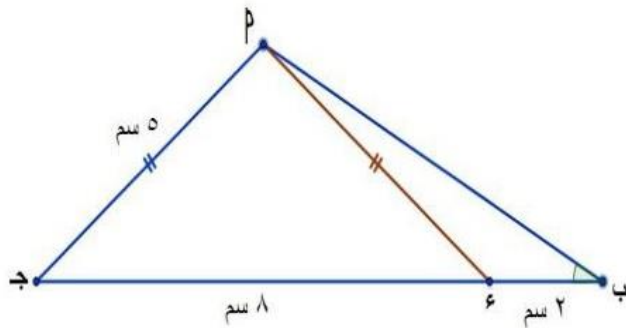


## السؤال الثالث :-

(١)  $\triangle ABC$  مربع طول ضلعه 24 سم

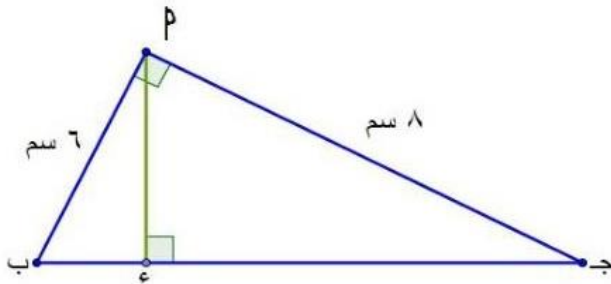
$$\text{إذا كان } \widehat{K} = \left[ \widehat{C} - \widehat{B} \right] \text{ ج ا } \left[ \widehat{C} - \widehat{B} \right]$$

أوجد قيمة ك .



(٢) من الشكل المقابل :-

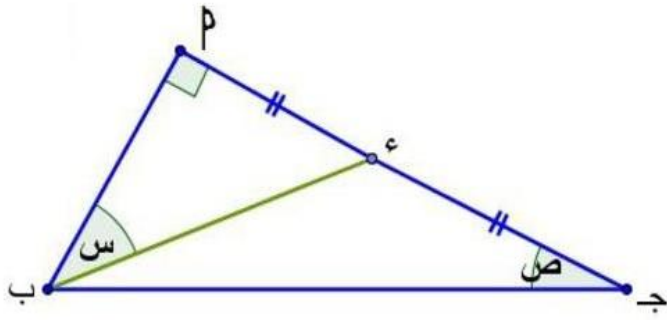
أوجد قيمة ج ا ب .



## السؤال الرابع :-

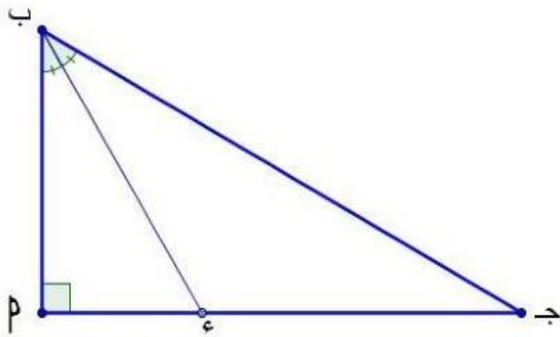
(١)  $\triangle PAB$  مثلث فيه  $\widehat{C} = 90^\circ$

$$\overline{AD} \perp \overline{PB} \text{ اوجد ج ا } \widehat{D}$$



(٢) اذا كان  $\angle B = 7^\circ$  سم،  $\angle J = 25^\circ$  سم،

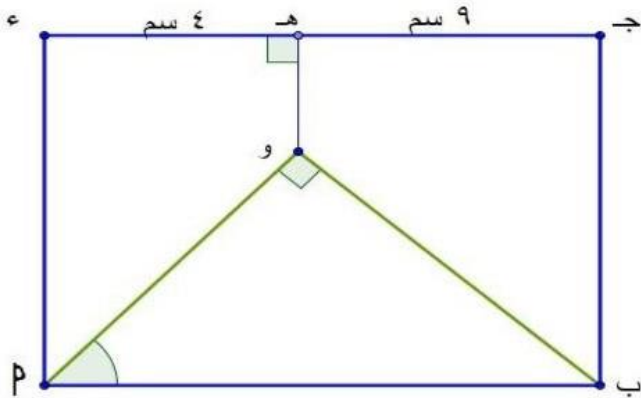
$$\frac{1}{\text{طاس}} + \frac{1}{\text{طاس}}$$



السؤال الخامس :-

(١) اذا كان  $\angle B = \frac{1}{2}$  وكان  $\angle J = 5^\circ$  سم.

أوجد محيط  $\triangle B P J$



(٢)  $\overline{B P}$  مستطيل، و  $\perp$  جد

،  $\perp$  و  $\overline{P B}$  او جد  $\widehat{P}$  .

## الاختبار الثاني

### السؤال الاول :-

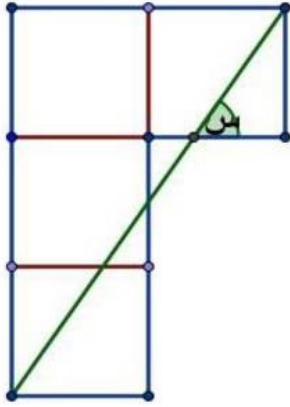
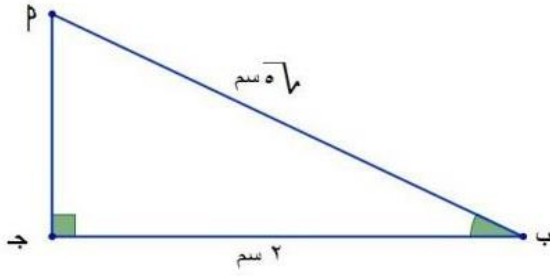
اختر الاجابة الصحيحة من بين الاجابات المعطاه :-

(١) ٢ طاب = .....

$$\left( \frac{2}{\sqrt{5}}, \frac{1}{2}, 1, 2 \right)$$

(٢) الشكل المقابل أربعة مربعات متطابقة

طاس = .....  $\left( \frac{5}{2}, \frac{2}{5}, \frac{3}{2}, \frac{2}{3} \right)$



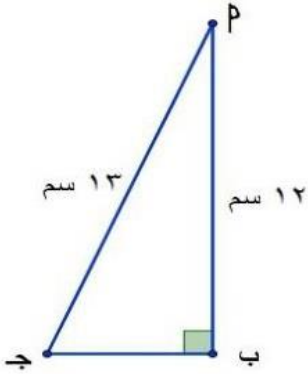
(٣) جا ٣٠ + جتا ٦٠ = .....  $\left( \frac{\sqrt{3}+1}{2}, \sqrt{3}, 2\sqrt{3}, 1 \right)$

(٤) جا ٦٠ - جتا ٢٠ = .....  $\left( \frac{\sqrt{3}}{2}, \frac{\sqrt{3}-1}{2}, \frac{\sqrt{3}-2}{2}, \sqrt{3} \right)$

(٥) من الشكل المقابل

جتا ج - جتا ب = .....

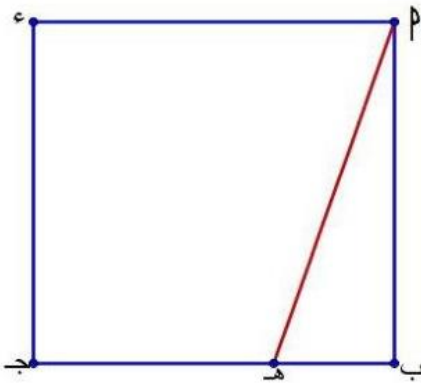
$$\left( \frac{5}{13}, \frac{7}{13}, \frac{5}{13}, \frac{7}{13} \right)$$



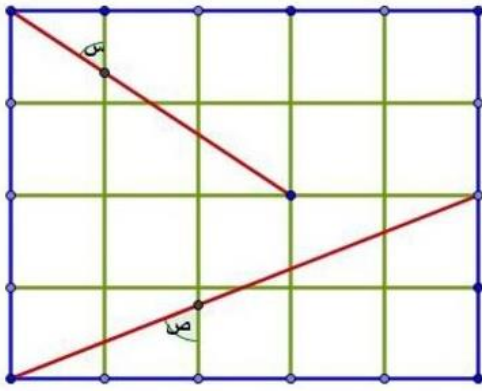
(٦)  $\overline{PB}$  د مربع فية ه  $\exists$  ب ج ،

$\frac{1}{3} = \frac{ب ه}{ب ج}$  فإن طا (ه س) = .....

$$\left( 3, \frac{3}{10\sqrt{2}}, \frac{1}{10\sqrt{2}}, \frac{1}{3} \right)$$

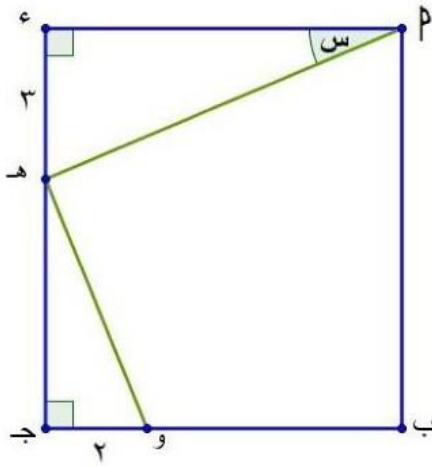


## السؤال الثاني :-



(١) الشكل المقابل مستطيل مقسم الي ٢٠ مربعا متطابقا

$$\frac{1}{\text{طا ص}} + \text{طا ص}$$

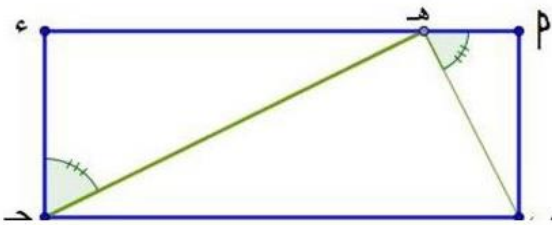


ا ب ج د مربع، ه د ج ه، و د ب ج ه،  $\overline{ا ب} \perp \overline{ا ج}$  و

$$ا ه = ٣ \text{ سم، و ج ه} = ٢ \text{ سم}$$

أوجد طا ص

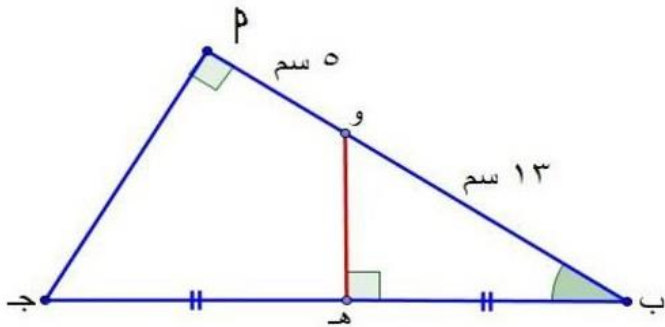
## السؤال الثالث :-



(١) ا ب ج د مستطيل فيه  $ا ه > ه د$ ،  $ا ب = ٢ \text{ سم}$

$$ا ج = ٥ \text{ سم}$$

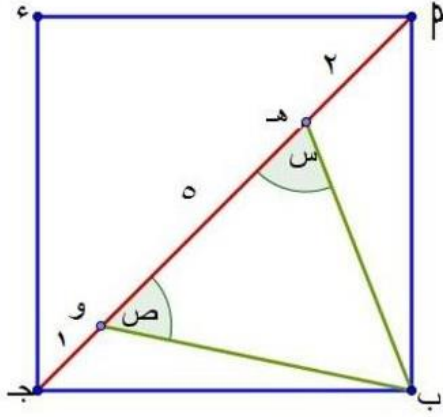
أوجد طا (ج ه د)



(٢) من الشكل المقابل :-

أوجد طا ب .

السؤال الرابع :-

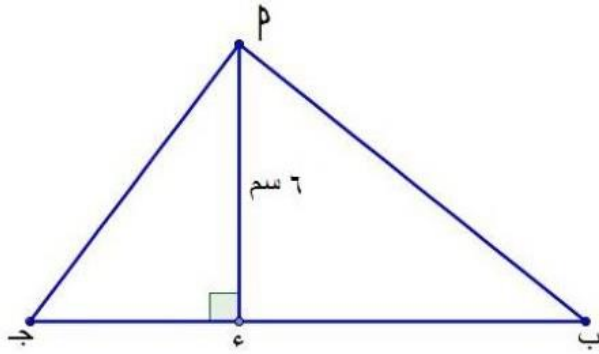


(١)  $\triangle ب ج د$  مربع فية هـ، و  $\exists \overline{م ج}$ ،

اوجد قيمة  $\angle ط اس + \angle ص$

(٢) اذا كان  $\angle س$  زاوية حاده اوجد قيمة  $\angle س$  التي تحقق :

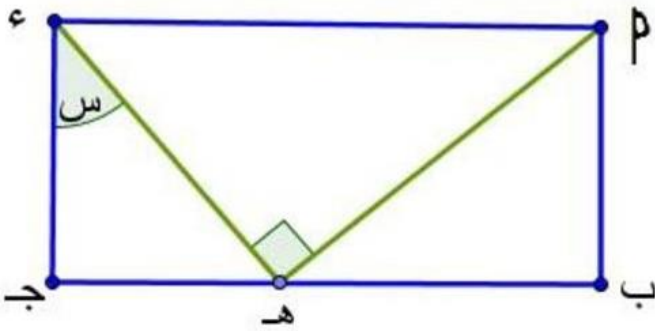
$$\angle ط اس جا 60^\circ = 3^\circ جا 45^\circ \text{ جتا } 45^\circ جا 30^\circ$$



السؤال الخامس :-

(١) اذا كان  $\angle ب ج = 12^\circ$  سم،

اوجد قيمة  $\frac{1}{\angle ط اب} + \frac{1}{\angle ط اج}$



(٢)  $\triangle ب ج د$  مستطيل،  $\angle ق (د هـ ب) = 90^\circ$ ،

كان  $\angle هـ ب د = 12^\circ$  اوجد جتا  $\angle س$

## الاختبار الثالث

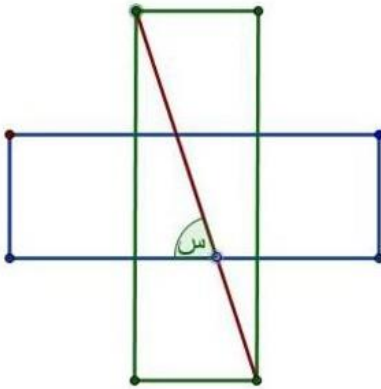
### السؤال الاول :-

اختر الاجابة الصحيحة من بين الاجابات المعطاه :-

$$(1) \quad \left( \frac{3\sqrt{2}}{2}, \frac{2\sqrt{2}}{2}, \sqrt{2}, -1 \right) \dots = \frac{1}{30\text{طا}} - 60\text{طا} + 45\text{جتا} 3 - 45\text{جا} 2 \quad (1)$$

$$(2) \quad \left( 2, \frac{3}{2}, \frac{5}{2}, \frac{5}{2} \right) \dots = 45\text{طا} + \frac{45\text{جا} x \text{جتا} 45}{45\text{طا}} \quad (2)$$

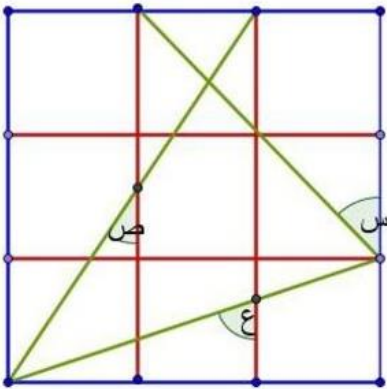
$$(3) \quad \left( \frac{1}{2}, 0, 1, 2 \right) \dots = (30\text{جتا} + 30\text{جا}) (45\text{طا} - 60\text{طا}) \times 2 \quad (3)$$



(4) في الشكل المقابل

خمسة مربعات متطابقة

$$\text{فإن طاس} = \left( \frac{1}{3}, 3, \frac{1}{2}, 2 \right) \dots$$



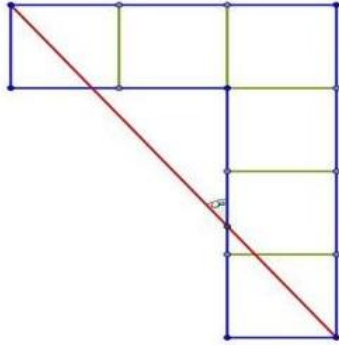
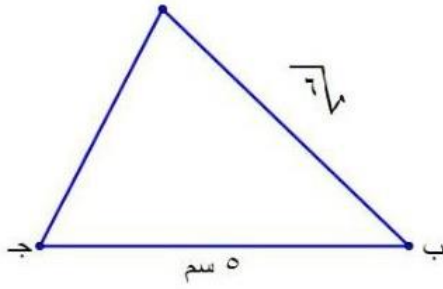
(5) من الشكل المقابل

$$\text{طاس} + \text{طاص} - \text{طاع} = \dots$$

$$\left( \frac{8}{3}, \frac{4}{3}, \frac{4}{3}, \frac{8}{3} \right)$$

(6) اذا كان طا = (س + 10) ، حيث س زاوية حادة فإن ق (س) = .....

(8, 7, 6, 5)



السؤال الثاني :-

(1) إذا كان جاب  $\frac{\sqrt{34}}{3}$  ،

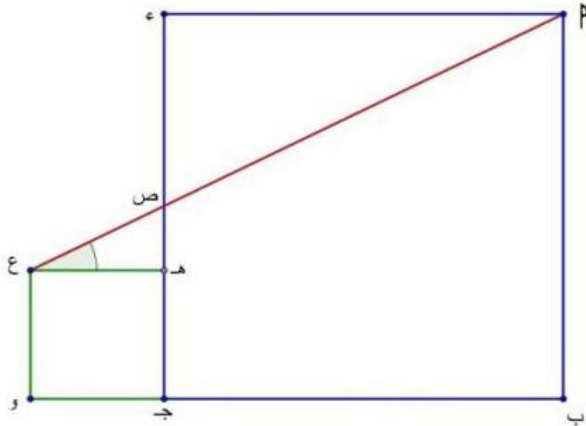
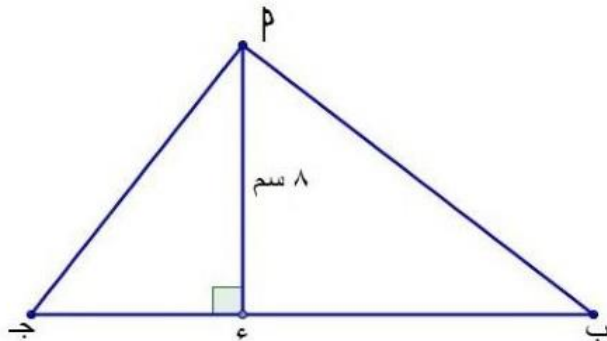
أوجد طول  $\overline{P}$  →

(2) في الشكل المقابل :-

ستة مربعات متطابقة ،

أوجد جتاس .

### منهج زوجية الرياضيات / عادل أبووار



السؤال الثالث :-

(1) إذا كان  $\frac{3}{2} = \frac{1}{\text{جاب}} + \frac{1}{\text{طاج}}$  ،

أوجد طول  $\overline{P}$  ج

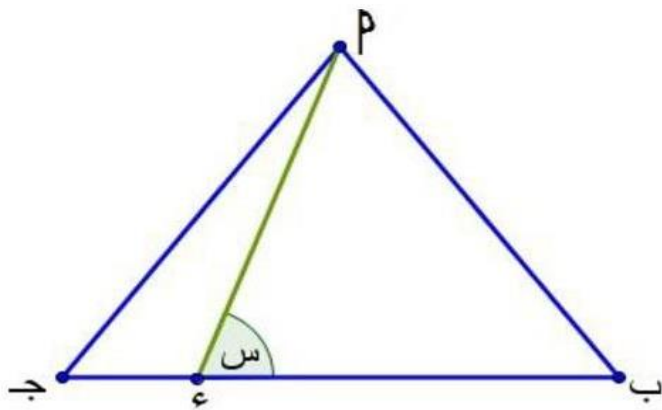
(2)  $P$  ج د مربع ، هـ ج و ع مربع ،

$P$  ب = 12 سم ، ج و = 4 سم

أوجد طا (  $\widehat{P}$  ع هـ )



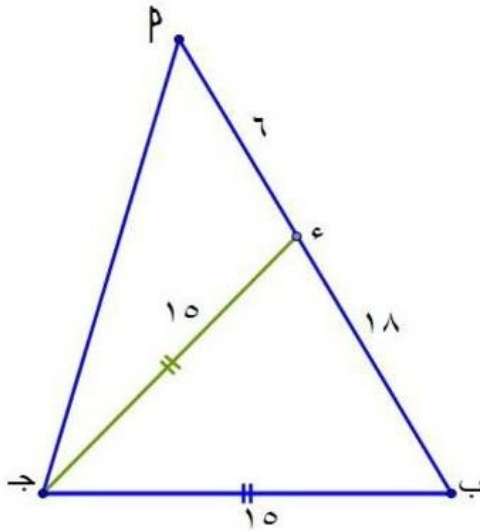
السؤال الرابع :-



(١)  $P \rightarrow$  مثلث متساوي الاضلاع ،

٤ دج = ٣ د ب ،

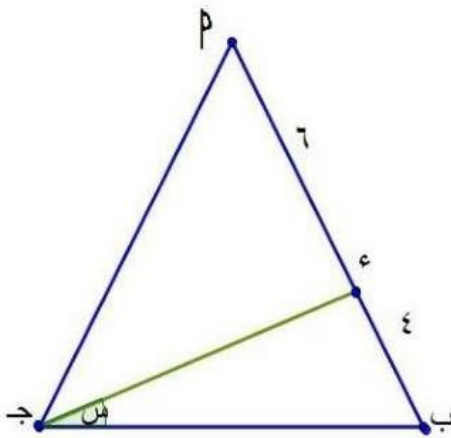
أوجد  $\widehat{P}$  ( د ب )



(٢) من الشكل المقابل :-

أوجد  $\widehat{P}$  ( ب  $\rightarrow$  )

السؤال الخامس :-



(١)  $P \rightarrow$  مثلث متساوي الاضلاع ،

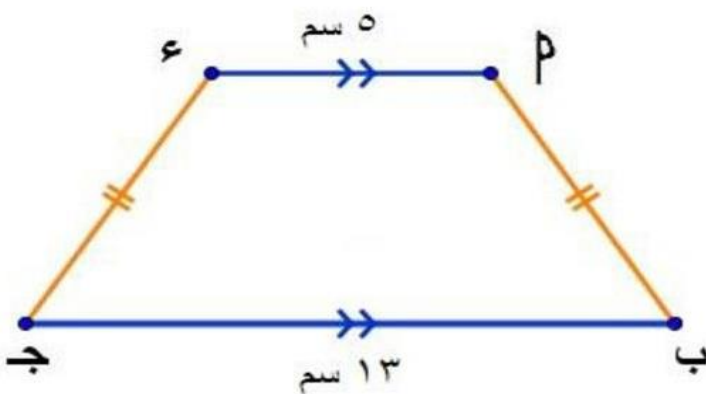
أوجد طاس .

(٢) الشكل المقابل :-

$P \rightarrow$  شبه منحرف فيه  $\overline{PE} \parallel \overline{DE}$  ،

$P = ٤٠$  دج ، أوجد جتا ب ،

جا ج + طا ب



## الاختبار الرابع

### السؤال الاول :-

اكمل الجمل الرياضية الاتية ( بدون استخدام الحاسبة ) مع كتابه خطوات الحل .

$$(7) \text{ جا } 30^\circ \text{ جتا } 45^\circ + \text{جتا } 60^\circ = \dots\dots\dots$$

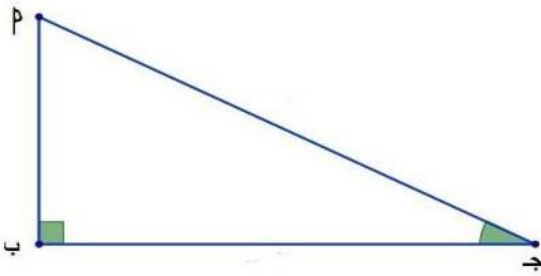
$$(8) \text{ جا } 30^\circ + \text{جتا } 45^\circ + \text{جتا } 60^\circ = \dots\dots\dots$$

$$(9) \text{ اذا كان جتا } (7 \text{ س} + 4) = \frac{1}{4}, \text{ حيث س زاوية حادة فإن ق (س)} = \dots\dots\dots$$

$$(10) \text{ جا } 30^\circ + \text{طا } 45^\circ - 9 \text{ جتا } 60^\circ = \dots\dots\dots$$

$$(11) 2 \text{ جا } 30^\circ \text{ جتا } 30^\circ - \text{جا } 60^\circ = \dots\dots\dots$$

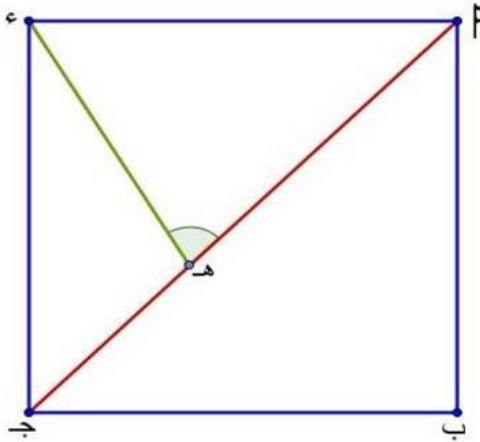
$$(12) \dots\dots\dots = \frac{\text{طا } 30^\circ - \text{طا } 60^\circ}{\text{طا } 30^\circ \times \text{طا } 60^\circ + 1}$$



### السؤال الثاني :-

(1) في الشكل المقابل اذا كان  $\theta = 30^\circ$  ،

أوجد قيمة  $\frac{\text{جا } \theta}{\text{طا } \theta} + 1$  .



(2)  $\theta$  ب ج د مربع

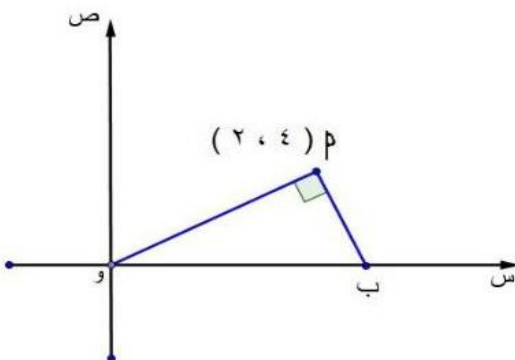
اذا كان  $\theta = 30^\circ$  هـ جـ

أوجد طا (  $\theta$  هـ د )

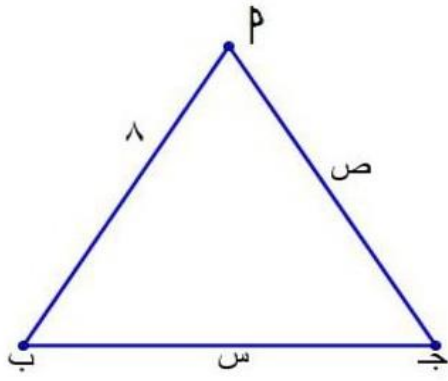
### السؤال الثالث :-

(1) من الشكل المقابل :-

أوجد قيمة طا (  $\theta$  ب و )



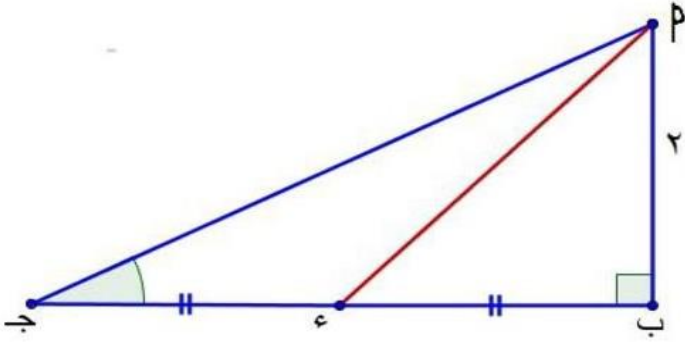
(٢) من الشكل المقابل :-



أوجد قيمة  $\sin$  جتا  $\hat{پ}$

السؤال الرابع :-

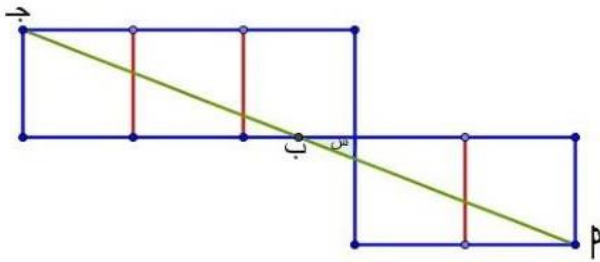
(١) من الشكل المقابل :-



ق (  $\hat{پ}$  ج ب ) =  $30^\circ$

أوجد قيمة جا (  $\hat{پ}$  ب )

(٢) الشكل المقابل :-



سته مربعات متطابقة ،

النقط  $\hat{پ}$  ، ب ، ج علي استقامة واحده

أوجد طا س .

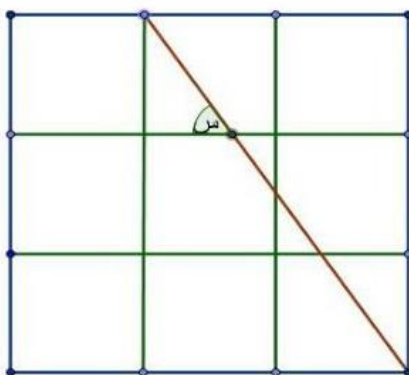
السؤال الخامس

(١) اذا كان  $\sin \theta \in [0, \frac{1}{2}]$  ، كان جا  $2\theta = \frac{4}{5}$  ، أوجد قيمة طا س .

في الشكل المقابل

تسعة مربعات متطابقة

أوجد جتا س .



## إختبارات عامة

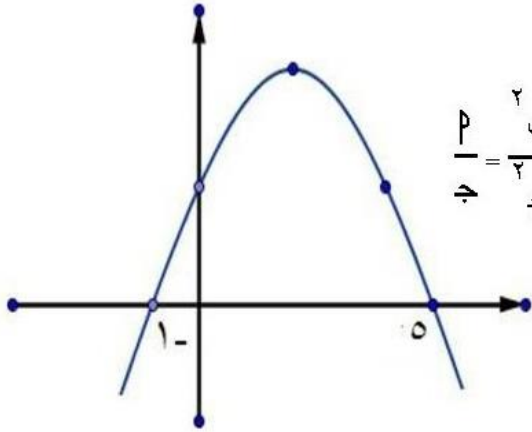
### اولا : الجبر

#### الاختبار الاول

السؤال الاول : اختر الاجابة الصحيحة من بين الاقواس .

- ا) الرابع متناسب للكميات ٢٢ ، ٨ ، ٢ ، .....  
 (١ ، ٢ ، ٤ ، ١) ، (١ ، ٤ ، ٢ ، ١) ، (١ ، ٤ ، ٢ ، ١) ، (١ ، ٤ ، ٢ ، ١)
- ب) اذا كانت ص لاس وكانت س = ٤ عندما ص = ١.٥ فإن ثابت التغير يساوي .....  
 (١ ، ٢ ، ٣ ، ٤) ، (١ ، ٢ ، ٣ ، ٤) ، (١ ، ٢ ، ٣ ، ٤) ، (١ ، ٢ ، ٣ ، ٤)
- ج) اذا كان ع دالة من س الي ص حيث س = {١ ، ٥ ، ٧} ، ص = {٣ ، ٥} ، وكانت ع = { (٣ ، ١) ، (٣ ، ٥) ، (٣ ، ١) } فإن .....  
 (١ ، ٢ ، ٣ ، ٤) ، (١ ، ٢ ، ٣ ، ٤) ، (١ ، ٢ ، ٣ ، ٤) ، (١ ، ٢ ، ٣ ، ٤)
- د) اذا كانت د (س) = ٣ س + ك وكان د (٢) = ١٠ فإن ك = .....  
 (١ ، ٢ ، ٣ ، ٤) ، (١ ، ٢ ، ٣ ، ٤) ، (١ ، ٢ ، ٣ ، ٤) ، (١ ، ٢ ، ٣ ، ٤)
- هـ) اذا كان  $\frac{6}{5} = \frac{p}{b}$  ، فإن  $\frac{b+p}{b-p} = \dots\dots\dots$   
 (١ ، ٢ ، ٣ ، ٤) ، (١ ، ٢ ، ٣ ، ٤) ، (١ ، ٢ ، ٣ ، ٤) ، (١ ، ٢ ، ٣ ، ٤)
- و) المدى لمجموعة القيم ٥ ، ١٠ ، ٣ ، ٨ ، ٤ هو .....  
 (١ ، ٢ ، ٣ ، ٤) ، (١ ، ٢ ، ٣ ، ٤) ، (١ ، ٢ ، ٣ ، ٤) ، (١ ، ٢ ، ٣ ، ٤)

### السؤال الثاني :



$$\frac{p}{q} = \frac{\frac{2}{b} + \frac{2}{p}}{\frac{2}{q} + \frac{2}{b}}$$

ا) اذا كان ب وسط متناسب بين ٢ ، ج اثبت ان

ب) الشكل المقابل يمثل منحنى الدالة

ص = د (س) اوجد قيمة  $\frac{d(8)}{d(-4)}$

### السؤال الثالث :

- ا) مثل بيانيا منحنى الدالة د (س) = (٣ - س)² : س ∈ [٠ ، ٦] ومن الرسم استنتج القيمة العظمى أو الصغرى للدالة .
- ب) اذا كانت ص تتغير عكسيا مع س وكانت ص = ٣ عندما س = ٨ أوجد اولاً العلاقة بين ص ، س ثانياً قيمة س عندما ص = ٦

### السؤال الرابع :

ا) اذا كان  $\frac{4}{3} = \frac{س}{ص}$  ، اوجد قيمة النسبة  $\frac{5س-٢}{٣س+٢}$

- ب) اذا كانت س = {١ ، ٢ ، ٣ ، ٤ ، ٥} وكانت ع علاقة علي س حيث ا ع ب تعني أن ٥ = ب + ا اكتب بيان ع وهل ع دالة ؟ ولماذا ؟

### السؤال الخامس :

١) اذا كان  $(س - ٣ ، ٢س + ص) = (١ ، ٥)$  أوجد قيمة كل من  $س ، ص$   
ب) الجدول التكراري التالي يبين عدد اطفال بعض الاسر في احدي المدن اوجد الانحراف المعياري لعدد الاطفال :

عدد الاطفال	٠	١	٢	٣	٤	٥
عدد الاسر	٣	١٦	١٧	٢٥	٢٠	١٩

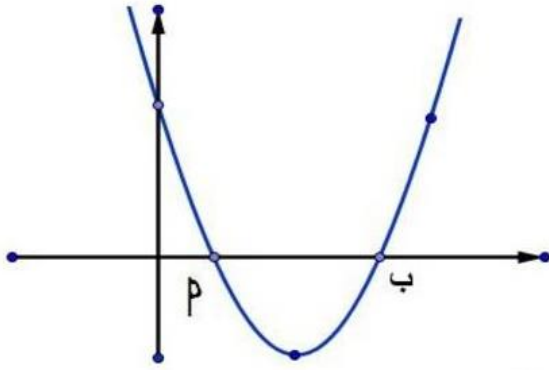
منتخب زوجه الرياضيات أ / عادل أبووار

## الاختبار الثاني

### السؤال الاول اكمل الجمل الرياضية الاتيه لتصبح العبارة صحيحة .

- ا) اذا كانت  $s = \{3, 4\}$  ،  $v = \{5, 3\}$  فإن  $s \times v = \dots\dots\dots$   
 ب) الدالة  $d : (s) = 5$  تقطع محور الصادات في النقطة  $\dots\dots\dots$   
 ج) اذا كان  $(p + 2, 27) = (7, b)$  فإن  $p - b = \dots\dots\dots$   
 د) اذا كان  $\frac{p}{5} = \frac{2}{b}$  فإن قيمة النسبة  $\frac{p+2}{b-3} = \dots\dots\dots$   
 هـ) من المصادر الثانوية لجمع البيانات  $\dots\dots\dots$   
 و) اذا كان  $\frac{p}{5} = \frac{3}{s}$  فإن قيمة النسبة  $\frac{p+2}{b-3} = \dots\dots\dots$

### السؤال الثاني :



ا) اذا كان  $b$  وسط متناسب بين  $p$  ، جـ اثبت  $\frac{p}{b} = \frac{b+p}{b+p}$

ب) الشكل المقابل يمثل منحنى الدالة  
 د (س) =  $s^2 - 6s + k$  وكان  $p = 4 = s$   
 اوجد قيمة  $k$  .

### السؤال الثالث :

ا) مثل بيانيا الدالة  $d : (s) = 4 - s^2$  :  $s \in [3, 3]$  ومن الرسم اوجد معادلة محور التماثل واستنتج القيمة العظمى او الصغرى للدالة  
 ب) اذا كان  $s \times v = \{(5, 3), (1, 3), (1, 6), (5, 6)\}$  اوجد كلامن  $s, v$  .

### السؤال الرابع :

ا) اذا كان  $p \times b = (p^2 + b^2)$  ، اثبت ان  $p \times b = \dots\dots\dots$   
 ب) اذا كانت  $s = \left\{ \frac{1}{3}, \frac{1}{4}, 1, 2, 3 \right\}$  وكانت  $e$  علاقة علي  $s$  حيث  $p \in b$  تعني ان  $b$  هي المعكوس الضربي للعدد  $p$  ، اكتب بيان  $e$  ومثلها بمخطط سهمي وهل  $e$  دالة؟ ولماذا؟

### السؤال الخامس :

ا) اذا كانت  $s \times \sqrt[3]{s} = 15$  وكانت  $v = 27$  ، اوجد العلاقة بين  $v, s$  ،  
 ثم اوجد قيمة  $v$  عندما  $s = 1000$  .  
 ب) التوزيع التكراري التالي يوضح عدد الاهداف التي سجلت في عدد المباريات لكرة القدم .

عدد الاهداف	صفر	١	٢	٣	٤	٥	٦
عدد المباريات	١	٤	٦	٩	٥	٣	٢

## الاختبار الثالث

### السؤال الاول اختر الاجابة الصحيحة من بين الاقواس :

- ١) اذا كان  $(٥, ٣) \in \{٥, ٣\} \times \{٦, ٣\}$  فإن س = ..... (٣, ٥, ٦, ٨)
- ٢) اذا كانت النقطة  $(٥, ٢)$  تقع على محور الصادات فإن  $٢ + ٢ =$  ..... (٧, ٥, ٢, ٠)
- ٣) الرابع المتناسب للكميات ٣, ١٢, ٩ هو ..... (١, ٢, ٤, ٦)
- ٤) اي من العلاقات الاتية تمثل تغير عكسيا بين المتغيرات س, ص ؟

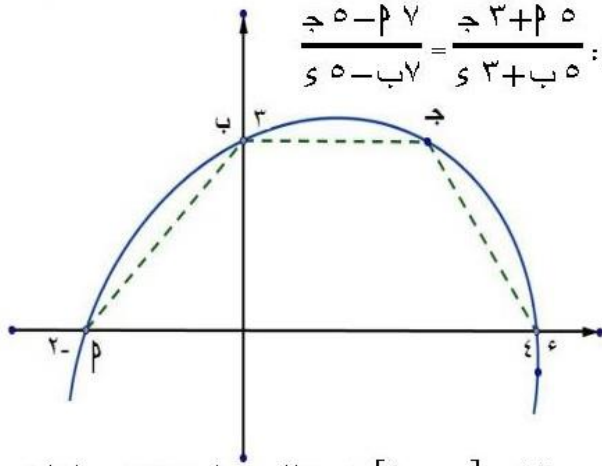
$$(ص = ٢س, ص = ٢ + ٥س, \frac{٣}{٥} = \frac{س}{ص}, س = ٥ - ص)$$

٥) اذا كانت دالة حيث  $د(س) = ٣س - ١٢$  يمثلها بيانيا مستقيم يقطع محور السينات في النقطة

$$((٣, ٤), (٠, ٤), (٤, ٣), (٠, ٣))$$

٦) المدى لمجموعة القيم ٧, ٤, ٩, ٥, ١٣ هو ..... (٥, ٩, ٧, ٦)

### السؤال الثاني :



١) اذا كان  $س, ب, ج$  كميات متناسبة اثبت ان :  $\frac{٥ - ٢ص}{٥ - ٢ب} = \frac{٣ + ٢س}{٣ + ٢ج}$

٢) الشكل المقابل يمثل منحنى الدالة

ص = د(س) ، اوجد مساحة الشكل  $٢بج$  .

### السؤال الثالث :

١) ارسم الشكل البياني للدالة  $د(س) = ٢س - ٤س + ٣$  في  $[٠, ٤]$  ومن الرسم استنتج معادلة محور التماثل والقيمة العظمى او الصغرى للدالة .

٢) اذا كانت  $س = ٤ + ٨$  ، تتناسب عكسيا مع ص ، كانت  $ع = ٢$  عندما  $ص = ٣$  اوجد قيمة ص عندما  $ص = ٣$

### السؤال الرابع :

١) اذا كان  $\frac{٢}{٣} = \frac{ب}{٥} = \frac{٢}{٣}$  اوجد قيمة ك .

٢) اذا كانت  $س = \{٣, ٤, ٥, ٧\}$  ، ص =  $\{٧, ٩, ١٠, ١١, ١٥\}$  وكانت ع علاقه من س الي ص حيث  $٢ع ب$

تعني ان  $b = 2 + 1$  الكل  $\exists P$  س ، ب  $\exists$  ص اكتب بيان ع ومثلها بمخطط سهمي وهل ع دالة ؟ ولماذا ؟  
وان كانت دالة اذكر مداها ؟

### السؤال الخامس :

أ) اوجد العدد الذي اذا اضيف الي حدي النسبة ٧ : ١١ فإنها تصبح ٢ : ٣

ب) اوجد الانحراف المعياري للقيم الاتية ١٢ ، ١٣ ، ١٦ ، ١٨ ، ٢١

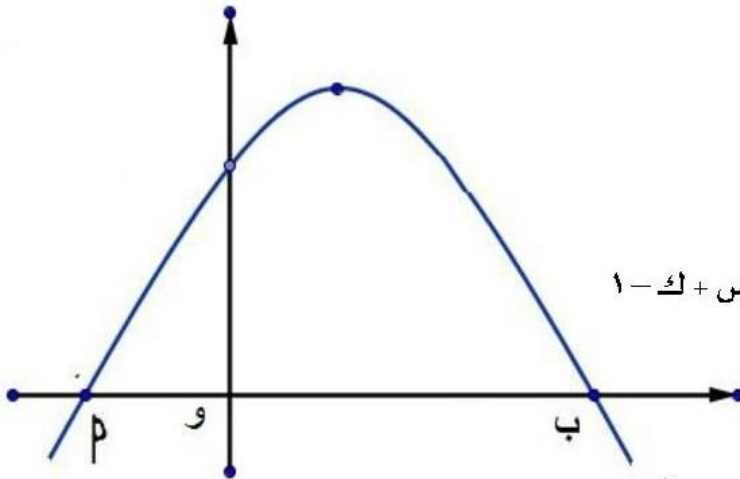


## الاختبار الرابع

### السؤال الاول اختر الاجابة الصحيحة من بين الاقواس :

- ١) اذا كان منحنى الدالة د : د(س) = س<sup>2</sup> - ٢ يمر بالنقطة (١ ، ٠) فإن قيمة ٢ = ..... (١ ، -١ ، صفر ، ١ ± )
- ٢) اذا كانت النقطة (٥ ، ٣) تقع على محور السينات فإن ب = ..... (٢ ، ٣ ، ٤ ، ٥)
- ٣) اذا كان ٣ = د(س) ، ٣ = ٣(س × ص) = ١٥ فإن ن(ص) = ..... (٢ ، ٣ ، ٤ ، ٥)
- ٤) الثالث المتناسب للاعداد ٦ ، ١٨ هو ..... (٢ ، ٣ ، ٤ ، ٥)
- ٥) اذا كان  $\frac{٥}{٤} = \frac{٢}{ب}$  فإن  $\frac{ب+٢}{ب-٢} =$  ..... (٤ ، ٥ ، ٩ ، ١)
- ٦) اذا كانت الدالة د : د(س) = ٣ - ٢ س يمثلها خط مستقيم يقطع محور الصادات في النقطة .....  
 { (٠ ، ٢) ، (١ ، ٢) ، (٢ ، ١) ، (٢ ، ٠) }

### السؤال الثاني :



$$١) \text{ اذا كانت } \frac{س+ع}{٨} = \frac{ع+ص}{٥} = \frac{ص+س}{٧}$$

$$\text{ فاثبت ان } ٥ = \frac{ع+ص+س}{ع-س}$$

- ٢) الشكل المقابل للدالة د : د(س) = س<sup>2</sup> + ٤س + ك - ١ وكان و = ٥ و ٢ = اوجد قيمة ك .

### السؤال الثالث :

- ١) ارسم الشكل البياني للدالة د : د(س) = ٢س - س<sup>2</sup> : س ∈ [١ - ٢] ومن الرسم اوجد معادلة محور التماثل والقيمة العظمى أو الصغرى للدالة

- ٢) اذا كانت ص × وكانت ص = ٢١ عندما س = ٧ اوجد قيمة س عندما ص = ٦٠

### السؤال الرابع :

$$١) \text{ اذا كان ب هي الوسط المتناسب بين ٢ ، ٣ ، ب } \Rightarrow \frac{٢}{ب} = \frac{ب}{٢ \times ٣}$$

- ٢) اذا كانت س = {١ ، ٢ ، ٥ ، ٧} ، ص = {٢ ، ٣ ، ٧ ، ٨} وكانت ع علاقة من س الي ص حيث ٢ ع ب تعني ان ٢ + ب عددا فرديا . اكتب بيان ع ومثلها بمخطط سهمي وهل العلاقة دالة ؟ ولماذا ؟

### السؤال الخامس :

- ١) اذا كان ٢ ، ب ، ٣ ثلاث متغيرات حقيقية . وكان ٢ × ب ، ٣ × ب ، ٣ × ب اثبت ان ٢ × ب × ٣
- ٢) الجدول التكراري التالي يبين عدد اطفال بعض الاسر في احدي المدن اوجد الانحراف المعياري لعدد الاطفال :

عدد الاطفال	٠	١	٢	٣	٤	المجموع
عدد الاسر	٥	٧	٧	٥	٦	٣٠

## الاختبار الخامس

### السؤال الاول اختر الاجابة الصحيحة من بين الاقواس .

- أ) المدى لمجموعه القيم ٥ ، ٢ ، ٨ ، ١٢ ، ٩ هو ..... (٢ ، ٥ ، ١٠ ، ١٥)  
 ب) اذا كان  $S = \{5\}$  ،  $P = (ص)$  فإن  $٣ = (ص) \cap (س \times ص) = \dots\dots\dots$  (١ ، ٣ ، ١٥ ، ٨)  
 ج) اذا كان  $\frac{P}{١٢} = \frac{ب}{٥} = \frac{ب-٢}{٥}$  فإن  $ك = \dots\dots\dots$  (١ ، ٢ ، ٣ ، ٤)  
 د) اذا كان  $٧$  س ص = ٨ . فإن  $س \times \dots\dots\dots$  (ص  $\frac{١}{ص}$  ، ص  $\frac{١}{ص}$  ، ص  $\frac{٢}{ص}$  ، ص  $\frac{١}{ص}$ )  
 هـ) اذا كان الدالتد : د(س) = ٥ س + ٤ يمثلها خط مستقيم يمر بالنقطة (٢ ، ك) فإن  $ك = \dots\dots\dots$  (٥ ، ٤ ، ١٠ ، ١٤)  
 و) اذا كان  $٢$  ، ٥ ، ب ، ٧ اربع كميات متناسبة فإن  $\frac{P}{ب} = \dots\dots\dots$  (٧ ، ٥ ،  $\frac{٧}{٥}$  ،  $\frac{٥}{٧}$ )

### السؤال الثاني :

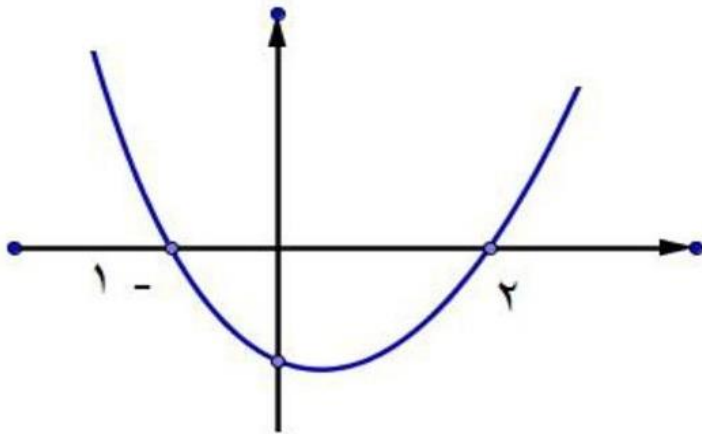
أ) اذا كان  $P$  ، ب ، ج ، د كميات متناسبة .

$$\frac{ب}{د} = \frac{ج - P}{س - ب}$$

ب) الشكل المقابل يمثل منحنى الدالتد

$$د : د(س) = س^٢ + ٢س + ب$$

اوجد قيمة  $٢ + ب$



### السؤال الثالث :

أ) مثل بيانيا الدالتد  $د(س) = س^٢ + ٢س + ١$  :  $س \in [-٤ , ٢]$  ومن الرسم اجد معادلتد محور التماثل والقيمة العظمى او الصغرى للدالتد .

ب) اذا كانت  $ص$  تتغير عكسيا بتغير  $س^٢$  وكانت  $ص = ١$  عندما  $س = ١٠$  اوجد قيمة  $ص$  عندما  $س = ٤$

### السؤال الرابع :

أ) اذا كانت  $\frac{٤}{٧} = \frac{س-٢}{ص+٢}$  اوجد قيمة  $\frac{س}{ص}$  ثم اوجد القيمة العددية للعدد  $\frac{٣س+٢ص}{٤س+ص}$

ب) اذا كانت  $س = \{١ , ٢ , ٣\}$  ،  $ص = \{١ , ٢ , ٤ , ٦ , ٩\}$  وكانت  $ع$  علاقة من  $س$  الي  $ص$  حيث  $٢$  ع ب

تعني أن  $٢ = ب$  لكل  $٢ \in س$  ،  $ب \in ص$  اكتب بيان  $ع$  ومثلها بمخطط سهمي وهل  $ع$  دالتد ؟ ولماذا ؟

وان كانت دالتد اذكر مداها

### السؤال الخامس :

أ) اذا كانت  $\frac{س}{ب-٢} = \frac{ص}{ج-٢} = \frac{ع}{٢-ج}$  اثبت ان  $\frac{س+٢ص-ع}{٢-ب-٤} = \frac{س+٢ص-ع}{٣-٥-ج}$

ب) اوجد الانحراف المعياري للتوزيع التكراري :

المجموع	٥٠-٤٠	٣٠	٢٠	١٠	٠	المجموعات
التكرار	٧	١٥	١١	٥	٢	

## الاختبار السادس

### السؤال الاول اختر الاجابة الصحيحة من بين القوسين :

(أ) اذا كان (س، ص) = (٣، ٨) فان (٤، ٣) = (٣، ٨) ..... (٣، ٢، ١، صفر)  
 (ب) المدى لمجموعة القيم ٣، ٦، ٩، ٥ يساوي ..... (٣، ٤، ٦، ١٢)

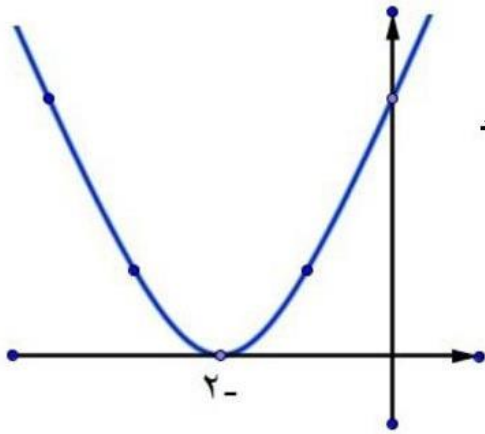
(ج) اذا كان س، ٢، ٣، ٤ فان س، ٣، ٤، ٥ .....  
 (أ) (٣، ٤، ٥، ٦) (ب) (٤، ٥، ٦، ٧) (ج) (٥، ٦، ٧، ٨) (د) (٦، ٧، ٨، ٩)

(د) اذا كان (س - ص) × ص = (٣، ١)، (٢، ١) .....  
 (أ) (١، ٢، ٣، ٤) (ب) (٢، ٣، ٤، ٥) (ج) (٣، ٤، ٥، ٦) (د) (٤، ٥، ٦، ٧)

(هـ) اذا كان  $\frac{٢}{٣} = \frac{٣}{٤}$  فان  $\frac{٣}{٤} = \frac{٤}{٥}$  .....  
 (أ) (٣، ٤، ٥، ٦) (ب) (٤، ٥، ٦، ٧) (ج) (٥، ٦، ٧، ٨) (د) (٦، ٧، ٨، ٩)

(و) الوسط المتناسب بين ٣، ٢٧ هو ..... (٩، ٩، ٩، ٩)

### السؤال الثاني :



(أ) اذا كان  $\frac{٢}{٣} = \frac{٣}{٤}$  فان  $\frac{٣}{٤} = \frac{٤}{٥}$  .....  
 (أ) (٣، ٤، ٥، ٦) (ب) (٤، ٥، ٦، ٧) (ج) (٥، ٦، ٧، ٨) (د) (٦، ٧، ٨، ٩)

(ب) الشكل المقابل يمثل منحنى الدالة د :

(د) (س) = س<sup>٢</sup> + ٤س - ٥ م فاوجد قيمة م

### السؤال الثالث :

(أ) مثل بيانيا د (س) = س<sup>٢</sup> + ٢س - ٣ علي [-٤، ٢] ومن الرسم اوجد معادلة محور التماثل والقيمة العظمى او الصغرى للدالة

(ب) اذا كانت ص =  $\frac{١}{٣} \times \frac{١}{٣}$  وكانت س = ٨ عندما ص = ٣ اوجد قيمة س عندما ص =  $\frac{٣}{٤}$

### السؤال الرابع :

(أ) اذا كان س، ب، ج، د في تناسب متسلسل اثبت ان  $\frac{٣}{٤} = \frac{٣}{٤}$  .....  
 (أ) (٣، ٤، ٥، ٦) (ب) (٤، ٥، ٦، ٧) (ج) (٥، ٦، ٧، ٨) (د) (٦، ٧، ٨، ٩)

(ب) اذا كانت س = {٢، ٣، ٤، ٥} ، ص = {٣، ٤، ٥، ٦} وكانت ع علاقة من س الي ص حيث  $\frac{٣}{٤} = \frac{٣}{٤}$  .....  
 (أ) (٣، ٤، ٥، ٦) (ب) (٤، ٥، ٦، ٧) (ج) (٥، ٦، ٧، ٨) (د) (٦، ٧، ٨، ٩)

(ب) تعني ان ب = ١ - الكل  $\frac{٣}{٤}$  س، ب  $\frac{٣}{٤}$  ص اكتب بيان ع ومثلها بمخطط سهمي وهل ع دالة؟ ولماذا؟

### السؤال الخامس :

(أ) اذا كان د (س) = س - ٥ وكان د (٣) = ٧ اوجد قيمة ب .

(ب) الجدول التكراري التالي يبين اعمار عشرة اطفال

العمر	٥	٨	٩	١	١٢	المجموع
عدد الاطفال	١	٢	٣	٣	١	١٠

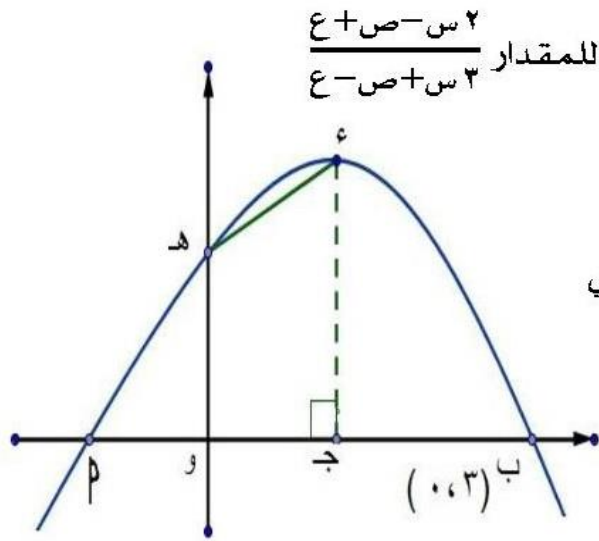
احسب الانحراف المعياري للعمر بالسنوات

## الاختبار السابع

### السؤال الاول اختر الاجابة الصحيحة من بين الاقواس :

- أ) اذا كان الانحراف المعياري لمجموع همن القيم يساوي ٢ وعدد هذه لاقيم ١٠ فإن  
مج(س - س) = ..... (٢٠ ، ٣٠ ، ٤٠ ، ٥٠)
- ب) اذا كان  $(P, P) \in$  بيان الدالتد : د(س) = ٢س - ٣ فإن  $P =$  ..... (٠ ، ١ ، ٢ ، ٣)
- ج) اذا كانت ٢٤ ، س ، ٦ ، ٣ كميات متناسبة فإن س = ..... (٩ ، ١٢ ، ١٨ ، ٤٨)
- د) المدى لمجموعة القيم ١٥ ، ١٢ ، ١٣ ، ٦ ، ٨ هو ..... (٦ ، ٨ ، ٩ ، ١٢)
- هـ) العدد الذي اذا اضيف لكل من الاعداد ١ ، ٣ ، ٦ لتصبح في تناسب متسلسل هو ..... (١ ، ٢ ، ٣ ، ٤)
- و) اذا كان س = {٢ ، ٥} ، ص = {٣} فإن  $\bar{N} \cap (س \times ص) =$  ..... (٢ ، ٣ ، ٥ ، ١)

### السؤال الثاني :



أ) اذا كان  $\frac{س}{٢} = \frac{ص}{٥} = \frac{ع}{٢}$  ، أوجد القيمة العددية للمقدار  $\frac{٢س - ص + ع}{٣س + ص - ع}$

- ب) الشكل المقابل يمثل منحنى الدالتد  
د(س) = -س<sup>٢</sup> + ٢س + ١ حيث س نقطة راس المنحنى  
أوجد مساحة الشكل و ج هـ

### السؤال الثالث :

- أ) ارسم الشكل البياني للدالتد : د(س) = س<sup>٢</sup> - ٤س - ٥ : س  $\in [-٢ , ٦]$  ومن الرسم اوجد معادلة محور التماثل والقيمة العظمى او الصغرى للدالتد
- ب) اذا كانت س = {١ ، ٢ ، ٥} وكانت ع علاقة علي س حيث  $P \in$  ع ب تعني أن  $P + ٢ =$  عدد فردي لكل  $P \in$  س ، ب  $\in$  س اكتب بيان ع ومثلها بمخطط سهمي وهل ع دالتة ؟

### السؤال الرابع :

أ) اذا كانت ص = ب - ٥ ، ب  $\in$  س وكانت ب = ١٩ عندما س = ٢ اوجد العلاقة بين ص ، س

ب) اذا كان  $P + ٢ = ٣ = ب = ٤$  ج اوجد قيمة  $\frac{ب - ٢}{ب + ب}$

### السؤال الخامس :

- أ) اذا كان  $P$  ، ٦ ، ب ، ٥٤ اربع كميات موجبة في تناسب متسلسل اوجد قيمة  $P$  ، ب  
ب) من التوزيع التكراري الاتي :

المجموعات	صفر-	-٤	-٨	-١٢	-١٦	المجموع
التكرار	٥	١٠	١٥	١٠	٥	٤٥

أوجد الانحراف المعياري موضعا الخطوات .

## الاختبار الثامن

السؤال الاول : اختر الاجابة الصحيحة من بين الاجابات المعطاة :

١. النقطة  $P(5, -3)$  تقع في الربع ..... (الاول ، الثاني ، الثالث ، الرابع)
٢. من مقاييس التشتت ..... (المدى ، الوسط الحسابي ، المنوال ، الوسيط)
٣. اذا كانت ٤ ، ٦ ، ص كميات متناسبة ف، ص = ..... (١٠ ، ٩ ، ٢ ، ٢٤)
٤. اذا كان  $S = \{3\}$  فان  $S^2 =$  ..... (٩ ، (٣ ، ٣) ، {٩} ، {(٣ ، ٣)})
٥. المدى للقيم : ١٥ ، ٧ ، ٢٣ ، ٢٥ ، ١٠ هو ..... (١٧ ، ١٨ ، ٢٨ ، ٣٥)
٦. اذا كان :  $S = 5$  فان : ص  $\times$  ..... (  $\frac{1}{S}$  ،  $S - 5$  ،  $S$  ،  $S + 5$  )

السؤال الثاني :

١. اذا كان  $S = \{1, 2\}$  ،  $V = \{3, 7\}$  ،  $E = \{3\}$  فأوجد  
 $(P \times S \cap E) \cup (V \cap E)$  س.
٢. اذا كان  $P$  ،  $b$  ،  $c$  ، د كميات متناسبة فأثبت أن :  $\frac{c-p}{d-p} = \frac{c+p}{b+p}$

السؤال الثالث :

١. اذا كانت :  $S = \{0, 1, 2\}$  ،  $V = \{0, 1, 8, 9, 4\}$  وكانت ع علاقة من  $S$  الي  $V$  حيث  $(P \cap E)$  تعني ان  $(P = b)$  لكل  $P \in S$  ،  $b \in V$  ص اكتب بيان ع ومثلها بمخطط سهمي وهل ع دالة؟ ولماذا؟
٢. اذا كانت  $\frac{P}{3} = \frac{b}{2}$  فأوجد قيمة  $\frac{b-p}{b+p}$

السؤال الرابع :

١. اذا كان بيان الدالة  $d = \{(0, 4), (1, 3), (2, 2), (3, 1)\}$   
 $P$  اكتب كلام من مجال ومدى الدالة  $d$  ( ب ) اكتب قاعدة الدالة  $d$
٢. اذا كانت  $S \times S$  وكانت  $V = 15$  عندما  $S = 3$  فأوجد العلاقة بين  $S$  ،  $V$ .

السؤال الخامس

١. الجدول التالي يمثل عدد الاطفال لـ ٢٦ أسرة كما يأتي :

عدد الاطفال	صفر	١	٢	٣	٤	٥	المجموع
عدد الأسر	٩	١	٦	٣	٥	٢	٢٦

احسب الانحراف المعياري

٢. ارسم منحنى الدالة :  $d$  حيث  $d = (S) = 9 - S^2$  ،  $S \in [3, 3]$  ومن الرسم  
 $P$  عين القيمة العظمى للدالة ومعادلة محور التماثل لمنحنى الدالة.  
 $b$  اوجد مساحة سطح المثلث الذي رؤوسه نقط تقاطع المنحنى مع المحورين.

## الاختبار التاسع

السؤال الاول : اختر الاجابة الصحيحة من بين الاجابات المعطاة :

1. الثالث متناسب للعددين 3 ، 6 هو ..... (  $\frac{1}{4}$  ، 2 ، 9 ، 12 )
2. المدى لمجموعة القيم : 17 ، 13 ، 16 ، 19 ، 15 يساوي ..... ( 19 ، 32 ، 6 ، 13 )
3. اذا كانت الدالة د (س) = 5س + 4 يمثلها خط مستقيم يمر بالنقطة ( 3 ، ب ) فإن ب = ..... ( 3 ، 5 ، 4 ، 19 )
4. الوسط الحسابي لمجموعة من القيم 7 ، 3 ، 6 ، 9 ، 5 يساوي ..... ( 12 ، 6 ، 4 ، 3 )
5. اذا كانت : س = { 5 ، 6 ، 7 } ، فإن : ب (س) = ..... ( 12 ، 9 ، 6 ، 3 )
6. اذا كانت : ص<sup>2</sup> - 4س + 4 = صفر فإن : ..... ( ص × س ، ص × س<sup>2</sup> ، ص ×  $\frac{1}{س}$  ، ص ×  $\frac{1}{س^2}$  )

### السؤال الثاني :

1. اذا كانت : س = { 1 ، 3 ، 4 } ، ص = { 1 ، 2 ، 3 ، 4 ، 5 } ، ع علاقة من س الي ص حيث ( ب ع ب ) تعني ان ( ب + 6 = 6 ) لكل  $\exists P \exists S$  ، ب  $\exists V$  اكتب بيان ع ومثلها بمخطط سهمي وهل العلاقة دالة؟ مع ذكر السبب .

$$2. \text{ إذا كان: } \frac{P}{4} = \frac{B}{5} = \frac{J}{3} \text{ أثبت ان } \frac{J+B-P}{J-B+P} = \frac{1}{3}$$

### السؤال الثالث :

1. ارسم الشكل البياني للدالة د (س) = س<sup>2</sup> - 2 في الفترة [ -3 ، 3 ] ومن الرسم أوجد .  
 ( P ) القيمة العظمي أو الصغري للدالة ( ب ) معادلة محور التماثل ( ج ) احدائي رأس المنحني .

### السؤال الرابع :

1. إذا كان : ص ×  $\frac{1}{س}$  وكانت ص = 3 عندما س = 2 أوجد  
 ( P ) العلاقة بين س ، ص ( ب ) قيمة ص عندما س = 1,5
2. اذا كانت : س = { 3 ، 4 } ، ص = { 4 ، 5 } ، ع = { 5 ، 6 } أوجد : س × ( ص ∩ ع )

### السؤال الخامس :

1. تسير سيارة بسرعة ثابتة بحيث تتناسب المسافة المقطوعة طرديا مع الزمن فإذا قطعت السيارة 150 كم في 6 ساعات . فكم كيلو مترا تقطعها السيارة في زمن 10 ساعات؟
2. اوجد الوسط الحسابي والانحراف المعياري للبيانات التاليه : 16 ، 22 ، 5 ، 20 ، 27

## الاختبار العاشر

السؤال الاول اختر الاجابة الصحيحة من بين الاجابات المعطاة :

- النقطة (٣-، ٤) تقع في الربع ..... ( الاول ، الثاني ، الثالث ، الرابع )
- العلاقة التي تمثل تغير طردي بين المتغيرين س ، ص هي ....

$$(س ص = ٧ ، ص = س + ٢ ، \frac{س}{٣} = \frac{٤}{ص} ، \frac{ص}{٢} = \frac{س}{٥})$$

- اذا كان : مج (س - س) = ٢٦ لمجموعة من القيم عددها يساوي ٩ فإن :  $\sigma = \dots$  ( ٢ ، ٤ ، ١٨ ، ٢٧ )

$$٤. \text{ إذا كان : } P ، ب ، ٢ ، ٣ \text{ متناسبة فإن : } \frac{P}{ب} = \dots \left( \frac{٢}{٣} ، \frac{٣}{٤} ، \frac{٣}{٢} ، \frac{٢}{٣} \right)$$

- اذا كانت جميع قيم المفردات متساوية في القيمة فإن ..... (س = ٠ ، س > ٠ ، س < ٠ ، س = ٠)
- اذا كانت د دالة من المجموعة س الي المجموعة ص فإن مجال الدالة هو ..... (س ، ص ، ص X س ، ص X س)

### السؤال الثاني :

- اذا كانت : س = { ١ ، ٣ ، ٤ ، ٥ } ، ص = { ١ ، ٢ ، ٣ ، ٤ ، ٥ ، ٦ } ، ع علاقة من س الي ص حيث (( ب ع ب )) تعني ان (( ب + ب = ٧ )) لكل  $\exists P$  س ،  $\exists ص$  اكتب بيان ع ومثلها بمخطط سهمي ، بين أن ع دالة واكتب مداها

$$٢. \text{ إذا كانت } P ، ب ، ج ، س \text{ في تناسب متسلسل فأثبت أن : } \frac{س - ب - ج}{ب} = \frac{س - ب - ج}{ب + ج}$$

### السؤال الثالث :

- أوجد P ، ب اذا كان : ( ٢ - ب ، ٢ ) = ( ٢٦ ، ٧ - P )
- اذا كان المستقيم الممثل للدالة د : ح ← ح حيث د (س) = ٦ - س - P يقطع محور الصادات في النقطة (ب ، ٣) فأوجد قيمة ٢ + ٧ ب .

### السؤال الرابع :

- اذا كانت  $٢ = ٢٣$  ب فأوجد قيمة  $\frac{٢ - ٢٣}{ب + ٢٣}$  .
- مثل بيانيا منحنى الدالة د حيث د (س) = (س - ٣) <sup>٢</sup> متخذا س  $\in [٠ ، ٦]$  ومن الرسم استنتج :  
P) نقطة رأس المنحنى ب) القيمة العظمى او الصغرى ج) معادلة محور التماثل .

### السؤال الخامس :

- اذا كانت ص تتغير عكسيا مع س وكانت ص = ٢ عندما س = ٤ فأوجد قيمة ص = عندما س = ١٦
- فيما يلي توزيع تكراري يبين اعمار ١٠ اطفال :

العمر بالسنوات	٥	٨	٩	١٠	١٢	المجموع
عدد الاطفال	١	٢	٣	٣	١	١٠

# ثانيا الهندسة

## اختبارات عامة

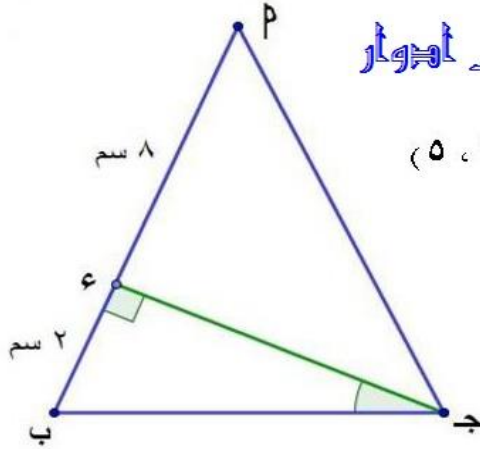
### الاختبار الاول

السؤال الاول : اختر الاجابة الصحيحة من بين القوسين

1. ميل المستقيم الذي معادلته :  $2x - 3y + 5 = 0$  صفريساوي .....  
 $(\frac{2}{3}, \frac{2}{3}, \frac{2}{3}, \frac{2}{3})$
2. اذا كان  $\sin \theta = \frac{1}{4}$  فإن  $\cos \theta =$  .....  
 $(\frac{1}{4}, \frac{3}{4}, \frac{5}{4}, \frac{10}{4})$
3. طول القطعة المستقيمة المرسومة بين نقطتين  $(2, 3)$  ،  $(-1, 5)$  يساوي .....  
 $(10, 5, 3, 15)$
4.  $2 \tan 45^\circ = \frac{1}{\sin 30^\circ}$  .....  
 $(1, \frac{2}{3}, \frac{1}{3}, \text{صفر})$
5. اذا كان ميل خط مستقيم اكبر من الصفر فإن الزاوية الموجبة التي يصنعها هذا المستقيم مع الاتجاه الموجب لمحور السينات تكون .....  
 $(\text{صفرية}, \text{حاده}, \text{قائمة}, \text{منفرجة})$
6. معادلة المستقيم المار بالنقطة  $(1, 3)$  ووازي محور السينات هي .....  
 $(x=1, x=3, y=1, y=3)$

### منهج زوجيه الرياضيات / عادل ادوار

#### السؤال الثاني



1. أوجد معادلة المستقيم المار بالنقطتين  $(5, 3)$  ،  $(-3, 5)$

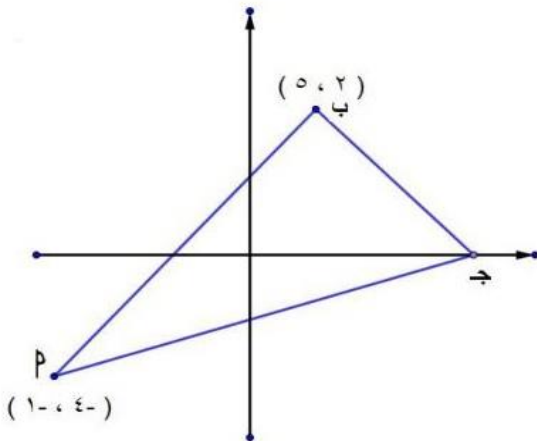
2. في الشكل المقابل :

اذا كان  $\angle B = \angle P$

أوجد قيمة  $\angle A$  (ب ج 5).

#### السؤال الثالث :

1. بدون استخدام الحاسبة اوجد قيمة  $\sin \theta$  (حيث  $\theta$  زاوية حادة) التي تحقق :  
 $\cos \theta = \frac{4}{5}$  جتا  $60^\circ$  جا  $30^\circ$
2. أثبت أن : المثلث الذي رؤوسه  $P(1, 4)$  ،  $B(-1, 2)$  ،  $C(2, -2)$  قائم الزاوية في ب ثم اوجد مساحته سطحة.

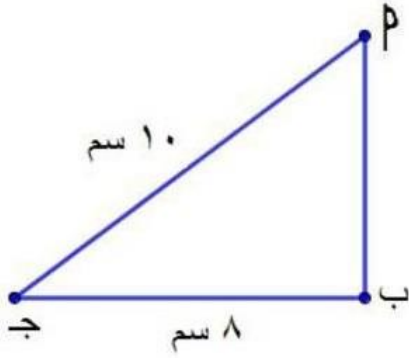


#### السؤال الرابع :

1. في الشكل المقابل :  
اذا كان  $\angle B = 90^\circ$   
أوجد احداثي النقطة ج



٢. إذا كان  $\text{جا } 60^\circ = \text{جا } 30^\circ - \text{جتا } 60^\circ \text{ جا } 30^\circ$  أوجد  $\hat{ق}$  بدون استخدام الآلة الحاسبة حيث هـ زاوية حاده



### السؤال الخامس:

١. في الشكل المقابل:

ب ج مثلث قائم الزاوية في ب

ب ج = ١٠ سم ، ب ج = ٨ سم

أوجد قيمة  $\text{جا } پ + \text{جتا } پ$  ج ب

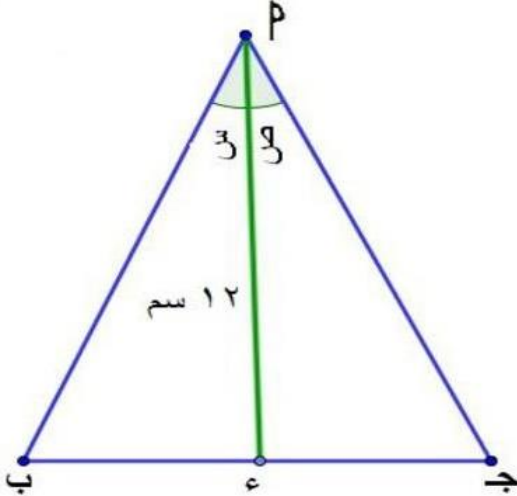
٢. أثبت أن النقط:  $پ (٦, ٠)$  ،  $ب (٢, -٤)$  ،  $ج (-٤, ٢)$  هي رؤوس مثلث قائم الزاوية في ب وأوجد مساحته.

منتصف زوجة الرياضيات أ / عادل أبووار

## الاختبار الثاني

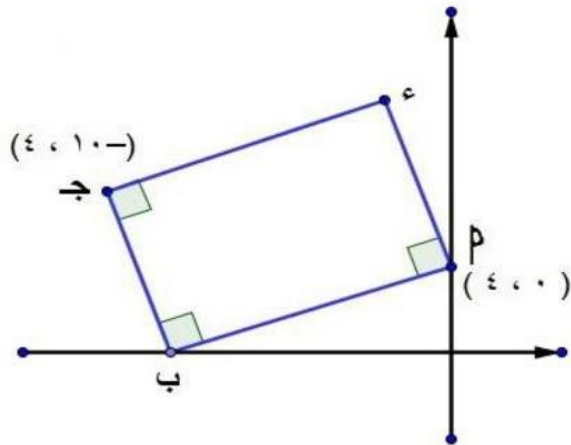
السؤال الاول : اختر الاجابة الصحيحة من بين الاجابات المعطاة :

1. البعد بين النقطتين (٤، ٣) ونقطة الاصل = ..... (٣، ٤، ٥، ٧)
2. اذا كانت P (٤، ٠)، ب (٠، ٦) فإن منتصف P ب = ..... ((٢، ٣)، (٣، ٢)، (٤، ٦)، (٦، ٤))
3. اذا كان P ب // S وكان ميل P ب =  $\frac{1}{4}$  فإن ميل S = ..... (  $\frac{1}{4}$ ،  $\frac{1}{4}$ ،  $\frac{1}{4}$ ،  $\frac{1}{4}$  )
4. معادلة المستقيم الذي ميله = ٥ ويقطع جزءا موجبا من محور الصادات مقداره ٧ وحدات هي .....  
(ص = ٥س - ٧، ص = ٧ + ٥س، ص = ٥س + ٧، ص = ٧ - ٥س)
5. اذا كان طا = (١٠ + س) حيث س زاوية حادده فإن: ق (س) = ..... (٥٠، ٢٥، ٢٠، صفر)
6. جا ٤٥° + جتا ٤٥° = ..... (  $\frac{1}{4}$ ،  $\frac{1}{4}$ ،  $\frac{1}{4}$ ،  $\frac{1}{4}$  )



السؤال الثاني :

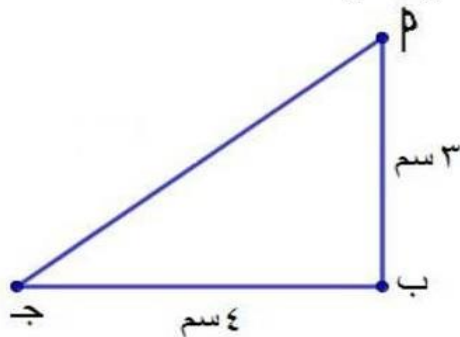
1. في الشكل المقابل :  
اذا كان طاس + طاص =  $\frac{5}{4}$ ، و  $\widehat{SPB} = 90^\circ$   
اوجد طول ب ج
2. مستقيم ميله  $\frac{1}{4}$  ويقطع جزءا موجبا من محور الصادات طوله وحدتين اوجد :  
P معادلة المستقيم (ب) نقطة تقاطعه مع محور السينات



السؤال الثالث :

1. في الشكل المقابل :  
P ب ج S مستطيل  
اوجد احداثي النقطة ب ، S.
2. اوجد معادلة المستقيم المار بالنقطتين (٣، -٥) و (٢، -٣) : ص = ٢س - ٣.

السؤال الرابع :



1. في الشكل المقابل :  
P ب ج مثلث فيه: ق (P) =  $90^\circ$ ، ب = ٣ سم، ج = ٤ سم  
اوجد P جا + ج جا ج (ب) طا P x طا ج

٢. أثبت ان : جا ٦٠° = ٢ جا ٣٠° جتا ٣٠°.

السؤال الخامس :

١. اوجد معادلة الخط المستقيم المار بالنقطتين (٢، ١)، (١، ١).
٢. اذا كانت : ج (٦، ٤) هي منتصف  $\overline{AB}$  حيث  $P(٥، ٣)$  ، اوجد احداثي النقطة ب

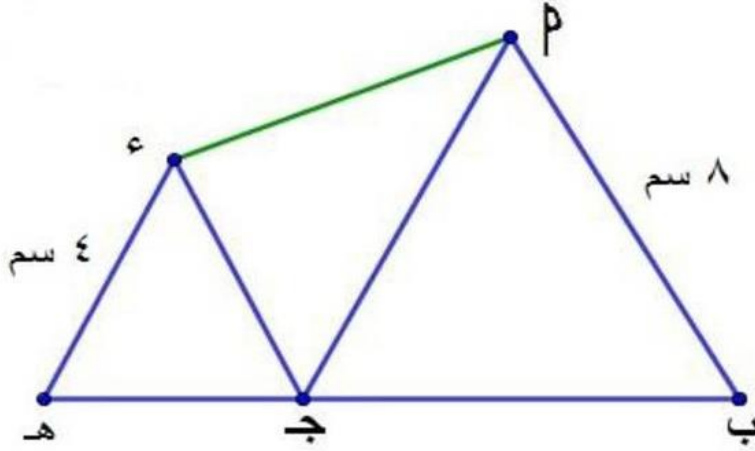
### الاختبار الثالث

#### السؤال الاول : اختر الاجابة الصحيحة من بين القوسين

1. ٢ جا ٣٠° جتا ٦٠° = ..... (٤ ،  $\frac{1}{4}$  ، ٢ ، ١)
2. اذا كانت طا ٣ =  $\sqrt{3}$  حيث س زاوية جادة فان:  $\widehat{س} =$  ..... (٦٠ ، ٤٠ ، ٢٠ ، ١٠)
3. ميل المستقيم الموازي لمحور السينات = ..... (١ ، ١- ، غير معروف ، صفر)
4. المستقيم المار بالنقطتين (١ ، ص) ، (٤ ، ٣) ، ميله = طا ٤٥° فتكون ص = ..... (٤ ، ٢ ، ١- ، ١)
5. اذا كان : م ، م ، ميلي مستقيمين متعامدين فان م x م = ..... (٢ ، ١ ،  $\frac{1}{4}$  ، ١-)
6. المستقيم ص = ٢س + ج يمر بالنقطة (٢ ، ٢) فتكون ج = ..... (٦ ، ٤ ، ٢- ، صفر)

#### السؤال الثاني :

1. برهن علي صحة أن : جا ٣٠° = ٩ جتا ٦٠° - طا ٤٥°
2. اوجد معادلة المستقيم المار بالنقطة (٦ ، ١) ومنتصف  $\overline{اب}$  حيث :  $پ(١- ، ٢)$  ،  $ب(٣- ، ٤)$ .



#### السؤال الثالث :

1. في الشكل المقابل :  
ج  $\exists$  ب ه ،  $\Delta$  ج ه متساوي الاضلاع  
 $\Delta$  س ج ه متساوي الاضلاع  
اوجد جا (سپ).
2. اوجد معادلة المستقيم الذي يمر بالنقطة (٢ ، ٢) وعمودي علي المستقيم : ٢س - ص = ٥

#### السؤال الرابع :

3. اوجد قيمة س حيث : صفر > س > ٩٠° إذا كان :  
جا س = جا ٦٠° جتا ٦٠° - جتا ٣٠°
4. في الشكل المقابل : نظام احداثي متعامد  
 $پ(٠ ، ٣-)$  ،  $ج(٤ ، ٧)$   
اوجد محيط متوازي الاضلاع  $پجس$

#### السؤال الخامس :

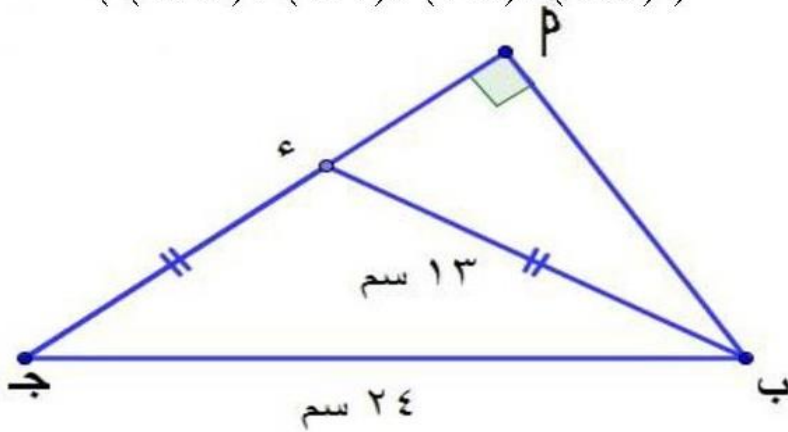
1. اثبت أن المثلث الذي رؤساة النقط :  $پ(٢- ، ١)$  ،  $ب(٢ ، ٤-)$  ،  $ج(٦ ، ١)$  متساوي الساقين
2. مستقيم ميلته  $\frac{1}{4}$  ويقطع جزءا موجبا من محور الصادات طولته وحدتين اوجد :  
 $پ$  معادلة المستقيم  $ب$  نقطة تقاطعه مع محور السينات

## الاختبار الرابع

### السؤال الاول : اختر الاجابة الصحيحة من بين الاجابات المعطاة

١. جا  $30^\circ =$  جتا  $60^\circ$  حيث زاوية حاده فيكون  $ق(ه) = \dots\dots\dots (30, 10, 45, 60)^\circ$
٢. طا  $45^\circ = \dots\dots\dots (\frac{1}{4}, 1, \frac{1}{3}, \sqrt{3})$
٣. معادلة المستقيم الذي ميلته يساوي ١ ويمر بنقطة الاصل هي  $\dots\dots\dots (س = ١, ص = ١, ص = س, ص = -س)$
٤. طول القطعه المستقيمة المرسومة بين النقطتين  $(٠, ٠), (١٢, ٥) = \dots\dots\dots (١٣, ١٢, ٧, ٥)$
٥. اذا كان المستقيمان  $س + ص = ٥, ك + س = ٢ + ص = ٨$  متوازيين فإن  $ك = \dots\dots\dots (٢, ١, ١, -٢)$
٦. اذا كان  $م$  ب قطر في الدائرة حيث :  $م(٥, -٣), ب(١, ٥)$  فإن مركز الدائرة هو  $\dots\dots\dots ((٢, -٤), (٢, ٤), (٢, ٢), (٢, -٨))$

### السؤال الثاني :

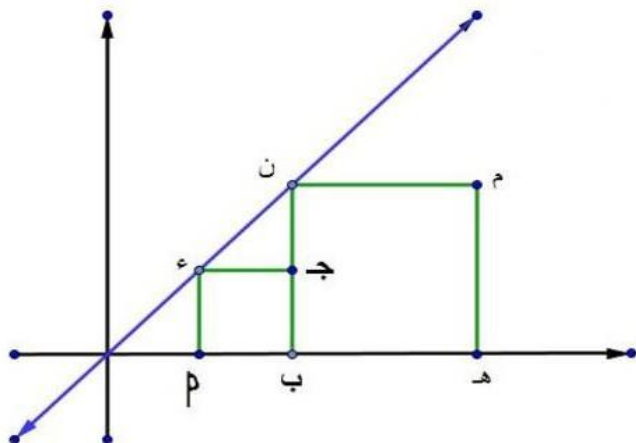


١. في الشكل المقابل :  
اوجد جتا  $(ب ج)$ .

٢. اذا كانت النسبة بين قياسات زوايا مثلث كنسبة  $٣ : ٤ : ٧$  فأوجد القياس الستيني لكل زاوية من زواياه

### السؤال الثالث :

١. بدون استخدام الحاسبة أوجد قيمة  $س$  ( حيث  $س$  زاوية حادة ) التي تحقق :  
طاس  $= ٤$  جتا  $60^\circ$  جا  $30^\circ$
٢. اثبت أن المثلث الذي رؤوسه :  $م(١, ٠), ب(-١, ١), ج(-٢, ٢)$  قائم الزاوية وأوجد مساحة سطحته



### السؤال الرابع

١. اذا كانت  $ج(٦, -٤)$  هي منتصف  $م$  ب حيث  $م(٥, -٣)$  فأوجد إحداثي نقطة ب
٢. في الشكل المقابل :  
 $م(٤, ٨)$  ب ج  $س$  ، ب ه  $٣$  ه مربعان ، م  $(٤, ٨)$   
أوجد معادلة  $س$  .  
ب) اوجد إحداثي النقطة  $س$

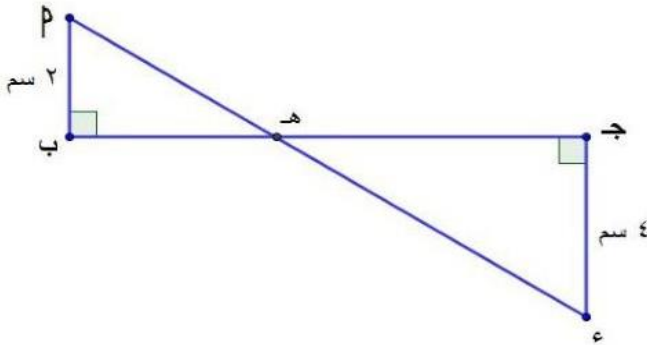
١. اثبت باستخدام الميل أن النقط :  $P(-1, 1)$  ،  $B(5, 0)$  ،  $J(6, 5)$  ،  $S(2, 4)$  هي رؤوس لمتوازي الاضلاع  $PBSJ$ .

٢. اذا كانت  $P(-3, 4)$  ،  $B(5, -1)$  ،  $J(3, 5)$  فأوجد معادلة الخط المستقيم المار بالرأس  $P$  وينصف  $B$ .

الاختبار الخامس

السؤال الاول : اختر الاجابة الصحيحة من بين الاجابات المعطاة

1. نقطة منتصف  $P$  ب حيث :  $P(8, 0)$  ،  $b(0, 6)$  هي .....  
 ( (  $(8, 6)$  ،  $(6, 8)$  ،  $(4, 3)$  ،  $(3, 4)$  )
2.  $\sqrt{2}$  جا  $45^\circ$  جتا  $30^\circ =$  .....  
 ( جا  $60^\circ$  ، جتا  $60^\circ$  ، طا  $60^\circ$  ، جا  $60^\circ$  )
3. البعد بين النقطة  $P(4, 3)$  ونقطة الاصل يساوي .....  
 (  $3$  ،  $4$  ،  $5$  ،  $7$  )
4. المستقيم المار بالنقطة  $(2, 3)$  ووازي محور السينات معادلته هي .....  
 (  $x=3$  ،  $x=2$  ،  $y=3$  ،  $y=2$  )
5. اذا كان المستقيمان اللذان ميلاهما :  $\frac{2}{3}$  ،  $\frac{1}{4}$  متوازيان فإن :  $k =$  .....  
 (  $\frac{3}{2}$  ،  $\frac{1}{3}$  ،  $\frac{3}{4}$  ،  $\frac{4}{3}$  )
6. اذا كان :  $\sin \theta = \frac{1}{4}$  ،  $\theta$  زاوية حادة فإن :  $\sin 2\theta =$  .....  
 (  $1$  ،  $\frac{1}{4}$  ،  $\frac{1}{2}$  ،  $\frac{3}{4}$  )



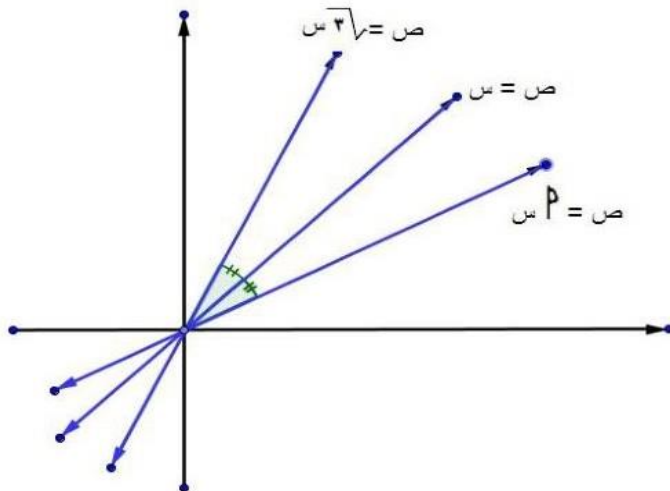
السؤال الثاني :

1. اذا كان  $P \cap S = B = \{H\}$  وكان  $B = S = 5$  سم. أوجد  $\sin \theta$
2. اثبت ان المثلث الذي رؤوسه النقط  $P(5, -5)$  ،  $b(-1, 7)$  ،  $ج(15, 15)$  مثلث قائم الزاوية في ب أوجد مساحته.

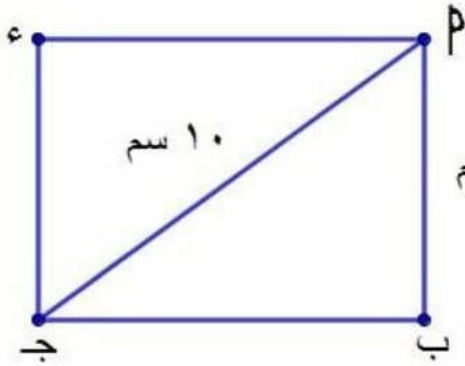
السؤال الثالث :

1. اذا كان البعد بين النقطتين  $(7, P)$  ،  $(3, 2)$  يساوي 5 أوجد قيمة  $P$
2. اذا كان :  $\sin \theta = \frac{2}{3}$  ،  $\theta$  زاوية حادة أوجد  $\sin(2\theta)$  بدون استخدام الآلة الحاسبة حيث  $\theta$  زاوية حادة

السؤال الرابع :



1. في الشكل المقابل : نظام إحداثي متعامد أوجد قيمة  $P$



٢. في الشكل المقابل :  
 پب جد مستطيل فيته : پب = ٦ سم ، پد = ١٠ سم فأوجد : سم  
 (پ) ق (پ ج ب) (ب) مساحته سطح المستطيل پب ج د

السؤال الخامس :

١. اثبت باستخدام الميل أن النقط : پ (٢، ١)، ب (١، ٥)، ج (٤، ٦)، د (٦، ٠) هي رؤوس مستطيل.

٢. اوجد الميل والجزء المقطوع من محور الصادات للمستقيم الذي معادلته  $٢ = \frac{ص}{٣} + \frac{س}{٤}$

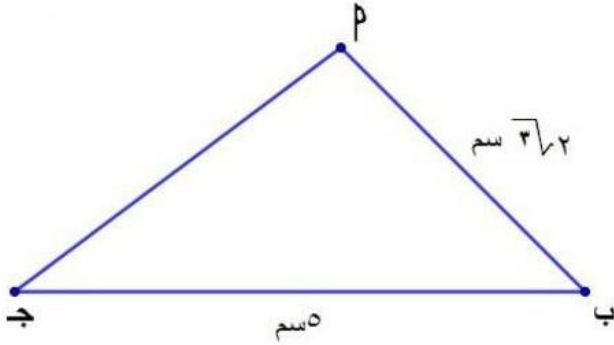
منهج زوجه الرياضيات / عادل ادوار



## الاختبار السادس

### السؤال الاول: اختر الاجابة الصحيحة من بين الاجابات المعطاة

1. إذا كانت: جتا  $\frac{\sqrt{3}}{2} = \frac{س}{4}$  حيث س زاوية حادة فإن جاس تساوي .....  
 (  $\frac{1}{2}$  ،  $\frac{1}{\sqrt{3}}$  ،  $\frac{2}{\sqrt{3}}$  ،  $\frac{2}{3}$  )
2. المستقيم الذي معادلته  $ص = 2س - 6$  يقطع من محور الصادات جزءا طوله .....  
 (  $-2$  ،  $\frac{2}{3}$  ،  $2$  ،  $6$  )
3. إذا كان المستقيمان  $ص = 4س - 3$  ،  $ك = ص + 4س - 8 = 0$  متعامدان فإن ك = .....  
 (  $4$  ،  $3$  ،  $2$  ،  $1$  )
4.  $2$  طا  $45^\circ = \frac{1}{60}$  جتا تساوي .....  
 (  $1$  ،  $\frac{1}{2}$  ،  $\frac{1}{\sqrt{2}}$  ،  $\frac{1}{\sqrt{3}}$  )
5. البعد العمودي بين المستقيمين:  $ص = 3س - 2$  ،  $ص = 2س + 3$  صفر يساوي .....  
 (  $5$  ،  $3$  ،  $2$  ،  $1$  )
6. إذا كان  $P$  ب قطر في الدائرة حيث:  $P(3, -5)$  ،  $B(5, 1)$  فإن مركز الدائرة هو .....  
 (  $(2, 2)$  ،  $(2, 4)$  ،  $(2, 8)$  ،  $(2, 4)$  )



### السؤال الثاني:

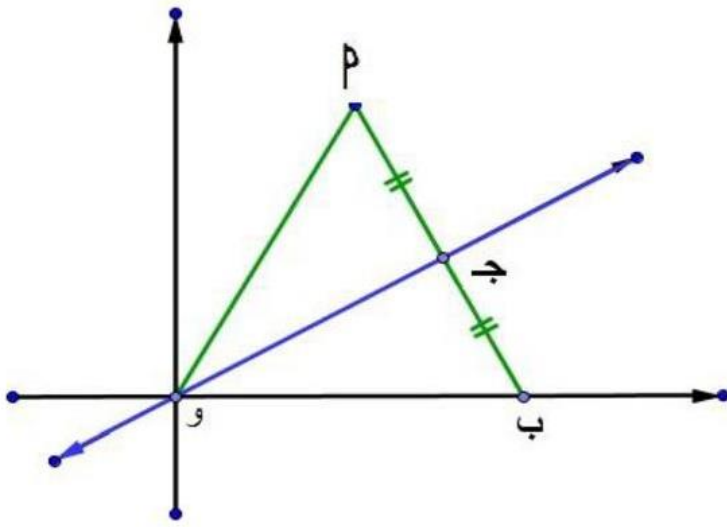
1. في الشكل المقابل: إذا كان  $\widehat{C} = 30^\circ$  أوجد قيمة  $\widehat{A}$
2.  $S$  متوازي اضلاع تقاطع قطراه في  $H$  حيث:  $P(3, -1)$  ،  $B(6, 2)$  ،  $J(1, 7)$ .  
أوجد احداثي كل من  $H$  ،  $S$ .

### السؤال الثالث:

1. أثبت ان المثلث الذي رؤوسه:  $P(1, 4)$  ،  $B(-1, 2)$  ،  $J(2, -3)$  قائم الزاوية في  $B$  أوجد مساحته
2. أوجد قيمة  $س$  حيث:  $0^\circ < س < 90^\circ$  ، إذا كان جاس  $45^\circ$  جتا  $45^\circ$  طا  $60^\circ = 45^\circ$  جتا  $60^\circ$  طا  $60^\circ$ .

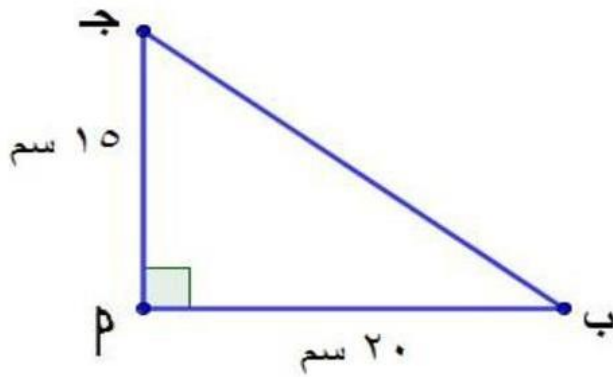
### السؤال الرابع:

1. مثل بيانيا وفي مستوي احداثي متعامد النقط:  $P(2, 3)$  ،  $B(-1, 1)$  ،  $J(-3, 4)$  ،  $S(6, 0)$  ثم اثبت انها رؤوس مربع.



٢. في الشكل المقابل:  
 $\Delta$  P و متساوي الاضلاع  
 $\leftrightarrow$   
 اوجد معادلتها و ج.

السؤال الخامس:



١. في الشكل المقابل:  
 $\Delta$  بج مثلث فيه:  $\hat{P} = 90^\circ$   
 $PB = 15$  سم،  $BJ = 20$  سم  
 أثبت أن: جتا ب جتا ج - جاب جا ج = صفر

٢. اثبت أن النقط: P (١، ٣)، ب (٦، ٤)، تقع علي دائرة مركزها النقطه م (٢، ١).

## الاختبار السابع

### السؤال الاول : اختر الاجابة الصحيحة من بين الاجابات المعطاة

١. طا  $45^\circ =$  ..... (  $\sqrt{3}$  ، ١ ،  $\frac{1}{\sqrt{3}}$  ،  $\sqrt{2}$  )
٢. إذا كان: جتا  $\frac{1}{\sqrt{3}}$  فإن: ق (س) = ..... (  $90^\circ$  ،  $60^\circ$  ،  $45^\circ$  ،  $30^\circ$  )
٣. طول القطعة المستقيمة المرسومة من النقطة (٠،٠) الي النقطة (-٤،٣) يساوي ..... وحدات طولية.  
( ٥ ،  $\sqrt{7}$  ، ٤ ، ٣ )
٤. إذا كان: P ب قطر في دائرة مركزها م حيث: P (٥،٣) ، ب (١،٥) فإن احداثي النقطة م يساوي .....  
( (٢،٤) ، (٣،١) ، (٢،٦) ، (٤،٨) )
٥. ميل المستقيم الذي يوازي محور السينات يساوي ..... ( صفر ، -١ ، ١ ، غير معروف )
٦. معادلة المستقيم الذي يمر بنقطة الاصل ويصنع مع الاتجاه الموجب لمحور السينات زاوية قياسها  $45^\circ$  هي .....  
( س=١ ، ص=١ ، ص=س ، ص=-س )

### السؤال الثاني :

١. أوجد القيمة العددية للمقدار:  $2 \text{ جا } 45^\circ + \text{ جتا } 30^\circ$
٢. أثبت أن: المثلث P ب ج الذي رؤوسه P (١،٥) ، ب (٥،٢) ، ج (-١،١) متساوي الساقين ثم اوجد محيطه

### السؤال الثالث :

١. أثبت أن: جتا  $60^\circ = \text{جتا } 30^\circ - \text{جا } 30^\circ$
٢. إذا كانت جـ منتصف P ب حيث: P (-٣،٤) ، ب (٣،١٢) ، جـ (س،٧) فأوجد قيمتي: س، ص.

### السؤال الرابع

١. أوجد معادلتة المستقيم الذي ميله  $\frac{1}{\sqrt{3}}$  ويمر بالنقطة (٥،٢)
٢. P ب ج مثلث قائم الزاوية في ب فية: P ب = ٥ سم ، P ج = ١٣ سم  
P ( أوجد: ق (ج) ) ب) أثبت أن: جا P جتا + جتا P جا = ١.

### السؤال الخامس :

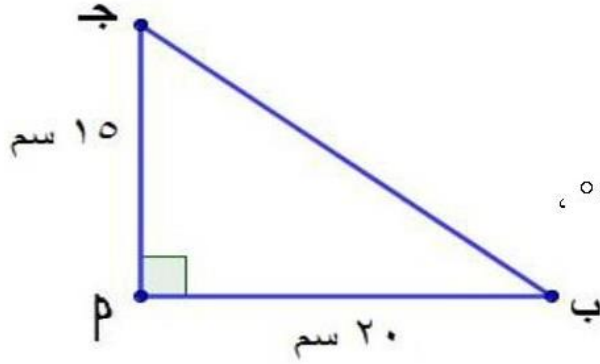
١. أثبت أ، النقط P (١،١) ، ب (٣،٢) ، ج (١،٠) تقع علي استقامة واحدة
٢. إذا كانت معادلتا المستقيمين ل<sub>١</sub> ، ل<sub>٢</sub> علي الترتيب هما:  
س - ٤ ص - ٣ = صفر ، ص = ك س + ٥ أوجد قيمة ك إذا كان المستقيمان ل<sub>١</sub> ، ل<sub>٢</sub>  
P ( متوازيين ) ب) متعامدين



## الاختبار التاسع

السؤال الاول : اختر الاجابة الصحيحة من بين الاجابات المعطاة

١. طا  $45^\circ = \dots\dots\dots$  (  $\sqrt[3]{\frac{1}{2}}$  ،  $\frac{1}{\sqrt{2}}$  ،  $1$  ،  $\sqrt[3]{2}$  )
٢. طول القطعة المستقيمة المرسومة بين نقطتين  $(0, 0)$  ،  $(12, 5)$  يساوي  $\dots\dots\dots$  (  $13$  ،  $12$  ،  $7$  ،  $5$  )
٣. إذا كان : جاس  $= \frac{1}{\sqrt{2}}$  ، س = زاوية حادة فإن : جا ٢ س =  $\dots\dots\dots$  (  $\sqrt[3]{\frac{1}{2}}$  ،  $\frac{1}{\sqrt{2}}$  ،  $1$  ،  $\sqrt[3]{2}$  )
٤. ميل المستقيم الذي معادلته : س - ٢ ص + ٥ = ٥ صفر يساوي  $\dots\dots\dots$  (  $\frac{2}{3}$  ،  $\frac{2}{4}$  ،  $\frac{2-3}{3}$  ،  $\frac{3-2}{4}$  )
٥. معادلة المستقيم الذي ميله يساوي ١ ويمر بنقطة الاصل هي  $\dots\dots\dots$  ( س = ١ ، ص = ١ ،  $\frac{2}{3}$  ،  $\frac{2}{4}$  )
٦. المستقيم الذي معادلته س - ٣ ص - ٦ = ٦ صفر يقطع من محور الصادات جزءا طوله  $\dots\dots\dots$  (  $\frac{2}{3}$  ، ٢ ، ٢- ، ٦- )



السؤال الثاني :

١. في الشكل المقابل :  $\hat{P} = 90^\circ$  ، ج = ١٥ سم ، ب = ٢٠ سم  
اثبت أن : جتا جتا ب - جا جا ب = صفر
٢. اوجد معادلة المستقيم المار بالنقطة  $(1, 6)$  ومنتصف  $\overline{PQ}$  حيث :  $P(1, 2)$  ،  $Q(3, 4)$

السؤال الثالث :

١. بدون استخدام الحاسبة أوجد القيمة العددية للمقدار : جتا  $60^\circ$  جا  $30^\circ$  - جتا  $30^\circ$  جا  $60^\circ$
٢. إذا كان بعد النقطة (س ، ٥) عن النقطة  $(6, 1)$  يساوي  $\sqrt{2}$  فأحسب قيمة س

السؤال الرابع :

١. ا ب ج مثلث فيه  $\hat{P} = 13^\circ$  سم ،  $\hat{Q} = 15^\circ$  سم رسم  $SP \perp JB$  ، حيث  $S$  = ٩ سم اوجد في ابسط صوره  
قيمة :  $\frac{\text{طا}(\hat{Q} \text{ س}) + \text{طا}(\hat{P} \text{ ب})}{\text{طا}(\hat{Q} \text{ س}) + \text{طا}(\hat{P} \text{ ب})}$
٢. اوجد معادلة المستقيم الذي يمر بالنقطة  $(3, 4)$  وعمودي علي المستقيم : س - ٢ ص + ٧ = صفر

السؤال الخامس :

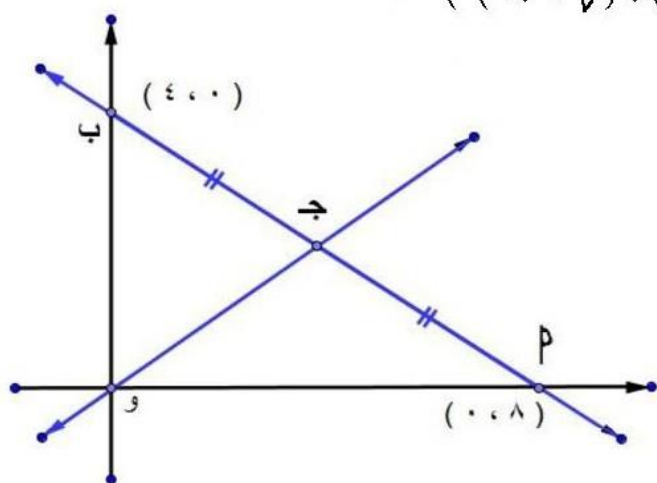
١. ا ب ج د س متوازي اضلاع فية :  $P(2, 4)$  ،  $Q(1, 2)$  ،  $R(4, 2)$  ،  $S(3, 4)$  اوجد احداثي س .
٢. أثبت ان المستقيم الذي يمر بالنقطتين :  $(2, 3)$  ،  $(4, 5)$  يوازي المستقيم الذي يصنع مع الاتجاه الموجب لمحور السينات زاوية قياسها  $45^\circ$  .

## النموذج العاشر

### السؤال الاول : اختر الاجابة الصحيحة من بين الاجابات المعطاة

1. مستقيمان متوازيان ميلهما  $m_1, m_2$  فإذا كان:  $m_1 = \frac{1}{3}$  فإن  $m_2 = \dots$  .....  $(\frac{1}{3}, \frac{1}{3}, -3, -\frac{1}{3})$
2. إذا كان: جا  $(\gamma + \text{ص}) = 0,5$  فإن ص = .....  $(7, 53, 30, 23)$
3.  $4$  جتا  $30^\circ$  جا  $60^\circ = \dots$  .....  $(12, 3, 2\sqrt{2}, 6)$
4. المستقيم الذي معادلته:  $2\text{ص} = 4\text{س} - 8$  يقطع جزءا من محور الصادات طولته ..... وحدة  $(4, -4, 3, 2)$
5. إذا كانت  $M(2, 2), B(2, -2)$  فإن احداثي نقطة منتصف  $MB$  هي .....  $(1, 1), (1, -1), (-1, 1), (-1, -1)$
6. دائرة مركزها نقطة الاصل وطول نصف قطرها  $2$  وحده طول، فإن النقطة التي تنتمي الي الدائرة هي .....  $(2, 1), (1, 2), (1, \sqrt{2}), (1, 2\sqrt{2})$

### السؤال الثاني :

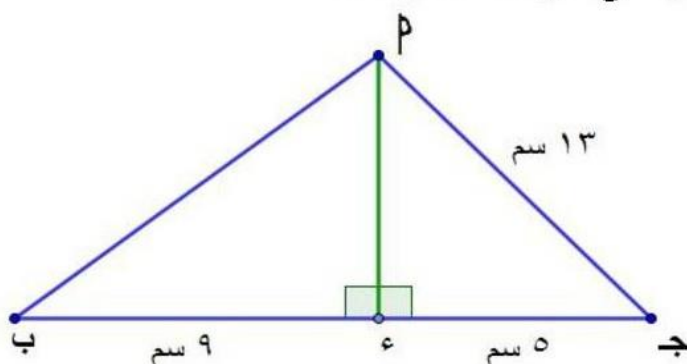


1. في الشكل المقابل :  
أوجد معادلة  $W$

2. أوجد معادلة المستقيم المار بالنقطتين :  $(3, 5), (5, 2)$

### السؤال الثالث :

1. اثبت ان النقطا  $A(1, 1), B(2, 2), C(2, 2)$  تقع علي استقامة واحدة



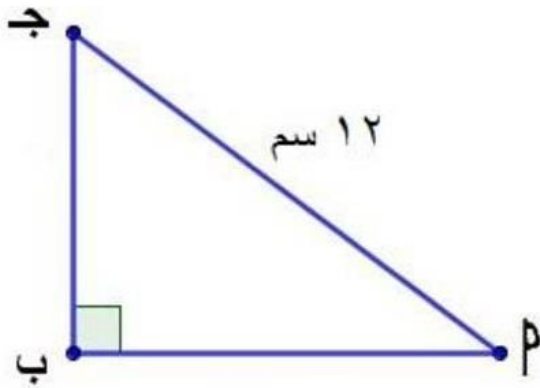
2. في الشكل المقابل :  
أوجد قيمة  $\gamma$

### السؤال الرابع

1. اثبت ان  $\tan 60^\circ = \frac{\tan 30^\circ + 2}{1 - \tan 30^\circ}$

2. إذا كان :  $M(1, 1), B(1, 1), C(4, 1), D(4, 5), S(1, 5)$  فأوجد مساحتها

٣. اوجد قياس الزاوية الموجبة التي يصنعها المستقيم مع الاتجاه الموجب لمحور السينات إذا كان ميل المستقيم يساوي ١



٤. في الشكل المقابل:

$$\sin \hat{ج} = \frac{١٢}{٢٠} \text{ سم}$$

أوجد: لاقرب سم<sup>٢</sup> مساحة  $\Delta$  بپج.

منتديات زوجة الرياضيات / عادل أبووار

## الارشادات

### اولا الجبر

#### الوحدة الاولى : العلاقات والدوال

##### الاختبار الاول

السؤال الاول : اكمل العبارات الاتية .

١. ص  $\times$  ص
٢. ٣
٣. ٤ ( ا ب ) - ١
٤. {٣, ٢}
٥. {(٥, ٤), (١, ٤), (٤, ٤), (٤, ١), (٥, ١), (١, ١), (٤, ٥), (١, ٥), (٥, ٥)}
٦. صفر

السؤال الثاني :

١. المدي = {٢}
٢. د (٢-) = ٤

السؤال الثالث :

١. ع دالة لان كل خط رأسي ظهرت عليه نقطة واحدة ، المدي = {٢-}
٢. س = {٥, ٣, ٢} ، ص = {٣٥, ٩, ١٤, ١١}
- بيان الدالة = {(٢٥, ٥), (٩, ٣), (١٤, ٢)} ، المدي = {٣٥, ٩, ١٤}

السؤال الرابع :

١. مساحة المربع = ٥ سم<sup>٢</sup>
٢. بيان الدالة = {(٩, ٢٧), (٩, ٩), (٤, ٨), (٤, ٤)} ، المجال المقابل = {٩, ٤} ، المدي = {٩, ٤}

السؤال الخامس :

١. بيان ع = {(٣-, ٣), (٢-, ٢), (١-, ١), (٠, ٠), (١, ١-), (٢, ٢-), (٣, ٣-)} ، العلاقة دالة ، المدي = {٣-, ٢-, ١-, ٠, ١}

##### الاختبار الثاني

السؤال الاول : اكمل العبارات الاتية .

١. س = ٢ ، ص = ٤
٢. النقطة هي (٤, ٠)
٣. {٧, ٦}  $\times$  {٥}
٤. ب = ١٣
٥. ٥ = ٢
٦.  $\sqrt{٥}$

السؤال الثاني :

١. بيان ع = {(٤, ٢), (٢, ١), (١, ٠), (١/٢, ١-), (١/٤, ٢)}
- العلاقة دالة لان كل عنصر ظهر كمسقط اول مره واحدة ، المدي = {٤, ٢, ١, ١/٢, ١/٤}



السؤال الثالث :

١. بيان ع =  $\{(7, 2), (9, 3), (11, 4), (13, 5)\}$

٢.  $\frac{8}{3} = ك$

السؤال الرابع :

١. بيان ع =  $\{(1, 6), (2, 5), (3, 4), (4, 3), (5, 2), (6, 1)\}$

٢. المساحة = ٨ وحدة مربعة

السؤال الخامس :

١.  $٥ = ب$  ،  $٢ = پ$

٢. القيمة العظمى = ٤ ، معادلة محور التماثل س = صفر

الاختبار الثالث

السؤال الاول : اكمل العبارات الاتية .

١. س = صفر ، ص = ٥

٢. ص = ٢

٣.  $٦ = (س \times ص)$

٤.  $(\frac{2}{3}, \frac{9}{33})$  ،  $(3, \frac{9}{4})$  ،  $(\frac{1}{4}, \frac{2}{9})$  ،  $(2, 2)$

٥.  $٢ = پ$  ،  $٢ = ب$  ،  $٣ = پ$

٦.  $\{6, 6\}$

السؤال الثاني :

١. بيان ع =  $\{(2, 3), (2, 4), (2, 5), (4, 5)\}$  ، ليست دالة

٢. د = (٥) ، ٣

السؤال الرابع :

١.  $ك = \sqrt[3]{٣}$  ،  $پ = (٠, ٣)$  ، ب = (٠, ٣)

السؤال الخامس :

١.  $٢ = ك$

الاختبار الرابع

السؤال الاول : اكمل العبارات الاتية .

١. س = ٤٩ ، ص = ٧

٢.  $س \times س = \{(3, 3), (5, 3), (5, 5), (5, 5)\}$

٣.  $\{(1, 3), (1, 2)\}$

٤. صفر

٥. س =  $\{٠, ٤\}$  ، ص =  $\{٧, ١, ٤\}$  ، س  $\times$  ص =  $\{(٧, ١), (١, ١), (٤, ٨), (٧, ٤), (١, ٤), (٤, ٤)\}$

٦. ٣ ، ٤

السؤال الثاني :

١. بيان ع =  $\{(3, 4), (4, 3), (2, 6), (6, 2), (12, 12), (12, 1)\}$  ،  $٤ = پ$

٢.  $P(1,1)$  ،  $B(2,0)$  ،  $J(-1,-1)$   
السؤال الخامس:  
٢. س = صفر ، ص = -٤

### الاختبار الخامس

السؤال الاول : اكمل العبارات الآتية .

١. س = ١ ، ص = ٣  
٢.  $(1,1)$  ،  $(-5,5)$  ،  $(2, \sqrt{2})$  ،  $(2, \pm\sqrt{7})$  ،  $(4, \pm 2)$  ،  $(7, \pm\sqrt{7})$   
٣.  $\{(3, 2)\}$   
٤.  $\frac{5}{4}$   
٥.  $5 = P$   
٦.  $\sqrt{2} \pm 2 = P$

السؤال الثالث :

١. مساحة المربع = ٨١ وحدة مربعة  
السؤال الخامس:  
١. ج = ١

الوحدة الثانية : النسبة والتناسب والتغير الطردي  
والتغير العكسي  
اولا : النسبة والتناسب

الاختبار الاول

السؤال الاول: اختر الاجابة الصحيحة من بين الاقواس .

١.  $10 \pm$

٢.  $\frac{1}{8} = \frac{س}{ص}$

٣.  $٣ = س$

٤.  $٥٢٧ = پ$

٥.  $٢٧ = ل$

٦.  $١٨ = پ$

السؤال الثاني :

١.  $\frac{٧}{٩}$

السؤال الخامس :

١. العدد هو ٥

الاختبار الثاني

السؤال الاول: اختر الاجابة الصحيحة من بين الاقواس .

١. العدد هو ١٣

٢. العدد هو ٥

٣. النسبة  $\frac{٥}{٤} = \frac{س}{ص}$

٤.  $٣٥ : ٢٠ : ١٢ = ع : ص : س$

٥.  $١ = \frac{ب٣}{پ٥}$

٦.  $٢ = \frac{ب٢ + پ٥}{ب - پ٥}$

السؤال الرابع :

١.  $\frac{١ - ب}{١٨} = \frac{ب - پ}{ب + پ}$

السؤال الخامس :

١.  $٢ = س$

### الاختبار الثالث

السؤال الاول : اكمل العبارات الاتية .

١ . ٨١

٢ . ١١

٣ .  $6 \pm$

٤ . ٣٢

٥ . ٨

٦ .  $\frac{1-}{9}$

السؤال الخامس :

١ .  $\frac{3}{2} = \frac{س}{ص}$

### الاختبار الرابع

السؤال الاول : اختر الاجابة الصحيحة من بين الاقواس .

١ . ٩

٢ . ٣

٣ . ٨

٤ . ١٢

٥ . ٩

٦ . ٢

السؤال الثالث :

١ .  $\frac{١٣}{٥}$

السؤال الخامس :

١ . ٢ : ١

٢ . العددان هما ١٦ ، ٢٤

### الاختبار الخامس

السؤال الاول : اختر الاجابة الصحيحة من بين القوسين

١ . ٤

٢ .  $\frac{٥}{٧}$

٣ . ١٢

٤ . ٣

٥ .  $9 \pm$

٦ .  $\frac{٨}{٥}$

السؤال الثاني :

١ .  $\frac{٤}{٥}$

السؤال الرابع :

١ .  $١٢ = پ$  ،  $٢٠ = ب$  ،  $٤٢ = ج$

السؤال الخامس :

٢ .  $٦ : ج = ١٠$  ،  $ب : ١٠ = ٧$

الهندسة التحليلية وحساب المثلثات  
الهندسة التحليلية  
الاختبار الاول

السؤال الاول

١.  $\sqrt[3]{\frac{1}{2}}$

٢.  $\frac{1}{\sqrt{2}}$

٣.  $\frac{1-\sqrt{2}}{2}$

٤.

٥.  $\frac{1-\sqrt{2}}{2}$

٦. ١

السؤال الثاني

١. ج (١، ٥) ، د (-٥، -٩)

السؤال الثالث

١.  $\frac{51}{2}$

٢. ١٥

السؤال الرابع

١. ١٣

٢.  $\sqrt[5]{4}$

السؤال الخامس

١. ك = ١١ ، ل = ٥

٢. ل = ٢

الاختبار الثاني

السؤال الاول : اختر الاجابة الصحيحة

١. ص =  $\frac{3}{4}$  ، س =  $\frac{1}{2}$

٢.  $\frac{1}{2}$

٣. ٣

٤. ٤

٥.  $\frac{10}{3}$

السؤال الثاني

١. P (-٣، ٧)

٢. ١٠ وحدة مربعة

السؤال الثالث

١.  $\sqrt[10]{10}$

٢. ٤

السؤال الرابع

١. ص =  $\frac{2}{7}$  س

٢. ٤ وحدة مربعة

السؤال الخامس

١.  $\sqrt{17}$  ٢

الاختبار الثالث

السؤال الاول

١. ٢-

٢. ٤-

٣. ٩

٤. ٢

٥. ٧

٦. ٢

السؤال الثاني

١.  $\frac{1}{2}$

٢.  $\frac{8}{3} = ك$

السؤال الثالث

١. ص + ٢س - ٦ = صفر

السؤال الرابع

١. م = ٩

٢. ص =  $\frac{9}{5}$  س

السؤال الخامس

١. ص + ٢س - ١٣ = صفر

الاختبار الرابع

السؤال الاول

١. س + ص - ٤ = صفر

٢. ٢س + ٥ص - ٤ = صفر

السؤال الثاني

١. ٢س + ص - ٤ = صفر

السؤال الثالث

٢.  $\frac{1}{4}$  وحدة مربعة

السؤال الرابع

١.  $(\frac{7}{4}, ٠)$

السؤال الخامس

$$\begin{aligned} & \frac{3-}{2} \cdot 2 \\ & \cdot 3 \quad 2s + 3v - 13 = \text{صفر} \end{aligned}$$

الاختبار الخامس

السؤال الاول

$$\begin{aligned} & \cdot 1 \quad 2s + v - 4 = \text{صفر} \\ & \cdot 2 \quad 3s - 2v - 6 = \text{صفر} \end{aligned}$$

السؤال الثاني

$$\begin{aligned} & \cdot 1 \quad 5 = k \\ & \cdot 2 \quad \frac{17-}{5} = k \end{aligned}$$



حساب المثلثات  
الاختبار الاول

السؤال الاول : اكمل العبارات الاتية .

- ١ . ١
- ٢ . ٥°
- ٣ .  $\frac{5}{2}$
- ٤ .  $\frac{2}{5}$
- ٥ .  $\frac{25}{16}$  ----- ١
- ٦ .  $\frac{261}{64}$

السؤال الثاني :

- ١ .  $\frac{3}{4}$

السؤال الثالث :

- ١ .  $\frac{13}{7} = ك$
- ٢ . جاب =  $\frac{1}{5\sqrt{5}}$

السؤال الرابع :

- ١ .  $\frac{4}{5}$
- ٢ .  $\frac{2}{8}$

السؤال الخامس :

- ١ .  $\frac{2}{2}$

الاختبار الثاني

السؤال الاول

- ١ . ١
- ٢ .  $\frac{2}{2}$
- ٣ . ١
- ٤ .  $\frac{\sqrt{3}}{2}$
- ٥ .  $\frac{2}{12}$
- ٦ . ٣

السؤال الثاني

- ١ .  $\frac{19}{10}$

السؤال الثالث

٢ .١

$\frac{2}{4}$  .٢

السؤال الرابع

$\frac{10}{4}$  .١

السؤال الخامس

٢ .١

$\frac{12}{12}$  .٢

الاختبار الثالث

السؤال الاول

$\sqrt{2}$  .١

$\frac{2}{2}$  .٢

٢ .٣

٣ .٤

$\frac{4-}{2}$  .٥

٧ .٦

السؤال الثاني

١١ سم .١

$\frac{4}{5}$  .٢

السؤال الثالث

١٢ سم .١

$\frac{1}{2}$  .٢

السؤال الرابع

$\sqrt[3]{7}$  .١

$\frac{4}{5}$  .٢

السؤال الخامس

$\frac{\sqrt{3}}{4}$  .١

الاختبار الرابع

السؤال الاول

$\frac{2}{4}$  .١

$\frac{2}{2}$  .٢

٨ .٣

صفر .٤

صفر .٥

$$.6 \frac{1}{3\sqrt{}}$$

السؤال الثاني

$$.1 \frac{8}{5}$$

$$.2 \frac{4}{}$$

السؤال الثالث

$$.1 \frac{1}{}$$

$$.2 \frac{8}{}$$

السؤال الرابع

$$.1 \frac{1}{}$$

$$.2 \frac{2}{5}$$

السؤال الخامس

$$.1 \frac{2}{3}$$

$$.2 \frac{2}{13\sqrt{}}$$

منتخب زوجة الرياضيات أ / عادل ادوار

مولانا  
www.Mwlana.Com