

امتحان تجريبي شهادة إتمام الدراسة الثانوية الأزهرية

القسم : الأدبي

المادة : الجغرافيا


التاريخ : / / ٢٠١ م

زمن الإجابة : ثلاث ساعات



الأزهر الشريف
قطاع المعاهد الأزهرية

نموذج ثانوية الأزهرية



توقيع		الدرجة	الأسئلة من ١ إلى ٥
المراجع	المقدر		
			السؤال الأول
			السؤال الثاني
			السؤال الثالث
			السؤال الرابع
			السؤال الخامس
			المجموع

عدد أوراق الإجابة (١١)
صفحات بخلاف الغلاف
وعلى الطالب مسئولية
المراجعة
والتأكد من ذلك قبل تسليم
١١

الرقم السري

مجموع الدرجات بالحروف :
إمضاءات المراجعين :

عدد أوراق الإجابة (١١)
صفحات
بخلاف الغلاف
وعلى الطالب مسئولية
المراجعة
١١

امتحان تجريبي شهادة إتمام الدراسة الثانوية الأزهرية

القسم : الأدبي

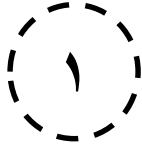
المادة : الجغرافيا

التاريخ : / / ٢٠١ م

زمن الإجابة : ثلاث ساعات

الرقم السري

نموذج ثانوية الأزهرية



اسم الطالب (رباعياً) :

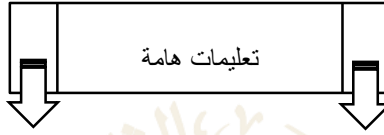
المعهد : الإدارة :

رقم الجلوس : المنطقة :

توقيع الملاحظين بصحة البيانات ومطابقة عدد أوراق كراسة الإجابة عند استلامها من الطالب

١ :

٢ :



عزيزي الطالب / عزيزتي الطالبة :-

- ✓ اقرأ السؤال بعناية ، وفكر فيه جيداً قبل البدء في إجابته.
 - ✓ أجب عن جميع الأسئلة ولا تترك أي سؤال دون إجابة.
 - ✓ عند إجابتك للأسئلة المقالية ، أجب فيما لا يزيد عن المساحة المحددة لكل سؤال .
- مثال:

.....

.....

.....

✓ عند إجابتك عن أسئلة الاختيار من متعدد أن وجدت:

ظل الدائرة ذات الرمز الدال على الإجابة الصحيحة تظليلاً كاملاً لكل سؤال.

مثال : الإجابة الصحيحة (د) مثلاً

أ ب ج د

✓ في حالة ما إذا أجببت إجابة خطأ ، ثم قمت بالشطب وأجببت إجابة صحيحة تحسب الإجابة صحيحة.

✓ وفي حالة ما إذا أجببت إجابة صحيحة ، ثم قمت بالشطب وأجببت إجابة خطأ تحسب الإجابة خطأ.

✓ في حالة التظليل على أكثر من رمز ، تعتبر الإجابة خطأ.

ملحوظة : لا تكرر الإجابة عن الأسئلة الموضوعية (الاختيار من متعدد) ، فلن تقدر إلا الإجابة الأولى فقط.

✓ عدد صفحات الكتيب (١١) صفحات خلاف الغلاف.

✓ تأكد من ترقيم الأسئلة تصاعدياً ، ومن عدد صفحات كتيبك ، فهي مسئوليتك.

✓ زمن الاختبار (ثلاث ساعات) ..

✓ الدرجة الكلية للاختبار (٤٠) درجة.



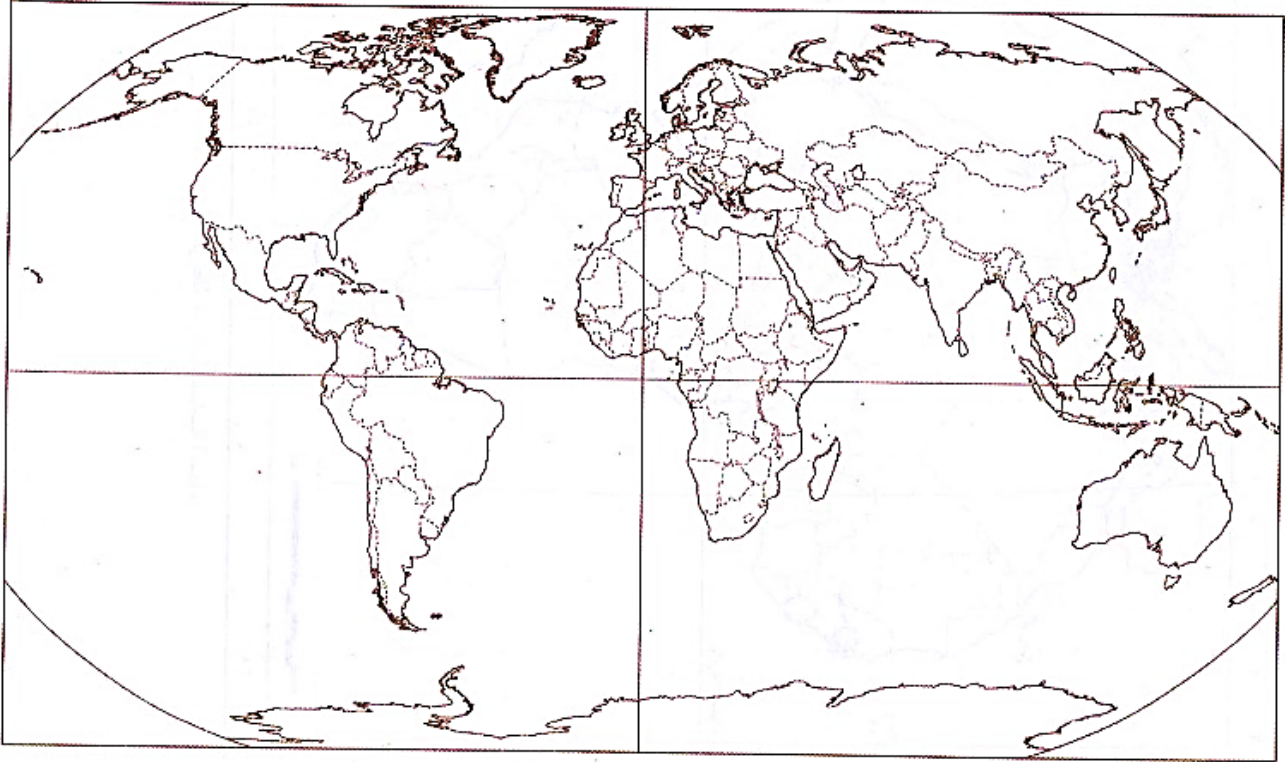
(لكل سؤال ثمان درجات)

السؤال الأول:

أجب عن الأسئلة الآتية:

(أ) أمامك خريطة صماء للعالم حدد عليها ما تشير إليه الأرقام :-

ملحوظة : (ضع الرقم على الخريطة مكان الظاهرة ويكتب اسم الظاهرة مكان النقط):



١- منطقة قلب ذات أهمية إقتصادية

٢- دولة ذات موقع مركزي

٣- دولة وحدوية كبيرة المساحة

٤- دولة فيدرالية

www.azhar.eg



(ب) بم تفسر.....؟

١-- يعد الموقع بالنسبة لدوائر العرض الأكثر أهمية للدولة .

.....
.....
.....

٢- تعتبر الحدود الجبلية من أفضل أنواع الحدود السياسية.

.....
.....
.....

٣- ليس هناك نظام مثالي للحكم يصلح لكل دولة.

.....
.....
.....

٤- تقوم بعض الدول بتغيير مسار الحد السياسي في إحدى مراحل تخطيط الحدود.

.....
.....
.....

www.azhar.edu.eg



السؤال الثاني :

(أ) أختَر الإجابة الصحيحة مما بين أ ، ب ، ج ، د

١- يعرف النطاق البحري الذي تحدد حافته الخارجية من جهة البحر الحد السياسي للدولة بالمياة

- | | |
|-----------|---|
| المحايدة | أ |
| الإقليمية | ب |
| الدولية | ج |
| الداخلية | د |

٢. تختص بالوظائف السيادية داخل الدولة الفيدرالية

- | | |
|--------------------|---|
| السلطة المركزية | أ |
| السلطة المحلية | ب |
| الحكومات الاقليمية | ج |
| جميع ما سبق | د |

٣. ما يأتي يعتبر من خصائص الحدود السياسية ما عدا أنها

- | | |
|--------------------------|---|
| ظاهرة قانونية شرعية | أ |
| لا تظهر بها موارد طبيعية | ب |
| ظاهرة جغرافية | ج |
| قابلة للنقل والحركة | د |

٤. كانت ولاية كشمير في فترة الاستعمار مكان مناسب لقضاء اجازتهم الصيفية.

- | | |
|-----------|---|
| الفرنسي | أ |
| الاسباني | ب |
| الايطالي | ج |
| البريطاني | د |



٥- تقوم بدراسة الوحدات السياسية من وجهة نظر الدولة الذاتية ومطالبها في مجال السياسة الخارجية.

- | | | | |
|--------------------|---|-------------|---|
| المشكلة السياسية | ب | الجيوبولتيك | أ |
| الجغرافيا السياسية | د | العولمة | ج |

٦- يتم الاستعانة بالخرائط التفصيلية في رسم الحدود السياسية في مرحلة

- | | | | |
|-------------|---|------------|---|
| التعيين | ب | التحديد | أ |
| جميع ما سبق | د | إدارة الحد | ج |

٧- الحدود الفاصلة بين مصر وليبيا حدود

- | | | | |
|--------|---|--------|---|
| فلكية | ب | طبيعية | أ |
| حضارية | د | بحرية | ج |

٨- تتوقف اهمية المواقع البحرية على

- | | | | |
|------------------------|---|--------------------|---|
| اهمية المسطحات المائية | ب | طول الساحل | أ |
| جميع ما سبق | د | الظهير الساحلي لها | ج |



(ب) ما العلاقة بين كل من؟

١-أسبانيا ومشكلة سبته ومليته

.....

.....

.....

.....

.....

٢- تنمية المناطق الهامشية ونشأة الحد السياسي الخطي .

.....

.....

.....

.....

.....

www.azhar.eg



السؤال الثالث:

دلل على صحة أو خطأ كل عبارة مما يأتي .

أ- تتعدد أشكال الحدود النهرية بين الدول .

.....

.....

.....

.....

ب- الجوانب الإقتصادية من أهم مقومات الدولة .

.....

.....

.....

.....

ج- تتعدد سمات العاصمة في ضوء معايير اختيارها .

.....

.....

.....

.....

د- تتشابه الأمة مع الدولة الوحدوية في بعض الخصائص وتختلف عنها في خصائص أخرى .

.....

.....

.....

.....



السؤال الرابع:

(أ) ما المقصود ب.....؟

١-الدولة الحبيسة

٢-المشكلة السياسية

٣-التخوم

٤-أعلى البحار

(ب) ماذا يحدث إذا؟

١- تركزت الأقلية جغرافياً على اطراف الدولة؟

www.azhar.eg

٢- لم تحقق الدولة الإكتفاء الذاتي من الغذاء الأساسي؟



السؤال الخامس :

(أ) اكتب ما تشير اليه كل عبارة مما يأتي :

١- مجموعة من القواعد والتشريعات والقوانين التي تنظم عملية إنتخاب ممثلى الشعب .

.....

٢- مجموعات بشرية قليلة العدد ذات خصائص تختلف عن مثيلاتها في مجتمع الأكثرية .

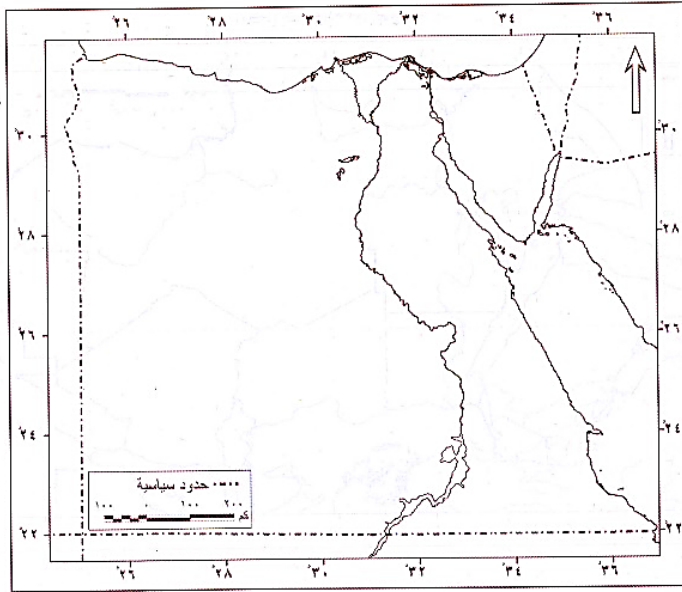
.....

٣- دولة تقع داخل دولة أخرى ولا يمكن الوصول إليها إلا بالمرور في أراضي واجواء الدولة المطوقه لها .

.....

٤-العواصم التي قررت بعض الحكومات نقلها من أماكنها إلى مدن اخرى لسبب أو لآخر .

.....



(ب) أمامك خريطة صماء لمصر حدد عليها ما يأتي

١-خليج السويس.

٢-حد هندسى فلكى يسير مع دائرة عرض ٢٢ شمالاً

واكتب اسم الدولة المجاورة


٣-مدينة طابا ————— مدينة رفح


٤-حد طبيعى بحرى شمال مصر وأكتب اسم البحر

.....



مسودة





www.azhar.edu.eg

