



# دورات القدرات

من سلسلة التبسيط

فريق التدريب:

الأستاذ ناصر العبدالكريم  
والفريق العلمي لسلسلة التبسيط.

للتسجيل والاطلاع على الدورات المتاحة الدخول  
على موقعنا الإلكتروني

[daralharf.com](http://daralharf.com)

ويمكنك التسجيل أيضاً في المواقع التالية

رقم	اسم المكتبة	الحي	اسم الشارع	الهاتف
1	الشرق	الروضة	خالد بن الوليد أمام أسواق السدحان	2490107
2	خالد شامان	الروضة	عبادة بن الصامت	2300505
3	تميم	مخرج 9	الشارع العام	2498803
4	وردة الجامعة	الروابي	الإمام الشافعي	4968647
5	كنوز ورموز	الصحافة	السليمانية	4612011
6	بداية المجتهد	الملز	زيد بن الخطاب	4765734
7	جبال النماص	أم الحمام	الشارع العام	4885948
8	الغمام	الدرعية	طريق الملك خالد	0500465103
9	سامي	العزيزة	الشارع العام	2133707
10	دار المناهل3	الخليج	عبدالعزیز البشر	2265645
11	شيليا	المصيف	ظبية بنت الحارث	4500068
12	راية المعرفة	الحمراء	الحسن بن الحسين	2398895
13	دار المناهل2	الملك فيصل	الحسن بن الحسين	2262030

أو الاتصال أو إرسال رسالة على الجوال المخصص للدورات

0501542222

## أهم مميزات الدورات

- 1- التركيز على أفكار الأسئلة المتكررة في اختبارات القدرات للسنوات الماضية.
- 2- تعلم الأساليب الذكية (غير التقليدية) للحل التي لا تركز على الحصيصة العلمية للطلاب.
- 3- تنوع الأمثلة والتدريبات لتشمل أكبر قدر من الأفكار المحتمل ورودها في الاختبار.
- 4- حصص تدريبية على أنماط الأسئلة لرفع مستوى الطالب.



## دورات التحصيلي للتخصصات العلمية

1- مراجعة شاملة لمناهج الرياضيات والفيزياء والكيمياء والأحياء.

2- التركيز على المعلومات والموضوعات بناء على نسبة احتمالية ورودها في الاختبار.

3- حصص تدريبية على حل أسئلة الاختبارات التحصيلية التي تكرر ورودها في الأعوام الماضية.

## يقدم مع دورات القدرات والتحصيلي

1- كتاب سلسلة التبسيط المناسب للدورة.

2- منهج خاص بالدورة مدمج مع دفتر نشاطات وتدريبات.


3- اختبار إلكتروني تفاعلي كامل (بخمسة أقسام) مماثل للاختبارات الفعلية.

## من تجارب الطلاب والطالبات مع دورات سلسلة التبسيط

### الطالبة نعيمة م أ

اختبرت قبل دورة سلسلة التبسيط اختبارين وكانت أعلى درجة لي 73، وفادتني الدورة كثير.. الشرح كان ممتاز (ما شاء الله) ومناسب لكل المستويات، ودفتر التدريبات ساعدني كثير بطريقة التلخيص، وبحمد الله زادت درجتي بعد الدورة إلى 83.

المزيد من التجارب على موقعنا [daralharf.com](http://daralharf.com)



الطالب عبدالرحمن س ش  
شاركت في الدورة رقم 3601 وارتفعت نسبتي من 75 إلى 86 وذلك بفضل الله أولاً ثم بسبب جهودكم الكبيرة التي أثرت برفع نسبتي فلکم خالص الشكر والتقدير.



### الطالب محمد أ أ

أول دورة أشترك فيها واستفدت منها كثير خصوصا الجزء اللفظي، وجبت في الاختبار اللي بعد الدورة 75، ما اختبرت إلا اختبارين، وكان الاختبار السابق 59 الحمد لله زدت 16 درجة.

## دورات سلسلة التبسيط بالأرقام

■ نصف المشتركين في الدورات ممن لهم اختبارات سابقة قبل الدورة زادت درجاتهم بعد الدورة بمعدل يتجاوز 8 درجات

■ وصلت الزيادة في درجات الطلاب بعد اشتراكهم في الدورات إلى 16 درجة



سلسلة التبسيط  
رؤية مبتكرة ... لفهم أسهل

# الفيزياء

الصف الثاني الثانوي  
الفصل الدراسي الأول

ياسر بن محمد الفيزياء

والفريق العلمي لسلسلة التبسيط

© **بمركز بحوث القرآن الكريم**

**حقوق الطبع محفوظة كلها. لا يُسمح بطبع أي جزء من أجزاء هذا الكتاب، أو تخزينه في أي نظام تخزين المعلومات واسترجاعها، أو نقله على أية هيئة أو بآلية وميمنة سواء كانت إلكترونية أو شرائط ممنوعة أو ميكانيكية، أو استنساخها، أو تسجيلها، أو غيرها إلا بإذن كتابي من مالك حق الطبع.**

**الطبعة الأولى**



## مقدمة

الحمد لله رب العالمين وصلى الله وسلم على نبينا محمد وعلى آله وصحبه أجمعين  
ويعد

فقد حرصنا أن يكون أسلوب عرض هذا الكتاب — والسلسلة بشكل عام —  
مبسّطاً قدر المستطاع ليتمكن الطلاب والطالبات من الاستفادة منه بأقل جهد.  
كما أن هذه السلسلة محاولة لتوفير جهود المعلمين الأفاضل والمعلمات  
الفاضلات في اختيار أساليب العرض المبسطة واختيار الأمثلة المناسبة وحلها  
بطريقة واضحة.

نسأل الله تعالى أن يوفق الجميع لكل خير إنه على كل شيء قدير.

د. محمد بن عبد العزيز آل سعود  
بدر بن عبد العزيز آل سعود

الرياض

## قائمة المحتويات

٦	الفصل الأول: الحركة الدورانية
٧	الدرس ١ : وصف الحركة الدورانية
٩	الدرس ٢ : السرعة الزاوية المتجهة
١١	الدرس ٣ : انتشار الزاوي
١٣	الدرس ٤ : ديناميكا الحركة الدورانية
١٥	الدرس ٥ : العزم
١٧	الدرس ٦ : الاتزان
١٩	الدرس ٧ : الاتزان الميكانيكي
٢١	الدرس ٨ : القوة الطاردة المركزية وقوة كوريوليس
٢٣	أجوبة الفصل الأول
٢٤	الفصل الثاني: الزخم وحفظه
٢٥	الدرس ٩ : الدفع والزخم
٢٧	الدرس ١٠ : نظرية الدفع - الزخم
٢٩	الدرس ١١ : حفظ الزخم
٣١	الدرس ١٢ : الارتداد
٣٣	الدرس ١٣ : التصادم في بعدين
٣٥	أجوبة الفصل الثاني
٣٦	الفصل الثالث: الشغل والطاقة والآلات البسيطة
٣٧	الدرس ١٤ : الشغل والطاقة والشغل
٣٩	الدرس ١٥ : الشغل
٤١	الدرس ١٦ : القدرة
٤٣	الدرس ١٧ : الآلات
٤٥	الدرس ١٨ : كفاءة الآلة
٤٧	الدرس ١٩ : الآلات المركبة
٤٩	أجوبة الفصل الثالث
٥٠	الفصل الرابع: الطاقة وحفظها
٥١	الدرس ٢٠ : الأشكال المتعددة للطاقة
٥٣	الدرس ٢١ : الطاقة المخزنة

٥٥	الفصل الرابع: أجزءة الفصل الرابع.....
٥٧	الفصل الرابع: أجزءة الفصل الرابع.....
٥٩	الفصل الرابع: أجزءة الفصل الرابع.....
٦١	الفصل الرابع: أجزءة الفصل الرابع.....

## الفصل الخامس: الطاقة الحرارية.....

٦٢	الفصل الخامس: الطاقة الحرارية.....
٦٣	الفصل الخامس: الطاقة الحرارية.....
٦٦	الفصل الخامس: الطاقة الحرارية.....
٦٨	الفصل الخامس: الطاقة الحرارية.....
٧٠	الفصل الخامس: الطاقة الحرارية.....
٧٢	الفصل الخامس: الطاقة الحرارية.....
٧٤	الفصل الخامس: الطاقة الحرارية.....
٧٧	الفصل الخامس: الطاقة الحرارية.....
٧٩	الفصل الخامس: الطاقة الحرارية.....
٨١	الفصل الخامس: الطاقة الحرارية.....
٨٣	الفصل الخامس: الطاقة الحرارية.....
٨٤	الفصل الخامس: الطاقة الحرارية.....

## الفصل السادس: حالات المادة.....

٨٥	الفصل السادس: حالات المادة.....
٨٦	الفصل السادس: حالات المادة.....
٨٩	الفصل السادس: حالات المادة.....
٩١	الفصل السادس: حالات المادة.....
٩٣	الفصل السادس: حالات المادة.....
٩٥	الفصل السادس: حالات المادة.....
٩٧	الفصل السادس: حالات المادة.....
١٠٠	الفصل السادس: حالات المادة.....
١٠٢	الفصل السادس: حالات المادة.....
١٠٤	الفصل السادس: حالات المادة.....
١٠٦	الفصل السادس: حالات المادة.....
١٠٨	الفصل السادس: حالات المادة.....
١١٠	الفصل السادس: حالات المادة.....
١١٢	الفصل السادس: حالات المادة.....

# الحركة الدورانية

- الموسم ١ : وصف الحركة الدورانية ٧
- الموسم ٢ : السرعة الزاوية المتجهة ٩
- الموسم ٣ : التسارع الزاوي ١١
- الموسم ٤ : ديناميكا الحركة الدورانية ١٣
- الموسم ٥ : العزوم ١٥
- الموسم ٦ : الاتزان ١٧
- الموسم ٧ : الاتزان الميكانيكي ١٩
- الموسم ٨ : القوة الطاردة المركزية وقوة كوريوليس ٢١
- أجوبة الفصل الأول ٢٣



## الدرس ١ : وصف الحركة الدورانية

### أساسيات الحركة الدورانية

حركة قرص الحاسوب المدمج CD ، حركة الإطارات ، حركة بعض الألعاب في مدينة الألعاب ، مثل العربة الدوارة ،				من أمثلتها
الوحدة	رمزها	مقارنها	الدورة الكاملة	وحدات قياس زوايا الدوران
الدرجة	°	تعادل $\frac{1}{360}$ من الدورة الكاملة	360°	
الراديان	rad	تعادل $\frac{1}{2\pi}$ من الدورة الكاملة	2π rad	
إشارة الدوران		 الدوران عكس اتجاه عقارب الساعة  الدوران مع اتجاه عقارب الساعة		

(١) ضع ✓ أو × : حركة قرص الحاسوب المدمج CD حركة دورانية.

(٢) اختر: حركة العربة الدوارة في مدينة الألعاب حركة ..

(A) خطية. (B) دورانية. (C) اهتزازية.

(٣) اختر: زاوية الدوران التي تعادل  $\frac{1}{2\pi}$  من الدورة الكاملة هي ..

(A) grad . (B) الدرجة. (C) الراديان.

(٤) املا الفراغ: جسم دار دورة كاملة ؛ إن زاوية دورانه بوحدة الراديان تعادل ..... .

(٥) ضع ✓ أو × : دوران الجسم عكس اتجاه حركة عقارب الساعة يُعد سالبًا.

### الإزاحة الزاوية : زاوية الدوران

{ التغير في الزاوية أثناء دوران الجسم }				تعريفها
الأرض حول محورها	عقرب الثوراي	عقرب الدقائق	عقرب الساعات	زمن الدورة الكاملة
24 h	60 s	60 min	12 h	
الإزاحة الزاوية لجزء من دورة = $\frac{\text{زمن الجزء من الدورة}}{\text{زمن الدورة الكاملة}} \times \text{الإزاحة الزاوية للدورة الكاملة}$				الإزاحة الزاوية لجزء من دورة
+		-		عندما يُرى من القطب الشمالي عندما يُرى من القطب الجنوبي

$d$ الإزاحة الخطية [m]	$d = r\theta$	العلاقة بين الإزاحتين الزاوية والخطية
$r$ نصف قطر الجسم الدوار [m]		
$\theta$ الإزاحة الزاوية [rad]		

- (٦) اكتب المصطلح العلمي: التغير في الزاوية أثناء دوران الجسم.
- (٧) اختر: زاوية دوران الأرض خلال 12 h مقلوبة بوحدة rad تساوي ..  
 .  $\pi$  (A) .  $2\pi$  (B) .  $4\pi$  (C)
- (٨) اختر: يقطع عقرب الثواني إزاحة زاوية قدرها  $\pi$  rad خلال زمن ..  
 . 15 s (A) . 30 s (B) . 60 s (C)
- (٩) ضع ✓ أو × : دوران الأرض يُعد موجياً عندما يُرى من القطب الشمالي.



### أمثلة

7 ص 13: هل لكل أجزاء عقرب الدقائق الإزاحة الزاوية نفسها؟ وهل لها إزاحة خطية عائلية؟  
 الحل: نعم؛ لها نفس الإزاحة الزاوية، وليس لها نفس الإزاحة الخطية؛ لأنها تزداد بزيادة نصف القطر.

6 ص 13: إذا كان قطر الكرة المستخدمة في فارة حاسوب 2 cm وحركت الفارة 12 cm فما الإزاحة الزاوية للكرة؟

الحل: نحسب نصف قطر الكرة ثم نحسب إزاحته الزاوية ..

$$r = \frac{\text{القطر}}{2} = \frac{2}{2} = 1 \text{ cm}$$

$$d = r\theta \Rightarrow \theta = \frac{d}{r} = \frac{12}{1} = 12 \text{ rad}$$

53 ص 33: أديرت عجلة قيادة سيارة بزاوية قدرها  $128^\circ$ ؛ فإذا كان نصف قطرها 22 cm فما المسافة التي تحركها نقطة على الطرف الخارجي لعجلة القيادة؟



الحل: نحول زاوية الدوران من  $^\circ$  إلى rad ثم نحسب المسافة ..

$$\theta = \frac{128\pi}{180} = 2.23 \text{ rad}$$


$$d = r\theta = 22 \times 2.23 = 49 \text{ cm}$$

1 ص 12: ما الإزاحة الزاوية لعقرب الساعات خلال 1 h ؟

الجواب النهائي:  $\frac{\pi}{6}$  rad .

## الدرس ٢ : السرعة الزاوية المتجهة

### السرعة الزاوية المتجهة

تعريفها	{ الإزاحة الزاوية مقسومة على الزمن الذي يتطلبه حدوث هذه الإزاحة }
إشارتها	 الدوران عكس اتجاه عقارب الساعة <b>+</b>  الدوران مع اتجاه عقارب الساعة <b>-</b>
العلاقة الرياضية	$\omega = \frac{\Delta\theta}{\Delta t}$ <p><math>\omega</math> السرعة الزاوية المتجهة [rad/s]  <math>\Delta\theta</math> الإزاحة الزاوية [rad]  <math>\Delta t</math> زمن حدوث الدوران [s]</p>
فائدة	عند دوران الجسم بمعدل ثابت فإن سرعته الزاوية المتجهة تبقى ثابتة
السرعة الزاوية المتجهة اللحظية	تساوي - عندئذٍ - ميل متحنى العلاقة بين الموقع الزاوي والزمن

(١) اكتب المصطلح العلمي: الإزاحة الزاوية مقسومة على الزمن الذي يتطلبه حدوثها.

(٢) ضع ✓ أو ✗ : السرعة الزاوية المتجهة لحركة عقرب الدقائق سالبة.

(٣) اختر: ميل متحنى العلاقة بين الموقع الزاوي والزمن يساوي عددًا ..



(A) الإزاحة الزاوية. (B) التسارع الزاوي اللحظي. (C) السرعة الزاوية المتجهة اللحظية.

### علاقة السرعة الزاوية المتجهة بالسرعة الخطية المتجهة

العلاقة الرياضية	$v = r\omega$ <p><math>v</math> السرعة الخطية المتجهة [m/s]  <math>r</math> نصف قطر الجسم الدوار [m]  <math>\omega</math> السرعة الزاوية المتجهة [rad/s]</p>
تعليل	جميع نقاط الأرض تدور بنفس الزاوية رغم أنها تقطع مسافات مختلفة في كل دورة <b>حلل</b> : لأن الأرض جسم صلب وكل أجزاء الجسم الصلب تدور بنفس المعدل
فائدة	الشمس ليست جسمًا صلبًا لذا تدور أجزاؤها المختلفة بمعدلات مختلفة

(٤) ضع ✓ أو ✗ : كل أجزاء الأرض تدور بنفس المعدل.

(٥) اختر: الأجزاء المختلفة من الشمس تدور بمعدلات ..



(A) مختلفة. (B) متساوية. (C) أحيانًا مختلفة وأحيانًا متساوية.

### أمثلة

5 ص 13: يدور القمر حول محوره دورة كاملة خلال 27.3 يوماً؛ فإذا كان نصف قطر القمر  $1.74 \times 10^6$  m فأحسب تردد دوران القمر بوحدة rad/s .

الحل: نحول زمن دوران القمر من يوم إلى ثانية ثم نحسب تردد دوران القمر ..

$$\Delta t = (27.3 \text{ d})(24 \text{ h/d})(3600 \text{ s/h}) = 2358720 \text{ s}$$

$$\omega = \frac{\Delta \theta}{\Delta t} = \frac{2\pi}{2358720} = 2.66 \times 10^{-6} \text{ rad/s}$$

51 ص 33: نصف قطر الحافة الخارجية لإطار 45 cm وسرعته 23 m/s؛ احسب السرعة الزاوية للإطار بوحدة rad/s .

الحل:

$$\text{cm} \xrightarrow{\times 10^{-2}} \text{m}$$

$$v = r\omega \Rightarrow \omega = \frac{v}{r} = \frac{23}{45 \times 10^{-2}} = 51.1 \text{ rad/s}$$

تدريب: ما مقدار السرعة الزاوية لعقرب الساعات؟

الجواب النهائي:  $\frac{\pi}{6}$  rad .

تدريب للمتفوقين: يدور القمر حول محوره دورة كاملة خلال 27.3 يوماً؛ فإذا كان نصف قطر القمر

$1.74 \times 10^6$  m فما مقدار السرعة الخطية لصخرة على خط استواء القمر تتحرك نتيجة دوران القمر؟

الجواب النهائي: 4.6 m/s .

## الدرس ٣ : التسارع الزاوي

### التسارع الزاوي

تعريفه	{ التغير في السرعة الزاوية مقسومًا على الفترة الزمنية التي حدث خلالها التغير }
العلاقة الرياضية	$\alpha = \frac{\Delta\omega}{\Delta t}$ <p> <math>\alpha</math> التسارع الزاوي [rad/s<sup>2</sup>]  <math>\Delta\omega</math> السرعة الزاوية المتجهة [rad/s]  <math>\Delta t</math> زمن حدوث الدوران [s]                 </p>
إشارته	<p>+ إذا كان التغير في السرعة الزاوية المتجهة موجبًا</p> <p>- إذا كان التغير في السرعة الزاوية المتجهة سالبًا</p>
تعليل	التسارع الزاوي يساوي صفر لجسم يدور بمعدل ثابت ، <b>حلال</b> ، لأن سرعته الزاوية المتجهة ثابتة
قائمه	يمكن إيجاد التسارع الزاوي اللحظي بإيجاد ميل العلاقة البيانية بين السرعة الزاوية المتجهة والزمن
التسارع الخطي والتسارع الزاوي	$a = r\alpha$ <p> <math>a</math> التسارع الخطي [m/s<sup>2</sup>]  <math>r</math> نصف قطر الجسم الدوار [m]  <math>\alpha</math> التسارع الزاوي [rad/s<sup>2</sup>]                 </p>

(١) اكتب المصطلح العلمي: التغير في السرعة الزاوية مقسومًا على الزمن التي حدث خلاله التغير.

(٢) اختر: إذا كان التغير في السرعة الزاوية سالبًا فإن التسارع الزاوي ..

(A) موجب. (B) سالب. (C) ليس له إشارة.



(٣) اختر: ميل العلاقة البيانية بين السرعة الزاوية المتجهة والزمن هو ..

(A) التردد الزاوي. (B) السرعة الزاوية. (C) التسارع الزاوي اللحظي.

### التردد الزاوي

تعريفه	{ عدد الدورات الكاملة التي يدورها الجسم في الثانية الواحدة }
العلاقة الرياضية	$f = \frac{\omega}{2\pi}$ <p> <math>f</math> التردد الزاوي [rev/s]  <math>\omega</math> السرعة الزاوية المتجهة [rad/s]                 </p>
لقائه	rev/s تعني دورة/ث

(٤) اكتب المصطلح العلمي: عند الدورات الكاملة التي يدورها الجسم في الثانية الواحدة.

(٥) اختر: تدور عجلة هوائية بمعدل ثابت 25 rev/min ؛ إن سرعتها الزاوية المتجهة ..

(A) تبقى ثابتة. (B) تزداد. (C) تقل.



(٦) اختر: إذا دارت لعبة بمعدل ثابت 5 rev/min فإن تسارعها الزاوي ..

(A) صفر. (B) موجب. (C) سالب.

## أمثلة

8 ص 13: يدور الملف الأسطواني في محرك خسارة الملابس بمعدل 635 rev/min ، وعند فتح غطاء الخسارة يتوقف المحرك عن الدوران ؛ فإذا احتاج الملف 8 s حتى يتوقف بعد فتح الغطاء فما التسارع الزاوي للملف الأسطواني؟

الحل:

أولاً: نحسب سرعتين الزاويتين الابتدائية والنهائية ..

$$\omega_1 = 2\pi f_1 = 2 \times 3.14 \times \frac{635}{60} = 66.4 \text{ rad/s}$$

$$\omega_2 = 0$$

ثانياً: نحسب التسارع الزاوي للملف ..

$$\alpha = \frac{\Delta\omega}{\Delta t} = \frac{0 - 66.4}{8} = -8.3 \text{ rad/s}^2$$

$$\begin{array}{l} \text{min} \xrightarrow{\times 60} \text{s} \\ \text{rev/min} \xrightarrow{+ 60} \text{rev/s} \end{array}$$

؛ لأن الملف توقف عن الدوران ؛

2 ص 12: إذا كان التسارع الخطي لعملة نقل 1.85 m/s<sup>2</sup> والتسارع الزاوي لإطارها 5.23 rad/s<sup>2</sup> فما قطر الإطار الواحد للعملة؟

الحل: نحسب نصف قطر الإطار ثم نحسب قطره ..

$$\alpha = r\alpha \Rightarrow r = \frac{a}{\alpha} = \frac{1.85}{5.23} = 0.35 \text{ m}$$

$$\text{قطر الإطار} = 2r = 2 \times 0.35 = 0.7 \text{ m}$$

تدوير: تدور مروحة بمعدل 120 rad/s ، وتزايد معدل دورانها إلى 220 rad/s خلال 4 s ؛ ما مقدار التسارع الزاوي للمروحة؟

الجواب النهائي: 25 rad/s<sup>2</sup> .

## الدرس ٤ : ديناميكا الحركة الدورانية

### العزم

			تعريفه	{ مقياس فاعلية القوة في إحداث الدوران }						
			ذراع القوة	{ المسافة العمودية من محور الدوران إلى نقطة تأثير القوة }						
			نصف قطر الدوران	{ المسافة بين محور الدوران ونقطة تأثير القوة }						
	$L$ ذراع القوة [m] $r$ نصف قطر الدوران [m] $\theta$ الزاوية المحصورة بين القوة ونصف قطر الدوران [°]	$L = r \sin \theta$	العلاقة بين ذراع القوة ونصف قطر الدوران							
			فائدة	ذراع القوة غير المتعامدة مع نصف قطر الدوران أصغر من نصف قطر الدوران						
			العلاقة الرياضية	$\tau = FL$ $\tau = Fr \sin \theta$	$\tau$ العزم [N.m] $F$ القوة [N] $L$ ذراع القوة [m] $r$ نصف قطر الدوران [m] $\theta$ الزاوية المحصورة بين القوة ونصف قطر الدوران [°]					
			تطبيق	عند فتح باب حر الدوران حول المفصلات ..						
				<table border="1"> <tr> <td>أكبر عزم</td> <td>يتعلم العزم</td> </tr> <tr> <td>القوة تؤثر في أبعد نقطة عن المفصلات</td> <td>القوة تؤثر في المفصلات</td> </tr> <tr> <td>القوة متعامدة مع الباب</td> <td>القوة موازية للباب</td> </tr> </table>	أكبر عزم	يتعلم العزم	القوة تؤثر في أبعد نقطة عن المفصلات	القوة تؤثر في المفصلات	القوة متعامدة مع الباب	القوة موازية للباب
أكبر عزم	يتعلم العزم									
القوة تؤثر في أبعد نقطة عن المفصلات	القوة تؤثر في المفصلات									
القوة متعامدة مع الباب	القوة موازية للباب									
			فائدتان	<ul style="list-style-type: none"> <li>عند فتح باب يزيد أثر قوتك كلما ابتعدت نقطة تأثير قوتك عن محور الدوران.</li> <li>لا يدور الباب عندما تؤثر على مفصلاته قوة عمودية.</li> </ul>						
			العوامل المؤثرة في عزم الدوران	<ul style="list-style-type: none"> <li>مقدار القوة.</li> <li>اتجاه القوة.</li> <li>ذراع القوة.</li> <li>تنبه: زيادة عزم الدوران تزداد السرعة الزاوية المتجهة.</li> </ul>						

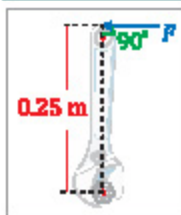
- (١) اكتب المصطلح العلمي: مقياس فاعلية القوة في إحداث الدوران.
- (٢) اكتب المصطلح العلمي: المسافة العمودية من محور الدوران إلى نقطة تأثير القوة.
- (٣) اكتب المصطلح العلمي: المسافة بين محور الدوران ونقطة تأثير القوة.
- (٤) اختر: ذراع القوة غير المتعامدة مع نصف قطر الدوران ..... نصف قطر الدوران.
  - يساوي
  - أكبر من
  - أصغر من



- (٥) اختر: إذا أثرت قوة في أبعد نقطة عن مَصلَّات باب حر الدوران فإن عزمها يساوي ..  
 (A) صفرًا. (B) أكبر قيمة ممكنة. (C) أصغر قيمة ممكنة.
- (٦) اختر: يعتمد العزم المؤثر على باب حر الدوران حول مَصلَّات إذا كانت القوة ..  
 (A) موازية للباب. (B) متعامدة مع الباب. (C) مائلة مع الباب.
- (٧) اختر: لا يدور الباب إذا أثرت على مَصلَّاته قوة عمودية بسبب ..  
 (A) انعدام ذراع القوة. (B) انعدام القوة. (C) انعدام محور الدوران.
- (٨) ضع ✓ أو × : عزم الدوران يعتمد على مقدار القوة المؤثرة.
- (٩) اختر: إذا ازداد عزم الدوران فإن السرعة الزاوية المتجهة ..  
 (A) تبقى ثابتة. (B) تقل. (C) تزداد.



### أمثلة



61 ص 34: ما مقدار العزم المؤثر في برغي الناتج عن قوة مقدارها 15 N تؤثر عمودياً على الاتجاه الرأسي في مفتاح شد طوله 0.25 m ؟

الحل:

$$\tau = Fr \sin \theta = 15 \times 0.25 \sin 90 = 3.75 \text{ N.m}$$

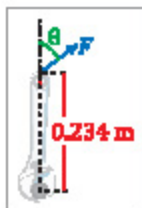
11 ص 16: إذا تطلَّب تدوير جسم عزمًا مقداره 55 N.m في حين كانت أكبر قوة يمكن التأثير بها 135 N فما طول ذراع القوة الذي يجب استخدامه؟

الحل:

$$\tau = FL \Rightarrow L = \frac{\tau}{F} = \frac{55}{135} = 0.4 \text{ s}$$

12 ص 16: لديك مفتاح شد طوله 0.234 m وتريد أن تستخدمه في إنجاز مهمة تتطلب عزمًا مقداره 32.4 N.m عن طريق التأثير بقوة مقدارها 232 N ما مقدار أقل زاوية تصنعها القوة المؤثرة مع الاتجاه الرأسي وتسمح بتوفير العزم المطلوب؟

الحل:



$$\tau = Fr \sin \theta \Rightarrow \theta = \sin^{-1} \left( \frac{\tau}{Fr} \right)$$

$$\therefore \theta = \sin^{-1} \left( \frac{32.4}{232 \times 0.234} \right) = 36.6^\circ$$



## الدرس ٥ : العزوم

### محصلة العزوم

مقارها	مجموع عزوم القوى المؤثرة						
فائدة	عند ائزان جسم تحت تأثير عزمين .. <ul style="list-style-type: none"> <li>لا يحدث دوران.</li> <li>العزم الأول يساوي العزم الثاني ويعاكسه في الاتجاه.</li> </ul>						
المعلقة الرياضية	<table border="1"> <tr> <td><math>\tau_1</math> العزم الأول [N.m]</td> <td><math>\tau_1 + \tau_2 = 0</math></td> <td><math>\tau_1 = \tau_2</math></td> </tr> <tr> <td><math>\tau_2</math> العزم الثاني [N.m]</td> <td></td> <td></td> </tr> </table>	$\tau_1$ العزم الأول [N.m]	$\tau_1 + \tau_2 = 0$	$\tau_1 = \tau_2$	$\tau_2$ العزم الثاني [N.m]		
$\tau_1$ العزم الأول [N.m]	$\tau_1 + \tau_2 = 0$	$\tau_1 = \tau_2$					
$\tau_2$ العزم الثاني [N.m]							
نتيجه	العزم اللازم لمنع الجسم من الدوران يساوي العزم الأصلي ويعاكسه في الاتجاه						

(١) ضع  $\checkmark$  أو  $\times$  : محصلة العزوم تساوي مجموع عزوم القوى المؤثرة.

(٢) اختر: عند ائزان الجسم تحت تأثير قوتين فإن مجموع العزوم ..

(A) يساوي صفراً. (B) أكبر من صفر. (C) أصغر من صفر.

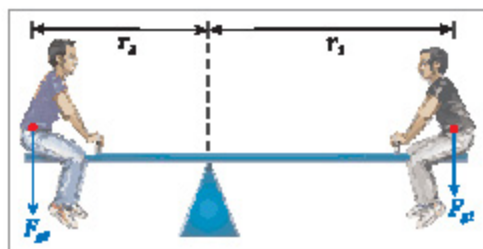


(٣) ضع  $\checkmark$  أو  $\times$  : عند ائزان جسم تحت تأثير عزمين فإن العزم الأول يساوي العزم الثاني ويعاكسه في الاتجاه.

(٤) ضع  $\checkmark$  أو  $\times$  : العزم اللازم لمنع جسم من الدوران يساوي العزم الأصلي وفي نفس اتجاهه.

### أمثلة

14 ص 18: يجلس علي<sup>١</sup> على بعد 1.8 m من مركز لعبة الميزان ١ على أي بعد من مركز اللعبة يجب أن يجلس هيداه حق يترن؟ علماً أن كتلة علي<sup>٢</sup> 43 kg وكتلة هيداه 52 kg .  
الحل: نحسب القوتين ..



$$F_{g1} = m_1 g = 43 \times 9.8 = 421.4 \text{ N}$$

$$F_{g2} = m_2 g = 52 \times 9.8 = 509.6 \text{ N}$$

عندما لا يحدث دوران فإن مجموع العزوم يساوي صفراً ..

$$F_{g1} r_1 = F_{g2} r_2$$

$$421.4 \times 1.8 = 509.6 \times r_2$$

$$r_2 = \frac{421.4 \times 1.8}{509.6} = 1.49 \text{ m}$$

15 ص 18: إذا كان نصف قطر إطار دراجة هوائية  $7.7 \text{ cm}$  وأثرت السلسلة « الجيتير » بقوة مقدارها  $35 \text{ N}$  في الإطار في اتجاه حركة عقارب الساعة فما مقدار العزم اللازم لمنع الإطار من الدوران؟

الحل:

$$\frac{\text{cm}}{\times 10^{-2}} \rightarrow \text{m}$$

$$\tau = FL = 35 \times 7.7 \times 10^{-2} = 2.695 \text{ N.m}$$

وبما أن العزم اللازم لمنع السلسلة من الدوران يساوي عزم السلسلة ويعاكسه في الاتجاه فإن ..

$$\tau = 2.695 \text{ N.m} \text{ هكس اتجاه عقارب الساعة}$$

2 ص 17: يلعب سعيد ولؤي على أرجوحة أفقية طولها  $1.75 \text{ m}$  بحيث يحافظان على وضع الأوتان للعبة؛ فإذا كانت كتلة سعيد  $56 \text{ kg}$  وكتلة لؤي  $43 \text{ kg}$  فما بعد نقطة الارتكاز عن كل منهما؟ أهمل وزن لوح الأرجوحة.

الجواب النهائي:  $0.76 \text{ m}$  ،  $0.99 \text{ m}$  .

## الدرس ٦ : الاتزان

### مركز الكتلة

تعريفه { نقطة في الجسم تتحرك بالطريقة نفسها التي تتحرك بها النقطة المادية }			تعريفه	
توضيح النقطة المادية عبارة عن جسيم تقطي ليس له أبعاد			توضيح	
<p>الخطوة الثالثة</p> <p>نقطة تقاطع الخطين الرأسيين تمثل مركز الكتلة للجسم</p> 	<p>الخطوة الثانية</p> <p>نُعلّق الجسم من نقطة أخرى وندهه يتأرجح إلى أن يتوقف ثم نرسم خطاً رأسياً من نقطة التعليق الجديدة</p> 	<p>الخطوة الأولى</p> <p>نُعلّق الجسم من أي نقطة وندهه يتأرجح إلى أن يتوقف ثم نرسم خطاً رأسياً من نقطة التعليق</p> 	خطوات تحديد موقع مركز الكتلة لجسم	
مركز الكتلة لجسم صلب ثابت الكثافة يقع في منتصف الجسم			قاعدة	
كل الأجسام التي تتحرك حركة دورانية تدور حول محور يمر بمركز كتلتها			تنبه	
<ul style="list-style-type: none"> <li>• شخص يقف ويلاه متلپتان جانبه: مركز الكتلة على بعد مستمترات أسفل السرة في منتصف المسافة بين سطحي الجسم الأمامي والخلفي.</li> <li>• طفل: مركز الكتلة للطفل أعلى من الشخص العادي بعلة مستمترات <b>حلال</b> لأن رأس الطفل يكون كبيراً نسبياً بالنسبة لجسمه.</li> <li>• تحليل: موقع مركز كتلة جسم الإنسان غير ثابت <b>حلال</b> لأن جسم الإنسان مرن</li> </ul>			موقع مركز الكتلة لجسم الإنسان	
<p>سار رأس لاهب الجيمباز</p>  <p>سار مركز كتلة اللاهب</p>			<p>لاهب الجيمباز يبدو وكأنه يملق في الهواء <b>حلال</b> لأن رأسه يبقى على نفس الارتفاع لفترة طويلة فتكون الحركة الرأسية لرأسه أقل من الحركة الرأسية لمركز كتلته ليظهر وكأنه يملق في الهواء</p>	تحليل

- (١) اكتب المصطلح العلمي: نقطة في الجسم تتحرك بالطريقة نفسها التي تتحرك بها النقطة المادية.
- (٢) ضع ✓ أو × : كل الأجسام التي تتحرك حركة دورانية تدور حول محور يمر بمركز كتلتها.
- (٣) املا الفراغ: مركز الكتلة لجسم صلب ثابت الكثافة يقع في ..... .
- (٤) اختر: موقع مركز كتلة الطفل ..... موقع مركز كتلة الشخص العادي.
- (٥) ضع ✓ أو × : موقع مركز كتلة جسم الإنسان ثابت.



### مركز الكتلة والاستقرار

متى يكون الجسم مستقرًا؟	عندما يكون مركز الكتلة فوق قاعدة الجسم <b>تنبيه:</b> إذا كانت قاعدة الجسم المستقر ضيقة ومركز كتلته عاليًا فإن أي قوة صغيرة تجعله يتقلب أو يدور.
متى يكون الجسم غير مستقر؟	عندما يكون مركز الكتلة خارج قاعدة الجسم لذلك يدور الجسم أو يتقلب دون عزم إضافي
تعليق	يتقلب الصندوق المرتفع قليل العرض بسهولة بعكس الصندوق المنخفض العريض <b>حلل</b> ، لأن مركز الكتلة للأول مرتفع فنحتاج إلى ميل أقل لجعله يتحرك خارج القاعدة فينتقل بسهولة

- (٦) ضع ✓ أو × : إذا كان مركز كتلة جسم فوق قاعدته فإن الجسم يكون غير مستقر.
- (٧) ضع ✓ أو × : إذا كان مركز كتلة جسم خارج قاعدته فإن الجسم يكون مستقرًا.
- (٨) ضع ✓ أو × : يتقلب الصندوق المرتفع قليل العرض بسهولة بعكس الصندوق المنخفض العريض.



## الدرس ٧ ، الاتزان الميكانيكي

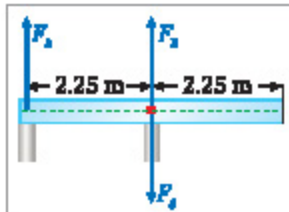
### أساسيات عن الاتزان الميكانيكي

شرطا الاتزان الميكانيكي	(١) الاتزان الانتظلي.	(٢) الاتزان الدوراني.
الاتزان الانتظلي	<ul style="list-style-type: none"> <li>• سرعة الجسم المتجهة ثابتة أو تساوي صفراً.</li> <li>• محصلة القوى المؤثرة في الجسم = صفراً.</li> <li>• مجموع القوى نحو الأعلى = مجموع القوى نحو الأسفل.</li> </ul>	
الاتزان الدوراني	<ul style="list-style-type: none"> <li>• سرعة الجسم الزاوية المتجهة ثابتة أو تساوي صفراً.</li> <li>• محصلة العزوم المؤثرة في الجسم = صفراً.</li> <li>• مجموع العزوم في اتجاه عقارب الساعة = مجموع العزوم في عكس اتجاه عقارب الساعة.</li> </ul>	
إشارة القوة	↑ + القوة للأعلى	↓ - القوة للأسفل
إشارة العزم	 + الجسم يدور <b>عكس</b> اتجاه حركة عقارب الساعة	
	 - الجسم يدور <b>مع</b> اتجاه حركة عقارب الساعة	

- (١) املا الفراغ: شرطا الاتزان الميكانيكي لجسم هما الاتزان ..... والاتزان .. .
- (٢) اختر: إذا كانت سرعة الجسم المتجهة ثابتة فإن اتزان الجسم يكون ..
- (A) انتظالياً. (B) دورانياً. (C) انتظالياً ودورانياً.
- (٣) اختر: إذا كانت سرعة الجسم الزاوية المتجهة ثابتة فإن اتزان الجسم يكون ..
- (A) انتظالياً. (B) دورانياً. (C) انتظالياً ودورانياً.
- (٤) املا الفراغ: في الاتزان ..... تكون محصلة القوى المؤثرة في الجسم مساوية للصفر.
- (٥) املا الفراغ: في الاتزان الدوراني تكون محصلة ..... المؤثرة في الجسم مساوية للصفر.

### أمثلة

23 ص 24: لوح خشبي كتلته 24 kg وطوله 4.5 m يتزن على حاملين أحدهما تحت مركز اللوح مباشرة والثاني عند الطرف، ما مقدار القوتين اللتين يؤثر عليهما كل من الحاملين الرأسيين في اللوح؟



**الحل:** الجسم في حالة اتزان ميكانيكي مما يعني أنه في حالة اتزان انقراطي واطران دوراني ..

أولاً: الاتزان الانقراطي ..

$$F_{\text{المحصلة}} = F_A + F_B - F_g$$

$$F_{\text{المحصلة}} = 0$$

« لأن الجسم في حالة اتزان انقراطي »

$$F_g = \text{وزن الجسم} = mg = 24 \times 9.8 = 235.2 \text{ N}$$

$$\therefore 0 = F_A + F_B - 235.2$$

« أضفنا 235.2 للطرفين »

$$235.2 = F_A + F_B$$

ثانياً: الاتزان الدوراني ..

نختار محور الدوران عند مركز اللوح وعندئذ فإن العزم الناتج عن القوتين  $F_B$  ،  $F_g$  = صفراً ..

$$\tau_{\text{المحصلة}} = \tau_A$$

« لأن الجسم في حالة اتزان دوراني »

$$\tau_{\text{المحصلة}} = 0$$

$$\therefore -F_A r_A = 0 \Rightarrow F_A = 0$$

نحسب مقدار  $F_B$  ..

$$235.2 = F_A + F_B = 0 + F_B$$

$$\therefore F_B = 235.2 \text{ N}$$

**62ص34:** تبين مواصفات سيارة أن وزنها موزع بنسبة 53% على الإطارات الأمامية و 47% على

الإطارات الخلفية ، فإذا كان طول لوح قاعدة سيارة 2.46 m فأين يكون مركز كتلة السيارة؟

**الحل:** السيارة في حالة اتزان دوراني لذا يكون  $F_{\text{المحصلة}} = 0$  ..

نختار محور الدوران عند مركز كتلة السيارة وعندئذ فإن العزم الناتج عن القوة  $F_g$  = صفراً ..

$$\tau_{\text{المحصلة}} = \tau_A - \tau_B$$

$$\therefore 0 = 47\% Fg (2.46 - r) - 53\% Fg r$$

« نكسب القوس »

$$0 = 47 \times 2.46 - 47r - 53r$$

$$115.62 - 100r = 0$$

« أضفنا 100r للطرفين »

$$115.62 = 100r$$

« قسمنا الطرفين على 100 »

$$r = 1.1562 \text{ m}$$

## الدرس ٨ : القوة الطاردة المركزية وقوة كوريوليس

### الأطر المرجعية

أنواعها	• الأطر المرجعية القصورية « أطر غير متسارعة » . • الأطر المرجعية الدوارة « أطر متسارعة » .
تنبه	قوانين نيوتن تطبق على الأطر المرجعية القصورية ولا تطبق على الأطر المرجعية المتسارعة
دوران الأرض	لدوران الأرض تأثير كبير في الغلاف الجوي وفي الطقس والمناخ
	(١) اختر: الأطر المرجعية المتسارعة هي الأطر المرجعية .. (A) السكونية. (B) القصورية. (C) الدوارة.

### القوة الطاردة المركزية

تعريفها	{ قوة ظاهرية غير حقيقية نشعر بها تظهر وكأنها تدفع الجسم إلى الخارج }
مثال توضيحي	منصة تتحرك حركة دورانية مثبت في مركزها نابض مثبت بطرفه الآخر جسم .. ما يشاهده المراقب الواقف على المنصة   الجسم يتدفع للخارج بعيداً عن مركز المنصة   القوة الطاردة المركزية   ما يشاهده المراقب الواقف على الأرض   الجسم يتحرك في مسار دائري ويتسارع نحو المركز بسبب قوة النابض « تسارع مركزي »   
التسارع المركزي	{ تسارع ناشئ عن الحركة الدائرية واتجاهه نحو المركز }
المعادلات الرياضية	$a_c = \frac{v^2}{r}$ $a_c = \omega^2 r$
ملاحظة	يعتمد التسارع المركزي على .. • المسافة من مركز الدوران. • مربع السرعة الزاوية المتجهة.

- (٧) اكتب المصطلح العلمي: قوة ظاهرية غير حقيقية لشعر بها تظهر وكأنها تدفع الجسم للخارج.  
 (٣) اكتب المصطلح العلمي: تسارع ناشئ عن الحركة الدائرية والمجاهه نحو المركز.  
 (٤) اختر: التسارع المركزي يعتمد على ..  
 (أ) مربع السرعة الزاوية المتجهة. (ب) مربع المسافة. (ج) مربع نصف قطر الدوران.



## قوة كوريوليس

المقصود بها	قوة ظاهرية غير حقيقية لشعر بها تظهر وكأنها تحرف الكرة عن مسارها
سبب الإحساس بتأثيرها	ملاحظة الانحراف في الحركة الأفقية عندما تكون في إطار مرجعي دوار
قوة كوريوليس الناشئة	• في نصف الكرة الشمالي: الجسم المتحرك شمالاً ينحرف نحو الشرق. • في نصف الكرة الجنوبي: الجسم المتحرك جنوباً ينحرف نحو الغرب.

- (٥) اختر: قوة ظاهرية غير حقيقية لشعر بها تظهر وكأنها تحرف الكرة عن مسارها ..  
 (أ) قوة كوريوليس. (ب) القوة الطاردة المركزية. (ج) القوة الوهمية.  
 (٦) اختر: بتأثير قوة كوريوليس؛ الجسم المتحرك شمالاً ينحرف نحو ..  
 (أ) الشمال. (ب) الغرب. (ج) الجنوب. (د) الشرق.



## أمثلة

59 ص 34: استخدم جهاز الطرد المركزي فائق السرعة لفصل مكونات الدم بحيث يولد تسارعاً مركزياً  $0.35 \times 10^6 \text{ m/s}^2$  على بعد  $2.5 \text{ cm}$  من المحور؛ ما السرعة الزاوية المتجهة اللازمة بوحدة  $\text{rev/min}$  ؟  
 الحل:

$$a_c = \omega^2 r \Rightarrow \omega^2 = \frac{a_c}{r}$$

« أخذنا الجذر التربيعي للطرفين »

$$\omega = \sqrt{\frac{a_c}{r}}$$

$$\omega = \sqrt{\frac{0.35 \times 10^6 \times 9.8}{2.5 \times 10^{-2}}} = 11713.24 \text{ rad/s}$$

$$\omega = \frac{11713.24}{2\pi} = 1865.16 \text{ rev/s}$$

$$\omega = 111909.6 \text{ rev/min}$$

$$\text{cm} \xrightarrow{\times 10^{-2}} \text{m}$$

$$\text{rad} \xrightarrow{+ 2\pi} \text{rev}$$

$$\text{rev/s} \xrightarrow{\times 60} \text{rev/min}$$

$$\text{s} \xrightarrow{+ 60} \text{min}$$



## أجوبة الفصل الأول

### الأجوبة

النرس ١	✓ (١)    (٣) C    × (٥)	(٧) A    (٦) الإزاحة الزاوية.	✓ (٩)    (٨) B
النرس ٢	(١) السرعة الزاوية للمتجهة.	✓ (٢)    (٣) C	(٥) A    ✓ (٤)
النرس ٣	(١) التسارع الزاوي.	(٣) C	(٥) A
	(٢) B	(٤) التردد الزاوي.	(٦) A
النرس ٤	(١) العزم.	(٤) C	(٧) A
	(٢) ذراع القوة.	(٥) B	✓ (٨)
	(٣) نصف قطر اللوران.	(٦) A	(٩) C
النرس ٥	✓ (١)    (٢) A	✓ (٣)	× (٤)
النرس ٦	(١) مركز الكتلة.	(٣) منتصف الجسم	× (٧)    × (٥)
	✓ (٢)	(٤) B	✓ (٨)    × (٦)
النرس ٧	(١) الانتقالي ، الدوراني	(٧) A    (٣) B	(٥) العزوم    (٤) الانتقالي
النرس ٨	(١) C	(٣) التسارع المركزي.	(٥) A
	(٢) القوة الطاردة المركزية.	(٤) A	(٦) B

# الزخم وحفظه

المدرس ٩ : الدفع والزخم	٢٥
المدرس ١٠ : نظرية الدفع - الزخم	٢٧
المدرس ١١ : حفظ الزخم	٢٩
المدرس ١٢ : الارتداد	٣١
المدرس ١٣ : التصادم في بعدين	٣٣
أجوبة الفصل الثاني	٣٥

## الدرس ٩ : الدفع والزخم

### الدفع

تعريفه { حاصل ضرب متوسط القوة المؤثرة على جسم في زمن تأثيرها }		
العوامل المؤثرة فيه • القوة المؤثرة. • زمن تأثير القوة.		
$F\Delta t$ الدفع [N.s] $F$ متوسط القوة [N] $\Delta t$ زمن تأثير القوة [s]	$\text{الدفع} = F\Delta t$	العلاقة الرياضية
يمكن أن يكتسب جسمًا ما دفعةً كبيرًا من قوة صغيرة * <b>حلل</b> ، إذا أثرت القوة على الجسم لفترة زمنية طويلة		تحليل
	دفع القوة المتغيرة يساوي - عديدًا - المساحة تحت منحنى العلاقة بين القوة والزمن	حساب الدفع بيانيًا
	<ul style="list-style-type: none"> <li>القوة المسيبة للدفع كمية متجهة لذا فالدفع كمية متجهة.</li> <li>اتجاه الدفع يكون في نفس اتجاه القوة المسيبة له.</li> </ul>	فالتان

- (١) اكتب المصطلح العلمي: حاصل ضرب متوسط القوة المؤثرة على جسم في زمن تأثيرها.
- (٢) املأ الفراغ: يعتمد الدفع على عاملين هما ..... و .....
- (٣) اختر: دفع القوة المتغيرة يساوي - عديدًا - المساحة تحت منحنى العلاقة بين ..
- (٤) اختر: اتجاه الدفع ..
- (A) القوة والزمن. (B) القوة والإزاحة. (C) القوة والسرعة.
- (A) في نفس اتجاه القوة. (B) عكس اتجاه القوة. (C) عمودي على اتجاه القوة.



### الزخم • الزخم الخطي •

تعريفه { حاصل ضرب كتلة الجسم في سرعته المتجهة }		
العوامل المؤثرة فيه • كتلة الجسم. • سرعة الجسم.		
$p$ الزخم [kg.m/s] $m$ كتلة الجسم [kg] $v$ سرعة الجسم [m/s]	$p = mv$	العلاقة الرياضية

- سرعة الجسم كمية متجهة عما يعني أن زخمه كمية متجهة.
  - اتجاه زخم الجسم يكون في نفس اتجاه سرعته المتجهة.
  - زخم الجسم الساكن يساوي صفراً.
- فوائد

(٥) اكتب المصطلح العلمي: حاصل ضرب كتلة الجسم في سرعته المتجهة.

(٦) املاً الفراغ: يعتمد الزخم على ..... و .....

(٧) املاً الفراغ: الزخم كمية .....

(٨) اختر: اتجاه زخم جسم ..... سرعته المتجهة.

- (A) عمودي على (B) في نفس اتجاه (C) بعكس اتجاه

### أمثلة

31 ص 60: هل يمكن أن يتساوى زخم رصاصة مع زخم شاحنة؟ فسر ذلك.

الحل: نعم يمكن ذلك؛ إذا كانت ..

نسبة كتلة الرصاصة إلى كتلة الشاحنة = نسبة سرعة الشاحنة إلى سرعة الرصاصة

41 ص 60: هل يمكن أن يكتسب جسم ما دفعاً من قوة صغيرة أكبر من الدفع الذي يكتسبه من قوة

كبيرة؟ فسر ذلك.

الحل: نعم يمكن ذلك؛ إذا كان زمن تأثير القوة الصغيرة أكبر بكثير من زمن تأثير القوة الكبيرة بحيث

يكون حاصل الضرب  $F\Delta t$  للقوة الصغيرة أكبر من حاصل الضرب  $F\Delta t$  للقوة الكبيرة.

58 ص 62: إذا كانت كتلة أخيك 35.6 kg وكان لديه لوح تزلج كتلته 1.3 kg فما الزخم المشترك لأخيك

مع لوح التزلج إذا تحركا معاً بسرعة 9.5 m/s ؟

الحل:

$$p = (m_1 + m_2)v = (35.6 + 1.3)9.5 = 350.55 \text{ kg}\cdot\text{m/s}$$

57 ص 62: ضرب لاعب قرص هوكي مؤثراً فيه بقوة ثابتة مقدارها 30 N مدة 0.16 s ما مقدار الدفع

المؤثر في القرص؟

الحل:

$$\text{الدفع} = F\Delta t = 30 \times 0.16 = 4.8 \text{ N}\cdot\text{s}$$

## الدرس ١٠ : نظرية الدفع - الزخم

### نظرية الدفع - الزخم

نصها	{ الدفع على جسم يساوي زخمه النهائي مطروحاً منه زخمه الابتدائي }
العلاقات الرياضية	$F\Delta t = p_f - p_i$ $F\Delta t = mv_f - mv_i$ $F\Delta t$ الدفع [N.s] $v_f$ سرعة الجسم النهائية [m/s] $p_f$ الزخم النهائي [kg.m/s] $m$ كتلة الجسم [kg] $v_i$ سرعة الجسم الابتدائية [m/s] $p_i$ الزخم الابتدائي [kg.m/s]
ثابتة	وحدة الدفع N.s تكافئ وحدة الزخم kg.m/s
تعليل	تزود السيارات بمصاص صدمات يمكنه الانضغاط في أثناء الاصطدام « <b>حلل</b> » لتقليل القوة المؤثرة بزيادة زمن تأثيرها
أنظمة الأمان في السيارات	لا يتأثر الدفع المؤثر على السائق بوجود الوسادة الهوائية من عدمه لكنها تعمل على .. • تقليل القوة بزيادة زمن تأثيرها. • تزيد المساحة المؤثرة عليها القوة فتقلل من احتمالات الإصابة.

(١) اكتب المصطلح العلمي: الدفع على جسم يساوي زخمه النهائي مطروحاً منه زخمه الابتدائي.

(٢) اختر: تعمل الوسادة الهوائية في السيارات على تقليل ..

- (A) الدفع المؤثر.    (B) زمن تأثير القوة.    (C) القوة المؤثرة.

### أمثلة

4 ص 44: سُرَّح سائق حربة ثلج كتلتها 240 kg وذلك بالتأثير بقوة أدت إلى زيادة سرعتها من 6 m/s إلى 28 m/s خلال فترة زمنية مقدارها 60 s ..

(a) ارسم مخططاً يمثل الوضعين الابتدائي والنهائي للحربة.

(b) ما التغير في زخم الحربة؟ وما الدفع على الحربة؟

(c) ما مقدار متوسط القوة التي أثرت في الحربة؟

الحل: نختار نظام إحداثيات ونحدد الاتجاه الموجب ..

(a) المخطط المجاور يمثل الوضعين الابتدائي والنهائي للحربة ..



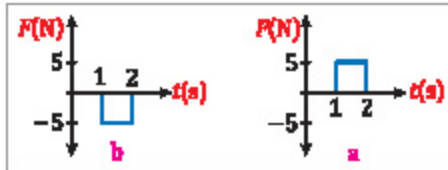
(b) نحسب التغير في زخم العربة ثم نحسب الدفع ..

$$\Delta p = p_f - p_i = m(v_f - v_i) = 240(28 - 6) = 5280 \text{ kg.m/s}$$

$$F\Delta t = p_f - p_i = 5280 \text{ N.s}$$

(c) مقدار متوسط القوة التي أثرت في العربة ..

$$F\Delta t = p_f - p_i \Rightarrow F = \frac{p_f - p_i}{\Delta t} = \frac{5280}{60} = 88 \text{ N}$$



3 ص 44: تسدحرج كرة بولنج كتلتها 7 kg على مر

الانزلاق بسرعة 2 m/s ؛ احسب سرعة واتجاه حركة

الكرة بعد تأثير كل دفع من الدفعين a ، b .

الحل: سرعة الكرة بعد تأثير الدفع a ..

$$F\Delta t = m(v_f - v_i)$$

$$5(2 - 1) = 7(v_f - 2)$$

$$5 = 7v_f - 14$$

$$19 = 7v_f$$

$$v_f = \frac{19}{7} = +2.71 \text{ m/s}$$

في نفس اتجاه سرعتها الابتدائية لأن السرعة النهائية موجبة

وبنفس الطريقة نحسب سرعة الكرة بعد تأثير الدفع b فنحصل على ..

$$v_f = +2.71 \text{ m/s}$$

في عكس اتجاه سرعتها الابتدائية لأن السرعة النهائية سالبة

« فككتنا الأقواس »

« أضفنا 14 للطرفين »

« قسمنا الطرفين على 7 »

## الدرس ١١ : حفظ الزخم

### قانون حفظ الزخم

	{ زخم أي نظام مغلق ومعزول لا يتغير }	نصه
	{ النظام الذي لا يكتسب كتلة ولا يفقدها }	النظام المغلق
	{ النظام الذي تكون محصلة القوى الخارجية المؤثرة عليه = صفراً }	النظام المعزول
	(١) عدم فقدان النظام أو اكتسابه أي كتلة + نظام مغلق . (٢) أن تكون القوى المؤثرة فيه قوى داخلية فقط + نظام معزول .	شروط حفظ زخم النظام
<p>C الجسم الأول D الجسم الثاني P<sub>f</sub> الزخم النهائي [kg.m/s] P<sub>i</sub> الزخم الابتدائي [kg.m/s] m كتلة الجسم [kg] v<sub>i</sub> السرعة الابتدائية [m/s] v<sub>f</sub> السرعة النهائية [m/s]</p>	<p>لجسمين يتصادمان ..</p> $P_{C1} + P_{D1} = P_{C2} + P_{D2}$ $m_C v_{C1} + m_D v_{D1} = m_C v_{C2} + m_D v_{D2}$ <p>وإذا التحم الجسمان بعد التصادم ..</p> $m_C v_{C1} + m_D v_{D1} = (m_C + m_D) v_f$	تصادم جسمين
	<p>عند حدوث تصادم بين الجسم C والجسم D ..</p> <ul style="list-style-type: none"> <li>القوة المؤثرة من C على D تساوي وتعاكس القوة المؤثرة من D على C .</li> <li>دفعما الجسمين متساويان في المقدار ومتعاكسان في الاتجاه.</li> <li>مجموع زخمي الجسمين قبل التصادم = مجموع زخميها بعد التصادم.</li> <li>الزخم المكتسب من الجسم D = الزخم المفقود من الجسم C .</li> <li>إذا التحم الجسمان المتصادمان فإنهما السرعة المتجهة النهائية نفسها.</li> </ul>	فائدة

- (١) اكتب المصطلح العلمي: زخم أي نظام مغلق ومعزول لا يتغير.
  - (٢) اكتب المصطلح العلمي: النظام الذي لا يكتسب كتلة ولا يفقدها.
  - (٣) اكتب المصطلح العلمي: النظام الذي تكون محصلة القوى الخارجية المؤثرة عليه = صفراً.
  - (٤) ضع ✓ أو × : دفعما الجسمين المتصادمين متساويان في المقدار ومتعاكسان في الاتجاه.
  - (٥) اختر: مجموع زخمي الجسمين المتصادمين قبل التصادم ..... مجموع زخميها بعد التصادم.
- (A) أكبر من (B) يساوي (C) أصغر من



٦) اختر: عند تصادم جسمين الزخم المكتسب من الأول ..... الزخم المفقود من الثاني.  
 (A) أصغر من (B) أكبر من (C) يساوي



### أمثلة

12 ص 48: اصطدمت سيارتا شحن كتلة كل منهما  $3 \times 10^5 \text{ kg}$  فالتصقتا معًا؛ فإذا كانت سرعة إحداهما قبل التصادم مباشرة  $2.2 \text{ m/s}$  والأخرى ساكنة فما سرعتها النهائية؟



**الحل:** نختار نظام إحداثيات ونحدد الاتجاه الموجب، ثم نرسم مخططًا لتجهات الزخم، ثم نحسب السرعة النهائية ..

« زخم السيارة الثانية قبل التصادم = 0 لأنها ساكنة »

$$P_{Ci} = P_{(C,D)f}$$

$$m_C v_{Ci} = (m_C + m_D) v_f$$

$$3 \times 10^5 \times 2.2 = (3 \times 10^5 + 3 \times 10^5) v_f$$

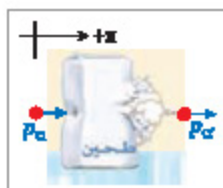
$$6.6 \times 10^5 = 6 \times 10^5 v_f$$

« قسمنا الطرفين على  $6 \times 10^5$  »

$$v_f = \frac{6.6 \times 10^5}{6 \times 10^5} = +1.1 \text{ m/s}$$

السرعة النهائية في نفس اتجاه الشاحنة المتحركة قبل التصادم لأنها موجبة

15 ص 48: تحركت رصاصة كتلتها  $35 \text{ g}$  بسرعة  $475 \text{ m/s}$  فاصطدمت بكيس من الطحين كتلته  $2.5 \text{ kg}$  موضوع على أرضية ملساء في حالة سكون؛ إذا اخترقت الرصاصة الكيس وخرجت منه بسرعة  $275 \text{ m/s}$  فما سرعة الكيس لحظة خروج الرصاصة منه؟



**الحل:** نختار نظام إحداثيات ونحدد الاتجاه الموجب، ثم نرسم مخططًا لتجهات الزخم، ثم نحسب السرعة النهائية لكيس الطحين ..

« الزخم قبل التصادم = 0 لأنه ساكن »

$$m_C v_{Ci} = m_C v_{Cf} + m_D v_{Df}$$

$$35 \times 10^{-3} \times 475 = 35 \times 10^{-3} \times 275 + 2.5 v_{Df}$$

$$16.6 = 9.6 + 2.5 v_{Df}$$

« طرحنا 9.6 من الطرفين »

$$7 = 2.5 v_{Df}$$

« قسمنا الطرفين على 2.5 »

$$v_f = \frac{7}{2.5} = +2.8 \text{ m/s}$$

$$\text{g} \xrightarrow{\times 10^{-3}} \text{kg}$$



## الدرس ١٢ : الارتداد

### الارتداد

من أمثاله	البندقية والرصاص، القذيفة والمدفع، الصاروخ، الطائرة النفاثة		
قائمة	<p>للنظام المكون من القذيفة والمدفع ..</p> <ul style="list-style-type: none"> <li>• عندما تُطلق القذيفة للأمام يرتد المدفع للخلف.</li> <li>• زخم النظام قبل إطلاق القذيفة = زخم النظام بعد إطلاق القذيفة = صفراً.</li> <li>• عند إطلاق القذيفة من المدفع زخم القذيفة يساوي ويعاكس زخم المدفع.</li> <li>• سرعة إطلاق القذيفة أكبر من سرعة ارتداد المدفع <b>حلال</b> لأن كتلة القذيفة أقل.</li> </ul>		
الملائمة الرياضية	<table border="1" style="margin: auto;"> <tr> <td><math>p_{Cf} = -p_{Df}</math></td> </tr> <tr> <td><math>m_C v_{Cf} = -m_D v_{Df}</math></td> </tr> </table> <p> <b>C</b> الجسم الأول  <b>D</b> الجسم الثاني  <math>p_f</math> الزخم النهائي [kg.m/s]  <math>m</math> كتلة الجسم [kg]  <math>v_f</math> السرعة النهائية [m/s]                 </p>	$p_{Cf} = -p_{Df}$	$m_C v_{Cf} = -m_D v_{Df}$
$p_{Cf} = -p_{Df}$			
$m_C v_{Cf} = -m_D v_{Df}$			
الدفع في الفضاء	<ul style="list-style-type: none"> <li>• يُشكّل الصاروخ والمواد الكيميائية معاً نظاماً مغلقاً ومعزولاً.</li> <li>• تندفع الغازات من فوهة العادم للخلف بسرعة كبيرة لذا يندفع الصاروخ للأمام.</li> <li>• محرك الصواريخ الكيميائية يعمل لدقائق أما المحرك الأيوني فيعمل لثورات طويلة.</li> <li>• دفع المحرك الأيوني أكبر بكثير من دفع محرك الصاروخ الكيميائي.</li> </ul>		

- (١) ضع ✓ أو × : عند انطلاق الرصاص للامام ترتد البندقية للخلف.
- (٢) ضع ✓ أو × : زخم النظام المكوّن من القذيفة والمدفع بعد إطلاق القذيفة = صفراً.
- (٣) ضع ✓ أو × : عند إطلاق القذيفة من المدفع زخم القذيفة يساوي ويعاكس زخم المدفع.
- (٤) ضع ✓ أو × : النظام المكون من الصاروخ والمواد الكيميائية يُعتبر نظاماً مفتوحاً.
- (٥) اختر: المحرك الأيوني يعمل لمدة ..... مدة عمل محرك الصواريخ الكيميائية.
- (A) أطول من (B) أقصر من (C) تساوي
- (٦) اختر: دفع المحرك الأيوني ..... دفع محرك الصاروخ الكيميائي.
- (A) أصغر من (B) أكبر من (C) يساوي



## أمثلة

18 ص 52: أطلق نموذج لصاروخ كتلته 4 kg بحيث ينفث 0.05 kg من الوقود المحترق من العادم بسرعة مقدارها 625 m/s ، ما سرعة الصاروخ المتجهة بعد احتراق الوقود؟



الحل: نختار نظام إحداثيات ونحدد الاتجاه الموجب، ثم نرسم مخططاً لتجهتات الزخم، ثم نحسب سرعة الصاروخ المتجهة ..

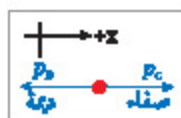
$$m_C v_{Cf} = -m_D v_{Df}$$

$$4 v_{Cf} = -0.05 \times -625 = 31.25$$

$$v_{Cf} = \frac{31.25}{4} = +7.8 \text{ m/s}$$

قسمة الطرفين على 4

20 ص 52: قامت صفاء وديمة بإرساء زورق، فإذا تحركت صفاء التي كتلتها 80 kg إلى الأمام بسرعة 4 m/s عند مغادرة الزورق فما مقدار سرعة كل من الزورق وديمة إذا كانت كتلتها معاً 115 kg ؟



الحل: نختار نظام إحداثيات ونحدد الاتجاه الموجب، ثم نرسم مخططاً لتجهتات الزخم، ثم نحسب سرعة الزورق وديمة المتجهة ..

$$m_C v_{Cf} = -m_D v_{Df}$$

$$80 \times 4 = -115 \times v_{Df}$$

$$320 = -115 v_{Df}$$

$$v_{Df} = \frac{320}{-115} = -2.78 \text{ m/s}$$

قسمة الطرفين على -115

3 ص 51: رائد فضاء في حالة سكون أطلق هازكاً من مسدس دفع ينفث 35 g من الغاز الساخن بسرعة 875 m/s ، فإذا كانت كتلة رائد الفضاء والمسلس معاً 84 kg فما مقدار سرعة رائد الفضاء؟ وفي أي اتجاه يتحرك بعد أن يطلق الغاز من المسلس؟

الجواب النهائي: 0.36 m/s ، في اتجاه معاكس لاتجاه الغاز من المسدس.

## الدرس ١٣ : التصادم في بعدين

### التصادم في بعدين

	<ul style="list-style-type: none"> <li>• زخم الجسم المتحرك بزاوية <math>\theta</math> مع محور <math>x</math> يحلل إلى مركبتين أفقية ورأسية.</li> <li>• زخم الجسم المتحرك أفقياً باتجاه محور <math>x</math> له مركبة أفقية فقط ومركبته الرأسية باتجاه محور <math>y = 0</math>.</li> <li>• زخم الجسم المتحرك رأسياً باتجاه محور <math>y</math> له مركبة رأسية فقط ومركبته الأفقية باتجاه محور <math>x = 0</math>.</li> </ul>	<p>قوائد</p>			
<table border="1"> <tr> <td>المركبة الرأسية <math>p_y</math></td> <td>المركبة الأفقية <math>p_x</math></td> </tr> <tr> <td><math>p_y = p \sin \theta</math></td> <td><math>p_x = p \cos \theta</math></td> </tr> </table>	المركبة الرأسية $p_y$	المركبة الأفقية $p_x$	$p_y = p \sin \theta$	$p_x = p \cos \theta$	<p>حساب مركبي الزخم</p>
المركبة الرأسية $p_y$	المركبة الأفقية $p_x$				
$p_y = p \sin \theta$	$p_x = p \cos \theta$				
<ul style="list-style-type: none"> <li>• مجموع مركبات الزخم الأفقية قبل التصادم = مجموع مركباته الأفقية بعد التصادم.</li> <li>• مجموع مركبات الزخم الرأسية قبل التصادم = مجموع مركباته الرأسية بعد التصادم.</li> </ul>	<p>حفظ الزخم في بعدين</p>				
<ul style="list-style-type: none"> <li>• جسمان يتحركان باتجاهين متعاكسين والتحما بعد تصادمهما بحسب الزخم الكلي بعد التصادم باستخدام نظرية فيثاغورس <math>p^2 = p_x^2 + p_y^2</math>.</li> <li>• إذا التحم جسمان بعد تصادمهما فإنهما يتحركان بسرعة واحدة <math>v</math>.</li> </ul>	<p>تنبيهان</p>				

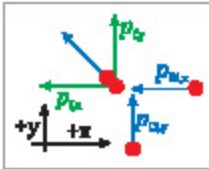
(١) ضع  $\checkmark$  أو  $\times$  : مجموع مركبات الزخم الأفقية لجسمين قبل التصادم = مجموع مركبات الزخم الأفقية لهما بعد التصادم.

(٢) اختر: مجموع مركبات الزخم الرأسية لجسمين قبل التصادم ..... مجموع مركبات الزخم الرأسية لهما بعد التصادم.

- (A) أكبر من      (B) أصغر من      (C) تساوي

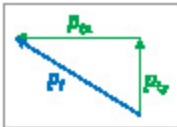
### أمثلة

21 ص 54: تحركت سيارة كتلتها 925 kg شمالاً بسرعة 20.1 m/s فاصطدمت بسيارة كتلتها 1865 kg متحركة غرباً بسرعة 13.4 m/s فالتحمتا معاً؛ ما مقدار سرعتيهما واتجاهيهما بعد التصادم؟



د نحو الغرب لأن الزخم سالب،

د نحو الشمال لأن الزخم موجب ،



العمل: نختار نظام الإحداثيات ثم نرسم مخططاً لتجهات الزخم ..  
أولاً: مركبتا الزخم الأفقية والرأسيه للسيارتين معاً بعد التصادم ..

$$p_{Tx} = p_{Dix} = m_D v_{Dix}$$

$$p_{Tx} = (1865)(-13.4) = -24991 \text{ kg.m/s}$$

$$p_{Ty} = p_{Ciy} = m_C v_{Ciy}$$

$$p_{Ty} = 925 \times 20.1 = 18592.5 \text{ kg.m/s}$$

ثانياً: الزخم الكلي بعد التصادم ..

$$p_T = \sqrt{p_{Tx}^2 + p_{Ty}^2}$$

$$p_T = \sqrt{(24991)^2 + (18592.5)^2}$$

$$p_T = 31148.5 \text{ kg.m/s}$$

ثالثاً: مقدار سرعتها بعد التصادم ..

$$p_T = (m_C + m_D)v_T \Rightarrow v_T = \frac{p_T}{m_C + m_D} = \frac{31148.5}{925 + 1865} = 11.16 \text{ m/s}$$

رابعاً: اتجاهها بعد التصادم ..

$$\theta = \tan^{-1}\left(\frac{p_{Ty}}{p_{Tx}}\right) = \tan^{-1}\left(\frac{18592.5}{-24991}\right) = -36.6^\circ$$

4 ص 53: تحركت سيارة كتلتها 1325 kg شمالاً بسرعة 27 m/s فاصطدمت بسيارة كتلتها 2165 kg تتحرك شرقاً بسرعة 11 m/s فسارت السيارتان وهما متصلتان معاً بعد التصادم؛ ما مقدار سرعتها واتجاهها بعد التصادم؟  
الجواب النهائي: 12.3 m/s ، 56.4° .

## أجوبة الفصل الثاني

### الأجوبة

الدرس ٩	(١) الدفع. (٢) القوة المؤثرة ، زمن تأثير القوة (٣) (A) (٤) (A) (٥) الزخم. (٦) كتلة الجسم ، سرعة الجسم	(٧) متجهة (٨) (B)
الدرس ١٠	(١) نظرية الدفع - الزخم. (٢) (A)	(٣) (C)
الدرس ١١	(١) قانون حفظ الزخم. (٢) النظام المغلق. (٤) (A) (٥) (B)	(٦) (C)
الدرس ١٢	(١) (A) (٢) (A) (٣) (A) (٤) (A) (٥) (A) (٦) (B)	(٧) (B)
الدرس ١٣	(١) (A) (٢) (C)	

# الشغل والطاقة والآلات البيسيطة

الدرس ١٤ : الطاقة والشغل ٣٧

الدرس ١٥ : الشغل ٣٩

الدرس ١٦ : القدرة ٤١

الدرس ١٧ : الآلات ٤٣

الدرس ١٨ : كفاءة الآلة ٤٥

الدرس ١٩ : الآلات المركبة ٤٧

أجوبة الفصل الثالث ٤٩

## الحرس ١٤ ، الطاقة والشغل

### الشغل والطاقة

	{ قدرة الجسم على إحداث تغيير في ذاته أو فيما يحيط به }	الطاقة		تعريفات
	{ الطاقة الناتجة عن حركة الجسم }	الطاقة الحركية		
	{ انتقال الطاقة بطرائق ميكانيكية }	الشغل		
	{ إذا بُدِّلَ شغل على جسم ما فإن طاقته الحركية تتغير }	نظرية الشغل - الطاقة		
	<p><math>W</math> الشغل [J]</p> <p><math>KE_f</math> الطاقة الحركية النهائية [J]</p> <p><math>KE_i</math> الطاقة الحركية الابتدائية [J]</p> <p><math>F</math> متوسط القوة [N]</p> <p><math>d</math> الإزاحة [m]</p> <p><math>m</math> كتلة الجسم [kg]</p> <p><math>v</math> سرعة الجسم [m/s]</p>	$W = KE_f - KE_i$ $W = Fd$ $KE = \frac{1}{2}mv^2$		العلاقة الرياضية
			<ul style="list-style-type: none"> <li>وحدة قياس الشغل والطاقة جول ، Joule ، ورمزها [ J ] .</li> <li><math>1 J = N.m = kg.m^2/s^2</math> .</li> </ul>	فائدتان
		الجسم موضع الدراسة		النظام
		كل شيء حول الجسم ما عدا الجسم		المحيط الخارجي
			<ul style="list-style-type: none"> <li>إذا بُدِّلَ المحيط الخارجي شغلاً على النظام فإن الشغل موجب وتزيد طاقة النظام.</li> <li>إذا بُدِّلَ النظام شغلاً على المحيط الخارجي فإن الشغل سالب وتنقص طاقة النظام.</li> </ul>	فائدتان

- (١) اكتب المصطلح العلمي: قدرة الجسم على إحداث تغيير في ذاته أو فيما يحيط به.
  - (٢) اكتب المصطلح العلمي: الطاقة الناتجة عن حركة الجسم.
  - (٣) اكتب المصطلح العلمي: انتقال الطاقة بطرائق ميكانيكية.
  - (٤) اكتب المصطلح العلمي: إذا بُدِّلَ شغل على جسم ما فإن طاقته الحركية تتغير.
  - (٥) اختر: إذا بُدِّلَ المحيط الخارجي شغلاً على النظام فإن الشغل ..
- (A) سالب.      (B) صفر.      (C) موجب.



(٦) اختر: إذا بَدَل النظام شغلاً على النظام فإن طاقة النظام ..

(A) تزيد. (B) تنقص. (C) تزيد ثم تنقص.

(٧) اختر: إذا بَدَل النظام شغلاً على المحيط الخارجي فإن الشغل ..

(A) سالب. (B) صفر. (C) موجب.

(٨) اختر: إذا بَدَل النظام شغلاً على المحيط الخارجي فإن طاقة النظام ..

(A) تزيد. (B) تنقص. (C) تنقص ثم تزيد.



### أمثلة

3 ص 75: يتسلق رجل جبلاً وهو يحمل حقيبة كتلتها 7.5 kg وبعد 30 min وصل إلى ارتفاع 8.2 m فوق نقطة البداية ..

(a) ما مقدار الشغل الذي بذله المتسلق على حقيبة الظهر؟

(b) إذا كان وزن المتسلق 645 N فما مقدار الشغل الذي بذله لرفع نفسه هو وحقيبة الظهر؟

(c) ما مقدار التغير في طاقة المتسلق والحقيبة؟

الحل:

(a) لحسب وزن حقيبة الظهر ثم لحسب مقدار الشغل ..

$$F = F_g = mg = 7.5 \times 9.8 = 73.5 \text{ N}$$

$$W = Fd = 73.5 \times 8.2 = 602.7 \text{ J}$$

(b) لحسب وزن الرجل مع حقيبة الظهر ثم لحسب مقدار الشغل ..

$$F = F_{g1} - F_{g2} = 73.5 + 645 = 718.5 \text{ N}$$

$$W = Fd = 718.5 \times 8.2 = 5891.7 \text{ J}$$

(c) لحسب مقدار التغير في طاقة المتسلق ..

$$5891.7 \text{ J} = \text{التغير في طاقة المتسلق} = \text{الشغل الذي بذله الرجل} = 5891.7 \text{ J}$$

53 ص 95: يبلغ ارتفاع الطابق الثالث لمتر 8 m فوق مستوى الشارع؛ ما مقدار الشغل اللازم لنقل ثلاجة كتلتها 150 kg إلى الطابق الثالث؟

الحل: لحسب وزن الثلاجة ثم لحسب الشغل ..

$$F = F_g = mg = 150 \times 9.8 = 1470 \text{ N}$$

$$W = Fd = 1470 \times 8 = 11760 \text{ J}$$



## الدرس ١٥ : الشغل

### حساب الشغل

القوة	رمزها	اتجاه القوة	رسم توضيحي	القوى المؤثرة على جسم
القوة المحركة	$F$	باتجاه الحركة		
قوة الوزن	$F_g$	عمودية للأسفل		
القوة العمودية	$F_N$	عمودية على الجسم للأعلى		
قوة الاحتكاك	$F_x$	معاكسة لاتجاه الحركة		
قوة احتكاك بين الجسم والسطح الأملس مهمة				تتبه
$W$ الشغل [J] $F$ متوسط القوة [N] $d$ الإزاحة [m] $\theta$ الزاوية بين القوة والإزاحة [°]		$W = Fd \cos \theta$		الملاحة الرياضية
<ul style="list-style-type: none"> <li>كل قوة تصنع زاوية مع اتجاه الحركة تحلل إلى مركبتين أفقية ورأسية.</li> <li>شغل القوة المحركة موجب لأن القوة باتجاه الإزاحة.</li> <li>شغل القوة العمودية على الإزاحة = صفراً.</li> <li>شغل قوة الاحتكاك سالب لأن القوة بعكس اتجاه الإزاحة.</li> </ul>				فوائد
		<ul style="list-style-type: none"> <li>مقداره: المساحة تحت المنحنى البياني القوة - الإزاحة.</li> <li>مثاله: شغل النابض = مساحة المثلث = <math>\frac{1}{2} \times \text{القاعدة} \times \text{الارتفاع}</math>.</li> </ul>		شغل القوة المتغيرة

(١) اختر: اتجاه قوة الاحتكاك ..... اتجاه الحركة.

(A) يتض (B) بعكس (C) عمودي على

(٢) ضع ✓ أو × : القوة العمودية على اتجاه الحركة لا تبذل شغلاً.

(٣) اختر: شغل قوة الاحتكاك ..

(A) سالب (B) صفراً (C) موجب.

(٤) ضع ✓ أو × : شغل القوة المتغيرة هو المساحة تحت المنحنى البياني القوة - الإزاحة.



## أمثلة

36 ص 94: قمر صناعي يدور حول الأرض في مدار دائري؛ هل تبذل قوة الجاذبية الأرضية أي شغل على القمر؟

الحل: لا تبذل قوة الجاذبية الأرضية شغلاً على القمر الصناعي؛ لأن القوة عمودية على اتجاه الحركة.

2 ص 75: يؤثر طالبان معاً بقوة مقدارها 825 N لدفع سيارة مسافة مقدارها 35 m ..  
(a) ما مقدار الشغل الذي يبذله الطالبان على السيارة؟

(b) إذا تضاعفت القوة المؤثرة فما مقدار الشغل المبذول لدفع السيارة إلى المسافة نفسها؟

الحل:

(a) الشغل الذي يبذله الطالبان على السيارة ..

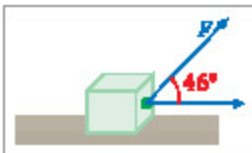
$$W_1 = Fd \cos \theta = 825 \times 35 \cos 0 = 28875 \text{ J}$$

(b) الشغل المبذول لدفع السيارة إلى المسافة نفسها الشغل إذا تضاعفت القوة المؤثرة ..

$$W_2 = 2Fd \cos \theta = 2W_1 = 2 \times 28875 = 57750 \text{ J}$$

7 ص 76: يستخدم حبل في سحب صندوق معدني مسافة 15 m على سطح الأرض؛ فإذا كان الحبل مربوطاً بحيث يصنع زاوية مقدارها 46° فوق سطح الأرض وتؤثر قوة مقدارها 628 N في الحبل فما مقدار الشغل الذي تبذله هذه القوة؟

الحل:



$$W = Fd \cos \theta = 628 \times 15 \cos 46$$

$$W = 6543.6 \text{ J}$$

57 ص 95: يؤثر محرك سيارة بقوة 551 N لموازنة قوة الاحتكاك والمحافظة على ثبات السرعة؛ ما مقدار الشغل المبذول ضد قوة الاحتكاك بواسطة محرك السيارة عند انتقالها مسافة 161 km ؟

الحل:

$$\text{km} \times 10^3 \rightarrow \text{m}$$

$$W = Fd = (551)(161 \times 10^3) = 88711000 \text{ J}$$

2 ص 73: يسحب بكار قارياً مسافة 30 m في اتجاه رصيف الميناء مستخدماً حبلًا يصنع زاوية 25° فوق المحور الأفقي؛ فإذا أثر البكار في الحبل بقوة 255 N فاحسب الشغل الذي يبذله البكار على القارب؟  
الجواب النهائي: [ 6930 .

## الدرس ١٦ : القدرة

### القدرة

{ المعدل الزمني لبلل الشغل }		تعريفها
{ انتقال طاقة مقدارها 1 خلال فترة زمنية مقدارها 1 s }		الواط
<ul style="list-style-type: none"> <li>وحدة قياس القدرة واط <math>\text{kg.m}^2/\text{s}^3</math> ، ورمزها W .</li> <li><math>1000 \text{ W} = \text{كيلوواط kW}</math> .</li> </ul>		فائدتها
<p><math>P</math> القدرة [W]</p> <p><math>F</math> القوة [N]</p> <p><math>v</math> السرعة [m/s]</p> <p><math>t</math> الزمن [s]</p>	<p><math>W</math> الشغل [J]</p> <p><math>t</math> الزمن [s]</p>	<div style="border: 1px solid black; padding: 5px; width: fit-content; margin: auto;"> <math display="block">P = \frac{W}{t}</math> <math display="block">P = Fv</math> </div> <p>العلاقة الرياضية</p>

(١) اكتب المصطلح العلمي: المعدل الزمني لبلل الشغل.

(٢) اكتب المصطلح العلمي: انتقال طاقة مقدارها 1 خلال فترة زمنية مقدارها 1 s .

(٣) اختر: وحدة قياس القدرة ..

- (A) J.s      (B) J/s      (C) N/ms



### أمثلة

9 ص 78: رُفِعَ صندوق يزن 575 N إلى مسافة 20 m رأسياً بواسطة حبل قوي موصول بمحرك؟ فإذا تم إنجاز العمل خلال 10 s فما القدرة التي يولدها المحرك بوحدة W؟ ووحدة kW؟

الحل:

أولاً: لحساب قدرة المحرك ..

$$P = \frac{W}{t} = \frac{Fd}{t} = \frac{575 \times 20}{10} = 1150 \text{ W}$$

ثانياً: نحول القدرة من W إلى kW بالقسمة على 1000 ..

$$P = \frac{1150}{1000} = 1.15 \text{ kW}$$

12 ص 78: يُولد محرك كهربائي قدرة مقدارها 65 kW لرفع مصعد مكتمل الحمولة مسافة 17.5 m خلال 35 s ما مقدار القوة التي يبذلها المحرك؟

الحل:

$$\text{kW} \xrightarrow{\times 10^3} \text{W}$$

$$P = \frac{W}{t} = \frac{Fd}{t} \Rightarrow F = \frac{Pt}{d} = \frac{65 \times 10^3 \times 35}{17.5} = 13000 \text{ N}$$

13 ص 79: صممت رافعة لكي يتم تثبيتها على شاحنة ولدى اختبار قدراتها ربطت الرافعة بجسم وزنه يعادل أكبر قوة تستطيع الرافعة التأثير بها ومقدارها  $6.8 \times 10^3 \text{ N}$  لرفعت الجسم مسافة  $15 \text{ m}$  مولدة قدرة مقدارها  $0.3 \text{ kW}$ ؛ ما الزمن الذي احتاجت إليه الرافعة لرفع الجسم؟

الحل:

$$\text{kW} \xrightarrow{\times 10^3} \text{W}$$

$$P = \frac{W}{t} = \frac{Fd}{t} \Rightarrow t = \frac{Fd}{P} = \frac{6.8 \times 10^3 \times 15}{0.3 \times 10^3} = 340 \text{ s}$$

71 ص 96: يدفع محرك قاربًا على سطح الماء بسرعة ثابتة مقدارها  $15 \text{ m/s}$  من خلال التأثير عليه بقوة مقدارها  $6 \text{ kN}$  ليوازن قوة مقاومة الماء لحركة القارب؛ ما قدرة محرك القارب؟

الحل:

$$\text{kN} \xrightarrow{\times 10^3} \text{N}$$

$$P = Fv = 6 \times 10^3 \times 15 = 90000 \text{ W}$$

## الدرس ١٢ : الآلات

### أساسيات عن الآلات

• آلات بسيطة: مثل ..					أنواعها
					
البكرة	الوتد	المستوى المائل	الرافعة	الدولاب والمحور	
• آلات مُركَّبة: مثل: الدراجة الهوائية، السيارة.					
فائدتها		تسهيل أداء المهام ، تخفيف الحمل	عملها	تغيير مقدار القوة أو اتجاهها	

(١) املاً الفراغ: الآلات نوعان: آلات \_\_\_\_\_ وآلات \_\_\_\_\_ .

(٢) اختر: تعتبر الرافعة والسطح المائل والوتد من الآلات ..

(A) البسيطة. (B) المُركَّبة. (C) البسيطة والمركَّبة.

(٣) اختر: الآلة المُركَّبة من الآلات التالية هي ..

(A) الدولاب والمحور. (B) الرافعة. (C) الدراجة الهوائية.

(٤) املاً الفراغ: تفيد الآلات في \_\_\_\_\_ و \_\_\_\_\_ .

(٥) ضع ✓ أو × : تعمل الآلات على تغيير مقدار القوة أو اتجاهها.

### كفاءة الآلة ( الفاعلية )

{ نسبة الفائدة الميكانيكية إلى الفائدة الميكانيكية المثالية }		تعريفها
e كفاءة الآلة MA الفائدة الميكانيكية IMA الفائدة الميكانيكية المثالية	$e = \frac{MA}{IMA} \times 100$	العلاقة الرياضية
{ نسبة المقاومة إلى القوة }		الفائدة الميكانيكية
{ إزاحة القوة مقسومة على إزاحة المقاومة }		الفائدة الميكانيكية المثالية
MA الفائدة الميكانيكية IMA الفائدة الميكانيكية المثالية $d_e$ إزاحة القوة [m] $d_r$ إزاحة المقاومة [m]	$MA = \frac{F_r}{F_e}$ $IMA = \frac{d_e}{d_r}$	العلاقة الرياضية

- (٦) اكتب المصطلح العلمي: نسبة المقاومة إلى القوة.  
 (٧) اكتب المصطلح العلمي: إزاحة القوة مقسومة على إزاحة المقاومة.  
 (٨) اكتب المصطلح العلمي: نسبة الفائدة الميكانيكية إلى الفائدة الميكانيكية المثالية.



### أمثلة

25 ص 87: تستخدم مطرقة ثقيلة لطرق إسفين في جلع شجرة لتقسيمه؛ فعندما ينفرس الإسفين مسافة 0.2 m في الجذع فإنه يفتلق مسافة 5 cm؛ إذا علمت أن القوة اللازمة لفتلق الجذع  $1.7 \times 10^4$  N وأن المطرقة تؤثر بقوة  $1.1 \times 10^4$  N فاحسب ..  
 (a) الفائدة الميكانيكية المثالية للإسفين. (b) الفائدة الميكانيكية للإسفين. (c) كفاءة الإسفين.

الحل:

(a) الفائدة الميكانيكية المثالية للإسفين ..

$$\frac{\text{cm} \times 10^{-2}}{\text{m}} \rightarrow \text{m}$$

$$IMA = \frac{d_e}{d_r} = \frac{0.2}{5 \times 10^{-2}} = 4$$

(b) الفائدة الميكانيكية للإسفين ..

$$MA = \frac{F_r}{F_e} = \frac{1.7 \times 10^4}{1.1 \times 10^4} = 1.54$$

(c) كفاءة الإسفين ..

$$e = \frac{MA}{IMA} \times 100 = \frac{1.54}{4} = 38.5\%$$

26 ص 87: يستخدم عامل نظام بكرة عند رفع صندوق كتلته 24 kg مسافة 16.5 m؛ فإذا كان مقدار القوة المؤثرة 129 N وسحب الحبل مسافة 33 m فما مقدار ..  
 (a) الفائدة الميكانيكية لنظام البكرة. (b) كفاءة النظام.

الحل:

(a) نحسب وزن الصندوق ثم نحسب الفائدة الميكانيكية ..

$$F_r = F_g = mg = 24 \times 9.8 = 235.2 \text{ N}$$

$$MA = \frac{F_r}{F_e} = \frac{235.2}{129} = 1.82$$

(b) نحسب الفائدة الميكانيكية المثالية ثم نحسب كفاءة النظام ..

$$IMA = \frac{d_e}{d_r} = \frac{33}{16.5} = 2$$

$$e = \frac{MA}{IMA} \times 100 = \frac{1.82}{2} \times 100 = 91\%$$

## الدرس ١٨ : كفاءة الآلة

### كفاءة الآلة ، الفاصلية ،

{ الشغل الذي يُبذل على الآلة }	الشغل المبذول
{ الشغل الذي تبذله الآلة }	الشغل الناتج
{ نسبة الشغل الناتج إلى الشغل المبذول }	كفاءة الآلة
$F_r$ المقاومة [N] $F_e$ القوة [N] $d_m$ إزاحة القوة [m] $d_r$ إزاحة المقاومة [m]	$e$ كفاءة الآلة $W_r$ الشغل الناتج [J] $W_e$ الشغل المبذول [J] $d_r$ إزاحة المقاومة [m]
$e = \frac{W_r}{W_e} \times 100$ $e = \frac{F_r d_r}{F_e d_e} \times 100$	
آلة اللولاب والمحور تستبدل الإزاحة $d$ بنصف القطر $r$	
• في الآلة الحقيقية انشغل الناتج أقل من الشغل المبذول. • في الآلة المثالية الشغل الناتج = الشغل المبذول. • كفاءة الآلة الحقيقية أقل من 100% أما كفاءة الآلة المثالية = 100% .	

(١) اكتب المصطلح العلمي: الشغل الذي يُبذل على الآلة.

(٢) اكتب المصطلح العلمي: الشغل الذي تبذله الآلة.

(٣) اكتب المصطلح العلمي: نسبة الشغل الناتج إلى الشغل المبذول.

(٤) اختر: الشغل الذي تبذله الآلة الحقيقية ..... الشغل المبذول عليها.

(A) أكبر من (B) يساوي (C) أقل من

(٥) اختر: الشغل الذي تبذله الآلة المثالية ..... الشغل المبذول عليها.

(A) أكبر من (B) يساوي (C) أقل من

(٦) اختر: كفاءة الآلة الحقيقية ..... 100% .

(A) أكبر من (B) تساوي (C) أقل من

(٧) اختر: كفاءة الآلة المثالية ..... 100% .

(A) أكبر من (B) تساوي (C) أقل من



## أمثلة

27 ص 87: إذا أثرت بقوة مقدارها 225 N في رافعة لرفع صخرة وزنها  $1.25 \times 10^3$  N مسافة 13 cm وكانت كفاءة الرافعة 88.7% فما المسالة التي تحركتها نهاية الرافعة من جهتك؟  
الحل:

$$e = \frac{F_r d_r}{F_e d_e} \times 100 \Rightarrow d_e = \frac{F_r d_r}{F_e e} \times 100$$

$$\text{cm} \xrightarrow{\times 10^{-2}} \text{m}$$

$$\therefore d_e = \frac{1.25 \times 10^3 \times 13 \times 10^{-2}}{225 \times 88.7} \times 100 = 0.81 \text{ m}$$

28 ص 87: تتكون رافعة من ذراع نصف قطره 45 cm يتصل بأسطوانة نصف قطرها 7.5 cm ملفوف حولها حبل يتلقى من طرفه الثاني الثقل المراد رفعه؛ عندما تلور الذراع دورة واحدة تلور الأسطوانة دورة واحدة أيضاً ..

(a) ما مقدار الفائدة الميكانيكية المتأية للآلة؟  
(b) إذا كانت فاعلية الآلة 75% فما مقدار القوة التي يجب التأثير بها في مقبض اللراع ليؤثر اللراع بقوة مقدارها 750 N في الحبل؟

الحل:

(a) مقدار الفائدة الميكانيكية المتأية للآلة ..

$$IMA = \frac{r_e}{r_r} = \frac{45}{7.5} = 6$$

(b) مقدار القوة التي يجب التأثير بها في مقبض اللراع ..

$$e = \frac{F_r r_r}{F_e r_e} \times 100 \Rightarrow F_e = \frac{F_r r_r}{r_e e} \times 100$$

$$\therefore F_e = \frac{750 \times 7.5}{45 \times 75} \times 100 = 166.66 \text{ N}$$



## الدرس ١٩ : الآلات المركبة

### الآلات المركبة

تعريفها { الآلة التي تتكون من آلتين بسيطتين أو أكثر ترتبطان معاً }		تعريفها
<p><b>MA</b> الفائدة الميكانيكية للآلة المركبة</p> <p><b>MA<sub>1</sub></b> الفائدة الميكانيكية للآلة البسيطة الأولى</p> <p><b>MA<sub>2</sub></b> الفائدة الميكانيكية للآلة البسيطة الثانية</p>	$MA = MA_1 \times MA_2$	فائدتها الميكانيكية
<p><b>IMA</b> الفائدة الميكانيكية المثالية للآلة المركبة</p> <p><b>IMA<sub>1</sub></b> الفائدة الميكانيكية المثالية للآلة البسيطة الأولى</p> <p><b>IMA<sub>2</sub></b> الفائدة الميكانيكية المثالية للآلة البسيطة الثانية</p>	$IMA = IMA_1 \times IMA_2$	فائدتها الميكانيكية المثالية
<p>لزيادة الفائدة الميكانيكية المثالية لدراجة هوائية تجعل نصف قطر ناقل الحركة الخلفي كبيراً ونصف قطر ناقل الحركة الأمامي صغيراً</p>		فائدة
<p>عند صعود التل بدرجة هوائية فإن السائق يزيد الفائدة الميكانيكية المثالية لها <b>حلل</b> ، وذلك لزيادة القوة التي يؤثر بها الدوالب في الطريق</p>		تعليل

(١) اكتب المصطلح العلمي: الآلة التي تتكون من آلتين بسيطتين أو أكثر ترتبطان معاً.

(٢) اختر: في الدراجة الهوائية عندما تجعل نصف قطر ناقل الحركة الخلفي كبيراً و نصف قطر ناقل الحركة الأمامي صغيراً فإن الفائدة الميكانيكية المثالية ..

- (A) تزيد.   
  (B) تنقص.   
  (C) تزيد ثم تنقص.   
  (D) تنقص ثم تزيد.

### آلة المشي البشرية

<ul style="list-style-type: none"> <li>• تضيق صلب + العظام .</li> <li>• مصدر قوة + العضلات .</li> <li>• نقطة ارتكاز + المفاصل المتحركة بين العظام .</li> <li>• مقاومة + وزن الجسم الذي يتم رفعه أو تحريكه .</li> </ul>	<p>أجزاء أنظمة الرافعات في جسم الإنسان</p>
<p>في سباقات المشي يُؤرَّجح المتسابق وركبته نحو الأعلى <b>حلل</b> ، وذلك لزيادة سرعته عن طريق زيادة طول الرافعة المكونة من عظام الساق</p>	تعليل

- الفائدة الميكانيكية لأنظمة الروافع عند طوال القامة أقل منها عند قصار القامة.
- في سباقات المشي يستطيع طوال القامة المشي أسرع من قصار القامة.

فائدتان

- (٣) اختر: مصدر القوة في نظام الرافعة في جسم الإنسان هو ..  
 (A) العظام. (B) العضلات. (C) المفاصل المتحركة بين العظام.  
 (٤) اختر: نقطة الارتكاز في نظام الرافعة في جسم الإنسان هو ..  
 (A) العظام. (B) العضلات. (C) المفاصل المتحركة بين العظام.  
 (٥) اختر: الفائدة الميكانيكية لأنظمة الروافع عند الأشخاص طوال القامة ..... الفائدة الميكانيكية عند الأشخاص قصار القامة.

- (A) أكبر من (B) تساوي (C) أقل من  
 (٦) اختر: في سباقات المشي يسير الأشخاص طوال القامة ..... الأشخاص قصار القامة.  
 (A) أسرع من (B) بنفس سرعة (C) أبطأ من

## أمثلة

- 88 من 98: تتكون آلة مركبة من رافعة متصلة بنظام بكرات؛ فإذا كانت الآلة المركبة في حالتها المثالية تتكون من رافعة فائدتها الميكانيكية المثالية 3 ونظام بكرة فائدتها الميكانيكية المثالية 2 ..  
 (a) فأثبت أن الفائدة الميكانيكية المثالية للآلة المركبة تساوي 6 .  
 (b) إذا كانت كفاءة الآلة 60% فما القوة التي يجب التأثير بها في الرافعة لرفع صندوق وزنه 540 N ؟

الحل:

- (a) لحسب مقدار الفائدة الميكانيكية المثالية ..

$$IMA = IMA_1 \times IMA_2 = 2 \times 3 = 6$$

- (b) نحسب مقدار الفائدة الميكانيكية ثم نحسب مقدار القوة ..

$$e = \frac{MA}{IMA} \times 100 \Rightarrow MA = \frac{e \times IMA}{100} = \frac{60 \times 3}{100} = 1.8$$

$$MA = \frac{F_r}{F_e} \Rightarrow F_e = \frac{F_r}{MA} = \frac{540}{1.8} = 300 \text{ N}$$

## أجوبة الفصل الثالث

### الأجوبة

النرس ١٤	(١) الطاقة. (٢) الطاقة الحركية.	(٣) الشغل. (٤) نظرية الشغل - الطاقة.	(٥) (C) (٦) (A)	(٧) (A) (٨) (B)
النرس ١٥	(١) (B)	(٢) ✓	(٣) (A)	(٤) ✓
النرس ١٦	(١) القدرة. (٢) الرواط.	(٣) (B)		
النرس ١٧	(١) بسيطة ، مركبة (٤) تسهيل أداء المهام ، تخفيف الحمل (٧) الفائدة الميكانيكية المثالية. (٢) (A) (٣) (C)	(٤) (٥) ✓ (٦) الفائدة الميكانيكية.	(٧) (A) كفاءة الآلة.	
النرس ١٨	(١) الشغل المبذول. (٢) الشغل الناتج.	(٣) كفاءة الآلة. (٤) (C)	(٥) (B) (٦) (C)	(٧) (B)
النرس ١٩	(١) الآلات المركبة.	(٢) (A) (٣) (B)	(٤) (C) (٥) (C)	(٦) (A)

# الطاقة وحفظها

المدرس ٢٠ : الأشكال المتمدة للطاقة ٥١

المدرس ٢١ : الطاقة المختزنة ٥٣

المدرس ٢٢ : طاقة الوضع المرورية ٥٥

المدرس ٢٣ : حفظ الطاقة ٥٧

المدرس ٢٤ : تحليل التصادمات ٥٩

أجوبة الفصل الرابع ٦١

## الدرس ٢٠ : الأنكال المتعددة للطاقة

### نظرية الشغل - الطاقة

<ul style="list-style-type: none"> <li>• تزيد طاقة النظام بمقدار الشغل المبذول على النظام.</li> <li>• تنقص طاقة النظام بمقدار الشغل الذي يبذله النظام.</li> <li>• الطاقة الحركية النهائية = الطاقة الحركية الابتدائية + الشغل المبذول على الجسم.</li> </ul>	<p>فوائد</p>			
<p><math>W</math> الشغل [J]  <math>KE_f</math> الطاقة الحركية النهائية [J]  <math>KE_i</math> الطاقة الحركية الابتدائية [J]  <math>F</math> متوسط القوة [N]  <math>d</math> الإزاحة [m]  <math>m</math> كتلة الجسم [kg]  <math>v</math> سرعة الجسم [m/s]</p>	<table border="1" style="margin: auto;"> <tr> <td><math>KE_f = KE_i + W</math></td> </tr> <tr> <td><math>W = Fd</math></td> </tr> <tr> <td><math>KE = \frac{1}{2}mv^2</math></td> </tr> </table> <p>العلاقة الرياضية</p>	$KE_f = KE_i + W$	$W = Fd$	$KE = \frac{1}{2}mv^2$
$KE_f = KE_i + W$				
$W = Fd$				
$KE = \frac{1}{2}mv^2$				

(١) احرر: إذا بَدَّلَ شغل على النظام فإن طاقته ..

(C) لا تتغير.

(A) تزيد. (B) تنقص.

(٢) احرر: إذا بَدَّلَ النظام شغلاً فإن طاقته ..

(C) لا تتغير.

(A) تزيد. (B) تنقص.

### الطاقة الحركية

<ul style="list-style-type: none"> <li>• كتلة الجسم: تتناسب طاقة حركة الجسم طردياً مع كتلته.</li> <li>• سرعة الجسم: تتناسب طاقة حركة الجسم طردياً مع مربع سرعته.</li> </ul>	<p>العوامل التي تعتمد عليها</p>
<p>معامل تزايد الطاقة الحركية لجسم = مربع معامل تزايد سرعة هذا الجسم</p>	<p>قاعدة</p>
<ul style="list-style-type: none"> <li>• طاقة حركية خطية.</li> <li>• طاقة حركية دورانية.</li> </ul>	<p>أنواعها</p>
<ul style="list-style-type: none"> <li>• تعتمد طاقة الحركة الدورانية للجسم على سرعته الزاوية.</li> <li>• محرك الشاحنة يبذل شغلاً أكبر من شغل محرك السيارة الصغيرة عندما تسيران بنفس السرعة لأن كتلة الشاحنة أكبر.</li> <li>• طاقة الحركة دائماً موجبة فلا يوجد طاقة حركة سالبة.</li> </ul>	<p>فوائد</p>

- (٣) أملاً الفرائض: تعتمد طاقة حركة الجسم على ..... و .....
- (٤) ضع ✓ أو × : تتناسب طاقة حركة الجسم طردياً مع كتلته.
- (٥) ضع ✓ أو × : تتناسب طاقة حركة الجسم عكسياً مع مربع سرعته.
- (٦) ضع ✓ أو × : تعتمد طاقة الحركة الدورانية لجسم على سرعته الزاوية.



## أمثلة

1 ص 106: يتحرك منزلق كتلته 52 kg بسرعة 2.5 m/s ويتوقف خلال مسافة 24 m ، ما مقدار الشغل المبذول بفعل الاحتكاك مع الجليد لجعل المنزلق يتوقف؟ وما مقدار الشغل الذي يجب على المنزلق أن يبذله ليصل إلى سرعة 2.5 m/s مرة أخرى؟

الحل:

أولاً: نحسب الطاقين الحركيتين الابتدائية والنهائية ثم نحسب الشغل ..

$$KE_i = \frac{1}{2}mv^2 = \frac{1}{2}(52)(2.5)^2 = 162.5 \text{ J}$$

$$KE_f = 0$$

لأن المنزلق يتوقف !

$$KE_f = KE_i + W \Rightarrow W = KE_f - KE_i = 0 - 162.5 = -162.5 \text{ J}$$

لذا: الشغل الذي يبذله المنزلق ..

$$\text{الشغل الذي يبذله المنزلق} = - \text{الشغل المبذول بفعل الاحتكاك} = 162.5 \text{ J}$$

2 ص 106: سيارة كتلتها 875 kg زادت سرعتها من 22 m/s إلى 44 m/s عند تجاوزها سيارة أخرى ، ما مقدار طاقتي حركتها الابتدائية والنهائية؟ وما مقدار الشغل المبذول على السيارة لزيادة سرعتها؟

الحل:

أولاً: مقدار طاقتي الحركة الابتدائية والنهائية ..

$$KE_i = \frac{1}{2}mv_i^2 = \frac{1}{2}(875)(22)^2 = 211750 \text{ J}$$

$$KE_f = \frac{1}{2}mv_f^2 = \frac{1}{2}(875)(44)^2 = 847000 \text{ J}$$

لذا: مقدار الشغل المبذول على السيارة ..

$$KE_f = KE_i + W \Rightarrow W = KE_f - KE_i = 847000 - 211750 = 635250 \text{ J}$$

35 ص 128: إذا زادت سرعة عهء إلى ثلاثة أضعاف سرعته الابتدائية فما معامل تزايد طاقته الحركية؟

الحل:

$$\text{معامل تزايد الطاقة الحركية للجسم} = \text{مربع معامل تزايد سرعة هذا الجسم} = 3^2 = 9$$

## الدرس ٢١ : الطاقة المختزنة

### أساسيات الطاقة المختزنة

أنواعها	الطاقة المختزنة بطرق ميكانيكية	الطاقة الكيميائية
طاقة وضع الجاذبية	طاقة وضع الجاذبية ، طاقة الوضع المرئية	الطاقة المختزنة في الوقود
مستوى الإسناد	{ طاقة مختزنة في النظام نتيجة تأثير قوة الجاذبية {	{ المستوى الذي تكون عنده طاقة الوضع = صفراً {
فاصلة	طاقة وضع الجاذبية موجبة فوق مستوى الإسناد وسالبة تحته	
العوامل المؤثرة في طاقة وضع الجاذبية	• وزن الجسم. • بعد الجسم عن مستوى الإسناد.	
العلاقة الرياضية	$PE = mgh$	$PE$ طاقة وضع الجاذبية [J] $m$ كتلة الجسم [kg] $g$ تسارع الجاذبية الأرضية [ $m/s^2$ ] $h$ الارتفاع الرأسي عن مستوى الإسناد [m]
فوائد	<ul style="list-style-type: none"> <li>• أثناء صعود الجسم تبدل الجاذبية شغلاً سالباً يعطى من سرعته حتى يتوقف.</li> <li>• أثناء سقوط الجسم تبتل الجاذبية شغلاً موجباً يزيد من سرعته.</li> </ul>	
تحولات الطاقة لكرة تذف رأسياً لأعلى	<ul style="list-style-type: none"> <li>• لحظة قذف الكرة يمتلك النظام طاقة حركية أما طاقة الوضع = صفراً.</li> <li>• أثناء الصعود لأعلى تتحول طاقة الحركة تدريجياً إلى طاقة وضع.</li> <li>• عند أقصى ارتفاع يمتلك النظام طاقة وضع أما طاقة الحركة = صفراً.</li> <li>• أثناء السقوط تتحول طاقة الوضع تدريجياً إلى طاقة حركية.</li> <li>• في جميع نقاط الحركة مجموع طاقة الحركة وطاقة الوضع = مقداراً ثابتاً.</li> </ul>	

- (١) وضع ✓ أو × : طاقة وضع الجاذبية أحد أنواع الطاقة المختزنة في الجسم بطرق ميكانيكية.
- (٢) اختر: الطاقة المختزنة في الوقود هي طاقة ..  
 (A) حركية. (B) ميكانيكية. (C) كيميائية.
- (٣) اكتب المصطلح العلمي: طاقة مختزنة في النظام نتيجة تأثير قوة الجاذبية.
- (٤) اكتب المصطلح العلمي: المستوى الذي تكون عنده طاقة الوضع = صفراً.



- (٥) اختر: طاقة وضع الجاذبية لماء البئر بالنسبة لسطح الأرض تكون ..  
 (A) سالبة. (B) صفراً. (C) موجبة.
- (٦) وضع  $\checkmark$  أو  $\times$ : تعتمد طاقة وضع الجاذبية لجسم على وزنه وبعده عن مستوى الإسناد.
- (٧) اختر: شغل الجاذبية أثناء صعود الجسم لأعلى يكون ..  
 (A) سالباً. (B) صفراً. (C) موجباً.
- (٨) وضع  $\checkmark$  أو  $\times$ : أثناء سقوط الجسم تبدل الجاذبية شغلاً موجباً يزيد من سرعة الجسم.
- (٩) اختر: لحظة قلب كرة لأعلى يمتلك النظام ..  
 (A) طاقة وضع. (B) طاقة حركة. (C) طاقة وضع وطاقة حركة.
- (١٠) املا الفراغ: أثناء صعود الكرة لأعلى تقل طاقة ..... وتزداد طاقة .....



### أمثلة

6 ص 110: رفع طالب كتاباً كتلته 2.2 kg من فوق سطح طاولة ارتفاعها عن سطح الأرض 0.8 m ثم وضعه على رف الكتب الذي يرتفع عن سطح الأرض مسافة 2.1 m ؛ ما مقدار طاقة الوضع للكتاب بالنسبة لسطح الطاولة؟

الحل:

$$PE = mg(h_2 - h_1) = 2.2 \times 9.8(2.1 - 0.8) = 28 \text{ J}$$

7 ص 110: إذا سقطت قطعة طوب كتلتها 1.8 kg من مدخنة ارتفاعها 6.7 m إلى سطح الأرض فما مقدار التغير في طاقة وضعها؟

الحل: لختار مستوى الإسناد عند سطح الأرض ..

نحسب التغير في طاقة الوضع ..

$$\Delta PE = mg(h_2 - h_1) = 1.8 \times 9.8(0 - 6.7) = -118.2 \text{ J}$$

1 ص 109: إذا رفعت كرة بولنج كتلتها 7.3 kg من سلة الكرات إلى مستوى كتفك ، وكان ارتفاع سلة

الكرات عن سطح الأرض 0.61 m وارتفاع كتفك عن سطح الأرض 1.12 m فما مقدار ..

(a) طاقة وضع الجاذبية لكرة البولنج وهي على كتفك بالنسبة إلى سطح الأرض.

(b) طاقة وضع الجاذبية لكرة البولنج وهي على كتفك بالنسبة إلى سلة الكرات.

(c) شغل الجاذبية عندما ترتفع الكرة من السلة إلى مستوى كتفك.

الجواب النهائي: [ 80.1 ] ، [ 36.5 ] ، [ -36.5 ] .



## الفرس ٢٢ : طاقة الوضع المرونية

### أساسيات عن طاقة الوضع المرونية

تعريفها	{ طاقة مخزنة في الجسم المرن نتيجة تغير شكله }
من أمثلتها	الطاقة المخزنة في .. • الوتر المشدود. • النابض المشدود. • الأربطة المطاطية. • منصات القفز.
تحولات الطاقة في وتر القوس	• الشغل المبذول لسحب وتر القوس يُخزن على شكل طاقة وضع مرونية في الوتر. • عند إفلات الوتر تتحول طاقة وضعه المرونية إلى طاقة حركية فيندفع إلى الأمام.
تحولات الطاقة في لعبة القفز بالزانة	• يركض اللاعب حاملاً عصا الزانة فيكتسب طاقة حركية. • عند ثني العصا يتحول جزء من الطاقة الحركية إلى طاقة وضع مرونية في العصا. • عندما تستقيم العصا تتحول طاقة الوضع المرونية إلى طاقة حركية فيرتفع اللاعب.
الطاقة السكونية	{ كتلة الجسم مضروبة في مربع سرعة الضوء }
قائمة	للكتلة نفسها طاقة وضع تسمى الطاقة السكونية
الملاحة الرياضية	$E_0 = mc^2$ <p><math>E_0</math> الطاقة السكونية [J] <math>m</math> الكتلة [kg] <math>c</math> سرعة الضوء [m/s]</p>

(١) اكتب المصطلح العلمي: طاقة مخزنة في الجسم المرن نتيجة تغير شكله.

(٢) اختر: الطاقة المخزنة في الوتر المشدود طاقة ..

(أ) حركية. (ب) سكونية. (ج) وضع مرونية. (د) وضع مرونية.

(٣) اكتب المصطلح العلمي: كتلة الجسم مضروبة في مربع سرعة الضوء.

(٤) اختر: للكتلة نفسها طاقة وضع تسمى ..

(أ) الطاقة الحركية. (ب) الطاقة السكونية. (ج) طاقة الوضع المرونية.



### أمثلة

37 ص 128: لماذا تتغير القفزة كثيراً في رياضة القفز بالزانة عند استبدال العصا الخشبية القاسية بعصا مصنوعة من الألياف الزجاجية؟

**الحل:** يعتمد ارتفاع القفزة على مقدار طاقة الوضع المخزنة في عصا الزانة ..

- العصا الخشبية القاسية يصعب امتثالها لذا يصعب بذل شغل عليها فلا تخزن طاقة وضع كبيرة.
- العصا المصنوعة من الألياف الزجاجية عالية المرونة يسهل امتثالها فتخزن طاقة وضع أكبر.

74 ص 132: وضع أحد الرماة سهمًا كتلته  $0.3 \text{ kg}$  في القوس، وكان متوسط القوة المؤثرة عند سحب

السهم للخلف مسافة  $1.3 \text{ m}$  تساوي  $201 \text{ N}$  ..

(a) إذا اختزنت الطاقة كلها في السهم فما سرعة انطلاق السهم؟

(b) إذا انطلق السهم رأسياً إلى أعلى فما الارتفاع الذي يصل إليه؟

**الحل:**

(a) سرعة انطلاق السهم ..

$$W = KE_2 - KE_1 \Rightarrow Fd = \frac{1}{2}mv_f^2 - \frac{1}{2}mv_i^2$$

$$\therefore 201 \times 1.3 = \frac{1}{2}(0.3)v_f^2 - \frac{1}{2}(0.3)(0)^2$$

$$261.3 = 0.15v_f^2$$

$$v_f^2 = \frac{261.3}{0.15} = 1742$$

$$v_f = \sqrt{1742} = 41.7 \text{ m/s}$$

« قسمنا الطرفين على 0.15 »

« أخذنا جذر الطرفين »

(b) الارتفاع الذي يصل إليه السهم ..

$$mgh = \frac{1}{2}mv_f^2 \Rightarrow h = \frac{v_f^2}{2g} = \frac{1742}{2 \times 9.8} = 88.87 \text{ m}$$

## الدرس ٢٢ : حفظ الطاقة

### قانون حفظ الطاقة

نصه	{ في النظام المعزول المتعلق الطاقة لا تفنى ولا تستحدث }
النظام المعزول	{ النظام الذي لا تؤثر فيه أي قوة خارجية }
النظام المغلق	{ النظام الذي لا يدخل إليه أو يخرج منه أي جسم }
ثابتة	المجموع الكلي للطاقة في النظام المعزول المغلق ثابتًا
الطاقة الميكانيكية	{ مجموع الطاقة الحركية وطاقة وضع الجاذبية في النظام }
العلاقة الرياضية	$E = KE + PE$
	$E$ الطاقة الميكانيكية [] $KE$ الطاقة الحركية [] $PE$ طاقة وضع الجاذبية []

- (١) اكتب للمصطلح العلمي: في النظام المعزول المتعلق الطاقة لا تفنى ولا تستحدث.
- (٢) اكتب للمصطلح العلمي: النظام الذي لا تؤثر فيه أي قوة خارجية.
- (٣) اكتب للمصطلح العلمي: النظام الذي لا يدخل إليه أو يخرج منه أي جسم.
- (٤) ضع ✓ أو × : المجموع الكلي للطاقة في النظام المعزول المغلق ثابتًا.
- (٥) اكتب للمصطلح العلمي: مجموع الطاقة الحركية وطاقة وضع الجاذبية في النظام.

### قانون حفظ الطاقة الميكانيكية

نصه	{ مجموع الطاقة الحركية وطاقة الوضع في النظام قبل وقوع الحدث تساوي مجموع الطاقة الحركية وطاقة الوضع في النظام بعد وقوع الحدث }
العلاقات الرياضية	$KE_1 + PE_1 = KE_2 + PE_2$ إذا أثرت قوة خارجية على النظام فإن .. $KE_1 + PE_1 + W = KE_2 + PE_2$
ثابتة	الزيادة في طاقة وضع النظام المغلق المعزول = النقص في طاقته الحركية

- الشغل المبذول لإزاحة كرة البندول عن مستوى الإسناد يكسب النظام طاقة.
- لحظة ترك كرة البندول فإنها تمتلك طاقة وضع.
- أثناء الحركة من أعلى نقطة باتجاه أسفل فإنها تمتلك طاقة حركة وطاقة وضع.
- لحظة الوصول إلى مستوى الإسناد فإنها تمتلك طاقة حركة.
- طاقة الحركة عند أسفل نقطة = طاقة الوضع عند أعلى نقطة.

تحولات  
الطاقة في  
البندول  
البسيط

تساؤل تليدب البندول إلى أن يتوقف « **علل** » بسبب وجود مقاومة الهواء يتحول جزء من الطاقة الميكانيكية إلى طاقة حرارية

تعليق

- (٦) اكتب المصطلح العلمي: مجموع الطاقة الحركية وطاقة الوضع في النظام قبل وقوع الحدث تساوي مجموع الطاقة الحركية وطاقة الوضع في النظام بعد وقوع الحدث.
- (٧) اختر: الزيادة في طاقة وضع النظام المعلق الممزول ————— التنصص في طاقته الحركية.
- (A) أكبر من (B) تساوي (C) أصغر من
- (٨) اختر: أزيحت كرة البندول إلى أحد الجانبين فإن الطاقة التي اكتسبتها ..
- (A) طاقة حركية. (B) طاقة الوضع المرونية. (C) طاقة وضع الجاذبية.
- (٩) اختر: لحظة وصول كرة البندول إلى مستوى الإسناد فإنها تمتلك ..
- (A) طاقة حركية. (B) طاقة وضع الجاذبية. (C) طاقة الوضع المرونية.
- (١٠) اختر: طاقة حركة كرة البندول عند أسفل نقطة ————— طاقة وضعها عند أعلى نقطة.
- (A) أصغر من (B) تساوي (C) أكبر من

أمثلة

- 14 ص 117: يقترب سائق دراجة من تل بسرعة  $8.5 \text{ m/s}$  ، فإذا كانت كتلة السائق والدراجة  $85 \text{ kg}$  فما طاقة حركة النظام الابتدائية؟ وإذا صعد السائق التل بالدراجة فما الارتفاع الذي ستوقف عنده؟
- الحل: نحسب طاقتي الحركة الابتدائية والنهائية وطاقة الوضع الابتدائية ثم نحسب الارتفاع ..

$$KE_1 = \frac{1}{2}mv^2 = \frac{1}{2}(85)(8.5)^2 = 3070.6 \text{ J}$$

لأن الدراجة توقفت !

$$KE_2 = 0$$

لأن الارتفاع = 0 ،

$$PE_1 = 0$$

$$KE_1 + PE_1 = KE_2 + PE_2$$

$$3070.6 + 0 = 0 + mgh \Rightarrow h = \frac{3070.6}{85 \times 9.8} = \frac{3070.6}{833} = 3.68 \text{ m}$$

$$\therefore h = 3.68 \text{ m}$$

## الدرس ٢٤ : تحليل التصادمات

### التصادمات

أنواعها	• فوق المرن + الانفجاري . • المرن . • علم المرنة.
التصادم فوق المرن	{ التصادم الذي تزداد فيه الطاقة الحركية بعد التصادم عنها قبل التصادم }
التصادم المرن	{ التصادم الذي تبقى فيه الطاقة الحركية قبل التصادم وبعده متساويتين }
التصادم عديم المرنة	{ التصادم الذي تقل فيه الطاقة الحركية بعد التصادم عنها قبل التصادم }
حفظ الزخم	$P_{A1} + P_{B1} = P_{A2} + P_{B2}$ <p>حيث ..</p> $P = mv$ <p> <math>P_{A1}</math> زخم الجسم الأول قبل التصادم [kg.m/s]  <math>P_{B1}</math> زخم الجسم الثاني قبل التصادم [kg.m/s]  <math>P_{A2}</math> زخم الجسم الأول بعد التصادم [kg.m/s]  <math>P_{B2}</math> زخم الجسم الثاني بعد التصادم [kg.m/s]  <math>m</math> كتلة الجسم [kg] <math>v</math> سرعة الجسم [m/s]                 </p>
مثال توضيحي على التصادم المرن	كرة بلياردو تتحرك بسرعة $v$ باتجاه أخرى ساكنة لها نفس الكتلة بعد التصادم .. • تسكن الكرة المتحركة وتتحرك الساكنة بسرعة $v$ . • الطاقة الحركية بعد التصادم تساوي الطاقة الحركية قبل التصادم.
مثال توضيحي على التصادم عديم المرنة	متزجج يتحرك بسرعة $v$ نحو آخر ساكن له نفس الكتلة بعد التصادم .. • يلتصقان معاً ويتحركان بسرعة $\frac{1}{2}v$ . • الطاقة الحركية النهائية للمتزججين = $\frac{1}{4}$ الطاقة الحركية الابتدائية.

(١) اختر: التصادم الذي تزداد فيه الطاقة الحركية بعد التصادم عنها قبل التصادم ..

(A) التصادم فوق المرن. (B) التصادم المرن. (C) التصادم عديم المرنة.



(٢) اكتب للمصطلح العلمي: التصادم الذي تبقى فيه الطاقة الحركية قبل التصادم وبعده متساويتين.

(٣) اكتب للمصطلح العلمي: التصادم الذي تقل فيه الطاقة الحركية بعد التصادم عنها قبل التصادم.

### أمثلة

18 ص 121: انطلقت رصاصة كتلتها 8 g نحو قطعة خشبية كتلتها 9 kg موضوعة على سطح طاولة

فامتدت فيها وتحركتا معاً كجسم واحد بسرعة 10 m/s ؛ ما مقدار السرعة الابتدائية للرصاصة؟



**الحل:** نختار نظام إحداثيات ونحدد الاتجاه الموجب، ثم نرسم مخططًا لتجهات الزخم، ثم نحسب السرعة الابتدائية للرصاصة ..

« زخم القطعة قبل التصادم = 0 لأنها ساكنة »

$$g \xrightarrow{\times 10^{-3}} \text{kg}$$

« قسمنا الطرفين على  $8 \times 10^{-3}$  »

$$m_A v_{Ai} = (m_A + m_B) v_f$$

$$8 \times 10^{-3} v_{Ai} = (8 \times 10^{-3} + 9)(10)$$

$$8 \times 10^{-3} v_{Ai} = 90.08$$

$$v_{Ai} = \frac{90.08}{8 \times 10^{-3}} = 11260 \text{ m/s}$$



19 ص 121: هدف مغناطيسي كتلته  $0.73 \text{ kg}$  معلق بحيط، أطلق سهم حديدي كتلته  $0.025 \text{ kg}$  أفقيًا في اتجاه الهدف فاصطدم به وانحما معًا وتحركا كبنول ارتفع  $12 \text{ cm}$  فوق المستوى الابتدائي قبل أن يتوقف لحظيًا عن الحركة؛ احسب السرعة الابتدائية للسهم؟

**الحل:**

أولاً: لحسب طاقتي الوضع الابتدائية والنهاية وطاقة الحركة النهائية ثم نحسب السرعة بعد التصادم ..

« عند مستوى الإسناد »

$$PE_i = 0$$

$$\text{cm} \xrightarrow{\times 10^{-2}} \text{m}$$

$$PE_f = (m_A + m_B)gh_f = (0.025 + 0.73)(9.8)(12 \times 10^{-2}) = 0.89 \text{ J}$$

« لأن البنول توقف »

$$KE_f = 0$$

$$KE_i + PE_i = KE_f + PE_f$$

$$\frac{1}{2}(m_A + m_B)v^2 + 0 = 0 + 0.89$$

$$\frac{1}{2}(0.025 + 0.73)v^2 = 0.89$$

$$0.377v^2 = 0.89$$

« قسمنا الطرفين على 0.377 »

$$v^2 = \frac{0.89}{0.377} = 2.36$$

« أخذنا الجذر التربيعي للطرفين »

$$v = \sqrt{2.36} = 1.53 \text{ m/s}$$

ثانيًا: لحسب السرعة الابتدائية للسهم ..

$$m_A v_{Ai} = (m_A + m_B) v_f$$

$$0.025 v_{Ai} = (0.025 + 0.73)(1.53)$$

« زخم الهدف قبل التصادم = 0 لأنه ساكن »

« قسمنا الطرفين على 0.025 »

$$v_{Ai} = \frac{1.15}{0.025} = 46 \text{ m/s}$$

## أجوبة الفصل الرابع

### الأجوبة

× (٥)	(٣) كتلة الجسم ، سرعة الجسم	(١) (A)	الدرس ٢٠
✓ (٦)	✓ (٤)	(٢) (B)	
الحركة ، الوضع	(٤) مستوى الإسناد. (٧) (A) (١٠)	(١) ✓	الدرس ٢١
	✓ (٨) (A) (٥)	(٢) (C)	
	(٩) (B) (٦) ✓	(٣) طاقة وضع الجاذبية.	
(٤) (B)	(٣) الطاقة السكونية. (٧) (C)	(١) طاقة الوضع المرنة.	الدرس ٢٢
(٩) (C)	(٥) الطاقة الميكانيكية.	(١) قانون حفظ الطاقة.	الدرس ٢٣
(١٠) (A)	(٦) قانون حفظ الطاقة الميكانيكية.	(٢) النظام المعزول.	
(١١) (B)	(٧) (B)	(٣) النظام المغلق.	
	(٨) (C)	(٤) ✓	
(٣) التصادم عدم المرنة.	(٢) التصادم المرن.	(١) (A)	الدرس ٢٤

# الطاقة الحرارية

الموسم ٢٥ : درجة الحرارة والطاقة الحرارية

الموسم ٢٦ : قياس درجة الحرارة

الموسم ٢٧ : تدفق الطاقة الحرارية

الموسم ٢٨ : الطاقة الحرارية

الموسم ٢٩ : الاتزان الحراري

الموسم ٣٠ : تغيرات حالة المادة

الموسم ٣١ : الحرارة الكامنة للتبخير

الموسم ٣٢ : قوانين الديناميكا الحرارية

الموسم ٣٣ : المحرك الحراري

الموسم ٣٤ : القانون الثاني للديناميكا الحرارية

أجوبة الفصل الخامس



## الفرس ٢٥ : درجة الحرارة والطاقة الحرارية

### الطاقة الحرارية

تعريفها	{ مقياس للحركة الداخلية لجزيئات الجسم }
فوائد	<ul style="list-style-type: none"> <li>• تمتلك جزيئات الغاز طاقة حركية خطية، طاقة حركية دورانية، طاقة وضع.</li> <li>• تنتقل الطاقة بين الجزيئات نتيجة تصادمها مع بعضها البعض.</li> <li>• تتحرك جزيئات الغاز بجمرية أما جزيئات المادة الصلبة فلا تتمكن من الحركة بجمرية.</li> <li>• الطاقة الكلية لجزيئات الغاز تسمى الطاقة الحرارية.</li> <li>• تتناسب الطاقة الحرارية في الجسم مع عدد الجزيئات فيه.</li> </ul>
تعليل	<p>يتمدد البالون المملوء بغاز الهيليوم عند تعرضه لأشعة الشمس <b>علل</b> لأن طاقة أشعة الشمس تجعل ذرات الغاز تتحرك أسرع فتصطدم بجدران البالون بمعدل أكبر</p>

- (١) اكتب المصطلح العلمي: مقياس للحركة الداخلية لجزيئات الجسم.
- (٢) املأ الفراغ: تمتلك جزيئات الغاز طاقة \_\_\_\_\_ وطاقة \_\_\_\_\_ وطاقة \_\_\_\_\_ .
- (٣) ضع ✓ أو × : تنتقل الطاقة بين الجزيئات نتيجة تصادمها مع بعضها البعض.
- (٤) اختر: الطاقة الكلية لجزيئات الغاز تسمى .. 
- (أ) الطاقة الكيميائية. (ب) الطاقة الحرارية. (ج) الطاقة الكهروكيميائية.
- (٥) ضع ✓ أو × : تتناسب الطاقة الحرارية في الجسم مع عدد الجزيئات فيه.

### درجة الحرارة

قائمة	<p>درجة حرارة الجسم ..</p> <ul style="list-style-type: none"> <li>• تتناسب طردياً مع متوسط الطاقة الحركية للجزيئات فيه.</li> <li>• لا تعتمد على عدد الجزيئات فيه.</li> </ul>
متوسط طاقة حركة جزيئات الجسم	<ul style="list-style-type: none"> <li>• متوسط طاقة جزيئات الجسم الساخن أكبر من متوسط طاقة جزيئات الجسم البارد.</li> <li>• متوسط طاقة حركة الجزيئات في الجسم يساوي قسمة الطاقة الحركية الكلية للجسم على عدد الجزيئات في هذا الجسم.</li> </ul>

- (٦) اختر: تناسب درجة حرارة الجسم طرديًا مع ..... في الجسم.  
 (A) عدد الجزيئات (B) عدد الذرات (C) متوسط الطاقة الحركية للجزيئات
- (٧) ضع ✓ أو ✗ : تعتمد درجة حرارة الجسم على عدد الجزيئات في الجسم.
- (٨) اختر: متوسط طاقة جزيئات الجسم الساخن ..... متوسط طاقة جزيئات الجسم البارد.  
 (A) أكبر من (B) تساوي (C) أصغر من
- (٩) اختر: ناتج قسمة الطاقة الحركية الكلية للجسم على عدد جزيئات هذا الجسم يساوي ..  
 (A) الطاقة الكلية. (B) الطاقة الحرارية. (C) متوسط طاقة حركة الجزيئات في الجسم.



### حالة الاتزان الحراري

تعريفها	{ الحالة التي يتساوى عندها معدلًا تدفق الطاقة بين جسمين متلامسين }
فائدة	<p>عند حدوث الاتزان الحراري بين جسمين متلامسين فإن ..</p> <ul style="list-style-type: none"> <li>• معدل انتقال الحرارة من الجسم الأول إلى الثاني يساوي معدل انتقال الحرارة من الجسم الثاني إلى الأول.</li> <li>• درجة حرارة الجسم الأول تساوي درجة حرارة الجسم الثاني.</li> </ul>

(١٠) اكتب المصطلح العلمي: الحالة التي يتساوى عندها معدلًا تدفق الطاقة بين جسمين متلامسين.

(١١) اختر: عند حدوث الاتزان الحراري بين جسمين متلامسين فإن معدل انتقال الحرارة من الجسم الأول إلى الثاني ..... معدل انتقال الحرارة من الجسم الثاني إلى الأول.

- (A) أكبر من (B) يساوي (C) أصغر من

(١٢) اختر: عند حدوث الاتزان الحراري بين أي جسمين متلامسين فإن درجة حرارة الجسم الأول ..... درجة حرارة الجسم الثاني.

- (A) أكبر من (B) تساوي (C) أصغر من

### مقاييس الحرارة « أجهزة قياس الحرارة »

- يُجعل الأنيوب الزجاجي لقياس الحرارة ملامسًا للجسم الساخن.
- تصادم جزيئات الجسم الساخن بجزيئات زجاج مقياس الحرارة تنتقل الطاقة من الجسم الساخن إلى زجاج مقياس الحرارة عن طريق عملية التوصيل.
- عند الاتزان الحراري بين مقياس الحرارة والجسم يسجل المقياس درجة حرارة الجسم.

عملها

### أنواعها

- مقاييس الحرارة المتزلية: يتمدد الكحول الملون مشيراً إلى درجة الحرارة.
- مقاييس الحرارة السائلة - البلورية: يتغير لون البلورة بتغير ترتيب السوائل البلورية مشيراً إلى درجة الحرارة.
- مقاييس الحرارة الطبيعية: تستخدم دوائر إلكترونية حساسة للحرارة.
- مقاييس الحرارة في محركات المركبات: تستخدم دوائر إلكترونية حساسة للحرارة.

(١٣) اختر: تنتقل الطاقة من الجسم الساخن إلى مقياس الحرارة الملامس له عن طريق ..  
 (A) التوصيل. (B) الحمل. (C) الإشعاع.

(١٤) اختر: عند الاتزان الحراري بين مقياس الحرارة والجسم الملامس له فإن درجة حرارة مقياس الحرارة ..... درجة حرارة الجسم.

(A) أكبر من (B) تساوي (C) أصغر من

(١٥) اختر: تستخدم دوائر إلكترونية حساسة للحرارة في مقاييس الحرارة ..

(A) المتزلية. (B) السائلة - البلورية. (C) الطبيعية.

(١٦) ضع ✓ أو ✗ : في مقاييس الحرارة السائلة - البلورية يتغير لون البلورة بتغير درجة الحرارة.

### أمثلة

38 ص 166: هل جميع الجزيئات أو الذرات في السائل لها السرعة نفسها؟

الحل: لا؛ ليس لها السرعة نفسها وإنما لها مدى واسع من قيم الطاقة والسرعة.

37 ص 166: هل توجد درجة حرارة للفراغ؟

الحل: لا توجد درجة حرارة للفراغ لعدم وجود جزيئات فيه.

## الحرارة ٢٦ : قياس درجة الحرارة

### أنظمة قياس درجة الحرارة

النظام	الوحدة	درجة تجمد الماء	درجة غليان الماء عند مستوى سطح البحر
سلسيوس	°C	0	100
فهرنهايت	F	32	212
كلفن	K	273	373

**أنواعها**

- حدود درجات الحرارة في الكون ملئ وأصح ..
- لا يوجد حد أعلى للدرجات الحرارة.
- يوجد حد أدنى للدرجات الحرارة يسمى الصفر المطلق ويساوي  $-273^{\circ}\text{C}$ .

**فائدة**

- عند تبريد غاز مثالي إلى درجة الصفر المطلق ..
- تتلاشى الفراغات بين اللوات.
- حجم الغاز المثالي مساو لحجم ذرات هذا الغاز.
- تفقد ذرات الغاز المثالي طاقتها كاملة.

**تحويل**

في المسائل العلمية والهندسية يستعمل مقياس سلسيوس بدلاً من مقياس كلفن **حلل** ! لاحتواء مقياس سلسيوس على درجات حرارة سالبة مما يوحي بأن طاقة الحركة سالبة وهذا مستحيل

**فائدة**

يمكن الوصول إلى درجات الحرارة المنخفضة جداً من خلال جعل الغازات سائلة

**المعادلة الرياضية**

$$T_K = T_C + 273$$

$T_K$  درجة الحرارة حسب مقياس كلفن [K]  
 $T_C$  درجة الحرارة حسب مقياس سلسيوس [°C]

(١) ضع ✓ أو × : لا يوجد حد أعلى للدرجات الحرارة في الكون.

(٢) اختر: لا يوجد درجة حرارة أقل من درجة ..

(A) الصفر المطلق. (B) الصفر المتوي. (C) الصفر الفهرنهايتي.

(٣) اختر: عند تبريد الغاز المثالي إلى درجة الصفر المطلق فإن حجم الغاز ..... حجم ذراته.

(A) أكبر من (B) مساوي (C) أصغر من

(٤) اختر: تفقد ذرات الغاز طاقتها كاملة عند درجة ..

(A) الصفر المطلق. (B) الصفر المتوي. (C) الصفر الفهرنهايتي.



## أمثلة

10 ص 149: حول درجات الحرارة الآتية لأنظمة القياس المشار إليها ..  
(a) 5 °C إلى كلفن. (b) 34 K إلى السلسيوس. (c) 212 °C إلى كلفن. (d) 316 K إلى السلسيوس.

الحل:

(a) التحويل من سلسيوس إلى كلفن ..

$$T_K = T_C + 273 = 5 + 273 = 278 \text{ K}$$

(b) التحويل من كلفن إلى سلسيوس ..

$$T_K = T_C + 273 \Rightarrow T_C = T_K - 273 = 34 - 273 = -239 \text{ °C}$$

(c) التحويل من سلسيوس إلى كلفن ..

$$T_K = T_C + 273 = 212 + 273 = 485 \text{ K}$$

(d) التحويل من كلفن إلى سلسيوس ..

$$T_K = T_C + 273 \Rightarrow T_C = T_K - 273 = 316 - 273 = 43 \text{ °C}$$

1 ص 142: حول درجات الحرارة الآتية من نظام كلفن إلى نظام سلسيوس ..

(b) 425 K

(a) 115 K

11 ص 149: حول درجات الحرارة الآتية من نظام سلسيوس إلى نظام كلفن ..

(b) -184 °C

(a) 8 °C

## الدرس ٢٧ : تحقق الطاقة الحرارية

### الحرارة

تعريفها	{ الطاقة التي تنتقل من الجسم الساخن إلى الجسم البارد تلقائيًا }
إشارتها	+ إذا امتص الجسم حرارة - إذا بعث الجسم الحرارة
قائده	لا تنتقل الحرارة تلقائيًا من الجسم البارد إلى الجسم الساخن أبدًا
طرق انتقال الحرارة	الوسط الناقل
	المواد الصلبة
	السوائل والغازات
	الفراغ
التوصيل الحراري	{ عملية نقل الطاقة الحركية عند تصادم الجزيئات بعضها ببعض }
كيف يحدث؟	عند تسخين طرف قضيب معدني فإن الطرف الآخر للقضيب يسخن أيضًا <b>علل</b> بسبب انتقال الطاقة الحرارية عند تصادم الجزيئات المتلامسة بعضها ببعض
الحمل الحراري	{ حركة للمائع في السائل أو الغاز بسبب اختلاف درجات الحرارة }
كيف يحدث؟	عند وضع دورق ماء على اللهب .. • تسخن جزيئات الماء فيخف وزنها وترتفع لأعلى. • تنزل الجزيئات الباردة لتحل محل الجزيئات الساخنة. • تنتقل الحرارة بين الماء الساخن الصاعد والماء البارد النازل.
الإشعاع الحراري	{ انتقال الطاقة الحرارية بواسطة الموجات الكهرومغناطيسية في الفراغ }
من نواتج الحمل الحراري	• للغازات في الغلاف الجوي: الاضطرابات الجوية ومثلها العواصف الرعدية. • لتيارات المائية في المحيطات: التغير في أنماط الطقس.

(١) اكتب للمصطلح العلمي: الطاقة التي تنتقل من الجسم الساخن إلى الجسم البارد تلقائيًا.

(٢) ضع ✓ أو × : تنتقل الحرارة تلقائيًا من الجسم البارد إلى الجسم الساخن.

(٣) اختر: إذا امتص الجسم حرارة فإن كمية الحرارة ..

(C) موجبة.

(B) صفرًا.

(A) سالبة.



- (٤) اختر: تنتقل الحرارة بطريقة الحمل الحراري في ..  
 (A) المواد الصلبة. (B) السوائل والغازات. (C) الفراغ.
- (٥) اختر: لا تحتاج الحرارة إلى وسط ناقل عند انتقالها بطريقة ..  
 (A) التوصيل الحراري. (B) الحمل الحراري. (C) الإشعاع الحراري.
- (٦) اكتب المصطلح العلمي: عملية نقل الطاقة الحركية عند تصادم الجزيئات بعضها ببعض.
- (٧) اكتب المصطلح العلمي: حركة المائع في السائل أو الغاز بسبب اختلاف درجات الحرارة.
- (٨) اكتب المصطلح العلمي: انتقال الطاقة الحرارية بوساطة الموجات الكهرومغناطيسية في الفراغ.
- (٩) اختر: الاضطرابات الجوية في الغلاف الجوي تنتج عن ..  
 (A) التوصيل الحراري. (B) الحمل الحراري. (C) الإشعاع الحراري.



## الحرارة النوعية

تعريفها	{ كمية الطاقة التي يجب أن تكتسبها المادة لترتفع درجة حرارة وحدة الكتل من المادة } درجة واحدة {
تزداد درجة حرارة الجسم عند تدفق الحرارة إليه وتعتمد الزيادة على .. • حجم الجسم. • طبيعة المادة التي يتكوّن منها الجسم.	
تعمل الشمس على تسخين رمل الشاطئ وماء البحر معاً إلا أن رمل الشاطئ يسخن أسرع من ماء البحر « <b>هليل</b> » لأن الحرارة النوعية للرمل أقل منها للماء	

- (١٠) اكتب المصطلح العلمي: كمية الطاقة التي يجب أن تكتسبها المادة لترتفع درجة حرارة وحدة الكتل منها درجة واحدة.
- (١١) ضع ✓ أو ✗ : الزيادة في درجة حرارة الجسم عند تدفق الحرارة إليه تعتمد على حجم الجسم.



## الحرس ٢٨ : الطاقة الحرارية

### الطاقة الحرارية المكتسبة والمفقودة

العوامل المؤثرة ليها • كتلة الجسم. • التغير في درجة حرارة الجسم. • الحرارة النوعية لمادة الجسم.		
$Q$ الطاقة الحرارية المكتسبة أو المفقودة [J] $m$ كتلة الجسم [kg] $c$ الحرارة النوعية للمادة [J/kg.K] $T_f$ درجة الحرارة النهائية [K] $T_i$ درجة الحرارة الابتدائية [K]	$Q = mc(T_f - T_i)$	الملاحظة الرياضية تنبيه: كل تغير بمقدار 1 K يساوي تغيراً بمقدار 1 °C.
تكاليف الاستخدام [ريال] $Q$ الطاقة الحرارية [J] السعر [ريال]	$\text{السعر} \times Q = \text{تكاليف الاستخدام} / 3.6 \times 10^6$	تكاليف استخدام الطاقة الكهربائية

- (١) اختر: الطاقة الحرارية المكتسبة أو المفقودة من الجسم تعتمد على ..  
 (A) طول الجسم. (B) طريقة انتقال الحرارة إلى الجسم. (C) الحرارة النوعية لمادة الجسم.



### المصهر

تعريفه	{ أداة تستخدم لقياس التغير في الطاقة الحرارية }
استخداماته	<ul style="list-style-type: none"> <li>قياس التغير في الطاقة الحرارية.</li> <li>قياس التفاعلات الكيميائية.</li> <li>قياس محتوى الأطعمة من الطاقة.</li> </ul>
مبدأ عمله	مبدأ حفظ الطاقة في النظام المغلق والممزول
مبدأ حفظ الطاقة	{ تكون الطاقة الحرارية في النظام المغلق والممزول للجسم الأول مضافاً إليها الطاقة الحرارية للجسم الثاني مقداراً ثابتاً }
الملاحظة الرياضية	$E_A + E_B = \text{ثابت}$
	$E_A$ الطاقة الحرارية للجسم A [J] $E_B$ الطاقة الحرارية للجسم B [J]

- (٢) اكتب المصطلح العلمي: أداة تستخدم لقياس التغير في الطاقة الحرارية.

- (٣) املأ الفراغ: جهاز يستخدم لقياس محتوى الأطعمة من الطاقة يسمى .....





- (4) ضع ✓ أو ✗ : يعتمد مبدأ عمل المسرع على مبدأ حفظ الطاقة في النظام المغلق والمعزول.
- (5) اكتب للمصطلح العلمي: تكون الطاقة الحرارية في النظام المغلق والمعزول للجسم الأول مضافاً إليها الطاقة الحرارية للجسم الثاني مقداراً ثابتاً.



### أمثلة

3 ص 145: عندما تفتح صنبور الماء الساخن لغسل الأواني فإن أتابيب المياه تسخن؛ ما مقدار كمية الحرارة التي يمتصها أنبوب ماء نحاسي كتلته 2.3 kg وحرارته النوعية 385 J/kg.°C عندما ترتفع درجة حرارته من 20 °C إلى 80 °C ؟

الحل:

$$Q = mC(T_f - T_i) = (2.3)(385)(80 - 20) = 53130 \text{ J}$$

51 ص 166: يمتص قالب من المعدن كتلته 5×10<sup>2</sup> g كمية من الحرارة مقدارها 5016 J عندما تتغير درجة حرارته من 20 °C إلى 30 °C ؛ احسب الحرارة النوعية للمعدن.

الحل:

$$Q = mC(T_f - T_i) \Rightarrow C = \frac{Q}{m(T_f - T_i)} = \frac{5016}{5 \times 10^{-3} \times 10^{-3} (30 - 20)}$$

$$\therefore C = 1003.2 \text{ J/kg.}^\circ\text{C}$$

5 ص 145: تباع شركات الكهرباء الطاقة الكهربائية بوحدة kWh حيث 1 kWh = 3.6×10<sup>6</sup> J ؛ إذا كان فن كل kWh يساوي 0.15 ريال فما تكلفة تسخين 75 kg ماء من درجة حرارة 15 °C إلى 43 °C ؟ إذا علمت أن الحرارة النوعية للماء 4180 J/kg.°C .

الحل: نحسب الطاقة الحرارية ثم نحسب تكاليف الاستخدام ..

$$Q = mC(T_f - T_i) = (75)(4180)(43 - 15) = 7837500 \text{ J}$$

$$\text{تكاليف الاستخدام} = \frac{Q \times \text{السعر}}{3.6 \times 10^6} = \frac{7837500 \times 0.15}{3.6 \times 10^6} = 0.326 \text{ ريال}$$

1 ص 144: إذا تم تسخين مقلاة من الحديد الصلب كتلتها 5.1 kg من درجة حرارة 295 K إلى درجة حرارة 450 K فما مقدار الحرارة المتشكلة للحديد؟ هل يمكن أن الحرارة النوعية للحديد 450 J/kg.K .  
الجواب النهائي: [ 3.6×10<sup>5</sup> J ] .

## الدرس ٢٩ : الاتزان الحراري

### الاتزان الحراري

- نظام مغلق وممزول مكون من جسمين متلامسين الأول ساخن والآخر بارد ..
- تتدفق الحرارة من الجسم الساخن إلى الجسم البارد فتتقص طاقة الأول وتزيد طاقة الثاني بالمقدار نفسه.
  - التغير في طاقة الجسم الساخن **سالب** والتغير في طاقة الجسم البارد **موجب**.
  - الطاقة الكلية للنظام ثابتة.
  - تنقص درجة حرارة الجسم الساخن وتزيد درجة حرارة الجسم البارد.
  - عند الاتزان درجة الحرارة النهائية للجسم الأول تساوي درجة الحرارة النهائية للجسم الثاني وتساوي درجة الحرارة النهائية للنظام.

قائلة

$T_f$  درجة الحرارة النهائية للنظام [K]  
A, B الجسمين المتلامسين  
 $m$  كتلة الجسم [kg]  
C الحرارة النوعية للمادة [J/kgK]  
T درجة حرارة الجسم [K]

$$T_f = \frac{m_A C_A T_A + m_B C_B T_B}{m_A C_A + m_B C_B}$$

جسمين من النوع نفسه وهما الكتلة نفسها ..

$$T_f = \frac{T_A + T_B}{2}$$

درجة الحرارة  
النهائية للنظام  
عند الاتزان

- تقسم الحيوانات اعتمادًا على درجة حرارة أجسامها إلى ..
- متغيرة درجة الحرارة: تتغير درجة حرارة أجسامها تبعًا للبيئة المحيطة مثل السحلية.
  - ثابتة درجة الحرارة: تتحكم في درجة حرارة أجسامها داخليًا مثل الثدييات.

قائلة

(١) اختر: عند تلامس جسم ساخن مع آخر بارد فإن التغير في طاقة الجسم البارد يكون ..  
(A) موجبًا. (B) صفرًا. (C) سالبًا.

(٢) ضع ✓ أو × : عند تلامس جسم ساخن مع آخر بارد طاقة النظام الكلية تنقص.

(٣) اختر: درجة الحرارة النهائية لجسمين متلامسين ..... درجة حرارة النظام النهائية.

(A) أكبر من (B) تساوي (C) أصغر من

(٤) اختر: الحيوانات التي تتحكم بدرجة حرارة أجسامها داخليًا تسمى ..... درجة الحرارة.

(A) متغيرة (B) منخفضة (C) ثابتة (D) مرتفعة



## أمثلة

6 ص 148: إذا خلطت عينة ماء كتلتها  $2 \times 10^2$  g ودرجة حرارتها  $80^\circ\text{C}$  مع عينة ماء كتلتها  $2 \times 10^2$  g ودرجة حرارتها  $10^\circ\text{C}$  فما درجة الحرارة النهائية للخليط؟

الحل:

« لأن العيتين من النوع نفسه وهما الكتلة نفسها »

$$T_f = \frac{T_A + T_B}{2} = \frac{80 + 10}{2} = 45^\circ\text{C}$$

7 ص 148: خلطت عينة ميثانول كتلتها  $4 \times 10^2$  g ودرجة حرارتها  $16^\circ\text{C}$  مع عينة ماء كتلتها  $4 \times 10^2$  g ودرجة حرارتها  $85^\circ\text{C}$  ؛ ما درجة الحرارة النهائية للخليط؟ علماً أن الحرارة النوعية للماء  $4180 \text{ J/kg}\cdot^\circ\text{C}$  وللميثانول  $2450 \text{ J/kg}\cdot^\circ\text{C}$ .

الحل:

$$T_f = \frac{m_A C_A T_A + m_B C_B T_B}{m_A C_A + m_B C_B}$$

$$= \frac{4 \times 10^2 \times 10^{-3} \times 2450 \times 16 + 4 \times 10^2 \times 10^{-3} \times 4180 \times 85}{4 \times 10^2 \times 10^{-3} \times 2450 + 4 \times 10^2 \times 10^{-3} \times 4180} = 59.5^\circ\text{C}$$

$$\text{g} \xrightarrow{\times 10^{-3}} \text{kg}$$

40 ص 166: إذا تدفقت الحرارة من جسم ساخن ملامس لجسم بارد فهل يحدث للتجمين التغير نفسه في درجات الحرارة؟

الحل: لا ؛ لأن التبريد يعتمد على الحرارة النوعية لكل منهما وكتلة كل منهما.

49 ص 166: أسقط قالبان من الرصاص هما درجة الحرارة نفسها في كأسين متماثلين من الماء متساويين في درجة الحرارة ؛ فإذا كانت كتلة القالب الأول ضعف كتلة القالب الثاني فهل يكون لكاسي الماء درجات الحرارة نفسها بعد الوصول إلى حالة الاتزان الحراري؟ وضح ذلك.

الحل: طاقة القالب الأول ضعف طاقة القالب الثاني لأن كتلته أكبر لذلك لا يكون لكاسي الماء درجة الحرارة نفسها عند الوصول إلى حالة الاتزان الحراري.

2 ص 147: مسعر بجوي ماء كتلته  $0.5 \text{ kg}$  عند درجة حرارة  $15^\circ\text{C}$  ؛ فإذا وضع قالب من الحارصين كتلته  $0.04 \text{ kg}$  عند درجة حرارة  $115^\circ\text{C}$  في الماء فما درجة الحرارة النهائية للنظام؟ إذا كانت الحرارة النوعية للحارصين  $388 \text{ J/kg}\cdot^\circ\text{C}$  والحرارة النوعية للماء  $4180 \text{ J/kg}\cdot^\circ\text{C}$ .

الجواب النهائي:  $16^\circ\text{C}$ .

## الدرس ٢٠ : تغيرات حالة المادة

### تغير حالة المادة

تعريفه	{ تغير الشكل والطريقة التي تُخزَّنُ الذراتُ بوساطتها الطاقة الحرارية }
حالات المادة	• الصلبة. • السائلة. • الغازية.
درجة الانصهار	{ درجة الحرارة التي تتغير عندها المادة من الحالة الصلبة إلى الحالة السائلة }
درجة الغليان	{ درجة الحرارة التي تتغير عندها المادة من الحالة السائلة إلى الحالة الغازية }
قائلة	أثناء عملية تغير حالة المادة فإن الطاقة الحرارية المكتسبة .. • تعمل على التغلب على القوى التي تربط الجزيئات بعضها ببعض. • لا تؤدي إلى زيادة الطاقة الحركية للجزيئات فتبقى درجة الحرارة ثابتة.
تعليلان	• أثناء عملية انصهار المادة الصلبة تبقى درجة الحرارة ثابتة « <b>حلل</b> » لأن الطاقة الحرارية المكتسبة لا تؤدي إلى زيادة الطاقة الحركية للجزيئات. • أثناء عملية غليان المادة السائلة تبقى درجة الحرارة ثابتة « <b>حلل</b> » لأن الطاقة الحرارية المكتسبة لا تؤدي إلى زيادة الطاقة الحركية للجزيئات.
تأكلتان	• بعد تحول المادة الصلبة كلياً إلى سائل فإن الطاقة الحرارية المكتسبة تؤدي إلى زيادة الطاقة الحركية للجزيئات فترتفع درجة حرارة السائل. • بعد تحول المادة السائلة كلياً إلى بخار فإن الطاقة الحرارية المكتسبة تؤدي إلى زيادة الطاقة الحركية للجزيئات فترتفع درجة حرارة البخار.

(١) اكتب للمصطلح العلمي: تغير الشكل والطريقة التي تُخزَّنُ الذراتُ بوساطتها الطاقة الحرارية.

(٢) اختر: درجة الحرارة التي تتغير عندها المادة من الحالة الصلبة إلى الحالة السائلة ..

(A) درجة الانصهار. (B) درجة التجمد. (C) درجة الغليان. (D) درجة التكاثر.

(٣) اختر: درجة الحرارة التي تتغير عندها المادة من الحالة السائلة إلى الحالة الغازية ..

(A) درجة الانصهار. (B) درجة التجمد. (C) درجة الغليان. (D) درجة التكاثر.

(٤) ضع ✓ أو ✗ : أثناء عملية انصهار المادة الصلبة فإن الطاقة الحرارية المكتسبة تعمل على التغلب على القوى التي تربط الجزيئات بعضها ببعض.



(٥) اختر: أثناء عملية انصهار المادة الصلبة درجة الحرارة ..

- (A) تزداد. (B) تبقى ثابتة. (C) تنقص.

(٦) اختر: بعد تحول المادة الصلبة كلياً إلى سائل فإن الطاقة الحرارية المكتسبة تؤدي إلى

..... الطاقة الحركية لجزيئات السائل.

- (A) زيادة (B) ثبات (C) نقص

(٧) اختر: الطاقة المضافة بعد تحول المادة كلياً إلى بخار تؤدي إلى ..... درجة حرارة البخار.

- (A) زيادة (B) ثبات (C) نقص

## الحرارة الكامنة للانصهار

تعريفها	{ كمية الطاقة اللازمة لتحويل 1 kg من المادة من الحالة الصلبة إلى الحالة السائلة عند درجة الانصهار }
العلاقة الرياضية	$Q = mH_f$ <p>Q الحرارة اللازمة لصبهر الكتلة الصلبة [J] m الكتلة الصلبة من المادة [kg] H<sub>f</sub> الحرارة الكامنة لانصهار المادة الصلبة [J/kg]</p>
فوائد	<ul style="list-style-type: none"> <li>• الحرارة الكامنة للانصهار ثابتة للمادة الواحدة.</li> <li>• الحرارة المفقودة عند التجمد = - الحرارة المكتسبة عند الانصهار.</li> <li>• الإشارة <b>السالبة</b> تشير إلى أن الحرارة تنتقل من المادة إلى المحيط الخارجي.</li> </ul>

(٨) اكتب المصطلح العلمي: كمية الطاقة اللازمة لتحويل 1 kg من المادة من الحالة الصلبة إلى الحالة السائلة عند درجة الانصهار.

(٩) ضع ✓ أو ✗ : الحرارة الكامنة للانصهار ثابتة لجميع المواد.

(١٠) اختر: إذا علمت أن الحرارة الكامنة لانصهار الجليد =  $3.34 \times 10^5$  J/kg فإن الحرارة

اللازمة لتجمد 1 kg من الماء بوحدة J/kg تساوي ..

- (A)  $-6.68 \times 10^5$  (B)  $6.68 \times 10^5$  (C)  $3.34 \times 10^5$  (D)  $-3.34 \times 10^5$

## أمثلة

41 من 166: هل تستطيع إضافة طاقة حرارية إلى جسم دون زيادة درجة حرارته؟ فسر ذلك.

**الحل:** نعم؛ لأن الطاقة الحرارية المضافة خلال تغير حالة الجسم، انصهار أو تبخر، لا تؤدي إلى زيادة الطاقة الحركية للجزيئات فلا تزداد درجة حرارته.

42 ص 166: عندما يتجمد الشمع، هل يمتص طاقة أم يبعث طاقة؟

**الحل:** يبعث طاقة تعادل مقدار الطاقة التي يمتصها عندما يتصهر.

47 ص 166: سخنت كتلتان متساويتان من الألمنيوم والرصاص بحيث أصبحتا عند درجة الحرارة نفسها

ثم وضعت القطعتان على لوحين متماثلين من الجليد؛ أيهما يسهو جليداً أكثر؟ وضع ذلك

**الحل:** الألمنيوم يسهو جليداً أكثر؛ لأن حرارته النوعية أكبر فيكتسب طاقة حرارية أكبر.

58 ص 167: كانت إحدى طرق التبريد قديماً تقتضي استخدام لوح من الجليد كتلته 20 kg في صندوق

الجليد المتزلي؛ فإذا كانت درجة حرارة الجليد عند استلامه 0 °C فما مقدار الحرارة التي يمتصها القالب

أثناء انصهاره؟ علمًا أن الحرارة الكامنة لانصهار الجليد  $3.34 \times 10^5$  J/kg .

**الحل:**

$$Q = mH_f = (20)(3.34 \times 10^5) = 6.6810^6 \text{ J}$$

19 ص 154: ما مقدار كمية الحرارة اللازمة لتحويل كتلة من الجليد مقدارها  $1 \times 10^2$  g ودرجة حرارتها

0 °C إلى ماء درجة حرارته 0 °C؟ إذا علمت أن الحرارة النوعية للجليد 2060 J/kg.°C والحرارة

الكامنة لانصهار الجليد  $3.34 \times 10^5$  J/kg .

**الحل:**

أولاً: لحسب مقدار الحرارة اللازمة لرفع درجة حرارة الجليد ..

$$\frac{\times 10^{-3}}{\text{g}} \rightarrow \text{kg}$$

$$Q_1 = mc(T_f - T_i) = 1 \times 10^2 \times 10^{-3} \times 2060 [0 - (-20)] = 4120 \text{ J}$$

ثانياً: لحسب مقدار الحرارة الكامنة لانصهار الجليد ..

$$Q_2 = mH_f = 1 \times 10^2 \times 10^{-3} \times 3.34 \times 10^5 = 3.34 \times 10^4 \text{ J}$$

ثالثاً: لحسب مقدار الحرارة الكلية ..

$$Q = Q_1 + Q_2 = 4120 + 3.34 \times 10^4 = 37520 \text{ J}$$

3 ص 153: افترض أنك تحميم في الجبال وتحتاج إلى صهر 1.5 kg من الثلج عند درجة حرارة 0 °C

وتسخينه إلى درجة حرارة 70 °C لصنع شراب ساخن؛ ما مقدار الحرارة التي يتطلبها ذلك إذا كانت

الحرارة الكامنة لانصهار الجليد  $3.34 \times 10^5$  J/kg والحرارة النوعية للماء 4180 J/kg °C ؟

الجواب النهائي:  $9.4 \times 10^5$  J .

## الفرس ٢١ : الحرارة الكامنة للتبخير

### أساسيات عن الحرارة الكامنة للتبخير

تعريفها	{ كمية الطاقة اللازمة لتحويل 1 kg من المادة من الحالة السائلة إلى الحالة الغازية عند درجة الغليان }
فائدة	ميل العلاقة البيانية بين درجة حرارة المادة والحرارة التي تكتسبها هو مقلوب الحرارة النوعية للمادة
العلاقة الرياضية	$Q = mH_v$ <p>Q الحرارة اللازمة لتبخير السائل [J] m كتلة السائل [kg] H<sub>v</sub> الحرارة الكامنة لتبخير السائل [J/kg]</p>
فائدتان	<ul style="list-style-type: none"> <li>• الحرارة المفقودة عند التكثف = - الحرارة المكتسبة عند التبخير.</li> <li>• الإشارة <b>السالبة</b> تشير إلى أن الحرارة تنتقل من المادة إلى المحيط الخارجي.</li> </ul>

(١) اكتب المصطلح العلمي: كمية الطاقة اللازمة لتحويل 1 kg من المادة من الحالة السائلة إلى الحالة الغازية عند درجة الغليان.



(٢) اختر: ميل العلاقة البيانية بين درجة حرارة المادة والحرارة التي تكتسبها هو ..

(A) الحرارة النوعية. (B) مقلوب الحرارة النوعية. (C) الحرارة الكامنة للتبخير.

### أمثلة

48 ص 166: لماذا يشعر الشخص ببرودة السوائل سريعة التبخير على الجلد؟

الحل: لأنها تمتص الطاقة اللازمة للتبخير من الجلد فتتخفف درجة حرارة الجلد.

43 ص 166: فسر لماذا يبقى الماء في القرية المحاطة بقماش رطب بارداً أكثر من حالة عدم وجود قماش؟

الحل: يمتص القماش الرطب الحرارة اللازمة لتبخيره فتتخفف درجة حرارة الماء في القرية.

20 ص 154: إذا سخنت عينة ماء كتلتها  $2 \times 10^3$  g ودرجة حرارتها  $60^\circ\text{C}$  فأصبحت بخاراً درجة حرارته

$140^\circ\text{C}$  فما مقدار كمية الحرارة الممتصة؟ إذا علمت أن الحرارة النوعية للماء  $4180 \text{ J/kg}$  والحرارة

النوعية لبخار الماء  $2020 \text{ J/kg}$  والحرارة الكامنة للتبخير  $2.26 \times 10^6 \text{ J/kg}$ .

الحل:

أولاً: نحسب مقدار الحرارة اللازمة لتسخين الماء ..

$$\text{g} \xrightarrow{\times 10^{-3}} \text{kg}$$

$$Q_1 = mC(T_f - T_i) = 2 \times 10^2 \times 10^{-3} \times 4180(100 - 60) = 33440 \text{ J}$$

ثانياً: نحسب مقدار الحرارة اللازمة لتبخير الماء ..

$$Q_2 = mH_v = 2 \times 10^2 \times 10^{-3} \times 2.26 \times 10^6 = 452000 \text{ J}$$

ثالثاً: نحسب مقدار الحرارة اللازمة لرفع درجة حرارة البخار ..

$$Q_3 = mC(T_f - T_i) = 2 \times 10^2 \times 10^{-3} \times 2020(140 - 100) = 16160 \text{ J}$$

رابعاً: نحسب مقدار الحرارة الكلية ..

$$Q = Q_1 + Q_2 + Q_3 = 33440 + 452000 + 16160 = 501600 \text{ J}$$

59 ص 167: كتفت عينة من الكلوروفورم كتلتها 40 g من بخار عند درجة 61.6 °C إلى سائل عند درجة

61.6 °C فانبعثت حرارة بمقدار 9870 J ما الحرارة الكامنة لتبخير الكلوروفورم؟

الحل:

$$\text{g} \xrightarrow{\times 10^{-3}} \text{kg}$$

$$Q = mH_v \Rightarrow H_v = \frac{Q}{m} = \frac{9870}{40 \times 10^{-3}} = 246750 \text{ J/kg}$$



## الدرس ٢٢ : قوانين الديناميكا الحرارية

### القانون الأول للديناميكا الحرارية

تعريفه	{ التغير في الطاقة الحرارية لجسم يساوي مقدار الحرارة المضافة إلى الجسم مطروحًا منه الشغل الذي يبذله الجسم }
المعادلة الرياضية	$\Delta U = Q - W$
	$\Delta U$ التغير في الطاقة الحرارية [J] $Q$ الحرارة المضافة [J] $W$ الشغل الذي يبذله الجسم [J]
فائدة	يُعد القانون الأول للديناميكا الحرارية صياغة أخرى لقانون حفظ الطاقة
قانون حفظ الطاقة	{ الطاقة لا تخلق ولا تستحدث وإنما تتغير من شكل إلى آخر }
أمثلة على تحويلات الطاقة	<ul style="list-style-type: none"> <li>المضخة اليدوية: تحول الطاقة الميكانيكية في المكبس إلى طاقة حرارية للغاز.</li> <li>محمصة الخبز: تحول الطاقة الكهربائية إلى طاقة حرارية.</li> </ul>

- (١) اكتب المصطلح العلمي: التغير في الطاقة الحرارية لجسم يساوي مقدار الحرارة المضافة إلى الجسم مطروحًا منه الشغل الذي يبذله الجسم.
- (٢) اختر: يُعد القانون الأول للديناميكا الحرارية صياغة أخرى لقانون ..  
 (A) حفظ الشحنة. (B) حفظ الطاقة. (C) حفظ الزخم.
- (٣) اكتب المصطلح العلمي: الطاقة لا تخلق ولا تستحدث وإنما تتغير من شكل إلى آخر.
- (٤) اختر: المضخة اليدوية تحول الطاقة الميكانيكية في المكبس إلى ..  
 (A) طاقة حرارية للغاز. (B) طاقة حركية للغاز. (C) طاقة ميكانيكية للغاز.
- (٥) املا القراع: محمص الخبز تحول الطاقة الكهربائية إلى طاقة ..



### أمثلة

22 ص 157: بالون غاز يتحصن [ 75 من الحرارة؛ فإذا تمدد البالون وبقي عند درجة الحرارة نفسها فما مقدار الشغل الذي يبذله البالون أثناء تمدده؟

الحل:

بقي البالون عند درجة الحرارة نفسها ؛

$$\Delta U = 0 \rightarrow W = Q = 75 \text{ J}$$

23 ص 157: يتقرب محرك كهربائي فجوة صغيرة في قالب من الألمنيوم كتلته  $0.4 \text{ kg}$  فيسخن الألمنيوم بمقدار  $5^\circ\text{C}$  ، ما مقدار الشغل الذي يبذله المتقرب ؟ علماً أن الحرارة النوعية للألمنيوم  $897 \text{ J/kg}\cdot^\circ\text{C}$  .

الحل:

$$W = Q = mC\Delta T = (0.4)(897)(5) = 1749 \text{ J}$$

25 ص 157: عندما تحرك كوباً من الشاي تبذل شغلاً مقداره  $0.05 \text{ J}$  في كل مرة تحرك فيها الملعقة بصورة دائرية ؛ كم مرة يجب أن تحرك الملعقة لترفع درجة حرارة كوب الشاي الذي كتلته  $0.15 \text{ kg}$  بمقدار  $2^\circ\text{C}$  ؟ علماً أن الحرارة النوعية للماء  $4180 \text{ J/kg}\cdot^\circ\text{C}$  .

الحل: لحسب الحرارة اللازمة لرفع درجة حرارة الشاي ثم لحسب عدد مرات تحريك الملعقة ..

$$W = Q = mC\Delta T = (0.15)(4180)(2) = 1254 \text{ J}$$

$$n = \frac{1254}{0.05} = 25080$$

## الدرس ٢٢ : المحرك الحراري

### المحرك الحراري

تعريفه	{ أداة تُحوّل الطاقة الحرارية إلى طاقة ميكانيكية بصورة مستمرة }
عمله	<ul style="list-style-type: none"> <li>• يمتص الحرارة من المستودع الساخن + مصدر ذو درجة حرارة مرتفعة .</li> <li>• يحول جزء من الطاقة الحرارية الممتصة إلى شغل.</li> <li>• يطرد البقي من الحرارة إلى المستودع البارد + مستقبّل ذو درجة حرارة منخفضة .</li> </ul>
من أمثاله	محرك الاحتراق الداخلي « محرك السيارة »
دورة محرك الاحتراق الداخلي	<ul style="list-style-type: none"> <li>• يشتعل بخار البنزين المخلوّط بالهواء لإنتاج شمعة ذات درجة حرارة عالية.</li> <li>• تتدفق الحرارة من اللهب إلى الهواء داخل الأسطوانة.</li> <li>• يتمدد الهواء دافعاً المكبس وبعولاً الطاقة الحرارية إلى طاقة ميكانيكية.</li> <li>• يُطرد الهواء الحار ويحل محله هواء جدد ويعد المكبس إلى أعلى الأسطوانة.</li> </ul>
توضيح	الطاقة الحرارية الناتجة عن الاشتعال في محرك السيارة لا تتحول كلها إلى طاقة ميكانيكية حيث أن جزءاً منها ينتقل إلى خارج المحرك ولا يتحول إلى شغل
فائدة	التغير في الطاقة الداخلية لمحرك السيارة عندما يعمل بصورة دائمة = صفراً
كفاءة المحرك الحراري	{ النسبة بين الشغل الناتج وكمية الحرارة الداخلة }
العلاقات الرياضية	$\text{كفاءة المحرك} = \frac{W}{Q_H} \times 100\%$ $Q_H = W + Q_C$
تعليق	لا تصل كفاءة المحرك الحراري إلى 100% « <b>معل</b> » لوجود حرارة مفقودة دائماً

(١) اكتب المصطلح العلمي: أداة تُحوّل الطاقة الحرارية إلى طاقة ميكانيكية بصورة مستمرة.

(٢) ضع ✓ أو × : المحرك الحراري يمتص الحرارة من المستودع البارد ويطردها إلى المستودع الساخن.

(٣) ضع ✓ أو × : محرك الاحتراق الداخلي من الأمثلة على المحرك الحراري.

(٤) اختر: التغير في الطاقة الداخلية لمحرك السيارة عندما يعمل بصورة دائمة ..

(A) أكبر من صفر. (B) يساوي صفراً. (C) أقل من صفر.

(٥) اكتب المصطلح العلمي: النسبة بين الشغل الناتج وكمية الحرارة الداخلة.



## المُبرِّدات - التلّجات ،

تمرينها	{ أداة تعمل على انتزاع الطاقة الحرارية من الجسم الأبرد وإضافتها إلى الجسم الأسخن ببذل شغل معين }
عملها	<ul style="list-style-type: none"> <li>تعمل الطاقة الكهربائية على تشغيل المحرك فيبذل شغلاً على الغاز فيضغطه.</li> <li>يمر الغاز داخل المُبرِّدة فيتبخر بعد أن يمتص الطاقة الحرارية منها.</li> <li>ينتقل الغاز بواسطة الضاغط إلى ملفات التكثيف خلف المُبرِّدة فيبرد الغاز ويحول إلى سائل حيث تنتقل الحرارة المفقودة منه إلى الهواء في الغرفة.</li> <li>يعود السائل إلى داخل المُبرِّدة وتتكرر هذه العملية.</li> </ul>
المضخة الحرارية	{ أداة تعمل في اتجاهين تستخدم الطاقة الميكانيكية لنقل الحرارة من الحيز الذي درجة حرارته أقل إلى الحيز الذي درجة حرارته أكبر }
عملها	<ul style="list-style-type: none"> <li>في الصيف: تنتزع الحرارة من المنزل وتطردها إلى الخارج فيبرد المنزل.</li> <li>في الشتاء: تنتزع الحرارة من الهواء البارد في الخارج وتنقلها إلى داخل المنزل لتدفئته.</li> </ul>
تعليل	تعدّ المضخة الحرارية مُبرِّداً يعمل في اتجاهين « <b>حلول</b> » لتبريدها المنزل صيفاً وتدفئته شتاءً

(٦) اكتب المصطلح العلمي: أداة تعمل على انتزاع الطاقة الحرارية من الجسم الأبرد وإضافتها إلى الجسم الأسخن ببذل شغل معين.

(٧) اكتب المصطلح العلمي: أداة تعمل في اتجاهين تستخدم الطاقة الميكانيكية لنقل الحرارة من الحيز الذي درجة حرارته أقل إلى الحيز الذي درجة حرارته أكبر.



## أمثلة

64 ص 168: احسب كفاءة محرك ينتج 2200 J/s عندما يحرق من البنزين ما يكفي لإنتاج 5300 J/s ،

وما مقدار كمية الحرارة الضائعة التي ينتجها المحرك كل ثانية؟

الحل:

أولاً: كفاءة المحرك ..

$$\text{كفاءة المحرك} = \frac{W}{Q_H} \times 100\% = \frac{2200}{5300} \times 100\% = 41.5\%$$

ثانياً: مقدار كمية الحرارة الضائعة ..

$$\text{الحرارة الضائعة} = Q_H - W = 5300 - 2200 = 3100 \text{ J/s}$$

## الدرس ٢٤ : القانون الثاني لديناميكا الحرارية

### الإنتروبي

تعريفه	{ مقياس للفوضى « العشوائية » في النظام }
لوائده	<ul style="list-style-type: none"> <li>• يزداد الإنتروبي عند إضافة حرارة إلى الجسم.</li> <li>• يتنقص الإنتروبي عند نزع حرارة من الجسم.</li> <li>• لا يتغير الإنتروبي إذا بَدَّلَ الجسم شيئاً دون أن تتغير درجة الحرارة.</li> </ul>
التغير في الإنتروبي	{ مقدار الحرارة المضافة إلى جسم مقسومة على درجة حرارة ذلك الجسم }
العلاقة الرياضية	$\Delta S = \frac{Q}{T}$ <p> <math>\Delta S</math> التغير في الإنتروبي [J/K]  <math>Q</math> كمية الحرارة المضافة إلى الجسم [J]  <math>T</math> درجة حرارة الجسم [K]                 </p>

(١) اكتب المصطلح العلمي: مقياس للفوضى « العشوائية » في النظام.

(٢) اختر: عند إضافة حرارة إلى الجسم فإن الإنتروبي ..

- (A) يزداد. (B) يتنقص. (C) لا يتغير.

(٣) اختر: عند نزع حرارة من الجسم فإن الإنتروبي ..

- (A) يزداد. (B) يتنقص. (C) لا يتغير.

(٤) اختر: عندما يبذل الجسم شيئاً ولم تتغير درجة حرارة الجسم لأن الإنتروبي ..

- (A) يزداد. (B) يتنقص. (C) لا يتغير.

(٥) اكتب المصطلح العلمي: مقدار الحرارة المضافة إلى جسم مقسومة على درجة حرارة ذلك الجسم.

### القانون الثاني لديناميكا الحرارية

نصه	{ العمليات الطبيعية تجري في اتجاه للمحافظة على الإنتروبي الكلي للكون أو زيادته }
فائدته	إذا لم يُتَّخَذَ إجراء يحافظ على انتظام الأشياء وترتيبها فلأنها ستصبح أكثر عشوائية

(٦) اكتب المصطلح العلمي: العمليات الطبيعية تجري في اتجاه المحافظة على الإنتروبي الكلي للكون أو زيادته.

## أجوبة الفصل الخامس

### الأجوبة

الدرس ٢٥	(١) الطاقة الحرارية. (٧) × (١٣) (A)	(٢) حركة خطية ، حركة دورانية ، وضع (٨) (A)	(٣) ✓ (٩) (C)	(٤) (B)	(٥) ✓ (١١) (B)	(٦) (C)	(١٠) حالة الاتزان الحراري. (١٦) ✓
الدرس ٢٦	(١) ✓ (A)	(٢) (A)	(٣) (B)	(٤) (A)			
الدرس ٢٧	(١) الحرارة. (٥) (C)	(٢) × (٦) التوصيل الحراري.	(٣) (C)	(٤) (B)	(٥) (B)	(١٠) الحرارة النوعية.	(١١) ✓
الدرس ٢٨	(١) (C)	(٢) المسعر. (٣) المسعر ✓ (٤) (٥) مبدأ حفظ الطاقة.					
الدرس ٢٩	(١) (A)	(٢) × (B)	(٣) (B)	(٤) (C)			
الدرس ٣٠	(١) تغير حالة المادة. (٤) ✓ (A)	(٢) (A)	(٣) (B)	(٤) (A)	(٥) (A)	(٦) (A)	(٧) (A)
الدرس ٣١	(١) الحرارة الكامنة للتبخير. (٢) (B)						
الدرس ٣٢	(١) القانون الأول للديناميكا الحرارية. (٣) قانون حفظ الطاقة. (٥) حرارية (٢) (B)						
الدرس ٣٣	(١) المحرك الحراري. (٣) ✓ (٥) كفاءة المحرك الحراري. (٧) المضخة الحرارية. (٢) × (B)						
الدرس ٣٤	(١) الإنتروبي. (٣) (B)	(٥) التغير في الإنتروبي. (٦) القانون الثاني للديناميكا الحرارية. (٢) (A)					

# حالات المادة

- النومس ٣٥ : الضغط والموائع ٨٦
- النومس ٣٦ : قوانين الغازات ٨٩
- النومس ٣٧ : القانون العام للغازات ٩١
- النومس ٣٨ : قانون الغاز المثالي ٩٣
- النومس ٣٩ : التمدد الحراري ٩٥
- النومس ٤٥ : القوى داخل السوائل ٩٧
- النومس ٤٦ : الموائع الساكنة ١٠٠
- النومس ٤٢ : السباحة تحت الضغط ١٠٢
- النومس ٤٣ : الأجسام المغمورة والأجسام الطافية ١٠٤
- النومس ٤٤ : الموائع المتحركة ١٠٦
- النومس ٤٥ : المواد الصلبة ١٠٨
- النومس ٤٦ : التمدد الحراري للمواد الصلبة ١١٠
- أجوية الفصل السادس ١١٢

## الدرس ٢٥ : الضغط والجوانج

### الضغط

تعريفه	{ القوة مقسومة على مساحة السطح }
العلاقة الرياضية	$P = \frac{F}{A}$
نواتد	<ul style="list-style-type: none"> <li>• الضغط كمية قياسية ، ليس لها اتجاه .</li> <li>• كيلوباسكال = 1000 باسكال .</li> <li>• وحدة قياس الضغط باسكال ، <math>Pa = N/m^2</math> .</li> </ul>
حالات المادة	صلبة ، سائلة ، غازية
الحالة الصلبة	الكتلة ثابتة ، الشكل محدد
الحالة السائلة	الكتلة ثابتة ، ليس لها شكل محدد ، للسطح العلوي شكل محدد ومستوي
تعليق	ليس للسوائل شكل محدد ، <b>حلال</b> ، لأن السائل يتدفق ليأخذ شكل الإناء الذي يحويه .
قائمة	معظم الروابط بين جزيئات السائل ضعيفة
الحالة الغازية	ليس لها شكل محدد ، ليس لها سطح محدد
تعليق	ليس للغازات شكل محدد ، <b>حلال</b> ، لأنه يتمدد ويتشتر ليملأ الحيز الذي يحويه

(١) اكتب للمصطلح العلمي: القوة مقسومة على مساحة السطح.

(٢) ضع ✓ أو × : الضغط كمية قياسية.

(٣) اختر: وحدة قياس الضغط باسكال تكافئ ..

(A)  $N/m$       (B)  $N/m^2$       (C)  $N \cdot m^2$

(٤) اختر: حالة المادة التي لها شكل ثابت ..

(A) الصلبة.      (B) السائلة.      (C) الغازية.

(٥) ضع ✓ أو × : معظم الروابط بين جزيئات السائل قوية.

(٦) اختر: حالة المادة التي ليس لها سطح محدد ..

(A) الصلبة.      (B) السائلة.      (C) الغازية.



## الموائع

تسرفها		{ مواد سائلة أو غازية تتدفق وليس لها شكل محدد }
الغاز المثالي والغاز الحقيقي	الغاز المثالي	جزئياته لا تشغل حيزاً
	الغاز الحقيقي	جزئياته تشغل حيزاً
جزئياته الغاز	• تتحرك عشوائياً. • تتخضع لتصادمات مرنة بعضها ببعض. • تتحرك بسرعة عالية. • يتغير زخمها عندما ترتطم بسطح الإناء وترتد عنه.	ليست لجزئياته قوى تجاذب جزئية
تعليل	يتولد ضغط للغاز على سطح الإناء الذي يحتويه « <b>حلل</b> » بسبب الدفع الذي تؤثر به التصادمات المتعددة لجزئيات الغاز مع سطح الإناء	لجزئياته قوى تجاذب جزئية

(٧) اكتب المصطلح العلمي: مواد سائلة أو غازية تتدفق وليس لها شكل محدد.

(٨) ضع ✓ أو × : جزئيات الغاز المثالي لا تشغل حيزاً.

(٩) ضع ✓ أو × : يوجد قوى تجاذب جزئية بين جزئيات الغاز المثالي.

(١٠) اختر: حركة جزئيات الغاز ..

(A) منتظمة. (B) انسيابية. (C) عشوائية.

(١١) اختر: تصادم جزئيات الغاز مع سطح الإناء الذي يحتويه تصادمًا ..

(A) مرناً. (B) شبه مرناً. (C) علم المرنة.

(١٢) ضع ✓ أو × : ترتطم جزئيات الغاز بسطح الإناء لترتد عنه دون أن يتغير زخمها الخطي.

## الضغط الجوي

مقداره	يؤثر غاز الغلاف الجوي بقوة تساوي 10 N في كل $\text{cm}^2$ من سطح الأرض عند مستوى سطح البحر ، $10 \text{ N/cm}^2 = 1 \times 10^5 \text{ Pa}$
فالتجان	• ضغط الغلاف الجوي على الجسم يتعادل مع قوى الجسم المتجهة إلى الخارج. • الضغط الجوي الناتج عن أغلفة الكواكب الغازية يختلف من كوكب إلى آخر.

(١٣) ضع ✓ أو × : يؤثر غاز الغلاف الجوي بقوة تساوي 10 N في كل  $\text{cm}^2$  من سطح الأرض عند مستوى سطح البحر.

(١٤) ضع ✓ أو × : ضغط الغلاف الجوي على الجسم يتعادل مع قوى الجسم المتجهة إلى الخارج.

(١٥) ضع ✓ أو × : جميع الكواكب لها نفس مقدار الضغط الجوي.

### أمثلة

64 ص 210: صندوق على شكل متوازي مستطيلات يستقر على وجهه الأكبر على طاولة؛ فإذا أدير الصندوق بحيث يستقر على وجهه الأصغر فهل يزداد الضغط على الطاولة أم ينقص أم يبقى دون تغيير؟  
الحل: يزداد الضغط؛ لأن المساحة قلت حيث العلاقة عكسية بين الضغط والمساحة.

1 ص 177: إذا كان الضغط الجوي عند مستوى سطح البحر يساوي  $1 \times 10^5 \text{ Pa}$  فما مقدار القوة التي يؤثر بها الهواء عند مستوى سطح البحر على مكتب طوله  $152 \text{ cm}$  وعرضه  $76 \text{ cm}$ ؟  
الحل: نحسب مساحة المكتب، ثم نحسب مقدار القوة ..

$$\text{cm} \xrightarrow{\times 10^{-2}} \text{m}$$

$$A = 152 \times 10^{-2} \times 76 \times 10^{-2} = 0.1155 \text{ m}^2$$

$$P = \frac{F}{A} \Rightarrow F = PA = (1 \times 10^5)(0.1155) = 1.155 \times 10^4 \text{ N}$$

2 ص 177: يلامس إطار سيارة سطح الأرض بمساحة مستطيلة عرضها  $12 \text{ cm}$  وطولها  $18 \text{ cm}$ ؛ فإذا كان كتلة السيارة  $925 \text{ kg}$  فما مقدار الضغط الذي تؤثر به السيارة في سطح الأرض إذا استقرت ساكنة على إطاراتها الأربعة؟

الحل: نحسب مساحة الإطارات ثم نحسب وزن السيارة ثم نحسب مقدار الضغط ..

$$\text{cm} \xrightarrow{\times 10^{-2}} \text{m}$$

$$A = 4 \times 12 \times 10^{-2} \times 18 \times 10^{-2} = 0.0864 \text{ m}^2$$

$$F = mg = 925 \times 9.8 = 9065 \text{ N}$$

$$P = \frac{F}{A} = \frac{9065}{0.0864} = 104918.98 \text{ Pa}$$

75 ص 211: ما مقدار القوة الرأسية الكلية أسفل الغلاف الجوي التي تؤثر في قمة رأسك إذا كانت مساحة قمة رأسك  $0.025 \text{ m}^2$  والضغط الجوي يعادل  $1.013 \times 10^5 \text{ Pa}$ ؟  
الحل:

$$P = \frac{F}{A} \Rightarrow F = PA = (1.013 \times 10^5)(0.025) = 2532.5 \text{ N}$$

1 ص 176: يجلس طفل وزنه  $364 \text{ N}$  على كرسي ثلاثي الأرجل يزن  $41 \text{ N}$  بحيث تلامس قواعد الأرجل سطح الأرض على مساحة مقلارها  $19.3 \text{ cm}^2$  ..

(a) ما معدل الضغط الذي يؤثر به الطفل والكرسي في سطح الأرض؟

(b) كيف يتغير الضغط عندما يجلس الطفل وتلامس وجلان فقط من أرجل الكرسي الأرض؟

الجواب النهائي:  $2.1 \times 10^2 \text{ Pa}$  ،  $3.14 \times 10^2 \text{ Pa}$  .

## الدرس ٣٦ ، قوانين الغازات

### قانون بويل

نصه	{ حجم عينة الغاز يتناسب عكسيًا مع الضغط المؤثر عليه عند ثبوت درجة الحرارة }
الملاحة الرياضية	$P_1 V_1 = P_2 V_2$
	$P_1$ الضغط الابتدائي [Pa] $V_1$ الحجم الابتدائي [ $m^3$ ] $P_2$ الضغط النهائي [Pa] $V_2$ الحجم النهائي [ $m^3$ ]
الصفر المطلق	{ درجة الحرارة التي يصبح عندها حجم الغاز مساويًا للصفر }

(١) اكتب المصطلح العلمي: حجم عينة الغاز يتناسب عكسيًا مع الضغط المؤثر عليه عند ثبوت درجة الحرارة.

(٢) اكتب المصطلح العلمي: درجة الحرارة التي يصبح عندها حجم الغاز مساويًا للصفر.

(٣) اختر: عند ثبوت درجة الحرارة فإن حجم الغاز ..... إذا زاد ضغطه.

- (A) ينقص (B) يزيد (C) لا يتغير

### قانون شارلز

نصه	{ عند ثبوت الضغط فإن حجم عينة الغاز يتناسب طرديًا مع درجة حرارتها }
الملاحة الرياضية	$\frac{V_1}{T_1} = \frac{V_2}{T_2}$
	$V_1$ الحجم الابتدائي [ $m^3$ ] $T_1$ درجة الحرارة الابتدائية [K] $V_2$ الحجم النهائي [ $m^3$ ] $T_2$ درجة الحرارة النهائية [K]

(٤) اكتب المصطلح العلمي: عند ثبوت الضغط فإن حجم عينة الغاز يتناسب طرديًا مع درجة حرارتها.

(٥) اختر: إذا تضاعفت درجة حرارة الغاز وثبت ضغطه فإن حجم الغاز ..

- (A) ينقص إلى النصف. (B) يتضاعف. (C) لا يتغير.

### أمثلة

78 ص 212: مكبس مساحته  $0.015 \text{ m}^2$  يحصر كمية ثابتة من الغاز في أسطوانة حجمها  $0.23 \text{ m}^3$  وضغطها الابتدائي  $1.5 \times 10^5 \text{ Pa}$ ؛ فإذا وضع جسم كتلته  $150 \text{ kg}$  على المكبس لتحرك المكبس في اتجاه الأسفل إلى موقع جديد لما الحجم الجديد للغاز داخل الأسطوانة؟ هل يمكن أن درجة الحرارة ثابتة.

الحل:

أولاً: نحسب ضغط الجسم ثم نحسب الضغط النهائي للغاز ..

$$P_{\text{جسم}} = \frac{F_g}{A} = \frac{mg}{A} = \frac{150 \times 9.8}{0.015} = 9.8 \times 10^4 \text{ Pa}$$

$$P_2 = P_1 + P_{\text{جسم}} = 1.5 \times 10^5 + 9.8 \times 10^4 = 2.48 \times 10^5 \text{ Pa}$$

ثانياً: نحسب الحجم الجديد ..

$$P_1 V_1 = P_2 V_2 \Rightarrow V_2 = \frac{P_1 V_1}{P_2} = \frac{1.5 \times 10^5 \times 0.23}{2.48 \times 10^5} = 0.14 \text{ m}^3$$

77 ص 212: مقياس الحرارة ذو الضغط الثابت، مصنوع من أسطوانة تحوي مكبسا يتحرك بحرية داخل الأسطوانة ويبقى كل من الضغط وكمية الغاز داخل الأسطوانة ثابتين، وعندما ترتفع درجة الحرارة أو تنخفض يتحرك المكبس إلى أعلى الأسطوانة أو إلى أسفلها؛ فإذا كان ارتفاع المكبس في الأسطوانة  $20 \text{ cm}$  عند  $0^\circ \text{C}$  فما ارتفاع المكبس عندما تكون درجة الحرارة  $100^\circ \text{C}$ ؟

الحل:

الحجم = مساحة القاعدة  $\times$  الارتفاع

$$\frac{\text{cm} \times 10^{-2}}{\text{cm}} \rightarrow \text{m}$$

$$\frac{+273}{^\circ \text{C}} \rightarrow \text{K}$$

$$\frac{V_1}{T_1} = \frac{V_2}{T_2}$$

$$\frac{A h_1}{T_1} = \frac{A h_2}{T_2} \Rightarrow h_2 = \frac{h_1 T_2}{T_1}$$

$$\therefore h_2 = \frac{20 \times 10^{-2} \times (100 + 273)}{(0 + 273)} = 0.273 \text{ m}$$

## الدرس ٣٧ : القانون العام للغازات

### القانون العام للغازات

<p>{ لكمية معينة من الغاز المثالي يكون حاصل ضرب ضغط الغاز في حجمه مقسوماً على درجة حرارته بوحدة الكلفن يساوي قيمة ثابتة }</p>	<p>نصه</p>
<p><math>P_1</math> الضغط الابتدائي [Pa]  <math>V_1</math> الحجم الابتدائي [<math>m^3</math>]  <math>T_1</math> درجة الحرارة الابتدائية [K]  <math>P_2</math> الضغط النهائي [Pa]  <math>V_2</math> الحجم النهائي [<math>m^3</math>]  <math>T_2</math> درجة الحرارة النهائية [K]</p>	<div style="border: 1px solid black; padding: 5px; width: fit-content; margin: auto;"> <math display="block">\frac{P_1 V_1}{T_1} = \text{مقدار ثابت}</math> <math display="block">\frac{P_1 V_1}{T_1} = \frac{P_2 V_2}{T_2}</math> </div> <p>العلاقة الرياضية</p>
<p>• يتناسب الثابت في القانون العام للغازات طردياً مع عدد الجزيئات.          • عند ثبوت حجم الغاز ودرجة حرارته فإن ضغط الغاز المثالي يتناسب طردياً مع عدد جزيئات الغاز <b>حلال</b> ، لأنه بزيادة عدد الجزيئات يزداد عدد التصادمات التي تؤثر بها الجزيئات في الإناء فيزيد الضغط.</p>	<p>فالتساوي</p>

(١) اكتب المصطلح العلمي: لكمية معينة من الغاز المثالي يكون حاصل ضرب ضغط الغاز في حجمه مقسوماً على درجة حرارته بوحدة الكلفن يساوي قيمة ثابتة.

(٢) ضع ✓ أو ✗ : يتناسب الثابت في القانون العام للغازات عكسياً مع عدد الجزيئات.

(٣) ضع ✓ أو ✗ : عند ثبوت حجم ودرجة حرارة الغاز فإن ضغط الغاز المثالي يتناسب طردياً مع عدد جزيئات الغاز.

### أمثلة

6 ص 181: يستخدم مخزان من غاز الهيليوم ضغطه  $15.5 \times 10^6$  Pa ودرجة حرارته 293 K لضخ بالون على صورة دمية؛ فإذا كان حجم المخزان  $0.02 m^3$  فأحسب حجم البالون إذا امتلأ عند 1 ضغط جوي ودرجة حرارة 323 K إذا كان الضغط الجوي  $10.13 \times 10^4$  Pa .

الحل:

$$\text{ضغط جوي} \xrightarrow{\times 10.13 \times 10^4} \text{Pa}$$

$$\frac{P_1 V_1}{T_1} = \frac{P_2 V_2}{T_2} \Rightarrow V_2 = \frac{P_1 V_1 T_2}{T_1 P_2}$$

$$\therefore V_2 = \frac{15.5 \times 10^6 \times 0.02 \times 323}{293 \times 1 \times 10.13 \times 10^4} = 3.37 \text{ m}^3$$

8 ص 181: مخزان يحوي 200 L من غاز الهيدروجين درجة حرارته 0 °C ومحفوظ عند ضغط مقداره 156 kPa ؛ فإذا ارتفعت درجة الحرارة إلى 95 °C وانخفض الحجم ليصبح 175 L فما الضغط الجديد

للغاز؟

الحل:

$$\frac{P_1 V_1}{T_1} = \frac{P_2 V_2}{T_2} \Rightarrow P_2 = \frac{P_1 V_1 T_2}{T_1 V_2}$$

$$^{\circ}\text{C} \xrightarrow{+273} \text{K}$$

$$\therefore P_2 = \frac{156 \times 200 \times (95 + 273)}{(0 + 273) \times 175} = 240.32 \text{ kPa}$$

## المدرس ٢٨ : قانون الغاز المثالي

### قانون الغاز المثالي

<p>{ للغاز المثالي يكون حاصل ضرب ضغط الغاز في حجمه يساوي عدد المولات مضروباً في ثابت بولتزمان ودرجة حرارته بوحدة الكلفن }</p>		نصه	
<p><math>P</math> ضغط الغاز المثالي [Pa]  <math>V</math> حجم الغاز المثالي [<math>m^3</math>]  <math>n</math> عدد المولات [mol]  <math>R</math> ثابت بولتزمان [<math>Pa \cdot m^3 / mol \cdot K</math>]  <math>T</math> درجة الحرارة [K]</p>	$PV = nRT$	العلاقة الرياضية	
<p>قانون الغاز المثالي يتوقع عملياً سلوك الغازات بصورة جيدة ما هذا ..          • الحالات تحت ظروف الضغط العالي. • حالات درجات الحرارة المنخفضة.</p>			نتيجه
<p>{ عدد الجزيئات في عينة من المادة كتلتها تساوي الكتلة المولية من المادة }</p>		عدد أفوجادرو	
<p>المول = عدد أفوجادرو من الجزيئات = <math>6.022 \times 10^{23}</math> جزيء.</p>		ثابتة	
<p><math>n</math> عدد المولات [mol]  <math>m</math> كتلة المادة [g]  <math>M</math> الكتلة المولية [g/mol]</p>	$n = \frac{m}{M}$	عدد المولات	

(١) اكتب المصطلح العلمي: للغاز المثالي يكون حاصل ضرب ضغط الغاز في حجمه يساوي عدد

المولات مضروباً في ثابت بولتزمان ودرجة حرارته بوحدة الكلفن.

(٢) اختر: قانون الغاز المثالي يتوقع عملياً سلوك الغازات بصورة جيدة ما هذا الحالات تحت

ظروف الضغط ..



(A) العالي.

(B) المنخفض.

(C) المتوسط.

(٣) اكتب المصطلح العلمي: عدد الجزيئات في عينة كتلتها تساوي الكتلة المولية من المادة.

### أمثلة

7 ص 181: ما مقدار كتلة غاز الهيليوم الذي ضغطه  $15.5 \times 10^6 \text{ Pa}$  ودرجة حرارته  $293 \text{ K}$  وموضوع في مخزان حجمه  $0.02 \text{ m}^3$  ؟ إذا علمت أن الكتلة المولية لغاز الهيليوم  $4 \text{ g/mol}$  ومقدار ثابت بولتزمان  $8.31 \text{ Pa} \cdot \text{m}^3/\text{mol} \cdot \text{K}$ .

الحل: نحسب عدد المولات ثم نحسب الكتلة ..

$$PV = nRT \Rightarrow n = \frac{PV}{RT} = \frac{15.5 \times 10^6 \times 0.02}{8.31 \times 293} = 127.3 \text{ mol}$$

$$n = \frac{m}{M} \Rightarrow m = nM = 4 \times 127.3 = 509.3 \text{ g}$$

9 ص 181: إذا كان معدل الكتلة المولية لمكونات الهواء  $29 \text{ g/mol}$  فما حجم  $1000 \text{ g}$  من الهواء عند ضغط  $1.013 \times 10^5 \text{ Pa}$  ودرجة حرارة  $293 \text{ K}$  ؟ علماً أن ثابت بولتزمان  $8.31 \text{ Pa} \cdot \text{m}^3/\text{mol} \cdot \text{K}$ .

الحل: نحسب عدد المولات ثم نحسب الحجم ..

$$n = \frac{m}{M} = \frac{1000}{29} = 34.48 \text{ mol}$$

$$pV = nRT \Rightarrow V = \frac{nRT}{P} = \frac{34.48 \times 8.31 \times 293}{1.013 \times 10^5} = 0.828 \text{ m}^3$$

3 ص 179: عينة من غاز الأرجون حجمها  $20 \text{ L}$  ودرجة حرارتها  $273 \text{ K}$  عند ضغط جوي مقداره  $101.3 \text{ kPa}$  ، فإذا انخفضت درجة الحرارة حتى  $120 \text{ K}$  وازداد الضغط حتى  $145 \text{ kPa}$  ..

(a) فما الحجم الجديد للعينة ؟

(b) أوجد عدد مولات فرات الأرجون في العينة.

(c) أوجد كتلة عينة الأرجون علماً أن الكتلة المولية لغاز الأرجون  $39.9 \text{ g/mol}$  ومقدار ثابت بولتزمان

$$8.31 \text{ Pa} \cdot \text{m}^3/\text{mol} \cdot \text{K}$$

الجواب النهائي:  $6.14 \text{ L}$  ،  $0.893 \text{ mol}$  ،  $35.6 \text{ g}$ .



## الحرس ٢٩ : التمدد الحراري

### التمدد الحراري

تعريفه	{ خاصية للمواد في جميع حالاتها تسبب تمدد المادة لتصبح أقل كثافة عند التسخين }	
تطبيقاته	تيار الحمل	دوران الهواء في الغرفة
ملاحظات	<ul style="list-style-type: none"> <li>• عندما تسخن المادة تتمدد وتكبر حجماً أكبر.</li> <li>• تتمدد السوائل بدرجة أكبر من المواد الصلبة وأقل من المواد الغازية.</li> </ul>	
تعليلات	<ul style="list-style-type: none"> <li>• يطفو الثلج فوق سطح الماء « <b>حلال</b> » لأن كثافته عند درجة حرارة <math>4^{\circ}\text{C}</math> أقل من كثافة الماء.</li> <li>• تنخفض كثافة الماء « يتقلص » عند تسخينه من <math>0^{\circ}\text{C}</math> إلى <math>4^{\circ}\text{C}</math> « <b>حلال</b> » بسبب تزايد قوى الترابط بين جزيئاته.</li> <li>• يزيد حجم الماء عندما ترتفع درجة حرارته فوق <math>4^{\circ}\text{C}</math> « <b>حلال</b> » بسبب تزايد الحركة الجزيئية.</li> </ul>	

(١) اكتب المصطلح العلمي: خاصية للمواد في جميع حالاتها تسبب تمدد المادة لتصبح أقل كثافة عند التسخين.

(٢) اختر: من التطبيقات على التمدد الحراري دوران ..

(A) عجلات الدراجة. (B) الدم في الجسم. (C) الهواء داخل الغرفة.

(٣) اكتب المصطلح العلمي: دوران الهواء داخل الغرفة.

(٤) اختر: ترتب حالات المادة تصاعدياً حسب درجة تمددها ..

(A) الصلبة، السائلة، الغازية. (B) السائلة، الصلبة، الغازية. (C) الغازية، الصلبة، السائلة.

### البلازما

تعريفها	{ حالة من حالات الموائع يكون فيها المائع شبه غاز ويتكون من إلكترونات سالبة وأيونات موجبة بحيث توصل للكهرباء }
من أمثلتها	<ul style="list-style-type: none"> <li>• معظم مكونات النجوم بلازما في درجات حرارة عالية جداً.</li> <li>• أكثر المواد الموجودة بين النجوم والمجرات غاز هيدروجين في حالة البلازما.</li> <li>• الصواعق المضيئة تكون في حالة البلازما.</li> <li>• التأثيرات الضوئية الموهجة ناتجة عن البلازما المضيئة المتكونة في الأنايب الزجاجية.</li> </ul>
توصيلها للكهرباء	لبلازما القدرة على التوصيل الكهربائي، أما الغازات فليس لها القدرة على ذلك

- (٥) اكتب المصطلح العلمي: حالة من حالات الموائع يكون فيها المائع شبه غاز ويتكون من إلكترونات سالبة وأيونات موجبة بحيث توصل الكهرباء.
- (٦) اختر: أكثر المواد الموجودة بين النجوم والنجمات غاز هيدروجين ..
- (٧) ضع ✓ أو ✗ : التأثيرات الضوئية المتوهجة ناتجة عن البلازما المنصبة المتكونة في الأمايب الزجاجية.
- (٨) ضع ✓ أو ✗ : البلازما موصلة للكهرباء أما الغازات فتغير موصلتها للكهرباء.



### أمثلة

13 من 183: إذا كانت درجة حرارة الماء الابتدائية  $0^{\circ}\text{C}$  فكيف تتغير كثافة الماء إذا سخن إلى  $4^{\circ}\text{C}$  وإلى  $8^{\circ}\text{C}$  ؟

الحل:

- عند تسخين الماء من  $0^{\circ}\text{C}$  إلى  $4^{\circ}\text{C}$  فإنه يقلص بدلاً من أن يتمدد بسبب تزايد قوى الترابط بين جزيئاته.
- عند تسخين الماء من  $4^{\circ}\text{C}$  إلى  $8^{\circ}\text{C}$  يتزايد حجمه بسبب تزايد الحركة الجزيئية.

## الدرس ٤٠ : القوى داخل السوائل

### خاصية التوتر السطحي

تعريفها	{ ميل سطح السائل إلى التقلص لأقل مساحة ممكنة }
سببها	قوى التماسك بين جزيئات المائع
من أمثلتها	<ul style="list-style-type: none"> <li>قطرات الندى على خيوط العنكبوت تتخذ شكلاً كروياً.</li> <li>الزئبق يشكل قطرات كروية حين يوضع على سطح مصقول.</li> <li>سير بعوضة الماء على سطح الماء.</li> </ul>
قوى التماسك	{ قوى تجاذب كهرومغناطيسية تؤثر بين جزيئات المادة الواحدة }
فائدة	كلما زاد التوتر السطحي للسائل زادت عتامة السائل لتسطح سطحه
تلميحات	<ul style="list-style-type: none"> <li>تتمكن بعوضة الماء من السير على سطح الماء <b>« حلل »</b> لأن جزيئات الماء عند السطح لها قوة تجاذب محصلة في اتجاه الداخل تولد التوتر السطحي.</li> <li>تكوّن خاصية التوتر السطحي للسائل قطرات كروية <b>« حلل »</b> لأن الشكل الكروي هو الشكل الذي له أقل مساحة سطح لحجم معين.</li> <li>التوتر السطحي للزئبق أكبر من التوتر السطحي للماء <b>« حلل »</b> لأن قوى التماسك بين جزيئات الزئبق أكبر من قوى التماسك بين جزيئات الماء.</li> <li>تسطح قطرات الكحول والإيثر على السطح المصقول <b>« حلل »</b> لأن قوى التماسك بين جزيئاتها ضعيفة.</li> </ul>

- (١) اكتب المصطلح العلمي: ميل سطح السائل إلى التقلص لأقل مساحة ممكنة.
- (٢) اختر: خاصية التوتر السطحي للسوائل ناتجة عن ..
  - (A) قوى التلاصق.
  - (B) قوى التماسك.
  - (C) اللزوجة.
- (٣) اختر: يُعزى تكور الزئبق والتخافه شكلاً كروياً عندما يوضع على سطح مصقول إلى ..
  - (A) الخاصية الشعرية.
  - (B) اللزوجة.
  - (C) خاصية التوتر السطحي.
- (٤) اكتب المصطلح العلمي: قوى تجاذب كهرومغناطيسية تؤثر بين جزيئات المادة الواحدة.
- (٥) اختر: تزداد عتامة السائل لتسطح سطحه ..
  - (A) بزيادة توتره السطحي.
  - (B) بنقصان توتره السطحي.
  - (C) بزيادة لزوجه.



## اللزوجة

تعريفها	{ مقياس للاحتكاك الداخلي للمائع }
أسبابها	• قوى التماسك بين جزيئات المائع. • التصادعات بين جزيئات المائع.
يتج منها	• احتكاك داخلي يعمل على إبطاء تدفق المائع. • تبديد الطاقة الميكانيكية.
تعليل	تستخدم في المحركات زيوت عالية اللزوجة « <b>حلل</b> » كي تتدفق ببطء على الأجزاء المعدنية للمحرك فتقلل من احتكاكها بعضها ببعض
تأثيرات	• من أكثر الموائع لزوجة اللابة والصخور المتصهرة التي تتدفق من البراكين. • تختلف لزوجة اللابة باختلاف تركيبها ودرجة حرارتها.

(٦) اكتب للمصطلح العلمي: مقياس للاحتكاك الداخلي للسائل.

(٧) ضع ✓ أو X : تتج اللزوجة من قوى التماسك والتصادعات بين جزيئات المائع.

(٨) ضع ✓ أو X : يتج عن لزوجة المائع احتكاكاً داخلياً يعمل على زيادة تدفق المائع.

(٩) املا الفراغ: تختلف لزوجة اللابة المتدفقة من البراكين باختلاف ..... و .....

## قوى التلاصق

تعريفها	{ قوى تجاذب كهرومغناطيسية تؤثر بين جزيئات المواد المختلفة }
الخاصية الشعرية	• ارتفاع السوائل داخل الأنابيب الضيقة يُعزى إلى الخاصية الشعرية. • السوائل ترتفع في الأنابيب الضيقة عندما تكون قوى التلاصق بين جزيئات السائل والأنبوب أكبر من قوى التماسك بين جزيئات السائل. • السوائل ترتفع داخل الأنابيب الضيقة أكثر من ارتفاعها داخل الأنابيب الواسعة. • السائل يتوقف عن الارتفاع داخل الأنابيب عندما يتوازن وزن الماء داخل الأنبوب مع قوة التلاصق الكلية بين سطح الأنبوب وجزيئات السائل.
تطبيقاتها العملية	• ارتفاع الوقود في فتيلة القنديل. • ارتفاع الماء في جذور النبات.
تعليل	لا يرتفع الزيت في الأنابيب الضيقة « <b>حلل</b> » لأن قوى التماسك بين جزيئات الزيت أكبر من قوى التلاصق بين الزيت وسطح الزجاج

(١٠) اكتب للمصطلح العلمي: قوى تجاذب كهرومغناطيسية تؤثر بين جزيئات المواد المختلفة.

(١١) املا الفراغ: ارتفاع الوقود في فتيلة القنديل يُعزى إلى .....

## التبخر والتكاثف

التبخر	{ نفاذ الجزيئات المتحركة خلال الطبقة السطحية للسائل عند امتلاكها طاقة مناسبة }
تعليل	يؤدي التبخر إلى خفض درجة حرارة السائل في الإناء « <b>حلل</b> » بسبب انخفاض متوسط الطاقة الحركية للجزيئات المتبقية في الإناء فتتخفض درجة الحرارة
السوائل المتطايرة	{ السوائل التي تتبخر بسرعة وسهولة بسبب ضعف قوة التماسك بين جزيئاتها }
التكاثف	تحول البخار إلى سائل عند تبريده
تكون الضباب	عندما يبرد الهواء الرطب الملامس لسطح الأرض يتكاثف بخار الماء في الجو مكوناً سحابة من قطرات الماء تسمى الضباب

(١٢) اكتب المصطلح العلمي: نفاذ الجزيئات المتحركة خلال الطبقة السطحية للسائل عند امتلاكها طاقة مناسبة.

(١٣) اكتب المصطلح العلمي: السوائل التي تتبخر بسرعة وسهولة بسبب ضعف قوة التماسك بين جزيئاتها.



(١٤) اختر: عملية تحول البخار إلى سائل عند تبريده تسمى ..

- (A) التبخر. (B) التكاثف. (C) التطاير.

## أمثلة

20 من 187: لماذا يلتصق الكحول بسطح الأنبوب الزجاجي في حين لا يلتصق الزيت؟

الحل: لأن قوى التلاصق بين جزيئات الكحول والزجاج أكبر من قوى التماسك بين جزيئات الكحول، أما قوى التلاصق بين جزيئات الزيت والزجاج فلإنها أقل من قوى التماسك بين جزيئات الزيت.

56 من 210: تتصهر البحيرات المتجمدة خلال فصل الربيع؛ ما تأثير ذلك في درجة حرارة الهواء فوق

البحيرة؟

الحل: تنخفض درجة حرارة الهواء فوق البحيرة لأن الجليد يمتص الطاقة اللازمة للانصهار منه.

## الدرس ٤٦ : الموائع الساكنة

### مبدأ باسكال

نصه	{ التغير في الضغط المؤثر عند أي نقطة في السائل المحصور ينتقل إلى جميع نقاط السائل بالتساوي }
تطبيقاته العملية	تعمل أنظمة الرفع الهيدروليكية وفقاً لمبدأ باسكال؛ ومن أمثلتها .. • المكبس الهيدروليكي. • الرافعة الهيدروليكية. • كراسي أطباء الأسنان.
العلاقة الرياضية	$\frac{F_1}{A_1} = \frac{F_2}{A_2}$ <p> <math>F_1</math> القوة التي يؤثر بها المكبس الأول [N]  <math>F_2</math> القوة المؤثرة على المكبس الثاني [N]  <math>A_1</math> مساحة المكبس الأول [m<sup>2</sup>]  <math>A_2</math> مساحة المكبس الثاني [m<sup>2</sup>]         </p>
تعليق	إذا عصرت إحدى تهايتي بالون فإن النهاية الأخرى تنتفخ « <b>حلل</b> » بسبب انتقال الضغط المؤثر إلى النهاية الأخرى وذلك حسب مبدأ باسكال
فائدة	الهدف من استخدام الموائع في الآلات مضاعفة القوة تطبيقاً لمبدأ باسكال
المكبس الهيدروليكي	<ul style="list-style-type: none"> <li>• يُختصّر المائع داخل حجرتين متصلتين معاً في كل منهما مكبس حر الحركة.</li> <li>• مساحة المكبس الثاني أكبر من مساحة المكبس الأول لذلك تتضاعف القوة.</li> </ul>

(١) اكتب المصطلح العلمي: التغير في الضغط المؤثر عند أي نقطة في السائل المحصور ينتقل إلى جميع نقاط السائل بالتساوي.

(٢) اختر: من التطبيقات العملية على مبدأ باسكال ..

(A) مرذاذ العطر. (B) المازج في محرك البنزين. (C) الرافعة الهيدروليكية.

(٣) اختر: طبقاً لمبدأ باسكال نستخدم الموائع في الآلات بهدف ..

(A) تقليل الضغط. (B) مضاعفة القوة. (C) تقليل القوة.



### أمثلة

23 ص 189: إن كراسي أطباء الأسنان أمثلة على النظام الهيدروليكي؛ فإذا كان الكرسي يزن 1600 N ويرتكز على مكبس مساحة مقطعه العرضي 1440 cm<sup>2</sup> فما مقدار القوة التي يجب أن تؤثر في المكبس الصغير الذي مساحة مقطعه العرضي 72 cm<sup>2</sup> لرفع الكرسي؟

الحل:

$$\frac{F_1}{A_1} = \frac{F_2}{A_2} \Rightarrow F_1 = \frac{F_2 A_1}{A_2} = \frac{72 \times 1600}{1440} = 80 \text{ N}$$

24 ص 189: تؤثر آلة بقوة مقدارها 55 N في مكبس هيدروليكي مساحة مقطعه العرضي  $0.015 \text{ m}^2$  ترفع سيارة صغيرة؛ فإذا كانت مساحة المقطع العرضي للمكبس الذي ترتكز عليه السيارة  $2.4 \text{ m}^2$  فما وزن السيارة؟

الحل:

$$\frac{F_1}{A_1} = \frac{F_2}{A_2} \Rightarrow F_2 = \frac{F_1 A_2}{A_1} = \frac{2.4 \times 55}{0.015} = 8800 \text{ N}$$

25 ص 189: يمتق النظام الهيدروليكي الهدف نفسه الذي تحققه الرافعة ولعبة الميزان وهو مضاعفة القوة؛ فإذا وقف طفل وزنه 400 N على أحد المكبسين بحيث يترن مع شخص بالغ وزنه 1100 N يقف على المكبس الثاني فما النسبة بين مساحتي مقطعي المكبسين العرضيين؟

الحل:

$$\frac{F_1}{A_1} = \frac{F_2}{A_2} \Rightarrow \frac{A_2}{A_1} = \frac{F_2}{F_1} = \frac{400}{1100} = 0.363$$

## الدرس ٤٢ : السباحة تحت الضغط

### ضغط المائع

تعريفه	{ وزن عمود المائع مقسوماً على مساحة المقطع العرضي لعمود المائع }
متساؤه	قوة الجاذبية المرتبطة مع وزن المائع   اتجاهه   يضغط على الجسم في جميع الاتجاهات
العوامل المؤثرة فيه	• كثافة المائع. • عمق المائع. • تسارع الجاذبية.
فألكة	ضغط المائع على سطح القمر عند أي عمق يعادل $\frac{1}{3}$ قيمته على سطح الأرض
العلاقة الرياضية	$P = \rho h g$ <p><math>P</math> ضغط المائع [Pa]      <math>h</math> عمق المائع [m]  <math>\rho</math> كثافة المائع [<math>\text{kg/m}^3</math>]      <math>g</math> تسارع الجاذبية [<math>\text{m/s}^2</math>]</p>
تعليل	يزداد ضغط الماء على جسمك إذا غطست إلى أعماق أكبر ، <b>هلل</b> ، بسبب زيادة كمية الماء فوق جسمك فيكون وزن الماء أكبر كلما زاد العمق

(١) اكتب المصطلح العلمي: وزن عمود المائع مقسوماً على مساحة المقطع العرضي لعمود المائع.

(٢) اختر: ينشأ ضغط المائع من قوة ..

- (A) الاحتكاك.      (B) الجاذبية.      (C) الطفو.

(٣) اختر: اتجاه ضغط المائع على جسم داخله ..

- (A) نحو الأسفل.      (B) في جميع الاتجاهات.      (C) نحو الأعلى.

(٤) اختر: ضغط الماء على سطح القمر عند أي عمق يساوي ——— قيمته على سطح الأرض.

- (A) سلس.      (B) ربع.      (C) ثلث.

### قوة الطفو

تعريفها	{ القوة الرأسية المؤثرة في الجسم المغمور في مائع إلى أعلى }
متساؤها	زيادة الضغط الناتجة عن زيادة العمق   اتجاهها   قوة رأسية إلى الأعلى
العلاقة الرياضية	وزن المزاح المائع = قوة الطفو
	$F_{\text{طفو}} = \rho_{\text{مائع}} V g$
	<p><math>F_{\text{طفو}}</math> قوة الطفو [N]  <math>\rho</math> كثافة المائع [<math>\text{kg/m}^3</math>]  <math>V</math> حجم الجسم المغمور في المائع [<math>\text{m}^3</math>]  <math>g</math> تسارع الجاذبية الأرضية [<math>\text{m/s}^2</math>]</p>



<p>محصلة القوى العمودية = قوة الطفو لأن القوة العمودية إلى أعلى المؤثرة في قاع الجسم أكبر من القوة العمودية إلى أسفل المؤثرة في سطحه العلوي</p> 	<p>محصلة القوى الأفقية = صفر لأن القوى العمودية المؤثرة في الجوانب الأربعة متساوية في جميع الاتجاهات</p> 	<p>القوى المؤثرة على جسم مغمور في مائع</p>
---	--	--

(٥) اكتب المصطلح العلمي: القوة الرأسية المؤثرة في الجسم المغمور في مائع إلى أعلى.

(٦) اختر: تنشأ قوة الطفو عن زيادة الضغط الناتجة عن زيادة ..

(A) كثافة المائع. (B) العمق. (C) تسارع الجاذبية.



(٧) اختر: اتجاه قوة الطفو ..

(A) رأسياً نحو الأسفل. (B) في جميع الاتجاهات. (C) رأسياً نحو الأعلى.

## أمثلة

61 من 210: قارن بين ضغط الماء على عمق 1m تحت سطح بركة صغيرة وضغط الماء عند العمق نفسه تحت سطح بحيرة؟

الحل: ضغط ماء البحيرة أكبر من ضغط ماء البركة لأن كثافة ماء البحيرة أكبر من كثافة ماء البركة.

67 من 210: ما عمق وعاء من الماء الضغط عند قاعه يساوي قيمة الضغط في قاع وعاء مملوء بالزئبق وعمقه 0.1 m ؟ هلماً أن كثافة الزئبق تزيد 13.55 مرة على كثافة الماء.

الحل:

! لأن ضغط الماء = ضغط الزئبق !

$$\rho_1 h_1 g = \rho_2 h_2 g$$

! لأن كثافة الزئبق تزيد 13.55 مرة على كثافة الماء !

$$\rho_1 h_1 = 13.55 \rho_2 \times 0.1$$

$$\rho_1 h_1 = 13.55 \rho_1 \times 0.1$$

$$h_1 = 1.355 \text{ m}$$

## الدرس ٤٣ : الأجسام المغمورة والأجسام الطافية

### مبدأ أرخميدس

نصه		{ الجسم المغمور في مائع تؤثر فيه قوة رأسية إلى أعلى تساوي وزن المائع المزاح }	
الملاحظة الرياضية		$F_{\text{الظفر}} = F_g - F_{\text{الظاهري}}$	
		الظفر $F_{\text{الظفر}}$ قوة الظفر [N]	الظاهري $F_{\text{الظاهري}}$ وزن الجسم المغمور في المائع [N]
		الظفر $F_g$ الوزن الحقيقي في الهواء [N]	الظاهري $F_{\text{الظاهري}}$ وزن الجسم المغمور في المائع [N]
متى يطفئ الجسم؟ ومتى يطفو؟	يطفئ الجسم < كثافة المائع < كثافة الجسم	يبقى عالقاً	يطفو
	وزن الجسم < قوة الظفر	وزن الجسم = كثافة المائع = كثافة الجسم	وزن الجسم > كثافة المائع > كثافة الجسم
الوزن الظاهري للجسم مغمور في مائع أقل من وزنه الحقيقي.	الوزن الظاهري للجسم عالق في مائع = صفراً.	الوزن الظاهري للجسم > القوة المحصلة الرأسية إلى أسفل = تتناسب طردياً مع حجم الجسم.	حجم المائع المزاح بواسطة الجسم = حجم الجزء المغمور من الجسم في المائع.
تطبيقات عملية على مبدأ أرخميدس	تطفو السفينة المصنوعة من الفولاذ على سطح الماء « <b>حلل</b> » لأن جسم السفينة مفرغاً وكبيراً؛ لذا فمعدل كثافة السفينة أقل من كثافة الماء لذلك تطفو.	القواصات: عند ملء الحجرات بالماء يزداد معدل كثافة القواصة لذلك تطفئ وعند تفرغها تطفو.	الأسماك: لدى بعض الأسماك مثانة للعوام تقلصها لتطفئ وتنفخها لتطفو.

(١) اكتب المصطلح العلمي: الجسم المغمور في مائع تؤثر فيه قوة رأسية إلى أعلى تساوي وزن

المائع المزاح.

(٧) اختر: يطفئ الجسم في المائع إذا كانت كثافته ..... كثافة المائع.

(A) تساوي (B) أصغر من (C) أكبر من

(٣) اختر: إذا كان وزن الجسم المغمور في المائع أقل من قوة الطفو فإنه ..

(A) يطفو. (B) يبقى عالقاً. (C) يطفئ.



- (٤) اختر: الوزن الظاهري للجسم المغمور في المائع ..... وزنه الحقيقي.  
 (A) يساوي (B) أكبر من (C) أصغر من  
 (٥) املا الفراغ: الوزن الظاهري للجسم العالق في المائع يساوي .....  
 (٦) املا الفراغ: لدى بعض الأسماك ..... تقلصها لتتنفس وتضخها لتتقو.



## أمثلة

27 ص 194: إن كثافة الرميذ الشائع الاستخدام أكبر 1.8 من كثافة الماء؛ ما الوزن الظاهري لثقالب من الرميذ حجمه  $0.2 \text{ m}^3$  تحت الماء؟ علماً أن كثافة الماء  $10^3 \text{ kg/m}^3$ .

الحل: لحسب الوزن الحقيقي للجسم ثم لحسب قوة الطفو ثم لحسب وزن الجسم الظاهري ..

$$F_g = \rho_{\text{الرميذ}} Vg = 1.8 \times 10^3 \times 0.2 \times 9.8 = 3528 \text{ N}$$

« حجم الماء المزاح = حجم ثقالب الرميذ المغمور في الماء »  $F_{\text{الطفو}} = \rho_{\text{الماء}} Vg = 10^3 \times 0.2 \times 9.8$

$$\therefore F_{\text{الطفو}} = 1960 \text{ N}$$

$$F_{\text{الظاهري}} = F_g - F_{\text{الطفو}} = 3528 - 1960 = 1865 \text{ N}$$

28 ص 194: يطفو سباح في بركة ماء بحيث يعلو رأسه قليلاً فوق سطح الماء؛ فإذا كان وزنه  $610 \text{ N}$  وكثافة الماء  $10^3 \text{ kg/m}^3$  ما حجم الجزء المغمور من جسمه؟

الحل:

« الجسم عالق في الماء »

$$F_{\text{الطفو}} = F_g = \rho Vg$$

$$610 = 10^3 \times V \times 9.8$$

« قسمنا الطرفين على  $9.8 \times 10^3$  »

$$V = \frac{610}{9.8 \times 10^3} = 0.062 \text{ m}^3$$

3 ص 193: ينغمر ثقالب بناء من الجرانيت حجمه  $1 \times 10^{-3} \text{ m}^3$  في الماء؛ فإذا كانت كثافة الجرانيت  $2.7 \times 10^3 \text{ kg/m}^3$  فما مقدار قوة الطفو المؤثرة في ثقالب الجرانيت؟ وما مقدار الوزن الظاهري لثقالب الجرانيت؟  
 الجواب النهائي:  $9.8 \text{ N}$  ،  $16.7 \text{ N}$ .

## الحرص ٤٤ : الموائع المتحركة

### مبدأ برنولي

نصه	{ عندما تزداد سرعة المائع يقل ضغطه }
فائدتان	<ul style="list-style-type: none"> <li>• مبدأ برنولي تمثيل لمبدأ حفظ الشغل والطاقة عند تطبيقه على الموائع.</li> <li>• إذا نقصت مساحة الأنبوب فإن سرعة التدفق خلاله تزيد فينتقص ضغطه.</li> </ul>
تطبيقاته العملية	<ul style="list-style-type: none"> <li>• مرش الطلاء.</li> <li>• مرذاذ المعطر.</li> <li>• المازج في محرك البنزين.</li> </ul>
فكرة عمل المرذاذ	 <ul style="list-style-type: none"> <li>• يتدفق الهواء بسرعة عبر الأنبوب الضيق فينتقص ضغطه.</li> <li>• يتدفق السائل من داخل الزجاجية إلى منطقة الضغط المنخفض نتيجة لفرق الضغط بين المنطقتين.</li> </ul>
تعليل	يتنهار المنزل من الداخل إلى الخارج عندما يمر إحصار فوقه <b>همل</b> ، وفقاً لمبدأ برنولي يقل الضغط خارج المنزل بسبب زيادة سرعة الهواء ويصبح الضغط داخل المنزل أكبر
خطوط الانسياب	{ الخطوط التي تمثل تدفق الموائع حول الأجسام }
فوائد	<ul style="list-style-type: none"> <li>• إذا ضاقت المجرى تزداد السرعة فينتقص الضغط فتتقارب خطوط الانسياب.</li> <li>• إذا كانت خطوط الانسياب دقيقة ومحددة كان التدفق انسيابياً</li> <li>• إذا تحركت خطوط الانسياب حركة ملتفة كان التدفق مضطرباً.</li> </ul>
تنبيه	ينطبق مبدأ برنولي على الجريان الانسيابي فقط ولا ينطبق على الجريان المضطرب

(١) اكتب المصطلح العلمي: عندما تزداد سرعة المائع يقل ضغطه.

(٢) اختر: مبدأ برنولي تمثيل لمبدأ ..... عند تطبيقه على الموائع.

(A) حفظ الشحنة (B) حفظ الشغل والطاقة (C) حفظ الزخم

(٣) اختر: إذا نقصت مساحة الأنبوب ..... تدفق المائع فيقل ضغطه.

(A) زادت سرعة (B) قلت سرعة (C) انعدمت سرعة

(٤) اختر: من التطبيقات العملية على مبدأ برنولي ..

(A) الثرواصات. (B) المكبس الهيدروليكي. (C) مرش الطلاء. (D) الرافعة الهيدروليكية.

(٥) اختر: الخطوط التي تمثل تدفق الموائع حول الأجسام تسمى خطوط ..

(A) برنولي. (B) باسكال. (C) التدفق. (D) الانسياب.

- (٦) اختر: إذا ضاقت مجرى المائع يتقص ضغطه و ..... خطوط انسيابه.  
(A) تتباعد. (B) تتقارب. (C) تنعدم.
- (٧) اختر: إذا كانت خطوط الانسياب دقيقة وحمدة كان التدفق ..  
(A) انسيابيا. (B) مضطربا. (C) غير منتظم.
- (٨) اختر: إذا تحركت خطوط الانسياب حركة ملتفة كان التدفق ..  
(A) انسيابيا. (B) منتظما. (C) مضطربا.



### أمثلة

59 ص 210: يتقل تيار مائي خلال خرطوم ويخرج من فوهته ٤ ماذا يحدث لضغط الماء عندما تزيد سرعته؟

الحل: حسب مبدأ برنولي يتقص ضغط الماء لأن سرعته زادت.

## الدرس ٤٥ : المواد الصلبة

### الأجسام الصلبة

المواد السائلة	المواد الصلبة	مقارنة بين المواد الصلبة والمواد السائلة
غير قاسية ولها خاصية التمدد	قاسية	
لا يمكن أن تقطع حدة قطع	يمكن أن تقطع حدة قطع	
لا تحتفظ بشكلها	تحتفظ بشكلها	
لا يمكن دفعها لأن اليد تتحرك خلالها	يمكن دفعها	
} نمط ثابت ومنتظم يتشكل عندما تنخفض درجة حرارة السائل بحيث يقل متوسط الطاقة الحركية لجزيئاته {		الشبكة البلورية
المواد الصلبة غير البلورية	المواد الصلبة البلورية	تصنيف المواد الصلبة
سوائل لزجة بطيئة التدفق	مواد صلبة متجمدة	
جزيئاتها ليس لها ترتيب منتظم	جزيئاتها مصطفة بأنماط مرتبة ومنتظمة	
لها حجم وشكل محددان	لها حجم وشكل محددان	
مثالها: الزيت ، الكوارتز الزجاجي	مثالها: الجليد ، الكوارتز البلوري	
الكوارتز البلوري والكوارتز غير البلوري ..		قائمة
* خصائصهما الفيزيائية مختلفة.		

- (١) ضع ✓ أو ✗ : المواد الصلبة لها شكل ثابت أما المواد السائلة فليس لها شكل ثابت.
- (٢) اكتب المصطلح العلمي: نمط ثابت ومنتظم يتشكل عندما تنخفض درجة حرارة السائل بحيث يقل متوسط الطاقة الحركية لجزيئاته.
- (٣) اختر: تصنف المواد الصلبة غير البلورية على أنها ..
  - (A) صلبة متجمدة.
  - (B) سائلة.
  - (C) سوائل لزجة بطيئة التدفق.
- (٤) املا الفراغ: المواد التي جزيئاتها مصطفة بأنماط مرتبة ومنتظمة تسمى ..
- (٥) اختر: يصنف الجليد من المواد ..
- (A) الصلبة البلورية.
- (B) الصلبة غير البلورية.
- (C) السائلة اللزجة بطيئة التدفق.
- (٦) ضع ✓ أو ✗ : الكوارتز البلوري والكوارتز الزجاجي متماثلان كيميائياً وفيزيائياً.



## الضغط والتجمد

تمثيل	المواد الصلبة أكثر كثافة من السوائل « <b>حـلـل</b> » لأن جزيئات المادة الصلبة عند تجمدها تعيد ترتيب نفسها لتصبح قريبة من بعضها أكثر مما كانت عليه في الحالة السائلة
الضغط والتجمد	<ul style="list-style-type: none"> <li>• تزداد درجة التجمد بزيادة الضغط على سطح السائل.</li> <li>• تنخفض درجة تجمد الماء قليلاً بزيادة الضغط على سطحه.</li> </ul>
تميلان	<ul style="list-style-type: none"> <li>• تنخفض درجة تجمد الماء قليلاً بزيادة الضغط « <b>حـلـل</b> » لأن الماء يتمدد عند تجمده فإن الزيادة في الضغط تجبر الجزيئات على الاقتراب بعضها من بعض لتقاوم التجمد.</li> <li>• تكون طبقة رقيقة من الماء السائل بين الزلاجات والجليد « <b>حـلـل</b> » لأن الطاقة الحرارية المتولدة نتيجة الاحتكاك بين الزلاجات والجليد كافية لصهر الجليد.</li> </ul>

(٧) ضع ✓ أو ✗ : تزداد درجة التجمد بزيادة الضغط على سطح السائل.

(٨) اختر: بزيادة الضغط على سطح الماء فإن درجة تجمده ..

- (A) تبقى ثابتة. (B) ترتفع. (C) تنخفض.



## مرونة المواد الصلبة

تعريفها	{ قدرة الأجسام الصلبة على العودة إلى شكلها الأصلي عند زوال تأثير القوى الخارجية }
فائلتان	<ul style="list-style-type: none"> <li>• لا يعود الجسم إلى شكله الأصلي إذا حدث تشوه كبير لأنه قد تجاوز حد مرونته.</li> <li>• تعتمد المرونة على القوى الكهرومغناطيسية التي تحافظ على بقاء جزيئات المادة معاً.</li> </ul>
قابلية	<ul style="list-style-type: none"> <li>• خاصيتان تعتمدان على تركيب المادة ومرونتها.</li> </ul>
الطرق	<ul style="list-style-type: none"> <li>• الذهب قابل للطرق فيمكن تشكيله على صورة رقائق دقيقة جداً.</li> </ul>
والسحب	<ul style="list-style-type: none"> <li>• النحاس قابل للسحب فيمكن سحبه على شكل أسلاك.</li> </ul>

(٩) اكتب المصطلح العلمي: قدرة الأجسام الصلبة على العودة إلى شكلها الأصلي عندما يزول تأثير القوى الخارجية.

(١٠) ضع ✓ أو ✗ : لا يعود الجسم إلى شكله الأصلي إذا حدث تشوه كبير لأنه تجاوز حد مرونته.

(١١) أصل الفراع: تعتمد المرونة على القوى ..... التي تحافظ على بقاء جزيئات المادة معاً.

(١٢) اختر: الخاصية التي تمكن من تشكيل المادة على صورة رقائق دقيقة جداً هي ..

- (A) قابلية الطرق. (B) قابلية السحب. (C) قابلية الضغط.



## الدرس ٤٦ : التمدد الحراري للمواد الصلبة

### وصلات التمدد

تسرفها	{ فجوات صغيرة « فواصل » تترك بين أجزاء الجسور الخرسانية والفولاذية }			
تعليق	يترك المهندسون فجوات بين أجزاء الجسور الخرسانية والفولاذية « <b>هزل</b> » للسماح بتمدد أجزاء الجسر في أيام الصيف فلا يتقوس أو تنحطم أجزاءه			
التمدد الحراري	تستخدم المواد الصلبة لتمدد حراريًا بأقل ما يمكن في .. • صنع زجاج الأفران. • صنع مرايا التلسكوبات الكبيرة.			
قائمة	التغير في طول المادة الصلبة يتناسب طرديًا مع .. • التغير في درجة الحرارة. • طول الجسم.			
معامل التمدد الطولي	{ التغير في الطول مقسومًا على طول الجسم والتغير في درجة الحرارة }			
معامل التمدد الحجمي	{ التغير في الحجم مقسومًا على حجم الجسم والتغير في درجة الحرارة }			
العلاقات الرياضية	<table border="1" style="width: 100%; text-align: center;"> <tr> <td><math>\beta = 3\alpha</math></td> <td><math>\beta = \frac{\Delta V}{V_1 \Delta T}</math></td> <td><math>\alpha = \frac{\Delta L}{L_1 \Delta T}</math></td> </tr> </table> <p> <math>\alpha</math> معامل التمدد الطولي [<math>^{\circ}\text{C}^{-1}</math>]      <math>\beta</math> معامل التمدد الحجمي [<math>^{\circ}\text{C}^{-1}</math>]  <math>\Delta L</math> التغير في الطول [m]      <math>\Delta V</math> التغير في الحجم [<math>\text{m}^3</math>]  <math>L_1</math> طول الجسم [m]      <math>V_1</math> حجم الجسم [<math>\text{m}^3</math>]  <math>\Delta T</math> التغير في درجة الحرارة [<math>^{\circ}\text{C}</math>] </p>	$\beta = 3\alpha$	$\beta = \frac{\Delta V}{V_1 \Delta T}$	$\alpha = \frac{\Delta L}{L_1 \Delta T}$
$\beta = 3\alpha$	$\beta = \frac{\Delta V}{V_1 \Delta T}$	$\alpha = \frac{\Delta L}{L_1 \Delta T}$		
تطبيقات التمدد الحراري	<ul style="list-style-type: none"> <li>• للفولاذ والإسمنت المستخدم في المباني معامل التمدد نفسه « <b>هزل</b> » حتى يتمددان بنفس الدرجة فلا تصدع المباني في الأيام الحارة.</li> <li>• يستخدم طبيب الأسنان المواد التي يحشو بها الأسنان بحيث تتمدد وتتقلص بالمعدل نفسه لتمدد مينا الأسنان.</li> </ul>			

(١) اكتب المصطلح العلمي: فواصل تترك بين أجزاء الجسور الخرسانية والفولاذية.

(٢) اختر: التغير في طول المادة الصلبة ..... مع التغير في درجة الحرارة.

(A) يتناسب طرديًا      (B) يتناسب عكسيًا      (C) لا يتناسب

(٣) اكتب المصطلح العلمي: التغير في الطول مقسومًا على طول الجسم والتغير في درجة الحرارة.

(٤) اكتب المصطلح العلمي: التغير في الحجم مقسومًا على حجم الجسم والتغير في درجة الحرارة.





(٥) اختر: معامل التمدد الحجمي لجسم  $6\text{ }^{\circ}\text{C}^{-1}$  فإن معامل تمدده الطولي يساوي ..  
 . 18 (A) . 6 (B) . 2 (C)



### المزدوج الحراري

تعريفه	{ شريحة ثنائية المعدن تستخدم في منظمات الحرارة }
مكوناته	شريحة من النحاس الأصفر مثبتة بجوار شريحة من الحديد
استخداماته	في منظمات الحرارة ، الثرموستات ، في أجهزة التدفئة والتبريد
عمله	<ul style="list-style-type: none"> <li>عند التسخين يتمدد النحاس الأصفر أكثر من تمدد الحديد فينحني الشريط.</li> <li>في أجهزة التدفئة: إذا بردت الغرفة ينحني في الاتجاه التوصليل الكهربائي فيشغل المسخن وحينما تصل درجة الحرارة إلى الدرجة المحددة في الثرموستات ينحني في الاتجاه المعاكس فيوقف عمل المسخن.</li> <li>في أجهزة التبريد: إذا ارتفعت درجة الحرارة إلى حد معين في الثرموستات ينحني الشريط لإحداث توصيل كهربائي يشغل المبرد وعندما تنخفض الحرارة عن حد معين ينحني في الاتجاه المعاكس فيوقف عمل المبرد.</li> </ul>

(٦) اكتب المصطلح العلمي: شريحة ثنائية المعدن تستخدم في منظمات الحرارة.

(٧) اختر: يستخدم المزدوج الحراري في ..



(A) الأجهزة الإلكترونية. (B) منظمات الحرارة ، الثرموستات ، (C) المصابيح الضوئية.

### أمثلة

39 ص 203: قطعة من الألمنيوم معامل تمددها الطولي  $25 \times 10^{-6} \text{ }^{\circ}\text{C}^{-1}$  وطولها 3.66 m عند درجة حرارة  $28\text{ }^{\circ}\text{C}$  ، كم يزداد طولها عندما تصبح درجة حرارتها  $39\text{ }^{\circ}\text{C}$  ؟

الحل:

$$\alpha = \frac{\Delta L}{L_1 \Delta T} \Rightarrow \Delta L = \alpha L_1 \Delta T = (25 \times 10^{-6})(3.66)[(39) - (-28)] = 6.13 \times 10^{-3} \text{ m}$$

41 ص 203: وعاء زجاجي سعته 0.4 L ملء بماء بارد درجة حرارته  $4.4\text{ }^{\circ}\text{C}$  ، ما مقدار الماء المسكوب من الوعاء عندما يسخن الماء إلى  $30\text{ }^{\circ}\text{C}$  ؟ علماً أن معامل التمدد الحجمي للماء  $210 \times 10^{-6} \text{ }^{\circ}\text{C}^{-1}$ .

الحل:

$$\beta = \frac{\Delta V}{V_1 \Delta T} \Rightarrow \Delta V = \beta V_1 \Delta T = (210 \times 10^{-6})(0.4)[(30 - 4.4)] = 2.15 \times 10^{-3} \text{ m}^3$$

## أجوبة الفصل السادس

### الأجوبة

الدرس ٣٥	(١) الضغط. (A) (٤) (٧) المائع. (C) (١٠) (١٣) ✓	(٢) ✓	(٣) (B)	(٤) (٥) (٦) (C) ×	(٧) (٨) ✓	(٩) (١٠) (١١) (A) ×	(١٢) (١٣) ×
الدرس ٣٦	(١) قانون بويل. (٢) الصفر المطلق. (A) (٣) (٤) قانون شارلز. (B) (٥)						
الدرس ٣٧	(١) القانون العام للغازات.	(٢) ×	(٣) ✓				
الدرس ٣٨	(١) قانون الغاز المثالي. (A) (٢)	(٣) عدد أفوجادرو.					
الدرس ٣٩	(١) التمدد الحراري. (٢) تيار الحمل. (٣) البلازما. (٧) ✓	(٤) (A)	(٥) (٦) (A) ✓	(٧) (٨) (A) ✓			
الدرس ٤٠	(١) خاصية التوتر السطحي. (٦) اللزوجة. (١١) الخاصية الشعرية	(٢) (B)	(٣) (C)	(٤) (A)	(٥) (٦) (A) ×	(٧) (٨) (A) ×	(٩) (١٠) (A) ×
الدرس ٤١	(١) مبدأ باسكال. (A) (٢)	(٣) (B)	(٤) (C)	(٥) (٦) (A) ×	(٧) (٨) (A) ×	(٩) (١٠) (A) ×	(١١) (١٢) (A) ×
الدرس ٤٢	(١) ضغط المائع. (A) (٤) (B) (٣) (٢) (٥) قوة الطفو. (B) (٦) (٧) (C)						
الدرس ٤٣	(١) مبدأ أرخميدس. (A) (٣) (C) (٢) (٤) (٥) (٦) (٧) (٨) (A) (C)						
الدرس ٤٤	(١) مبدأ برنولي. (A) (٣) (B) (٢) (٤) (٥) (٦) (٧) (٨) (A) (C)						
الدرس ٤٥	(١) ✓ (٢) الشبكة البلورية. (٣) (C)	(٤) (A)	(٥) (A)	(٦) (٧) (A) ×	(٨) (٩) (A) ×	(١٠) (١١) (A) ×	(١٢) (١٣) (A) ×
الدرس ٤٦	(١) وصلات التمدد. (٣) معامل التمدد الطولي. (A) (٢)	(٤) معامل التمدد الحجمي. (٦) التمدد الحراري.					



سلسلة التبسيط  
رؤية مبتكرة ... لفهم أسهل

ملحقاً

# الملخص



## الفصل ١ : الحركة الدورانية


### أساسيات الحركة الدورانية

حركة قرص الحاسوب المدمج ، حركة العربة الدوارة في مدينة الألعاب				من أمثلتها
الوحدة	رمزها	مقارنها	الدورة الكاملة	وحدات قياس زوايا الدوران
الدرجة	°	تعادل $\frac{1}{360}$ من الدورة الكاملة	360°	
الراديان	rad	تعادل $\frac{1}{2\pi}$ من الدورة الكاملة	2π rad	
إشارة الدوران  الدوران عكس اتجاه عقارب الساعة  الدوران مع اتجاه عقارب الساعة				

### الإزاحة الزاوية : زاوية الدوران

{ التعبير في الزاوية أثناء دوران الجسم }				تعريفها
الأرض حول محورها	عقرب الثوالي	عقرب الدقائق	عقرب الساعات	زمن الدورة الكاملة
24 h	60 s	60 min	12 h	
الإزاحة الزاوية $\theta$ = الإزاحة الزاوية $\theta$ من دورة = $\frac{\text{زمن الجزء من الدورة}}{\text{زمن الدورة الكاملة}} \times \text{الإزاحة الزاوية للدورة الكاملة}$				الإزاحة الزاوية $\theta$ من دورة
عندما يُرى من القطب الشمالي  - عندما يُرى من القطب الجنوبي				دوران الأرض
$d = r\theta$				العلاقة
الإزاحة الخطية $d$ [m] نصف قطر الجسم الدوار $r$ [m] الإزاحة الزاوية $\theta$ [rad]				الرياضية
إذا كان قطر الكرة المستخدمة في فارة حاسوب 2 cm وحركت الفارة 12 cm فما الإزاحة الزاوية للكرة؟				مثال توضيحي ١
$r = \frac{\text{القطر}}{2} = \frac{2}{2} = 1 \text{ cm}$ $d = r\theta \Rightarrow \theta = \frac{d}{r} = \frac{12}{1} = 12 \text{ rad}$				
أديرت عجلة قيادة سيارة بزاوية قدرها 128° فإذا كان نصف قطرها 22 cm فما المسافة التي تتحركها نقطة على الطرف الخارجي لعجلة القيادة؟				مثال توضيحي ٢
$\theta = \frac{128\pi}{180} = 2.23 \text{ rad}$ $d = r\theta = 22 \times 2.23 = 49 \text{ cm}$				

## السرعة الزاوية المتجهة

تعريفها	{ الإزاحة الزاوية مقسومة على الزمن الذي يتطلب حدوث هذه الإزاحة }
إشارتها	الدوران <b>عكس</b> اتجاه عقارب الساعة  الدوران <b>مع</b> اتجاه عقارب الساعة 
العلاقة الرياضية	$\omega = \frac{\Delta\theta}{\Delta t}$ <p> <math>\omega</math> السرعة الزاوية المتجهة [rad/s]  <math>\Delta\theta</math> الإزاحة الزاوية [rad]  <math>\Delta t</math> زمن حدوث الدوران [s]         </p>
مثال توضيحي	<p>مدور القمر حول محوره دورة كاملة خلال 27.3 يوماً؛ فإذا كان نصف قطر القمر <math>1.74 \times 10^6</math> m فاحسب تردد دوران القمر بوحدة rad/s .</p> <p> <math>\Delta t = (27.3 \text{ d})(24 \text{ h/d})(3600 \text{ s/h}) = 2358720 \text{ s}</math>  <math>\omega = \frac{\Delta\theta}{\Delta t} = \frac{2\pi}{2358720} = 2.66 \times 10^{-6} \text{ rad/s}</math> </p>

## علاقة السرعة الزاوية المتجهة بالسرعة الخطية المتجهة

العلاقة الرياضية	$v = r\omega$ <p> <math>v</math> السرعة الخطية [m/s]    <math>r</math> نصف القطر [m]    <math>\omega</math> السرعة الزاوية [rad/s]         </p>
مثال توضيحي	<p>نصف قطر الحافة الخارجية لإطار 45 cm وبعده 23 m/s؛ احسب سرعته الزاوية؟</p> <p> <math>v = r\omega \Rightarrow \omega = \frac{v}{r} = \frac{23}{45 \times 10^{-2}} = 51.1 \text{ rad/s}</math> </p>
تعليل	<p>جميع نقاط الأرض تدور بنفس الزاوية رغم أنها تقطع مسافات مختلفة في كل دورة <b>حلول</b>؛ لأن الأرض جسم صلب وكل أجزاء الجسم الصلب تدور بنفس المعدل</p>

## التسارع الزاوي

تعريفه	{ التغير في السرعة الزاوية مقسوماً على الفترة الزمنية التي حدث خلالها التغير }
العلاقة الرياضية	$\alpha = \frac{\Delta\omega}{\Delta t}$ <p> <math>\alpha</math> التسارع الزاوي [rad/s<sup>2</sup>]  <math>\Delta\omega</math> السرعة الزاوية المتجهة [rad/s]  <math>\Delta t</math> زمن حدوث الدوران [s]         </p>
إشارته	<p> <math>+</math> إذا كان التغير في السرعة الزاوية المتجهة موجباً  <math>-</math> إذا كان التغير في السرعة الزاوية المتجهة سالباً         </p>

التسارع الزاوي يساوي صفر لجسم يدور بمعدل ثابت <b>حلل</b> ، لأن سرعته الزاوية المتجهة ثابتة	تحليل	
يمكن إيجاد التسارع الزاوي اللحظي بإيجاد ميل العلاقة البيانية بين السرعة الزاوية المتجهة والزمن	قاعدة	
$\alpha$ التسارع الخطي [m/s <sup>2</sup> ] $r$ نصف قطر الجسم الدوار [m] $\alpha$ التسارع الزاوي [rad/s <sup>2</sup> ]	$\alpha = r\alpha$	التسارعين الخطي والزاوي
إذا كان التسارع الخطي لمربة نقل 1.85 m/s <sup>2</sup> والتسارع الزاوي لإطارها 5.23 rad/s <sup>2</sup> فما قطر الإطار الواحد للمربة؟	مقال	توضيحي
$\alpha = r\alpha \Rightarrow r = \frac{a}{\alpha} = \frac{1.85}{5.23} = 0.35 \text{ m}$ $\text{قطر الإطار} = 2r = 2 \times 0.35 = 0.7 \text{ m}$		

### التردد الزاوي

{ عدد الدورات الكاملة التي يدورها الجسم في الثانية الواحدة }	تعريفه	
$f$ التردد الزاوي [rev/s] $\omega$ السرعة الزاوية المتجهة [rad/s]	$f = \frac{\omega}{2\pi}$	العلاقة الرياضية

### العزم

{ مقياس فاعلية القوة في إحداث الدوران }	تعريفه	
{ المسافة العمودية من محور الدوران إلى نقطة تأثير القوة }	ذراع القوة	
{ المسافة بين محور الدوران ونقطة تأثير القوة }	نصف قطر الدوران	
$L$ ذراع القوة [m] $r$ نصف قطر الدوران [m] $\theta$ الزاوية المحصورة بين القوة ونصف قطر الدوران [°]	$L = r \sin \theta$	العلاقة بين ذراع القوة ونصف قطر الدوران
$\tau$ العزم [N.m] $F$ القوة [N] $L$ ذراع القوة [m] $r$ نصف قطر الدوران [m] $\theta$ الزاوية المحصورة بين القوة ونصف قطر الدوران [°]	$\tau = FL$ $\tau = Fr \sin \theta$	العلاقة الرياضية

<p>إذا تطلّب تدوير جسم عزمًا مقداره 55 N.m في حين كانت أكبر قوة يمكن التأثير بها 135 N فما طول ذراع القوة التي يجب استخدامه؟</p> $\tau = FL \Rightarrow L = \frac{\tau}{F} = \frac{55}{135} = 0.4 \text{ m}$	<p>مثال توضيحي ١</p>						
<p>ما مقدار العزم المؤثر في برغي الناتج عن قوة مقدارها 15 N تؤثر عموديًا على الاتجاه الرأسي في مفتاح شد طوله 0.25 m ؟</p> $\tau = Fr \sin \theta = 15 \times 0.25 \sin 90 = 3.75 \text{ N.m}$	<p>مثال توضيحي ٢</p>						
<p>عند فتح باب حر الدوران حول المفصلات ..</p>							
<table border="1"> <thead> <tr> <th>يتنامم العزم</th> <th>أكبر عزم</th> </tr> </thead> <tbody> <tr> <td>القوة تؤثر في المفصلات</td> <td>القوة تؤثر في أبعد نقطة عن المفصلات</td> </tr> <tr> <td>القوة موازية للباب</td> <td>القوة متعامدة مع الباب</td> </tr> </tbody> </table>	يتنامم العزم	أكبر عزم	القوة تؤثر في المفصلات	القوة تؤثر في أبعد نقطة عن المفصلات	القوة موازية للباب	القوة متعامدة مع الباب	<p>تطبيق</p>
يتنامم العزم	أكبر عزم						
القوة تؤثر في المفصلات	القوة تؤثر في أبعد نقطة عن المفصلات						
القوة موازية للباب	القوة متعامدة مع الباب						
<p>• عند فتح باب يزيد أثر قوتك كلما ابتعدت نقطة تأثير قوتك عن محور الدوران. • لا يدور الباب عندما تؤثر على مفصلاته قوة عمودية.</p>							
<p>العوامل المؤثرة في عزم الدوران</p> <ul style="list-style-type: none"> <li>• مقدار القوة.</li> <li>• اتجاه القوة.</li> <li>• ذراع القوة.</li> <li>• <b>تنبيه:</b> زيادة عزم الدوران تزداد السرعة الزاوية المتجهة.</li> </ul>							

### محصلة العزوم

<p>مقدارها</p>	<p>مجموع عزوم القوى المؤثرة</p>
<p>قائمة</p> <p>• عند اتزان جسم تحت تأثير عزمين .. • لا يجلت دوران. • مجموع العزمين = صفرًا. • العزمين متساويين ومتماكسي الاتجاه.</p>	<p>مقدارها</p>
<p>الملاحظة الرياضية</p> <p><math>\tau_1</math> العزم الأول [N.m] <math>\tau_2</math> العزم الثاني [N.m]</p>	$\tau_1 + \tau_2 = 0 \quad \tau_1 = \tau_2$
<p>مثال توضيحي</p> <p>يجلس علي<sup>١</sup> على بعد 1.8 m من مركز لعبة الميزان ؟ على أي بعد من مركز اللعبة يجب أن يجلس عبدالله حتى يتزن؟ علمًا أن كتلة علي<sup>٢</sup> 43 kg وكتلة عبدالله 52 kg .</p> $F_{g2} = m_2g = 52 \times 9.8 = 509.6 \text{ N} \quad F_{g1} = m_1g = 43 \times 9.8 = 421.4 \text{ N}$ $F_{g1}r_1 = F_{g2}r_2$ $421.4 \times 1.8 = 509.6 \times r_2$ $\therefore r_2 = \frac{421.4 \times 1.8}{509.6} = 1.49 \text{ m}$	<p>مثال توضيحي</p>



## مركز الكتلة

تعريفه	{ نقطة في الجسم تتحرك بالطريقة نفسها التي تتحرك بها النقطة المادية }
مثال توضيحي	تبين مواصفات سيارة أن وزنها موزع بنسبة 53% على الإطارات الأمامية و 47% على الإطارات الخلفية؛ فإذا كان طول لوح قاعدتها 2.46 m فأين يكون مركز كتلة السيارة؟ $\tau_{المحيلة} = \tau_A - \tau_B = 47\% Fg (2.46 - r) - 53\% Fg r = 0$ $0 = 47 \times 2.46 - 47r - 53r = 115.62 - 100r$ $115.62 = 100r$ $\therefore r = 1.1562 \text{ m}$
موقع مركز الكتلة لجسم الإنسان	<ul style="list-style-type: none"> <li>• شخص يقف وبناء متعلبان جانبه: مركز الكتلة على بعد مستمترات أسفل السرة في منتصف المسافة بين سطحي الجسم الأمامي والخلفي.</li> <li>• طفل: مركز الكتلة للطفل أعلى من الشخص العادي بعلة مستمترات <b>حلال</b> لأن رأس الطفل يكون كبيراً نسبياً بالنسبة لجسمه.</li> </ul>
تعليل	موقع مركز كتلة جسم الإنسان غير ثابت <b>حلال</b> لأن جسم الإنسان مرن

## مركز الكتلة والاستقرار

متى يكون الجسم مستقرًا؟	عندما يكون مركز الكتلة فوق قاعدة الجسم
متى يكون الجسم غير مستقر؟	عندما يكون مركز الكتلة خارج قاعدة الجسم لذلك يدور الجسم أو يتقلب دون عزم إضافي
تعليل	يتقلب الصندوق المرتفع قليل العرض بسهولة بعكس الصندوق المنخفض العرض <b>حلال</b> لأن مركز الكتلة للأول مرتفع فنحتاج إلى ميل أقل لجعله يتحرك خارج القاعدة فيقلب بسهولة

## أساسيات عن الاتزان الميكانيكي

شرط الاتزان	(١) الاتزان الانتقالي.	(٢) الاتزان الدوراني.
الاتزان	• سرعة الجسم المتجهة ثابتة أو تساوي صفراً. • عجلة القوى المؤثرة = صفراً.	
الانتقالي	• مجموع القوى نحو الأعلى = مجموع القوى نحو الأسفل.	
الاتزان	• سرعة الجسم الزاوية المتجهة ثابتة أو تساوي صفراً. • عجلة العزوم المؤثرة = صفراً.	
الدوراني	• مجموع العزوم في اتجاه عقارب الساعة = مجموع العزوم في عكس اتجاه عقارب الساعة.	

إشارة القوة	↑+	القوة للأعلى	↓-	القوة للأسفل
إشارة العزم	⊕+	الدوران عكس اتجاه عقارب الساعة	⊖-	الدوران مع اتجاه عقارب الساعة

## الأطر المرجعية

أنواعها • الأطر المرجعية القصورية • أطر غير متسارعة • الأطر المرجعية الدوارة • أطر متسارعة •

## القوة الطاردة المركزية

تسميتها	{ قوة ظاهرية غير حقيقية نشعر بها تظهر وكأنها تدفع الجسم إلى الخارج }
التسارع المركزي	{ تسارع ناشئ عن الحركة الدائرية والمجاهه نحو المركز }
الملاحة الرياضية	$a_c = \omega^2 r \quad a_c = \frac{v^2}{r}$ <p><math>a_c</math> التسارع المركزي <math>[m/s^2]</math> نصف القطر <math>r</math> <math>[m]</math>  <math>\omega</math> السرعة الزاوية المتجهة <math>[rad/s]</math> <math>v</math> السرعة الخطية <math>[m/s]</math></p>
فائدة	<ul style="list-style-type: none"> <li>يعتمد التسارع المركزي على ..</li> <li>المسافة من مركز الدوران.</li> <li>مربع السرعة الزاوية المتجهة.</li> </ul>
مثال توضيحي	<p>استخدم جهاز الطرد المركزي فائق السرعة لفصل مكونات الدم بحيث يولد تسارعا مركزيا <math>0.35 \times 10^6 g</math> على بعد <math>2.5</math> cm من المحور؛ ما السرعة الزاوية المتجهة اللازمة بوحدة <math>rev/min</math> ↑</p> $a_c = \omega^2 r \Rightarrow \omega^2 = \frac{a_c}{r}$ $\omega = \sqrt{\frac{a_c}{r}} = \sqrt{\frac{0.35 \times 10^6 \times 9.8}{2.5 \times 10^{-2}}} = 11713.24 \text{ rad/s}$ $\omega = \frac{11713.24 \times 60}{2\pi} = 111909.6 \text{ rev/min}$

## قوة كوريوليس

المقصود بها	قوة ظاهرية غير حقيقية نشعر بها تظهر وكأنها تحرف الكرة عن مسارها
قوة كوريوليس الناشئة من دوران الأرض	<ul style="list-style-type: none"> <li>في نصف الكرة الشمالي: الجسم المتحرك شمالاً ينحرف نحو الشرق.</li> <li>في نصف الكرة الجنوبي: الجسم المتحرك جنوباً ينحرف نحو الغرب.</li> </ul>

## الفصل ٢ : الزخم وحفظه

### الدفع

تعريفه	{ حاصل ضرب متوسط القوة المؤثرة على جسم في زمن تأثيرها }
العوامل المؤثرة فيه	• القوة المؤثرة. • زمن تأثير القوة.
العلاقة الرياضية	$F\Delta t$ الدفع [N.s]    القوة $F$ [N] $\Delta t$ زمن تأثير القوة [s]
مثال توضيحي	ضربت لاعب قرص هوكي مؤثراً فيه بقوة ثابتة مقدارها 30 N مدة 0.16 s ، ما مقدار الدفع المؤثر في القرص؟ $\text{الدفع} = F\Delta t = 30 \times 0.16 = 4.8 \text{ N.s}$
تعليل	يمكن أن يكتسب جسم ما دفعا كبيرا من قوة صغيرة ، <b>هلل</b> ، إذا أثرت القوة على الجسم لفترة زمنية طويلة
فوائد	• دفع القوة المتغيرة يساوي المساحة تحت منحني العلاقة بين القوة والزمن • القوة المسية للدفع كمية متجهة لذا فالدفع كمية متجهة. • اتجاه الدفع يكون في نفس اتجاه القوة المسية له.

### الزخم ، الزخم الخطي ،

تعريفه	{ حاصل ضرب كتلة الجسم في سرعته المتجهة }
العوامل المؤثرة فيه	• كتلة الجسم. • سرعة الجسم.
مثال توضيحي	هل يمكن أن يتساوى زخم رصاصة مع زخم شاحنة؟ افسر ذلك. نعم يمكن ذلك ، إذا كانت .. نسبة كتلة الرصاصة إلى كتلة الشاحنة = نسبة سرعة الشاحنة إلى سرعة الرصاصة
العلاقة الرياضية	$p = mv$
مثال توضيحي	إذا كانت كتلة أخيك 35.6 kg وكان لديه لوح تزلج كتلته 1.3 kg فما الزخم المشترك لأخيك مع لوح التزلج إذا تحركا معا بسرعة 9.5 m/s ؟ $p = (m_1 + m_2)v = (35.6 + 1.3)9.5 = 350.55 \text{ kg.m/s}$
فائدتان	• سرعة الجسم كمية متجهة مما يعني أن زخه كمية متجهة. • اتجاه زخم الجسم يكون في نفس اتجاه سرعته المتجهة.

## نظرية الدفع - الزخم

نصها	{ الدفع على جسم يساوي زخمه النهائي مطروحاً منه زخمه الابتدائي }
العلاقات الرياضية	$F\Delta t = p_f - p_i \quad F\Delta t = mv_f - mv_i$ <p><math>F\Delta t</math> الدفع [Ns] <math>v_f</math> سرعة الجسم النهائية [m/s] <math>p_f</math> الزخم النهائي [kg.m/s]  <math>m</math> كتلة الجسم [kg] <math>v_i</math> سرعة الجسم الابتدائية [m/s] <math>p_i</math> الزخم الابتدائي [kg.m/s]</p>
تعليل	تزداد السيارات بمحاور صلعات يمكنه الانضغاط في أثناء الاصطدام « <b>عزل</b> » لتقليل القوة المؤثرة بزيادة زمن تأثيرها
أنظمة الأمان في السيارات	<p>لا يتأثر الدفع المؤثر على السائق بوجود الوسادة الهوائية من عدمه لكنها تعمل على ..</p> <ul style="list-style-type: none"> <li>• تقليل القوة بزيادة زمن تأثيرها.</li> <li>• تزيد المساحة المؤثرة عليها القوة فتقلل من احتمالات الإصابة.</li> </ul>

## قانون حفظ الزخم

نصه	{ زخم أي نظام مغلق ومعزول لا يتغير }
النظام المغلق	{ النظام الذي لا يكتسب كتلة ولا يفقدها }
النظام المعزول	{ النظام الذي تكون محصلة القوى الخارجية المؤثرة عليه = صفراً }
تصادم جسمين	<p>جسمين يتصادمان ..</p> $p_{C1} + p_{D1} = p_{Cf} + p_{Df}$ $m_C v_{C1} + m_D v_{D1} = m_C v_{Cf} + m_D v_{Df}$ <p>وإذا التحم الجسمان بعد التصادم ..</p> $m_C v_{C1} + m_D v_{D1} = (m_C + m_D) v_f$ <p><math>C</math> الجسم الأول <math>D</math> الجسم الثاني  <math>p_f</math> الزخم النهائي [kg.m/s]  <math>p_i</math> الزخم الابتدائي [kg.m/s]  <math>m</math> كتلة الجسم [kg]  <math>v_i</math> السرعة الابتدائية [m/s]  <math>v_f</math> السرعة النهائية [m/s]</p>
مثال توضيحي ١	<p>اصطدمت سيارتا شاحن كتلة كل منهما <math>3 \times 10^5</math> kg فالتصقتا معاً؛ فإذا كانت سرعة إحدهما قبل التصادم مباشرة <math>2.2</math> m/s والأخرى ساكنة فما سرعتهما النهائية؟</p> $m_C v_{C1} = (m_C + m_D) v_f$ $3 \times 10^5 \times 2.2 = (3 \times 10^5 + 3 \times 10^5) v_f$ $6.6 \times 10^5 = 6 \times 10^5 v_f$ $v_f = \frac{6.6 \times 10^5}{6 \times 10^5} = +1.1 \text{ m/s}$

شرطا حفظ زخم النظام	(١) عدم فقدان النظام أو اكتسابه أي كتلة + نظام مغلق . (٢) أن تكون القوى المؤثرة فيه قوى داخلية فقط + نظام معزول .
فائدة	<p>عند حدوث تصادم بين الجسم C والجسم D ..</p> <ul style="list-style-type: none"> <li>القوة المؤثرة من C على D تساوي وتعاكس القوة المؤثرة من D على C .</li> <li>دفعما الجسمين متساويان في المقدار ومتعاكسان في الاتجاه.</li> <li>مجموع زخمي الجسمين قبل التصادم = مجموع زخميها بعد التصادم.</li> <li>الزخم المكتسب من الجسم D = الزخم المفقود من الجسم C .</li> <li>إذا التحم الجسمان المتصادمان فإنهما السرعة المتجهة النهائية نفسها.</li> </ul>
مثال توضيحي	<p>تتحرك كرة على طاولة البلياردو فمصطدم بكرة أخرى ساكنة؛ فإذا كان للكرتين نفس الكتلة وسكنت الكرة الأولى بعد تصادمها معا فماذا تستنتج حول سرعة الكرة الثانية بعد التصادم؟ سرعة الكرة الثانية بعد التصادم تساوي سرعة الكرة الأولى قبل التصادم؛ لأن الزخم الذي اكتسبته الكرة الثانية يساوي الزخم الذي فقدته الكرة الأولى</p>

## الارتداد

من أمثله	البنلقية والرصاص، القذيفة والمدفع، الصاروخ، الطائرة النفاثة							
فائدة	<p>للنظام المكون من القذيفة والمدفع ..</p> <ul style="list-style-type: none"> <li>عندما تُطلق القذيفة للأمام يرتد المدفع للخلف.</li> <li>زخم النظام قبل إطلاق القذيفة = زخم النظام بعد إطلاق القذيفة = صفرًا.</li> <li>عند إطلاق القذيفة من المدفع زخم القذيفة يساوي ويعاكس زخم المدفع.</li> <li>سرعة إطلاق القذيفة أكبر من سرعة ارتداد المدفع <b>حلى</b> لأن كتلة القذيفة أقل.</li> </ul>							
العلاقة الرياضية	<table border="1"> <tr> <td><math>m</math> كتلة الجسم [kg]</td> <td>C الجسم الأول</td> <td rowspan="3"> <math display="block">p_{1x} = -p_{2x}</math> <math display="block">m_C v_{Cx} = -m_D v_{Dx}</math> </td> </tr> <tr> <td><math>v_f</math> السرعة النهائية [m/s]</td> <td>D الجسم الثاني</td> </tr> <tr> <td><math>p_f</math> الزخم النهائي [kg.m/s]</td> <td></td> </tr> </table>	$m$ كتلة الجسم [kg]	C الجسم الأول	$p_{1x} = -p_{2x}$ $m_C v_{Cx} = -m_D v_{Dx}$	$v_f$ السرعة النهائية [m/s]	D الجسم الثاني	$p_f$ الزخم النهائي [kg.m/s]	
$m$ كتلة الجسم [kg]	C الجسم الأول	$p_{1x} = -p_{2x}$ $m_C v_{Cx} = -m_D v_{Dx}$						
$v_f$ السرعة النهائية [m/s]	D الجسم الثاني							
$p_f$ الزخم النهائي [kg.m/s]								
الدفع في الفضاء	<ul style="list-style-type: none"> <li>يُشكّل الصاروخ والمواد الكيميائية معاً نظاماً مغلقاً ومعزولاً.</li> <li>تندفع الغازات من فوهة العادم للخلف بسرعة كبيرة لذا يندفع الصاروخ للأمام.</li> <li>محرك الصواريخ الكيميائية يعمل لدقائق أما المحرك الأيوني فيعمل لفترات طويلة.</li> <li>دفع المحرك الأيوني أكبر بكثير من دفع محرك الصاروخ الكيميائي.</li> </ul>							

أطلق نموذج لصاروخ كتلته 4 kg بحيث ينفث 0.05 kg من الوقود المحترق من العادم بسرعة مقدارها 625 m/s ، ما سرعة الصاروخ المتجهة بعد احتراق الوقود؟

مثال

توضيحي

$$m_C v_{Cx} = -m_D v_{Dx}$$

$$4v_{Cx} = -0.05 \times -625 = 31.25$$

$$v_{Cx} = \frac{31.25}{4} = +7.8 \text{ m/s}$$

## التصادم في بعدين

- زخم الجسم المتحرك بزاوية  $\theta$  مع محور  $x$  يحلل إلى مركبتين أفقية ورأسية.
- زخم الجسم المتحرك أفقياً باتجاه محور  $x$  له مركبة أفقية فقط ومركبته الرأسية باتجاه محور  $y$  = صفر.
- زخم الجسم المتحرك رأسياً باتجاه محور  $y$  له مركبة رأسية فقط ومركبته الأفقية باتجاه محور  $x$  = صفر.

فوائد

المركبة الرأسية  $p_y$

المركبة الأفقية  $p_x$

$$p_y = p \sin \theta$$

$$p_x = p \cos \theta$$

حساب مركبتي الزخم

- مجموع مركبات الزخم الأفقية قبل التصادم = مجموع مركباته الأفقية بعد التصادم.
- مجموع مركبات الزخم الرأسية قبل التصادم = مجموع مركباته الرأسية بعد التصادم.

في بعدين

- جسمان يتحركان باتجاهين متعاكسين والتحما بعد تصادمهما لحسب الزخم الكلي بعد التصادم باستخدام نظرية فيثاغورس  $p_f^2 = p_{fx}^2 + p_{fy}^2$ .
- إذا التحم جسمان بعد تصادمهما فإنهما يتحركان بسرعة واحدة  $v_f$ .

تثبيهان

## الفصل ٣ : الشغل والطاقة والآلات البسيطة

### الشغل والطاقة

	<p>{ قدرة الجسم على إحداث تغيير في ذاته أو فيما يحيط به }</p> <p>{ الطاقة الناتجة من حركة الجسم }</p> <p>{ انتقال الطاقة بطرائق ميكانيكية }</p> <p>{ إذا بُدِّلَ شغل على جسم ما فإن طاقته الحركية تتغير }</p>	الطاقة	تعريفات	
		الطاقة الحركية		
		الشغل		
		نظرية الشغل - الطاقة		
<p><math>W</math> الشغل [J]</p> <p><math>KE_f</math> الطاقة الحركية النهائية [J]</p> <p><math>KE_i</math> الطاقة الحركية الابتدائية [J]</p> <p><math>F</math> متوسط القوة [N] <math>d</math> الإزاحة [m]</p> <p><math>m</math> كتلة الجسم [kg] <math>v</math> سرعة الجسم [m/s]</p>	$W = KE_f - KE_i$ $W = Fd$ $KE = \frac{1}{2}mv^2$	الملاحة الرياضية		
	<p>يبلغ ارتفاع الطابق الثالث منزل 8 m فوق مستوى الشارع؛ ما مقدار الشغل اللازم لنقل ثلاجة كتلتها 150 kg إلى الطابق الثالث؟</p> <p><math>F = F_g = mg = 150 \times 9.8 = 1470 \text{ N}</math></p> <p><math>W = Fd = 1470 \times 8 = 11760 \text{ J}</math></p>		مثال توضيحي	
	الجسم موضع الدراسة	المحيط الخارجي	كل شيء حول الجسم ما عدا الجسم	النظام
	<ul style="list-style-type: none"> <li>إذا بدّل المحيط الخارجي شغلاً على النظام فإن الشغل موجب وتزيد طاقة النظام.</li> <li>إذا بدّل النظام شغلاً على المحيط الخارجي فإن الشغل سالب وتتناقص طاقة النظام.</li> </ul>			ملاحظات

### حساب الشغل

رسم توضيحي	القوة	رمزها	اتجاه القوة	القوى المؤثرة على جسم
	القوة المحركة	$F$	باتجاه الحركة	
	قوة الوزن	$F_g$	عمودية للأسفل	
	القوة العمودية	$F_N$	عمودية على الجسم للأعلى	
	قوة الاحتكاك	$F_f$	معاكسة لاتجاه الحركة	

$W = Fd \cos \theta$	
[m] الإزاحة $d$	[J] الشغل $W$
$\theta$ الزاوية بين القوة والإزاحة [°]	$F$ متوسط القوة [N]
<p>يستخلم جبل في سحب صندوق معدني مسافة 15 m ؛ فإذا كان الجبل يصنع زاوية 46° فوق سطح الأرض وتؤثر قوة 628 N في الجبل فاحسب الشغل الذي تبخله القوة.</p> <p style="text-align: center;"><math>W = Fd \cos \theta = 628 \times 15 \cos 46 = 6543.6 \text{ J}</math></p>	مثال توضيحي
<ul style="list-style-type: none"> <li>• كل قوة تصنع زاوية مع اتجاه الحركة تحلل إلى مركبتين أفقية ورأسية.</li> <li>• شغل القوة المحركة موجب لأن القوة باتجاه الإزاحة.</li> <li>• شغل القوة العمودية على الإزاحة = صفراً.</li> <li>• شغل قوة الاحتكاك سالب لأن القوة بعكس اتجاه الإزاحة.</li> </ul>	فوائد
<p>قمر صناعي يدور حول الأرض؛ هل تبذل قوة الجاذبية الأرضية أي شغل على القمر؟ لا تبذل قوة الجاذبية الأرضية شغلاً على القمر؛ لأنها عمودية على اتجاه الحركة</p>	مثال توضيحي
<ul style="list-style-type: none"> <li>• مقداره: المساحة تحت المنحنى البياني القوة - الإزاحة.</li> <li>• مثاله: شغل النابض = مساحة المثلث = <math>\frac{1}{2} \times \text{القاعدة} \times \text{الارتفاع}</math>.</li> </ul>	شغل القوة المتغيرة

## القدرة

{ المعدل الزمني لبذل الشغل }	تم فيها						
{ انتقال طاقة مقدارها [1] خلال فترة زمنية مقدارها 1 s }	الواط						
<table border="0" style="width: 100%;"> <tr> <td style="width: 50%; text-align: center;"><math>P</math> القدرة [W]</td> <td style="width: 50%; text-align: center;"><math>F</math> القوة [N]</td> </tr> <tr> <td style="text-align: center;"><math>W</math> الشغل [J]</td> <td style="text-align: center;"><math>v</math> السرعة [m/s]</td> </tr> <tr> <td style="text-align: center;"><math>t</math> الزمن [s]</td> <td></td> </tr> </table>	$P$ القدرة [W]	$F$ القوة [N]	$W$ الشغل [J]	$v$ السرعة [m/s]	$t$ الزمن [s]		<div style="border: 1px solid black; padding: 5px; width: fit-content; margin: auto;"> <math display="block">P = \frac{W}{t}</math> <math display="block">P = Fv</math> </div>
$P$ القدرة [W]	$F$ القوة [N]						
$W$ الشغل [J]	$v$ السرعة [m/s]						
$t$ الزمن [s]							
<p>يؤند محرك كهربائي قدرة مقدارها 65 kW لرفع مصعد مكتمل الحمولة مسافة 17.5 m خلال 35 s ؛ ما مقدار القوة التي يبذلها المحرك؟</p> <p style="text-align: center;"><math>P = \frac{W}{t} = \frac{Fd}{t} \Rightarrow F = \frac{Pt}{d} = \frac{65 \times 10^3 \times 35}{17.5} = 13000 \text{ N}</math></p>	مثال توضيحي ١						
<p>يلفح محرك قارباً على سطح الماء بسرعة ثابتة مقدارها 15 m/s من خلال التأثير عليه بقوة مقدارها 6 kN ليوازن قوة مقاومة الماء حركة القارب؛ ما قدرة محرك القارب؟</p> <p style="text-align: center;"><math>P = Pv = 6 \times 10^3 \times 15 = 90000 \text{ W}</math></p>	مثال توضيحي ٢						



## أساسيات عن الآلات

أنواعها	• آلات بسيطة: البكرة، الوند، الرافعة. • آلات مُركَّبة: الدواسة، السيارة.
فائدتها	تسهيل أداء المهام ، تخفيف الحمل ، عملها تغيير مقدار القوة أو اتجاهها

## كفاءة الآلة : الفاعلية ،

تعريفات	{ نسبة الفائدة الميكانيكية إلى الفائدة الميكانيكية المثالية }	كفاءة الآلة	
	{ نسبة المقاومة إلى القوة }	الفائدة الميكانيكية	
	{ إزاحة القوة مقسومة على إزاحة المقاومة }	الفائدة الميكانيكية للمثالية	
العلاقات الرياضية	$e = \frac{MA}{IMA} \times 100$	$IMA = \frac{d_e}{d_r}$	$MA = \frac{F_r}{F_e}$
	$d_r$ إزاحة المقاومة [m]	$F_r$ المقاومة [N]	$F_e$ القوة [N]
مثال توضيحي	نظام بكرة يستخدم لرفع جسم وزنه 1345 N مسافة 0.975 m حيث يُسحب الحبل مسافة 3.9 m عن طريق التأثير ليه بقوة 375 N ، ما كفاءة النظام؟		
	$MA = \frac{F_r}{F_e} = \frac{1345}{375} = 3.58 \quad ; \quad IMA = \frac{d_e}{d_r} = \frac{3.9}{0.975} = 4$ $e = \frac{MA}{IMA} \times 100 = \frac{3.58}{4} \times 100 = 89.5\%$		

## كفاءة الآلة : الفاعلية ،

تعريفها	{ نسبة الشغل الناتج إلى الشغل المبذول }
الشغل المبذول	{ الشغل الذي يُبذل على الآلة }
فائدتها	• كفاءة الآلة الحقيقية أقل من 100% لأن الشغل الناتج أقل من الشغل المبذول. • كفاءة الآلة المثالية 100% لأن الشغل الناتج = الشغل المبذول.
العلاقات الرياضية	$e = \frac{W_o}{W_i} \times 100$
	$e = \frac{F_r d_r}{F_e d_e} \times 100$
	$e$ كفاءة الآلة $W_o$ الشغل الناتج [J] $W_i$ الشغل المبذول [J] $F_r$ المقاومة [N] $F_e$ القوة [N] $d_e$ إزاحة القوة [m] $d_r$ إزاحة المقاومة [m]

إذا أثرت بقوة 225 N في رافعة لرفع صخرة وزنها  $1.25 \times 10^3$  N مسافة 13 cm وكانت كفاءة الرافعة 88.7% فما المسافة التي تحركتها نهاية الرافعة من جهتك؟

مثال

توضيحي

$$e = \frac{F_r d_r}{F_e d_e} \times 100 \rightarrow d_e = \frac{F_r d_r}{F_e e} \times 100$$

$$\therefore d_e = \frac{1.25 \times 10^3 \times 13 \times 10^{-2}}{225 \times 88.7} \times 100 = 0.81 \text{ m}$$

## الآلات المركبة

تعريفها		{ الآلة التي تتكون من آليتين بسيطتين أو أكثر ترتبطان معًا }
فائدتها الميكانيكية	$MA = MA_1 \times MA_2$	<p><b>MA</b> الفائدة الميكانيكية للآلة المركبة</p> <p><b>MA<sub>1</sub></b> الفائدة الميكانيكية للآلة البسيطة الأولى</p> <p><b>MA<sub>2</sub></b> الفائدة الميكانيكية للآلة البسيطة الثانية</p>
فائدتها الميكانيكية المثالية	$IMA = IMA_1 \times IMA_2$	<p><b>IMA</b> الفائدة الميكانيكية المثالية للآلة المركبة</p> <p><b>IMA<sub>1</sub></b> الفائدة الميكانيكية المثالية للآلة البسيطة الأولى</p> <p><b>IMA<sub>2</sub></b> الفائدة الميكانيكية المثالية للآلة البسيطة الثانية</p>
تعمل		<p>عند صعود التل بلواجهة هوائية فإن السائق يزيد الفائدة الميكانيكية المثالية لها « <b>حلل</b> » وذلك لزيادة القوة التي يؤثر بها الدوالب في الطريق</p>

## آلة المشي البشرية

أنظمة الرفعات في جسم الإنسان	<ul style="list-style-type: none"> <li>• قضيب صلب « العظام ».</li> <li>• نقطة ارتكاز « المفاصل المتحركة بين العظام ».</li> <li>• مقاومة « وزن الجسم ».</li> <li>• مصدر قوة « العضلات ».</li> </ul>
تعمل	<p>في سباقات المشي يُؤرَّجح المشايق ويركَّه نحو الأعلى « <b>حلل</b> » وذلك لزيادة سرعته عن طريق زيادة طول الرافعة المكونة من عظام الساق</p>
فالتحان	<ul style="list-style-type: none"> <li>• الفائدة الميكانيكية لأنظمة الروافع عند طوال القامة أقل منها عند قصر القامة.</li> <li>• في سباقات المشي يستطيع طوال القامة المشي أسرع من قصر القامة.</li> </ul>

## الفصل ٤ : الطاقة وحفظها

### نظرية الشغل - الطاقة

قائدتان	<ul style="list-style-type: none"> <li>طاقة النظام تزيد بمقدار الشغل المبذول على النظام وتقص بمقدار الشغل الذي يبذره.</li> <li>الطاقة الحركية النهائية = الطاقة الحركية الابتدائية + الشغل المبذول على الجسم.</li> </ul>
الملاحة الرياضية	$W = \text{الشغل}$ $KE_f = \text{الطاقة الحركية النهائية}$ $KE_i = \text{الطاقة الحركية الابتدائية}$ $F = \text{متوسط القوة [N]}$ $d = \text{الإزاحة [m]}$ $m = \text{كتلة الجسم [kg]}$ $v = \text{سرعة الجسم [m/s]}$ <div style="border: 1px solid black; padding: 5px; margin: 10px 0;"> <math display="block">KE_f = KE_i + W</math> <math display="block">W = Fd</math> <math display="block">KE = \frac{1}{2}mv^2</math> </div>
مثال توضيحي	<p>سيارة كتلتها 875 kg زادت سرعتها من 22 m/s إلى 44 m/s عند تجاوزها سيارة أخرى؟ ما مقدار طاقتي حركتها الابتدائية والنهائية؟ وما الشغل المبذول عليها لزيادة سرعتها؟</p> $KE_i = \frac{1}{2}mv_i^2 = \frac{1}{2}(875)(22)^2 = 211750 \text{ J}$ $KE_f = \frac{1}{2}mv_f^2 = \frac{1}{2}(875)(44)^2 = 847000 \text{ J}$ $KE_f = KE_i + W \rightarrow W = KE_f - KE_i = 847000 - 211750 = 635250 \text{ J}$

### الطاقة الحركية

أنواعها	<ul style="list-style-type: none"> <li>طاقة حركية خطية.</li> <li>طاقة حركية دورانية.</li> </ul>
العوامل التي تعتمد عليها	<ul style="list-style-type: none"> <li>كتلة الجسم: تتناسب طاقة حركة الجسم طردياً مع كتلته.</li> <li>سرعة الجسم: تتناسب طاقة حركة الجسم طردياً مع مربع سرعته.</li> </ul>
نواكذ	<ul style="list-style-type: none"> <li>تعتمد طاقة الحركة الدورانية للجسم على سرعته الزاوية.</li> <li>محرك الشاحنة يذل شغلاً أكبر من شغل محرك السيارة الصغيرة عندما تسييران بنفس السرعة لأن كتلة الشاحنة أكبر.</li> </ul>

### أساسيات الطاقة المخزنة

أنواعها	<ul style="list-style-type: none"> <li>الطاقة الكيميائية</li> <li>الطاقة المخزنة بطرق ميكانيكية</li> <li>طاقة وضع الجاذبية ، طاقة الوضع المرورية</li> <li>الطاقة المخزنة في الوقود</li> </ul>
---------	---

طاقة وضع الجاذبية	{ طاقة مخزنة في النظام نتيجة تأثير قوة الجاذبية }
العوامل المؤثرة فيها	• وزن الجسم. • بعد الجسم عن مستوى الإسناد.
مستوى الإسناد	{ المستوى الذي تكون عنده طاقة الوضع = صفراً }
العلاقة الرياضية	$PE = mgh$ <p> <math>PE</math> طاقة وضع الجاذبية [J]  <math>m</math> كتلة الجسم [kg]  <math>g</math> تسارع الجاذبية الأرضية [<math>m/s^2</math>]  <math>h</math> الارتفاع الراسي عن مستوى الإسناد [m] </p>
فوائد	<ul style="list-style-type: none"> <li>• أثناء صعود الجسم تبتذل الجاذبية شغلاً سالباً يعطى من سرعته حتى يتوقف.</li> <li>• أثناء سقوط الجسم تبتذل الجاذبية شغلاً موجباً يزيد من سرعته.</li> </ul>
مثال توضيحي ١	<p>رفع طالب كتاباً كتلته 2.2 kg من فوق سطح طاولة ارتفاعها عن سطح الأرض 0.8 m ثم وضعه على رف الكتب الذي يرتفع عن سطح الأرض مسافة 2.1 m ؛ ما طاقة الوضع للكتاب بالنسبة لسطح الطاولة؟</p> $PE = mg(h_2 - h_1) = 2.2 \times 9.8(2.1 - 0.8) = 28J$
مثال توضيحي ٢	<p>إذا سقطت قطعة طوب كتلتها 1.8 kg من مدخنة ارتفاعها 6.7 m إلى سطح الأرض فما مقدار التغير في طاقة وضعها؟</p> $\Delta PE = mg(h_2 - h_1) = 1.8 \times 9.8(0 - 6.7) = -118.2J$
تحولات الطاقة	<ul style="list-style-type: none"> <li>• لحظة قذف الكرة يمتلك النظام طاقة حركية أما طاقة الوضع = صفراً.</li> </ul>
لكرة قذف رأسياً لأعلى	<ul style="list-style-type: none"> <li>• أثناء الصعود لأعلى تتحول طاقة الحركة تدريجياً إلى طاقة وضع.</li> <li>• عند أقصى ارتفاع يمتلك النظام طاقة وضع أما طاقة الحركة = صفراً.</li> </ul>

### أساسيات عن طاقة الوضع المرئية

تعريفها	{ طاقة مخزنة في الجسم المرين نتيجة تغير شكله }
من أمثلتها	• طاقة الوتر المشدود. • طاقة النابض المشدود. • طاقة منصبات القفز.
تحولات الطاقة	<ul style="list-style-type: none"> <li>• الشغل المبذول لسحب وتر القوس يُخزن على شكل طاقة وضع مرونية في الوتر.</li> <li>• عند إفلات الوتر تتحول طاقة وضعه المرئية إلى طاقة حركية فيندفع إلى الأمام.</li> </ul>
تحولات الطاقة	<ul style="list-style-type: none"> <li>• يركض اللاعب حاملاً عصا الزانة فيكتسب طاقة حركية.</li> <li>• عند ثني العصا يتحول جزء من الطاقة الحركية إلى طاقة وضع مرونية في العصا.</li> <li>• عندما تستقيم العصا تتحول طاقة الوضع المرئية إلى طاقة حركية فيرتفع اللاعب.</li> </ul>
بالزانة	

لماذا تتغير القفزة كثيرا في رياضة القفز بالزانة عند استبدال العصا الخشبية القاسية بعصا مصنوعة من الألياف الزجاجية؟	مثال توضيحي
يعتمد ارتفاع القفزة على مقدار طاقة الوضع المختزنة في عصا الزانة ..	
<ul style="list-style-type: none"> <li>العصا الخشبية القاسية يصعب انحنائها لذا يصعب بذل شغل عليها فلا تخزن طاقة وضع كبيرة.</li> <li>العصا المصنوعة من الألياف الزجاجية عالية المرونة يسهل انحنائها فتخزن طاقة وضع أكبر.</li> </ul>	
{ كتلة الجسم مضروبة في مربع سرعة الضوء }	الطاقة السكونية
$E_0 = mc^2$	الملاحة الرياضية
$E_0$ الطاقة السكونية [J] $m$ الكتلة [kg] $c$ سرعة الضوء [m/s]	

### قانون حفظ الطاقة

{ في النظام المعزول المطلق الطاقة لا تضي ولا تستحدث }	نصه
{ النظام الذي لا تؤثر فيه أي قوة خارجية }	النظام المعزول
{ النظام الذي لا يدخل إليه أو يخرج منه أي جسم }	النظام المغلق
{ مجموع الطاقة الحركية وطاقة وضع الجاذبية في النظام }	الطاقة الميكانيكية
$E = KE + PE$	الملاحة الرياضية
$E$ الطاقة الميكانيكية [J] $KE$ الطاقة الحركية [J] $PE$ طاقة وضع الجاذبية [J]	

### قانون حفظ الطاقة الميكانيكية

{ مجموع الطاقة الحركية وطاقة الوضع في النظام قبل وقوع الحدث تساوي مجموع الطاقة الحركية وطاقة الوضع في النظام بعد وقوع الحدث }	نصه
$KE_1$ الطاقة الحركية الابتدائية [J] $PE_1$ طاقة وضع الجاذبية الابتدائية [J] $KE_2$ الطاقة الحركية النهائية [J] $PE_2$ طاقة وضع الجاذبية النهائية [J] $W$ شغل القوة الخارجية [J]	$KE_1 + PE_1 = KE_2 + PE_2$ إذا أثرت قوة خارجية على النظام فإن .. $KE_1 + PE_1 + W = KE_2 + PE_2$
	العلاقات الرياضية

الزيادة في طاقة وضع النظام المغلق المعزول = النقص في طاقته الحركية	فائدة
<p>يقرب سائق دراجة من تل بسرعة 8.5 m/s ؛ فإذا كانت كتلة السائق والدراجة 85 kg فاحسب طاقة الحركة الابتدائية للنظام ، وإذا صعد السائق التل بالدراجة فاحسب الارتفاع الذي ستوقف عنده الدراجة بإهمال المقاومات.</p> $KE_1 = \frac{1}{2}mv_1^2 = \frac{1}{2}(85)(8.5)^2 = 3070.6 \text{ J}$ $KE_2 = 0 \quad , \quad PE_1 = 0$ $KE_1 + PE_1 = KE_2 + PE_2$ $3070.6 + 0 = 0 + mgh \Rightarrow h = \frac{3070.6}{mg} = \frac{3070.6}{85 \times 9.8} = 3.68 \text{ m}$	مثال توضيحي
تضاؤل تليذب البندول إلى أن يتوقف « <b>حطل</b> » بسبب وجود مقاومة الهواء يتحول جزء من الطاقة الميكانيكية إلى طاقة حرارية	تعليل

### التصادمات

أنواعها	• فوق المرن ، الانفجاري . • المرن . • عدم المرونة .
التصادم فوق المرن	{ التصادم الذي تزداد فيه الطاقة الحركية بعد التصادم عنها قبل التصادم }
التصادم المرن	{ التصادم الذي تبقى فيه الطاقة الحركية قبل التصادم ويمتد متساويتين }
التصادم عدم المرونة	{ التصادم الذي تقل فيه الطاقة الحركية بعد التصادم عنها قبل التصادم }
حفظ الزخم	<p> <math>p_{A1} + p_{B1} = p_{A2} + p_{B2}</math>                  حيث ..  <math>p = mv</math> </p> <p> <math>p_{A1}</math> زخم الجسم الأول قبل التصادم [kg.m/s]  <math>p_{B1}</math> زخم الجسم الثاني قبل التصادم [kg.m/s]  <math>p_{A2}</math> زخم الجسم الأول بعد التصادم [kg.m/s]  <math>p_{B2}</math> زخم الجسم الثاني بعد التصادم [kg.m/s]  <math>m</math> كتلة الجسم [kg] <math>v</math> سرعة الجسم [m/s]                 </p>
مثال توضيحي	<p>انطلقت رصاصة كتلتها 8 g نحو قطعة خشبية كتلتها 9 kg موضوعة على سطح طاولة فاستقرت فيها وتحركتا معاً كجسم واحد بسرعة 10 m/s ؛ ما مقدار السرعة الابتدائية للرصاصة؟</p> $m_A v_{A1} = (m_A + m_B) v_f$ $8 \times 10^{-2} v_{A1} = (8 \times 10^{-2} + 9)(10)$ $8 \times 10^{-2} v_{A1} = 90.08$ $v_{A1} = \frac{90.08}{8 \times 10^{-2}} = 11260 \text{ m/s}$

## الفصل ٥ : الطاقة الحرارية

### الطاقة الحرارية

تعريفها	{ مقياس للحركة الداخلية لجزيئات الجسم }
فوائدها	<ul style="list-style-type: none"> <li>• تمتلك جزيئات الغاز طاقة حركية خطية، طاقة حركية دورانية، طاقة وضع.</li> <li>• تنتقل الطاقة بين الجزيئات نتيجة تصادمها مع بعضها البعض.</li> <li>• الطاقة الكلية لجزيئات الغاز تسمى الطاقة الحرارية وتتناسب مع عدد الجزيئات.</li> </ul>
تعليل	يتمدد البالون المملوء بغاز الهيليوم عند تعرضه لأشعة الشمس <b>علل</b> لأن طاقة أشعة الشمس تجعل ذرات الغاز تتحرك أسرع فتصطدم بمدران البالون بمعدل أكبر

### درجة الحرارة

حدود درجات الحرارة	<ul style="list-style-type: none"> <li>• لدرجات الحرارة في الكون مدى واسع ..</li> <li>• لا يوجد حد أعلى لدرجات الحرارة.</li> <li>• يوجد حد أدنى لدرجات الحرارة يسمى الصفر المطلق ويساوي <math>-273^{\circ}\text{C}</math>.</li> </ul>
فائدة	<ul style="list-style-type: none"> <li>• درجة حرارة الجسم ..</li> <li>• تتناسب طردياً مع متوسط الطاقة الحركية للجزيئات فيه.</li> <li>• لا تعتمد على عدد الجزيئات فيه.</li> </ul>
متوسط طاقة حركة جزيئات الجسم	<ul style="list-style-type: none"> <li>• متوسط طاقة جزيئات الجسم الساخن أكبر من متوسط طاقة جزيئات الجسم البارد.</li> <li>• متوسط طاقة حركة الجزيئات في الجسم يساوي قسمة الطاقة الحركية الكلية للجسم على عدد الجزيئات في هذا الجسم.</li> </ul>

### مقاييس الحرارة « أجهزة قياس الحرارة »

أنواعها	<ul style="list-style-type: none"> <li>• مقاييس الحرارة المتزلية: يتمدد الكحول الملون مشيراً إلى درجة الحرارة.</li> <li>• مقاييس الحرارة السائلة - البلورية: يتغير لون البلورة بتغير ترتيب السوائل البلورية مشيراً إلى درجة الحرارة.</li> <li>• مقاييس الحرارة العنقودية: تستخدم دوائر إلكترونية حساسة للحرارة.</li> <li>• مقاييس الحرارة في عرصات المركبات: تستخدم دوائر إلكترونية حساسة للحرارة.</li> </ul>
---------	---

## أنظمة قياس درجة الحرارة

أنواع أنظمة القياس	النظام	الوحدة	درجة تجمد الماء	درجة غليان الماء عند مستوى سطح البحر
أنظمة القياس	سلسيوس	°C	0	100
	فهرنهايت	F	32	212
	كلفن	K	273	373
فائدة	<p>عند تبريد غاز مثالي إلى درجة الصفر المطلق ..</p> <ul style="list-style-type: none"> <li>• تتلاشى الفراغات بين اللرات.</li> <li>• تفقد ذرات الغاز المثالي طاقتها كاملة.</li> <li>• حجم الغاز المثالي مساو لحجم ذرات هذا الغاز.</li> </ul>			
العلاقة الرياضية	$T_K = T_C + 273$		$T_K$ درجة الحرارة حسب مقياس كلفن [K]	$T_C$ درجة الحرارة حسب مقياس سلسيوس [°C]
مثال توضيحي	<p>حول درجة الحرارة °C 5 إلى كلفن ودرجة الحرارة K 34 إلى السلسيوس.</p> $T_K = T_C + 273 = 5 + 273 = 278 \text{ K}$ $T_K = T_C + 273 \Rightarrow T_C = T_K - 273 = 34 - 273 = -239 \text{ °C}$			

## الحرارة

تعريفها	{ الطاقة التي تتدفق من الجسم الساخن إلى الجسم البارد تلقائياً }
إشارتها	+ إذا امتص الجسم حرارة - إذا بعث الجسم الحرارة
طرق انتقال الحرارة	الوسط الناقل
	المواد الصلبة
	السوائل والغازات
	الفراغ
التوصيل الحراري	طريقة انتقال الحرارة
	التوصيل الحراري
الحمل الحراري	التوصيل الحراري
	الإشعاع الحراري
كيف يحدث؟	{ عملية نقل الطاقة الحركية عند تصادم الجزيئات بعضها ببعض } عند تسخين طرف قضيب معدني فإن الطرف الأخرى للقضيب يسخن أيضاً « حلل » بسبب انتقال الطاقة الحرارية عند تصادم الجزيئات المتلامسة بعضها ببعض
الحمل الحراري	{ حركة المائع في السائل أو الغاز بسبب اختلاف درجات الحرارة }
الإشعاع الحراري	{ انتقال الطاقة الحرارية بوساطة الموجات الكهرومغناطيسية في الفراغ }



## الحرارة النوعية

تعريفها	{ كمية الطاقة التي تكتسبها المادة لترتفع درجة حرارتها وحدة الكتلة من المادة درجة واحدة }
ذاتية	تزداد درجة حرارة الجسم عند تدفق الحرارة إليه وتعتمد الزيادة على .. • حجم الجسم. • طبيعة المادة التي يتكوّن منها الجسم.
تعليل	رمل الشاطئ يسخن أسرع من ماء البحر « <b>حلم</b> » لأن الحرارة النوعية للرمل أقل منها للماء

## الطاقة الحرارية المكتسبة والمفقودة

العوامل المؤثرة فيها • كتلة الجسم. • التغير في درجة حرارة الجسم. • الحرارة النوعية لمادة الجسم.	
الملاكمة الرياضية	$Q = mc(T_f - T_i)$ <p>Q الطاقة الحرارية المكتسبة أو المفقودة [J]    <math>T_f</math> درجة الحرارة النهائية [K]  <math>m</math> كتلة الجسم [kg]    <math>T_i</math> درجة الحرارة الابتدائية [K]  <math>c</math> الحرارة النوعية للمادة [J/kg.K]</p>
مثال توضيحي	<p>عندما تفتح صنبور الماء الساخن لغسل الأواني فإن أنابيب المياه تسخن؛ ما كمية الحرارة التي يمتصها أنبوب كتلته 2.3 kg وحرارته النوعية 385 J/kg.°C عندما ترتفع درجة حرارته من 20 °C إلى 80 °C ؟</p> $Q = mc(T_f - T_i) = (2.3)(385)(80 - 20) = 53130 \text{ J}$
تكاليف استخدام الطاقة الكهربائية	<p>تكاليف الاستخدام [ريال]  Q الطاقة الحرارية [J]  السعر [ريال]</p> $\text{تكاليف الاستخدام} = \frac{Q \times \text{السعر}}{3.6 \times 10^6}$
مثال توضيحي	<p>تبيع شركات الكهرباء كل 1 kWh بمبلغ 0.15 ريال؛ ما تكلفة تسخين 75 kg ماء من درجة 15 °C إلى 43 °C ؟ إذا علمت أن الحرارة النوعية للماء 4180 J/kg.°C .</p> $Q = mc(T_f - T_i) = (75)(4180)(43 - 15) = 7837500 \text{ J}$ $\text{تكاليف الاستخدام} = \frac{Q \times \text{السعر}}{3.6 \times 10^6} = \frac{7837500 \times 0.15}{3.6 \times 10^6} = 0.326 \text{ ريال}$

## المسهر

تعريفه	{ أداة تستخدم لقياس التغير في الطاقة الحرارية }	مبدأ عمله	مبدأ حفظ الطاقة
استخداماته	• قياس التغير في الطاقة الحرارية. • قياس محتوى الأطعمة من الطاقة.		

<p>{ تكون الطاقة الحرارية في النظام المغلق والمعزول للجسم الأول مضافاً إليها الطاقة الحرارية للجسم الثاني مقداراً ثابتاً }</p>		<p>مبدأ حفظ الطاقة</p>
<p>[J] الطاقة الحرارية للجسم A <math>E_A</math></p>	<p>ثابت <math>E_A + E_B =</math></p>	<p>الملاحة الرياضية</p>
<p>[J] الطاقة الحرارية للجسم B <math>E_B</math></p>		

### الاتزان الحراري

<p>{ الحالة التي يتساوى عندها معدلًا لتدفق الطاقة بين جسمين متلامسين }</p>		<p>تعريفه</p>
<p>نظام مغلق ومعزول مكون من جسمين متلامسين الأول ساخن والآخر بارد ..</p> <ul style="list-style-type: none"> <li>تتدفق الحرارة من الجسم الساخن إلى الجسم البارد فتتقص طاقة الأول وتزيد طاقة الثاني بالمقدار نفسه.</li> <li>التغير في طاقة الجسم الساخن <b>سالب</b> والتغير في طاقة الجسم البارد <b>موجب</b>.</li> <li>تتقص درجة حرارة الجسم الساخن وتزيد درجة حرارة الجسم البارد.</li> <li>عند الاتزان درجة الحرارة النهائية للجسم الأول تساوي درجة الحرارة النهائية للجسم الثاني وتساوي درجة الحرارة النهائية للنظام.</li> </ul>		
<p><math>T_f</math> درجة الحرارة النهائية للنظام [K]</p> <p><math>A, B</math> الجسمين المتلامسين</p> <p><math>m</math> كتلة الجسم [kg]</p> <p><math>C</math> الحرارة النوعية للمادة [J/kg.K]</p> <p><math>T</math> درجة حرارة الجسم [K]</p>	<p><math display="block">T_f = \frac{m_A C_A T_A + m_B C_B T_B}{m_A C_A + m_B C_B}</math></p> <p>جسمين من النوع نفسه ولهما الكتلة نفسها ..</p> <p><math display="block">T_f = \frac{T_A + T_B}{2}</math></p>	<p>درجة الحرارة النهائية للنظام عند الاتزان</p>
<p>إذا خلطت عينة ماء كتلتها <math>2 \times 10^2</math> g ودرجة حرارتها <math>80^\circ\text{C}</math> مع عينة ماء كتلتها <math>2 \times 10^2</math> g ودرجة حرارتها <math>10^\circ\text{C}</math> فما درجة الحرارة النهائية للخليط؟</p> <p><math display="block">T_f = \frac{T_A + T_B}{2} = \frac{80 + 10}{2} = 45^\circ\text{C}</math></p>		<p>مثال توضيحي</p>

### تغير حالة المادة

<p>{ تغير الشكل والطريقة التي تُخترنُ الذرات بوساطتها الطاقة الحرارية }</p>		<p>تعريفه</p>
<p>حالات للمادة • الصلبة. • السائلة. • الغازية.</p>		
<p>{ درجة الحرارة التي تتغير عندها المادة من الحالة الصلبة إلى الحالة السائلة }</p>		<p>درجة الانصهار</p>

درجة الغليان	{ درجة الحرارة التي تتغير عندها المادة من الحالة السائلة إلى الحالة الغازية }
تمليان	<ul style="list-style-type: none"> <li>• أثناء عملية انصهار المادة الصلبة تبقى درجة الحرارة ثابتة ، <b>همل</b> ، لأن الطاقة الحرارية المكتسبة لا تؤدي إلى زيادة الطاقة الحركية للجزيئات.</li> <li>• أثناء عملية غليان المادة السائلة تبقى درجة الحرارة ثابتة ، <b>همل</b> ، لأن الطاقة الحرارية المكتسبة لا تؤدي إلى زيادة الطاقة الحركية للجزيئات.</li> </ul>
ذائقتان	<ul style="list-style-type: none"> <li>• بعد تحول المادة الصلبة كلياً إلى سائل فإن الطاقة الحرارية المكتسبة تؤدي إلى زيادة الطاقة الحركية للجزيئات فترتفع درجة حرارة السائل.</li> <li>• بعد تحول المادة السائلة كلياً إلى بخار فإن الطاقة الحرارية المكتسبة تؤدي إلى زيادة الطاقة الحركية للجزيئات فترتفع درجة حرارة البخار.</li> </ul>

### أساسيات عن الحرارة الكامنة للانصهار

تعريفها	{ كمية الطاقة اللازمة لتحويل 1 kg من المادة الصلبة إلى السائلة عند درجة الانصهار }
فائدة	الحرارة المفقودة عند التجمد = - الحرارة المكتسبة عند الانصهار
العلاقة الرياضية	$Q = mH_f$ <p>Q الحرارة اللازمة لصبور الكتلة الصلبة [J] m الكتلة الصلبة من المادة [kg] H<sub>f</sub> الحرارة الكامنة لانصهار المادة الصلبة [J/kg]</p>
مثال توضيحي	<p>كانت إحدى طرق التبريد قديماً باستخدام لوح من الجليد كتلته 20 kg في صندوق الجليد المتلي؛ فإذا كانت درجة حرارة الجليد 0 °C فما مقدار الحرارة التي يمتصها القالب أثناء انصهاره؟ علماً أن الحرارة الكامنة لانصهار الجليد <math>3.34 \times 10^5</math> J/kg .</p> $Q = mH_f = (20)(3.34 \times 10^5) = 6.6810^6 \text{ J}$

### أساسيات عن الحرارة الكامنة للتبخير

تعريفها	{ كمية الطاقة اللازمة لتحويل 1 kg من المادة السائلة إلى الغازية عند درجة الغليان }
فائدة	ميل العلاقة البيانية بين درجة حرارة المادة والحرارة التي تكتسبها مقلوب الحرارة النوعية للمادة
العلاقة الرياضية	$Q = mH_v$ <p>Q الحرارة اللازمة لتبخير السائل [J] m كتلة السائل [kg] H<sub>v</sub> الحرارة الكامنة للتبخير [J/kg]</p>
فائدة	الحرارة المفقودة عند التكثف = - الحرارة المكتسبة عند التبخر

مثال توضيحي	لماذا يشعر الشخص ببرودة السوائل سريعة التبخر على الجلد؟ لأنها تمتص الطاقة اللازمة للتبخير من الجلد فتتخفض درجة حرارة الجلد
----------------	---

## القانون الأول للديناميكا الحرارية

تعريفه	{ التغير في الطاقة الحرارية لجسم يساوي مقدار الحرارة المضافة إلى الجسم مطروحاً منه الشغل الذي يبذله الجسم }
فائدة	يُعد القانون الأول للديناميكا الحرارية صياغة أخرى لقانون حفظ الطاقة
قانون حفظ الطاقة	{ الطاقة لا تخلق ولا تستحدث وإنما تتغير من شكل إلى آخر }
العلاقة الرياضية	$\Delta U = Q - W$ <p> <math>\Delta U</math> التغير في الطاقة الحرارية [J]  <math>Q</math> الحرارة المضافة [J]  <math>W</math> الشغل الذي يبذله الجسم [J]         </p>
مثال توضيحي	بالون غازي يمتص 75 J من الحرارة؛ فإذا تمدد البالون وبقي عند درجة الحرارة نفسها فما مقدار الشغل الذي يبذله البالون أثناء تمدده؟ $\Delta U = 0 \Rightarrow W = Q = 75 \text{ J}$

## المحرك الحراري

تعريفه	{ أداة تُحوّل الطاقة الحرارية إلى طاقة ميكانيكية بصورة مستمرة }
من أمثاله	محرك الاحتراق الداخلي « محرك السيارة »
كفاءته	{ النسبة بين الشغل الناتج وكمية الحرارة الداخلة }
تعليل	لا تصل كفاءة المحرك الحراري إلى 100% « <b>هلال</b> » لوجود حرارة مفقودة دائماً
العلاقات الرياضية	$\text{كفاءة المحرك} = \frac{W}{Q_H} \times 100\%$ $\text{الحرارة الضائعة} = Q_H - W$ <p> <math>W</math> الشغل الناتج [J]  <math>Q_H</math> كمية الحرارة الداخلة [J]  الحرارة الضائعة [J]         </p>
مثال توضيحي	احسب كفاءة محرك ينتج 2200 J/s عندما يحرق من البنزين ما يكفي لإنتاج 5300 J/s ، وما مقدار كمية الحرارة الضائعة التي ينتجها المحرك كل ثانية؟ $\text{كفاءة المحرك} = \frac{W}{Q_H} \times 100\% = \frac{2200}{5300} \times 100\% = 41.5\%$ $\text{الحرارة الضائعة} = Q_H - W = 5300 - 2200 = 3100 \text{ J/s}$

## المتغيرات - التلاجات

تعريفها	{ أداة تعمل على انتزاع الطاقة الحرارية من الجسم الأبرد وإضافتها إلى الجسم الأسخن ببذل شغل معين }
المفخة الحرارية	{ أداة تعمل في اتجاهين تستخدم الطاقة الميكانيكية لنقل الحرارة من الحيز الذي درجة حرارته أقل إلى الحيز الذي درجة حرارته أكبر }
تعليق	تعدّ المفخة الحرارية مبرّدة يعمل في اتجاهين « حلال » لتبريدها المنزل صيفاً وتدفئته شتاءً

## الإنتروبي

تعريفه	{ مقياس للفوضى « العشوائية » في النظام }
فاكتانان	<ul style="list-style-type: none"> <li>• يزداد الإنتروبي عند إضافة حرارة إلى الجسم وينقص عند نزح حرارة من الجسم.</li> <li>• لا يتغير الإنتروبي إذا بَدَل الجسم شيئاً دون أن تتغير درجة الحرارة.</li> </ul>
التغير في الإنتروبي	{ مقدار الحرارة المضافة إلى جسم مقسومة على درجة حرارة ذلك الجسم }
العلاقة الرياضية	$\Delta S = \frac{Q}{T}$ <p> <math>\Delta S</math> التغير في الإنتروبي [J/K]  <math>Q</math> كمية الحرارة المضافة إلى الجسم [J]  <math>T</math> درجة حرارة الجسم [K]         </p>
مثال توضيحي	<p>يستخدم سخان ماء قدرته <math>3 \times 10^2 \text{ W}</math> لتسخين قنح ماء زجاجي كتلته <math>0.3 \text{ kg}</math> ويجوي <math>0.25 \text{ kg}</math> ماء درجة حرارته <math>15^\circ \text{C}</math> فما الزمن اللازم لجعل الماء يغلي؟ علماً أن الحرارة النوعية للزجاج <math>840 \text{ J/kg}^\circ\text{C}</math> وللماء <math>4180 \text{ J/kg}^\circ\text{C}</math>.</p> $Q = (m_1 c_1 + m_2 c_2)(T_f - T_i)$ $Q = (0.25 \times 4180 + 0.3 \times 840)(100 - 15) = 110245 \text{ J}$ $t = \frac{Q}{P} = \frac{110245}{3 \times 10^2} = 367.48 \text{ s}$

## القانون الثاني لديناميكا الحرارية

نصه	{ العمليات الطبيعية تجري في اتجاه المحافظة على الإنتروبي الكلي للكون أو زيادته }
-----	--

## الفصل ٦ : حالات المادة

### الضغط

تعريفه	{ القوة مقسومة على مساحة السطح } تصنيفه	كمية قياسية ، ليس لها اتجاه ،
العلاقة الرياضية	$P = \frac{F}{A}$	$P$ الضغط [Pa] ، $F$ القوة [N] ، $A$ مساحة السطح [m <sup>2</sup> ]
فائدة	كيلوياسكال = 1000 باسكال ، $Pa = N/m^2$	
مثال توضيحي	إذا كان الضغط الجوي عند مستوى سطح البحر $1 \times 10^5 Pa$ فما مقدار القوة التي يؤثر بها افواه عند مستوى سطح البحر على مكتب طوله 152 cm وعرضه 76 cm ؟ $A = 152 \times 10^{-2} \times 76 \times 10^{-2} = 0.1155 m^2$ $P = \frac{F}{A} \Rightarrow F = PA = (1 \times 10^5)(0.1155) = 1.155 \times 10^4 N$	
حالات المادة	صلبة ، سائلة ، غازية	
الحالة الصلبة	الكتلة ثابتة ، الشكل محدد	
الحالة السائلة	الكتلة ثابتة ، ليس لها شكل محدد ، لسطح العلوي شكل محدد ومستوي	
تعليل	ليس للسوائل شكل محدد « <b>حليل</b> » ، لأن السائل يتدفق ليأخذ شكل الإناء الذي يحويه.	
الحالة الغازية	ليس لها شكل محدد ، ليس لها سطح محدد	
تعليل	ليس للغازات شكل محدد « <b>حليل</b> » ، لأنه يتمدد ويتشتر ليملا الحيز الذي يحويه	

### الموائع

تعريفها	{ مواد سائلة أو غازية تتدفق وليس لها شكل محدد }	
الغاز المثالي والغاز الحقيقي	الغاز المثالي	الغاز الحقيقي
	جزئياته لا تشغل حيزاً	جزئياته تشغل حيزاً
جزئيات الغاز	ليس لجزئياته قوى تجاذب جزئية	لجزئياته قوى تجاذب جزئية
	<ul style="list-style-type: none"> <li>• تتحرك عشوائياً.</li> <li>• تخضع لتصادمات مرنة بعضها ببعض.</li> <li>• تتحرك بسرعة عالية.</li> <li>• يتغير زخمها عندما ترتطم بسطح الإناء وترتد عنه.</li> </ul>	
تعليل	يتولد ضغط للغاز على سطح الإناء الذي يحويه « <b>حليل</b> » بسبب الدفع الذي تؤثر به التصادمات العديدة لجزئيات الغاز مع سطح الإناء	

## الضغط الجوي

مقداره	يؤثر غاز الغلاف الجوي بقوة تساوي 10 N في كل $\text{cm}^2$ من سطح الأرض عند مستوى سطح البحر
فائلتان	<ul style="list-style-type: none"> <li>• ضغط الغلاف الجوي على الجسم يتعادل مع قوى الجسم المتجهة إلى الخارج.</li> <li>• الضغط الجوي الناتج عن أخففة الكواكب الغازية يختلف من كوكب إلى آخر.</li> </ul>

## قانون بويل

نصه	{ حجم هيئة الغاز يتناسب عكسيًا مع الضغط المؤثر عليه عند ثبوت درجة الحرارة }
العلاقة الرياضية	$P_1 V_1 = P_2 V_2$
	$P_1$ الضغط الابتدائي [Pa] $P_2$ الضغط النهائي [Pa] $V_1$ الحجم الابتدائي [ $\text{m}^3$ ] $V_2$ الحجم النهائي [ $\text{m}^3$ ]
مثال توضيحي	<p>مكبس مساحته <math>0.015 \text{ m}^2</math> يضغط كمية من الغاز في أسطوانة حجمها <math>0.23 \text{ m}^3</math> وضغطها <math>1.5 \times 10^5 \text{ pa}</math>؛ فإذا وضع جسم كتلته <math>150 \text{ kg}</math> على المكبس لتحرك في اتجاه الأسفل فما الحجم الجديد للغاز داخل الأسطوانة؟ بثبوت درجة الحرارة.</p> $P_{\text{جسم}} = \frac{F_g}{A} = \frac{mg}{A} = \frac{150 \times 9.8}{0.015} = 9.8 \times 10^4 \text{ Pa}$ $P_2 = P_1 + P_{\text{جسم}} = 1.5 \times 10^5 + 9.8 \times 10^4 = 2.48 \times 10^5 \text{ Pa}$ $P_1 V_1 = P_2 V_2 \Rightarrow V_2 = \frac{P_1 V_1}{P_2} = \frac{1.5 \times 10^5 \times 0.23}{2.48 \times 10^5} = 0.14 \text{ m}^3$
الصفر المطلق	{ درجة الحرارة التي يصبح عندها حجم الغاز مساويًا للصفر }

## قانون شارلز

نصه	{ عند ثبوت الضغط فإن حجم هيئة الغاز يتناسب طرديًا مع درجة حرارتها }
العلاقة الرياضية	$\frac{V_1}{T_1} = \frac{V_2}{T_2}$
	$V_1$ الحجم الابتدائي [ $\text{m}^3$ ] $T_1$ درجة الحرارة الابتدائية [K] $V_2$ الحجم النهائي [ $\text{m}^3$ ] $T_2$ درجة الحرارة النهائية [K]
مثال توضيحي	<p>مقياس الحرارة ذو الضغط الثابت مصنوع من أسطوانة محوي مكبسيًا يتحرك بحرية داخل الأسطوانة ويبقى كل من الضغط وكمية الغاز داخل الأسطوانة ثابتين، وعندما ترتفع أو تنخفض درجة الحرارة يتحرك المكبس إلى أعلى أو أسفل الأسطوانة؛ فإذا كان ارتفاع المكبس في الأسطوانة <math>20 \text{ cm}</math> عند <math>0^\circ \text{C}</math> فما ارتفاع المكبس عند درجة حرارة <math>100^\circ \text{C}</math>؟</p> $\frac{V_1}{T_1} = \frac{V_2}{T_2}$ $\frac{A h_1}{T_1} = \frac{A h_2}{T_2} \Rightarrow h_2 = \frac{h_1 T_2}{T_1} = \frac{20 \times 10^{-2} \times (100 + 273)}{(0 + 273)} = 0.273 \text{ m}$

## القانون العام للغازات

<p>{ لكمية معينة من الغاز المثالي يكون حاصل ضرب ضغط الغاز في حجمه مقسومًا على درجة حرارته بوحدة الكلفن يساوي قيمة ثابتة }</p>		نصه
<p><math>P_1</math> الضغط الابتدائي [Pa]      <math>P_2</math> الضغط النهائي [Pa]</p> <p><math>V_1</math> الحجم الابتدائي [m<sup>3</sup>]      <math>V_2</math> الحجم النهائي [m<sup>3</sup>]</p> <p><math>T_1</math> درجة الحرارة الابتدائية [K]      <math>T_2</math> درجة الحرارة النهائية [K]</p>	$\text{ثابت} = \frac{P_1 V_1}{T_1}$ $\frac{P_1 V_1}{T_1} = \frac{P_2 V_2}{T_2}$	العلاقة الرياضية
<p>يستخدم خزان من غاز الهيليوم ضغطه <math>15.5 \times 10^6</math> Pa ودرجة حرارته <math>293</math> K لتضخ بالون؛ فإذا كان حجم الخزان <math>0.02</math> m<sup>3</sup> فأحسب حجم البالون إذا امتلأ عند <math>1</math> ضغط جوي ودرجة حرارة <math>323</math> K إذا كان الضغط الجوي <math>10.13 \times 10^4</math> Pa.</p>		مثال توضيحي
$\frac{P_1 V_1}{T_1} = \frac{P_2 V_2}{T_2} \Rightarrow V_2 = \frac{P_1 V_1 T_2}{T_1 P_2} = \frac{15.5 \times 10^6 \times 0.02 \times 323}{293 \times 1 \times 10.13 \times 10^4} = 3.37 \text{ m}^3$		

## قانون الغاز المثالي

<p>{ للغاز المثالي يكون حاصل ضرب ضغط الغاز في حجمه يساوي عدد المولات مضروبًا في ثابت بولتزمان ودرجة حرارته بوحدة الكلفن }</p>		نصه
<p><math>n</math> عدد المولات [mol]      <math>P</math> ضغط الغاز المثالي [Pa]</p> <p><math>T</math> درجة الحرارة [K]      <math>V</math> حجم الغاز المثالي [m<sup>3</sup>]</p> <p><math>R</math> ثابت بولتزمان [Pa.m<sup>3</sup>/mol.K]</p>	$PV = nRT$	العلاقة الرياضية
<p>{ عدد الجزيئات في عينة من المادة كتلتها تساوي الكتلة المولية من المادة }</p>		عدد أفوجادرو
<p><math>n</math> عدد المولات [mol]      <math>m</math> كتلة المادة [g]      <math>M</math> الكتلة المولية [g/mol]</p>	$n = \frac{m}{M}$	عدد المولات
<p>ما مقدار كتلة غاز الهيليوم الذي ضغطه <math>15.5 \times 10^6</math> Pa ودرجة حرارته <math>293</math> K وموضوع في خزان حجمه <math>0.02</math> m<sup>3</sup> ؟ إذا علمت أن الكتلة المولية للهيليوم <math>4</math> g/mol ومقدار ثابت بولتزمان <math>8.31</math> Pa.m<sup>3</sup>/mol.K.</p>		مثال توضيحي
$PV = nRT \Rightarrow n = \frac{PV}{RT} = \frac{15.5 \times 10^6 \times 0.02}{8.31 \times 293} = 127.3 \text{ mol}$ $n = \frac{m}{M} \Rightarrow m = nM = 4 \times 127.3 = 509.3 \text{ g}$		



## التمدد الحراري

تعريفه	{ خاصية للمواد في جميع حالاتها تسبب تمدد المادة فتصبح أقل كثافة عند التسخين }
تطبيقاته	دوران الهواء في الغرفة   تيار الحمل   دوران الهواء في الغرفة {
فأله	تمدد السوائل بدرجة أكبر من المواد الصلبة وأقل من المواد الغازية
تعليلات	<ul style="list-style-type: none"> <li>• يطفو الثلج فوق سطح الماء   <b>حلل</b>   لأن كثافته عند درجة حرارة <math>4^{\circ}\text{C}</math> أقل من كثافة الماء.</li> <li>• تنخفض كثافة الماء عند تسخينه من <math>0^{\circ}\text{C}</math> إلى <math>4^{\circ}\text{C}</math>   <b>حلل</b>   لتزايد قوى الترابط بين جزيئاته.</li> <li>• يزيد حجم الماء عندما ترتفع درجة حرارته فوق <math>4^{\circ}\text{C}</math>   <b>حلل</b>   بسبب تزايد الحركة الجزيئية.</li> </ul>

## البلازما

تعريفها	{ حالة من حالات الموائع يكون فيها المائع شبه غاز ويتكون من إلكترونات سالبة وأيونات موجبة بحيث توصل الكهرباء }
توصيلها للكهرباء	لبلازما القدرة على التوصيل الكهربائي ، أما الغازات فليس لها القدرة على ذلك

## خاصية التوتر السطحي

تعريفها	{ ميل سطح السائل إلى التقلص لأقل مساحة ممكنة }
سببها	قوى التماسك بين جزيئات المائع
من أمثلتها	<ul style="list-style-type: none"> <li>• الزيتق يشكل قطرات كروية حين يوضع على سطح مصقول.</li> <li>• سير بعوضه الماء على سطح الماء.</li> </ul>
تعليلان	<ul style="list-style-type: none"> <li>• تتمكن بعوضه الماء من السير على سطح الماء   <b>حلل</b>   لأن جزيئات الماء عند السطح لها قوة تجاذب محصلة في اتجاه الداخل تولد التوتر السطحي.</li> <li>• تُكوّن خاصية التوتر السطحي للسائل قطرات كروية   <b>حلل</b>   لأن الشكل الكروي هو الشكل الذي له أقل مساحة سطح لحجم معين.</li> </ul>
قوى التماسك	{ قوى تجاذب كهرومغناطيسية تؤثر بين جزيئات المادة الواحدة }
تعليلان	<ul style="list-style-type: none"> <li>• التوتر السطحي للزيتق أكبر من التوتر السطحي للماء   <b>حلل</b>   لأن قوى التماسك بين جزيئات الزيتق أكبر من قوى التماسك بين جزيئات الماء.</li> <li>• تتسطح قطرات الكحول والإيثر على السطح المصقول   <b>حلل</b>   لأن قوى التماسك بين جزيئاتها ضعيفة.</li> </ul>

## اللزوجة

تعريفها	{ مقياس للاحتكاك الداخلي للمائع }
أسبابها	• قوى التماسك بين جزيئات المائع. • التصاحبات بين جزيئات المائع.
ينتج عنها	• احتكاك داخلي يعمل على إبطاء تدفق المائع. • تبديد الطاقة الميكانيكية.
تعليل	تستخدم في المحركات زيوت عالية اللزوجة « <b>حلل</b> » كي تتدفق ببطء على الأجزاء المعنية للمحرك فتقلل من احتكاكها بعضها ببعض
تأثيرات	• من أكثر الموائع لزوجة اللابة والصخور المتصهرة التي تتدفق من البراكين. • لزوجة اللابة تختلف باختلاف تركيبها ودرجة حرارتها.

## قوى التلاصق

قوى التلاصق	{ قوى تجاذب كهرومغناطيسية تؤثر بين جزيئات المواد المختلفة }
الخاصية الشعرية	• ارتفاع السوائل داخل الأنابيب الضيقة يُعزى إلى الخاصية الشعرية. • ترتفع السوائل في الأنابيب الضيقة عندما تكون قوى التلاصق بين جزيئات السائل والأنبوب أكبر من قوى التماسك بين جزيئات السائل. • ترتفع السوائل داخل الأنابيب الضيقة أكثر من ارتفاعها داخل الأنابيب الواسعة.
من تطبيقاتها	• ارتفاع الوقود في فتيلة القنديل. • ارتفاع الماء في جذور النبات.
تعليل	لا يرتفع الزيت في الأنابيب الضيقة « <b>حلل</b> » لأن قوى التماسك بين جزيئات الزيت أكبر من قوى التلاصق بين الزيت وسطح الزجاج

## التبخر والتكاثف

التبخر	{ نفاذ الجزيئات المتحركة خلال الطبقة السطحية للسائل عند امتلاكها طاقة مناسبة }
السوائل المتطايرة	{ السوائل التي تتبخر بسرعة وسهولة بسبب ضعف قوة التماسك بين جزيئاتها }
تعليل	يؤدي التبخر إلى خفض درجة حرارة السائل في الإناء « <b>حلل</b> » بسبب انخفاض متوسط الطاقة الحركية للجزيئات المتبقية في الإناء فتتخفض درجة الحرارة
التكاثف	تحوّل البخار إلى سائل عند تبريده
تكون الضباب	عندما يبرد الهواء الرطب الملامس لسطح الأرض يتكاثف بخار الماء في الجوف مكوناً صحابة من قطرات الماء تسمى الضباب

## مبدأ باسكال

نصه { التغيير في الضغط المؤثر عند أي نقطة في السائل المحصور ينتقل إلى جميع النقاط بالتساوي }		
تعمل أنظمة الرفع الهيدروليكية وفقاً لمبدأ باسكال؛ ومن أمثلتها ..		
العملية • المكبس الهيدروليكي. • الرافعة الهيدروليكية. • كراسي أطباء الأسنان.		
$F_1$ القوة التي يؤثر بها المكبس الأول [N] $F_2$ القوة المؤثرة على المكبس الثاني [N] $A_1$ مساحة المكبس الأول [m <sup>2</sup> ] $A_2$ مساحة المكبس الثاني [m <sup>2</sup> ]	$\frac{F_1}{A_1} = \frac{F_2}{A_2}$	
كراسي أطباء الأسنان مثال على النظام الهيدروليكي؛ ما مقدار القوة التي يجب أن تؤثر في المكبس الصغير الذي مساحته 72 cm <sup>2</sup> لرفع الكرسي الذي يزن 1600 N ويرتكز على مكبس مساحته 1440 cm <sup>2</sup> ؟		مثال توضيحي
$\frac{F_1}{A_1} = \frac{F_2}{A_2} \Rightarrow F_1 = \frac{F_2 A_1}{A_2} = \frac{72 \times 1600}{1440} = 80 \text{ N}$		
إذا عصرت إحدى نهايتي بالون فإن النهاية الأخرى تنتفخ « <b>حلل</b> » بسبب انتقال الضغط المؤثر إلى النهاية الأخرى وذلك حسب مبدأ باسكال		تعليل

## ضغط المائع

تعريفه { وزن عمود المائع مقسوماً على مساحة المقطع العرضي لعمود المائع }		
منشأه قوة الجاذبية التي ترتبط مع وزن المائع   اتجاهه يضغط المائع على الجسم في جميع الاتجاهات		
فائدة ضغط المائع على سطح القمر عند أي عمق يعادل $\frac{1}{3}$ قيمته على سطح الأرض		
$P$ ضغط المائع [Pa] $h$ عمق المائع [m] $\rho$ كثافة المائع [kg/m <sup>3</sup> ] $g$ تسارع الجاذبية [m/s <sup>2</sup> ]	$P = \rho h g$	العلاقة الرياضية
فائدة يعتمد ضغط المائع على: كثافة المائع ، عمق المائع ، تسارع الجاذبية		
ما عمق وعاء من الماء المضغوط عند قاعه يساوي قيمة الضغط في قاع وعاء مملوء بالزئبق وعمقه 0.1 m ؟ علماً أن كثافة الزئبق تزيد 13.55 مرة على كثافة الماء.		مثال توضيحي
$\begin{aligned} \rho_1 h_1 g &= \rho_2 h_2 g \\ \rho_1 h_1 &= 13.55 \rho_1 \times 0.1 \\ \rho_1 h_1 &= 13.55 \rho_1 \times 0.1 \\ \therefore h_1 &= 1.355 \text{ m} \end{aligned}$		

يزداد ضغط الماء على جسمك إذا غطست إلى أعماق أكبر ، **هلل** ، بسبب زيادة كمية الماء فوق جسمك فيكون وزن الماء أكبر كلما زاد العمق

تعليل

### قوة الطفو

تعرينها	{ القوة الرأسية المؤثرة في الجسم المغمور في مائع إلى أعلى }	
مشوها	زيادة الضغط الناجمة عن زيادة العمق	اتجاهها قوة رأسية إلى الأعلى
العلاقة الرياضية	$\text{وزن المزاح المائع} = \text{قوة الطفو}$ $F_{\text{طفو}} = \rho_{\text{تلك}} V g$	$F_{\text{الطفو}}$ قوة الطفو [N] $\rho$ كثافة المائع [kg/m <sup>3</sup> ] $V$ حجم الجسم المغمور في المائع [m <sup>3</sup> ] $g$ تسارع الجاذبية الأرضية [m/s <sup>2</sup> ]
القوى المؤثرة على جسم مغمور في مائع	محصلة القوى الأفقية = صفرًا لأن القوى المؤثرة في الجوانب الأربعة العمودية متساوية في جميع الاتجاهات	محصلة القوى العمودية = قوة الطفو لأن القوة العمودية إلى أعلى المؤثرة في قاع الجسم أكبر من القوة العمودية إلى أسفل المؤثرة في سطحه العلوي

### مبدأ أرخميدس

نصه	{ الجسم المغمور في مائع تؤثر فيه قوة رأسية إلى أعلى تساوي وزن المائع المزاح }	
العلاقة الرياضية	$F_{\text{الطفو}} = F_g - F_{\text{الظاهري}}$	$F_{\text{الطفو}}$ قوة الطفو [N] $F_g$ الوزن الحقيقي في الهواء [N] $F_{\text{الظاهري}}$ وزن الجسم المغمور في المائع [N]
مثال توضيحي	<p>إن كثافة القرميد الشائع الاستخدام أكبر 1.8 من كثافة الماء ، ما الوزن الظاهري لقلب من القرميد حجمه 0.2 m<sup>3</sup> تحت الماء؟ علمًا أن كثافة الماء 10<sup>3</sup> kg/m<sup>3</sup> .</p> $F_g = \rho_{\text{القرميد}} V g = 1.8 \times 10^3 \times 0.2 \times 9.8 = 3528 \text{ N}$ $F_{\text{الطفو}} = \rho_{\text{الماء}} V g = 10^3 \times 0.2 \times 9.8 = 1960 \text{ N}$ $F_{\text{الظاهري}} = F_g - F_{\text{الطفو}} = 3528 - 1960 = 1865 \text{ N}$	
متى يطفئ الجسم؟ ومتى يطفو؟	يطفئ	يقتل
	كثافة الجسم < كثافة المائع	كثافة الجسم = كثافة المائع
	وزن الجسم < قوة الطفو	وزن الجسم = قوة الطفو
	كثافة الجسم > كثافة المائع	كثافة الجسم > كثافة المائع
	وزن الجسم > قوة الطفو	وزن الجسم > قوة الطفو

• الوزن الظاهري لجسم مغمور في مائع أقل من وزنه الحقيقي.	الوزن الظاهري
• الوزن الظاهري لجسم عالق في مائع = صفرًا.	الظاهري
• الوزن الظاهري للجسم = القوة المحصلة الرأسية إلى أسفل = كتاسب طردياً مع حجمه.	جسم مغمور
• حجم المائع المزاح بواسطة الجسم = حجم الجزء المغمور من الجسم في المائع.	في مائع
• تطفو السفينة المصنوعة من الفولاذ على سطح الماء « <b>هلل</b> » لأن جسم السفينة مفرغاً وكبيراً؛ لذا فمعدل كثافة السفينة أقل من كثافة الماء لذلك تطفو.	تطبيقات عملية على مبدأ
• الغواصات: تملأ حجراتها بالماء فيزداد معدل كثافة الغواصة فتغرس وعند تفرغها تطفو.	أرخميس
• الأسماك: لدى بعض الأسماك مثانة للعموم تقلصها لتغرس وتنفخها لتطفو.	

### مبدأ برنولي

{ عندما تزداد سرعة المائع يقل ضغطه }	نصه
مبدأ برنولي تمثيل لبدا حفظ الشغل والطاقة عند تطبيقه على الموائع	قاعدة
• مرش الطلاء. • مرذاذ العطر. • المازج في محرك البنزين.	تطبيقاته العملية
ينهار المتزل من الداخل إلى الخارج عندما يمر إعصار فوقه « <b>هلل</b> » وفقاً لبدا برنولي يقل الضغط خارج المتزل بسبب زيادة سرعة الهواء ويصبح الضغط داخل المتزل أكبر	تعليل
{ لخطوط التي تمثل تدفق الموائع حول الأجسام }	خطوط الانسياب
• إذا ضاقت المجرى تزداد السرعة فينقص الضغط فتتقارب خطوط الانسياب.	فوائد
• إذا كانت خطوط الانسياب دقيقة ومحددة كان التدفق انسيابياً	
• إذا تحركت خطوط الانسياب حركة ملتفة كان التدفق مضطرباً.	

### الأجسام الصلبة

المواد السائلة	المواد الصلبة	مقارنة بين المواد الصلبة والمواد السائلة
غير قاسية ولها خاصية التدفق	قاسية	
لا يمكن أن تقطع علة قطع	يمكن أن تقطع علة قطع	
لا تحفظ بشكلها	تحفظ بشكلها	
لا يمكن دفعها لأن اليد تتحرك خلالها	يمكن دفعها	

<p>{ غط ثابت ومتنظم يتشكل عندما تنخفض درجة حرارة السائل بحيث يقل متوسط الطاقة الحركية لجزيئاته }</p>		الشبكة البلورية									
<table border="1"> <tr> <td>المواد الصلبة غير البلورية</td> <td>المواد الصلبة البلورية</td> </tr> <tr> <td>سوائل لزجة بطيئة التدفق</td> <td>مواد صلبة متجمدة</td> </tr> <tr> <td>جزيئاتها ليس لها ترتيب منتظم</td> <td>جزيئاتها مصطفة بأطوار مرتبة ومنظمة</td> </tr> <tr> <td>لها حجم وشكل محددين</td> <td>لها حجم وشكل محددين</td> </tr> <tr> <td>مطافئ: الزيد ، الكوارتز الزجاجي</td> <td>مطافئ: الجليد ، الكوارتز البلوري</td> </tr> </table>	المواد الصلبة غير البلورية	المواد الصلبة البلورية	سوائل لزجة بطيئة التدفق	مواد صلبة متجمدة	جزيئاتها ليس لها ترتيب منتظم	جزيئاتها مصطفة بأطوار مرتبة ومنظمة	لها حجم وشكل محددين	لها حجم وشكل محددين	مطافئ: الزيد ، الكوارتز الزجاجي	مطافئ: الجليد ، الكوارتز البلوري	تصنيف المواد الصلبة
المواد الصلبة غير البلورية	المواد الصلبة البلورية										
سوائل لزجة بطيئة التدفق	مواد صلبة متجمدة										
جزيئاتها ليس لها ترتيب منتظم	جزيئاتها مصطفة بأطوار مرتبة ومنظمة										
لها حجم وشكل محددين	لها حجم وشكل محددين										
مطافئ: الزيد ، الكوارتز الزجاجي	مطافئ: الجليد ، الكوارتز البلوري										
<p>الكوارتز البلوري والكوارتز غير البلوري ..                  • تماثلان كيميائيًا.                  • خصائصهما الفيزيائية مختلفة.</p>											
<p>لماذا يُعد الشمع مادة صلبة؟ ولماذا يُعد أيضًا سائلًا لزجًا؟                  يُعدّ مادة صلبة لأن له حجمًا وشكلًا محددين وقوة التماسك بين جزيئاته كبيرة ؛ ويُعدّ سائلًا لزجًا لأن جزيئاته ليس لها ترتيب منتظم وحاله في ذلك مشابه للسوائل</p>											

### الضغط والتجمد

<p>المواد الصلبة أكثر كثافة من السوائل ؛ <b>حلول</b> ، لأن جزيئات المادة الصلبة عند تجمدها تعيد ترتيب نفسها لتصبح قريبة من بعضها أكثر مما كانت عليه في الحالة السائلة</p>	تعليل
<ul style="list-style-type: none"> <li>• درجة التجمد تزداد بزيادة الضغط على سطح السائل.</li> <li>• درجة تجمد الماء تنخفض قليلًا بزيادة الضغط على سطحه.</li> </ul>	الضغط والتجمد
<ul style="list-style-type: none"> <li>• تنخفض درجة تجمد الماء قليلًا بزيادة الضغط ؛ <b>حلول</b> ، لأن الماء يتمدد عند تجمده فإز الزيادة في الضغط تحير الجزيئات على الاقتراب بعضها من بعض لتقاوم التجمد.</li> <li>• تكون طبقة رقيقة من الماء السائل بين الزلاجات والجليد ؛ <b>حلول</b> ، لأن الطاقة الحرارية المتولدة نتيجة الاحتكاك بين الزلاجات والجليد كافية لصهر الجليد.</li> </ul>	تعليلان

### مرونة المواد الصلبة

<p>{ قدرة الأجسام الصلبة على العودة إلى شكلها الأصلي عند زوال تأثير القوى الخارجية }</p>	تعريفها
<ul style="list-style-type: none"> <li>• لا يعود الجسم إلى شكله الأصلي إذا حدث تشوه كبير لأنه قد تجاوز حد مرونته.</li> <li>• تعتمد المرونة على القوى الكهرومغناطيسية التي تحافظ على بقاء جزيئات المادة معًا.</li> </ul>	فألتان

- قابلية
- خاصيتان تعتمدان على تركيب المادة ومرونتها.
- الطرق
- اللهب قابل للطرق فيمكن تشكيله على صورة رقائق دقيقة جدًا.
- والسحب
- النحاس قابل للسحب فيمكن سحبه على شكل أسلاك.

## وصلات التمدد

تمريفها	{ فجوات صغيرة « فواصل » تترك بين أجزاء الجسور الخرسانية والفولاذية }			
تعليل	يترك المهندسون فجوات بين أجزاء الجسور الخرسانية والفولاذية « <b>حلل</b> » للسماح بتمدد أجزاء الجسر في أيام الصيف فلا يتقوس أو تتحطم أجزاؤه			
التمدد الحراري	تستخدم المواد المصممة لتمدد حراريًا بأقل ما يمكن في .. • صنع زجاج الأفران. • صنع مرايا التلسكوبات الكبيرة.			
قائمة	التغير في طول المادة الصلبة يتناسب طرديًا مع .. • التغير في درجة الحرارة. • طول الجسم.			
معامل التمدد الطولي	{ التغير في الطول مقسومًا على طول الجسم والتغير في درجة الحرارة }			
معامل التمدد الحجمي	{ التغير في الحجم مقسومًا على حجم الجسم والتغير في درجة الحرارة }			
العلاقات الرياضية	<table border="1" style="width: 100%; text-align: center;"> <tr> <td><math>\beta = 3\alpha</math></td> <td><math>\beta = \frac{\Delta V}{V_1 \Delta T}</math></td> <td><math>\alpha = \frac{\Delta L}{L_1 \Delta T}</math></td> </tr> </table> <p> <math>\alpha</math> معامل التمدد الطولي [<math>^{\circ}\text{C}^{-1}</math>]      <math>\beta</math> معامل التمدد الحجمي [<math>^{\circ}\text{C}^{-1}</math>]  <math>\Delta L</math> التغير في الطول [m]      <math>\Delta T</math> التغير في درجة الحرارة [<math>^{\circ}\text{C}</math>]  <math>L_1</math> طول الجسم [m]      <math>\Delta V</math> التغير في الحجم [<math>\text{m}^3</math>]  <math>V_1</math> حجم الجسم [<math>\text{m}^3</math>] </p>	$\beta = 3\alpha$	$\beta = \frac{\Delta V}{V_1 \Delta T}$	$\alpha = \frac{\Delta L}{L_1 \Delta T}$
$\beta = 3\alpha$	$\beta = \frac{\Delta V}{V_1 \Delta T}$	$\alpha = \frac{\Delta L}{L_1 \Delta T}$		
مثال توضيحي ١	<p>قطعة من الألمنيوم معامل تمددها الطولي <math>25 \times 10^{-6} \text{ } ^{\circ}\text{C}^{-1}</math> وطولها 3.66 m عند درجة حرارة <math>^{\circ}\text{C} - 28</math> ؛ كم يزداد طولها عندما تصبح درجة حرارتها <math>^{\circ}\text{C} 39</math> ؟</p> $\alpha = \frac{\Delta L}{L_1 \Delta T} \Rightarrow \Delta L = \alpha L_1 \Delta T$ $\alpha = (25 \times 10^{-6})(3.66)[(39) - (-28)] = 6.13 \times 10^{-3} \text{ m}$			

وعاء زجاجي سعته 0.4 L عند درجة حرارة الغرفة ملئ بماء بارد درجة حرارته  $4.4^{\circ}\text{C}$  ؛ ما مقدار الماء المسكوب من الوعاء عندما يسخن الماء إلى  $30^{\circ}\text{C}$  ؟  
علماً أن معامل التمدد الحجمي للماء  $210 \times 10^{-6} \text{ }^{\circ}\text{C}^{-1}$ .

مثال توضيحي ٢

$$\beta = \frac{\Delta V}{V_1 \Delta T} \Rightarrow \Delta V = \beta V_1 \Delta T$$

$$\beta = (210 \times 10^{-6})(0.4)[(30 - 4.4)] = 2.15 \times 10^{-3} \text{ m}^3$$

- تتمدد المواد المختلفة بمعدلات مختلفة.
- للفولاذ والإسمنت المستخدم في المباني معامل التمدد نفسه **« حلل »** حتى يتمددان بنفس الدرجة فلا تصدع المباني في الأيام الحارة.
- يستخدم طيبب الأسنان المواد التي يحشو بها الأسنان بحيث تتمدد وتتقلص بالمعدل نفسه لتمدد ميناء الأسنان.

تطبيقات التمدد  
الحراري

## المزدوج الحراري

تعريفه	{ شريحة ثنائية المعدن تستخدم في منظمات الحرارة }
مكوناته	شريحة من النحاس الأصفر مثبتة بجوار شريحة من الحديد
استخداماته	في منظمات الحرارة ، الثرموستات ، في أجهزة التلخنة والتبريد
عمله	<ul style="list-style-type: none"> <li>• عند التسخين يتمدد النحاس الأصفر أكثر من تمدد الحديد فينحني الشريط.</li> <li>• في أجهزة التلخنة: إذا بردت الغرفة ينحني في الاتجاه التوصليل الكهربائي فيشغل المسخن وحينما تصل درجة الحرارة إلى الدرجة المحددة في الثرموستات ينحني في الاتجاه المعاكس فيوقف عمل المسخن.</li> <li>• في أجهزة التبريد: إذا ارتفعت درجة الحرارة إلى حد معين في الثرموستات ينحني الشريط لإحداث توصيل كهربائي يشغل المبرد وعندما تنخفض الحرارة عن حد معين ينحني في الاتجاه المعاكس فيوقف عمل المبرد.</li> </ul>





سلسلة التبسيط  
رؤية مبتكرة ... لفهم أسهل

ملحق ٢

أسئلة

اختبارات



## الفصل ١ : الحركة الدورانية

### السؤال الأول : اختر الإجابة الصحيحة:

- (١) حركة العربة الدوارة في مدينة الألعاب حركة ..  
 (A) خطية. (B) دورانية. (C) اهتزازية.
- (٢) زاوية الدوران التي تعادل  $\frac{1}{2\pi}$  من الدورة الكاملة هي ..  
 (A) grad. (B) الدرجة. (C) الراديان.
- (٣) زاوية دوران الأرض خلال 12 h مقطرة بوحدة rad تساوي ..  
 (A)  $\pi$ . (B)  $2\pi$ . (C)  $4\pi$ .
- (٤) يقطع عقرب الثواني إزاحة زاوية قدرها  $\pi$  rad خلال زمن ..  
 (A) 15 s. (B) 30 s. (C) 60 s.
- (٥) ميل منحني العلاقة بين الموقع الزاوي والزمن يساوي هديكاً ..  
 (A) الإزاحة الزاوية. (B) التسارع الزاوي اللحظي. (C) السرعة الزاوية المتجهة اللحظية.
- (٦) إذا كان التغير في السرعة الزاوية سالباً فإن التسارع الزاوي ..  
 (A) موجب. (B) سالب. (C) ليس له إشارة.
- (٧) ميل العلاقة البيانية بين السرعة الزاوية المتجهة والزمن هو ..  
 (A) التردد الزاوي. (B) السرعة الزاوية. (C) التسارع الزاوي اللحظي.
- (٨) تدور عجلة هوائية بمعدل ثابت 25 rev/min ؛ إن سرعتها الزاوية المتجهة ..  
 (A) تبقى ثابتة. (B) تزداد. (C) تقل.
- (٩) إذا دارت لعبة بمعدل ثابت 5 rev/min فإن تسارعها الزاوي ..  
 (A) صفر. (B) موجب. (C) سالب.
- (١٠) إذا أثرت قوة في أبعد نقطة عن مفاصل باب حر الدوران فإن عزمها يساوي ..  
 (A) صفراً. (B) أكبر قيمة ممكنة. (C) أصغر قيمة ممكنة.
- (١١) يتعلم العزم المؤثر على باب حر الدوران حول مفاصل إذا كانت القوة ..  
 (A) موازية للباب. (B) متعامدة مع الباب. (C) مائلة مع الباب.
- (١٢) لا يدور الباب إذا أثرت على مفاصله قوة عمودية بسبب ..  
 (A) انعدام ذراع القوة. (B) انعدام القوة. (C) انعدام محور الدوران.

- (١٣) إذا ازداد عزم الدوران فإن السرعة الزاوية المتجهة ..  
 (A) تبقى ثابتة. (B) تقل. (C) تزداد.
- (١٤) عند اتزان الجسم تحت تأثير قوتين فإن مجموع العزوم ..  
 (A) يساوي صفراً. (B) أكبر من صفراً. (C) أصغر من صفراً.
- (١٥) موقع مركز كتلة النقطل ——— موقع مركز كتلة الشخص العادي.  
 (A) أدنى من (B) أعلى من (C) نفس
- (١٦) إذا كانت سرعة الجسم المتجهة ثابتة فإن اتزان الجسم يكون ..  
 (A) انتقاليًا. (B) دورانيًا. (C) انتقاليًا ودورانيًا.
- (١٧) إذا كانت سرعة الجسم الزاوية المتجهة ثابتة فإن اتزان الجسم يكون ..  
 (A) انتقاليًا. (B) دورانيًا. (C) انتقاليًا ودورانيًا.
- (١٨) الأطر المرجعية المتسارعة هي الأطر المرجعية ..  
 (A) السكونية. (B) القصورية. (C) الدوارة.
- (١٩) التسارع المركزي يعتمد على ..  
 (A) مربع السرعة الزاوية المتجهة. (B) مربع المسافة. (C) مربع نصف قطر الدوران.
- (٢٠) قوة ظاهرية غير حقيقية نشعر بها تظهر وكأنها تحرف الكرة عن مسارها ..  
 (A) قوة كوريوليس. (B) القوة الطاردة المركزية. (C) القوة الرهمية.
- (٢١) بتأثير قوة كوريوليس؛ الجسم المتحرك شمالاً ينحرف نحو ..  
 (A) الشمال. (B) الغرب. (C) الجنوب. (D) الشرق.

**السؤال الثاني:** ضع علامة ✓ أمام العبارة الصحيحة وعلامة ✗ أمام الخاطئة كما يلي:

- (١) حركة قرص الحاسوب المدمج CD حركة دورانية.
- (٢) دوران الأرض يُعد موجياً عندما يُرى من القطب الشمالي.
- (٣) السرعة الزاوية المتجهة لحركة عقرب الساعات سالبة.
- (٤) عزم الدوران يعتمد على مقدار القوة المؤثرة.
- (٥) عند اتزان جسم تحت تأثير عزمين فإن العزم الأول يساوي العزم الثاني ويعاكسه في الاتجاه.
- (٦) العزم اللازم لمنع جسم من الدوران يساوي العزم الأصلي وفي نفس اتجاهه.
- (٧) موقع مركز كتلة جسم الإنسان ثابت.
- (٨) إذا كان مركز كتلة جسم فوق قاعدته فإن الجسم يكون غير مستقر.

### السؤال الثالث: املأ الفراغ بما يناسبه:

- (١) جسم دار دورة كاملة؛ إن زاوية دورانه بوحدة الراديان تعادل ..... .
- (٢) مركز الكتلة لجسم صلب ثابت الكثافة يقع في .....
- (٣) شرط الاتزان الميكانيكي لجسم هما الاتزان ..... والاتزان .....
- (٤) في الاتزان ..... تكون محصلة القوى المؤثرة في الجسم مساوية للصفر.
- (٥) في الاتزان الدوراني تكون محصلة ..... المؤثرة في الجسم مساوية للصفر.

### السؤال الرابع: اكتب المصطلح العلمي المناسب:

- (١) التغير في الزاوية أثناء دوران الجسم.
- (٢) الإزاحة الزاوية مقسومة على الزمن الذي يتطلبه حدوثها.
- (٣) التغير في السرعة الزاوية مقسومًا على الزمن التي حدث خلاله التغير.
- (٤) عدد الدورات الكاملة التي يدورها الجسم في الثانية الواحدة.
- (٥) مقياس فاعلية القوة في إحداث الدوران.
- (٦) المسافة العمودية من محور الدوران إلى نقطة تأثير القوة.
- (٧) المسافة بين محور الدوران ونقطة تأثير القوة.
- (٨) نقطة في الجسم تتحرك بالطريقة نفسها التي تتحرك بها النقطة المادية.
- (٩) قوة ظاهرة غير حقيقية نشعر بها تظهر وكأنها تدفع الجسم للخارج.
- (١٠) تسارع ناشئ عن الحركة الدائرية والمجاهه نحو المركز.

### السؤال الخامس: حلل لما يأتي:

- (١) جميع نقاط الأرض تدور بنفس الزاوية رغم أنها تقطع مسافات مختلفة في كل دورة.
- (٢) انتشار الزاوي يساوي صفر لجسم يدور بمعدل ثابت.
- (٣) مركز الكتلة للطفل أعلى من الشخص العادي بعلة ستمترات.
- (٤) موقع مركز كتلة جسم الإنسان غير ثابت.
- (٥) يتقلب الصندوق المرتفع قليل العرض بسهولة بعكس الصندوق المنخفض العريض.

## الاجوبة النهائية

اجوبة السؤال الأول: الاختيار من متعدد ..

Ⓒ (٧)	Ⓑ (٦)	Ⓒ (٥)	Ⓑ (٤)	Ⓐ (٣)	Ⓒ (٢)	Ⓑ (١)
Ⓐ (١٤)	Ⓒ (١٣)	Ⓐ (١٢)	Ⓐ (١١)	Ⓑ (١٠)	Ⓐ (٩)	Ⓐ (٨)
Ⓓ (٢١)	Ⓐ (٢٠)	Ⓐ (١٩)	Ⓒ (١٨)	Ⓑ (١٧)	Ⓐ (١٦)	Ⓑ (١٥)

اجوبة السؤال الثاني: بيان الإجابة الصحيحة والخاطئة ..

× (٨)	× (٧)	× (٦)	✓ (٥)	✓ (٤)	✓ (٣)	✓ (٢)	✓ (١)
-------	-------	-------	-------	-------	-------	-------	-------

اجوبة السؤال الثالث: ملء الفراغ ..

2π (١)	متصف الجسم (٢)	الانتضالي ، الدوراني (٣)	الانتضالي (٤)	العزم (٥)
--------	----------------	--------------------------	---------------	-----------

اجوبة السؤال الرابع: المصطلح العلمي المناسب ..

(١) الإزاحة الزاوية.	(٢) السرعة الزاوية المتجهة.	(٣) التسارع الزاوي.
(٤) التردد الزاوي.	(٥) العزم.	(٦) فراغ القوة.
(٧) نصف قطر الدوران.	(٨) مركز الكتلة.	(٩) القوة الطاردة المركزية.
(١٠) التسارع المركزي.		

اجوبة السؤال الخامس: التعليل ..

- (١) لأن الأرض جسم صلب وكل أجزاء الجسم الصلب تدور بنفس المعدل.
- (٢) لأن سرعته الزاوية المتجهة ثابتة.
- (٣) لأن رأس الطفل يكون كبيراً نسبياً بالنسبة لجسمه.
- (٤) لأن جسم الإنسان مرن.
- (٥) لأن مركز الكتلة للأول مرتفع فنحتاج إلى ميل أقل لجعله يتحرك خارج القاعدة فيقلب بسهولة.

## الفصل ٢ : الزخم وحفظه

### السؤال الأول: اختر الإجابة الصحيحة:

- (١) دفع القوة المتغيرة يساوي - عددياً - المساحة تحت منحني العلاقة بين ..  
 (A) القوة والزمن. (B) القوة والإزاحة. (C) القوة والسرعة.
- (٢) اتجاه الدفع ..  
 (A) في نفس اتجاه القوة. (B) عكس اتجاه القوة. (C) عمودي على اتجاه القوة.
- (٣) اتجاه زخم جسم ..... سرعته المتجهة.  
 (A) عمودي على (B) في نفس اتجاه (C) بعكس اتجاه
- (٤) تعمل الوسادة الهوائية في السيارات على تقليل ..  
 (A) الدفع المؤثر. (B) زمن تأثير القوة. (C) القوة المؤثرة.
- (٥) مجموع زخمي الجسمين المتصادمين قبل التصادم ..... مجموع زخميها بعد التصادم.  
 (A) أكبر من (B) يساوي (C) أصغر من
- (٦) دفع المحرك الأيوني ..... دفع محرك الصاروخ الكيميائي.  
 (A) أصغر من (B) أكبر من (C) يساوي

### السؤال الثاني: ضع علامة ✓ أمام العبارة الصحيحة وعلامة ✗ أمام الخاطئة مما يلي:

- (١) دُكَّما الجسمين المتصادمين متساويان في المقدار ومتعاكسان في الاتجاه.
- (٢) عند انطلاق الرصاصة للأمام ترتد البندقية للخلف.
- (٣) زخم النظام المكوّن من القذيفة والمدفع بعد إطلاق القذيفة = صفراً.
- (٤) عند إطلاق القذيفة من المدفع زخم القذيفة يساوي ويعاكس زخم المدفع.
- (٥) النظام المكون من الصاروخ والمواد الكيميائية يُعتبر نظاماً مغلقاً.

### السؤال الثالث: املأ الفراغ بما يناسبه:

- (١) يعتمد الدفع على عاملين هما ..... و .....
- (٢) يعتمد الزخم على ..... و .....

### السؤال الرابع: اكتب للمصطلح العلمي المناسب:

- (١) حاصل ضرب متوسط القوة المؤثرة على جسم في زمن تأثيرها.
- (٢) حاصل ضرب كتلة الجسم في سرعته المتجهة.
- (٣) الدفع على جسم يساوي زخمه النهائي مطروحاً منه زخمه الابتدائي.
- (٤) زخم أي نظام مغلق ومعزول لا يتغير.
- (٥) النظام الذي لا يكتسب كتلة ولا يفقدها.
- (٦) النظام الذي تكون محصلة القوى الخارجية المؤثرة عليه = صفراً.

### السؤال الخامس: حلل لما يأتي:

- (١) تزود السيارات بمصاص صدمات يمكنه الانضغاط في أثناء الاصطدام.
- (٢) سرعة إطلاق القلبيقة أكبر من سرعة ارتداد المدفع.

### الاجوبة النهائية

اجوبة السؤال الأول: الاختيار من متعدد ..

(١) (A)	(٢) (A)	(٣) (B)	(٤) (C)	(٥) (B)	(٦) (B)
---------	---------	---------	---------	---------	---------

اجوبة السؤال الثاني: بيان الإجابة الصحيحة والخاطئة ..

(١) ✓	(٢) ✓	(٣) ✓	(٤) ✓	(٥) ×
-------	-------	-------	-------	-------

اجوبة السؤال الثالث: ملء الفراغ ..

(١) القوة المؤثرة ، زمن تأثير القوة	(٢) كتلة الجسم ، سرعة الجسم
-------------------------------------	-----------------------------

اجوبة السؤال الرابع: المصطلح العلمي المناسب ..

(١) الدفع.	(٢) الزخم.	(٣) نظرية الدفع - الزمن.
(٤) قانون حفظ الزخم.	(٥) النظام المغلق.	(٦) النظام المعزول.

اجوبة السؤال الخامس: التعليل ..

- (١) لتقليل القوة المؤثرة بزيادة زمن تأثيرها.
- (٢) لأن كتلة القلبيقة أقل.



## الفصل ٣ : الشغل والطاقة والآلات البسيطة

### السؤال الأول: اختر الإجابة الصحيحة:

- (١) إذا بَدَل المحيط الخارجي شغلاً على النظام فإن الشغل ..  
 (A) سالب. (B) صفر. (C) موجب.
- (٢) إذا بَدَل المحيط الخارجي شغلاً على النظام فإن طاقة النظام ..  
 (A) تزيد. (B) تنقص. (C) تزيد ثم تنقص.
- (٣) إذا بَدَل النظام شغلاً على المحيط الخارجي فإن الشغل ..  
 (A) سالب. (B) صفر. (C) موجب.
- (٤) إذا بَدَل النظام شغلاً على المحيط الخارجي فإن طاقة النظام ..  
 (A) تزيد. (B) تنقص. (C) تنقص ثم تزيد.
- (٥) اتجاه قوة الاحتكاك ..... اتجاه الحركة.  
 (A) بنفس (B) بعكس (C) عمودي على
- (٦) شغل قوة الاحتكاك ..  
 (A) سالب. (B) صفر. (C) موجب.
- (٧) وحدة قياس القدرة ..  
 (A) J.s (B) J/s (C) N/m.s
- (٨) تعتبر الرافعة والسطح المائل والوكد من الآلات ..  
 (A) البسيطة. (B) المركبة. (C) البسيطة والمركبة.
- (٩) الآلة المركبة من الآلات التالية هي ..  
 (A) الدولاب والمحور. (B) الرافعة. (C) الدراجة الهوائية.
- (١٠) الشغل الذي تبذره الآلة الحقيقية ..... الشغل المبذول عليها.  
 (A) أكبر من (B) مساوي (C) أقل من
- (١١) الشغل الذي تبذره الآلة المثالية ..... الشغل المبذول عليها.  
 (A) أكبر من (B) مساوي (C) أقل من
- (١٢) كفاءة الآلة الحقيقية ..... 100% .  
 (A) أكبر من (B) تساوي (C) أقل من

(١٣) كفاءة الآلة المثالية ..... 100% .

(A) أكبر من (B) تساوي (C) أقل من

(١٤) في الدراجة الهوائية عندما نجعل نصف قطر ناقل الحركة الخلفي كبيراً و نصف قطر ناقل الحركة الأمامي صغيراً فإن الفائدة الميكانيكية المثالية ..

(A) تزيد. (B) تنقص. (C) تزيد ثم تنقص. (D) تنقص ثم تزيد.

**السؤال الثاني:** ضع علامة ✓ أمام العبارة الصحيحة وعلامة ✗ أمام الخاطئة كما يلي:

- (١) القوة العمودية على اتجاه الحركة لا تبذل شغلاً.
- (٢) شغل القوة المتغيرة هو المساحة تحت المنحنى البياني للقوة - الإزاحة.
- (٣) تعمل الآلات على تغيير مقدار القوة أو اتجاهها.

**السؤال الثالث:** املأ الفراغ بما يناسبه:

- (١) الآلات نوعان: آلات ..... وآلات .....
- (٢) تنفيذ الآلات في ..... و .....

**السؤال الرابع:** اكتب المصطلح العلمي المناسب:

- (١) قدرة الجسم على إحداث تغيير في ذاته أو فيما يحيط به.
- (٢) الطاقة الناتجة عن حركة الجسم.
- (٣) انتقال الطاقة بطرائق ميكانيكية.
- (٤) إذا بُدِّلَ شغل على جسم ما فإن طاقته الحركية تتغير.
- (٥) المعدل الزمني لبُذل الشغل.
- (٦) انتقال طاقة مقدارها 1 J خلال فترة زمنية مقدارها 1 s .
- (٧) نسبة المقاومة إلى القوة.
- (٨) إزاحة القوة مقسومة على إزاحة المقاومة.
- (٩) نسبة الفائدة الميكانيكية إلى الفائدة الميكانيكية المثالية.
- (١٠) الشغل الذي يُبذل على الآلة.
- (١١) الشغل الذي تُبذله الآلة.
- (١٢) نسبة الشغل الناتج إلى الشغل المبذول.
- (١٣) الآلة التي تتكون من آلتين بسيطتين أو أكثر ترتبطان معاً.

## السؤال الخامس: حل ما يأتي:

- (١) عند صعود التل بدراسة هوائية فإن السائق يزيد الفالدة الميكانيكية المثالية لها.  
(٢) في سباقات المشي يُؤرَّجح المتسابق وركبته نحو الأهلئ.

## الاجوبة النهائية

اجوبة السؤال الأول: الاختيار من متعدد ..

(١) (٦) (A)	(٥) (B)	(٤) (B)	(٣) (A)	(٢) (A)	(١) (C)
(١٧) (C)	(١١) (B)	(١٠) (C)	(٩) (C)	(٨) (A)	(٧) (B)
(١٨) (A)	(١٧) (C)	(١٦) (C)	(١٥) (B)	(١٤) (A)	(١٣) (B)

اجوبة السؤال الثاني: بيان الإجابة الصحيحة والخاطئة ..

(٣) ✓	(٢) ✓	(١) ✓
-------	-------	-------

اجوبة السؤال الثالث: ملء الفراغ ..

(٢) تسهيل المهام ، تخفيف الحمل	(١) بسيطة ، مركبة
--------------------------------	-------------------

اجوبة السؤال الرابع: المصطلح العلمي المناسب ..

(٣) الشغل.	(٢) الطاقة الحركية.	(١) الطاقة.
(٦) الواط.	(٥) القلرة.	(٤) نظرية الشغل - الطاقة.
(٩) كفاءة الآلة.	(٨) الفالدة الميكانيكية المثالية	(٧) الفالدة الميكانيكية.
(١٢) كفاءة الآلة	(١١) الشغل الناتج.	(١٠) الشغل المبلول.
		(١٣) الآلات المركبة

اجوبة السؤال الخامس: التعليل ..

- (١) نزيادة القوة التي يؤثر بها الدولاب في الطريق.  
(٢) نزيادة سرعته عن طريق زيادة طول الرافعة المكونة من عظام الساق.

## الفصل ٤ : الطاقة وحفظها

السؤال الأول: اختر الإجابة الصحيحة:

- (١) إذا بُدِّلَ شغل على النظام فإن طاقته ..  
 (A) تزيد. (B) تنقص. (C) لا تتغير.
- (٢) إذا بَدَّلَ النظام شغلاً فإن طاقته ..  
 (A) تزيد. (B) تنقص. (C) لا تتغير.
- (٣) الطاقة المخزنة في الوقود هي طاقة ..  
 (A) حركية. (B) ميكانيكية. (C) كيميائية.
- (٤) طاقة وضع الجاذبية لماء البئر بالنسبة لسطح الأرض تكون ..  
 (A) سالبة. (B) صفراً. (C) موجبة.
- (٥) شغل الجاذبية أثناء صعود الجسم لأعلى يكون ..  
 (A) سالباً. (B) صفراً. (C) موجباً.
- (٦) لحظة قذف كرة لأعلى يمتلك النظام ..  
 (A) طاقة وضع. (B) طاقة حركة. (C) طاقة وضع وطاقة حركة.
- (٧) الطاقة المخزنة في الوتر المشدود طاقة ..  
 (A) حركية. (B) سكونية. (C) وضع مرونية.
- (٨) للكتلة نفسها طاقة وضع تسمى ..  
 (A) الطاقة الحركية. (B) الطاقة السكونية. (C) طاقة الوضع المرونية.
- (٩) الزيادة في طاقة وضع النظام المغلق المعزول ..... النقص في طاقته الحركية.  
 (A) أكبر من (B) تساوي (C) أصغر من
- (١٠) أزيحت كرة البندول إلى أحد الجانبين فإن الطاقة التي اكتسبتها ..  
 (A) طاقة حركية. (B) طاقة الوضع المرونية. (C) طاقة وضع الجاذبية.
- (١١) لحظة وصول كرة البندول إلى مستوى الإسناد فإنها تمتلك ..  
 (A) طاقة حركية. (B) طاقة وضع الجاذبية. (C) طاقة الوضع المرونية.
- (١٢) طاقة حركة كرة البندول عند أسفل نقطة ..... طاقة وضعها عند أعلى نقطة.  
 (A) أصغر من (B) تساوي (C) أكبر من

(١٣) التصادم الذي تزداد فيه الطاقة الحركية بعد التصادم عنها قبل التصادم ..  
 (A) التصادم لائق المرن. (B) التصادم المرن. (C) التصادم عدم المرونة.

**السؤال الثاني:** ضع علامة ✓ أمام العبارة الصحيحة وعلامة ✗ أمام الخاطئة مما يلي:

- (١) تتناسب طاقة حركة الجسم طردياً مع كتلته.
- (٢) تتناسب طاقة حركة الجسم عكسياً مع مربع سرعته.
- (٣) تعتمد طاقة الحركة الدورانية لجسم على سرعته الزاوية.
- (٤) طاقة وضع الجاذبية أحد أنواع الطاقة المختزنة في الجسم بطرق ميكانيكية.
- (٥) تعتمد طاقة وضع الجاذبية لجسم على وزنه ويعلمه عن مستوى الإسناد.
- (٦) أثناء سقوط الجسم تبدل الجاذبية شغلاً موجباً يزيد من سرعة الجسم.
- (٧) المجموع الكلي للطاقة في النظام المعزول المغلق ثابتاً.
- (٨) لا يمكن أن تتحول الطاقة من شكل إلى آخر.

**السؤال الثالث:** املأ الفراغ بما يناسبه:

- (١) تعتمد طاقة حركة الجسم على ..... و .....
- (٢) أثناء صعود الكرة لأعلى تقل طاقة ..... وتزداد طاقة .....

**السؤال الرابع:** اكتب المصطلح العلمي المناسب:

- (١) طاقة مختزنة في النظام نتيجة تأثير قوة الجاذبية.
- (٢) المستوى الذي تكون عنده طاقة الوضع = صفراً.
- (٣) طاقة مختزنة في الجسم المرن نتيجة تغير شكله.
- (٤) كتلة الجسم مضروبة في مربع سرعة الضوء.
- (٥) في النظام المعزول المغلق الطاقة لا تفنى ولا تتصلبت.
- (٦) النظام الذي لا تؤثر فيه أي قوة خارجية.
- (٧) النظام الذي لا يدخل إليه أو يخرج منه أي جسم.
- (٨) مجموع الطاقة الحركية وطاقة وضع الجاذبية في النظام.
- (٩) مجموع الطاقة الحركية وطاقة الوضع في النظام قبل وقوع الحدث تساوي مجموع الطاقة الحركية وطاقة الوضع في النظام بعد وقوع الحدث.
- (١٠) التصادم الذي تبقى فيه الطاقة الحركية قبل التصادم ويعلمه متساويين.

(١١) التصادم الذي تقل فيه الطاقة الحركية بعد التصادم عنها قبل التصادم.

**السؤال الخامس:** حلل ما يأتي:

(١) تضاؤل تدبذب البندول إلى أن يتوقف.

### الاجوبة النهائية

اجوبة السؤال الأول: الاختيار من متعدد ..

(١) (A)	(٢) (B)	(٣) (C)	(٤) (A)	(٥) (A)	(٦) (B)	(٧) (C)
(٨) (B)	(٩) (B)	(١٠) (C)	(١١) (A)	(١٢) (B)	(١٣) (A)	

اجوبة السؤال الثاني: بيان الإجابة الصحيحة والخاطئة ..

(١) ✓	(٢) ×	(٣) ✓	(٤) ✓	(٥) ✓	(٦) ✓	(٧) ✓	(٨) ×
-------	-------	-------	-------	-------	-------	-------	-------

اجوبة السؤال الثالث: ملء الفراغ ..

(١) كتلة الجسم ، سرعة الجسم	(٢) الحركة ، الوضع
-----------------------------	--------------------

اجوبة السؤال الرابع: المصطلح العلمي المناسب ..

(١) طاقة وضع الجاذبية.	(٢) مستوى الإسناد.	(٣) طاقة الوضع المرنة.
(٤) الطاقة السكونية.	(٥) قانون حفظ الطاقة.	(٦) النظام المعزول.
(٧) النظام المغلق.	(٨) الطاقة الميكانيكية.	(٩) قانون حفظ الطاقة الميكانيكية.
(١٠) التصادم المرن.	(١١) التصادم عديم المرونة.	

اجوبة السؤال الخامس: التعليل ..

(١) بسبب وجود مقاومة الهواء يتحول جزء من الطاقة الميكانيكية إلى طاقة حرارية.

## الفصل ٥ : الطاقة الحرارية

### السؤال الأول: اختر الإجابة الصحيحة:

- (١) الطاقة الكلية لجزيئات الغاز تسمى ..  
 (A) الطاقة الكيميائية. (B) الطاقة الحرارية. (C) الطاقة الكهروكيميائية.
- (٢) تتناسب درجة حرارة الجسم طردياً مع ..... في الجسم.  
 (A) عدد الجزيئات (B) عدد الذرات (C) متوسط الطاقة الحركية للجزيئات
- (٣) متوسط طاقة جزيئات الجسم الساخن ..... متوسط طاقة جزيئات الجسم البارد.  
 (A) أكبر من (B) تساوي (C) أصغر من
- (٤) ناتج قسمة الطاقة الحركية الكلية للجسم على عدد جزيئات هذا الجسم يساوي ..  
 (A) الطاقة الكلية. (B) الطاقة الحرارية. (C) متوسط طاقة حركة الجزيئات في الجسم.
- (٥) تنتقل الطاقة من الجسم الساخن إلى مقياس الحرارة الملامس له من طريق ..  
 (A) التوصيل. (B) الحمل. (C) الإشعاع.
- (٦) تستخدم دوائر إلكترونية حساسة للحرارة في مقياس الحرارة ..  
 (A) المترية. (B) السائلة - البلورية. (C) الطبية.
- (٧) لا يوجد درجة حرارة أقل من درجة ..  
 (A) الصفر المطلق. (B) الصفر المتوي. (C) الصفر الفهرنهايتي.
- (٨) تفقد ذرات الغاز طاقتها كاملة عند درجة ..  
 (A) الصفر المطلق. (B) الصفر المتوي. (C) الصفر الفهرنهايتي.
- (٩) إذا امتص الجسم حرارة فإن كمية الحرارة ..  
 (A) سالبة. (B) صفراً. (C) موجبة.
- (١٠) تنتقل الحرارة بطريقة الحمل الحراري في ..  
 (A) المواد الصلبة. (B) السوائل والغازات. (C) الفراغ.
- (١١) لا تحتاج الحرارة إلى وسط ناقل عند انتقالها بطريقة ..  
 (A) التوصيل الحراري. (B) الحمل الحراري. (C) الإشعاع الحراري.
- (١٢) الطاقة الحرارية المكتسبة أو المفقودة من الجسم تعتمد على ..  
 (A) طول الجسم. (B) طريقة انتقال الحرارة إلى الجسم. (C) الحرارة النوعية لمادة الجسم.

- (١٣) عند تلامس جسم ساخن مع آخر بارد فإن التغير في طاقة الجسم البارد يكون ..  
 (A) موجباً. (B) صفراً. (C) سالباً.
- (١٤) درجة الحرارة النهائية لجسمين متلامسين ..... درجة حرارة النظام النهائية.  
 (A) أكبر من (B) تساوي (C) أصغر من
- (١٥) درجة الحرارة التي تتغير عندها المادة من الحالة الصلبة إلى الحالة السائلة ..  
 (A) درجة الانصهار. (B) درجة التجمد. (C) درجة الغليان. (D) درجة التكاثف.
- (١٦) درجة الحرارة التي تتغير عندها المادة من الحالة السائلة إلى الحالة الغازية ..  
 (A) درجة الانصهار. (B) درجة التجمد. (C) درجة الغليان. (D) درجة التكاثف.
- (١٧) أثناء عملية انصهار المادة الصلبة درجة الحرارة ..  
 (A) تزداد. (B) تبقى ثابتة. (C) تنقص.
- (١٨) بعد تحول المادة الصلبة كلياً إلى سائل فإن الطاقة الحرارية المكتسبة تؤدي إلى ..... الطاقة الحركية لجزيئات السائل.  
 (A) زيادة (B) ثبات (C) نقص
- (١٩) الطاقة المضافة بعد تحول المادة كلياً إلى بخار تؤدي إلى ..... درجة حرارة البخار.  
 (A) زيادة (B) ثبات (C) نقص
- (٢٠) ميل العلاقة البيانية بين درجة حرارة المادة والحرارة التي تكتسبها هو ..  
 (A) الحرارة النوعية. (B) مقلوب الحرارة النوعية. (C) الحرارة الكامنة للتبخير.
- (٢١) يُعد القانون الأول للديناميكا الحرارية صياغة أخرى لقانون ..  
 (A) حفظ الشحنة. (B) حفظ الطاقة. (C) حفظ الزخم.
- (٢٢) المنصهرة اليدوية تحول الطاقة الميكانيكية في المكبس إلى ..  
 (A) طاقة حرارية للغاز. (B) طاقة حركية للغاز. (C) طاقة ميكانيكية للغاز.
- (٢٣) عند إضافة حرارة إلى الجسم فإن الإنتروبي ..  
 (A) يزداد. (B) ينقص. (C) لا يتغير.
- (٢٤) عند نزع حرارة من الجسم فإن الإنتروبي ..  
 (A) يزداد. (B) ينقص. (C) لا يتغير.
- (٢٥) عندما يبلل الجسم شغلاً ولم تتغير درجة حرارة الجسم فإن الإنتروبي ..  
 (A) يزداد. (B) ينقص. (C) لا يتغير.



**السؤال الثاني:** ضع علامة ✓ أمام العبارة الصحيحة وعلامة ✗ أمام الخاطئة بما يلي:

- (١) تتناسب الطاقة الحرارية في الجسم مع عدد الجزيئات فيه.
- (٢) تعتمد درجة حرارة الجسم على عدد الجزيئات في الجسم.
- (٣) في مقاييس الحرارة السائلة - البلورية يتغير لون البلورة بتغير درجة الحرارة.
- (٤) تنتقل الحرارة تلقائياً من الجسم البارد إلى الجسم الساخن.
- (٥) الزيادة في درجة حرارة الجسم عند تدفق الحرارة إليه تعتمد على حجم الجسم.
- (٦) يعتمد مبدأ عمل المسعر على مبدأ حفظ الطاقة في النظام المغلق والمعزول.
- (٧) عند تلامس جسم ساخن مع آخر بارد طاقة النظام الكلية تنقص.
- (٨) الحرارة الكامنة للانصهار ثابتة لجميع المواد.
- (٩) المحرك الحراري يمتص الحرارة من المستودع البارد ويطردعا إلى المستودع الساخن.

**السؤال الثالث:** املأ الفراغ بما يناسبه:

- (١) تمتلك جزيئات الغاز طاقة ..... وطاقة ..... وطاقة .....
- (٢) جهاز يستخدم لقياس محتوى الأطعمة من الطاقة يسمى .....
- (٣) مجهزة الحيز تحول الطاقة الكهربائية إلى طاقة .....

**السؤال الرابع:** اكتب للمصطلح العلمي المناسب:

- (١) مقياس للحركة الداخلية لجزيئات الجسم.
- (٢) الحالة التي يتساوى عندها معدلًا تدفق الطاقة بين جسمين متلامسين.
- (٣) الطاقة التي تتدفق من الجسم الساخن إلى الجسم البارد تلقائياً.
- (٤) عملية نقل الطاقة الحركية عند تصادم الجزيئات بعضها ببعض.
- (٥) حركة المائع في السائل أو الغاز بسبب اختلاف درجات الحرارة.
- (٦) انتقال الطاقة الحرارية بواسطة الموجات الكهرومغناطيسية في الفراغ.
- (٧) كمية الطاقة التي يجب أن تكسبها المادة لترتفع درجة حرارة وحدة الكتل منها درجة واحدة.
- (٨) أداة تستخدم لقياس التغير في الطاقة الحرارية.
- (٩) تكون الطاقة الحرارية في النظام المغلق والمعزول للجسم الأول مضافاً إليها الطاقة الحرارية للجسم الثاني مقداراً ثابتاً.
- (١٠) كمية الطاقة اللازمة لتحويل 1 كجم من المادة من الحالة الصلبة إلى الحالة السائلة عند درجة الانصهار.

- (١١) كمية الطاقة اللازمة لتحويل 1 كجم من المادة من الحالة السائلة إلى الحالة الغازية عند درجة الغليان.
- (١٢) التغير في الطاقة الحرارية لجسم مساوي مقدار الحرارة المضافة إلى الجسم مطروحاً منه الشغل الذي يبذله الجسم.
- (١٣) الطاقة لا تفنى ولا تستحدث وإنما تتغير من شكل إلى آخر.
- (١٤) أداة تُحوّل الطاقة الحرارية إلى طاقة ميكانيكية بصورة مستمرة.
- (١٥) النسبة بين الشغل الناتج وكمية الحرارة الداخلة.
- (١٦) أداة تعمل على انتزاع الطاقة الحرارية من الجسم الأبرد وإضافتها إلى الجسم الأسخن ببدل شغل معين.
- (١٧) أداة تعمل في اتجاهين تستخدم الطاقة الميكانيكية لنقل الحرارة من الحيز الذي درجة حرارته أقل إلى الحيز الذي درجة حرارته أكبر.
- (١٨) مقياس للفوضى ء العشوائية ء في النظام.
- (١٩) مقدار الحرارة المضافة إلى جسم مقسومة على درجة حرارة ذلك الجسم.
- (٢٠) العمليات الطبيعية تجري في اتجاه المحافظة على الإنتروبي الكلي للكون أو زيادته.

### السؤال الخامس: حلل لما يأتي:

- (١) يتمدد البالون المملوء بغاز الهيليوم عند تعريضه لأشعة الشمس.
- (٢) عند تسخين طرف قضيب معدني فإن الطرف الآخر للقضيب يسخن أيضاً.
- (٣) رمل الشاطئ يسخن أسرع من ماء البحر.
- (٤) أثناء عملية انصهار المادة الصلبة تبقى درجة الحرارة ثابتة.
- (٥) أثناء عملية غليان المادة السائلة تبقى درجة الحرارة ثابتة.
- (٦) لا تصل كفاءة المحرك الحراري إلى 100% .
- (٧) تعدّ المضخة الحرارية مبرّكاً يعمل في اتجاهين.

### الاجوبة النهائية

اجوبة السؤال الأول: الاختيار من متعدد ..

(٧) A	(٦) C	(٥) A	(٤) C	(٣) A	(٢) C	(١) B
(١٤) B	(١٣) A	(١٢) C	(١١) C	(١٠) B	(٩) C	(٨) A
(٢١) B	(٢٠) B	(١٩) A	(١٨) A	(١٧) B	(١٦) C	(١٥) A
			(٢٥) C	(٢٤) B	(٢٣) A	(٢٢) A

### اجوية السؤال الثالث: بيان الإجابة الصحيحة والخاطئة ..

× (٩)	× (٨)	× (٧)	✓ (٦)	✓ (٥)	× (٤)	✓ (٣)	× (٢)	✓ (١)
-------	-------	-------	-------	-------	-------	-------	-------	-------

### اجوية السؤال الثالث: ملء الفراغ ..

(١) حركة خطية ، حركة دورانية ، وضع	(٢) المسعر	(٣) حرارية
------------------------------------	------------	------------

### اجوية السؤال الرابع: المصطلح العلمي المناسب ..

(١) الطاقة الحرارية.	(٢) حالة الاتزان الحراري.
(٣) الحرارة.	(٤) التوصيل الحراري.
(٥) الحمل الحراري.	(٦) الإشعاع الحراري.
(٧) الحرارة النوعية.	(٨) المسعر.
(٩) مبدأ حفظ الطاقة.	(١٠) الحرارة الكامنة للانصهار.
(١١) الحرارة الكامنة للتبخير.	(١٢) القانون الأول للديناميكا الحرارية.
(١٣) قانون حفظ الطاقة.	(١٤) المحرك الحراري.
(١٥) كفاءة المحرك الحراري.	(١٦) المبردات.
(١٧) المضخة الحرارية.	(١٨) الإنتروبي.
(١٩) التغير في الإنتروبي.	(٢٠) القانون الثاني للديناميكا الحرارية.

### اجوية السؤال الخامس: التعليل ..

- (١) لأن طاقة أشعة الشمس تحمل ذرات الغاز تتحرك أسرع فتصطدم بجدران البالون بمعدل أكبر.
- (٢) بسبب انتقال الطاقة الحرارية عند تصادم الجزيئات المتلامسة بعضها ببعض.
- (٣) لأن الحرارة النوعية للرمل أقل منها للماء.
- (٤) لأن الطاقة الحرارية المكتسبة لا تؤدي إلى زيادة الطاقة الحركية للجزيئات.
- (٥) لأن الطاقة الحرارية المكتسبة لا تؤدي إلى زيادة الطاقة الحركية للجزيئات.
- (٦) لوجود حرارة مفقودة دائماً.
- (٧) تبريدها المتزل صيفاً وتدفئته شتاءً.

## الفصل ٦ : حالات المادة

### السؤال الأول: اختر الإجابة الصحيحة:

- (١) وحدة قياس الضغط باسكال تكافئ ..  
 (A) N/m (B) N/m<sup>2</sup> (C) N.m<sup>2</sup>
- (٢) حالة المادة التي لها شكل ثابت ..  
 (A) الصلبة (B) السائلة (C) الغازية.
- (٣) حالة المادة التي ليس لها سطح محدد ..  
 (A) الصلبة (B) السائلة (C) الغازية.
- (٤) حركة جزيئات الغاز ..  
 (A) منتظمة (B) انسيابية (C) عشوائية.
- (٥) عند ثبوت درجة الحرارة فإن حجم الغاز ..... إذا زاد ضغطه.  
 (A) يتنصص (B) يزيد (C) لا يتغير
- (٦) إذا تضاعفت درجة حرارة الغاز وثبوت ضغطه فإن حجم الغاز ..  
 (A) يتنصص إلى النصف (B) يتضاعف (C) لا يتغير
- (٧) من التطبيقات على التمدد الحراري دوران ..  
 (A) عجلات الدراجة (B) الدم في الجسم (C) الهواء داخل الغرفة.
- (٨) ترتب حالات المادة تصاعدياً حسب درجة تمددها ..  
 (A) الصلبة ، السائلة ، الغازية (B) السائلة ، الصلبة ، الغازية (C) الغازية ، الصلبة ، السائلة.
- (٩) أكثر المواد الموجودة بين النجوم والمجرات غاز هيلوجين ..  
 (A) في حالة البلازما (B) في الحالة الغازية (C) في الحالة السائلة.
- (١٠) خاصية التوتر السطحي للسوائل ناتجة عن ..  
 (A) قوى التلاصق (B) قوى التماسك (C) اللزوجة.
- (١١) يُعزى تكور الزئبق واتخاذها شكلاً كروياً عندما يوضع على سطح مصقول إلى ..  
 (A) الخاصية الشعرية (B) اللزوجة (C) خاصية التوتر السطحي.
- (١٢) تزداد ممانعة السائل لتعظم سطحه ..  
 (A) بزيادة توتره السطحي (B) بتقصان توتره السطحي (C) بزيادة لزوجه.

- (١٣) يُعزى ارتفاع الوقود في خلية القنديل إلى ..  
 (A) الخاصية الشعرية. (B) اللزوجة. (C) خاصية التوتر السطحي.
- (١٤) عملية تحول البخار إلى سائل عند تبريده تسمى ..  
 (A) التبخر. (B) التكاثف. (C) التطاير.
- (١٥) السحابة المتكونة عندما يبرد الهواء الرطب الملامس لسطح الأرض تسمى ..  
 (A) الضباب. (B) الندى. (C) البرَد.
- (١٦) من التطبيقات العملية على مبدأ باسكال ..  
 (A) مرذاذ العطر. (B) المازج في محرك البنزين. (C) الرافعة الهيدروليكية.
- (١٧) ينشأ ضغط المائع عن قوة ..  
 (A) الاحتكاك. (B) الجاذبية. (C) الطفو.
- (١٨) ضغط الماء على سطح القمر عند أي عمق يساوي ..... قيمته على سطح الأرض.  
 (A) سلس. (B) ربع. (C) ثلث.
- (١٩) تنشأ قوة الطفو عن زيادة الضغط الناتجة عن زيادة ..  
 (A) كثافة المائع. (B) العمق. (C) تسارع الجاذبية.
- (٢٠) اتجاه قوة الطفو ..  
 (A) رأسياً نحو الأسفل. (B) في جميع الاتجاهات. (C) رأسياً نحو الأعلى.
- (٢١) ينطس الجسم في المائع إذا كانت كثافته ..... كثافة المائع.  
 (A) تساوي (B) أصغر من (C) أكبر من
- (٢٢) مبدأ برنولي يمثّل مبدأ ..... عند تطبيقه على الموائع.  
 (A) حفظ الشحنة (B) حفظ الشغل والطاقة (C) حفظ الزخم
- (٢٣) إذا نقصت مساحة الأنابيب ..... تلتق المائع فيقل ضغطه.  
 (A) زادت سرعة (B) قلت سرعة (C) اتعلمت سرعة
- (٢٤) من التطبيقات العملية على مبدأ برنولي ..  
 (A) الغواصات. (B) المكبس الهيدروليكي. (C) مرش الطلاء. (D) الرافعة الهيدروليكية.
- (٢٥) إذا ضاقت مجرى المائع ينقص ضغطه و ..... خطوط انسيابه.  
 (A) تتباعد. (B) تتقارب. (C) تتعلم.

- (٢٦) إذا كانت خطوط الانسياب دقيقة ومعدة كان التدفق ..  
 (A) انسيابياً. (B) مضطرباً. (C) غير منتظم.  
 (٢٧) تصنف المواد الصلبة غير البلورية على أنها ..  
 (A) صلبة متجمدة. (B) سائلة. (C) سوائل لزجة بطيئة التدفق.  
 (٢٨) معامل التمدد الحجمي لجسم  $6^{\circ}\text{C}^{-1}$  فإن معامل تمدده الطولي يساوي ..  
 (A) 18 . (B) 6 . (C) 2 .

**السؤال الثاني:** ضع علامة ✓ أمام العبارة الصحيحة وعلامة ✗ أمام الخاطئة مما يلي:

- (١) الضغط كمية قياسية.
- (٢) معظم الروابط بين جزيئات السائل قوية.
- (٣) جزيئات الغاز المثالي لا تشغل حيزاً.
- (٤) يوجد قوى تجاذب جزيئية بين جزيئات الغاز المثالي.
- (٥) ترتطم جزيئات الغاز بسطح الإناء فترتد عنه دون أن يتغير زخمها الخطي.
- (٦) ضغط الغلاف الجوي على الجسم يتعادل مع قوى الجسم المتجهة إلى الخارج.
- (٧) يتناسب الثابت في القانون العام للغازات عكسياً مع عدد الجزيئات.
- (٨) عند ثبوت حجم ودرجة حرارة الغاز فإن ضغط الغاز المثالي يتناسب طردياً مع عدد جزيئات الغاز.
- (٩) التأثيرات الضوئية المتوهجة ناتجة عن البلازما المضيئة المتكونة في الأنابيب الزجاجية.
- (١٠) البلازما موصلة للكهرباء أما الغازات فقيرة موصلة للكهرباء.
- (١١) تنتج اللزوجة من قوى التماسك والتصادمات بين جزيئات المائع.
- (١٢) ينتج عن لزوجة المائع احتكاكاً داخلياً يعمل على زيادة تدفق المائع.
- (١٣) اللابة المتدفقة من البراكين تعتبر من أكثر الموائع لزوجة.
- (١٤) الكوارتز البلوري والكوارتز الزجاجي متماثلان كيميائياً وفيزيائياً.
- (١٥) تزداد درجة التجمد بزيادة الضغط على سطح السائل.
- (١٦) قابلية الطرق والسحب خاصيتان تعتمدان على تركيب المادة ومرورتها.

**السؤال الثالث:** املأ الفراغ بما يناسبه:

- (١) تختلف لزوجة اللابة المتدفقة من البراكين باختلاف ..... و .....
- (٢) محصلة القوى الأتقية المؤثرة على جوانب الجسم المغمور في مائع تساوي .....

- (٣) الوزن الظاهري للجسم العالق في المائع يساوي .....  
 (٤) ندى بعض الأسماك ..... تقلصها لتتغطس وتنفخها لتطفو.  
 (٥) المواد التي جزيئاتها مصطفة بأخاط مرتبة ومنظمة تسمى .....  
 (٦) تعتمد المرونة على القوى ..... التي تحافظ على بقاء جزيئات المادة معًا.

### السؤال الرابع: اكتب المصطلح العلمي المناسب:

- (١) القوة مقسومة على مساحة السطح.  
 (٢) مواد سائلة أو غازية تتدفق وليس لها شكل محدد.  
 (٣) حجم عينة الغاز يتناسب عكسيًا مع الضغط المؤثر عليه عند ثبوت درجة الحرارة.  
 (٤) درجة الحرارة التي يصبح عندها حجم الغاز مساويًا للصفر.  
 (٥) عند ثبوت الضغط فإن حجم عينة الغاز يتناسب طرديًا مع درجة حرارتها.  
 (٦) لكمية معينة من الغاز المثالي يكون حاصل ضرب ضغط الغاز في حجمه مقسومًا على درجة حرارته بوحدة الكلفن يساوي قيمة ثابتة.  
 (٧) للغاز المثالي يكون حاصل ضرب ضغط الغاز في حجمه يساوي عند المولات مضروبًا في ثابت بولتزمان ودرجة حرارته بوحدة الكلفن.  
 (٨) عدد الجزيئات في عينة كتلتها تساوي الكتلة المولية من المادة.  
 (٩) خاصية للمواد في جميع حالاتها تسبب تمدد المادة فتصبح أقل كثافة عند التسخين.  
 (١٠) دوران الهواء داخل الغرفة.  
 (١١) حالة من حالات الموائع يكون فيها المائع شبه غاز ويتكون من إلكترونات سالبة وأيونات موجبة بحيث توصل الكهرباء.  
 (١٢) ميل سطح السائل إلى التقلص لأقل مساحة ممكنة.  
 (١٣) قوى تجاذب كهرومغناطيسية تؤثر بين جزيئات المادة الواحدة.  
 (١٤) مقياس للاحتماك الداخلي للسائل.  
 (١٥) قوى تجاذب كهرومغناطيسية تؤثر بين جزيئات المواد المختلفة.  
 (١٦) عملية نفاذ الجزيئات المتحركة خلال الطبقة السطحية للسائل عند امتلاكها طاقة مناسبة.  
 (١٧) السوائل التي تبخر بسرعة وسهولة بسبب ضعف قوة التماسك بين جزيئاتها.  
 (١٨) التغير في الضغط المؤثر عند أي نقطة في السائل المحصور ينتقل إلى جميع نقاط السائل بالتساوي.  
 (١٩) وزن عمود المائع مقسومًا على مساحة المقطع العرضي لعمود المائع.

- (٢٠) القوة الرأسية المؤثرة في الجسم المغمور في مائع إلى أعلى.
- (٢١) الجسم المغمور في مائع تؤثر فيه قوة رأسية إلى أعلى تساوي وزن المائع المزاح.
- (٢٢) عندما تزداد سرعة المائع يقل ضغطه.
- (٢٣) الخطوط التي تمثل تدفق الموائع حول الأجسام.
- (٢٤) نمط ثابت ومنتظم يتشكل عندما تنخفض درجة حرارة السائل بحيث يقل متوسط طاقة حركة جزيئاته.
- (٢٥) قدرة الأجسام الصلبة على العودة إلى شكلها الأصلي عندما يزول تأثير القوى الخارجية.
- (٢٦) فواصل تترك بين أجزاء الجسور الخرسانية والفولاذية.
- (٢٧) التغير في الطول مقسوماً على طول الجسم والتغير في درجة الحرارة.
- (٢٨) التغير في الحجم مقسوماً على حجم الجسم والتغير في درجة الحرارة.
- (٢٩) شريحة ثنائية المعدن تستخدم في منظمات الحرارة.

### السؤال الخامس: حلل لما يأتي:

- (١) ليس للسوائل شكل محدد.
- (٢) ليس للغازات شكل محدد.
- (٣) يطفو الثلج فوق سطح الماء.
- (٤) تنخفض كثافة الماء عند تسخينه من  $0^{\circ}\text{C}$  إلى  $4^{\circ}\text{C}$ .
- (٥) يزيد حجم الماء عندما ترتفع درجة حرارته فوق  $4^{\circ}\text{C}$ .
- (٦) تتمكن بعوضة الماء من السير على سطح الماء.
- (٧) تكون خاصية التوتر السطحي للسائل قطرات كروية.
- (٨) التوتر السطحي للزئبق أكبر من التوتر السطحي للماء.
- (٩) تتسطح قطرات الكحول والإيثر على السطح المصقول.
- (١٠) تستخدم في المحركات زيوت عالية اللزوجة.
- (١١) لا يرتفع الزئبق في الأنابيب الضيقة.
- (١٢) يؤدي التبخر إلى خفض درجة حرارة السائل في الإناء.
- (١٣) يزداد ضغط الماء على جسمك إذا غطست إلى أعماق أكبر.
- (١٤) تطفو السفينة المصنوعة من الفولاذ على سطح الماء.
- (١٥) يترك المهتمسون فجوات بين أجزاء الجسور الخرسانية والفولاذية.
- (١٦) للفولاذ والإسمنت المستخدم في المباني معامل التمدد نفسه.



## الاجوبة النهائية

اجوبة السؤال الأول: الاختيار من متعدد ..

Ⓒ (٧)	Ⓑ (٦)	Ⓐ (٥)	Ⓒ (٤)	Ⓒ (٣)	Ⓐ (٢)	Ⓑ (١)
Ⓑ (١٤)	Ⓐ (١٣)	Ⓐ (١٢)	Ⓒ (١١)	Ⓑ (١٠)	Ⓐ (٩)	Ⓐ (٨)
Ⓒ (٢١)	Ⓒ (٢٠)	Ⓑ (١٩)	Ⓐ (١٨)	Ⓑ (١٧)	Ⓒ (١٦)	Ⓐ (١٥)
Ⓒ (٢٨)	Ⓒ (٢٧)	Ⓐ (٢٦)	Ⓑ (٢٥)	Ⓒ (٢٤)	Ⓐ (٢٣)	Ⓑ (٢٢)

اجوبة السؤال الثاني: بيان الإجابة الصحيحة والخاطئة ..

✓ (٨)	× (٧)	✓ (٦)	× (٥)	× (٤)	✓ (٣)	× (٢)	✓ (١)
✓ (١٦)	✓ (١٥)	× (١٤)	✓ (١٣)	× (١٢)	✓ (١١)	✓ (١٠)	✓ (٩)

اجوبة السؤال الثالث: ملء الفراغ ..

(٣) صفراً	(٢) الخاصية الشعرية	(١) تركيبها ، درجة حرارتها
(٦) الكهرومغناطيسية	(٥) المواد الصلبة البلورية	(٤) مثانة العوم

اجوبة السؤال الرابع: المصطلح العلمي المناسب ..

(٣) قانون بويل.	(٢) المائع.	(١) الضغط.
(٦) القانون العام للغازات.	(٥) قانون شارل.	(٤) الصفر المطلق.
(٩) التمدد الحراري	(٨) عدد أفوجادرو.	(٧) قانون الغاز المثالي.
(١٢) خاصية التوتر السطحي.	(١١) البلازما.	(١٠) تيار الحمل.
(١٥) قوى التلاصق.	(١٤) اللزوجة.	(١٣) قوى التماسك.
(١٨) مبدأ باسكال.	(١٧) الاسوائل المتطايرة.	(١٦) عملية التبخر.
(٢١) مبدأ أرخميدس.	(٢٠) قوة الطفو.	(١٩) ضغط المائع.
(٢٤) الشبكة البلورية.	(٢٣) خطوط الانسياب.	(٢٢) مبدأ برنولي.
(٢٧) معامل التمدد الطولي.	(٢٦) وصلات أتمند.	(٢٥) مرونة الأجسام الصلبة.
	(٢٩) المزدوج الحراري.	(٢٨) معامل التمدد الحجمي.

اجوبة السؤال الخامس: التعليل ..

- (١) لأن السائل يتدفق ليأخذ شكل الإناء الذي يحويه.
- (٢) لأنه يتمدد ويتشتر ليملأ الحيز الذي يحويه.

- (٣) لأن كثافة الماء عند درجة حرارة 4 °C أكبر من كثافة الثلج.
- (٤) بسبب تزايد قوى الترابط بين جزيئاته.
- (٥) بسبب تزايد الحركة الجزيئية.
- (٦) لأن جزيئات الماء عند السطح لها قوة تجاذب محصلة في اتجاه الداخل تولد التوتر السطحي.
- (٧) لأن الشكل الكروي هو الشكل الذي له أقل مساحة سطح لحجم معين.
- (٨) لأن قوى التماسك بين جزيئات الزيت أكبر من قوى التماسك بين جزيئات الماء.
- (٩) لأن قوى التماسك بين جزيئاتها ضعيفة.
- (١٠) كي تتدفق ببطء على الأجزاء العلوية للمحرك فتقلل من احتكاكها بعضها ببعض.
- (١١) لأن قوى التماسك بين جزيئات الزيت أكبر من قوى التماسك بين الزيت وسطح الزجاج.
- (١٢) بسبب انخفاض متوسط الطاقة الحركية للجزيئات المتبقية في الإناء فتتخفض درجة الحرارة.
- (١٣) بسبب زيادة كمية الماء فوق جسمك فيكون وزن الماء أكبر كلما زاد العمق.
- (١٤) لأن جسم السفينة مفرغًا وكبيرًا؛ لذا فمعدل كثافة السفينة أقل من كثافة الماء لذلك تطفو.
- (١٥) للسماح بتمدد أجزاء الجسر في أيام الصيف فلا يتقوس أو تنحطم أجزاءه.
- (١٦) حتى يتملحان بنفس اللوحة فلا تتصلح المياه في الأيام الحارة.