

ليلة الامتحان فى الجغرافيا

وادي فاطمة فى الجغرافيا

للتانوية العامة والأزهرية

إهداء/ كامل على

مدرس أول (التاريخ والجغرافيا)

الشوامى بـلقاس دقهلية

01008852693

أولاً = مع تفسير

١. يلتزم نهر النيل فى جريانه ناحية الشمال باستمرار وكأنه يسعى نحو القطب
٢. قلة مياه نهر النيل فى حوضه الأدنى بعكس باقى أنهار العالم .
٣. خروج خور بركة من حدود حوض النيل.
٤. خروج الواحات ودخول منخفض الفيوم ضمن حوض النيل.
٥. تعتبر بحيره ألبرت خزاناً طبيعياً للمياه؟
٦. وجود نباتات المسنقات فى الحوض الأدنى لبحر الجبل؟
٧. تسمى هضبة البحيرات بسقف أفريقيا؟
٨. أهية دول الأندوجو بالنسبة لمصر؟
٩. عدم صلاحية نهر أبای للملاحة؟
١٠. عدم صلاحية نهر عطبرة للملاحة؟
١١. النيل الأبيض بحيرة راكدة مستطيلة؟
١٢. تناقص مائية نهر النيل بالاتجاه نحو المصب؟
١٣. تسمية نهر عطبرة بالنهر الأسود؟
١٤. ضياع نصف إيراد النهر فى المسافة بين منجلا وبحيرة نو.

كامل على

مدرس أول (التاريخ والجغرافيا)

١٥. زيادة الأمطار أو نقصانها لا يؤثر في مقدار الماء الخارج من هضبة البحيرات.
١٦. مصر في الحقيقة هبة النيل الأزرق.
١٧. العوائق النباتية هي أخطر ما يقابل مياه المنابع الاستوائية.
١٨. تناقص المخزون أمام سد خشم القربة؟
١٩. اشتراك مصر مع أوغندا في إنشاء سد أوين؟
٢٠. اختيار مكان السد العالى؟
٢١. ارتفاع ضفاف النيل الأبيض وعدم ضياع مياهه.
٢٢. اختيار مكان سد أسوان.
٢٣. مياه نهر السوبات لا تجف.
٢٤. التفكير في إقامة مشروعات متعددة على مجرى النيل.
٢٥. خروج خور بركة من حدود حوض النيل
٢٦. يتركب السكان في مصر من عنصرين ؟
٢٧. تعد الصحاري المصرية دروعا واقية لوادي النيل ودلتاه؟ (لمصر)
٢٨. غيرت مصر لسانها مرتين .
٢٩. تغير طرق التجارة التي تمر علي مصر عبر فترات تاريخها المختلفة حسب قوتها أو حسب ضعفها
٣٠. مصر دولة أفروآسيوية
٣١. احتفظت مصر بشخصيتها لفترات طويلة من تاريخها ؟
٣٢. تغير المظهر التضاريسي لجنوب مصر (تهجير أهل النوبة)
٣٣. تكوين ثنية قنا
٣٤. اتساع السهل الفيضي علي الجانب الغربي من وادي النيل بين الجيزة ونجع حمادي ؟
٣٥. معدل نمو الدلتا في الماضي كان أسرع من الوقت الحالي
٣٦. لاتقع دمياط ورشيد حاليا علي الساحل ؟
٣٧. تكوين الدلتا في موقعها الحالي ؟

- ٣٨ . للدلّتا رؤوس صخرية ممتدة في البحر المتوسط ؟
- ٣٩ . الدلتا إقليم جغرافي واحد متجانس ومتكامل .
- ٤٠ . اختلاف سمك التربة في الوادي والدلتا
- ٤١ . اختلاف تركيب التربة ودرجة المسامية بين الوادي والدلتا
- ٤٢ . يتشابه منخفض الفيوم مع منخفضات الصحراء الغربية في بعض الخصائص ويختلف عنها في خصائص أخرى
- ٤٣ . ارتفاع نسبة الأملاح في بحيرة قارون ؟؟؟ (عدم تبخر مياه بحيرة قارون) .
- ٤٤ . يطلق علي منخفض الفيوم مصر الصغري
- ٤٥ . منخفض الفيوم بستان مصر الأول
- ٤٦ . أراضي الفيوم علي هيئة مدرجات ؟ تكوين بحيرة قارون ؟
- ٤٧ . تصريف المياه في الصحراء الغربية له وجهة داخلية
- ٤٨ . نظام التصريف المائي في الصحراء الشرقية له وجهه خارجية
- ٤٩ . الأهمية الإقتصادية لمنخفض وادي الريان
- ٥٠ . انتشار الواحات في الصحراء الغربية
- ٥١ . الأهمية الأمنية والاستراتيجية لسيناء
- ٥٢ . يطلق علي البحرية الواحة الصغيرة
- ٥٣ . بحر الرمال العظيم غير مأهول بالسكان
- ٥٤ . يوجد ارتباط بين مناطق العمران البشري وموارد المياه في شمال سيناء ؟
- ٥٥ . أهمية سيناء التعدينية
- ٥٦ . توجد فرشات الرمال في جنوب مصر بصورة مكثفة ؟؟
- ٥٧ . للبحر المتوسط تأثير واضح علي مناخ مصر
- ٥٨ . للموقع الفلكي تأثير واضح في مناخ مصر
- ٥٩ . ينعلم أثر عامل الارتفاع في الوادي والدلتا

كامل على
مدرس أول (التاريخ والجغرافيا)

٦٠. أسوان أشد حرارة من الإسكندرية

٦١. الأسكندرية أغزر مطرا من بور سعيد رغم وقوعهما علي الساحل

٦٢. امتداد الرياح الشمالية إلي جنوب مصر صيفا وطول العام علي الوجهة البحري

٦٣. يعتبر فصل الخريف أفضل فصول السنة طقسا

٦٤. يكسو الضباب الكثيف الوجهة البحري في فصل الخريف؟؟

٦٥. الإسكندرية أغزر جهات مصر مطرا

٦٦. فصل الربيع أسوء فصول السنة مناخا

٦٧. تعد الإنخفاضات الجوية أكبر ظاهرة مناخية في مصر

٦٨. البحر الأحمر منطقة مناخية منعزلة

٦٩. للنيل والترع والمصارف تأثير في مناخ مصر

٧٠. عدم سقوط الأمطار علي مصر صيفا .

٧١. الرياح الشمالية جافة رغم انها تعبر مسطحات مائية

٧٢. يعتبر إقليم علبة وحدة بيولوجية نباتية ؟ منطقة جبل علبة أغني مناطق الإقليم شبه

الصحراوي بالنبات

٧٣. لا تدخل الواحات المصرية ضمن الإقليم الصحراوي نباتيا

٧٤. تدخل منطقة ساحل مريوط ضمن إقليم البحر ففالمتوسط ؟

٧٥. هجرة السكان من الريف إلي المدينة ؟

٧٦. أسباب النمو السكاني ؟

٧٧. يختلف توزيع السكان وكثافتهم في الدلتا ؟

٧٨. تقل الكثافة السكانية في جنوب الوادي ؟

٧٩. ارتفاع الكثافة السكانية في غرب الوادي من نجع حمادي إلي الجيزة؟؟؟

٨٠. يدل الهرم السكاني عي أن مصر تمر بمرحلة الشباب

٨١. استقرار الهجرة الداخلية في السنوات الأخيرة ؟

٨٢. هناك عوامل مؤثرة علي المواليد والوفيات ؟
٨٣. الاسكندرية وبور سعيد والسويس والإسماعيلية من المدن الجاذبة للسكان؟
٨٤. الجيزة وكفر الشيخ من المدن الجاذبة للسكان ؟
٨٥. جنوب الوادي أشد طردا للسكان من شماله ؟
٨٦. القاهرة أشد جهات مصر جذبا للسكان ؟
٨٧. المنوفية أشد جهات مصر طردا للسكان ؟؟؟
٨٨. أسباب الهجرة العائدة ؟
٨٩. انشاء قناطر ادفينا وزفتي ؟
٩٠. علي الرغم من التطور الهائل في انتشار نظم الري في مصر فلا تزال الاستفادة من الري لا تتعدى 50% ؟ بسبب :
٩١. تركز زراعة قصب السكر في جنوب مصر ؟
٩٢. فقدت مصر سمعتها التاريخية كإحدى صوامع القمح في العالم ؟
٩٣. القمح في حاجة لسياسة زراعية لابد من تطبيقها ؟
٩٤. للقطن المصري أهمية اقتصادية ؟
٩٥. اتباع سياسة لتسويق الإنتاج الزراعي ؟
٩٦. أهمية الثروة الحيوانية في مصر :-؟
٩٧. أسباب قلة الثروة الحيوانية :الثروة الحيوانية محدودة في مصر ؟
٩٨. عدم استغلال خام الحديد في الصحراء الشرقية ؟
٩٩. يلعب الفوسفات دورا هاما في الاقتصاد المصري ؟
١٠٠. تكوين خام الفوسفات في مواضعه الحالية ؟.
١٠١. تسعى الدولة حاليا إلي زيادة معدلات تصدير البترول ؟
١٠٢. أهمية خط سوميد ؟
١٠٣. بفضل الأوربيون زيارة مصر في الشتاء ؟

- ١٠٤ . تركز الدولة حاليا علي دعم قطاع السياحة ؟
- ١٠٥ . أسباب جذب مصر للسياح من أنحاء العالم ؟
- ١٠٦ . تأثرت الصناعة المصرية بفترة الإنفتاح الاقتصادي ؟
- ١٠٧ . اختيار مصنع الحوامدية لتكرير السكر ؟
- ١٠٨ . أهمية صناعة الغزل والنسيج ؟
- ١٠٩ . أهمية صناعة الأسمدة ؟
- ١١٠ . زيادة الطلب علي مواد البناء في الفترة الأخيرة ؟
- ١١١ . ضرورة تطوير صناعة الطوب ؟
- ١١٢ . توطن الصناعات الهندسية في إقليم القاهرة الكبرى ؟
- ١١٣ . صناعة الأدوية من الصناعات الإستراتيجية في مصر ؟
- ١١٤ . أسباب نجاح صناعة الزيوت في مصر ؟
- ١١٥ . النقل المائي في مصر يواجه صعوبات ؟
- ١١٦ . ميناء الأسكندرية ميناء مصر الأول ؟ أهمية ميناء السويس ؟
- ١١٧ . أهمية موانئ سفاجا - القصير - نويبع - دمياط الجديد ؟
- ١١٨ . أهمية ميناء القاهرة الجوي ؟
- ١١٩ . حققت مصر توازن نسبي في علاقاتها التجارية منذ منتصف السبعينيات ؟
- ١٢٠ . عدم هبوط معدلات المواليد في مصر بالسرعة المطلوبة؟؟؟
- ١٢١ . أهمية دراسة اتجاهات الهجرة الداخلية في مصر؟؟؟
- ١٢٢ . الانتشار الواسع للصناعات الغذائية في أرجاء الجمهورية ؟
- ١٢٣ . دخل مصر من السياحة عرضة للاهتزاز ؟

ثانياً=

انكر المفهوم الجغرافي للعبارات التالية (اكتب ما تدل عليه العبارات)

(١) الموقع بالنسبة لدوائر العرض وخطوط الطول

كامل على
مدرس أول (التاريخ والجغرافيا)

٢) الموقع بالنسبة لليابس والماء

٣) صخرة محدبة لم يستطع النهر اختراقها فألتف حولها

٤) سلالة تتميز بالقامة المتوسطة أو فوق المتوسطة النحيفة طويلة الرأس ذات البشرة السمراء ويمثلها تمثال رمسيس

٥) سلالة تتميز بالرأس العريض والقامة المائلة للقصر المكتنزة عريضة المنكبين ويمثلها

تمثال الكاتب القاعد القرفصاء

٦) كانت أهم الهجرات التي استقبلتها مصر واكبرها عددا

٧) هي الخطوط التي تحدد الأبعاد الجغرافية للدولة وتحدد رقعتها المساحية وكيانها كدولة مستقلة ذات سيادة

٨) يتمشي مع ساحل البحر المتوسط من رفح شرقا وحتى السلوم غربا بطول يزيد علي الألف كيلو

٩) الحد الذي يفصل بين مصر وليبيا ويتمشي مع خط طول 25 شرقا .

١٠) هو تاريخ عمر الأرض ويقدر بأربعة بليون سنة

١١) بحيرة صناعية أدت إلي تغيير المظهر التضاريسي لمنطقة النوبة في جنوب مصر

١٢) صخور جرانيتية تعترض مجري النهر بعد السد العالي ولمسافة 12 كم

١٣) هي الأراضي الواقعة إلي الشمال والشمال الشرقي والغربي من نقطة تفرع النيل عند القناطر الخيرية

وحتى ساحل البحر المتوسط

١٤) منخفض يقع في الصحراء الغربية ولكنه تصله مياة النيل وأرضه خصبة

١٥) هضبة في الصحراء الغربية بجنوب مصر تتكون من الحجر الرملي

١٦) هضبة في الصحراء الغربية تتكون من الحجر الجيري وتمتد لمسافة 700 كم حتى ساحل البحر المتوسط

١٧) بيئة تحيط بها الصحاري من كل مكان ويمارس أهلها نشاط الزراعة وتربية الماشية

محطات هامة للراحة والتموين في الصحراء الغربية منذ أقدم العصور

١٨) الواحة التي تقع في وسط الصحراء الغربية

١٩) أصغر الواحات في الصحراء الغربية

٢٠) منخفض رملي في الصحراء الغربية علي الطريق الصحراوي بين القاهرة والإسكندرية

٢١) مساحة هائلة من الرمال في الصحراء الغربية جنوب سيوة بين مصر وليبيا وهي خالية من

صور العمران لخطورتها

- (٢٢) كثبان رملية طولية الشكل ومتوازية أيضا
- (٢٣) غرد يمتد من شرق الواحات البحرية وحتى الواحات الخارجة
- (٢٤) عبارة عن رواسب رملية مفروشة فوق مساحات كبيرة من سطح هضبة الصحراء الغربية
- (٢٥) يمتد من غرب الإسكندرية وحتى مدينة السلوم يضيق ويتسع علي حسب ضغط أو تراجع الهضبة.
- (٢٦) تقع بين وادي النيل والدلتا من الغرب وبين البحر الأحمر وخليج السويس وقناة السويس من الشرق
- (٢٧) ثاني أكبر أودية الصحراء الشرقية الجافة بعد وادي الحمامات ومنابعة العليا في السودان وينتهي عند بحيرة السد
- (٢٨) اكبر الأودية الجافة في الصحراء الشرقية
- (٢٩) وادي في الصحراء الشرقية عند كوم امبو
- (٣٠) هضبة مثلث الشكل قاعدتها علي البحر المتوسط ورأسها علي البحر الأحمر عند رأس محمد
- (٣١) هي أعلى قمة جبلية في مصر
- (٣٢) تعتبر مصرف لمياة منخفض الفيوم
- (٣٣) زيادة السكان في فترة زمنية معينة
- (٣٤) أهم ظاهرة مؤثرة في مناخ مصر ولولها لصار مناخ مصر علي وتيرة واحد
- (٣٥) من العوامل المؤثرة في مناخ مصر فتقلل من حرارة الصيف وبرودة الشتاء
- (٣٦) تأتي إلي مصر في فصل الشتاء وتسبب سقوط الأمطار الشتوية
- (٣٧) تأتي إلي مصر في فصل الربيع وتسبب هبوب رياح الخماسين
- (٣٨) سحب منخفضة مثقلة ببخار الماء تتكاثف بفعل الهواء البارد وتسقط مطرا
- (٣٩) حالة الجو في المناطق الساحلية أثناء مرور الإعصار
- (٤٠) أغنى جهات الإقليم شبه الصحراوي بالكساء النباتي
- (٤١) عدد السكان الذين يعيشون في الكيلو متر المربع أو الميل المربع
- (٤٢) السكان الذين يعيشون في المدن وعدادهم في تزايد

٤٣) السكان الذين يعيشون في القرى وعددهم في تناقص

٤٤) تحول القرى إلى مدن مع ازدياد التقدم والتنمية

٤٥) تقسيم المجتمع إلى ذكور وإناث وتوزيعهما على فئات العمر.

٤٦) عدد المواليد بالنسبة لكل ألف من السكان .

٤٧) عدد الوفيات بالنسبة لكل ألف من السكان

٤٨) انتقال السكان من مكان لآخر داخل البلاد بقصد الإقامة المؤقتة أو الدائمة

٤٩) انتقال السكان من مكان لآخر خارج البلاد

٥٠) عودة أعداد من السكان إلى مواطنها الأصلية ومسقط رأسها

٥١) هي صافي الهجرة المغادرة والهجرة العائدة

٥٢) إجمالي مساحة المحاصيل في كل المواسم الزراعية خلال السنة .

٥٣) تقوم فكرتها على توصيل المياه إلى الحقول من خلال شبكة من قنوات الري

٥٤) نظام تقسم فيه الأراضي الزراعية إلى أحواض كبيرة تروي الواحد تلو الآخر

٥٥) نظام للري أدخله محمد علي وأدى إلى زراعة الأرض أكثر من مرة في العام

٥٦) عبارة عن أنابيب من الفخار أو الأسمنت توضع على أعماق معينة وبانحدار يسمح بجريان

المياه حتى تنتهي لمصرف مكشوف

٥٧) من الأقطان طويلة التيلة ويعتبر أفضل أنواع القطن وأوسعها انتشارا .

٥٨) من الأقطان طويلة التيلة ويعتبره الغزالون من أحسن أنواع القطن في العالم

٥٩) هي الأقطان التي تعتمد عليها صناعة الغزل والنسيج المحلية

٦٠) تعني سعي الفلاحين إلى تأمين حاجاتهم من المواد الأساسية والمعاشية من إنتاج الغذاء

بصورة المختلفة

٦١) هي مكونات البناء الخرساني الحديث من أسمن ومواد أخرى مكملة

٦٢) هي الطين أو الطوب اللبن والأخشاب المحلية وظلت سائدة لآلاف السنين.

٦٣) الفرق بين قيمة الصادرات وقيمة الواردات

٦٤) هي من الصادرات غير المنظورة في مصر

٦٥) زيادة نسبة الواردات عن الصادرات بصورة كبيرة

٦٦) سكون الهواء تماما المحافظة التي تكسب السكان أكثر مما تخسر

٦٧) المحافظة التي تخسر السكان أكثر مما تكسب

٦٨) المحافظة التي تخسر سكان علي قدر ما تكسب

٦٩) يطلق عليها مرحلة الإستقرار والنضج السكاني وتتميز بانخفاض معدل المواليد وانخفاض

معدل الوفيات وقد **قالت** وصات إليها الدول المتقدمة مثل فرنسا وألمانيا .

أجب عن الأسئلة الآتية

١) اذكر المقومات الطبيعية والبشرية للإنتاج الزراعي ؟.

٢) ما الفرق بين المساحة المحصولية والمساحة الفعلية ؟

٣) ما أثر العمران علي الرقعة الزراعية ؟

س 2 (القطن هو ذهب مصر الأبيض ذو أهمية تجارية كبيرة) في ضوء العبارة وضح

كامل علي
مدرس أول (التاريخ والجغرافيا)

١) مظاهر اهتمام الدولة بمحصول القطن .

٢) التوزيع الإقليمي للقطن .

٣) الأهمية الإقتصادية للقطن .

٤) الظروف الطبيعية اللازمة لزراعة القطن في مصر .

س3 : اشرح بالتفصيل صناعة الجلود في مصر ؟

س4 : اذكر المقومات الأساسية للصناعة المصرية ؟

س5 . تبذل الدولة جهوداً عظيمة من أجل تنمية الإنتاج الزراعي .. و تتمثل هذه الجهود في أربعة

محاور رئيسية تشكل مجالات التنمية الزراعية هي:

س 6 : اذكر أسباب تطبيق الأسس العلمية الحديثة في استغلال الثروة الحيوانية ؟

س7 : (تحرص الدولة علي عدم المساس بالحد الأدنى المطلوب لزراعة القمح لتأمين أقصى قدر من الأمن الغذائي في مصر) في ضوء هذه العبارة تكلم عن :-

١) الظروف الملائمة لزراعة القمح في مصر .

٢) التوزيع الإقليمي لزراعة القمح في مصر .

٣) السياسة التي وضعتها الدولة لتوفير الكميات اللازمة من القمح لتتناسب مع معدلات الإستهلاك المرتفعة .

س8 : (الحديد والمنجنيز والفوسفات والألمونيوم من المعادن الهامة في مصر التي تخدم الأغراض الصناعية بها) في ضوء العبارة اذكر ؟

١) أهم مراكز استخراج الحديد والمنجنيز والفوسفات في مصر .

٢) مناطق تركيز صناعة الحديد والصلب والألمونيوم .

٣) الأهداف الرئيسية للتنمية الصناعية في مصر .

س11 : اشرح بالتفصيل أهم الخصائص الطبيعية للصحراء الغربية ؟

س13 : اشرح كيف يتكون المنخفض الجوي في مصر صيفا ؟

س14 : تكلم عن طابع العمران البشري في شبة جزيرة سيناء ؟.

س15 : (من المنتظر أن تتبع مصر الدول المتقدمة في التريث في معدلات المواليد وهبوطها) في ضوء العبارة وضح :-

١) العوامل التي تآثر علي المواليد والوفيات ومن ثم علي الزيادة السكانية .

٢) ما الأسباب التي أدت إلي هبوط معدل الوفيات لا سيما الأطفال الرضع في الوقت الحالي

٣) ما المقصود بالهجرة العائدة ؟ وما العوامل التي أدت إليها ؟ ثم اذكر النتائج المترتبة علي ذلك ؟

س16 : اذكر الجهود التي بذلتها الدولة للنهوض بالسكك الحديدية وتطويرها ؟

مشروعات الري الدائم التي بدأها محمد علي) في ضوء العبارة وضح :- الجوانب الإيجابية

والسلبية التي نتجت عن بناء السد العالي .

س18 : ما العلاقة بين انحدار النهر وتصريف النهر.

س19 : ما أهمية نهر عطبرة كمورد للنيل.

س20 : حدد أوجه الاختلاف هضبة الحبشة عن هضبة البحيرات من حيث موارد المياه.

س12 : حدد أوجه الاختلاف بين النيل

الرئيسي جنوب الخرطوم والنيل الرئيسي شمال الخرطوم.

خامسا: ما النتائج المترتبة على

- س17: الموقع الفلكي والجغرافي لمصر ؟
- معدلات المواليد المرتفعة في مصر ؟
- وجود الصرف المغطي في مصر ؟
- استصلاح الأراضي الزراعية في كفر الشيخ
- شق ترعة السلام ؟
- انحدار الوادي والدلتا انحدارا طفيفا من الجنوب إلي
- تحول مصر من نظام الري الحوضي إلي الري الدائم ؟
- حظر استيراد السلع التي لها نظير ينتج في مصر ؟
- الزحف العمراني علي الرقعة الزراعية في مصر
- حفر بحيرة ناصر (السد العالي)
- سرف المياه الزائدة من منخفض الفيوم إلي بحيرة قارون
- استمرار الدولة في دعم الصناعة ؟
- زيادة الضغط علي ميناء الإسكندرية ؟
- بناء السد العالي بالنسبة للتربة ؟
- اختراق زراعتان مائتان هما البحر الأحمر والخليج العربي للوطن العربي واقترابهما من البحر المتوسط ؟
- التوزيع الإقليمي للأنشطة الإقتصادية في مصر ؟
- شدة انحدار وسرعة تيار نيل فيكتوريا.
- امتداد جبال الجون.
- قلة عمق بحيرة كيوجا

- الانخفاضات الربيعية التي تتعرض لها مصر
- الهجرة الداخلية للكثير من أبناء الشعب المصرى
- الموقع الفلكى لمصر
- امتداد البحر المتوسط شمال مصر
- هبوب الرياح الغربية العكسية على مصر
- وجود الشلالات فى نهر اباى
- اتفاقية عنيتيبي
- تنمية الموانى المصرية
- دعم الحكومة المصرية المستمر للسياحة
- التقاء نهر السوبات ببحر الجبل.
- ارتفاع ضفاف بحر الزراف.
- وجود نباتات المستنقعات فى الحوض الأدنى لبحر الجبل.
- امتداد الصحراء المصرية غربا وشرقا.
- تقارب البحر الأحمر مع البحر المتوسط.
- الموقع الجغرافى لمنخفض الريان
- الموقع الجغرافى لمصر
- اختراق نهر النيل ل35 درجة عرضية
- الانخفاضات الشتوية التي تتعرض لها مصر

سادسا: قارن بين

✓ قارن بين الاعاصير الشتوية الاعاصير الربيعية

✓ القطاع الطولى والعرضى لنهر النيل

تاسعا: أكمل العبارات الآتية

✓ سلالة البحر المتوسط والسلالة الجيزاوية

✓ الأقاليم المناخية الموجودة في مصر

من حيث الموقع والظروف المناخية

في كل إقليم مع ذكر مدينتين تنتمي لكل إقليم

✓ اقليم البحر المتوسط النباتي والأقليم

الصحراوي النباتي من حيث التوزيع

الجغرافي.

✓ قارن بين المرحلة البدائية ومرحلة

الأنفجار السكاني من حيث معدل

المواليد والوفيات

✓ قارن بين مواد البناء التقليدية ومواد

البناء الحديثة

✓ النمو السكاني والهرم السكاني

✓ الحوض الأعلى والأدنى لنهر النيل

✓ هضبة البحيرات أثيوبيا من حيث التضاريس

✓ الانخفاضات الشتوية والربيعية فى مصر

✓ أحوال المناخ فى الصيف وأحوال المناخ

فى الشتاء

✓ أحوال المناخ فى الخريف وأحوال المناخ فى الربيع

✓ الأحواض والمنخفضات

✓ الشروط الطبيعية اللازمة لزراعة كل

والأنحدار والموقع

من قصب السكر والذرة الشامية

✓ كثافة السكان الحسابية وكثافة السكان الحقيقية

✓ الصحراء الشرقية والغربية من حيث

موارد المياه ونظام التصريف

(١) بدأ نهر النيل يشق طريقه في مصر في أواخر عصر

(٢) يعتمد الصرف في مصر الوسطي والعليا علي مصرف

(٣) توجد مكامن البترول في الصحراء الغربية في طبقات العصر

(٤) توجد طبقات الفوسفات في مصر بتكوينات العصر

(٥) تعتبر البيئة المصرية بيئة مثالية لزراعة محصول

(٦) أهم طريق ملاحى في مصر والعالم .

(٧) الأقليم شبه الصحراوي في مصر يمتد من مدينة إلى

(٨) يعطى البترول المصرى فائضا فى و..... ويوجد عجز فى

(٩) مينائى و..... يمسان ببوابات قناة السويس الشمالية والجنوبية

(١٠) تم تحديد خط الحدود بين مصر وليبيا عام

(١١) تم تحديد خط الحدود بين مصر والسودان عام وبينها وبين فلسطين عام

(١٢) أهم العناصر التى تفتقر إليها التربة المصرية عنصرى و.....

(١٣) مد أول خط سكة حديد فى مصر ليربط بين مدينتى و..... عام 1856م

(١٤) أنشئ أول مصنع ميكانيكى للحريز فى مدينة بينما توجد فى مدينة أهم مصانع الغزل والنسيج

(١٥) تأتي الإنخفاضات الجوية نحو مصر من البحر المتوسط متجهة نحو

(١٦) البرسيم له القدرة على استخلاص عنصر من الهواء و..... فى التربة .

(١٧) تتركز زراعة وصناعة قصب السكر فى بينما تتركز زراعة وصناعة بنجر السكر فى مصر

(١٨) يتغذ منخفض الفيوم عن بمياة النيل عن طريق

(١٩) يصل برزخ السويس بين قارة وقارة

(٢٠) سلالة البحر المتوسط يمثلها تمثال أما السلالة الحيز اوية فيمثلها تمثال

٢١) مياة البحر المتوسط تقلل من حرارة وبرودة

٢٢) بدأ محمد علي مشروعات المياة وظبط النيل عام 1820م وأدخل نظام الري

٢٣) تقع مصر في نطاق المناخ ومناخ

٢٤) يمثل حوض البحر الأحمر منطقة مناخية ذات طابع نظرا لظروف التضاريس .

٢٥) يقع جبل علبة في الركن من الصحراء

٢٦) اقيم مجمع الألمونيوم في مصر بمدينة مستفيدة من

٢٧) تتبع الحدود السياسية بين مصر وليبيا في معظمها مع خط طول

٢٨) تمتد الحدود الشمالية لمصر من شرق مدينة حتي غرب مدينة

٢٩) تمتد الحدود الشرقية لمصر من شرق مدينة علي خليج العقبة وحتى نقطة شرق مدينة علي

البحر المتوسط .

٣٠) يمتد اقليم البحر المتوسط في مصر من ساحل البحر المتوسط وحتى خط عرض مدينة

٣١) يمتد الإقليم شبه الصحراوي من مدينة وحتى مدينة

٣٢) يمتد الإقليم الصحراوي في مصر من مدينة حتي آخر الحدود المصرية من ناحية الجنوب

٣٣) ظهرت بحيرة بعد بناء السد العالي ؟

٣٤) تعتبر من الصادرات غير المنظورة .

كامل على

مدرس أول (التاريخ والجغرافيا)

٣٥) الموانئ الرئيسية في مصر ميناء و وبور سعيد والتي تستأثر 5/4 الصادرات

والواردات المصرية .

٣٦) ميناء يستأثر ب 70 % من الصادرات والواردات المصرية بينما ميناء له أهمية

كبيرة في نقل الركاب والبضائع إلي العراق والسعودية والاردن .

٣٧) من أنواع السياحة الموجودة في مصر السياحة و.....

٣٨) يخدم أراضي شرق الدلتا مصرف وفي غرب الدلتا مصرف

٣٩) تخرج ترعة الإسماعيلية من بينما تخرج ترعة النوبارية من

٤٠) اكبر البحيرات الشمالية انتاجا للثروة السمكية بحيرة

٤١) تخرج ترعة الإبراهيمية من أمام القناطر ... لتتصل ببحر لري أراضي الفيوم .

- (٤٢) اكبر مصارف الوجة القبلي مصرفويبدأ من مدينة ما بين ترعة وبحر يوسف ويصب في الرياح البحيري عند بلدة
- (٤٣) يقترب نهر النيل اقترابا شديدا من ساحل البحر الأحمر في نقتطين هما و.....
- (٤٤) مصر ملتقي قارتين هما و..... ومفرق بحرين هما البحر والبحر عن طريق برزخ السويس.
- (٤٥) كانت مصر جزء من قارة قديمة تسمى .. وشمالها بحر يطغي علي أرض مصر من حين لآخر يسمى بحر
- (٤٦) الدلتا هي الأراضي الواقعة إلي الشمال والشمال الشرقي والغربي من نقطة تفرع الدلتا عند
- (٤٧) اكبر منخفضات الصحراء الغربية واعمقها منخفض
- (٤٨) تقع هضبة و..... في القسم الأوسط من سيناء .
- (٤٩) ارتبطت صور العمران في القسم الشمالي من سيناء ب بصورة تطابقية أما في القسم الجنوبي فقد اقتصرت علي الضيقة
- (٥٠) ارتبطت صور العمران في الصحراء الشرقية وجنوب سيناء ب و..... و.....
- (٥١) يعترض نهر النيل شمال بحيرة السد العاليي
- (٥٢) تتكون هضبة الجلف الكبير من الحجر
- (٥٣) تمتد الهضبة الجيرية بخط عرض يمر بمدينة جنوب مصر وحتى ساحل البحر
- (٥٤) تعد اكبر ظاهرة جغرافية تسبب تغيرا جوهريا في طقس مصر .
- (٥٥) يتصل منخفض الفيوم بوادي عن طريق بحر
- (٥٦) تقوم مناطق الإستقرار في الصحراء الشرقية علي تعدين و.....
- (٥٧) تتركز اكبر مساحات لزراعة القمح في الصعيد في محافظتي و.....
- (٥٨) تقع مصر في الركن لقارة افريقيا .
- (٥٩) اكبر الأودية الجافة في الصحراء الشرقية وادي
- (٦٠) تتوسط الصحراء الغربية هي واحة
- (٦١) من المحاصيل التي تجهد التربة ويحتاج لعناية خاصة في مراحل نموه .

٦٢) تعد الكثبان الرملية والغرود من عوامل التعرية

٦٣) أكثر جهات الوادي كثافة سكانا فيما بين الجيزة ونجع حمادي علي الضفة

٦٤) موقع مصر الجغرافي جعلها تتحكم في أحد أهم طريقين للملاحة العالمية وهو طريق وطريق آخر إضافي هو طريق و عند ثنية قنا .

٦٥) يختلف الكساء الخضري في إقليم البحر المتوسط باختلاف كمية الساقطة عليه ونوع

٦٦) يختلف الكساء الخضري في إقليم البحر المتوسط من سنة إلي أخرى بسبب تذبذب واختلاف

٦٧) أشد المحافظات طردا للسكان وأشد المحافظات جذبا للسكان محافظة

٦٨) من المحافظات شديدة الإرتفاع في كثافتها السكانية و ومن المحافظات المتوسطة

الكثافة و ومن المحافظات المنخفضة الكثافة و ..

٦٩) هناك علاقة تناسب بين جودة التربة وارتفاع الإنتاجية الزراعية من ناحية وبين كثافة السكان من ناحية .

٧٠) خط السوميد يبدأ من جنوب السويس مارا بجنوب القاهرة حتي في الاسكندرية .

٧١) يمتد نهر النيل بين دائرتي عرض و

٧٢) تبلغ مساحة حوض النيل بينما مساحة دول الحوض

٧٣) تبلغ مساحة هضبة البحيرات

٧٤) روافد النيل الأزرق و

٧٥) من روافد نهر السوبات

٧٦) من روافد بحر العرب

٧٧) يبلغ طول نيل فيكتوريا

٧٨) يصل إلى مصر من هضبة البحيرات % من مياه النيل

٧٩) يصل إلى مصر من هضبة أثيوبيا % من مياه النيل

٨٠) من مشاريع التخزين الموسمي و

٨١) من مشاريع التخزين القرني و

- ٨٢) يقع سد خشم القربة على نهر.....
- ٨٣) يقع سد الروصيرص على النيل.....
- ٨٤) يبلغ طول النيل الأبيض.....كم
- ٨٥) يبلغ ارتفاع هضبة البحيرات.....
- ٨٦) يبلغ طول نهر النيل.....
- ٨٧) من البحيرات الانخفاضية فى هضبة البحيرات.....
- ٨٨) من البحيرات الأخدودية فى هضبة البحيرات.....
- ٨٩) يبلغ طول نهر كاجيرا.....
- ٩٠) يبلغ طول نهر سمليكى.....بمعدل إنحدار.....
- ٩١) يبلغ طول بحر الجبل.....
- ٩٢) يبلغ طول بحر الزراف.....
- ٩٣) تم بناء خزان أسوان عام.....
- ٩٤) وقعت إتفاقية عنيبى بين.....و.....و.....و.....

عاشرا = ضع كلمة صح أو خطأ مع ذكر السبب فى الحالتين

- يختزن النيل مياهه فى نهر العطبرة أيام الفيضان. ()
- يختزن نهر السوبات مياه النيل الأبيض فى أيام الفيضان. ()
- يتساوى مقدار مياه نهر السوبات ومياه بحر الجبل فى بعض الشهور ()
- تقوم السدود النباتية بتخزين مياه الفيضان. ()
- مصر فى الحقيقة هبة النيل الأبيض. ()
- يضيع ثلث إيراد النهر فى المسافة بين منجلا وبحيرة نو. ()
- عقدت إتفاقية عنيبى بين ثلاثة دول. ()
- يخترق نهر النيل 33 درجة عرضية. ()
- اختلاف القطاع الطولى لنهر النيل عن القطاع الطولى لأى نهر اخر. ()
- يصل النيل الأبيض إلى الخرطوم وقد أصبح كهلا . ()

كامل على
مدرس أول (التاريخ والجغرافيا)

- أراد البرتغاليون إقناع ملك الحبشة بشق مجرى منابع نهر عطبرة إلى بحيرة تانا. ()
- تحصل مصر من إيراد نهر النيل 55.5 مليار متر مكعب. ()
- تأتي مصر فى مقدمة الدول اعتمادا على نهر النيل. ()
- يتمشى الحد الشرقى مع ساحل البحر المتوسط) ()
- تقع مصر عند ملتقى قارتى آسيا وأفريقيا. ()
- يبلغ طول الحد الشمالى 1000 كيلو متر. ()
- يبلغ طول الحد الجنوبى 1270 كيلو متر. ()
- للكثبان الرملية أهمية خاصة لسكان شمال سيناء. ()
- تم تعيين الحد الغربى عام 1955م. ()
- نظام تصريف الصحراء الغربية لة وجهة خارجية. ()
- تخلو الصحراء الغربية من تكوينات الرمال. ()
- يحد الصحراء الشرقية من الغرب نهر النيل. ()
- البحر الأحمر منطقة مناخية منعزلة. ()
- تعمل الإنخفاضات الجوية على التغيير فى مناخ مصر. ()
- تعمل الرياح الغربية العكسية على سقوط الأمطار الشتوية. ()
- الزيادة السكانية فى القرن الـ19 وأوائل العشرينات مطلوبة. ()
- دخول المائة ميدان العمل يقلل من الزيادة السكانية. ()
- أشد محافظات الصعيد طردا للسكان أسبوط. ()
- يهاجر سكان شرق الدلتا الى الإسكندرية. ()
- يهاجر سكان غرب الدلتا الى السويس. ()
- أشد المحافظات جذبا للسكان هى الجيزة. ()
- نسبة العاملين فى المدن الكبرى أقل من الريف. ()
- لايعتبر الأطفال والشيوخ من الفئة العاملة. ()
- يعتبر المجتمع المصرى مجتمع شبابى. ()
- يستخدم المنجنيز فى صناعة دبغ الجلود. ()

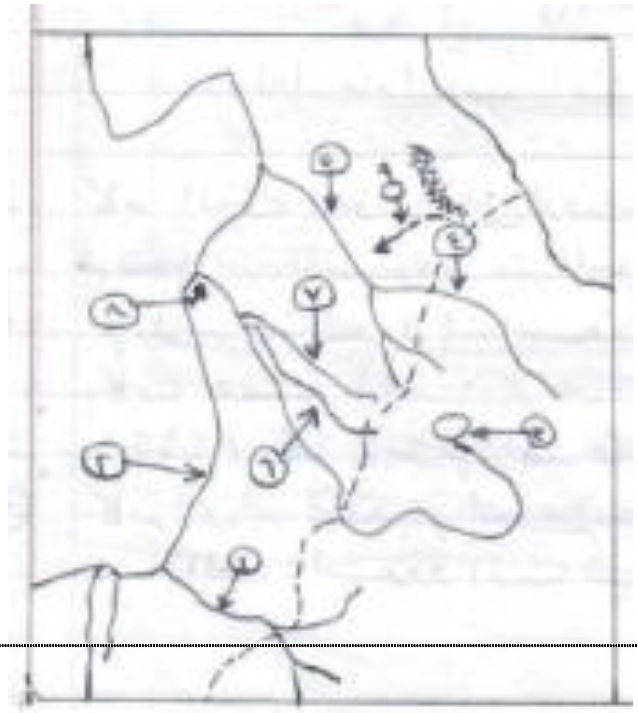
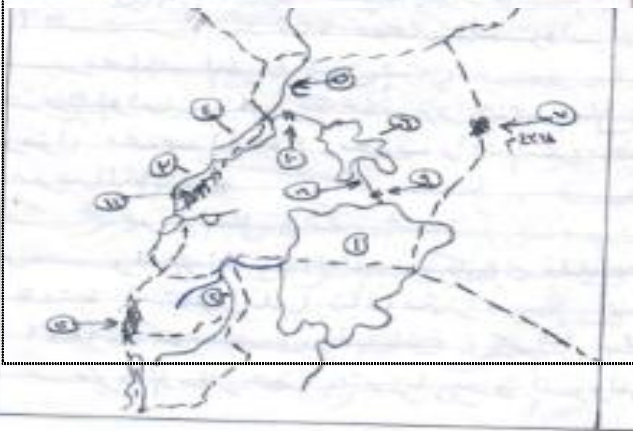
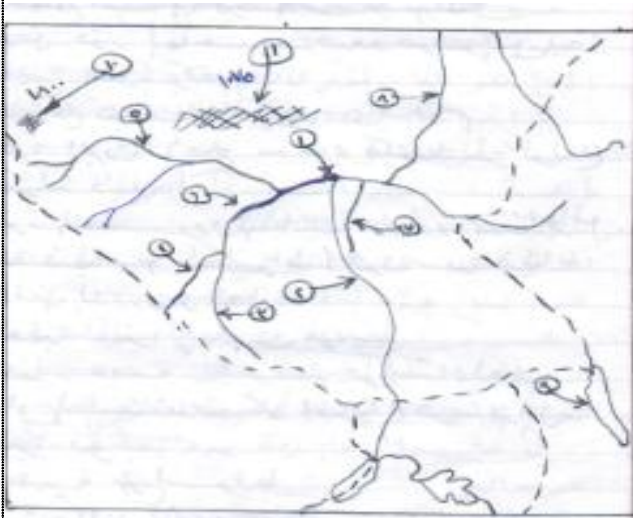
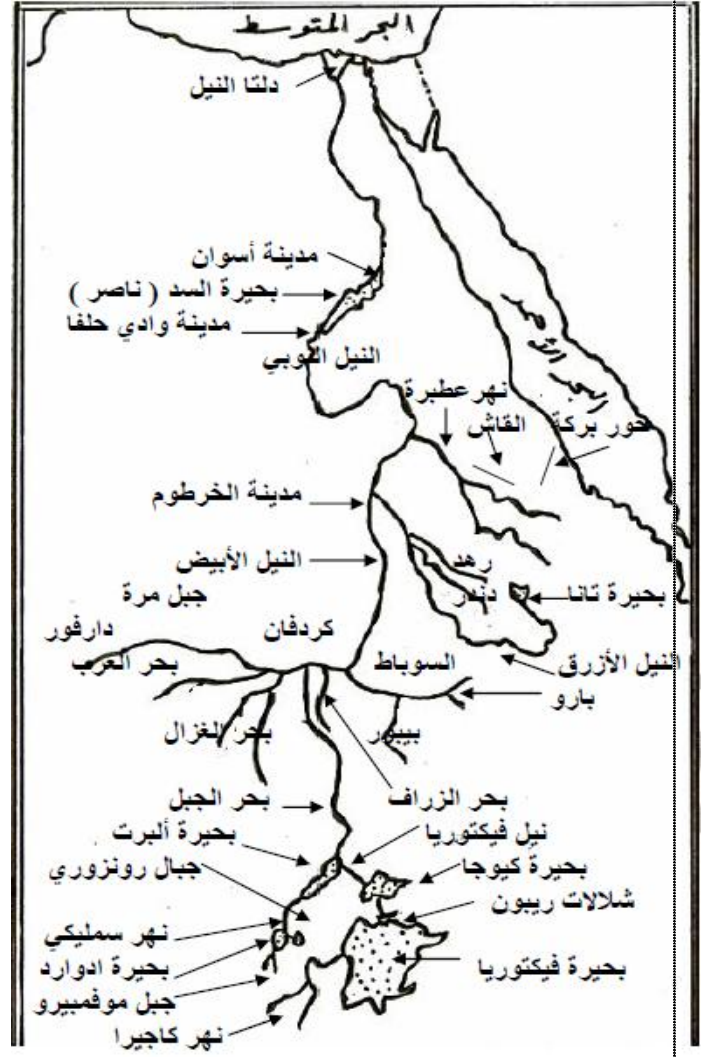
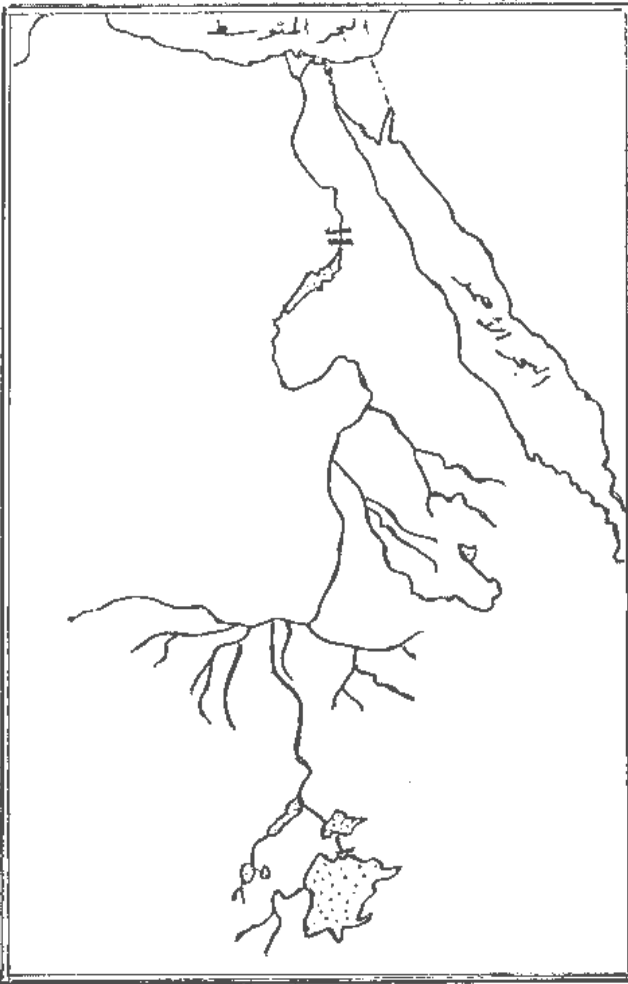
- تعتبر مصر من أقدم الدول فى أكتشاف البترول. ()
- ركزت مصر منذ الستينيات على الصناعات الثقيلة. ()
- معظم صادرات مصر من المواد المصنعة. ()
- تعتبر مدينة طنطا المركز الرئيسى لشبكة السكك الحديدية. ()
- كان ميناء القصير هو ميناء الحجاج القديم. ()
- يقدر عدد المهاجرين خارج مصر وفق عام 2006 الى 3 ملايين نسمة. ()
- تبلغ مساحة الصحراء الشرقية 22% من مساحة مصر. ()
- أصغر المنخفضات فى الصحراء الغربية هى واحة البحرية. ()
- تسمى الفرازة الواحة الوسطى. ()
- تسقط امطار فجائية على مرتفعات الصحراء الغربية. ()
- أودية الصحراء الغربية أوفر ماء من الصحراء الشرقية. ()
- أودية الصحراء الشرقية المنحدرة ناحية نهر النيل أوفر من المنحدرة ناحية البحر الأحمر ()
- أعلى قمم جبلية فى مصر هى قمم سانت كاترين. ()
- أعلى قمم جبلية فى الصحراء الشرقية جبل حماطة. ()
- الشعب المصرى مزيج من سلالتين. ()
- تبلغ مساحة القسم الأوسط لسيناء نصف مساحتها. ()
- تبلغ مساحة بحر الرمال العظيم 40 من مساحة مصر. ()
- تقع مصر فى الركن الشمالى الشرقى لقارة آسيا. ()
- يحد مصر من جهة الغرب السودان. ()
- تمثل جبال البحر الاحمر الدروع الواقية لمصر. ()
- من مشاريع استصلاح الأراضى غرب الدلتا الصالحة. ()
- من العوامل الطبيعية لقيام الزراعة السوق. ()

تمنياتى للجميع بالتفوق

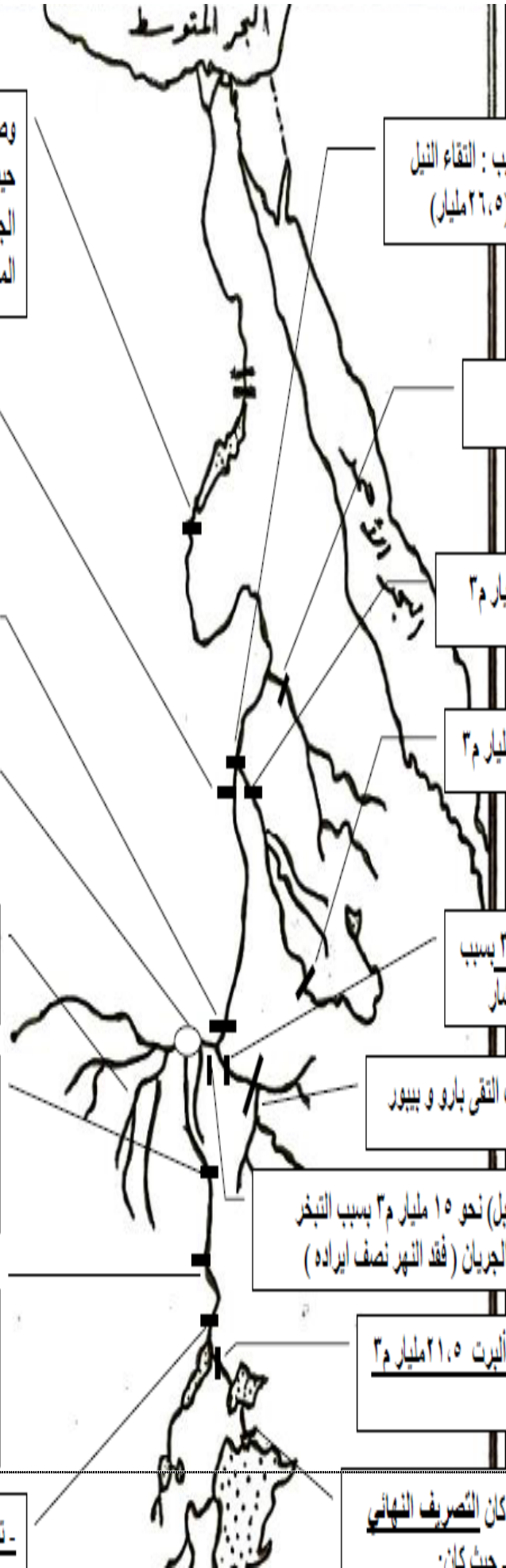
كامل على

السؤال الاول (الخرائط)

امامك خريطة لحوض النيل وضح عليها مدلول الارقام



البحر المتوسط



يزيد الأيراد المائي عند الخرطوم بسبب التقاء النيل الأزرق (٥٢ مليار) مع النيل الأبيض (٢٦,٥ مليار)

ايراد نهر عطبرة ١٢,٥ مليار م^٣

أعلى ايراد نهر النيل الأزرق ٥٢ مليار م^٣

النيل الأزرق عند الروصيرص ٥٠ مليار م^٣

إداد ايراد السوبات إلى ١٣,٥ مليار م^٣ بسبب المياه التي استمدها من مستنقعات مشار

عند بلدة الناصر ١٢ مليار م^٣ - حيث التقى بارو و ببيور

يقبل الأيراد جنوب ملكال (نهاية بحر الجبل) نحو ١٥ مليار م^٣ بسبب التبخر والسدود النباتية وقلة الانحدار وبطء الجريان (فقد النهر نصف ايراده)

التصريف النهائي لنيل فيكتوريا إلى ألبرت ٢١,٥ مليار م^٣ وذلك بعد عبوره بحيرة كيوجا

- عند مدينة جنجا (مخرج فيكتوريا) كان التصريف النهائي ٢١ مليار م^٣ (١٨% من ايراد البحيرة) - حيث كان:

وصلت مياه النيل إلى بحيرة ناصر عند وادي حلفا بكمية مناسبة حيث لم يفقد النيل النوبي كمية كبيرة من ايراده بسبب وجود الجنادل الستة - شدة الانحدار (١ م: ١٨٠٠ م) - سرعة تيار المياه - ضيق المجرى - عمق النهر - قلة التبخر

يقبل الأيراد جنوب الخرطوم ليصل ٢٦,٥ مليار م^٣ بسبب: قلة الانحدار (١ م: ٨٠٠ كم) - كثرة التبخر - طول النهر - اتساع المجرى - تسرب المياه إلى طبقات الأرض

يزيد الأيراد عند ملكال إلى ٢٩ مليار م^٣ بسبب التقاء السوبات (١٤ مليار) مع بحر الجبل (١٥ مليار)

- يقل تصريف بحيرة نو إلى ملكال بنحو واحد مليار م^٣ بسبب اتساعها وكثرة التبخر وانتشار المستنقعات

يقبل ايراد بحر الغزال حيث يصل تصريفه إلى بحيرة نو نصف مليار م^٣ حيث كان ١٥ مليار وذلك بسبب كثرة المستنقعات وارتفاع

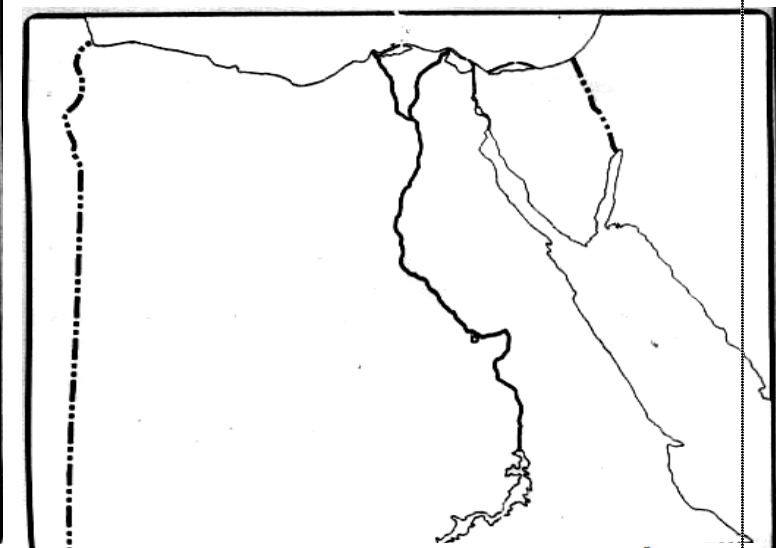
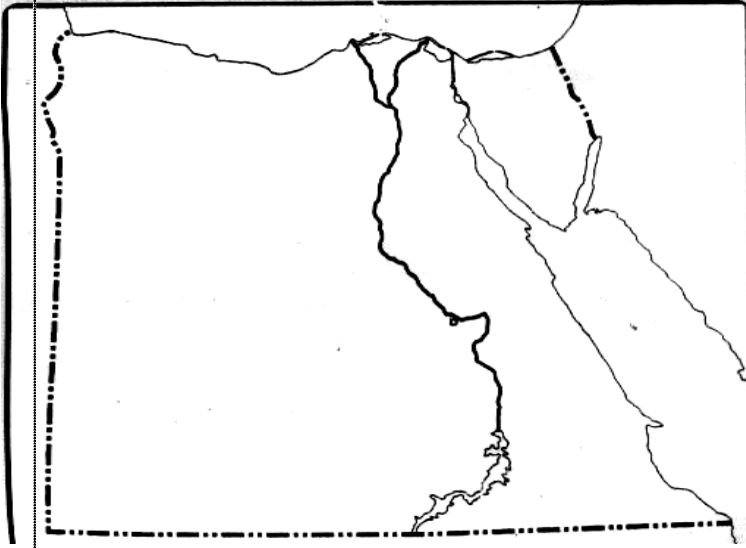
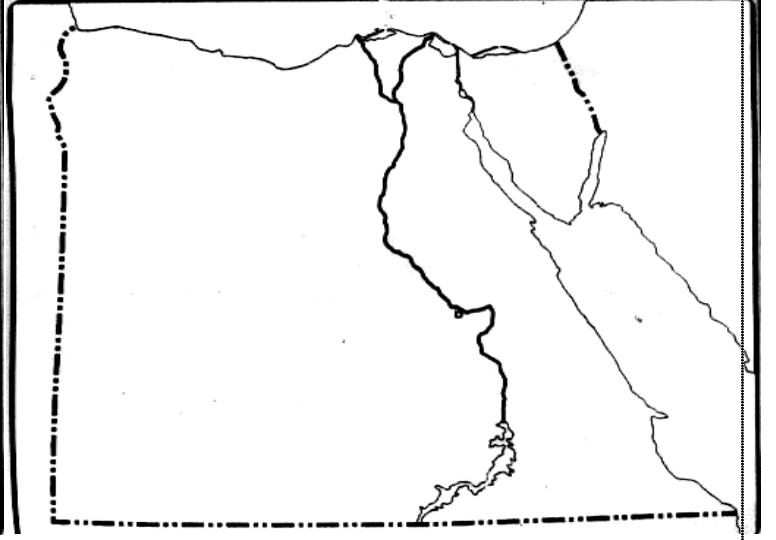
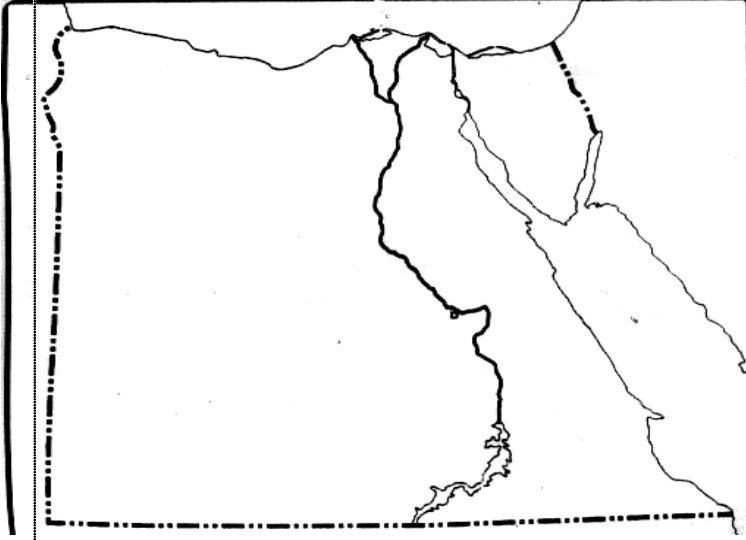
- زاد الأيراد المائي عند منجلا إلى ٣٠ مليار م^٣ بسبب: كثرة الروافد وخاصة من الشرق - سرعة تيار المياه - قلة الفاقد بالتبخر - شدة الانحدار

- زاد ايراد نيل ألبرت عند نيمولى إلى ٢٦ مليار م^٣ وهذا حصيلة هضبة البحيرات الاستوائية والزيادة بسبب شدة الانحدار وسرعة التيار وقلة التبخر وكثر المطر

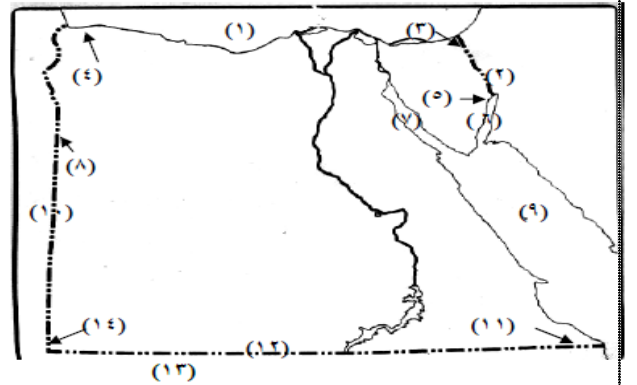
- تصريف ألبرت ٢٣,٨ مليار م^٣ - حيث كان:

س2 على خريطة مصر حدد عليها الآتى

تيارات الهجرة الداخلية---الأقاليم المناخية---مشروعات الري على النيل- مناطق استخراج (الحديد-المنجنيز- الفوسفات- الفحم-البتترول-الغاز-مناطق صناعة الغزل والنسيج-الاسمدة-السكر)



خريطة مصر



كامل على
مدرس أول (التاريخ والجغرافيا)

- | | | |
|---------------------|-----------------|----------------|
| ٣- مدينة | ٢- دولة | ١- البحر |
| ٦- خليج | ٥- مدينة | ٤- مدينة |
| ٩- البحر | ٨- خط طول | ٣- خليج |
| ١٢- دائرة عرض | ١١- منطقة | ١٠- دولة |
| | ١٤- جبل | ١- دولة |

تبذل الدولة جهوداً عظيمة من أجل تنمية الإنتاج الزراعى .. و تتمثل هذه الجهود فى أربعة محاور رئيسية تشكل مجالات التنمية الزراعية هي:

المحاور الأربعة :

1.زيادة الإنتاج الزراعى .. عن طريق:

أ-إقامة المشروعات التى تؤدى إلى الحفاظ على مياه نهر النيل و زيادة نصيب مصر منها.

ب-الاستفادة الكاملة من مياه النيل بدلاً من ضياعها.

ج-التوسع الأفقى : بمعنى زيادة مساحة الرقعة الزراعية عن طريق التوسع فى مشروعات استصلاح الأراضي الصحراوية

2- تحسين الإنتاج الزراعى و تطوير أدواته .. عن طريق:

أ-التوسع الرأسى : بمعنى زيادة إنتاجية الأراضي الزراعية ..

ويؤدى إلى ذلك كل العناصر التالية

ب-توفير مستلزمات الإنتاج من أسمدة و مبيدات و تقاوى

السلالات الممتازة.

ج-استخدام الأساليب العلمية الحديثة و التخلّى من الأساليب

التقليدية فى الزراعة.

د-صيانة الترع و المصارف و التوسع فى نظم الصرف المغطى

هـ-حماية الأراضي الزراعية من خطر التجريف و الزحف

العمرانى عليها

3- تنوع الإنتاج الزراعى .. عن طريق:

أ-إيجاد توازن بين مجموعة المحاصيل النقدية و مجموعة

المحاصيل الغذائية.

ب-عدم الاعتماد على محصول نقده ، احد با ، عدد من المحاصيل ،

ج : الاتجاهات الرئيسية لتنمية النشاط السياحي فى مصر

1-الاهتمام بالمناطق الأثرية و صيانتها ودعمها

بالمرافق والخدمات

2-تدعيم المؤسسات السياحية الخاصة والحكومية

بتقديم الدعم المالى لها وتمكينها من تسويق الزيارات

السياحية

3-تشجيع الاستثمار فى قطاع السياحة سواء طلب

الأفواج السياحية أو بناء الفنادق أو القرى السياحية

و استثمار مناخ مصر المعتدل وشواطئها الغنية

4-مواكبة التطور واستخدام الأساليب العملية فى تنمية

السياحة .

5-تنوع أنشطة السياحة مثل السياحة العلاجية

و المحميات الطبيعية ومعسكرات الشباب والسياحة

١١٠١٠١١٠١١

س : ماهى وسائل تنمية الثروة الحيوانية

1 - توفير العناية البيطرية 2 - الاهتمام بمشروعات التسمين

ومنتجات الألبان .

3 - توفير الأعلاف الخضراء والجافة للحيوانات طوال العام

4 - توفير سلالات جيدة عن طريق التهجين 5 - توفير مياه

الشرب النظيفة .

6 - توفير سيارات متخصصة لنقل الحيوانات وتنظيف الحظائر

جهود الدولة فى تطوير السكك الحديدية

وقد قامت الدولة بمجهودات فى تطوير السكك الحديدية مثل :

1 - ازدواج خط الصعيد بين أسيوط وسوهاج وكهربية خط حلوان

2 - إقامة كوبري على النيل عند المرازيق لربط سكة حديد الوجه القبلي

بلمنطقة الصناعية فى حلوان والمعصرة شرق النيل .

3 - إنشاء مصنع عربات البضائع وإعادة بناء بعض المحطات واستبدال

قاطرات الديزل بالقاطرات البخارية مما يوفر الوقود

4 - توحيد طراز القاطرات لتسهيل عمليات صيانة للقطارات

5 - تطوير وشراء القاطرات و عربات السكك الحديدية لنقل البضائع

والركاب

جهود الدولة لتنمية الثروة المعدنية :

1 - تكثيف الجهود فى البحث والتقيب وتنمية الانتاج فى

مناطق الانتاج الحالية .

2 - استخدام الاساليب العلمية والتكنولوجيه فى البحث

والاستخراج

3- لذلك نشطت الشركات والمؤسسات البترولية فى السنوات

الأخيرة فى أعمال التقيب فى الصحارى المصرية لزيادة الإنتاج

وزيادة الصادرات وتنميه الصناعة

4-ارتفع إنتاج البترول المصرى من 38 مليون طن سنة 1983

إلى 44 مليون طن سنة 1988 وبلغ إنتاج الغاز الطبيعى 20

* مجهودات الدولة لتحسين النقل النهري :

- أ - مثل طريق القاهرة و الإسكندرية الملاحي عبر رياح البحيرة ترعة الخندق فترة المحمودية وبذلك ارتبطت العاصمتين بخط ملاحى.
- ب - تم حفر قناة طنطا الملاحية فربطت شبين الكوم بكفر الزيات ،
- 2 - هناك طرق ملاحية طوال السنة ترعة المحمودية والإسماعيلية والإبراهيمية وتتنحصر أهمية النقل المائي في التجارة الداخلية وربط المدن المصرية

من وجهة نظرك كيف يمكن

- 1- الحد من الهجرة إلى المدن الكبرى 2- منع زحف المباني على الاراضى الزراعية
- 3- اقتراح ثلاثة مشاريع للرى على النيل تعود بالنفع على مصر ودول حوض النيل
- 4- اقتراح ثلاثة مشاريع زراعية فى دول حوض نهر النيل
- 5- تنمية الصناعة-الثروة الحيوانية-السك الحديد-السياحة- الثروة السمكية-المعدنية
- 6- خروج مصر من مرحلة الانفجار السكانى
- 7- استثمار أراضى سيناء فى الزراعة 8 -توزيع السكان فى مصر توزيعا متوازنا
- 9- تنمية الصحارى المصرية
- 10-زيادة إيرادات مصر المائيةمن نهر النيل

ما اوجه الشبة والاختلاف بين كلا من(قارن)

- 1-منخفض الفيوم -وادي النيل 2-النيل النوبى والنيل الأبيض 3-النيل قبل الخرطوم وبعده الخرطوم
- 4-الحد الجنوبي والغربى لمصر 5- ترعة النصر وترعة السلام 6- بحيرة فكتوريا وقارون
- 7-نيل فكتوريا والنيل الازرق 8-القطاع الطولى والقطاع العرضى للنيل 9_الانخفاضات الشتوية والربيعية

كامل على

مدرس أول (التاريخ والجغرافيا)

01008852693