

إختار الإجابة الصحيحة :

إشتقاق :

$$(1) \text{ إذا كانت } v = \text{قتا } (\pi - 2s) \text{ فإن } \frac{dv}{ds} = \dots\dots$$

- (أ) قتا $(2 - \pi)$ ظتا $(2s)$ (ب) قتا $(2 - \pi)$ ظتا $(2s)$
 (ج) قتا $(2 - \pi)$ ظتا $(2 - \pi)$ (د) قتا $(2 - \pi)$ ظتا $(2 - \pi)$

$$(2) \text{ إذا كانت } v = (\text{قتاس} + \text{ظتا } s)^{-1} \text{ فإن } \frac{dv}{ds} = \dots\dots$$

- (أ) $\frac{-\text{قتاس}}{(\text{قتاس} + \text{ظتا } s)^2}$ (ب) $\frac{-\text{قتاس}}{\text{قتاس} + \text{ظتا } s}$
 (ج) $\frac{\text{قتاس}}{\text{قتاس} + \text{ظتا } s}$ (د) $\frac{\text{قتاس}}{(\text{قتاس} + \text{ظتا } s)^2}$

$$(3) \text{ إذا كان } v = 4s^2 \text{ فإن } v' = \left(\frac{\pi}{4}\right) \dots\dots$$

- (أ) 8- (ب) صفر (ج) $4\sqrt{2}$ (د) 16

$$(4) \text{ إذا كان } v = \text{ظتا } s \text{ فإن } v'' = \left(\frac{\pi}{4}\right) \dots\dots$$

- (أ) $\frac{4-\pi}{9}$ (ب) $\frac{4}{9}$ (ج) 4 (د) $\frac{9}{4}$

$$(5) \text{ إذا كانت } v = \text{جتاس} \text{ فإن } \frac{d^2v}{ds^2} = \frac{2018s}{2018s}$$

- (أ) جتاس (ب) -جتاس (ج) جاس (د) -جاس

$$(6) \text{ إذا كانت } v = \text{لو} (2 + \sqrt{2}\text{قتاس}) \text{ حيث } 0 < s < \frac{\pi}{4} \text{ فإن } v' = \left(\frac{\pi}{4}\right) \dots\dots$$

- (أ) $\frac{1-\pi}{4}$ (ب) $\frac{1}{4}$ (ج) $\frac{1}{4}$ (د) 4

$$(7) \text{ إذا كانت } v = \text{هـ} \text{ جتاس}^2 \text{ فإن } \frac{dv}{ds} = \dots\dots$$

- (أ) $\text{هـ} - \text{جتاس}^2$ (ب) $\text{هـ} \text{ جتاس}^2 - 2\text{جتاس}$
 (ج) $\text{هـ} \text{ جتاس}^2 - 2\text{جتاس}$ (د) $2\text{هـ} \text{ جتاس}$

(٨) إذا كانت $s = n - 3$ ، $\sqrt{1 + n^3} = s$ ، فإن $\frac{s}{s} = \dots$ عندما $n = 1$

- Ⓐ $\frac{1}{8}$ Ⓑ $\frac{3}{8}$ Ⓒ $\frac{3}{4}$ Ⓓ ٨

(٩) إذا كانت $h = (s)$ ، $s^2 + 1 = r$ فإن $r = \dots$

- Ⓐ $\frac{1}{s^2 + 1}$ Ⓑ $\frac{s^2}{s^2 + 1}$ Ⓒ $2s(s^2 + 1)$ Ⓓ $2s^2 + 1$

(١٠) إذا كانت $s = 10$ ، $(s^2 - 1)$ فإن $\frac{s}{s} = \dots$

- Ⓐ 10×10^{-2} Ⓑ $2s \times 10^{-2}$ Ⓒ $2s(10 \times 10^{-2})$ Ⓓ $2s(10 \times 10^{-2})$

(١١) إذا كانت $d = (s)$ ، s جاس فإن $d + (s) = \dots$

- Ⓐ ٢ جتاس Ⓑ صفر Ⓒ $2s - \text{جاس}$ Ⓓ $2s \text{ جاس}$

(١٢) إذا كانت $s = 5 + 3\theta$ ، $s = 1 - 3\theta$ فإن $\frac{s}{s} = \dots$ عندما $\theta = \frac{\pi}{4}$

- Ⓐ ٢ Ⓑ $2 -$ Ⓒ $\frac{1}{2}$ Ⓓ $\frac{1 -}{2}$

(١٣) إذا كانت $s = 5 + 3\theta$ ، $s = 1 - 3\theta$ فإن العلاقة الضمنية بين s ، $ص$ هي \dots

- Ⓐ $s^2 = 5 + ص$ Ⓑ $s^2 + 5 = ص^2$ Ⓒ $6 = ص^2 + 2$ Ⓓ $2(ص - 1) = 6 - ص$

(١٤) إذا كانت $(s + ص) = 7$ فإن $\frac{s^2}{s} = \dots$

- Ⓐ ١ Ⓑ صفر Ⓒ $56(s + ص)^7$ Ⓓ $1 -$

(١٥) إذا كانت $\frac{s}{s} = 3 - 2$ ، $\frac{s}{s} = 1 - 2$ فإن $\frac{s^2}{2s} = \dots$ عندما $s = 2$

- Ⓐ $\frac{2}{27}$ Ⓑ $\frac{2}{9}$ Ⓒ صفر Ⓓ $\frac{2 -}{9}$

(١٦) إذا كانت $ص = \frac{2018}{2018} s$ فإن $\frac{2018}{2018} = \dots$

- Ⓐ $\frac{2018}{2017(2 + s)}$ Ⓑ $\frac{2018}{2018(2 + s)}$ Ⓒ $\frac{2017}{2018(2 + s)}$ Ⓓ $\frac{2017}{2018(2 + s)}$

$$(17) \text{ إذا كانت د (س) = لو (جاس) - لو (جتاس) فإن نها } = \frac{\text{د (س)} - \text{د}(\frac{\pi}{4})}{\text{س} - \frac{\pi}{4}} = \dots$$

- Ⓐ ١ Ⓑ ٢ Ⓒ صفر Ⓓ ٢-

$$(18) \text{ إذا كانت س جاس} = \text{ص جتاس} \text{ فإن } \frac{\text{ص}}{\text{س}} = \dots \text{ عند النقطة } (\frac{\pi}{4}, \frac{\pi}{2})$$

- Ⓐ صفر Ⓑ ١ Ⓒ ٢ Ⓓ ٣

$$(19) \text{ إذا كانت د (س) = س}^2 \text{ ، ك (٢) = ٣ ، ك (٢) = ٢- ، ك (٢) = ٥ فإن د (ك) = (٢) = \dots$$

- Ⓐ ٣٨ Ⓑ ٣٨- Ⓒ ١٠ Ⓓ ٣

$$(20) \text{ إذا كانت ص = د (س) دالة فردية وكانت د (ك) = م فإن د (- ك) = \dots}$$

- Ⓐ م Ⓑ م- Ⓒ صفر Ⓓ غير معرفة

النهايات :

$$(1) \text{ نها } \left(1 + \frac{1}{\text{س}}\right)^{\frac{1}{\text{س}^3}} = \dots$$

- Ⓐ ١ Ⓑ ٢ Ⓒ ه Ⓓ ه^٢

$$(2) \text{ نها } \frac{1}{\text{س}} (1 + \text{س})^{\frac{1}{\text{س}^3}} = \dots$$

- Ⓐ $\frac{1}{3}$ Ⓑ ه^٣ Ⓒ $\frac{1}{2}$ Ⓓ $\frac{1}{2}$

$$(3) \text{ نها } \frac{1 - \text{س}^2}{\text{س}^3} = \dots$$

- Ⓐ لو^٣ Ⓑ لو^١ Ⓒ لو^١ Ⓓ لو^٢

$$(4) \text{ نها } \frac{\text{لوس}}{1 - \text{س}} = \dots$$

- Ⓐ لو^١ Ⓑ ١ Ⓒ ه Ⓓ لو^١

$$(5) \quad \text{نها} = \frac{\text{لو} (س+1)}{س-1} = \dots\dots$$

- Ⓐ $\frac{2}{3}$ Ⓑ لو² Ⓒ $\frac{3}{2}$ Ⓓ $\frac{1}{3}$ لو²

$$(6) \quad \text{نها} = \frac{س-1}{س-س} = \dots\dots$$

- Ⓐ 1 Ⓑ ه Ⓒ $\frac{1}{ه}$ Ⓓ ه -

$$(7) \quad \text{نها} (س+1) = \frac{1}{س} = \dots\dots$$

- Ⓐ 1 Ⓑ صفر Ⓒ $\frac{1}{ه}$ Ⓓ ه

$$(8) \quad \text{نها} (س+1) = \frac{2}{س} = \dots\dots$$

- Ⓐ ه¹⁰ Ⓑ ه¹⁰ - Ⓒ ه¹⁰ - Ⓓ ه¹⁰ -

تطبيقات هندسية :

(1) إذا كان ميل المماس للمنحنى $ص = د(س)$ عند نقطة ما يساوى $\frac{1}{3}$ وكان الإحداثى السينى لهذه النقطة يتناقص بمعدل 3 وحدات/ث فإن معدل تغير إحداثيها الصادى بالنسبة للزمن يساوى وحدة/ث

- Ⓐ $\frac{1}{6}$ Ⓑ $\frac{3}{2}$ Ⓒ $\frac{1}{6}$ Ⓓ $\frac{3}{2}$

(2) النسبة بين ميل مماس المنحنى الدالة $ص = لو^3$ / $س+1$ و ميل مماس المنحنى $ص = لو^5$ / $س+1$ عند $س = 1$ كنسبة

- Ⓐ 5 : 3 Ⓑ 3 : 5 Ⓒ 1 : 1 Ⓓ لو³ : لو⁵

(3) معادلة المماس لمنحنى الدالة $د(س) = ه^{س^2+1}$ عند النقطة $(\frac{1}{3}, 1)$ هي

- Ⓐ $ص = 2س + 1$ Ⓑ $ص = 2س + 2$ Ⓒ $ص = 2س - 3$ Ⓓ $ص = 2س + 1$

(٤) ميل المماس لمنحنى الدالة $v = \frac{1}{3}u^3$ عندما $u = 4$ يساوى

- Ⓐ $\frac{1}{8}$ Ⓑ $\frac{1}{4}$ Ⓒ $\frac{1}{3}$ Ⓓ ٤

(٥) معادلة المماس الإنقلابي للدالة $v = u^3 + 3u^2 + 2$ هي

- Ⓐ $v = -6u - 6$ Ⓑ $v = -3u + 1$ Ⓒ $v = 2u + 10$ Ⓓ $v = 3u - 1$

(٦) إذا كان المستقيم $v = u + 1$ مماس لمنحنى الدالة $v = u^3 + 3u^2 + 1$ فإن $u =$

- Ⓐ ٣- Ⓑ ٢- Ⓒ ١- Ⓓ صفر

(٧) إذا كانت $v = \frac{1}{2}u^2 + 2u$ فإن ميل المماس للمنحنى عند النقطة $(1, 0)$ يساوى

- Ⓐ صفر Ⓑ ١ Ⓒ $\frac{1}{2}$ Ⓓ ٢

(٨) إذا كان جنبا $\sqrt{v} = u^3 + 1$ فإن ميل المماس للمنحنى عند النقطة $(\frac{1}{3}, \frac{\pi}{4})$ يساوى

- Ⓐ ٣ Ⓑ ٣- Ⓒ صفر Ⓓ ١

(٩) إذا كانت $\theta = \frac{u(ع) - u(د)}{1 - ع}$ فإن قياس زاوية ميل المماس لمنحنى الدالة u عند النقطة $(1, د(١))$ يساوى

- Ⓐ $\frac{\pi}{3}$ Ⓑ $\frac{\pi}{6}$ Ⓒ $\frac{\pi}{4}$ Ⓓ $\frac{\pi}{2}$

(١٠) المماس لمنحنى الدالة $v = u + 3$ يكون رأسياً عند النقطة

- Ⓐ $(1, 1)$ Ⓑ فقط $(1, 0)$ Ⓒ فقط $(0, 1)$ Ⓓ $(0, 1), (1, 0)$

معدلات زمنية :

(١) ينصهر مكعب من الثلج محتفظاً بشكله بمعدل ١ سم^٣/ث فإن معدل تغير طول حرف المكعب عندما يكون حجمه ٨ سم^٣

يساوى سم/ث

- Ⓐ $\frac{1}{12}$ Ⓑ $\frac{1}{6}$ Ⓒ $\frac{1}{24}$ Ⓓ $\frac{1}{3}$

(٢) جسم يتحرك على المنحنى $s = 2t^3$ إذا كان $\frac{ds}{dt} = \frac{1}{4}$ وحدة / ث عند $s = 1$ فإن $\frac{ds}{dt}$ عند هذه اللحظة يساوى.....

- (أ) $\frac{3-}{4}$ (ب) $\frac{3-}{8}$ (ج) $\frac{3}{4}$ (د) $\frac{3}{2}$

(٣) مخروط دائرى قائم إذا كان طول كل من نصف قطر قاعدته و ارتفاعه يتزايد بمعدل $\frac{1}{4}$ سم/ث و فى لحظة ما كان طول نصف قطر القاعدة يساوى ٦ سم و الارتفاع يساوى ٩ سم فإن معدل تغير حجم المخروط فى تلك اللحظة = سم^٣/ث

- (أ) $\frac{1}{4}\pi$ (ب) 10π (ج) 24π (د) 54π

(٤) دائرة محيطها ٤ سم إذا كان طول نصف قطرها يتناقص بمعدل ١, ٠ سم/ث فإن معدل تغير مساحتها = سم^٢/ث

- (أ) $2, 0 -$ ع (ب) $1, 0 -$ ع (ج) $1, 0$ ع (د) $1, 0$ ع

(٥) وعاء فارغ حجمه ٩٠ سم^٣ يصب فيه الماء بمعدل ٥ سم^٣/ث فإن الوعاء يمتلئ بعد مرور ثانية.

- (أ) ٩ (ب) ٢٢٥ (ج) ١٨ (د) ٦

(٦) Δ يتزايد طول قاعدته ٥ بمعدل ٣ سم/ث بينما يتناقص ارتفاعه ٤ بمعدل ٣ سم/ث و كانت مساحة سطحه هى م فإن العبارة التى من المؤكد أنها صحيحة فيما يلى هى

- (أ) م تتزايد دائماً (ب) م تتناقص دائماً (ج) م تتناقص فقط و $٥ < ع$ (د) م تتناقص فقط و $٥ > ع$

(٧) إذا كان محيط صفيحة مربعة الشكل يتزايد بمعدل ٠.٤ سم/ث و تتزايد مساحة سطحها بمعدل ٦ سم^٢/ث فإن طول ضلع الصفيحة فى تلك اللحظة يساوى سم

- (أ) ٣٠ (ب) ٥٠ (ج) ٤٠ (د) ٦٠

(٨) إذا كان معدل تزايد قطر بالون كروى يساوى ١ سم/د عندما كان طول قطره ٤ سم فإن معدل تغير حجمه عند تلك اللحظة يساوى

- (أ) 2π (ب) 8π (ج) 16π (د) 4π

(٩) تتحرك نقطة على المنحنى $s = 2t^3 - 3t$ فإذا كانت سرعة إحداثيها السيني تساوى سرعة إحداثيها الصادي فإن ميل المماس للمنحنى عند تلك النقطة يساوى.....

- (أ) ١ (ب) ٢ (ج) ٣ (د) ٤

سلوك الدالة:

(١) إذا كان لمنحنى الدالة و نقطة إنقلاب عند $s = 2$ حيث $w(s) = s^3 + s^2 + 4s + k$ فإن $k = \dots\dots\dots$

- Ⓐ -6 Ⓑ -3 Ⓒ 3 Ⓓ 6

(٢) أكبر قيمة للمقدار $s^4 - s^3$ حيث $s \in \mathbb{R}$ هي $\dots\dots\dots$

- Ⓐ 4 Ⓑ 8 Ⓒ 16 Ⓓ 32

(٣) منحنى الدالة w حيث $w(s) = s^3 - 3s^2 + 2s$ محدب لأعلى عندما $s \in \dots\dots\dots$

- Ⓐ $]-\infty, 0]$ Ⓑ $]1, 3]$ Ⓒ $]-1, \infty[$ Ⓓ $]1, \infty[$

(٤) $w(s) = s^3 - 3s^2 + 5s$ متناقصة عندما $s \in \dots\dots\dots$

- Ⓐ $]0, 2]$ Ⓑ $]2, 0]$ Ⓒ $]0, 2[$ Ⓓ $]2, 0[$

(٥) إذا كانت $w'(s) = s^3 - 8s$ حيث w ، ب ثابت وكان لمنحنى الدالة $w(s)$ نقطة عظمى محلية هي $(2, 5)$

فإن $w \times b \in \dots\dots\dots$

- Ⓐ $]0, 2]$ Ⓑ $]0, \infty[$ Ⓒ $]0, \infty[$ Ⓓ $]0, 8]$

(٦) إذا كانت $s + w = k$ حيث $s < 0$ ، $w < 0$ فإن s ص قيمة عظمى عندما $\dots\dots\dots$

- Ⓐ $s = k$ Ⓑ $s = w$ Ⓒ $w = s$ Ⓓ $s = w = 1$

(٧) العبارة التي من المؤكد انها صحيحة فيما يلي هي $\dots\dots\dots$

- Ⓐ (f, f) و (f, f) نقطة حرجة إذا كان $w'(f) = 0$ فقط.
 Ⓑ إذا كان $w'(f) = 0$ فإن $w(f)$ قيمة عظمى محلية.
 Ⓒ إذا كان $w'(f) = 0$ و $w''(f) < 0$ فإن $w(f)$ قيمة صغرى محلية.

(٨) إذا كانت $w(s)$ دالة متصلة على \mathbb{R} فإن العبارة التي من المؤكد انها صحيحة فيما يلي هي $\dots\dots\dots$

- Ⓐ (f, f) و (f, f) نقطة إنقلاب إذا كان $w'(f) = 0$ أو $w'(f)$ غير معرفة.
 Ⓑ (f, f) و (f, f) نقطة إنقلاب للدالة إذا كان $w''(f) = 0$ و $w''(f) > 0$ و $w''(f) < 0$.

- ج (١, ١) نقطة إنقلاب للدالة إذا كان $f'(x)$ غير معرفة و $f''(x) > 0$
- د (١, ١) نقطة إنقلاب للدالة إذا كان $f'(x)$ لها وجود و $f''(x) > 0$

(٩) أكبر قيمة لميل منحنى الدالة $f(x) = x^3 + 2x^2 + 1$ تساوى

- أ ١٤ ب ١٦ ج ١٩ د ١٣-

(١٠) إذا كانت $f(x) = \sqrt{x^2 - 16}$ فإن الدالة لها نقط حرجة عندما $x = \dots$

- أ ٨ ب صفر ، ١٦ ج ٠ ، ١٦ ، ٨ د صفر

(١١) منحنى الدالة $f(x) = x^2 - 2\sqrt{x}$ له نقطة حرجة عندما $x = \dots$

- أ صفر ب ١ ج ٠ ، ١ د ١ ، ١-

(١٢) منحنى الدالة $f(x) = \frac{x-5}{x-2}$ محذب لأسفل إذا كانت

- أ $x < 2$ ب $x > 2$ ج $x > 5$ د $x < 5$

٣	٢	١	٠	س
٤	٧-	٠	٥	د (س)

(١٣) إذا كانت $f(x)$ دالة كثيرة الحدود و الجدول المجاور يبين بعض قيم

$f'(x)$ فإن العبارة التي من المؤكد أنها صحيحة فيما يلي هي

- أ الدالة $f(x)$ تزايدية في $[0, 2]$ ب الدالة $f(x)$ تناقصية في $[0, 2]$
- ج الدالة $f(x)$ يتغير تحدبها في $[0, 2]$ د الدالة $f(x)$ لها قيمة عظمى عند $x=1$

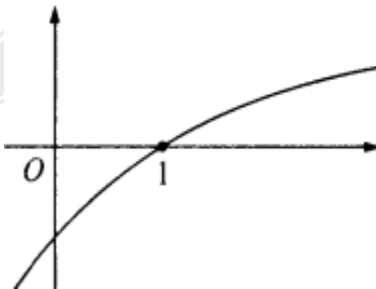
(١٤) إذا كانت $f(x) = x + \frac{1}{x}$ فإن الدالة تزايدية في الفترة

- أ $|x| \geq 1$ ب $|x| \leq 1$ ج $|x| < 1$ د $|x| > 1, x \neq 0$

(١٥) إذا كان الشكل المجاور يمثل منحنى الدالة $f(x)$ القابلة للإشتقاق مرتين

عند $x=1$ فإن العبارة الصحيحة فيما يلي هي

- أ $f'(1) > f''(1) > f(1)$ ب $f''(1) > f'(1) > f(1)$
- ج $f(1) > f''(1) > f'(1)$ د $f''(1) > f(1) > f'(1)$



التكامل :

(١) $\int \theta \cos \theta = \dots$

- Ⓐ $-\sin \theta + \theta \cos \theta + C$ Ⓑ $-\sin \theta + \theta \cos \theta + C$ Ⓒ $-\sin \theta + \theta \cos \theta + C$ Ⓓ $-\sin \theta + \theta \cos \theta + C$

(٢) $\int \sin^2 \theta \cos \theta = \dots$

- Ⓐ $-\frac{1}{3} \sin^3 \theta + C$ Ⓑ $-\frac{1}{3} \sin^3 \theta + C$ Ⓒ $-\frac{1}{3} \sin^3 \theta + C$ Ⓓ $-\frac{1}{3} \sin^3 \theta + C$

(٣) $\int \frac{1}{\sin^3 \theta} = \dots$

- Ⓐ $-\frac{1}{2} \cot \theta + \frac{1}{2} \ln |\csc \theta| + C$ Ⓑ $-\frac{1}{2} \cot \theta + \frac{1}{2} \ln |\csc \theta| + C$ Ⓒ $-\frac{1}{2} \cot \theta + \frac{1}{2} \ln |\csc \theta| + C$ Ⓓ $-\frac{1}{2} \cot \theta + \frac{1}{2} \ln |\csc \theta| + C$

(٤) $\int \sin^2 \theta \cos^3 \theta = \dots$

- Ⓐ $-\frac{1}{4} \sin^2 \theta \cos^2 \theta + \frac{1}{12} \sin^4 \theta + C$ Ⓑ $-\frac{1}{4} \sin^2 \theta \cos^2 \theta + \frac{1}{12} \sin^4 \theta + C$
Ⓒ $-\frac{1}{4} \sin^2 \theta \cos^2 \theta + \frac{1}{12} \sin^4 \theta + C$ Ⓓ $-\frac{1}{4} \sin^2 \theta \cos^2 \theta + \frac{1}{12} \sin^4 \theta + C$

(٥) $\int \sec^5 \theta = \dots$

- Ⓐ $\frac{1}{4} \sec^4 \theta + \frac{1}{4} \sec^2 \theta + C$ Ⓑ $\frac{1}{4} \sec^4 \theta + \frac{1}{4} \sec^2 \theta + C$ Ⓒ $\frac{1}{4} \sec^4 \theta + \frac{1}{4} \sec^2 \theta + C$ Ⓓ $\frac{1}{4} \sec^4 \theta + \frac{1}{4} \sec^2 \theta + C$

(٦) $\int (\sec^4 \theta - \csc^4 \theta) = \dots$

- Ⓐ $\frac{1}{3} \sec^3 \theta - \frac{1}{3} \csc^3 \theta + C$ Ⓑ $\frac{1}{3} \sec^3 \theta - \frac{1}{3} \csc^3 \theta + C$ Ⓒ $\frac{1}{3} \sec^3 \theta - \frac{1}{3} \csc^3 \theta + C$ Ⓓ $\frac{1}{3} \sec^3 \theta - \frac{1}{3} \csc^3 \theta + C$

(٧) $\int (\csc^2 \theta - \sec^2 \theta) \tan^3 \theta = \dots$

- Ⓐ $-\frac{1}{2} \tan^2 \theta + \frac{1}{2} \tan^4 \theta + C$ Ⓑ $-\frac{1}{2} \tan^2 \theta + \frac{1}{2} \tan^4 \theta + C$
Ⓒ $-\frac{1}{2} \tan^2 \theta + \frac{1}{2} \tan^4 \theta + C$ Ⓓ $-\frac{1}{2} \tan^2 \theta + \frac{1}{2} \tan^4 \theta + C$

(٨) $\int \frac{\sec \theta}{\sin^3 \theta} = \dots$

$$\text{ب) } -\text{لر} | \text{ه}^{\text{س}} - 3 + \text{ت}$$

$$\text{پ) } \frac{1}{4} (3 - \text{ه}^{\text{س}}) + \text{ت}$$

$$\text{د) } \frac{1}{4} \text{لر} | \text{ه}^{\text{س}} - 3 + \text{ت}$$

$$\text{ج) } \text{لر} | \text{ه}^{\text{س}} - 3 + \text{ت}$$

(٩) إذا كانت $(1 - \text{س}^2) \text{ه}^{\text{س}^2 + 3} \text{س} = \text{ع} - [\text{ع} \text{ص} \text{فإن} \text{ع} \text{ص}] = \dots\dots\dots$

$$\text{پ) } \text{ه}^{\text{س}^2 + 3} + \text{ت} \quad \text{ب) } \frac{1}{4} \text{ه}^{\text{س}^2 + 3} + \text{ت} \quad \text{ج) } \text{ه}^{\text{س}^2 + 3} - \text{ت} \quad \text{د) } -\frac{1}{4} \text{ه}^{\text{س}^2 + 3} + \text{ت}$$

(١٠) إذا كانت $(3 + \text{س}^2) \text{لوس} = \text{ع} - [\text{ع} \text{ص} \text{فإن} \text{ص} \text{ع}] = \dots\dots\dots$

$$\text{پ) } 2 \text{س} \text{لوس} \quad \text{ب) } (3 + \text{س}^2) \text{لوس} \quad \text{ج) } \frac{1}{4} (3 + \text{س}^2) \text{لوس} \quad \text{د) } \text{س} (3 + \text{س}^2) \text{لوس}$$

(١١) إذا كانت $\text{د} (س) = \text{ه}^{\text{س} + \text{ه}^{\text{س}}}$ فإن المشتقة العكسية للدالة $\text{د} (س)$ يمكن أن تكون هي $\dots\dots\dots$

$$\text{پ) } \frac{\text{ه}^{\text{س} + 1}}{\text{س}^{\text{س} + 1}} \quad \text{ب) } (\text{س} + \text{ه}^{\text{س}}) \text{ه}^{\text{س} + \text{ه}^{\text{س}}} \quad \text{ج) } \text{ه}^{\text{س} + 1} \quad \text{د) } \text{ه}^{\text{س}}$$

(١٢) إذا كان $\text{د} (س) \text{جاس} = \text{ع} - \text{د} (س) \text{جاس} + \text{س}^3 \text{جاس}^2$ فإن $\text{د} (س) = \dots\dots\dots$

$$\text{پ) } \text{س}^3 \quad \text{ب) } \text{س}^2 \quad \text{ج) } -\text{س}^3 \quad \text{د) } \text{جاس}$$

$$(١٣) \left[(2 - |س|) \text{س} \right]^2 = \dots\dots\dots$$

$$\text{پ) } 4 \quad \text{ب) } 2 \quad \text{ج) } \text{صفر} \quad \text{د) } 1$$

$$(١٤) \left[\text{جاس} + \text{جاس} \right]_{\frac{\pi}{4}}^{\frac{\pi}{2}} = \text{س} = \dots\dots\dots$$

$$\text{پ) } 4 \quad \text{ب) } 2 \quad \text{ج) } \text{صفر} \quad \text{د) } \pi$$

(١٥) إذا كان $\int_{-2}^2 \text{د} (س) \text{س} = 12$ ، $\int_{-2}^2 \text{د} (س) \text{س} = 16$ فإن $\int_{-2}^2 \text{د} (س) \text{س} = \dots\dots\dots$

$$\text{پ) } 28 - \quad \text{ب) } 4 - \quad \text{ج) } 4 \quad \text{د) } 28$$

$$(16) \left. \begin{array}{l} \text{س} > 1, \\ \text{س} \leq \pi \end{array} \right\} \text{إذا كانت د(س) = } \int_{-1}^{\text{س}} \left[\begin{array}{l} \text{س} \\ \text{س} \end{array} \right] \text{ فإن د(س) = س =}$$

Ⓐ $\frac{1}{\pi} + \frac{1}{\pi}$ Ⓑ $\frac{1}{\pi} - \frac{1}{\pi}$ Ⓒ $\frac{1}{\pi}$ Ⓓ $\frac{1}{\pi}$

$$(17) \int_{\frac{\pi}{4}}^{\frac{\pi}{2}} \frac{\text{ه}}{\text{جنا}^2 \text{س}} = \text{س} = \text{.....}$$

Ⓐ $1 - \text{ه}$ Ⓑ $1 + \text{ه}$ Ⓒ ه Ⓓ 1

$$(18) \int_{-1}^{\text{س}} \text{س}^{-2} = \text{س} = \text{ك} \text{ فإن } \int_{-1}^{\text{ه}} \text{س}^{-2} = \text{س} = \text{.....}$$

Ⓐ ك Ⓑ 2ك Ⓒ $\frac{1}{\text{ك}}$ Ⓓ $\frac{1}{\text{ك}}$

$$(19) \int_{\pi}^{\frac{\pi}{2}} \frac{\text{س} + \text{جاس}}{\text{س}^2 + \text{جنا}^2 \text{س}} = \text{س} = \text{.....}$$

Ⓐ $\pi -$ Ⓑ صفر Ⓒ π Ⓓ 2π

$$(20) \text{إذا استخدمنا التعويض } \text{ص} = \frac{1}{\text{س}} \text{ فإن } \int_{\frac{1}{\text{س}}}^{\frac{1}{\text{س}} - 1} \frac{\text{س}^2 - 1}{\text{س}} = \text{س} = \text{.....}$$

Ⓐ $\int_{\frac{1}{\text{ص}}}^{\frac{1}{\text{ص}} - 1} \frac{\text{ص}^2 - 1}{\text{ص}}$ Ⓑ $\int_{\frac{1}{\text{ص}}}^{\frac{1}{\text{ص}} - 1} \frac{\text{ص}^2 - 1}{\text{ص}}$ Ⓒ $\int_{\frac{1}{\text{ص}}}^{\frac{1}{\text{ص}} - 1} \frac{\text{ص}^2 - 1}{\text{ص}}$ Ⓓ $\int_{\frac{1}{\text{ص}}}^{\frac{1}{\text{ص}} - 1} \frac{\text{ص}^2 - 1}{\text{ص}}$

ثانياً:

$$(1) \text{إذا كانت } \frac{\text{ص}}{\text{س}} = \text{قتا}^2 \text{ س} ، \text{ص} = 2 \text{ عندما } \text{س} = \frac{\pi}{4} \text{ فإن } \text{ص} = \text{.....}$$

Ⓐ $(2 + \text{ظنا}^2) -$ Ⓑ $(3 + \text{ظنا}^2) -$ Ⓒ $2 - \text{ظنا}^2$ Ⓓ $3 - \text{ظنا}^2$

$$(2) \text{إذا كانت } \frac{\text{ص}}{\text{س}} = \text{س} + \frac{1}{\text{س}} ، \text{ص} = \frac{1}{\text{س}} \text{ عندما } \text{س} = 1 \text{ فإن } \text{ص} = \text{.....} \text{ عندما } \text{س} = \text{ه}$$

Ⓐ $1 + \frac{\text{ه}^2}{\text{ه}}$ Ⓑ $\frac{1 + \text{ه}^2}{\text{ه}}$ Ⓒ $\frac{1 - \text{ه}^2}{\text{ه}}$ Ⓓ $\text{ه} - \text{ه}^2$

(٣) إذا كان ميل المماس لمنحنى الدالة d عند أى نقطة عليه يساوى $\frac{1}{2-s}$ و كان المنحنى يمر بالنقطة عند $(3, 0)$ فإن $d(2) = \dots\dots\dots$

- Ⓐ ٢ Ⓑ ٣ Ⓒ $\frac{1}{2}$ Ⓓ ٣

(٤) حجم الجسم الناشئ من دوران المنطقة المحددة بالمنحنى $v = \frac{1}{s}$ ، المستقيمين $v = 1$ ، $v = 2$ و محور الصادات دورة كاملة حول محور الصادات = $\dots\dots\dots$

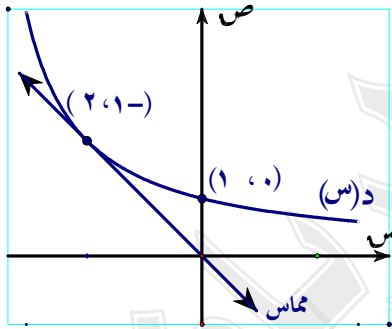
- Ⓐ $\frac{\pi}{4}$ Ⓑ $\frac{\pi}{2}$ Ⓒ 2π Ⓓ π

(٥) مساحة المنطقة المحددة بالمنحنى $v = s^3$ و المستقيمين $v = 0$ ، $v = 2$ تساوى $\dots\dots\dots$

- Ⓐ ١ Ⓑ ٢ Ⓒ ٤ Ⓓ ٨

(٦) مساحة المنطقة المحددة بالمنحنى $v = \sqrt{4-s^2}$ و محور السينات مقدره بالوحدات المربعة تساوى $\dots\dots\dots$

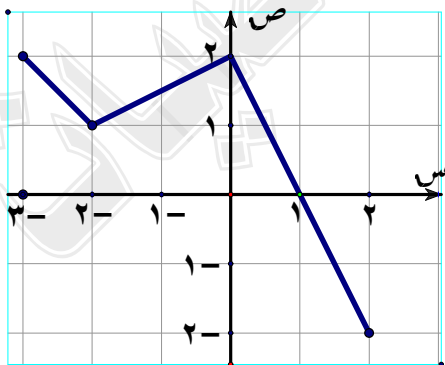
- Ⓐ ٢ Ⓑ ٤ Ⓒ 2π Ⓓ $\pi 4$



(٧) إذا كان الشكل المجاور يمثل منحنى الدالة $d(s)$ رسم لها مماس

عند النقطة $(2, 1-)$ فإن $\int_{1-}^2 [d'(s)] ds = \dots\dots\dots$

- Ⓐ ٤ Ⓑ ٣ Ⓒ ١- Ⓓ ١

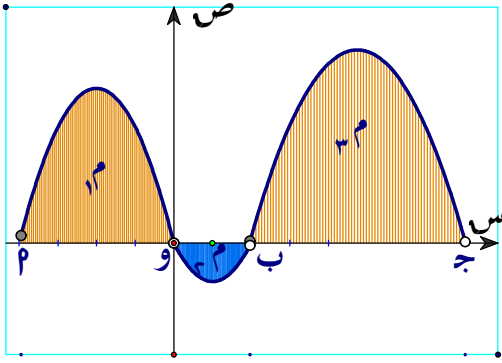


(٨) إذا كان المنحنى المجاور يمثل منحنى الدالة الخطية $d(s)$ معرفة بأكثر من

قاعدة و كانت $r(s) = \int_{-2}^s d(s) ds$ فإن العدد الذى له أكبر

قيمة هو $\dots\dots\dots$

- Ⓐ $r(2)$ Ⓑ $r(-2)$ Ⓒ $r(0)$ Ⓓ $r(1)$

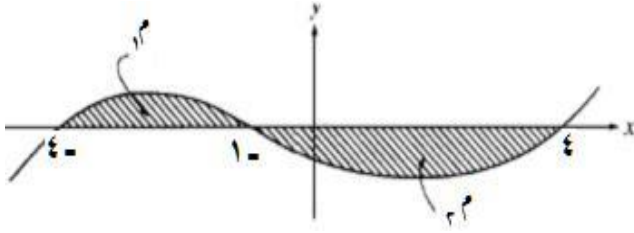


(٩) في الشكل المقابل إذا كان $\int_1^8 f(x) dx = 14$ و $\int_0^8 f(x) dx = 30$ وحدة مربعة فإن

وكان $1^2 + 2^2 + 3^2 = 30$ وحدة مربعة فإن

$1^2 = \dots$ وحدة مربعة.

- ١ (أ) ٢ (ب)
٣ (ج) ٤ (د)



(١٠) إذا كان الشكل المجاور يمثل منحنى الدالة $f(x)$ وكانت

1^2 ، 2^2 عددان موجبان يمثلان مساحتي المنطقتين المظلتين

فإن $\int_{-4}^4 f(x) dx - \int_{-1}^4 f(x) dx = \dots$

١، ٢ + ٢، ٢ (د)

١، ٢ - ٢، ٢ (ج)

١، ٢ - ٢، ٢ (ب)

١، ٢ + ٢، ٢ (أ)

أسئلة إنتاج الإجابة

المشتقات:

(١) إيجاد المشتقة الأولى للدالة $v = s^2$ قا (١/س)

(٢) إيجاد قيمة ميل المماس للمنحنى $v = 2\pi s + \sqrt{2}$ قاس عند $s = \frac{\pi}{4}$

(٣) إذا كانت $v = \sin(2\pi\theta)$ ، $s = \cos(2\pi\theta)$ أوجد $\frac{ds}{d\theta}$ عندما $\theta = \frac{1}{4}$.

(٤) إيجاد قيمة البارامتر θ التي عندها يكون للمنحنى $v = 2s^3 - 5s^2 + 4s + 9$ ، $v = 2s^2 + s - 5$

(أ) مماس رأسي (ب) مماس أفقي

(٥) باستخدام الإشتقاق البارامترى إيجاد مشتقة s - جاس بالنسبة لـ v - جتاس عند $s = \frac{\pi}{3}$.

(٦) إذا كانت $v = \sqrt{2s + 5}$ أثبت أن $(2s + 5) \frac{ds}{dv} + 3 \frac{d^2s}{dv^2} = 0$

(٧) إذا كانت $v^2 = s^2 + 8$ أثبت أن $(1 + \frac{ds}{dv}) \frac{d^2v}{ds^2} + 3 \frac{dv}{ds} = v$

(٨) إذا كانت $v^2 = 2s^3 - 3s$ أثبت أن $v \frac{d^2v}{ds^2} + (v^2 - 3) \frac{dv}{ds} = 3s^2$

(٩) إذا كانت $v = 2s - \sin 3s$ ، أثبت أن $3 \frac{d^2v}{ds^2} + 9 \left(\frac{dv}{ds}\right)^2 = 4 - v$

(١٠) إذا كانت $v = s$ أثبت أن $\frac{d^2v}{ds^2} + 3 \frac{dv}{ds} = v^3$

(١١) إذا كانت $v = s^3 + 1$ ، $e = s^2 + 3$ أوجد قيمة $\frac{de}{dv}$ عندما $s = 2$

(١٢) إذا كانت $v^2 = 2s - 3$ ، $v = 2s^2 - 1$ أثبت أن $3 \frac{dv}{ds} - s \frac{d^2v}{ds^2} = 12s$

(١٣) إذا كانت $v = \cos 2s$ ، $v = \sin 2s$ فأوجد $\frac{ds}{dv}$ عندما $\theta = \frac{\pi}{4}$.

$$(14) \text{ إذا كانت } ص = ظ^2 \text{ س فأثبت أن } \frac{ص^2}{س} = 2(ص + 1)(ص + 1)$$

$$(15) \text{ إذا كانت } ص = س^2 \text{ فأثبت أن } \frac{ص^2}{س} = 2(ص + 1)$$

تطبيقات هندسية

(1) أوجد معادلة كل من المماس و العمودى للمنحنى $ص^2 + ص - 2 - 16 = 0$ عند نقطة تقاطعه مع محور الصادات حيث $ص < 0$.

(2) أوجد معادلة كل من المماس و العمودى للمنحنى $ص = س$ عند النقطة التى إحداثيها السينى π .

(3) إذا كانت المعادلتان البارامتريتان لمنحنى الدالة $ص = ر(س)$ هما $ص = 1 - \theta^2$ ، $ص = ظ \theta$ كل من فإوجد معادلة المماس و العمودى عند $\theta = \frac{\pi}{4}$.

(4) أثبت أن المنحنيان $ص = س^2 - 2$ ، $ص = س^3 - س^2$ متماسان و أوجد معادلة المماس المشترك لهما.

(5) أوجد نقط تقاطع المنحنيين $ص = 2$ ، $ص = 2 - ص^2$ و برهن أنهما يتقاطعان على التعامد.

(6) أوجد قيم الثوابت $پ$ ، $ب$ ، $ج$ حتى يكون للمنحنى $ص = 1س^3 + ب ص$ ، $ص = ج ص^2 - س$ مماس مشترك عند النقطة $(-1, 2)$.

(7) أوجد مساحة Δ المحدود بمحور السينات ، المماس ، العمودى عليه للمنحنى $ص^3 + ص^2 = 12$ عند النقطة $(-1, 3)$ الواقعة على المنحنى.

(8) أوجد النقط الواقعة على المنحنى $ص^2 - 8 ص + س = 0$ و التى عندها المماس يوازي محور الصادات.

(9) أوجد النقط الواقعة على المنحنى $ص = س^2 - س$ و التى عندها المماس يمر بالنقطة $(1, -4)$.

(10) أوجد النقط الواقعة على محور الصادات بحيث يصنع المماسان المرسومان منها للمنحنى $ص + س^2 = 0$ مع المستقيم المار بنقطتى التماس مثلث متساوى الأضلاع.

المعدلات الزمنية :

(١) بالون كروي مملوء بالغاز يتسرب منه بمعدل $س$ سم^٣/ث. أثبت أن معدل نقص مساحته في اللحظة التي يكون فيها طول نصف قطره $ن$ سم يساوي $\frac{س}{٢ن}$ سم^٢/ث.

(٢) مكعب يتمدد بالحرارة فيزداد طول حرفه بمعدل ٠.٠٢ سم/د و تزداد مساحته سطحه في لحظة ما بمعدل ٠.٧٢ سم^٢/د أوجد طول حرف المكعب في هذه اللحظة و معدل الزيادة في حجمه حينئذ.

(٣) جسم معدني على شكل متوازي مستطيلات قاعدته مربعة الشكل ، طول ضلعها يتزايد بمعدل ١ سم/د و ارتفاعه يتناقص بمعدل ٢ سم/د. أوجد معدل تزايد حجمه عندما يكون طول ضلع قاعدته ٥ سم و ارتفاعه ٢٠ سم، بعد كم دقيقة يتوقف تغير حجم متوازي المستطيلات عن الزيادة

(٤) يتمدد هرم رباعي منتظم من المعدن ارتفاعه يساوي ضلع قاعدته فيزداد حجمه بمعدل ١ سم^٣/ث ، إذا كان معدل تزايد كل من ارتفاع الهرم و طول قاعدته يساوي ٠.٠١ سم/ث فأوجد طول ضلع قاعدته.

(٥) Δ قائم الزاوية في ج ، مساحته ثابتة و تساوي ٢٤ سم^٢ ، إذا كان معدل تغير $ب$ يساوي ١ سم/ث فأوجد معدل تغير كل من $ا$ ، $هـ$ ($\hat{ا}$) عند اللحظة التي يكون فيها $ب$ يساوي ٨ سم.

(٦) مثن منتظم طول ضلعه ١٠ سم و يتزايد بمعدل ٠.٢ سم/ث أوجد معدل تزايد مساحته.

(٧) تتحرك النقطة $پ$ ($س$ ، $ص$) على منحنى الدالة $ص = س^٣ + س$ بحيث $\frac{ص}{س} = ٢$ وحدة*ث أوجد معدل التغير في مساحة المثلث $پ$ و $ب$ حيث " و " نقطة الأصل ، النقطة $ب$ (٠ ، ٦) في اللحظة التي يكون فيها الإحداثي السيني للنقطة المتحركة يساوي ٣ .

(٨) قطعة دائرية طول نصف قطر دائرتها ١٠ سم و قياس زاويتها المركزيه $س^\circ$ و يتغير بمعدل ٣ د/د أوجد معدل تغير مساحتها عندما $س = ٦٠^\circ$.

(٩) يستند سلم طوله ٥ م بأحد طرفيه على حائط رأسى و بطرفه الآخر على أرض أفقية فإذا أنزلت الطرف السفلى للسلم مبتعداً عن الحائط بمعدل $\frac{١}{٢}$ م/دقيقة . فأوجد معدل إنخفاض الطرف العلوى للسلم عندما يكون الطرف السفلى على بعد ٣ م من الحائط. ثم أوجد بعد الطرف السفلى عن الحائط عندما يتحرك الطرفان بنفس المعدل.

(١٠) مثلث متساوي الساقين طول قاعدته ٨ سم يتغير ارتفاعه بمعدل ٢ سم/د. اوجد معدل التغير في زاوية رأسه عندما يكون طول ارتفاعه ٦ سم.

(١١) رجل طوله ١٨٠ سم يقف أمام مصباح يرتفع عن سطح الأرض بمقدار ٥.٤ متراً . فإذا تحرك الرجل مبتعداً عن المصباح على طريق أفقى بسرعة ثابتة ٣ م/ث فاحسب
 [١] معدل تغير طول ظل الرجل.
 [٢] سرعة نهاية ظل الرجل .
 [٣] معدل تغير بعد رأس الرجل عن المصباح عندما يكون الرجل على بعد ٤.٨ م من قاعدة المصباح .

(١٢) ينسكب الماء في وعاء إسطواني الشكل بمعدل ٢ سم^٣/ث اوجد معدل التغير في ارتفاع الماء علماً بان طول نصف قطر قاعدة الإسطوانة يساوى ٢ سم . و إذا كان ارتفاع الوعاء ٢.٨ سم فأوجد متى يمتلئ الوعاء معتبراً $\pi = \frac{22}{7}$

سلوك الدالة :

(١) عين فترات تزايد و تناقص الدالة $f(x) = x^3 + 3x^2 - 6x + 2$ حيث $x \in [0, \frac{\pi}{3}]$.

(٢) عين فترات تزايد و تناقص الدالة $f(x) = x^3 - 3x^2 + 2x - 1$.

(٣) عين فترات تزايد و تناقص الدالة $f(x) = x^3 + 3x^2 - 6x + 2$.

(٤) عين القيم العظمى و الصغرى المحلية إن وجدت للدالة $f(x) = x^3 - 3x^2 + 2x - 1$ مبيناً نوعها

(٥) عين القيم العظمى و الصغرى المحلية للدالة $f(x) = x^3 + \sqrt{1-x^2} + 2$ مبيناً نوعها إن وجدت

(٦) عين القيم العظمى و الصغرى المحلية للدالة $f(x) = \frac{x^2}{x-1} + 2$ مبيناً نوعها إن وجدت

(٧) عين القيم العظمى و الصغرى المحلية للدالة $f(x) = x^3 - 3x^2 + 2x - 1$ مبيناً نوعها إن وجدت

(٨) عين القيم العظمى و الصغرى المحلية للدالة $f(x) = x^3 - \frac{1}{x} + 2$ مبيناً نوعها إن وجدت.

(٩) عين القيم العظمى و الصغرى المحلية للدالة $f(x) = x^3 - 1 - |x-2|$ مبيناً نوعها إن وجدت.

(١٠) أوجد مناطق التحذب لأعلى و لأسفل و نقط الإنقلاب إن وجدت لمنحنى الدالة $d(s) = s^3 + 2s^2 - 4s - 8$

(١١) إذا كانت للدالة $d(s) = s^3 + 2s^2 + 3s$ ب س نقطة إنقلاب عند النقطة $(2, 2)$ عين قيمة الثابتين p, q .

(١٢) عين القيم العظمى و الصغرى المطلقة إن وجدت لكل من الدالتين الآتيتين في الفترة المعطاه:

Ⓐ $d(s) = s^3 + 2s^2 - 3s$ في $[1, 3]$ Ⓑ $d(s) = s^3 + 2s^2 - 3s$ في $[-3, 1]$

(١٣) أرسم منحنى الدالة $d(s) = s^3 + 2s^2 - 3s$

تطبيقات على القيم العظمى و الصغرى :

(١) مثلث قائم الزاوية طول وتره ٢٦ سم. إوجد طول كل من ضلعي القائمة بحيث يكون طول العمود المرسوم من رأس القائمة على الوتر أكبر ما يمكن.

(٢) إذا كان المستقيم l يقطع محوري الإحداثيات في النقطتين P, B و يمر بالنقطة $J = (8, 1)$ أوجد أصغر طول للقطعة المستقيمة \overline{PB} .

(٣) إوجد أكبر مساحة لمنطقة مستطيلة الشكل مرسومة داخل Δ و P فيها ضلعان منطبقان على محوري الإحداثيات حيث $P = (0, 3), B = (4, 0), O = (0, 0)$.

(٤) P قطر في الدائرة M ، $H \in$ للدائرة، المماس للدائرة عند H يقطع المماس المرسوم عند P في J ، يقطع المماس المرسوم عند B في D أثبت أن أصغر مساحة لشبه المنحرف PBD تساوى ضعف مربع طول نصف قطر الدائرة.

(٥) أوجد بعدى أكبر مستطيل يمكن رسمه داخل مثلث متساوى الساقين طول قاعدته ١٨ سم، إرتفاعه ١٢ سم بحيث تقع رأسان منه على قاعة المثلث و الرأسان الآخران على كل من ساقى المثلث.

(٦) متوازي مستطيلات حجمة ٥٧٦ سم^٢ و النسبة بين طولي قاعدتية ٢ : ١ أوجد أبعاد متوازي المستطيلات التي تجعل مساحتها السطحية أصغر ما يمكن.

التكامل:

(أولاً)

- | | |
|------------------------------------|---------------------------------------|
| $\int \frac{s}{s^2(s+1)} ds$ (٢) | $\int (1+2s) \sin^2 s ds$ (١) |
| $\int s^2 \cos s ds$ (٤) | $\int (s^2 + 5) \cos s ds$ (٣) |
| $\int s \cos s ds$ (٦) | $\int \frac{\cos s}{s} ds$ (٥) |
| $\int s \cos s ds$ (٨) | $\int \frac{s^4}{1+s^2} ds$ (٧) |
| $\int s^2 \cos s ds$ (١٠) | $\int \frac{\cos s}{s^2} ds$ (٩) |
| $\int (3 \cos s) \sin s ds$ (١٢) | $\int s^3 \cos s ds$ (١١) |
| $\int s^2 \cos s ds$ (١٤) | $\int \frac{\cos s}{s} ds$ (١٣) |
| $\int s^3 \cos s ds$ (١٦) | $\int \cos s (1+s) ds$ (١٥) |
| $\int \frac{s^3 + 5}{s^2} ds$ (١٨) | $\int s^2 \cos s ds$ (١٧) |
| $\int s^3 \cos s ds$ (٢٠) | $\int \frac{\cos s}{(1+s)^2} ds$ (١٩) |

(ثانياً)

(١) إذا كان $\int_0^1 (s) ds = 2(1-s) ds$ فأوجد قيمة p .

(٢) أوجد معادلة المنحنى الذى يمر بالنقطة $(\frac{\pi}{4}, 9 + \frac{\pi}{4})$ إذا كان ميل المماس له عند أى نقطة عليه (س ، ص) يعطى

$$\text{بالعلاقة } 2 = s^2 + \frac{1}{4} \cos s$$

(٣) أوجد معادلة المنحنى الذى يمر بالنقطتين $(\frac{\pi}{4}, 5)$ ، $(1, \frac{\pi^3}{4})$ إذا كان ميل المماس له عند أى نقطة عليه (س ، ص)

$$\text{يعطى بالعلاقة } 2 = -\frac{1}{4} \cos s$$

(٤) إذا كان ميل العمودي لمنحنى عند أى نقطة عليه (س ، ص) معطى بالعلاقة $2 = -\text{قتاس قاس}$ أوجد معادلة المنحنى علماً بأنه يمر بالنقطة $(\frac{\pi}{4}, 1)$

(٥) منحنى ميل المماس له عند أى نقطة عليه (س ، ص) يعطى بالعلاقة $\frac{3}{\sqrt{ص}} = \frac{ص}{ص}$ أوجد معادلة المنحنى علماً بأنه يمر بالنقطة $(\frac{1}{18}, 1)$.

(٦) إذا كان منحنى الدالة $ص = د(س)$ له قيمة عظمى محلية عند النقطة $(2, 7)$ وكانت $\frac{ص}{س} = 2 - 6س$ أوجد معادلة المنحنى.

(٧) إذا كانت $ص = \frac{ص}{س} + 2س = 3$ وكان المنحنى يمر بالنقطة $(1, 2)$ فإوجد العلاقة بين س ، ص

(٨) إذا كان معدل تغير ميل المماس لمنحنى عند أى نقطة عليه هو $6س - 3$ أوجد معادلة المنحنى علماً بأنه يمر بالنقطة $(2, 2)$ و المماس له عند $س = 1$ يكون أفقياً.

(٩) إذا كان ميل المماس لمنحنى عند أى نقطة عليه يعطى بالعلاقة $\frac{ص}{س} = 3س^2 - 18س + 24$ و للمنحنى قيمة صغرى محلية تساوى ٢٦ أوجد القيمة العظمى المحلية للدالة.

(١٠) أوجد المساحة المحصورة بين منحنى الدالة $د(س) = 3س^3$ و محور السينات و المستقيمين $س = 2$ ، $س = 2$.

(١١) إذا كانت $د : [-\infty, 1]$ ← ح حيث $د(س) = 3س^3 - 4س$ أوجد مساحة المنطقة المحددة بمنحنى الدالة و محور السينات و تقع أعلى محور السينات

(١٢) أوجد مساحة المنطقة المستوية المحددة بالمنحنى $ص = 3س^2 + 2س - 3س^2$ و المستقيمتين $س = 1$ ، $س = 4$ ، $ص = 0$

(١٣) أوجد مساحة المنطقة المحددة بمنحنى الدالتين $د(س) = 3س^3 - 3س^2 + 5س$ ، $ر(س) = 2س + 2$.

(١٤) إذا كانت تكلفة المتر المربع من أرضية ممرات الفندق بالجرانيت ٤٠٠ جنيه و تم تغطية ٥ ممرات متطابقة بالجرانيت مساحة كل منها محدودة بمنحنى الدالة $د$ و المستقيمين $س = 0$ ، $ص = 0$ حيث $د(س) = 12 - \frac{1}{3}س^2$ أوجد تكلفة تغطية الممرات الخمسة.

(١٥) أوجد حجم الجسم الناشئ من دوران المنطقة المحددة بالمنحنيين $y = \sqrt{x}$ ، $y = x$ ، $x = 0$ ، $x = 1$ حول محور السينات.

(١٦) أوجد حجم الجسم الناشئ من دوران المنطقة المحددة بالمنحنيين $y = x^2$ ، $y = x + 2$ ، $x = 0$ ، $x = 2$ حول محور الصادات.

(١٧) أوجد حجم الجسم الناشئ من دوران المنطقة المحددة بالمنحنيين $y = \frac{x^2}{2}$ + $y = \frac{x^2}{2}$ ، $x = 0$ ، $x = 1$ و محور السينات دورة كاملة حول محور السينات. حيث p ، b ثابتان.

إجابات أسئلة الاختيار

الإشتقاق :

ج	(٥)	ب	(٤)	د	(٣)	ب	(٢)	ب	(١)
د	(١٠)	ج	(٩)	ج	(٨)	ج	(٧)	ج	(٦)
م	(١٥)	ج	(١٤)	د	(١٣)	ب	(١٢)	م	(١١)
م	(٢٠)	م	(١٩)	ب	(١٨)	ج	(١٧)	م	(١٦)

النهايات :

ج	(٥)	د	(٤)	ج	(٣)	ب	(٢)	م	(١)
				د	(٨)	د	(٧)	ب	(٦)

تطبيقات هندسية :

ج	(٥)	ج	(٤)	ج	(٣)	ب	(٢)	ج	(١)
ب	(١٠)	د	(٩)	ج	(٨)	د	(٧)	م	(٦)

معدلات زمنية :

د	(٥)	ج	(٤)	ب	(٣)	م	(٢)	م	(١)
		م	(٩)	ج	(٨)	م	(٧)	ب	(٦)

سلوك الدالة :

ج	(٥)	ج	(٤)	ج	(٣)	م	(٢)	م	(١)
ج	(١٠)	م	(٩)	د	(٨)	د	(٧)	ب	(٦)
د	(١٥)	ب	(١٤)	ب	(١٣)	ج	(١٢)	ب	(١١)

التكامل :

أولاً

ج	(٥)	ج	(٤)	د	(٣)	ب	(٢)	م	(١)
د	(١٠)	ج	(٩)	ب	(٨)	ب	(٧)	ج	(٦)
ب	(١٥)	ج	(١٤)	ج	(١٣)	ج	(١٢)	د	(١١)
ب	(٢٠)	ج	(١٩)	ب	(١٨)	م	(١٧)	د	(١٦)

ثانياً

ب	(٥)	ج	(٤)	م	(٣)	د	(٢)	د	(١)
م	(١٠)	ب	(٩)	د	(٨)	د	(٧)	ب	(٦)

الأشتقاق:

$$(1) \quad \text{ص} = \text{س}^2 \text{ قا} \left(\frac{1}{\text{س}}\right) \quad \Leftarrow \quad \frac{\text{ص}}{\text{س}} = \frac{\text{ص}}{\text{س}} \text{ س}^2 \text{ قا} \left(\frac{1}{\text{س}}\right) + \left(\frac{1}{\text{س}}\right) \text{ ظا} \left(\frac{1}{\text{س}}\right) \text{ س}^2$$

$$\frac{\text{ص}}{\text{س}} = \frac{\text{ص}}{\text{س}} \text{ س}^2 \text{ قا} \left(\frac{1}{\text{س}}\right) + \left(\frac{1}{\text{س}}\right) \text{ ظا} \left(\frac{1}{\text{س}}\right) \text{ س}^2$$

$$\frac{\text{ص}}{\text{س}} = \frac{\text{ص}}{\text{س}} \text{ س}^2 \text{ قا} \left(\frac{1}{\text{س}}\right) - \left(\frac{1}{\text{س}}\right) \text{ ظا} \left(\frac{1}{\text{س}}\right) \text{ س}^2$$

$$(2) \quad \text{ص} = \text{ظ} \text{ س}^2 \text{ قا} \left(\frac{\pi}{4}\right) + \sqrt{2} \text{ قاس ظا} \text{ س} \quad \Leftarrow \quad \frac{\text{ص}}{\text{س}} = \frac{\text{ص}}{\text{س}} \text{ س}^2 \text{ قا} \left(\frac{\pi}{4}\right) + \sqrt{2} \text{ قاس ظا} \text{ س}$$

$$\frac{\text{ص}}{\text{س}} = \frac{\text{ص}}{\text{س}} \text{ س}^2 \text{ قا} \left(\frac{\pi}{4}\right) + \sqrt{2} \text{ قاس ظا} \text{ س}$$

$$\frac{\text{ص}}{\text{س}} = \frac{\text{ص}}{\text{س}} \text{ س}^2 \text{ قا} \left(\frac{\pi}{4}\right) + \frac{\sqrt{2}}{\text{س}} \text{ قاس ظا} \text{ س}$$

$$\frac{\text{ص}}{\text{س}} = \frac{\text{ص}}{\text{س}} \text{ س}^2 \text{ قا} \left(\frac{\pi}{4}\right) + \sqrt{2} \text{ قاس ظا} \text{ س}$$

$$(3) \quad \text{ص} = \text{جنا} (\theta \pi^2) \quad \Leftarrow \quad \frac{\text{ص}}{\theta \pi^2} = \frac{\text{ص}}{\theta \pi^2} \text{ جنا} (\theta \pi^2)$$

$$\text{س} = \text{جا} (\theta \pi^2) \quad \Leftarrow \quad \frac{\text{س}}{\theta \pi^2} = \frac{\text{س}}{\theta \pi^2} \text{ جا} (\theta \pi^2)$$

$$\frac{\text{ص}}{\theta \pi^2} \times \frac{1}{\text{جنا} (\theta \pi^2)} = \frac{\text{ص}}{\theta \pi^2} \quad \Leftarrow \quad \frac{\text{ص}}{\theta \pi^2} \times \frac{1}{\text{جنا} (\theta \pi^2)} = \frac{\text{ص}}{\theta \pi^2}$$

$$\frac{\text{ص}}{\theta \pi^2} = \frac{\text{ص}}{\theta \pi^2} \text{ جنا} (\theta \pi^2) \quad \Leftarrow \quad \frac{\text{ص}}{\theta \pi^2} = \frac{\text{ص}}{\theta \pi^2} \text{ جنا} (\theta \pi^2)$$

$$\frac{\text{ص}}{\theta \pi^2} = \frac{\text{ص}}{\theta \pi^2} \text{ جنا} (\theta \pi^2) \quad \Leftarrow \quad \frac{\text{ص}}{\theta \pi^2} = \frac{\text{ص}}{\theta \pi^2} \text{ جنا} (\theta \pi^2)$$

حل آخر:

$$\left. \begin{array}{l} \text{ص} = \text{جنا}^2 (\theta \pi^2) \\ \text{س} = \text{جا}^2 (\theta \pi^2) \end{array} \right\} \text{ بالجمع} \quad \Leftarrow \quad \left. \begin{array}{l} \text{ص} = \text{جنا} (\theta \pi^2) \\ \text{س} = \text{جا} (\theta \pi^2) \end{array} \right\}$$

$$\text{س}^2 + \text{ص}^2 = \text{جا}^2 (\theta \pi^2) + \text{جنا}^2 (\theta \pi^2) \quad \Leftarrow \quad \text{س}^2 + \text{ص}^2 = \text{جا}^2 (\theta \pi^2) + \text{جنا}^2 (\theta \pi^2)$$

$$\text{س}^2 + \text{ص}^2 = \text{جا}^2 (\theta \pi^2) + \text{جنا}^2 (\theta \pi^2) \quad \Leftarrow \quad \text{س}^2 + \text{ص}^2 = \text{جا}^2 (\theta \pi^2) + \text{جنا}^2 (\theta \pi^2)$$

$$\text{س} + \text{ص} = \text{س} + \text{ص} \quad \Leftarrow \quad \text{س} + \text{ص} = \text{س} + \text{ص}$$

$$\frac{\text{ص}}{\theta \pi^2} = \frac{\text{ص}}{\theta \pi^2} \text{ جنا} (\theta \pi^2) \quad \Leftarrow \quad \frac{\text{ص}}{\theta \pi^2} = \frac{\text{ص}}{\theta \pi^2} \text{ جنا} (\theta \pi^2)$$

$$\frac{\text{ص}}{\theta \pi^2} = \frac{\text{ص}}{\theta \pi^2} \text{ جنا} (\theta \pi^2) \quad \Leftarrow \quad \frac{\text{ص}}{\theta \pi^2} = \frac{\text{ص}}{\theta \pi^2} \text{ جنا} (\theta \pi^2)$$

$$(4) \quad \text{س} = \text{س}^2 - \text{ص}^2 + \text{ص} + \text{س} \quad \Leftarrow \quad \text{س} = \text{س}^2 - \text{ص}^2 + \text{ص} + \text{س}$$

$$\begin{aligned} \therefore \text{ص} &= 2\sqrt{2} - 2 & \Leftarrow & \quad 1 + \sqrt{2} = \frac{\sqrt{2}}{\sqrt{2}} \\ \therefore \frac{\sqrt{2}}{\sqrt{2}} \times \frac{\sqrt{2}}{\sqrt{2}} &= \frac{\sqrt{2}}{\sqrt{2}} & \Leftarrow & \quad \frac{1 + \sqrt{2}}{2 + \sqrt{2} - 2} = \frac{\sqrt{2}}{\sqrt{2}} \\ \text{المماس رأسي} & \quad \text{①} & \Leftarrow & \quad \text{ميل المماس غير معرف أى أن } \frac{\sqrt{2}}{\sqrt{2}} \text{ غير معرف} \\ \therefore & 2\sqrt{2} - 2 = 4 + \sqrt{2} - 2 & \Leftarrow & \quad \circ = 2 + \sqrt{2} - 2 \\ \therefore & \circ = (1 - \sqrt{2})(2 - \sqrt{2}) & \Leftarrow & \quad \boxed{1 = \sqrt{2}} \text{ , } \boxed{\frac{2}{3} = \sqrt{2}} \\ \text{المماس أفقى} & \quad \text{②} & \Leftarrow & \quad \text{ميل المماس يساوى صفر أى أن } \frac{\sqrt{2}}{\sqrt{2}} \\ \therefore & \circ = 1 + \sqrt{2} & \Leftarrow & \quad \boxed{\frac{1}{4} = \sqrt{2}} \end{aligned}$$

$$\begin{aligned} \text{نفرض أن ص} &= \text{س} - \text{جاس} \text{ , ع} = 1 - \text{جتاس} & \Leftarrow & \quad \text{المطلوب هو } \frac{\sqrt{2}}{\sqrt{2}} \text{ عند س} = \frac{\pi}{3} \\ \therefore \text{ص} &= \text{س} - \text{جاس} & \Leftarrow & \quad 1 - \text{جتاس} = \frac{\sqrt{2}}{\sqrt{2}} \\ \therefore \text{ع} &= 1 - \text{جتاس} & \Leftarrow & \quad \text{جاس} = \frac{\sqrt{2}}{\sqrt{2}} \\ \therefore \frac{\sqrt{2}}{\sqrt{2}} \times \frac{\sqrt{2}}{\sqrt{2}} &= \frac{\sqrt{2}}{\sqrt{2}} & \Leftarrow & \quad \frac{1 - \text{جتاس}}{\text{جاس}} = \frac{\sqrt{2}}{\sqrt{2}} \\ \therefore \frac{\sqrt{2}}{\sqrt{2}} &= \frac{\sqrt{2}}{\sqrt{2}} & \Leftarrow & \quad \frac{1 - \frac{\pi}{3}}{\frac{\pi}{3}} = \frac{\sqrt{2}}{\sqrt{2}} \end{aligned}$$

$$\begin{aligned} \therefore \text{ص} &= \sqrt{2 + \text{س}} & \Leftarrow & \quad \text{ص}^2 = 2 + \text{س} \\ \therefore 2\sqrt{2 + \text{س}} &= 2 & \Leftarrow & \quad \text{ص} = \frac{\sqrt{2 + \text{س}}}{\sqrt{2 + \text{س}}} \text{ ... (1) بالإشتقاق بالنسبة لـ س} \\ \therefore \frac{\sqrt{2 + \text{س}}}{\sqrt{2 + \text{س}}} \times \frac{\sqrt{2 + \text{س}}}{\sqrt{2 + \text{س}}} &= \frac{\sqrt{2 + \text{س}}}{\sqrt{2 + \text{س}}} & \Leftarrow & \quad \circ = \frac{\sqrt{2 + \text{س}}}{\sqrt{2 + \text{س}}} + \frac{\sqrt{2 + \text{س}}}{\sqrt{2 + \text{س}}} \\ \therefore \frac{\sqrt{2 + \text{س}}}{\sqrt{2 + \text{س}}} &= \frac{\sqrt{2 + \text{س}}}{\sqrt{2 + \text{س}}} & \Leftarrow & \quad \circ = \frac{\sqrt{2 + \text{س}}}{\sqrt{2 + \text{س}}} + \frac{\sqrt{2 + \text{س}}}{\sqrt{2 + \text{س}}} \\ \therefore \frac{\sqrt{2 + \text{س}}}{\sqrt{2 + \text{س}}} &= \frac{\sqrt{2 + \text{س}}}{\sqrt{2 + \text{س}}} & \Leftarrow & \quad \text{بالتعويض من (1) عن } \frac{\sqrt{2 + \text{س}}}{\sqrt{2 + \text{س}}} \\ \therefore \frac{\sqrt{2 + \text{س}}}{\sqrt{2 + \text{س}}} &= \frac{\sqrt{2 + \text{س}}}{\sqrt{2 + \text{س}}} & \Leftarrow & \quad \circ = \frac{\sqrt{2 + \text{س}}}{\sqrt{2 + \text{س}}} + \frac{\sqrt{2 + \text{س}}}{\sqrt{2 + \text{س}}} \\ \therefore \frac{\sqrt{2 + \text{س}}}{\sqrt{2 + \text{س}}} &= \frac{\sqrt{2 + \text{س}}}{\sqrt{2 + \text{س}}} & \Leftarrow & \quad \circ = \frac{\sqrt{2 + \text{س}}}{\sqrt{2 + \text{س}}} + \frac{\sqrt{2 + \text{س}}}{\sqrt{2 + \text{س}}} \\ \therefore \frac{\sqrt{2 + \text{س}}}{\sqrt{2 + \text{س}}} &= \frac{\sqrt{2 + \text{س}}}{\sqrt{2 + \text{س}}} & \Leftarrow & \quad \circ = \frac{\sqrt{2 + \text{س}}}{\sqrt{2 + \text{س}}} + \frac{\sqrt{2 + \text{س}}}{\sqrt{2 + \text{س}}} \end{aligned}$$

$$\begin{aligned} \therefore \text{ص}^2 + \text{س}^2 &= 8 & \Leftarrow & \quad \text{بالإشتقاق بالنسبة لـ س} \\ \therefore \text{ص}^2 + \text{س}^2 &= 8 & \Leftarrow & \quad \circ = \frac{\sqrt{2 + \text{س}}}{\sqrt{2 + \text{س}}} + \frac{\sqrt{2 + \text{س}}}{\sqrt{2 + \text{س}}} \\ \therefore \text{ص}^2 + \text{س}^2 &= 8 & \Leftarrow & \quad \circ = \frac{\sqrt{2 + \text{س}}}{\sqrt{2 + \text{س}}} + \frac{\sqrt{2 + \text{س}}}{\sqrt{2 + \text{س}}} \\ \therefore \text{ص}^2 + \text{س}^2 &= 8 & \Leftarrow & \quad \circ = \frac{\sqrt{2 + \text{س}}}{\sqrt{2 + \text{س}}} + \frac{\sqrt{2 + \text{س}}}{\sqrt{2 + \text{س}}} \\ \therefore \text{ص}^2 + \text{س}^2 &= 8 & \Leftarrow & \quad \circ = \frac{\sqrt{2 + \text{س}}}{\sqrt{2 + \text{س}}} + \frac{\sqrt{2 + \text{س}}}{\sqrt{2 + \text{س}}} \end{aligned}$$

$$\begin{aligned} 0 &= \frac{ع^2ص}{س^2} + \frac{عص}{س} + ص + \frac{عص}{س} + \frac{ع^2ص}{س^2} \\ 0 &= (1 + س) \left(\frac{ع^2ص}{س^2} + \frac{عص}{س} + ص \right) \end{aligned}$$

$$(8) \quad \therefore ص^2 + 2س - 3ب = ج \quad \text{بالاشتقاق بالنسبة لـ } س$$

$$\therefore 2ص - 2س + 2ب = 0 \quad \text{بالاشتقاق بالنسبة لـ } س$$

$$\therefore 2ص - 2س + 2ب = 0 \quad \text{بالقسمة } 2$$

$$\therefore ص - س + ب = 0$$

$$(9) \quad \therefore 2جا - 3جنا = ص \quad \text{بالاشتقاق بالنسبة لـ } س$$

$$\therefore 2جا - 3جنا + 3ص = 0 \quad \text{بالاشتقاق بالنسبة لـ } س$$

$$\therefore 2جا - 3جنا + 3ص = 0 \quad \text{بالقسمة } 3$$

$$\therefore 2جا - 3جنا + 3ص = 0 \quad \text{من (1) } 2جا = 3جنا - 3ص$$

$$\therefore 2جا - 3جنا + 3ص = 0 \quad \therefore 2جا - 3جنا + 3ص = 0$$

$$(10) \quad \therefore ص = \frac{1}{س} \quad \text{بالاشتقاق بالنسبة لـ } س$$

$$\leftarrow \frac{ع}{س} = \frac{1}{س^2} \quad \text{بالاشتقاق بالنسبة لـ } س$$

$$\leftarrow \frac{ع^2}{س} = \frac{2}{س^3} \quad \text{بالاشتقاق بالنسبة لـ } س$$

$$\text{الطرف الأيمن للمطلوب} = \frac{ع^2}{س} + 3ص + \frac{ع}{س} = 3ص + \frac{ع}{س} + \frac{ع^2}{س}$$

$$\text{الطرف الأيمن للمطلوب} = \frac{ع}{س} + 3 + \frac{ع}{س} = \frac{ع}{س} + 3 + \frac{ع}{س}$$

$$\text{الطرف الأيمن للمطلوب} = \frac{ع}{س} + \frac{ع}{س} - \frac{ع}{س} = \frac{ع}{س}$$

$$(11) \quad \therefore ص = 3س + 1 \quad \therefore \frac{ع}{س} = 3س + 1 \quad \text{بالاشتقاق بالنسبة لـ } س$$

$$\therefore 3س + 1 = ع \quad \therefore \frac{ع}{س} = 3 + \frac{1}{س}$$

$$\therefore \frac{ع}{س} = 3 + \frac{1}{س} \quad \text{بالاشتقاق بالنسبة لـ } س$$

$$\frac{ع}{س} = 3 + \frac{1}{س} \quad \leftarrow \frac{ع}{س} = 3 + \frac{1}{س}$$

$$\frac{ع}{س} = 3 + \frac{1}{س} \quad \text{بالاشتقاق بالنسبة لـ } س$$

$$\frac{ع}{س} = 3 + \frac{1}{س} \quad \leftarrow \frac{ع}{س} = 3 + \frac{1}{س}$$

$$\frac{ع}{س} = 3 + \frac{1}{س} \quad \leftarrow \frac{ع}{س} = 3 + \frac{1}{س}$$

$$(12) \quad \therefore \text{س}^2 = 2 - \text{ص} \quad \therefore \text{ص} = 2 - \text{س}^2 \quad \therefore \text{س}^2 + \text{ص} = 2 \quad \dots\dots\dots (1)$$

$$\therefore \text{ص} = 2 - \text{س}^2 \quad \text{بالتعويض من (1)}$$

$$\therefore \text{ص} = 2 - \left(\frac{2}{3} + \frac{1}{3}\text{س}^2\right)^2 \quad \text{بالاشتقاق بالنسبة لـ س}$$

$$\therefore \frac{2}{3} = \frac{2}{3} - \left(\frac{2}{3} + \frac{1}{3}\text{س}^2\right) \times \text{س} \quad \leftarrow \quad \frac{2}{3} = \frac{2}{3} - \text{س} - \frac{2}{3}\text{س}^2 \quad \dots\dots\dots (2)$$

$$\text{بالاشتقاق بالنسبة لـ س} \quad \frac{2}{3} = \frac{2}{3} - \text{س} - \frac{4}{3}\text{س}^2 \quad \dots\dots\dots (3)$$

$$\text{بالتعويض من (2) ، (3)}$$

$$\text{الطرف الأيمن للمطلوب} = 3 - \frac{2}{3} - \frac{4}{3}\text{س}^2 = 12 - 8\text{س}^2 - 4\text{س}^2 = 12 - 12\text{س}^2$$

$$\text{الطرف الأيمن للمطلوب} = 3\text{س}^2 + 3\text{س}^2 - 12\text{س}^2 = 6\text{س}^2 - 12\text{س}^2 = -6\text{س}^2$$

$$(13) \quad \therefore \text{س} = 2 \text{ جتا}^2 \text{ص} \quad \leftarrow \quad 2 \text{ جتا}^2 \text{ص} = \frac{\text{ص}}{\text{س}} \quad \dots\dots\dots (1)$$

$$\therefore \text{ص} = 2 \text{ جتا}^2 \text{ص} \quad \leftarrow \quad 2 \text{ جتا}^2 \text{ص} = \frac{\text{ص}}{\text{س}}$$

$$\therefore \frac{\text{ص}}{\text{س}} \times \frac{\text{ص}}{\text{س}} = \frac{\text{ص}}{\text{س}} \quad \leftarrow \quad \frac{1}{2 \text{ جتا}^2 \text{ص}} \times 2 \text{ جتا}^2 \text{ص} = \frac{\text{ص}}{\text{س}}$$

$$\therefore \frac{\text{ص}}{\text{س}} = \frac{\text{ص}}{2 \text{ جتا}^2 \text{ص}} \quad \text{بالتشتقاق بالنسبة لـ س} \quad \leftarrow \quad \frac{\text{ص}}{\text{س}} = \frac{\text{ص}}{2 \text{ جتا}^2 \text{ص}}$$

$$\therefore \frac{\text{ص}^2}{\text{س}^2} = \frac{\text{ص}^2}{2 \text{ جتا}^2 \text{ص}} \quad \leftarrow \quad \frac{\text{ص}^2}{\text{س}^2} \times \frac{2 \text{ جتا}^2 \text{ص}}{\text{ص}} = \frac{\text{ص}}{\text{س}^2}$$

$$\therefore \frac{1 - \text{ص}}{2 \text{ جتا}^2 \text{ص}} = \frac{\text{ص}}{\text{س}^2} \quad \leftarrow \quad \frac{1}{2 \text{ جتا}^2 \text{ص}} \times \frac{1 - \text{ص}}{2 \text{ جتا}^2 \text{ص}} = \frac{\text{ص}}{\text{س}^2}$$

$$\therefore 1 = \frac{1 - \text{ص}}{2 \text{ جتا}^2 \text{ص}} = \frac{1 - \text{ص}}{2 \left(\frac{\pi}{4} \times \text{جتا}^2 \text{ص}\right)^2}$$

$$(14) \quad \therefore \text{ص} = 2 \text{ ظا}^2 \text{س} \quad \leftarrow \quad 2 \text{ ظا}^2 \text{س} = \frac{\text{ص}}{\text{س}} \quad \dots\dots\dots (1)$$

$$\therefore \frac{\text{ص}}{\text{س}} = 2 \text{ ظا}^2 \text{س} + 2 \text{ ظا}^2 \text{س} = \frac{\text{ص}}{\text{س}} \quad \text{بالتشتقاق مرة أخرى} \quad \leftarrow \quad \frac{\text{ص}}{\text{س}} = 2 \text{ ظا}^2 \text{س} + 2 \text{ ظا}^2 \text{س}$$

$$\therefore \frac{\text{ص}}{\text{س}} = 2 \text{ ظا}^2 \text{س} + 2 \text{ ظا}^2 \text{س} = \frac{\text{ص}}{\text{س}} \quad \leftarrow \quad \frac{\text{ص}}{\text{س}} = 2 \text{ ظا}^2 \text{س} + 2 \text{ ظا}^2 \text{س}$$

$$\therefore \frac{\text{ص}}{\text{س}} = 2 \text{ ظا}^2 \text{س} + 2 \text{ ظا}^2 \text{س} = \frac{\text{ص}}{\text{س}} \quad \leftarrow \quad \frac{\text{ص}}{\text{س}} = 2 \text{ ظا}^2 \text{س} + 2 \text{ ظا}^2 \text{س}$$

$$\therefore \frac{\text{ص}}{\text{س}} = 2 \text{ ظا}^2 \text{س} + 2 \text{ ظا}^2 \text{س} = \frac{\text{ص}}{\text{س}} \quad \leftarrow \quad \frac{\text{ص}}{\text{س}} = 2 \text{ ظا}^2 \text{س} + 2 \text{ ظا}^2 \text{س}$$

$$(15) \quad \therefore \text{ص} = \text{س} \text{ ه} \quad \leftarrow \quad \text{ص} = \text{س} \text{ ه} + \text{س} \text{ ه} = \frac{\text{ص}}{\text{س}} \quad \leftarrow \quad \text{ص} = \text{س} \text{ ه} + \text{س} \text{ ه} = \frac{\text{ص}}{\text{س}} \quad \dots\dots\dots (1)$$

$$\therefore \text{ص} = \frac{\text{ص}}{\text{س}} \text{ ه} = \frac{\text{ص}}{\text{س}} \text{ ه} \quad \leftarrow \quad \text{ص} = \frac{\text{ص}}{\text{س}} \text{ ه} = \frac{\text{ص}}{\text{س}} \text{ ه}$$

تطبيقات هندسية

(١) لإيجاد نقطة التقاطع مع محور الصادات نضع $s = 0$ في معادلة المنحنى

$$\therefore s^2 + 2s - 6 - 16 = 0, \quad s = 0$$

$$\therefore s^2 + 2s - 6 - 16 = 0 \quad \Leftarrow \quad s^2 + 2s - 22 = 0$$

$$\therefore s = 8 \text{ أو } s = -2 \text{ مرفوض؟} \quad \Leftarrow \quad \text{النقطة هي } (8, 0)$$

نوجد الميل

$$\therefore s^2 + 2s - 6 - 16 = 0 \quad \text{بالاشتقاق بالنسبة لـ } s$$

$$\therefore 2s + 2 = 0 \quad \text{بوضع } s = 8, \quad s = 8 \quad \Leftarrow \quad \frac{ds}{ds} = 2$$

المماس // محور السينات و بالتالى العمودى // محور الصادات.

معادلة العمودى

$$\boxed{s = 8}$$

معادلة المماس

$$\boxed{s = 8}$$

(٢) أولاً : نوجد نقطة التماس و ذلك بالتعويض عن قيمة s في معادلة المنحنى لإيجاد قيمة s

$$\therefore s = s \text{ قاس}, \quad s = \pi \quad \Leftarrow \quad \pi \times \text{قا} = \pi$$

$$\therefore s = \pi - \quad \Leftarrow \quad \text{نقطة التماس هي } (\pi, \pi -)$$

ثانياً : نوجد ميل المماس

$$\therefore s = s \text{ قاس} \quad \text{بالاشتقاق بالنسبة لـ } s \text{ ثم التعويض عن } s, \quad s$$

$$\therefore 1 = \frac{ds}{ds} \times \text{قاس} + \text{قاس} \times \text{ظا} \quad \Leftarrow \quad 1 = \frac{ds}{ds} \times \pi \times (\pi -) + \pi \times \frac{ds}{ds}$$

$$\therefore 1 = \frac{ds}{ds} - \frac{ds}{ds} \quad \Leftarrow \quad \boxed{1 = \frac{ds}{ds}}$$

معادلة العمودى

$$s - (\pi -) = (\pi -) \times 1$$

$$s - \pi = \pi - s$$

$$\boxed{s = \pi - s}$$

معادلة المماس

$$s - (\pi -) = (\pi -) \times 1$$

$$s + \pi = \pi + s$$

$$\boxed{s = s + \pi}$$

(٣) أولاً : نوجد نقطة التماس و ذلك بالتعويض عن قيمة s في معادلتى المنحنى لإيجاد قيمة s

$$\left. \begin{array}{l} s = \left(\frac{\pi -}{4} \right) \text{قا} \\ s = \left(\frac{\pi -}{4} \right) \text{ظا} \end{array} \right\} \quad \Leftarrow \quad \left. \begin{array}{l} s = \text{قا} \\ s = \text{ظا} \end{array} \right\} \quad \therefore$$

$$\left. \begin{array}{l} s = 1 \\ s = 1 \end{array} \right\} \quad \Leftarrow \quad \text{نقطة التماس هي } (1, 1)$$

ثانياً : نوجد ميل المماس

$$\left. \begin{aligned} \theta^2 \text{قا} = \frac{\frac{\text{ص}}{\theta}}{\theta} &= \frac{\text{ص}}{\theta^2} \\ \theta^2 \text{قا} = \frac{\text{ص}}{\theta^2} \end{aligned} \right\} \Leftrightarrow \left. \begin{aligned} 1 - \theta^2 \text{قا} &= \text{ص} \\ \theta^2 \text{ظا} &= \text{ص} \end{aligned} \right\} \therefore$$

$$\frac{1}{\theta^2 \text{ظا}} \times \theta^2 \text{قا} = \frac{\text{ص}}{\text{ص}} \Leftrightarrow \frac{\theta \text{ص}}{\theta \text{ص}} \times \frac{\text{ص}}{\theta \text{ص}} = \frac{\text{ص}}{\text{ص}} \therefore$$

$$1 = \frac{\pi}{4} = \frac{\text{ص}}{\text{ص}} \Leftrightarrow \frac{1}{\left(\frac{\pi}{4}\right) \text{ظا}} = \frac{\text{ص}}{\text{ص}} \therefore$$

معادلة المماس :

$$\diamond = \text{ص} + \text{س} \Leftrightarrow \text{ص} = 1 + (\text{س} - 1)$$

معادلة العمودي :

$$\diamond = 2 - \text{ص} - \text{س} \Leftrightarrow \text{ص} = 1 + \text{س} - 1$$

(4) لإثبات أن منحنين متماسان نبرهن أنهما متقاطعان في نقطة ، ميلاهما عند هذه النقطة متساويان .

(أولاً) نوجد نقطة التقاطع و ذلك بحل المعادلتين معاً كما يلي

$$\therefore \text{ص} = \text{س}^2 - 2 + \text{س} \dots (1) \quad , \quad \text{ص} = \text{س}^3 - \text{س}^2 \dots (2)$$

$$\therefore \text{س}^2 - 2 + \text{س} = \text{س}^3 - \text{س}^2 \Leftrightarrow \text{س}^2 - 2 + \text{س} - \text{س}^3 + \text{س}^2 = 0 \text{ بالقسمة } \div 2$$

$$\therefore \text{س}^2 - 2 + \text{س} - \text{س}^3 + \text{س}^2 = 0 \Leftrightarrow \text{س}^2 - 2 + \text{س} - \text{س}^3 + \text{س}^2 = 0$$

$$\therefore \boxed{\text{س} = 1} \text{ بالتعويض في أي من المعادلتين (1) أو (2) و لتكن المعادلة (1)}$$

$$\therefore \text{ص} = 1 = 2 + 1 - 2 = 1 \Leftrightarrow \text{النقطة هي } (2, 1)$$

المنحنى الثاني

$$\therefore \text{ص} = \text{س}^3 - \text{س}^2$$

$$\therefore \frac{\text{ص}}{\text{س}} = 3\text{س}^2 - 2\text{س}$$

$$\therefore \frac{\text{ص}}{\text{س}} = 3\text{س}^2 - 2\text{س} = 1 \times 2 - 3 = 1$$

$$\therefore \text{س} = 1$$

∴ المنحنيان متقاطعان في (2, 1) ، $\text{س} = 1$ ، $\text{ص} = 1$ ∴ المنحنيان متماسان .

المنحنى الأول

$$\therefore \text{ص} = \text{س}^2 - 2 + \text{س}$$

$$\therefore \frac{\text{ص}}{\text{س}} = 2 - \frac{2}{\text{س}} + 1$$

$$\therefore \frac{\text{ص}}{\text{س}} = 2 - \frac{2}{1} + 1 = 1$$

$$\therefore \text{س} = 1$$

معادلة المماس المشترك لهما:

$$\diamond = \text{ص} - \text{س} = 2 - \text{ص} \Leftrightarrow \diamond = 1 + \text{ص} - \text{س}$$

(5) نوجد نقطة التقاطع بحل المعادلتين معاً كما يلي

$$\therefore \text{س} = \text{ص} = 2 \dots (1) \quad , \quad \text{س} = \text{ص}^2 - 3 \dots (2)$$

من المعادلة (١) $\frac{2}{s} = ص$... (٣) بالتعويض في المعادلة (٢)

$$\begin{aligned} \therefore س - 2 &= 2 \left(\frac{2}{s} \right) - 2 \\ \therefore س - 2 &= 4 - 2س \\ \therefore س &= 2 \text{ أو } 2 - س \text{ بالتعويض في (٣)} \\ \therefore \text{النقط هي } (2, 1), (1, -2) \end{aligned}$$

بالتعويض في المعادلة (٢)

$$\begin{aligned} \Leftarrow س - 2 &= \frac{4}{s} - 2 \\ \Leftarrow س - 2 &= 4 - 2س \\ \Leftarrow س &= 2, 2 - س \text{ غير ممكن} \\ \Leftarrow س &= 1 \text{ أو } 1 - س \end{aligned}$$

لكي نبرهن أن المنحنيان متقاطعان على التعامد نبرهن أن حاصل ضرب ميلاهما = - 1

المنحنى الأول	المنحنى الثاني
$\therefore س = 2$ بالاشتقاق بالنسبة لـ s	$\therefore س - 2 = 2$ بالاشتقاق بالنسبة لـ s
$\therefore ص = \frac{2}{s}$	$\therefore 2س - 2 = \frac{2}{s}$
$\therefore \frac{ص -}{س} = \frac{2}{s^2}$	$\therefore \frac{ص}{س} = \frac{2}{s}$
$\therefore \frac{ص -}{س} = 2$	$\therefore \frac{ص}{س} = 2$
$\therefore 1 - = \frac{ص}{س} \times \frac{ص -}{س} = 2 \times 2$	

المنحنيان متقاطعان على التعامد عند كل من النقطتين .

(٦) * حتى يكون للمنحنيان مماس مشترك عند النقطة $(-1, 2)$ لابد أن تحقق النقطة كل من المنحنيين

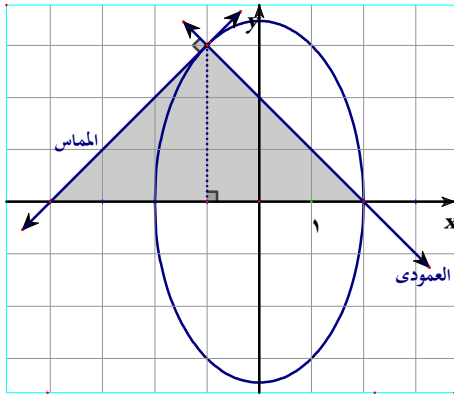
$$\begin{aligned} \therefore 2 &= 1(-1) + 3(-1) \\ \therefore 2 &= 1 - 3 \end{aligned}$$

* حتى يكون للمنحنيان مماس مشترك عند النقطة $(-1, 2)$ يجب أن يكون ميل المماس للمنحنى الأول = ميل المماس للمنحنى الثاني عند هذه النقطة.

$$\begin{aligned} \therefore ص = 1س + 3ب \text{ ، } ص = 2س - 2س \\ \therefore \frac{ص}{س} = 1 + 3\frac{ب}{س} \text{ ، } \frac{ص}{س} = 2 - 2\frac{ب}{س} \\ \therefore 1 + 3\frac{ب}{س} = 2 - 2\frac{ب}{س} \\ \therefore \frac{3ب}{س} = 1 - 2\frac{ب}{س} \end{aligned}$$

$$\begin{aligned} \therefore 3ب + 2ب &= 2س - 3ب \\ \therefore 5ب &= 2س - 3ب \\ \therefore \frac{3ب}{س} = 1 \text{ ، } \frac{1ب}{س} = 1 \end{aligned}$$

(٧) أولاً) نوجد معادلة كل من المماس و العمودي :



$$\therefore 3س + 2ص = 12 \iff 3س + 2ص = 12$$

$$\therefore 6 = \frac{6س}{س} \times 3 \times 2 + (1-) \times 6$$

$$\therefore 1 = \frac{6س}{س} \text{ " ميل المماس "}$$

$$\left. \begin{array}{l} \text{المماس : } 1 + س = 3 - ص \\ \text{العمودي : } 3 - ص = (1 + س) \end{array} \right\} \text{ معادلة}$$

(ثانياً) نوجد تقاطع كل منهم مع محور السينات بوضع ص = ٠

$$\left. \begin{array}{l} 1 + س = 3 - 0 \\ 3 - ص = (1 + س) \end{array} \right\} \iff \left. \begin{array}{l} 4 - = س \\ 2 = س \end{array} \right\} \therefore$$

∴ طول قاعدة المثلث = $|2 - 4| = 2$ وحدة طول ، طول الإرتفاع = 3 وحدة طول∴ مساحة $\Delta = \frac{1}{2} \times 6 \times 3 = 9$ وحدة طول مربعة.

$$(8) \therefore 2ص^2 - 8ص + س = 0 \quad (1) \dots\dots\dots$$

$$\therefore 4ص - \frac{6س}{س} = 1 + \frac{6س}{س} \iff 4 - = \frac{6س}{س} (ص - 2)$$

$$\therefore \frac{1-}{(2-ص)4} = \frac{6س}{س}$$

$$\therefore \frac{6س}{س} \text{ غير معرفه} \iff 4 = (ص - 2) \iff 2 = ص \text{ بالتعويض في (1)}$$

$$\therefore 8 = س \iff \therefore \text{النقطة هي (2, 8)}$$

(9) نفرض أن النقطة المطلوبه هي (ب ، ٢)

$$\therefore (ب ، ٢) \exists \text{ للمنحنى} \therefore \text{تحقق معادلته أى أن} \quad \boxed{ب - ٢ = ٢}$$

نوجد معادلة المماس بدلالة ب ، ٢

$$\therefore ٢س - ٢س = ٢س - ٢س \iff ٢س - ٢س = ٢س - ٢س$$

$$\text{معادلة المماس : } ٢س - ٢س = ٢س - ٢س$$

∴ النقطة (١ ، ٤) ∃ المماس ∴ تحقق معادلته

$$\therefore ٢س - ٢س = ٢س - ٢س \iff ٢س - ٢س = ٢س - ٢س$$

$$\therefore \boxed{ب = 3 - ٢س - ٢س} \dots\dots (2) \text{ بالتعويض من (1) عن قيمة ب}$$

$$\therefore ٢س - ٢س = 3 - ٢س - ٢س \iff ٢س - ٢س = 3 - ٢س - ٢س$$

$$\therefore ٢س - ٢س = 3 - ٢س - ٢س \iff ٢س - ٢س = 3 - ٢س - ٢س$$

$$\therefore ٢س - ٢س = 3 - ٢س - ٢س \iff ٢س - ٢س = 3 - ٢س - ٢س$$

$$(10) \quad \therefore \text{عص} + \text{س}^2 = 0 \quad \Leftarrow \quad \frac{\text{عس}}{\text{س}} = -\frac{1}{\text{س}}$$

$$\therefore \Delta \text{ متساوي الأضلاع} \quad \Leftarrow \quad \text{ه} = 60^\circ \text{ و } \text{ه} = 120^\circ$$

$$\therefore \frac{\text{عس}}{\text{س}} = \frac{\text{عس}}{\text{س}}, \quad \frac{\text{عس}}{\text{س}} = -\frac{1}{\text{س}} \quad \Leftarrow \quad \frac{\text{عس}}{\text{س}} = -\frac{1}{\text{س}}, \quad \frac{\text{عس}}{\text{س}} = -\frac{1}{\text{س}}$$

$$\therefore \text{س} = \sqrt{3}, \quad \text{س} = \sqrt{3} \quad \Leftarrow \quad \text{ص} = 3$$

نوجد معادلة المماس عند إحدى النقطتين (- , $\sqrt{3}$) أو ($\sqrt{3}$, -) ثم نوجد نقطة تقاطعه مع محور الصادات

$$\text{ص} + 3 = \sqrt{3} \quad \Leftarrow \quad \text{ص} = 3 + \sqrt{3} \quad \Leftarrow \quad \text{النقطة هي } (0, 2)$$

المعدلات الزمنية:

(1) نفرض أن حجم الغاز ع ، و طول نصف قطر البالون نوه : فيكون : $\frac{\text{عس}}{\text{نوس}} = 20 - \text{سم}^3/\text{ث}$ ، نوه = 10 سم

المطلوب : $\frac{\text{نوس}}{\text{نوس}} = \text{؟؟؟}$ ، $\frac{\text{عس}}{\text{نوس}} = \text{؟؟؟}$ حيث م مساحة سطح البالون.

$$\therefore \frac{\text{ع}}{\text{س}} = \frac{\pi \text{نوه}^2}{3} \quad \Leftarrow \quad \frac{\text{عس}}{\text{نوس}} = \frac{\pi \text{نوه}^2}{3} \quad \Leftarrow \quad 20 - \frac{\pi \text{نوه}^2}{3} = \frac{\text{عس}}{\text{نوس}} \times \frac{1}{\text{نوه}}$$

$$\therefore \frac{1 - \frac{\text{نوس}}{\text{نوس}}}{\pi 20} = \frac{\text{نوس}}{\text{نوس}} \quad \text{سم/ث} \quad \therefore \text{م} = \pi \text{نوه}^2 \quad \Leftarrow \quad \frac{\text{عس}}{\text{نوس}} = \frac{\pi \text{نوه}^2}{3}$$

$$\frac{\text{عس}}{\text{نوس}} = \frac{\pi 8}{\pi 20} \times 10 \times \pi 8 = \frac{\text{عس}}{\text{نوس}} \quad \text{سم}^2/\text{ث}$$

(2) نفرض أن طول حرف المكعب = س فيكون $\frac{\text{س}}{\text{س}} = 0,02$ سم/د ، $\frac{\text{عس}}{\text{نوس}} = 0,72$ سم²/د حيث م مساحة سطحة

المطلوب : س ، حيث ح حجم المكعب

$$\therefore \text{م} = 6\text{س}^2 \quad \Leftarrow \quad \frac{\text{عس}}{\text{نوس}} = \frac{\text{عس}}{\text{نوس}} \times 12 = 0,72 \quad \Leftarrow \quad 0,72 \times 12 = 0,72$$

$$\therefore \text{س} = 3 \text{ سم} \quad \Leftarrow \quad \text{ح} = 3\text{س}^3 \quad \Leftarrow \quad \frac{\text{عس}}{\text{نوس}} = \frac{\text{عس}}{\text{نوس}} \times 3 = \frac{\text{عس}}{\text{نوس}}$$

$$\therefore \frac{\text{عس}}{\text{نوس}} = \frac{\text{عس}}{\text{نوس}} \times 3 \times 3 = 0,54 \text{ سم}^3/\text{د}$$

(3) نفرض أن أبعاد متوازي المستطيلات هي س ، س ، ص حيث $\frac{\text{س}}{\text{س}} = 1$ سم/د ، $\frac{\text{س}}{\text{س}} = 2$ سم/د

س = 5 ، ص = 20 في أي لحظة زمنية ن تكون س = 5 + ن ، ص = 20 - ن

$$\therefore \text{الحجم ع} = \text{س}^2 \text{ص} \quad \Leftarrow \quad (\text{ن}^2 - 20) (\text{ن} + 5) = \text{ع}$$

$$\therefore (\text{ن} + 5)^2 - (\text{ن} - 10) (\text{ن} + 5) = \frac{\text{عس}}{\text{نوس}} \quad \Leftarrow \quad (\text{ن} - 10)^2 (\text{ن} + 5) = \text{ع}$$

$$\therefore [(\text{ن} + 5) - (\text{ن} - 10)^2] (\text{ن} + 5) = \frac{\text{عس}}{\text{نوس}} \quad \Leftarrow \quad (\text{ن}^3 - 15) (\text{ن} + 5) = \frac{\text{عس}}{\text{نوس}}$$

$$\text{عندما } \text{ن} = 0 \quad \Leftarrow \quad \frac{\text{عس}}{\text{نوس}} = 150 = 15 \times 5 \times 2 = \frac{\text{عس}}{\text{نوس}} \quad \text{سم}^3/\text{د}$$

$$\text{يتوقف معدل التغير عندما } \frac{\text{عس}}{\text{نوس}} = 0 = (\text{ن}^3 - 15) (\text{ن} + 5) \quad \Leftarrow \quad \text{ن} = 3 \text{ د}$$

(٩) نفرض أن : بعد الطرف السفلى عن الحائط = س ، بعد الطرف العلوى عن الأرض = ص

فيكون $\frac{1}{3} = \frac{ص}{\sqrt{6}}$ ، $\frac{ص}{\sqrt{6}} = \frac{1}{3}$ ، $ص = \frac{\sqrt{6}}{3}$ م

$$\therefore \boxed{س + ٢ص = ٢٥} \dots (١) \quad ، \quad س = ٣ م \quad \Leftarrow \quad ص = ٤ م$$

باشتقاق العلاقة (١) بالنسبة للزمن ٧

$$٢س + \frac{ص}{\sqrt{6}} \times ٢ = ٠ \quad \Leftarrow \quad \text{بالقسمة } \div ٢ \quad \Leftarrow \quad ٠ = \frac{ص}{\sqrt{6}} \times ٢ + \frac{ص}{\sqrt{6}} \times ٢ \dots (٢)$$

بالتعويض عن س ، ص ، $\frac{ص}{\sqrt{6}}$

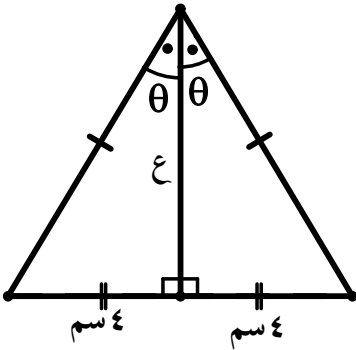
$$٠ = \frac{ص}{\sqrt{6}} \times ٤ + \frac{1}{3} \times ٣ \quad \Leftarrow \quad \frac{ص}{\sqrt{6}} = -\frac{٣}{٤} \text{ م}$$

✱ عندما يتحرك الطرفان بنفس المعدل يكون $\frac{ص}{\sqrt{6}} = -\frac{٣}{٤}$ بالتعويض في (٢)

$$٠ = \left(\frac{ص}{\sqrt{6}} \right) \times ٢ + \frac{ص}{\sqrt{6}} \times ٢ \quad \Leftarrow \quad \text{بالقسمة } \div \frac{ص}{\sqrt{6}}$$

$$٠ = ص - س \quad \Leftarrow \quad \boxed{ص = س} \dots (٣) \quad \Leftarrow \quad \text{بالتعويض من (٣) في (١)}$$

$$س + ٢س = ٢٥ \quad \Leftarrow \quad \frac{٣س}{٤} = ٢٥ \quad \Leftarrow \quad س = \sqrt[٣]{٢٠٠} \text{ م}$$



(١٠) نفرض أن ارتفاع Δ يساوى ع ، قياس زاوية رأسه يساوى θ

المطلوب $\frac{(\theta ٢)س}{\sqrt{٥}}$ عندما ع = ٦ سم ، $\frac{٤س}{\sqrt{٥}} = ٢$

$$\therefore \text{ظا } \theta = \frac{٤}{٦} \quad \Leftarrow \quad \frac{٢}{٣} = \theta$$

$$\therefore \text{جتا } \theta = \frac{٣}{١٣} \quad \Leftarrow \quad \frac{١٣}{٩} = \theta^٢$$

$$\therefore \text{ظا } \theta = \frac{٤}{٦} \quad \Leftarrow \quad \text{بالاشتقاق بالنسبة للزمن} \quad \Leftarrow \quad \frac{٤س \times ٤ - \frac{٤س}{\sqrt{٥}} \times \frac{٤س}{\sqrt{٥}}}{٢} = \theta^٢ \frac{٤س}{\sqrt{٥}}$$

$$\therefore \frac{٢ \times ٤ - \frac{١٣}{٩} \times \frac{٤س}{\sqrt{٥}}}{٢} = \frac{٢س}{\sqrt{٥}} \quad \Leftarrow \quad \frac{٢س}{\sqrt{٥}} = \frac{٤س}{\sqrt{٥}} \quad \Leftarrow \quad \frac{٢س}{\sqrt{٥}} = \frac{٤س}{\sqrt{٥}} \quad \Leftarrow \quad \frac{٢ \times ٤ - \frac{١٣}{٩} \times \frac{٤س}{\sqrt{٥}}}{٢} = \frac{٢س}{\sqrt{٥}}$$

(١١) نفرض أن بعد الرجل عن قاعدة المصباح = س متراً ، طول ظل الرجل = ص متراً

، بعد رأس الرجل عن المصباح = ف متراً ، بعد نهاية ظل الرجل عن قاعدة المصباح = ع

∴ الرجل يتحرك مبتعداً عن قاعدة المصباح بسرعة ٣ م/ث ∴ $\frac{ص}{\sqrt{٥}} = \frac{٣}{٤}$ م/ث

١ إيجاد معدل تغير طول ظل الرجل يعنى إيجاد $\frac{ص}{\sqrt{٥}}$

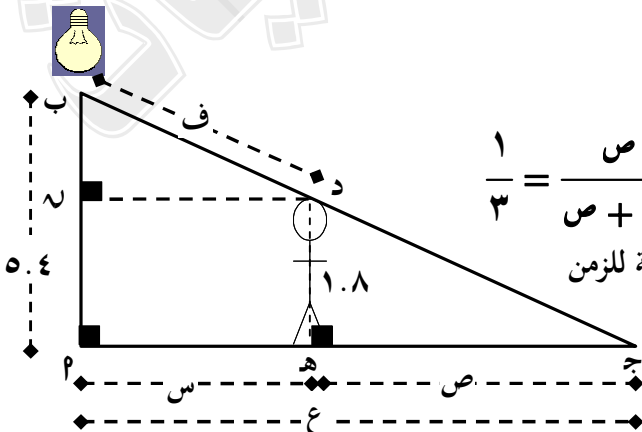
في Δ ب ج د ∴ $٢ \parallel ب د$

$$\therefore \frac{ج د}{ج ا} = \frac{ب د}{ب ا} \quad \Leftarrow \quad \frac{١,٨}{٥,٤} = \frac{ص}{٣ + ص} \quad \Leftarrow \quad \frac{١}{٣} = \frac{ص}{٣ + ص}$$

∴ $٣ + ص = ٣ + ص$ ∴ $٢ = ص$ بالاشتقاق بالنسبة للزمن

$$\frac{ص}{\sqrt{٥}} = \frac{٣}{٤} \times ٢ \quad \Leftarrow \quad \text{بالتعويض عن } \frac{ص}{\sqrt{٥}}$$

$$\therefore \frac{ص}{\sqrt{٥}} = \frac{٣}{٤} \times \frac{١}{٣} = \frac{٣}{٤} \text{ م/ث}$$



٢ إيجاد سرعة نهاية ظل الرجل يعني إيجاد $\frac{ع}{ص}$ " كأن جسم يتحرك عند ج و نريد إيجاد سرعته "

∴ ع = ص + ص بالإشتقاق بالنسبة للزمن ن

$$\frac{ع}{ص} = \frac{ع}{ص} + \frac{ص}{ص} \leftarrow \frac{ع}{ص} = \frac{ع}{ص} + 1$$

٣ إيجاد معدل تغير بعد رأس الرجل عن المصباح نوجد $\frac{ف}{ص}$ عندما س = ٤.٨ م

من هندسة الشكل د ه = ٩ = س ، ب ه = ٥.٤ = ١.٨ - ٣.٦ م

$$\Delta ب ه د \quad د^2 = س^2 + ف^2 \quad \leftarrow \quad ف = \sqrt{س^2 + (٣.٦)^2}$$

$$ف = (س^2 + (٣.٦)^2)^{\frac{1}{2}} \quad \text{بالإشتقاق بالنسبة للزمن} \quad \leftarrow \quad \frac{ف}{ص} = \frac{1}{2} (س^2 + (٣.٦)^2)^{-\frac{1}{2}} \times 2 \times س \times \frac{ص}{ص}$$

$$\frac{ف}{ص} = \frac{1}{2} (س^2 + (٣.٦)^2)^{-\frac{1}{2}} \times 2 \times ٤.٨ \times ٣ = ٢.٤ \text{ م / ث}$$

(١٢) نفرض أن ارتفاع السائل في الوعاء = ع سم ، حجم السائل = ح

أى أن $\frac{ع}{ص} = ٢ \text{ سم}^3 / \text{ث}$ ، نوه = ٢ سم

$$\therefore ح = \pi ر^2 نوه \quad \leftarrow \quad ح = \pi ع$$

$$\frac{ع}{ص} \pi ع = \frac{ح}{ص} \quad \leftarrow \quad \frac{ع}{ص} \times \frac{٢٢}{٧} \times ٤ = ٢$$

$$\frac{ع}{ص} = \frac{٧}{٤٤} \text{ سم}^3 / \text{ث}$$

∴ $\frac{ع}{ص} = ٢ \text{ سم}^3 / \text{ث}$ ∴ ح = ٢ حتى يمتلئ الوعاء يجب أن يكون حجم السائل مساوياً حجم الوعاء

$$\therefore ٢ = ح = ٢.٨ \times ٤ \times \pi = ٢٢ \text{ سم}^3 \quad \leftarrow \quad ٢.٨ \times ٤ \times \frac{٢٢}{٧} = ٢٢ \text{ سم}^3 = ١٧.٦ \text{ ث}$$

سلوك الدالة:

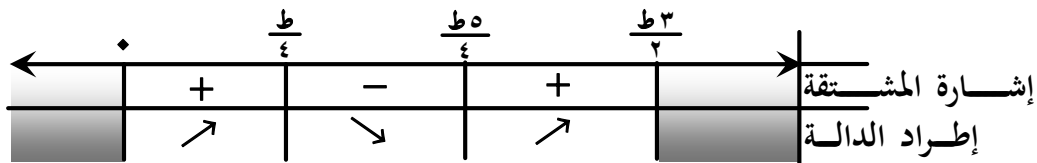
$$(١) \therefore ص = جاس + جتاس \quad \leftarrow \quad \frac{ص}{ص} = جتاس - جاس$$

$$٠ = \frac{ص}{ص} \quad \leftarrow \quad جتاس - جاس = ٠$$

$$\therefore جاس = جتاس \quad \leftarrow \quad \frac{جتاس}{جتاس} = ١$$

$$\therefore جتاس = ١ \quad \leftarrow \quad س = \text{ظا}^{-١}(١) \text{ أو } س = ١٨٠ + \text{ظا}^{-١}(١)$$

$$\therefore س = ٤٥^\circ \text{ أو } س = ٢٢٥^\circ \quad \leftarrow \quad \boxed{س = \frac{\pi}{4}} \text{ أو } \boxed{س = \frac{٥\pi}{4}}$$



∴ الدالة تزايدية $\forall س \in [0, \frac{\pi}{4}] \cup [\frac{5\pi}{4}, \pi]$ ، $\frac{\pi}{4} < س < \frac{5\pi}{4}$ ، $\frac{5\pi}{4} < س < \frac{3\pi}{2}$ ، $\frac{3\pi}{2} < س < 2\pi$

، الدالة تناقصية $\forall س \in [\frac{\pi}{4}, \frac{5\pi}{4}]$ ، $\frac{3\pi}{2} < س < 2\pi$

(٢) $\therefore د(س) = (س) - س - ه$ \Leftarrow $د(س) = (س) - ١ - ه$

$\diamond = (س) - ١$ \Leftarrow $\diamond = س - ١ - ه$

$\therefore ه = ١$ \Leftarrow $\boxed{\diamond = س}$

\therefore الدالة تزايدية $\forall س \in]٠, \infty[$

\therefore الدالة تناقصية $\forall س \in]-\infty, ٠[$

(٣) $\therefore د(س) = (س) + س - ل$ \Leftarrow $\text{مجال الدالة } ع +$

$\therefore د(س) = (س) + ١ = \frac{١}{س} + ١$ \Leftarrow $\diamond = \frac{١}{س} + ١$

$د(س)$ غير معرفة \Leftarrow $س = ٠$ \Leftarrow $س = ١ - ع$

\therefore الدالة تزايدية على مجالها.

لا توجد نقط حرجة.

(٤) $د(س) = (س)^3 - ٣س^2 + ١٨س - ٢٤$ \Leftarrow $٢٤ + ١٨س - ٣س^2 = ٠$

نعين مواقع النقط الحرجة للدالة

$٠ = ٢٤ + ١٨س - ٣س^2$ \Leftarrow $٠ = ٨ + ٦س - س^2$ \Leftarrow $٠ = (٢ - س)(٤ - س)$

$\therefore س = ٢$ ، $س = ٤$

عظمى القيمة العظمى المحلية = ٣٠

صغرى المحلية = $٣٠ = (٢)^3 - ٣(٢)^2 + ١٨(٢) - ٢٤ = ١٠ + ٢ \times ٢٤ + (٢)^2 \times ٩ - ٣(٢) = ٣٠$

صغرى المحلية = $٢٦ = (٤)^3 - ٣(٤)^2 + ١٨(٤) - ٢٤ = ١٠ + ٤ \times ٢٤ + (٤)^2 \times ٩ - ٣(٤) = ٢٦$

النقطة $(٢, ٣٠)$ تسمى نقطة عظمى محلية ، النقطة $(٤, ٢٦)$ تسمى صغرى محلية .

حل آخر:

$د(س) = (س)^3 - ٣س^2 + ١٨س - ٢٤$ \Leftarrow $٢٤ + ١٨س - ٣س^2 = ٠$

نعين مواقع النقط الحرجة للدالة

$٠ = ٢٤ + ١٨س - ٣س^2$ \Leftarrow $٠ = ٨ + ٦س - س^2$ \Leftarrow $٠ = (٢ - س)(٤ - س)$

$\therefore س = ٢$ ، $س = ٤$

$د(س) = ١٨ - ٦س = ٠$ \Leftarrow $د(٢) = ١٨ - ٢ \times ٦ = ٦ = ٠$ $\therefore س = ٢$ موقع عظمى.

$د(س) = ١٨ - ٦س = ٠$ \Leftarrow $د(٤) = ١٨ - ٤ \times ٦ = ٦ = ٠$ $\therefore س = ٤$ موقع صغرى محلية .

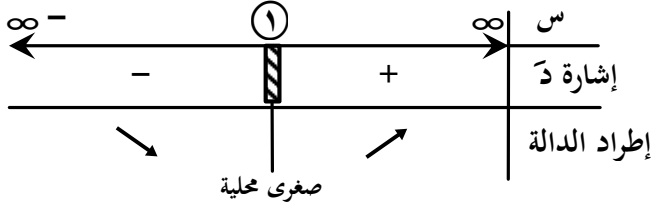
$٣٠ = (٢)^3 - ٣(٢)^2 + ١٨(٢) - ٢٤ = ١٠ + ٢ \times ٢٤ + (٢)^2 \times ٩ - ٣(٢) = ٣٠$ \therefore القيمة العظمى المحلية = ٣٠

$٢٦ = (٤)^3 - ٣(٤)^2 + ١٨(٤) - ٢٤ = ١٠ + ٤ \times ٢٤ + (٤)^2 \times ٩ - ٣(٤) = ٢٦$ \therefore القيمة الصغرى المحلية = ٢٦

$$(5) \text{ د(س)} = \sqrt[3]{(1-s)^2} + 2 \Leftrightarrow \text{د(س)} = (1-s)^{\frac{2}{3}} + 2$$

$$\text{د(س)} = \frac{2}{3} = (1-s)^{\frac{2}{3}} \Leftrightarrow \text{د(س)} = \frac{1}{3} \times \frac{2}{3} = \frac{2}{9}$$

$$\text{د(س)} = 0 \Leftrightarrow 0 = \frac{1}{3} \times \frac{2}{3} \Leftrightarrow \text{غير ممكن}$$



د(س) غير معرفة عندما $s = 1$ "أصفار المقام"

$$\text{د(1)} = \sqrt[3]{(1-1)^2} + 2 = 2$$

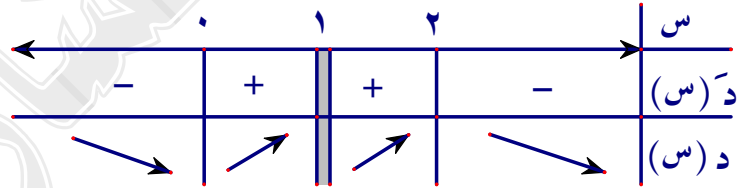
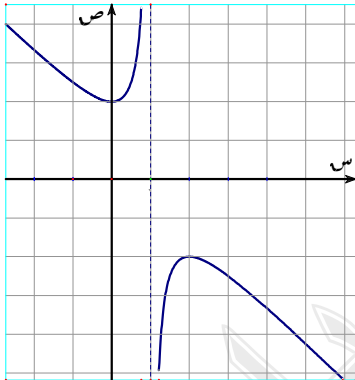
$$\text{د(1)} = 2 \text{ قيمة صغرى محلية .}$$

$$(6) \text{ د(س)} = \frac{2s}{s-1} + 2 \Leftrightarrow \text{مجال الدالة} = \mathbb{R} - \{1\}$$

$$\text{د(س)} = \frac{2s^2 + (s-1)s}{(s-1)^2} = \frac{2s^2 + s^2 - s}{(s-1)^2} = \frac{3s^2 - s}{(s-1)^2}$$

$$\text{د(س)} = 0 \Leftrightarrow 3s^2 - s = 0 \Leftrightarrow s(3s-1) = 0$$

$$\text{د(س)} = 0 \Leftrightarrow s = 0, s = \frac{1}{3}$$



$$\text{القيمة العظمى المحلية} = \text{د(2)} = 2 + \frac{2 \cdot 2}{2-1} = 6$$

$$\text{القيمة الصغرى المحلية} = \text{د(0)} = 2 + \frac{2 \cdot 0}{0-1} = 2$$

$$(7) \text{ د(س)} = \sqrt[3]{(3s^2 - 2s + 3)} \Leftrightarrow \text{مجال الدالة هو مجموعة حل } 3s^2 - 2s + 3 < 0$$

$$\text{لإيجاد مجموعة حل هذه المتباينة يجب إيجاد جذور المعادلة}$$

$$\text{نوجد مميز المعادلة: } \Delta = 4 - 4 \cdot 3 \cdot 3 = -32 < 0 \text{ "عدد سالب"}$$

$$\text{المقدار } 3s^2 - 2s + 3 \text{ له نفس إشارة } 3s^2 \text{ "جذور"}$$

$$\text{أي أن المقدار } 3s^2 - 2s + 3 \text{ موجب مهما كانت قيمة } s$$

$$\text{مجال الدالة} = \mathbb{R}$$

$$\text{د(س)} = \sqrt[3]{(3s^2 - 2s + 3)} \Leftrightarrow \text{د(س)} = \frac{3s^2 - 2s + 3}{3s^2 - 2s + 3}$$

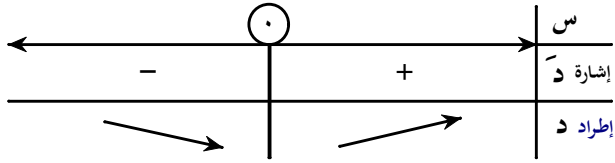
نوجد مواقع النقاط الحرجة

$$\text{د(س)} = \frac{(3s^2 - 2s + 3)^{\frac{2}{3}}}{3s^2 - 2s + 3}$$

$$\bullet = (س) / د = ٠ \quad \leftarrow \quad ٠ = (١ - س) س^٢$$

$$\bullet = س \quad \leftarrow \quad ٠ = س^٢ \text{ غير ممكن ، } ١ = س$$

∴ القيمة الصغرى المحلية = د (٠)



$$\ln 2 =$$

$$= ل٠ (٣ + ٠ ه \times ٢ - ٠ ه)$$

$$= ل٠ (٣ + ١ \times ٢ - ١)$$

$$= ل٠ ٢ = ٠,٦٩ \text{ تقريبا}$$

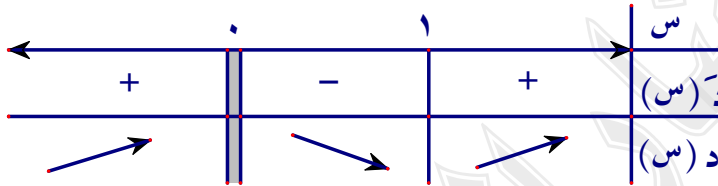
$$\leftarrow \text{ مجال الدالة } = ح - \{٠\} \quad \bullet = (س) / د = (٢ - \frac{١}{س})^{\frac{١}{س}}$$

$$\bullet = (س) / د = (س) / د = (٢ - \frac{١}{س})^{\frac{١}{س}} + (٢ - \frac{١}{س})^{\frac{١}{س}} \text{ نوجد مواقع النقط الحرجة}$$

$$\bullet = (س) / د = ٠ \quad \leftarrow \quad ٠ = (٢ - \frac{١}{س})^{\frac{١}{س}} + (٢ - \frac{١}{س})^{\frac{١}{س}}$$

$$\bullet = (س) / د = ٠ \quad \leftarrow \quad ٠ = (١ + ٢ - \frac{١}{س})^{\frac{١}{س}}$$

$$\bullet = \frac{١}{س} = ١ \text{ غير ممكن أو } ٠ = ١ - \frac{١}{س} \text{ غير ممكن أو } \frac{١}{س} = ١ \quad \leftarrow \quad \boxed{س = ١}$$



∴ القيمة الصغرى المحلية = د (١)

$$= (٢ - ١) \times ه$$

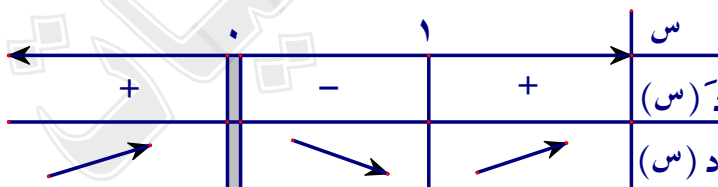
$$= ه -$$

$$\leftarrow \text{ مجال الدالة } = ح - \{٠\} \quad \bullet = (س) / د = س^٢ - ١ - ٢ |س|$$

$$\bullet = (س) / د = س^٢ - ٢ - \frac{٢}{س} \text{ نوجد مواقع النقط الحرجة} \quad \leftarrow \quad \bullet = (س) / د = س^٢ - ٢ - \frac{٢}{س}$$

$$\bullet = (س) / د = ٠ \quad \leftarrow \quad \bullet = (س) / د = س^٢ - ٢ - \frac{٢}{س} \text{ بالضرب } \times \frac{١}{س}$$

$$\bullet = (س) / د = ٠ \quad \leftarrow \quad \bullet = (س) / د = س^٢ - ١ - ٢ = س \quad \leftarrow \quad \boxed{س = ١} \text{ أو } \boxed{س = -١}$$



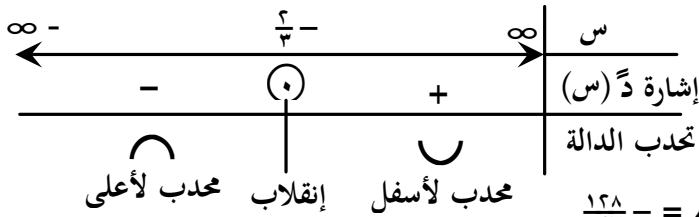
∴ القيمة الصغرى المحلية = د (١)

$$= (٢ - ١) \times ه = ه -$$

$$\leftarrow \text{ د } (س) = س^٣ + ٢س^٢ - ٤س - ٨ \quad \bullet = (س) / د = س^٣ + ٢س^٢ - ٤س - ٨$$

$$\bullet = (س) / د = ٠ \quad \leftarrow \quad \bullet = (س) / د = س^٣ + ٢س^٢ - ٤س - ٨ \text{ نوجد أصفار د} \quad \leftarrow \quad \bullet = (س) / د = س^٣ + ٢س^٢ - ٤س - ٨$$

ندرس إشارة د (س)



٧ س $\infty - [\frac{2}{3} -]$ المنحنى محدب لأعلى
 ، ٧ س $\infty [\frac{2}{3} -]$ المنحنى محدب لأسفل .
 إشارة د (س)
 تحدب الدالة

$$د (\frac{2}{3} -) = (\frac{2}{3} -)^3 + 2(\frac{2}{3} -)^2 + 4(\frac{2}{3} -) - 8 = \frac{128}{27} - 8 = -\frac{104}{27}$$

النقطة $(\frac{2}{3} - , \frac{128}{27} -)$ هي نقطة إنقلاب للدالة لأن المنحنى يتغير تحدبه قبل و بعد $s = \frac{2}{3} -$ و لها مماس عندها.

$$(11) \quad \therefore د (س) = 3س^3 + 2س^2 + 4س + ب \Leftrightarrow د (س) = 3س^2 + 4س + 2 = 0$$

$$، د (س) = 3س^2 + 4س + 2 = 0 \quad \therefore (2, 2) \text{ نقطة إنقلا} \Leftrightarrow د (2) = 0$$

$$\therefore 0 = 2 \times 2 + 4 \times 2 + 2 = 14 \Leftrightarrow 2 = 2$$

$$\therefore (2, 2) \text{ نقطة إنقلاب} \Leftrightarrow د (2) = 2$$

$$3 \times 2 + 2 \times 2 + 4 \times 2 + ب = 2 \Leftrightarrow ب = 9$$

$$(12) \quad \textcircled{أ} \quad \therefore د (س) = 3س^3 + 2س^2 - 3س = 0 \Leftrightarrow د (س) = 3س^2 + 4س - 3 = 0$$

$$\therefore د (س) = 0 \Leftrightarrow س = 1, س = -1 \notin [1, 3]$$

$$\therefore د (3) = 16, د (1) = 4$$

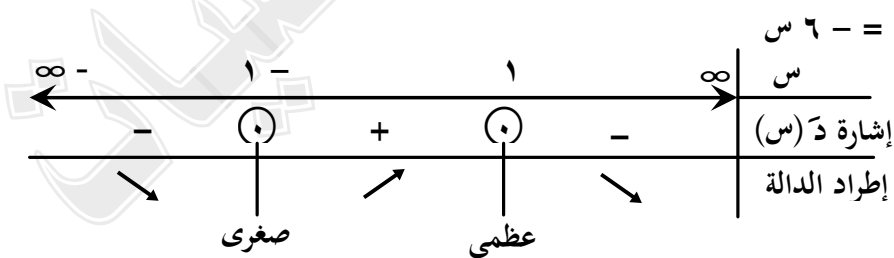
القيمة العظمى المطلقة = 4 ، القيمة الصغرى المطلقة = 16

$$\textcircled{ب} \quad \therefore د (س) = 3س^3 + 2س^2 = 0 \Leftrightarrow د (س) = 3س^2 + 4س = 0$$

$$\therefore د (س) = 3س^2 + 4س = 0 \Leftrightarrow د (س) = 0 \Leftrightarrow س = 0, س = -2$$

$$\therefore د (3-) = 0, 45 \approx د (2-) = 0, 54 \approx د (0) = 0, 72 \approx د (1) = 2, 72$$

القيمة العظمى المطلقة $\approx 2, 72$ ، القيمة الصغرى المطلقة = صفر



$$(13) \quad د (س) = 3س^3 - 3س^2 = 0, د (س) = 6س - 6 = 0$$

ندرس إشارة د (س) = 0

$$\Leftrightarrow 3س^2 - 3س = 0$$

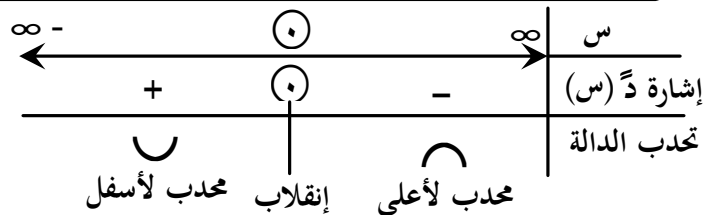
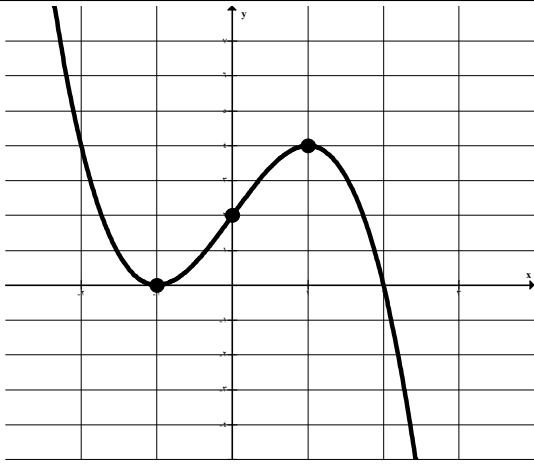
$$\Leftrightarrow س = 1 \pm 1$$

نوجد القيم العظمى و الصغرى المحلية

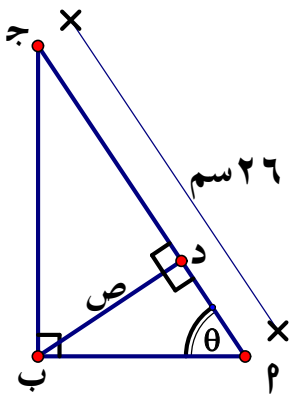
$$د (1) = 4 \Leftrightarrow (1, 4) \text{ عظمى محلية} , د (1-) = 0 \Leftrightarrow (0, 1-) \text{ صغرى محلية}$$

$$\text{ندرس إشارة د (س) = 0} \Leftrightarrow 6س - 6 = 0 \Leftrightarrow س = 1$$

نوجد نقط الإنقلاب د (0) = 2 $\therefore (2, 0)$ نقطة إنقلاب .



تطبيقات على القيم العظمى والصغرى:



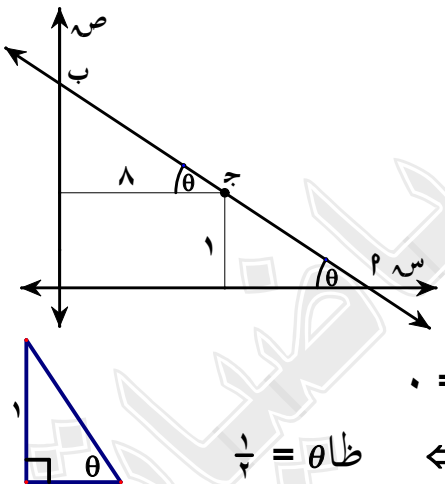
(١) نفرض أن $\theta = (\hat{C})$ فيكون $\sin \theta = \frac{ب}{٢٦}$ ، $\cos \theta = \frac{د}{٢٦}$ جا

$\therefore ب \times د = ب \times ب \times \cos \theta$ \Leftarrow $٢٦ \times ص = ٢٦ \times ب \times \cos \theta$

$\therefore ص = ب \times \cos \theta$

$\therefore \frac{ص}{ب} = \cos \theta$ \Leftarrow $\frac{٣}{٤} = \cos \theta$

$\therefore \frac{ص}{٢٦} = \frac{٣}{٤}$ ، $ب = ٢٦ \times \frac{٤}{٣} = ٣٥ \frac{٢}{٣}$ سالبة



(٢) $\therefore \cos \theta = \frac{ب}{١٠}$ ، $\sin \theta = \frac{ص}{١٠}$

$\therefore \frac{ب}{١٠} + \frac{ص}{١٠} = ١$

$\therefore \frac{ب}{١٠} - \frac{ص}{١٠} = \frac{ص}{١٠}$

$\therefore \frac{ب}{١٠} = \frac{٢ص}{١٠}$

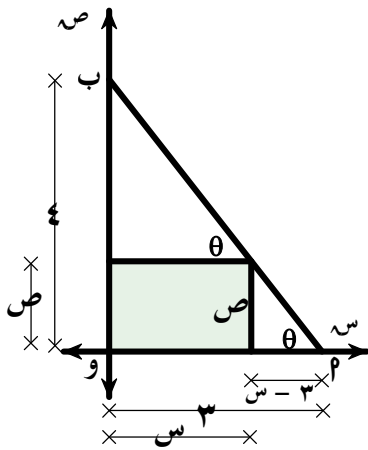
$\therefore ١ - \frac{٢ص}{١٠} = \frac{ص}{١٠}$

$\therefore \theta = \cos^{-1} \frac{١}{٣} = ٧٠.٥^\circ$

$\therefore \frac{ب}{١٠} + \frac{ص}{١٠} = ١$

θ	ن	د
$\frac{١}{٣}$	+	-
$\frac{١}{٥}$	-	+

$\therefore \theta = ٥٧.٥^\circ$



(٣) نفرض أن أبعاد المستطيل هي س ، ص كما باشكل

$$\frac{ص}{س} = \theta \text{ ظا} \quad \leftarrow \quad \frac{ص}{س-ص} = \theta \text{ ظا} \quad \leftarrow \quad \frac{ص}{س-ص} = \theta \text{ ظا} \quad \leftarrow \quad \frac{ص}{س-ص} = \theta \text{ ظا}$$

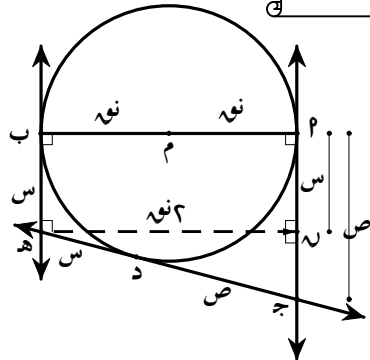
$$\frac{ص}{س-ص} = \theta \text{ ظا} \quad \leftarrow \quad \frac{ص}{س-ص} = \theta \text{ ظا} \quad \leftarrow \quad \frac{ص}{س-ص} = \theta \text{ ظا} \quad \leftarrow \quad \frac{ص}{س-ص} = \theta \text{ ظا}$$

$$\frac{ص}{س-ص} = \theta \text{ ظا} \quad \leftarrow \quad \frac{ص}{س-ص} = \theta \text{ ظا} \quad \leftarrow \quad \frac{ص}{س-ص} = \theta \text{ ظا} \quad \leftarrow \quad \frac{ص}{س-ص} = \theta \text{ ظا}$$

$$\frac{ص}{س-ص} = \theta \text{ ظا} \quad \leftarrow \quad \frac{ص}{س-ص} = \theta \text{ ظا} \quad \leftarrow \quad \frac{ص}{س-ص} = \theta \text{ ظا} \quad \leftarrow \quad \frac{ص}{س-ص} = \theta \text{ ظا}$$

$$\frac{ص}{س-ص} = \theta \text{ ظا} \quad \leftarrow \quad \frac{ص}{س-ص} = \theta \text{ ظا} \quad \leftarrow \quad \frac{ص}{س-ص} = \theta \text{ ظا} \quad \leftarrow \quad \frac{ص}{س-ص} = \theta \text{ ظا}$$

المماسان المرسومان لدائرة من نقطة خارجها متساويان في الطول



(٤) نفرض أن ه ب = س ، ج د = ص فيكون ه د = س ، م ج = ص

نرسم ه ل ⊥ ج د فيكون ل ه = ج - ص = س - ص

في Δ ه ل ج : (س + ص)² = (س - ص)² + ل ه²

$$\frac{ص}{س} = \theta \text{ ظا} \quad \leftarrow \quad \frac{ص}{س-ص} = \theta \text{ ظا} \quad \leftarrow \quad \frac{ص}{س-ص} = \theta \text{ ظا} \quad \leftarrow \quad \frac{ص}{س-ص} = \theta \text{ ظا}$$

$$\frac{ص}{س-ص} = \theta \text{ ظا} \quad \leftarrow \quad \frac{ص}{س-ص} = \theta \text{ ظا} \quad \leftarrow \quad \frac{ص}{س-ص} = \theta \text{ ظا} \quad \leftarrow \quad \frac{ص}{س-ص} = \theta \text{ ظا}$$

$$\frac{ص}{س-ص} = \theta \text{ ظا} \quad \leftarrow \quad \frac{ص}{س-ص} = \theta \text{ ظا} \quad \leftarrow \quad \frac{ص}{س-ص} = \theta \text{ ظا} \quad \leftarrow \quad \frac{ص}{س-ص} = \theta \text{ ظا}$$

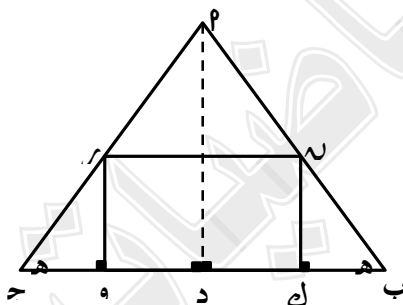
$$\frac{ص}{س-ص} = \theta \text{ ظا} \quad \leftarrow \quad \frac{ص}{س-ص} = \theta \text{ ظا} \quad \leftarrow \quad \frac{ص}{س-ص} = \theta \text{ ظا} \quad \leftarrow \quad \frac{ص}{س-ص} = \theta \text{ ظا}$$

$$\frac{ص}{س-ص} = \theta \text{ ظا} \quad \leftarrow \quad \frac{ص}{س-ص} = \theta \text{ ظا} \quad \leftarrow \quad \frac{ص}{س-ص} = \theta \text{ ظا} \quad \leftarrow \quad \frac{ص}{س-ص} = \theta \text{ ظا}$$

$$\frac{ص}{س-ص} = \theta \text{ ظا} \quad \leftarrow \quad \frac{ص}{س-ص} = \theta \text{ ظا} \quad \leftarrow \quad \frac{ص}{س-ص} = \theta \text{ ظا} \quad \leftarrow \quad \frac{ص}{س-ص} = \theta \text{ ظا}$$

$$\frac{ص}{س-ص} = \theta \text{ ظا} \quad \leftarrow \quad \frac{ص}{س-ص} = \theta \text{ ظا} \quad \leftarrow \quad \frac{ص}{س-ص} = \theta \text{ ظا} \quad \leftarrow \quad \frac{ص}{س-ص} = \theta \text{ ظا}$$

$$\frac{ص}{س-ص} = \theta \text{ ظا} \quad \leftarrow \quad \frac{ص}{س-ص} = \theta \text{ ظا} \quad \leftarrow \quad \frac{ص}{س-ص} = \theta \text{ ظا} \quad \leftarrow \quad \frac{ص}{س-ص} = \theta \text{ ظا}$$



(٥) Δ ب ج د متساوي الساقين ، د ل ⊥ ب ج

Δ ل ه د ، ر و ج متطابقان

∴ ل ه = د و

نفرض أن أبعاد المستطيل هي ل و ر ، ل ه = د ، ل ه = د

$$\frac{ص}{س-ص} = \theta \text{ ظا} \quad \leftarrow \quad \frac{ص}{س-ص} = \theta \text{ ظا} \quad \leftarrow \quad \frac{ص}{س-ص} = \theta \text{ ظا} \quad \leftarrow \quad \frac{ص}{س-ص} = \theta \text{ ظا}$$

$$\frac{ص}{س-ص} = \theta \text{ ظا} \quad \leftarrow \quad \frac{ص}{س-ص} = \theta \text{ ظا} \quad \leftarrow \quad \frac{ص}{س-ص} = \theta \text{ ظا} \quad \leftarrow \quad \frac{ص}{س-ص} = \theta \text{ ظا}$$

مساحة المستطيل م = ل ر

$$\frac{ص}{س-ص} = \theta \text{ ظا} \quad \leftarrow \quad \frac{ص}{س-ص} = \theta \text{ ظا} \quad \leftarrow \quad \frac{ص}{س-ص} = \theta \text{ ظا} \quad \leftarrow \quad \frac{ص}{س-ص} = \theta \text{ ظا}$$

$$\frac{ص}{س-ص} = \theta \text{ ظا} \quad \leftarrow \quad \frac{ص}{س-ص} = \theta \text{ ظا} \quad \leftarrow \quad \frac{ص}{س-ص} = \theta \text{ ظا} \quad \leftarrow \quad \frac{ص}{س-ص} = \theta \text{ ظا}$$

$$\frac{ص}{س-ص} = \theta \text{ ظا} \quad \leftarrow \quad \frac{ص}{س-ص} = \theta \text{ ظا} \quad \leftarrow \quad \frac{ص}{س-ص} = \theta \text{ ظا} \quad \leftarrow \quad \frac{ص}{س-ص} = \theta \text{ ظا}$$

$$\frac{ص}{س-ص} = \theta \text{ ظا} \quad \leftarrow \quad \frac{ص}{س-ص} = \theta \text{ ظا} \quad \leftarrow \quad \frac{ص}{س-ص} = \theta \text{ ظا} \quad \leftarrow \quad \frac{ص}{س-ص} = \theta \text{ ظا}$$

$$\frac{ص}{س-ص} = \theta \text{ ظا} \quad \leftarrow \quad \frac{ص}{س-ص} = \theta \text{ ظا} \quad \leftarrow \quad \frac{ص}{س-ص} = \theta \text{ ظا} \quad \leftarrow \quad \frac{ص}{س-ص} = \theta \text{ ظا}$$

∴ م = ١ - ١/٣ عدد سالب عظمى

∴ مساحة المستطيل أكبر ما يمكن عندما تكون أبعاده ٢ سم = ٢ × ١/٣ = ٢/٣ سم ، ص = ١ - ١/٣ = ٢/٣ سم .

(٦) نفرض أن أبعاد متوازي المستطيلات هي ٢ سم ، س ، ص

∴ الحجم ح = ٥٧٦ ← ٢ سم^٢ ص = ٥٧٦ ← ص = ٢٨٨ سم

∴ المساحة السطحية م = ٦ سم ص + ٤ سم^٢ ← بالتعويض من (١)

م = ٦ سم × ٢٨٨ + ٤ سم^٢ ← م = ٢٨٨ × ٦ + ٤ سم^٢ ← م = ١٧٢٨ + ٤ سم^٢

م = ١٧٢٨ + ٤ سم^٢ ← م = ١٧٢٨ + ٤ سم^٢ ← م = ١٧٢٨ + ٤ سم^٢

٦ = سم ← ٢١٦ = ٣ سم ← ٦ = سم

∴ م = ١٧٢٨ + ٤ سم^٢ ← م = ١٧٢٨ + ٤ سم^٢ ← م = ١٧٢٨ + ٤ سم^٢

∴ الأبعاد التي تجعل المساحة أصغر ما يمكن هي ٦ ، ١٢ ، ٨ سم .

التكامل:

$$(١) \left[(١+ظا)س^٢ \right] = س^٢ \left[ق + س \right] = س^٢ \left[س + س \right] = ٢س^٢$$

$$(٢) \left[\frac{س}{س+١} \right] = \frac{س}{س+١} \times \frac{١}{س} = \frac{١}{س+١}$$

$$(٣) \text{ نفرض أن : } ص = س - ١ \left\{ \begin{array}{l} ١ + ص = س \\ ص = س - ١ \end{array} \right. \leftarrow$$

$$\text{∴ ت} = \left[(س + ١)س \right] = س(س + ١) \leftarrow \text{ت} = \left[(س + ١)س \right] = س(س + ١)$$

$$\text{∴ ت} = \left[(س + ١)س \right] = س(س + ١) \leftarrow \text{ت} = \left[(س + ١)س \right] = س(س + ١)$$

$$\text{∴ ت} = \frac{١}{س} + \frac{١}{س} + \frac{١}{س} = \frac{٣}{س} \leftarrow \text{ت} = \frac{١}{س} + \frac{١}{س} + \frac{١}{س} = \frac{٣}{س}$$

$$\text{∴ ت} = \frac{١}{س} + \frac{١}{س} + \frac{١}{س} = \frac{٣}{س} \leftarrow \text{ت} = \frac{١}{س} + \frac{١}{س} + \frac{١}{س} = \frac{٣}{س}$$

$$\text{∴ ت} = \frac{١}{س} + \frac{١}{س} + \frac{١}{س} = \frac{٣}{س} \leftarrow \text{ت} = \frac{١}{س} + \frac{١}{س} + \frac{١}{س} = \frac{٣}{س}$$

$$\text{∴ ت} = \frac{١}{س} + \frac{١}{س} + \frac{١}{س} = \frac{٣}{س} \leftarrow \text{ت} = \frac{١}{س} + \frac{١}{س} + \frac{١}{س} = \frac{٣}{س}$$

حل آخر:

$$\left\{ \begin{array}{l} ١ + ص = س \\ ص = س - ١ \end{array} \right. \leftarrow \text{نفرض أن : } ص = س - ١$$

$$\text{∴ ت} = \left[(س + ١)س \right] = س(س + ١) \leftarrow \text{ت} = \left[(س + ١)س \right] = س(س + ١)$$

$$\therefore ت = 2(ص^2 + 2ص + 6) \Leftrightarrow ت = (2ص^2 + 4ص + 12) \Leftrightarrow ت = 2(ص^2 + 2ص + 6)$$

$$\therefore ت = \frac{2}{7}ص^2 + \frac{4}{7}ص + 12 \Leftrightarrow ت = \frac{2}{7}ص^2 + \frac{4}{7}ص + 12$$

$$\therefore ت = \frac{2}{7}ص^2 + \frac{4}{7}ص + 12 \Leftrightarrow ت = \frac{2}{7}ص^2 + \frac{4}{7}ص + 12$$

$$\therefore ت = \frac{2}{7}ص^2 + \frac{4}{7}ص + 12 \Leftrightarrow ت = \frac{2}{7}ص^2 + \frac{4}{7}ص + 12$$

$$\therefore ت = \frac{2}{7}ص^2 + \frac{4}{7}ص + 12 \Leftrightarrow ت = \frac{2}{7}ص^2 + \frac{4}{7}ص + 12$$

$$ع = 2ص^2 - 2ص$$

تكميل

$$ع = 2ص^2 - 2ص$$

$$ص = 2ص$$

تفاضل

$$ص = 2ص$$

$$(4) ت = 2ص^2 - 2ص \left[\frac{1}{7} + \frac{2}{7}ص^2 - 2ص \right]$$

$$ت = 2ص^2 - 2ص \times \frac{1}{7} + \frac{2}{7}ص^2 - 2ص$$

$$ت = 2ص^2 - 2ص \times \frac{1}{7} - 2ص$$

$$ع = 2ص^2 - 2ص$$

تكميل

$$ع = 2ص^2 - 2ص$$

$$و = 2لوس$$

تفاضل

$$و = 2لوس$$

$$(5) ت = 2ص^2 - 2لوس \left[2 - 2لوس \right]$$

$$ت = 2ص^2 - 2لوس \times 2 - 2لوس$$

حل آخر:

$$\left. \begin{aligned} 2ص^2 &= 2ص \\ 2ص^2 &= 2ص \end{aligned} \right\} \Leftrightarrow$$

نفرض أن: $ص = 2$

$$ت = 2 \times 2 - 2 \times 2 = 0$$

$$ت = 2 \times 2 - 2 \times 2 = 0$$

$$ت = 2 \times 2 - 2 \times 2 = 0$$

$$ت = 2 \times 2 - 2 \times 2 = 0$$

$$ت = 2 \times 2 - 2 \times 2 = 0$$

$$ع = 2ص^2 - 2ص$$

تكميل

$$ع = 2ص^2 - 2ص$$

$$و = 2لوس$$

تفاضل

$$و = 2لوس$$

$$ت = 2 \times 2 - 2 \times 2 = 0$$

$$ع = 2ص^2 - 2ص$$

تكميل

$$ع = 2ص^2 - 2ص$$

$$ص = 2ص$$

تفاضل

$$ص = 2ص$$

$$ت = 2 \times 2 - 2 \times 2 = 0$$

$$(6) \text{ ليكن } ت = 2ص^2 - 2ص$$

$$\therefore ت = 2ص^2 - 2ص$$

$$\left. \begin{aligned} 2ص^2 &= 2ص \\ 2ص^2 &= 2ص \end{aligned} \right\} \Leftrightarrow$$

$$(7) \text{ نفرض أن: } 2ص^2 = 2ص$$

$$\begin{aligned} \left[\frac{1}{4} \times \frac{(1-v)}{v} \times 4 \right] = t &\Leftrightarrow \left[\frac{1}{1+2s} \right] = t \\ \left[\frac{1}{4} \times \frac{(1-v)}{v} \times 4 \right] = t &\Leftrightarrow \left[\frac{1}{4} \times (1-v) \times v \right] = t \\ \left[\frac{1}{4} \times (1+2s) \times \frac{1}{4} - \frac{1}{4} \times (1+2s) \times \frac{1}{4} \right] = t &\Leftrightarrow \left[\frac{1}{4} \times \frac{1}{4} - \frac{1}{4} \times \frac{1}{4} \right] = t \end{aligned}$$

$$(8) \quad \left[\frac{1}{2} \times \frac{1}{2} \right] = t \quad \text{نفرض أن } \frac{1}{2} = s \quad \Leftrightarrow \quad \frac{1}{2} = s$$

$$\begin{aligned} \left[\frac{1}{2} \times \frac{1}{2} \right] = t &\Leftrightarrow \left[\frac{1}{2} \times \frac{1}{2} \right] = t \\ \left[\frac{1}{2} \times \frac{1}{2} \right] = t &\Leftrightarrow \left[\frac{1}{2} \times \frac{1}{2} \right] = t \\ \left[\frac{1}{2} \times \frac{1}{2} \right] = t &\Leftrightarrow \left[\frac{1}{2} \times \frac{1}{2} \right] = t \end{aligned}$$

$$(9) \quad \text{نفرض أن } t = \frac{1}{2} \times \frac{1}{2}$$

$$\begin{aligned} \left[\frac{1}{2} \times \frac{1}{2} \right] = t &\Leftrightarrow \left[\frac{1}{2} \times \frac{1}{2} \right] = t \\ \left[\frac{1}{2} \times \frac{1}{2} \right] = t &\Leftrightarrow \left[\frac{1}{2} \times \frac{1}{2} \right] = t \end{aligned}$$

$$(10) \quad \left[\frac{1}{2} \times \frac{1}{2} \right] = t \quad \text{نفرض أن } \frac{1}{2} = s$$

$$\begin{aligned} \left[\frac{1}{2} \times \frac{1}{2} \right] = t &\Leftrightarrow \left[\frac{1}{2} \times \frac{1}{2} \right] = t \\ \left[\frac{1}{2} \times \frac{1}{2} \right] = t &\Leftrightarrow \left[\frac{1}{2} \times \frac{1}{2} \right] = t \end{aligned}$$

$$\begin{aligned} \left[\frac{1}{2} \times \frac{1}{2} \right] = t &\Leftrightarrow \left[\frac{1}{2} \times \frac{1}{2} \right] = t \\ \left[\frac{1}{2} \times \frac{1}{2} \right] = t &\Leftrightarrow \left[\frac{1}{2} \times \frac{1}{2} \right] = t \end{aligned}$$

$$(11) \quad \text{نفرض أن } t = \frac{1}{2} \times \frac{1}{2}$$

$$\begin{aligned} \left[\frac{1}{2} \times \frac{1}{2} \right] = t &\Leftrightarrow \left[\frac{1}{2} \times \frac{1}{2} \right] = t \\ \left[\frac{1}{2} \times \frac{1}{2} \right] = t &\Leftrightarrow \left[\frac{1}{2} \times \frac{1}{2} \right] = t \end{aligned}$$

$$\therefore \text{ت} = \frac{1}{4} \text{س}^2 \times \frac{2}{3} (\text{س} - \text{ع}) - \frac{2}{3} (\text{س} - \text{ع}) \left[\frac{2}{3} (\text{س} - \text{ع}) \right] \text{س} (-\text{س})$$

$$\therefore \text{ت} = \frac{1}{4} \text{س}^2 (\text{س} - \text{ع}) + \frac{2}{3} (\text{س} - \text{ع}) \left[\frac{2}{3} (\text{س} - \text{ع}) \right] \text{س}$$

$$\therefore \text{ت} = \frac{1}{4} \text{س}^2 (\text{س} - \text{ع}) + \frac{2}{3} (\text{س} - \text{ع}) \left[\frac{2}{3} (\text{س} - \text{ع}) \right] \text{س}$$

$$\therefore \text{ت} = \frac{1}{4} \text{س}^2 (\text{س} - \text{ع}) - \frac{2}{3} (\text{س} - \text{ع}) \times \frac{2}{3} (\text{س} - \text{ع}) + \frac{2}{3} (\text{س} - \text{ع})$$

$$\therefore \text{ت} = \frac{1}{4} \text{س}^2 (\text{س} - \text{ع}) - \frac{2}{3} (\text{س} - \text{ع}) + \frac{2}{3} (\text{س} - \text{ع})$$

$$(12) \quad \left[(\text{جاس} + 3) \text{جاس} \right]^{\frac{1}{2}} = \frac{1}{4} (\text{جاس} + 3)^2$$

$$(13) \quad \left[\frac{\text{قا} (\text{لوس})^2}{\text{س}} \right]^{\frac{1}{2}} = \frac{1}{4} \text{س} \times \left[\frac{1}{\text{س}} \right]^{\frac{1}{2}} \text{قا} (\text{لوس})^2 = \text{س} (\text{لوس})^2 \text{طا} (\text{لوس}) + \text{ت}$$

مشتقة الزاوية

$$(14) \quad \text{نفرض أن : ص} = 3\text{س} + 1 \quad \Leftrightarrow \quad \left. \begin{array}{l} \text{س} = \frac{1}{4} (1 - \text{ص}) \\ \text{س} = \frac{1}{4} \text{ص} \end{array} \right\}$$

$$\therefore \text{ت} = \left[\text{س}^2 \sqrt{1 + 3\text{س}} \right]^{\frac{1}{2}} \quad \Leftrightarrow \quad \text{ت} = \left[\frac{1}{4} (1 - \text{ص})^2 \sqrt{1 - \text{ص}} \right]^{\frac{1}{2}} \times \frac{1}{4} \text{ص}$$

$$\therefore \text{ت} = \left[\frac{1}{4} (1 - \text{ص})^2 \sqrt{1 - \text{ص}} \right]^{\frac{1}{2}} \times \frac{1}{4} \text{ص} \quad \Leftrightarrow \quad \text{ت} = \left[\frac{1}{4} (1 - \text{ص})^2 \sqrt{1 - \text{ص}} \right]^{\frac{1}{2}} \times \frac{1}{4} \text{ص}$$

$$\therefore \text{ت} = \left[\frac{1}{4} (1 - \text{ص})^2 \sqrt{1 - \text{ص}} \right]^{\frac{1}{2}} \times \left(\frac{1}{4} \text{ص} + \frac{3}{4} \text{ص} - \frac{3}{4} \text{ص} + \frac{1}{4} \text{ص} \right) \quad \Leftrightarrow \quad \text{ت} = \left[\frac{1}{4} (1 - \text{ص})^2 \sqrt{1 - \text{ص}} \right]^{\frac{1}{2}} \times \frac{1}{4} \text{ص}$$

$$\therefore \text{ت} = \left[\frac{1}{4} (1 - \text{ص})^2 \sqrt{1 - \text{ص}} \right]^{\frac{1}{2}} \times \left(\frac{1}{4} \text{ص} + \frac{3}{4} \text{ص} - \frac{3}{4} \text{ص} + \frac{1}{4} \text{ص} \right) + \text{ت}$$

$$\therefore \text{ت} = \left[\frac{1}{4} (1 - \text{ص})^2 \sqrt{1 - \text{ص}} \right]^{\frac{1}{2}} \times \left(\frac{1}{4} (1 + 3\text{ص}) - \frac{3}{4} (1 + 3\text{ص}) + \frac{3}{4} (1 + 3\text{ص}) - \frac{1}{4} (1 + 3\text{ص}) \right) + \text{ت}$$

$$\boxed{\text{س} = \text{ع}}$$

↓
تكميل

$$\boxed{\text{س} = \text{ع}}$$

$$\boxed{\text{ص} = \text{لوس} (1 + \text{س})}$$

↓
تفاضل

$$\boxed{\text{ص} = \frac{\text{س}}{1 + \text{س}}}$$

$$(15) \quad \text{ت} = \text{س} \text{لوس} (1 + \text{س}) - \left[\frac{\text{س}}{1 + \text{س}} \right] - (1 + \text{س})$$

$$\text{ت} = \text{س} \text{لوس} (1 + \text{س}) - \left[\frac{1 - (1 + \text{س})}{1 + \text{س}} \right] - (1 + \text{س})$$

$$\text{ت} = \text{س} \text{لوس} (1 + \text{س}) - \left[\frac{1}{1 + \text{س}} - \frac{1 + \text{س}}{1 + \text{س}} \right] - (1 + \text{س})$$

$$\text{ت} = \text{س} \text{لوس} (1 + \text{س}) - \left[\frac{1}{1 + \text{س}} - 1 \right] - (1 + \text{س}) \quad \Leftrightarrow \quad \text{ت} = \text{س} \text{لوس} (1 + \text{س}) - (1 + \text{س}) + \text{س} - (1 + \text{س})$$

$$\text{ت} = \text{س} \text{لوس} (1 + \text{س}) - (1 + \text{س}) + \text{س} - (1 + \text{س}) \quad \Leftrightarrow \quad \text{ت} = \text{س} \text{لوس} (1 + \text{س}) - (1 + \text{س}) + \text{س} - (1 + \text{س})$$

حل آخر:

$$\begin{array}{l} \boxed{ع = س} \xrightarrow{\text{تكامل}} \boxed{ع = س} \\ \downarrow \\ \boxed{ع = س} \end{array} \quad \begin{array}{l} \boxed{ع = س} \xrightarrow{\text{تفاضل}} \boxed{ع = س} \\ \downarrow \\ \boxed{ع = س} \end{array} \quad \left. \begin{array}{l} س = ص - ١ \\ ع = س \end{array} \right\} \Leftrightarrow \begin{array}{l} \text{نفرض أن } ص = س + ١ \\ \therefore ت = [س(س + ١)] \\ \therefore ت = ص[س - ١] \\ \therefore ت = (س + ١) - (س + ١) + ت \end{array}$$

$$\begin{array}{l} \boxed{ع = س^٣} \xrightarrow{\text{تكامل}} \boxed{ع = \frac{١}{٤} س^٤} \\ \downarrow \\ \boxed{ع = \frac{١}{٤} س^٤} \end{array} \quad \begin{array}{l} \boxed{ع = س} \xrightarrow{\text{تفاضل}} \boxed{ع = \frac{١}{س}} \\ \downarrow \\ \boxed{ع = \frac{١}{س}} \end{array} \quad (١٦) \text{ ليكن } ت = [س^٣ لوس دس] \\ \therefore ت = [س(لوس)] - [س(لوس)] \\ \therefore ت = [س^٣ لوس] - [س لوس] \\ \therefore ت = \frac{١}{٤} س^٤ - \frac{١}{٤} س^٣ = ت + \frac{١}{٤} س^٤$$

$$\begin{array}{l} \boxed{ع = س^٢} \xrightarrow{\text{تكامل}} \boxed{ع = س} \\ \downarrow \\ \boxed{ع = س} \end{array} \quad \begin{array}{l} \boxed{ع = س} \xrightarrow{\text{تفاضل}} \boxed{ع = س} \\ \downarrow \\ \boxed{ع = س} \end{array} \quad (١٧) \text{ } ت = [س قاس دس] \\ \therefore ت = س ظاس - [ظاس دس] \\ \therefore ت = س ظاس + [س قاس] - [ظاس دس] \\ \therefore ت = س ظاس + [س قاس] + ت$$

$$\begin{array}{l} \boxed{ع = س^٢ ه} \xrightarrow{\text{تكامل}} \boxed{ع = \frac{١}{٣} س^٣} \\ \downarrow \\ \boxed{ع = \frac{١}{٣} س^٣} \end{array} \quad \begin{array}{l} \boxed{ع = س} \xrightarrow{\text{تفاضل}} \boxed{ع = س} \\ \downarrow \\ \boxed{ع = س} \end{array} \quad (١٨) \text{ } ت = [س(٥ + س^٣) ه] \\ ت = [س(٥ + س^٣) ه] - [س(٥ + س^٣) ه] \\ ت = [س(٥ + س^٣) ه] - [س(٥ + س^٣) ه] \\ ت = [س(٥ + س^٣) ه] - [س(٥ + س^٣) ه] + ت$$

$$\begin{array}{l} \boxed{ع = (س + ١)^٢} \xrightarrow{\text{تكامل}} \boxed{ع = (س + ١)^٢} \\ \downarrow \\ \boxed{ع = (س + ١)^٢} \end{array} \quad \begin{array}{l} \boxed{ع = س} \xrightarrow{\text{تفاضل}} \boxed{ع = س} \\ \downarrow \\ \boxed{ع = س} \end{array} \quad (١٩) \text{ نفرض أن } ت = [س ه س] \\ \therefore [ع = س] - [ع = س] \\ \therefore ت = [س ه س] - [س ه س] \\ \therefore ت = [س ه س] - [س ه س] \\ \therefore ت = [س ه س] - [س ه س] + ت$$

$$(٢٠) \text{ د } (س) = |س - ٢| \text{ دالة زوجية} \quad \Leftarrow \quad ت = |س - ٢| \text{ د } س = |س - ٢| \text{ د } س$$

∴ أصفار $(س - ٢)$ هي $٢, -٢$ ، $٢ \in [٠, ٣]$ ،

$$\therefore ت = |س - ٢| \text{ د } س = \left[|س - ٢| \text{ د } س + |س - ٢| \text{ د } س \right] = (س - ٢) \text{ د } س + (٢ - س) \text{ د } س = ٢س - ٢س = ٠$$

(ثانياً)

$$(١) \quad \therefore |س - ٢| \text{ د } (س) = |س - ٢| \text{ د } (١ - س)$$

في الطرف الأيسر : بوضع $ص = ١ - س$

$$\Leftarrow ص = ١ - س$$

$$\Leftarrow ص = ٣ \text{ أو } ص = ٥$$

، عندما $ص = ٢$ أو $ص = ٣$

$$\therefore |س - ٢| \text{ د } (س) = |س - ٢| \text{ د } (ص) \times \frac{١}{٢} \quad \Leftarrow \quad |س - ٢| \text{ د } (س) = |س - ٢| \text{ د } (ص)$$

$$\boxed{٦ = ١}$$

$$\therefore ٥ = ١ - ١$$

$$(٢) \quad \therefore \frac{١}{٢} + س = \frac{١}{٢} + س \quad \Leftarrow \quad ص = \left(\frac{١}{٢} + س \right) \text{ د } س$$

$$\therefore \left(\frac{\pi}{4}, \frac{\pi}{4} + ٩ \right) \text{ ∃ للمنحنى}$$

$$\therefore ص = س + \frac{\pi}{4}$$

$$\Leftarrow ١٠ = ت \quad \Leftarrow \quad ص = س + \frac{\pi}{4} + ١٠$$

$$\therefore ٩ + \frac{\pi}{4} = \frac{\pi}{4} + ت$$

$$(٣) \quad \frac{١}{٢} - س = \frac{١}{٢} - س \quad \Leftarrow \quad ص = (١ - س) \text{ د } س$$

$$\therefore \left(\frac{\pi}{4}, \frac{\pi}{4} \right), \left(\frac{\pi}{4}, ٥ \right) \text{ ∃ للمنحنى}$$

$$\therefore ص = ١ - س$$

$$\left. \begin{aligned} ٥ &= ١ - س \\ ١ &= ١ - س \end{aligned} \right\} \therefore$$

$$\left. \begin{aligned} ٥ + س &= ١ \\ ١ + س &= ١ \end{aligned} \right\} \Leftarrow \quad \boxed{٢ = ١}, \quad \boxed{٣ = ت}$$

∴ معادلة المنحنى $ص = ٢ - س$

$$\Leftarrow \frac{١}{٢} = س - س$$

$$\Leftarrow ص = س - س$$

$$(٤) \quad \therefore \text{ميل العمودي } م = -\text{قتاس قاس}$$

$$\therefore ص = (س - س) \text{ د } س$$

$$\begin{aligned} \therefore \left(1, \frac{\pi}{4}\right) \exists \text{ للمنحنى} &\Leftrightarrow \left(\frac{\pi}{4}\right) \text{ جا} + \text{ث} = 1 \\ \therefore \text{ث} = \frac{3}{4} &\Leftrightarrow \text{معادلة المنحنى هي ص} = \text{جا}^2 \text{ س} + \frac{3}{4} \end{aligned}$$

$$\begin{aligned} (5) \therefore \frac{\frac{3}{4}}{\sqrt{\frac{3}{4} + \text{ص}}} &\Leftrightarrow (\text{ص} + \sqrt{\frac{3}{4} + \text{ص}}) \text{ ص} = 3 \text{ ص} \\ &\Leftrightarrow (\text{ص} + \sqrt{\frac{3}{4} + \text{ص}}) [\text{ص} = 3 \text{ ص}] \\ &\therefore \left(1, \frac{1}{18}\right) \exists \text{ للمنحنى} \\ &\Leftrightarrow \frac{1}{4} \text{ ص}^2 + \frac{3}{4} \text{ ص} = 3 \text{ ص} + \text{ث} \\ &\Leftrightarrow \frac{1}{4} \times 1 + \frac{3}{4} \times \frac{3}{4} = \frac{3}{4} (1) \times \frac{3}{4} + \frac{1}{4} \times \frac{3}{4} \\ &\Leftrightarrow \frac{1}{4} \text{ ص}^2 + \frac{3}{4} \text{ ص} = 3 \text{ ص} + 1 \end{aligned}$$

بنتكامل الطرفين

$$\begin{aligned} (\text{ص} + \sqrt{\frac{3}{4} + \text{ص}}) \text{ ص} = 3 \text{ ص} &\Leftrightarrow \text{ص}^2 + \frac{3}{4} \text{ ص} = 3 \text{ ص} + 1 \\ \text{ص}^2 + \frac{3}{4} \text{ ص} - 3 \text{ ص} - 1 = 0 &\Leftrightarrow \text{ص}^2 - \frac{9}{4} \text{ ص} - 1 = 0 \\ \text{ص}^2 - \frac{9}{4} \text{ ص} - 1 = 0 &\Leftrightarrow \text{ص}^2 + \frac{3}{4} \text{ ص} = 3 \text{ ص} + 1 \end{aligned}$$

بالبضرب $\times 4$

$$\boxed{\text{ص}^2 + 3\text{ص} = 12\text{ص} + 4} \Leftrightarrow \boxed{\text{ص}^2 - 9\text{ص} - 4 = 0}$$

$$(6) \therefore \text{المنحنى له قيمة عظمى محلية عند النقطة } (2, 7)$$

$$\left. \begin{array}{l} \text{ص} = 7 \\ \frac{d\text{ص}}{d\text{س}} = 0 \end{array} \right\} \Leftrightarrow \text{عندما } \text{س} = 2$$

$$\begin{aligned} \text{ص} = \left(\frac{\frac{7}{2}}{\sqrt{\frac{7}{2} + \text{ص}}}\right) \text{ ص} &\Leftrightarrow \text{ص} = 2 - \text{س} \\ \text{ص} = 2 - \text{س} &\Leftrightarrow \text{ص} = 2 - 2 = 0 \\ \text{ص} = 2 - \text{س} &\Leftrightarrow \text{ص} = 2 - 2 = 0 \end{aligned}$$

$$\begin{aligned} \text{ص} = 2 - \text{س} &\Leftrightarrow \text{ص} = 2 - 2 = 0 \\ \text{ص} = 2 - \text{س} &\Leftrightarrow \text{ص} = 2 - 2 = 0 \end{aligned}$$

$$\begin{aligned} \text{ص} = 2 - \text{س} &\Leftrightarrow \text{ص} = 2 - 2 = 0 \\ \text{ص} = 2 - \text{س} &\Leftrightarrow \text{ص} = 2 - 2 = 0 \end{aligned}$$

$$\boxed{\text{ص} = 2 - \text{س} = 0}$$

$$(7) \therefore \text{ص} = \frac{\frac{3}{2}}{\sqrt{\frac{3}{2} + \text{ص}}} + 2 = 3$$

$$\begin{aligned} \text{ص} = \frac{\frac{3}{2}}{\sqrt{\frac{3}{2} + \text{ص}}} + 2 = 3 &\Leftrightarrow \text{ص} = 3 - 2 = 1 \\ \text{ص} = 3 - 2 = 1 &\Leftrightarrow \text{ص} = 3 - 2 = 1 \\ \text{ص} = 3 - 2 = 1 &\Leftrightarrow \text{ص} = 3 - 2 = 1 \end{aligned}$$

$$\begin{aligned} \text{ص} = 3 - 2 = 1 &\Leftrightarrow \text{ص} = 3 - 2 = 1 \\ \text{ص} = 3 - 2 = 1 &\Leftrightarrow \text{ص} = 3 - 2 = 1 \end{aligned}$$

$$\begin{aligned} \text{ص} = 3 - 2 = 1 &\Leftrightarrow \text{ص} = 3 - 2 = 1 \\ \text{ص} = 3 - 2 = 1 &\Leftrightarrow \text{ص} = 3 - 2 = 1 \end{aligned}$$

$$\boxed{\text{ص} = 3 - 2 = 1}$$

$$(8) \text{ ليكون ميل المماس هو } m, \therefore \text{ معدل تغير ميل المماس هو } \frac{d\text{ص}}{d\text{س}} = 3 - 2 = 1$$

$$\begin{aligned} m = 1 &\Leftrightarrow \text{المماس أفقي عند } \text{س} = 1 \\ m = 1 &\Leftrightarrow \text{عندما } \text{س} = 1 \\ m = 1 &\Leftrightarrow \text{عندما } \text{س} = 1 \end{aligned}$$

$$\begin{aligned} m = 1 &\Leftrightarrow \text{عندما } \text{س} = 1 \\ m = 1 &\Leftrightarrow \text{عندما } \text{س} = 1 \end{aligned}$$

$$\begin{aligned} m = 1 &\Leftrightarrow \text{عندما } \text{س} = 1 \\ m = 1 &\Leftrightarrow \text{عندما } \text{س} = 1 \end{aligned}$$

$$\begin{aligned} \therefore \frac{x}{s} = 3 - 2s \quad \Leftarrow \quad \text{ص} &= (3 - 2s) \quad \Leftarrow \quad \text{ص} \\ \text{ص} &= 3 - 2s + 2 \quad \Leftarrow \quad \text{ص} \\ \therefore \text{ص} &= 5 \end{aligned}$$

$$(9) \quad \therefore \frac{x}{s} = 3 - 2s \quad \Leftarrow \quad \text{ص} = 18 - 2s + 24$$

$$\text{ص} = 18 - 2s + 24 \quad \Leftarrow \quad \text{ص} = 8 + 2s \quad \Leftarrow \quad \text{ص} = (2 - s)(2 - s) = 0$$

$$\text{ص} = 2 \quad \text{أو} \quad \text{ص} = 4 \quad \therefore \quad \text{ص} = 6 - 2s = 18$$

$$[\text{ص}] = 6 - 2s \quad \Leftarrow \quad \text{عدد سالب} \quad \Leftarrow \quad \text{موقع العظمى المحلية} \quad \text{ص} = 2$$

$$[\text{ص}] = 6 \quad \Leftarrow \quad \text{عدد موجب} \quad \Leftarrow \quad \text{موقع الصغرى المحلية} \quad \text{ص} = 4$$

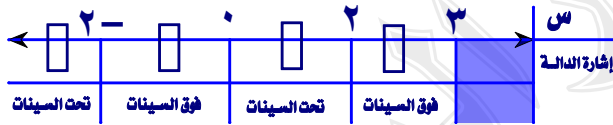
$$\therefore \text{ص} = 26 \quad \text{عندما} \quad \text{ص} = 4$$

$$\therefore \text{ص} = (3 - 2s)(24 + s) \quad \Leftarrow \quad \text{ص} = 3s - 3s^2 + 24s + 24s^2$$

$$26 = 3s - 3s^2 + 24s + 24s^2 \quad \Leftarrow \quad \text{ث} = 10$$

$$\text{ص} = 3s - 3s^2 + 24s + 24s^2 = 10 + 24s + 24s^2$$

$$\text{القيمة العظمى المحلية} = (2) \times 9 - 3(2) = 30 = 10 + 24 \times 2 + 24 \times 2^2$$



$$(10) \quad \therefore \text{د(س)} = 3s^2$$

$$\therefore \text{أصفار الدالة} \quad \text{ص} = 3 \quad \Leftarrow \quad \text{ص} = 0$$

ندرس إشارة الدالة في الفترة $[-2, 2]$

$$\therefore \text{المساحة} = 2 \int_{-2}^2 \text{د(س)} \, ds = 2 \int_{-2}^2 3s^2 \, ds$$

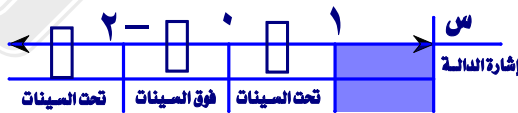
$$\therefore 2 \left[\frac{s^3}{3} \right]_{-2}^2 = 2 \left[\frac{8}{3} - \left(-\frac{8}{3} \right) \right] = 2 \left[\frac{16}{3} \right] = \frac{32}{3}$$

$$2 = 4 + 4 = 8 \quad \text{وحدة طول مربعة}$$

$$\text{ص} = 3, \quad \text{ص} \geq 2 \quad \text{ليس للمجال}, \quad \text{ص} = -2$$

$$(11) \quad \text{نوجد التقاطع مع محور السينات:} \quad \text{ص} = 4 - 3s^2 \quad \Leftarrow \quad \text{ص} = 0$$

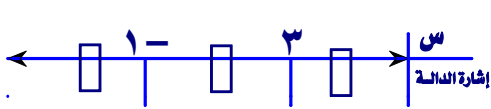
ندرس إشارة الدالة: كما في الشكل المجاور



$$\therefore \text{المساحة المطلوبة} = 2 \int_{-2}^1 \text{د(س)} \, ds = 2 \int_{-2}^1 (4 - 3s^2) \, ds$$

$$4 = 4 \quad \text{وحدة طول مربعة}$$

(١٢) $v = 0$ يعنى محور السينات ، نوجد التقاطع مع محور السينات : $3 + 2s - s^2 = 0 \Leftrightarrow s = 3$ ، $s = -1$



$$\therefore \text{المساحة} = \int_{-1}^3 (3 - 2s - s^2) ds$$

$$\therefore \text{المساحة} = \int_{-1}^3 (3 - 2s - s^2) ds = \left[3s - s^2 - \frac{s^3}{3} \right]_{-1}^3 = \frac{13}{3} = \frac{4}{3} + \frac{2}{3} = \frac{6}{3} = 2 \text{ وحدة طول مربعة}$$

(١٣) نوجد نقط تقاطع المنحنيين:

$$\begin{aligned} s^3 - 3s^2 + 5s + 2 &= s^3 - 3s^2 + 5s + 2 \\ \therefore s^3 - 3s^2 + 5s + 2 &= 3 + s - 2s^2 - 3s^2 \\ \therefore (s^3 - 3s^2 + 5s + 2) - (3 + s - 2s^2 - 3s^2) &= 0 \\ \therefore (s^3 - 3s^2 + 5s + 2) - (3 + s - 2s^2 - 3s^2) &= 0 \\ \therefore (s^3 - 3s^2 + 5s + 2) - (3 + s - 2s^2 - 3s^2) &= 0 \\ \therefore (s^3 - 3s^2 + 5s + 2) - (3 + s - 2s^2 - 3s^2) &= 0 \end{aligned}$$

$$\begin{aligned} \text{د} < \text{ر} & \text{ (٠)} \\ \text{ر} < \text{د} & \text{ (٢)} \end{aligned}$$

$$\therefore \text{المساحة} = \int_{-1}^1 [(s) - (s)] ds + \int_{1}^3 [(s) - (s)] ds$$

$$\therefore \text{المساحة} = \int_{-1}^1 (s - s) ds + \int_{1}^3 (s - s) ds$$

$$\therefore \text{المساحة} = \int_{-1}^1 (s - s) ds + \int_{1}^3 (s - s) ds = 8 \text{ وحدة طول مربعة}$$

(١٤) تكلفة الممر الواحد = مساحة الممر \times تكلفة التز الواحد من الجرانيت

مساحة الممر = مساحة المنطقة المحدودة بمنحى الدالة ، المستقيمان $s = 0$ ، $s = 6$

نوجد تقاطع الدالة مع محور السينات : $12 - \frac{1}{3}s^3 = 0 \Leftrightarrow s = 6$ ، $s = 0$

$$\text{مساحة الممر} = \int_0^6 (12 - \frac{1}{3}s^3) ds = \left[12s - \frac{s^4}{12} \right]_0^6 = 48$$

تكلفة الممرات الخمس = $5 \times 48 \times 400 = 96000$ جنيهه

(١٥) ليكن $v = 1$ ، $v = 2$ ، $v = 3$

نوجد الإحداثى السينى لنقط تقاطع المنحنيين : $s = 1$ ، $s = 2$ ، $s = 3$

$$\therefore s - s^2 = 0 \Leftrightarrow s = 1 \text{ ، } s = 2 \text{ ، } s = 3$$

$$\therefore \text{الحجم} = \int_0^1 \pi \left[\sqrt{1-x^2} - \frac{1}{2} \right] dx \quad \Leftarrow \quad \text{الحجم} = \int_0^1 \pi (1-x^2) dx$$

$$\therefore \text{الحجم} = \pi \left[x - \frac{1}{3} x^3 \right]_0^1 = \pi \left[1 - \frac{1}{3} \right] = \frac{2}{3} \pi \text{ وحدة طول مكعبة.}$$

(١٦) نوجد الإحداثي الصادي لنقط تقاطع المنحنيين : $2x^2 + x - 4 = x^2$ \Leftarrow $x = 0$ ، $x = 2$

بالتعويض في أى من المعادلتين : $x = 4$ ، $x = 0$ " حدود التكامل "

$$\text{لتكن } x = 4 - x^2 \text{ ، } x^2 = 4 - x \quad \Leftarrow \quad x^2 = 4 - x \text{ ، } x^2 + x - 4 = 0 \text{ ، } x = \frac{1}{2} \sqrt{17} + \frac{1}{2}$$

$$\therefore \text{الحجم} = \int_0^{\frac{1}{2}\sqrt{17} + \frac{1}{2}} \pi \left[\sqrt{4-x} - \frac{1}{2} \right] dx \quad \Leftarrow \quad \text{الحجم} = \int_0^{\frac{1}{2}\sqrt{17} + \frac{1}{2}} \pi (4-x) dx$$

$$\therefore \text{الحجم} = \pi \left[4x - \frac{1}{2} x^2 \right]_0^{\frac{1}{2}\sqrt{17} + \frac{1}{2}} = \pi \left[4 \left(\frac{1}{2}\sqrt{17} + \frac{1}{2} \right) - \frac{1}{2} \left(\frac{1}{2}\sqrt{17} + \frac{1}{2} \right)^2 \right] = \frac{1}{2} \pi \left[4\sqrt{17} + 2 - \frac{1}{2} (17 + 2\sqrt{17} + 1) \right] = \frac{1}{2} \pi \left[4\sqrt{17} + 2 - 9 - \sqrt{17} \right] = \frac{1}{2} \pi \left[3\sqrt{17} - 7 \right]$$

(١٧) نوجد الإحداثي السيني لنقط تقاطع المنحنى مع محور السينات بوضع $x = 0$: $x = 1$ ، $x = -1$ " حدود التكامل "

$$\therefore 1 = \frac{x^2}{b} + \frac{x^2}{a} \quad \Leftarrow \quad x^2 = b \left(\frac{x^2}{a} - 1 \right)$$

$$\therefore \text{الحجم} = \int_{-1}^1 \pi x^2 dx \quad \Leftarrow \quad \text{الحجم} = \int_{-1}^1 \pi b \left(\frac{x^2}{a} - 1 \right)^2 dx$$

$$\therefore \text{الحجم} = \pi b^2 \int_{-1}^1 \left(\frac{x^2}{a} - 1 \right)^2 dx \quad \Leftarrow \quad \text{الحجم} = \pi b^2 \int_{-1}^1 \left[\frac{x^4}{a^2} - 2 \frac{x^2}{a} + 1 \right] dx$$

$$\therefore \text{الحجم} = \pi b^2 \left[\frac{1}{5} x^5 - \frac{2}{3} x^3 + x \right]_{-1}^1 = \pi b^2 \left[\frac{1}{5} - \frac{2}{3} + 1 - \left(-\frac{1}{5} + \frac{2}{3} - 1 \right) \right] = \pi b^2 \left[\frac{1}{5} - \frac{2}{3} + 1 + \frac{1}{5} - \frac{2}{3} + 1 \right] = \pi b^2 \left[\frac{2}{5} - \frac{4}{3} + 2 \right] = \pi b^2 \left[\frac{2}{5} - \frac{4}{3} + \frac{10}{5} \right] = \pi b^2 \left[\frac{2}{5} - \frac{4}{3} + 2 \right] = \pi b^2 \left[\frac{2}{5} - \frac{4}{3} + \frac{10}{5} \right] = \pi b^2 \left[\frac{2}{5} - \frac{4}{3} + 2 \right] = \pi b^2 \left[\frac{2}{5} - \frac{4}{3} + 2 \right]$$