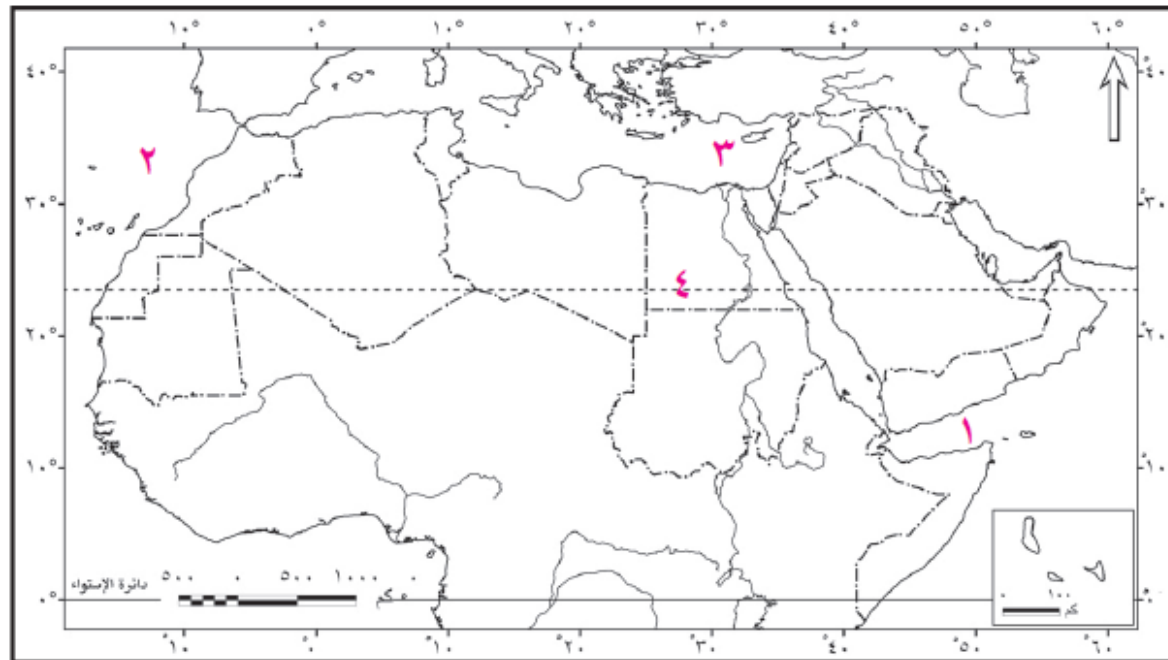


حل خرائط النموذج الثاني بالكتاب المدرسي

(ج) أمامك خريطة صماء للوطن العربي. اكتب ما تدل عليه الأرقام على الخريطة:



- ١ خليج عدن
- ٢ المحيط الأطلنطي
- ٣ البحر المتوسط
- ٤ دائرة عرض مدار السرطان

مع تمنياتي بالتفوق

أ/علي محمد عبدالله

٠١١٤٠٣٥٣٧٤٧

حل خرائط النموذج الرابع بالكتاب المدرسي

(ب) أمامك خريطة صماء للعالم. حدد عليها ما يلي:

١ جبال تفصل بين فرنسا و أسبانيا.

٢ مضيق جبل طارق.

٣ دولة لها حدود بحيرية علي بحيرة.

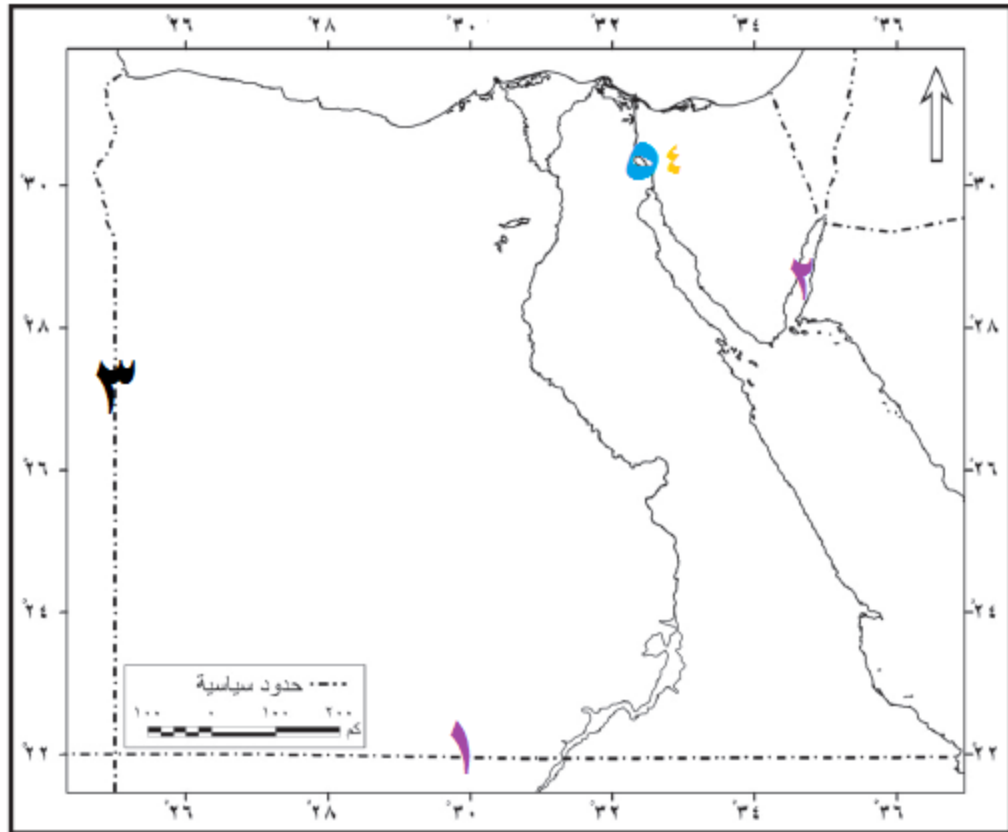
٤ اكبر دول العالم مساحة.

٥ بحيرة فكتوريا.

أ/علي محمد عبدالله ٠١١٤٠٣٥٣٧٤٧

حل خرائط النموذج الأول بالكتاب المدرسي

(ج) أمامك خريطة صماء لمصر. انقلها في كراسة إجابتك ثم وضح عليها:



- ١ دائرة عرض ٢٢ شمالاً
- ٢ خليج العقبة
- ٣ خط طول ٢٥ شرقاً
- ٤ مضائق سيناء
- ٥ قناة السويس

مع تمنياتي بالتفوق
أ/علي محمد عبدالله
٠١١٤٠٣٥٣٧٤٧

حل خرائط النموذج الثالث بالكتاب



(ج) أمامك خريطة صماء للعالم. وضح ما تدل عليه الأرقام على الخريطة

١ جبال تفصل بين الهند و الصين. الهيمالايا

٢ نهر يفصل بين الولايات المتحدة والمكسيك.
٢- نهر ريوجراند

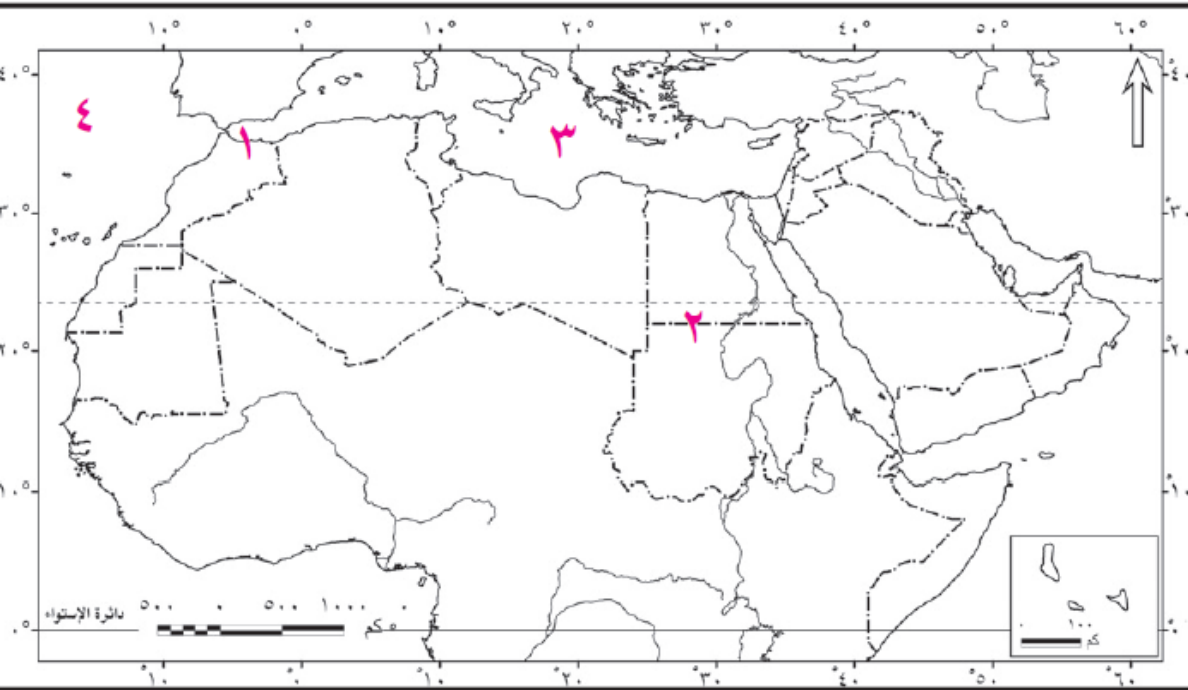
٣ المحيط. الأطلنطي

٤ بحيرة. فيكتوريا

أ/علي محمد عبدالله

٠١١٤٠٣٥٣٧٤٧

حل خرائط النموذج الرابع بالكتاب المدرسي



(ج) امامك خريطة صماء للوطن العربي
اكتب ما تدل عليه الأرقام علي الخريطة.

١ مدينتي ... **سبته** و ... **مليلة** ...

٢ دائرة عرض .. **٢٢ شمالا**

٣ البحر **المتوسط**

٤ المحيط ... **الاطلنطي**

أ/علي محمد عبدالله ٠١١٤٠٣٥٣٧٤٧

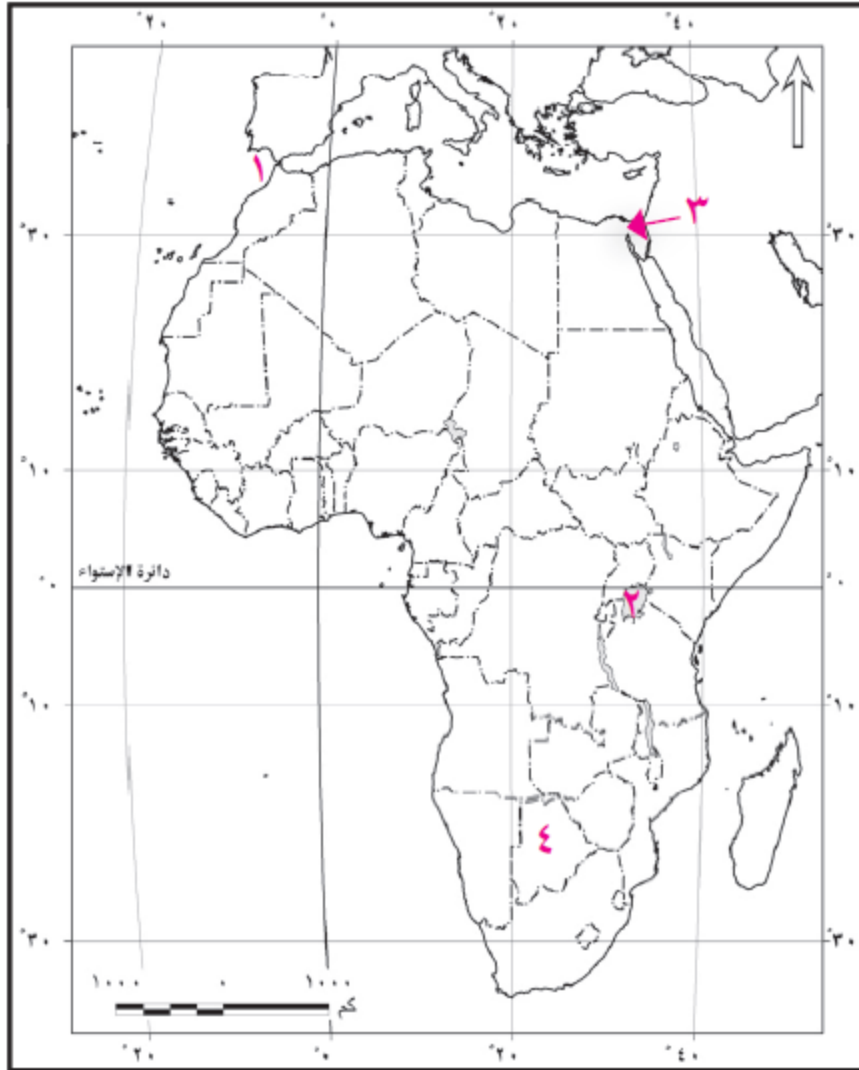
حل خرائط النموذج الخامس بالكتاب المدرسى

(ج) حدد على خريطة العالم السياسية
موقع المدن الآتية

القاهرة - برازيليا - باريس - طوكيو - الكاب

أ/على محمد عبدالله .. ٠١١٤٠٣٥٣٧٤٧

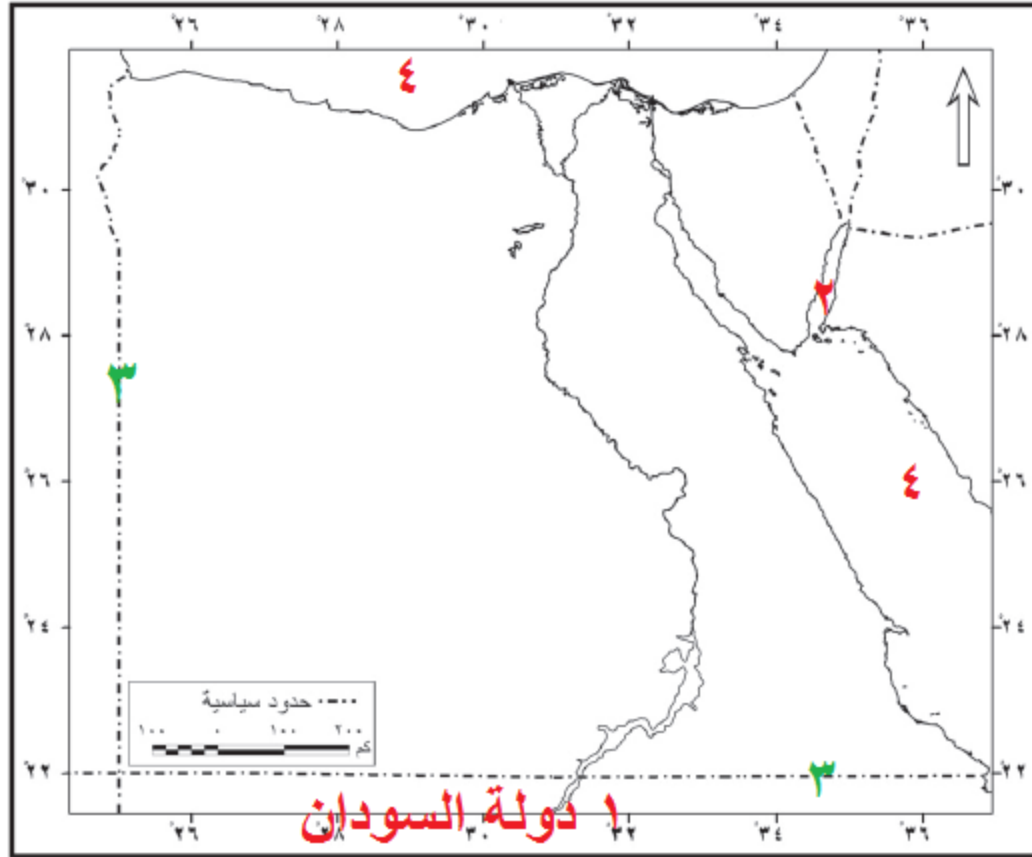
حل خرائط النموذج الأول بالكتاب المدرسي



(ج) أمامك خريطة صماء لإفريقيا، اكتب ما تدل عليه الأرقام على الخريطة:

- ١ مضيق جبل طارق
- ٢ بحيرة فيكتوريا
- ٣ ممر مائي قناة السويس
- ٤ دولة حبيبة بتسوانا

حل خرائط النموذج الثاني بالكتاب المدرسي



(ج) أمامك خريطة صماء لمصر وقع عليها ما يلي:

- ١ اسم الدولة المجاورة لمصر جنوبًا.
- ٢ خليج العقبة. ٣ حدين هندسيين.
- ٤ حدين طبيعيين.

حل خرائط النموذج الثالث بالكتاب المدرسي

(ج) أمامك عدد من الخرائط الخاصة بأشكال الدول المختلفة. صنف هذه الأشكال، أيهما أكثر أهمية في الجغرافيا السياسية؟ ولماذا؟



مدمج ذو بروز



محتواة



مجزأة بحرية



مستطيل



من الشمال للجنوب

مدمج

٠١١٤٠٣٥٣٧٤٧

أ/علي محمد عبدالله

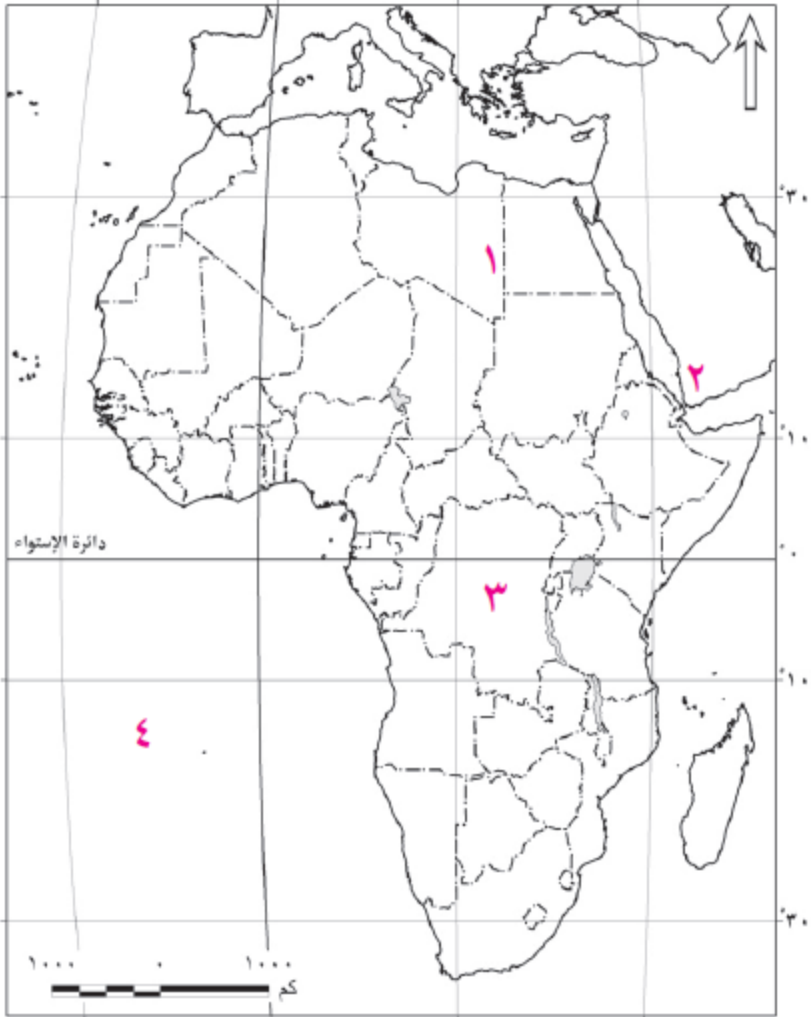
(ج) أمامك خريطة صماء لإفريقيا، اكتب ما تدل عليه الأرقام على الخريطة:

١ خط طول ... ٢٥... شرقا

٢ مضيق .. باب المنذب

٣ دولة ذات شكل مندمج ذو بروز .. الكونغو الديمقراطية

٤ المحيط الأطلنطي



حل خرائط النموذج الخامس
بالكتاب المدرسي

أ/علي محمد عبدالله

٠١١٤٠٣٥٣٧٤٧