

تم تحميل هذا الملف من موقع ملفات الكويت التعليمية



[com.kwedufiles.www//:https](https://www.kwedufiles.com)

*للحصول على أوراق عمل لجميع الصفوف وجميع المواد اضغط هنا

* للحصول على أوراق عمل لجميع مواد الصف السادس اضغط هنا

<https://kwedufiles.com/6>

* للحصول على جميع أوراق الصف السادس في مادة رياضيات وجميع الفصول, اضغط هنا

<https://kwedufiles.com/6math>

* للحصول على أوراق عمل لجميع مواد الصف السادس في مادة رياضيات الخاصة بـ الفصل الأول اضغط هنا

<https://www.kwedufiles.com/6math1>

* لتحميل كتب جميع المواد في جميع الفصول للـ الصف السادس اضغط هنا

<https://www.kwedufiles.com/grade6>

[bot_kwlinks/me.t//:https](https://t.me/bot_kwlinks)

للحصول على جميع روابط الصفوف على تلغرام وفيسبوك من قنوات وصفحات: اضغط هنا

الروابط التالية هي روابط الصف السادس على مواقع التواصل الاجتماعي

مجموعة الفيسبوك

صفحة الفيسبوك

مجموعة التلغرام

بوت التلغرام

قناة التلغرام

رياضيات على التلغرام

الفصل الدراسي الأول ٢٠٢٠/٢٠١٩ للاختبار التقييمي الأول

(١ - ٣) المتوسط الحسابي

(١) أوجد المتوسط الحسابي لمجموعة البيانات التالية :

٢ ، ٣ ، ٦ ، ٢ ، ٦ ، ٧ ، ٢

المتوسط الحسابي =

(٢) إذا كانت أسعار ٦ دراجات هوائية بالدينار الكويتي كالتالي :

١٤ ، ١٣ ، ١٣ ، ٩ ، ٢ ، ٩

أوجد :

المتوسط الحسابي =

(٣) من الجدول المقابل :

أوجد

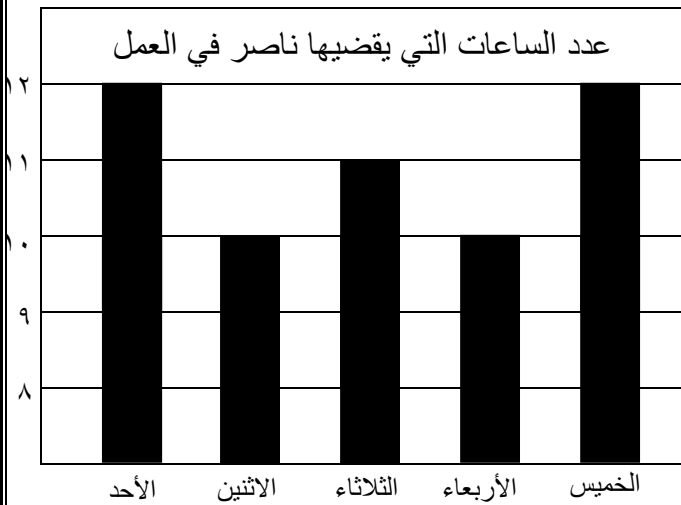
المتوسط الحسابي =

المبيعات بالساعة الواحدة بالدينار الكويتي	
١٥	المحل الأول
٧	المحل الثاني
١٢	المحل الثالث
٨	المحل الرابع
١٢	المحل الخامس

(٤) من التمثيل البياني المقابل :

أوجد

المتوسط الحسابي =




• إذا كانت المتوسط الحسابي لمجموعه من القيم هو ٧ ومجموع هذه القيم هو ٤٢ فإن عدد القيم يساوي :

- أ) ٣ ب) ٤ ج) ٥ د) ٦

(١ - ٥) قراءة التمثيلات البيانية بالأعمدة والمزدوجة وصنعها

استخدم البيانات الواردة في الجدول أدناه لتصنع تمثيلاً بيانياً بالأعمدة المزدوجة :

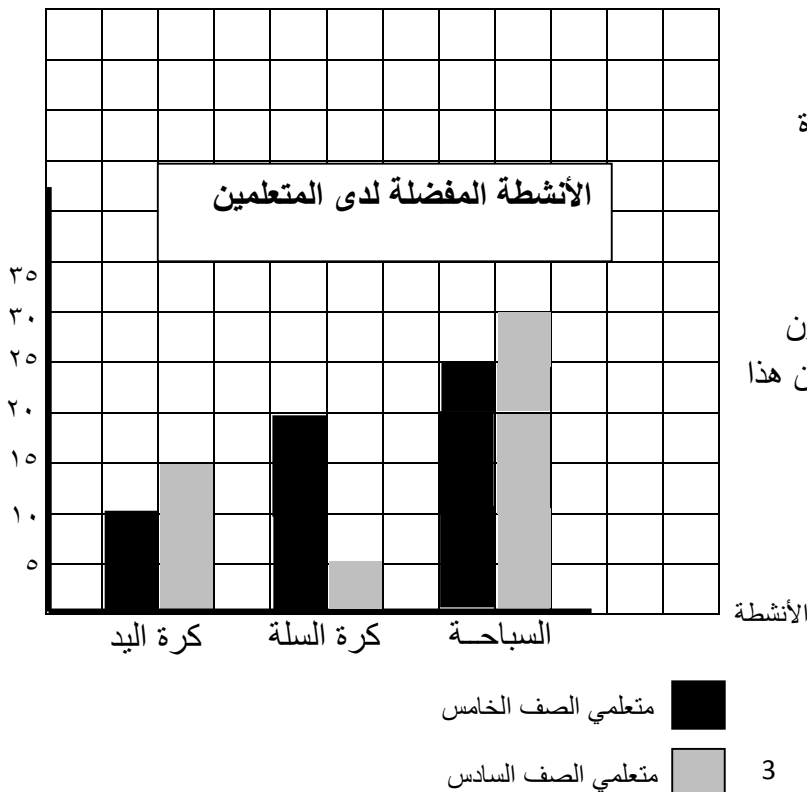


عدد الذين يقرؤون القرآن		
الفصل	قبل الظهر	بعد الظهر
سادس أول	٨	١٠
سادس ثاني	١٤	٦

استخدم التمثيل البياني بالأعمدة المزدوجة لتحل الأسئلة التالية :

ما هو النشاط الأكثر تفضيلاً لدى متعلمي الصف الخامس والسادس ؟


عدد المتعلمين



كم عدد متعلمي الصف الخامس الذين يفضلون كرة السلة ؟

بكم يزيد عدد متعلمي الصف السادس الذين يفضلون كرة اليد عن متعلمي الصف الخامس الذين يفضلون هذا النوع من النشاط ؟

استخدم البيانات الواردة في الجدول أدناه لتصنع تمثيلاً بيانياً بالأعمدة :



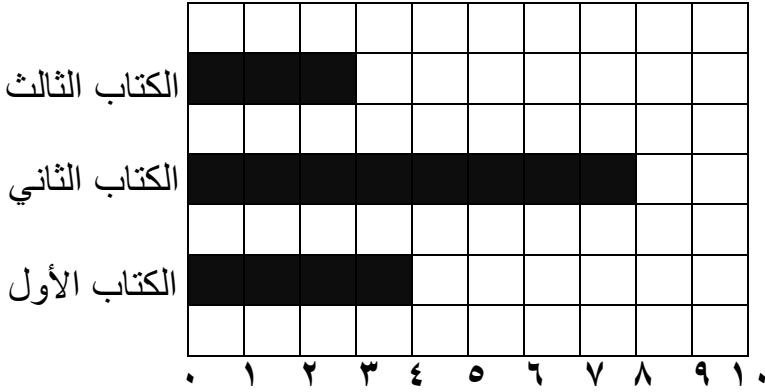
المسرح الحديث	
المدخول بالآف الدنانير	المسرحية
٤٠	سندريلا
٢٠	ليلي والذئب
٢٠	بياض الثلج
١٥	عازف

استخدم التمثيل البياني بالأعمدة فيما يلي

ثم أوجد :

(١) المدى =

(٢) ما هو مجموع ما تم إصداره
من الكتب الثلاثة ؟



(٦-٢) جمع الأعداد الكلية والعشرية

أوجد الناتج :

$$= ٢٣٤٨٧٠ + ١٤٦٠٥٨ (١)$$

$$= ١,٠٣ + ٣,١ (٢)$$

$$= ١٧,٠٣ + ٤,٢٢٨ (٣)$$

$$= ٣,١٥ + ١٢ (٤)$$

$$= ٢٤,٥ + ٥٠,٠٣ + ٠,٧١٨ (٥)$$

$$= ٢٤,٤ + ٠,٠٣ + ٢٣٥ (٦)$$

٧) الجدول يوضح انتاج النفط لبعض دول الخليج العربي بالمليون برميل يومياً عام ٢٠٠٦ .
أوجد مجموع انتاج الدول الثلاثة من النفط .

الدولة	انتاج النفط
السعودية	٩,٢
الكويت	٢,٦٤
البحرين	٠,١٨١

٨) عملت جماعة على رصف طريق فرصفت في اليوم الأول ١٢٧,٣ م وفي اليوم الثاني ٢٣٨ م وفي اليوم الثالث ٣٧٢,٤٧ م . أوجد ما رصف في الأيام الثلاثة .

(٧-٢) طرح الأعداد الكلية والأعداد العشرية

$$= ٦,٥٦ - ٧,٨٤ (١)$$

$$= ١,٧٩ - ٣,٤٥٢٧ (٢)$$

$$= ١٣,١٦٣ - ١٥ (٣)$$

(٤) مع خالد ١٧٩,٥ دينار. اشترى خالد احتياجاته بمبلغ ٨٦,٢٥ دينار . كم تبقى مع خالد ؟

(٥) إذا كانت راتب محمد ٥٤١,٧ دينار يصرف منها ١٢٠,٥ دينار ويوفر الباقي . أوجد ما يوفره شهرياً

(٣-٣) ضرب الأعداد العشرية

أوجد ناتج ما يلي :

$$(١) \quad = ٥٧ \times ٦.٤$$

$$(٢) \quad = ٠,٠٨ \times ٦$$

$$(٣) \quad = ١,٣ \times ٢,٨$$

$$(٤) \quad = ٢,٥ \times ٣,٢٥$$

$$(٥) \quad = ٠,٢٣ \times ٦,٢١$$

٦) دفع خالد ٤,٣٢ دينار ثمناً لكيلو جرام من اللحم ، فكم يدفع ثمن ٦ كيلوجرامات من اللحم ؟

٧) إذا كان سعر متر من القماش ١٠,٥ دينار ، فكم سعر ٧,٥ متر من نفس النوع ؟