

الإدارة العامة لمنطقة الأحمدى التعليمية

التوجيه الفني لمادة اللغة الإنجليزية

امتحان الصف السادس - نهاية الفترة الدراسية الأولى 2018/2019

المجال الدراسي : اللغة الإنجليزية

المفردات - الاستيعاب المقروء - القواعد - التعبير الكتابي - المحفوظات

Total (60 Marks)I- Reading (30 Marks)A- VOCABULARY (14 Marks)

14

a) From a, b, c and d choose the most suitable word that best completes the following sentences: (4 x 2 = 8 Ms.)

1. Some animals haveon their bodies to protect themselves.
 - a) **spikes**
 - b) spheres
 - c) problems
 - d) newspapers
2. While I was walking in the street, Ifell down and hurt my leg.
 - a) happily
 - b) **suddenly**
 - c) slowy
 - d) finally
3. I like to go to the beach in summer to swim andshells.
 - a) prefer
 - b) leave
 - c) **collect**
 - d) melt
4. Indians find spicy food more than other types of food.
 - a) dirty
 - b) exhausted
 - c) broken
 - d) **tasty**

b) Fill in the spaces with the most suitable words from the list: (4 x 1½ = 6Ms)
(soundly / browser / carefully / iceberg / show)

5. We all know that driving **carefully** helps us make our streets safe.
6. It is impossible to see a/an **iceberg** in Kuwait because of the hot weather.
7. Google Chrome is the fastest and easiest internet **browser** I have ever used.
8. The first step for a good health is to sleep **soundly** and early as possible as you can.

B- Reading Comprehension (16 marks)**Read the following passage carefully, then answer the questions below:**

16

Running is a very interesting sport. It doesn't need expensive equipment. All you need is a good pair of running shoes and a safe place that will make you both safe and happy while running. It's a sport that's good for your body and mind. It makes your heart, lungs, and muscles stronger. Running also gives you energy by helping you get more oxygen and **improves** your health so you don't get sick easily. It can even help you at school because exercise makes you think more clearly.

There are many running clubs open to all ages. They offer safe places specially for women who like to practise sports. A simple Internet search can help you find some in your area. You can also find useful programmes for runners. These programmes tell you how running can offer competitions or just be for fun. **They** also teach runners to set goals and take care of their bodies.

Runners have great respect for each other because they know how difficult the sport can be. Running isn't always about how fast you are or how far you're going. If you're looking for more than just a sport, running may be the perfect choice.

a) Choose the correct answer from a , b , c and d : (6 x 2 = 12Ms)

9. The best title for the passage could be:

a- **The Best Sport**

b- Famous Runners

c- The Hardest Activities

d- The Expensive Equipment

10. The word "**improves**" in paragraph (1) means to make something:

a- worse

b- harder

c- more difficult

d- **better**11. The pronoun "**they**" in paragraph (2) refers to:

a- women

b- **programmes**

b- clubs

d- competitions

12. Runners have respect for each other because they:

a- only think clearly

b- buy useful tools

c- **know the sport is difficult**

d- have their goals

13. According to the passage, those who use the Internet will be able to:

a- forget about doing sports

b- lose their ability to run

c- **find programs and competitions**

d- have only funny apps.

14. In this passage, the writer advises us to :

b- **practise running regularly**

b- only read about sports

c- enjoy watching runners on TV.

d- close the running clubs

b) Answer the following questions:- (2X2= 4 Ms)

15. What is needed for practising the sport of running?

All you need is a good pair of running shoes and a safe place.

16. According to the passage, how would your body be without doing sports?

Without doing sports my body would be weaker. (Any reasonable answer is accepted)

II- WRITING (30 Marks)

A) Grammar (11 Marks)

a) Cloze Test

8

Choose the correct answer between brackets: (4 x 2= 8 Ms)

17. My friend is a boy (**who** – which – what) always asks for help. He (call – **called** – is calling) me last night. He said "If you help me with my homework, I (**will** – would – could) get a present." At that time, I (did – do – **was doing**) my homework so I couldn't help him.

b) Transformation

Do as required between brackets: (2 x 1½= 3 Marks)

18. My grandfather used to be a fishermen.

(Make negative)

My grandfather didn't use to be a fisherman.

19. I x-rayed my leg in Al-Ahmadi Hospital yesterday.

(Ask a question)

When did you x-ray your leg?

Where did you x-ray your leg yesterday?


B) Writing (15 Marks)

“Kuwait is a wonderful country that has many interesting places.”

Plan and write one paragraph of not less than 8 sentences about **The Red Fort**.

The following guide words might help you:

place – Jahra City – big – rooms – floors - a yard – middle - enjoy



C- Spelling (4 Marks)

4

- **Correct the words in brackets (4x1= 4Ms):**

20- My little brother feels (**worerid**) before the exams.

worried

21- We heard a loud (**scaem**) in the street.

scream

22- Boats don't (**snik**) in water because they are made of wood.

sink

23- My brother is an engineer in a big (**factroy**)

factory

Best of Luck



وزارة

التربية

إجابة امتحان نهاية الفترة الدراسية الأولى

المجال الدراسي : (اجتماعيات)

الإدارة العامة لمنطقة الأحمدية التعليمية

الصف السابع المتوسط (الكويت والوطن العربي)

عدد الأوراق : (٤ صفحات)

التوجيه الفني للاجتماعيات

الزمن : ساعة وخمس وأربعون



السؤال الأول : (الموضوعي) يتكون من (١) اجابتي (أ) أكمل العبارات التالية بما يناسبها مما درست في الوحدة التالية (٦ درجات)

- ١- شرائع قانونية قديمة ظهرت في بلاد الرافدين من أهمها شريعةحمورابي.... ص ٨٤
- ٢- وزن الهواء فوق أي مكان يطلق عليهالضغط الجوي..... ص ٤٤
- ٣- حضارة سميت بلاد ما بين النهرين قديما ويطلق عليها حاليا اسم.....العراق.. ص ٧٩
- ٤- النبات الذي ينمو تلقائيا عقب سقوط المطر ودون تدخل من الانسان يسمىالنبات الطبيعي..... ص ٥١
- ٥- أكثر الأشكال التضاريسية انتشارا في الوطن العربي تسمىالهضاب..... ص ٤٠
- ٦- مساحة كبيرة من سطح الأرض تتميز باستوائها وقلة ارتفاعها تسمىسهول..... ص ٤٢

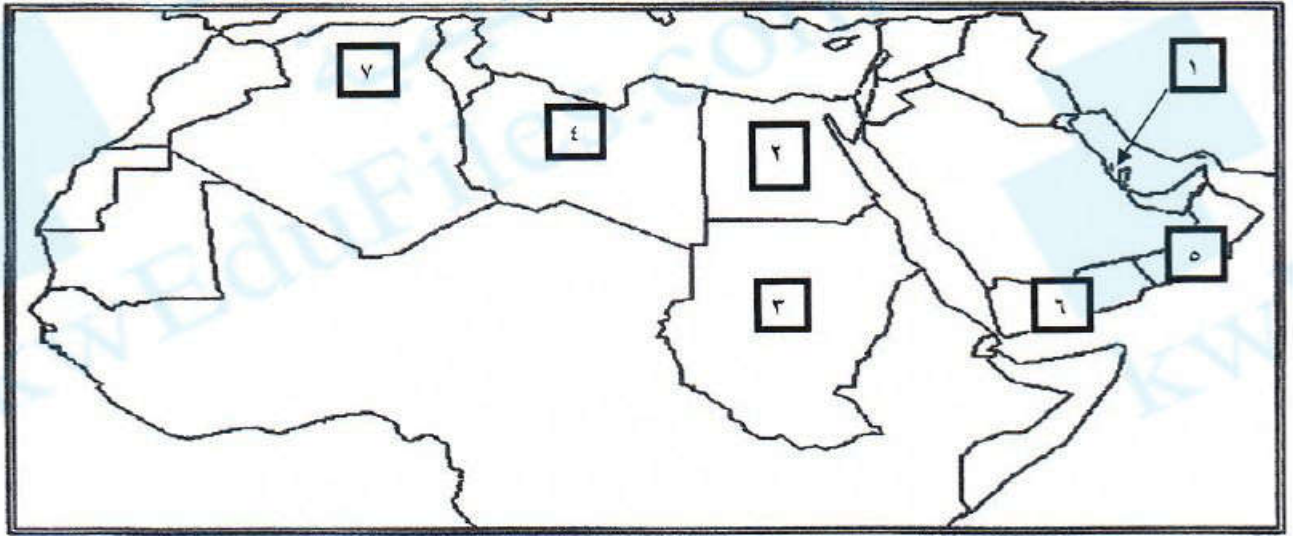
(ب) ضع خطا تحت الخيار الصحيح من بين الخيارات التي تلي كل عبارة : (١ x ٦ = ٦ درجات)

- ١- تبلغ مساحة الوطن العربي بالنسبة لمساحة العالم حوالي ص ٢٣
(١٠% - ٢٠% - ٣٠% - ٤٠%)
- ٢- أكثر الدول العربية إنتاجا للمياه المحلاة هي ص ٦٢
(قطر - الكويت - البحرين - ليبيا)
- ٣- أهم أشجار الغابات المدارية الحارة ص ٥٢
(البلوط - العرعر - السنديان - الساج)
- ٤- مضيق يصل بين الخليج العربي وخليج عمان يسمى ص ٢٩
(باب المندب - هرمز - جبل طارق - قناة السويس)
- ٥- جبل مرة يقع في دولة عربية هي ص ٣٨
(السودان - الجزائر - مصر - السعودية)
- ٦- أشهر ممالك اليمن القديمة وورد ذكرها في القرآن الكريم هي ص ٨٦
(حمير - سبأ - معين - مأرب)

(ج) صوب ما تحته خط في العبارات التالية : (١ x ٦ = ٦ درجات)

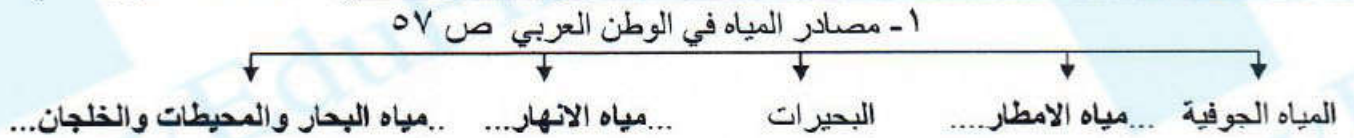
- ١- كل ما يطرأ على المجتمع من تقدم وتطور ورقي في جميع نواحي الحياة يطلق على الثقافة (...الحضارة...) ص ٧١
- ٢- حالة الجو خلال فترة زمنية طويلة من حيث درجة الحرارة والرطوبة والأمطار والرياح يطلق على الطقس (..المناخ..) ص ٤٤
- ٣- الرياح المحلية التي تهب على مصر تسمى الطوز (...الخماسين..) ص ٤٨
- ٤- المضيق الذي يفصل بين البحر المتوسط والمحيط الأطلسي يسمى باب لماندب (...جبل طارق...) ص ٢٩
- ٥- البحر الذي يفصل الجناح الآسيوي عن الجناح الأفريقي هو البحر الأبيض (...البحر الأحمر...) ص ٢٤
- ٦- الأراضي المنخفضة التي تكونت من التربة التي حملتها مياه الأنهار تسمى سهول ساحلية (...سهول فيضيه أو نهرية...) ص ٤٢

السؤال الثاني : (الموضوعي) يتكون من (أ - ب - ج)
(أ) لاحظ خريطة الوطن العربي ثم نفذ المطلوب منك : (١ x ٦ = ٦ درجات)



- ١- الجبل الأخضر الذي يقع في الجناح الآسيوي يمثله على الخريطة الرقم (٥) ص ٣٨
- ٢- الدولة التي تعتبر أصغر دولة عربية في الجناح الآسيوي يمثلها على الخريطة الرقم (...١...) ص ٢٣
- ٣- تعتبر الاهرامات مظهرا من مظاهر حضارة قديمة في الوطن العربي يمثلها على الخريطة الرقم (...٢...) ص ٧٢
- ٤- رياح الهبوب تهب على دولة في الجناح الافريقي يمثلها على الخريطة الرقم (...٣...) ص ٤٨
- ٥- الحضارة التي قامت في جنوب شبه الجزيرة العربية يمثلها على الخريطة الرقم (...٦...) ص ٧١
- ٦- نهر شليف يوجد في دولة عربية في الجناح الافريقي يمثله على الخريطة الرقم (...٧...) ص ٥٨

(ب) أكمل الفراغ في المخططات السهمية التالية بما يناسبها مما درست : (١ x ٥ = ٥ درجات)



٢- الديانات السماوية في الوطن العربي ص ٩٠



(ج) انسب الكلمات التالية إلى مكانها المناسب في الجدول التالي : (١ x ٧ = ٧ درجات)

أطلس - سبو - الشطوط - عسير - بادية الشام - نجد - ليبيا

سهول ص ٤٢	هضاب ص ٤٠	جبال ص ٣٨
سبو ليبيا	الشطوط بادية الشام - نجد	أطلس عسير

السؤال الثالث: (المقال) يتكون من (أ - ب - ج)
(أ) فرق بين كل مما يلي : (١ x ٢ = ٢ درجات)

حشائش المعتدلة	حشائش الحارة ص ٥٢
حشائش قصيرة تنمو في الشتاء خلال سقوط الامطار	حشائش طويلة يختلف نوعها حسب كمية الامطار

(ب) اكتب نقطتين فيما يلي : (١ x ٦ = ٦ درجات)

١- صفات المطر في الوطن العربي . ص ٥٩

- ...تذبذب كميتها بين عام وآخر....
- *....تقصر على الأطراف الشمالية والجنوبية منها....
- .. قليلة بصفة عامة

٢- أهم الحيوانات السائدة في الوطن العربي . ص ٥٥

- ...الابل ، الماعز ، الضب ، الارانب البرية * .. الحشرات كالجراد والعقارب والخنافس ...
- .. الطيور كالصقور واليوم والحباري *الزواحف كالأفاعي والحيوانات القارضة كالفتران والجربوع ...

٣- صادرات بلاد الرافدين مع بلدان الأقاليم المجاورة . ص ٨١

- ...المنتجات الزراعية.....
- *....المنسوجات وخاصة الصوفية منها.....

(ج) علل لما يلي : (١ x ٤ = ٤ درجات)

١- تؤثر التضاريس في المناخ بصورة مباشرة . ص ٤٦

-درجة الحرارة
-توزيع كمية الامطار

٢- أهمية الوطن العربي الاقتصادية . ص ٣٥ (يكتفى بنقطتين)

- ...منطقة عبور لحركة الملاحة والتجارة العالمية.....
- ...الجسر الذي يربط بين قارات العالم الثلاث (افريقيا ، اسيا ، أوروبا)
- ...سكان الوطن العربي يشكلون ٥% من سكان العالم
- .. ظهور النفط بكميات كبيرة في منطقة الخليج العربي وشبه الجزيرة العربية وبعض مناطق شمال أفريقيا .

السؤال الرابع : (المقال) يتكون من (أ - ب - ج)

(أ) اكتب فيما يلي مما درست : (١ x ٥ = ٥ درجات)

- ١- المقومات الأساسية للحضارة . ص ٧٣ (يكتفى بنقطتين)
 -الموقع الاستراتيجي..... *توافر مصادر المياه العذبة..... *اعتدال المناخ.....
 - ..توافر الثروات الطبيعية .. * ..توافر العنصر البشري ..
- ٢- كيفية المحافظة على الثروة المائية . ص ٦٣ (يكتفى بثلاث نقاط)
 - ..ترشيد استخدام المياه والحد من التبذير في المنازل ...
 -الحد من هدر المياه في عمليات الري ...
 - ..تنظيم عملية الاستفادة من المياه الجوفية ومنع تسرب الاملاح الملوثة اليها
 - ..تطوير استعمال مياه الصرف الصحي المعالجة في الزراعة ..
 - ..اقامة البحيرات والسدود لتجميع مياه الامطار والسيول للاستفادة منها في فصل الجفاف ..
 - ..توقيع اتفاقيات مع الدول المشاركة ودول المنبع ..

(ب) علل لما يلي : (١ x ٥ = ٥ درجات)

- ١- قامت دلمون وسط حضارات الشرق القديم . ص ٨٨
 -لموقعها وسط الخليج العربي.....
 -كانت مركزا مهما للمواصلات والتجارة البحرية بين البلدان المطلة على الخليج العربي والحضارات المجاورة لها ...
- ٢- انتقال الحضارة العربية الإسلامية الى أوروبا . ص ٩٢
 -لانتشار مراكز الاشعاع مثل بلاد الاندلس وصقلية والاحتلال الصليبي لبلاد الشام ..
- ٣- منطقة جنوب غرب شبه الجزيرة العربية ملائمة لقيام الحضارة . ص ٨٥ (يكتفى بنقطتين)
 -توافر المياه العذبة.....
 - المناخ المناسب لقيام الزراعة.....
 - .. الموقع الذي يسمح لقيام النشاط التجاري ..

(ج) عرف المفاهيم التالية : (١ x ٢ = ٢ درجات)

- ١- مياه جوفية : ... هي المياه التي توجد في جوف الأرض (باطن الأرض) ص ٦٠
- ٢- وطن عربي : ..مجموعة من الدول العربية التي يجمعها عدد من السمات المشتركة الدين واللغة ويمتد ضمن قارتين من أكبر قارات العالم مساحة ... ص ٢٢

المجال : رياضيات

الزمن : ساعتين

عدد الأوراق : ٦

امتحان نهاية الفترة الدراسية الأولى

الصف الثامن (نموذج اجابتة)

للعام الدراسي ١٤١٧ هـ



وزارة التربية

الإدارة العامة لمنطقة الأحمدى التعليمية

التوجيه الفني للرياضيات

تراعى الحلول الأخرى في جميع الأسئلة

أولاً : الأسئلة المقالية :

السؤال الأول : (أ) إذا كانت : $S = \{A : A \in P, A \text{ عدد زوجي أصغر من } 7\}$ ،

$$S = \{2, 4, 6\}$$

أولاً : اكتب S بطريقة ذكر العناصر. ثانياً : هل $S \supseteq S$ ؟ ولماذا ؟

درجة $S = \{0, 2, 4, 6\}$

$S \not\subseteq S$ لأن $0 \in S$ ، لكن $0 \notin S$ درجتين

(ب) أوجد الناتج في أبسط صورة : $(1 \frac{1}{11} + 7 \frac{1}{7}) - 14 \frac{4}{5}$

درجة $(1 \frac{1}{11} + 7 \frac{5}{11}) - 14 \frac{4}{5} =$

درجة $8 \frac{6}{11} - 14 \frac{4}{5} =$

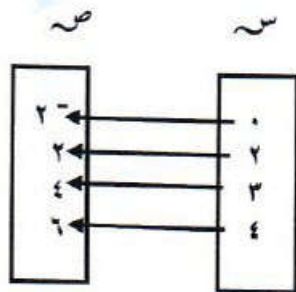
درجة $6 \frac{1}{5} = 6 \frac{2}{11} = 8 \frac{6}{11} - 14 \frac{4}{5} =$
درجة نصف درجة نصف درجة

(ج) إذا كانت : $S = \{0, 2, 3, 4\}$ ، $S = \{2^-, 2, 4, 6\}$ ، وكانت تطبيقاً معرفاً كما يلي :

ت : $S \leftarrow S$ ، حيث : $T = (S) \text{ س } 2 - 2$

(١) أكمل الجدول ، ثم أوجد مدى التطبيق .

(٢) ارسم مخطط سهمي للتطبيق .



الجدول
الرسم
المدى
درجتين
درجتين
درجة

س	٠	٢	٣	٤
٢ - ٢	$2 - (0)2$	$2 - (2)2$	$2 - (3)2$	$2 - (4)2$
ت(س)	٢ -	٢	٤	٦

المدى $\{2^-, 2, 4, 6\}$

السؤال الثاني :

(أ) أوجد :

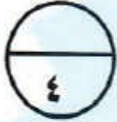

$$\sqrt{1,96}$$

درجة درجة

$$\begin{array}{r|l} 2 & 196 \\ 2 & 98 \\ 7 & 49 \\ 7 & 7 \\ & 1 \end{array}$$

$$1,4 = \frac{14}{10} = \frac{196}{100} = \sqrt{1,96}$$

نصف درجة نصف درجة درجة



(ب) إذا كانت : ع = { أ : أ عدد فردي محصور بين ٢ ، ٦ } ، ل = { ٣ ، ٠ } ، م = { ٥ ، ٣ ، ١ } . أوجد بذكر العناصر كلاً من :



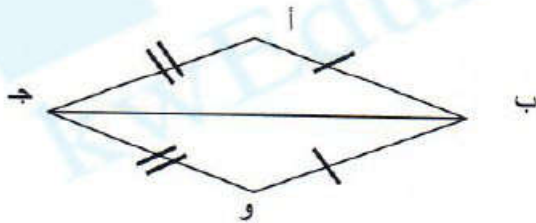
درجة ع = { ٥ ، ٣ } =

درجة ع ∪ ل = { ٥ ، ٣ ، ٠ } =

درجة ع ∩ ل ∩ م = { ٣ } =

(ج) في الشكل المقابل : أب ≈ وب ، أج ≈ وج . اثبت أن : Δ أبج ≈ Δ وبج .

البرهان :



Δ أبج ، Δ وبج فيهما :

أب ≈ وب معطى درجة

أج ≈ وج معطى درجة

بج ضلع مشترك درجة

∴ Δ أبج ≈ Δ وبج بحالة (ض.ض.ض) درجتين



السؤال الثالث :-

(أ) يبلغ ثمن شراء ٣ بطاريات ٢٤٠ فلسا . فما ثمن شراء ٥ بطاريات من النوع نفسه ؟

لنفرض أن ثمن البطاريات هو س

درجة

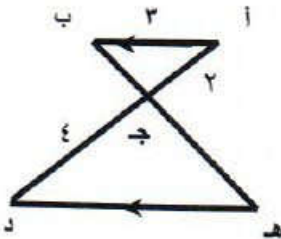
$$\frac{240}{س} = \frac{3}{5}$$

درجة + درجة + درجة اختصار

$$٤٠٠ = \frac{٢٤٠ \times ٥}{٣} = س$$

إذا ثمن شراء ٥ بطاريات يساوي ٤٠٠ فلسا

(ب) في الشكل المقابل : $\overline{أب} // \overline{هد}$ ، $أج = ٢$ وحدة طول ، $أب = ٣$ وحدة طول ، $جد = ٤$ وحدة طول.



(٢) أوجد هـ د

(١) أثبت أن : $\triangle أ ب ج \sim \triangle د ج هـ$

درجة

$\hat{أ} // \hat{د}$ ، $\hat{ب} // \hat{هـ}$ بالتوازي والتبادل

درجة

$\triangle أ ب ج \sim \triangle د ج هـ$. تطابقت زاويتان

درجة

\therefore أطوال الأضلاع المتناظرة متناسبة .

$$\frac{أ ب}{هـ د} = \frac{ب ج}{ج هـ} = \frac{ج أ}{د هـ}$$

$$\frac{٣}{٣} = \frac{٢}{٢} = \frac{٤}{٤}$$

درجة

درجة

$$\therefore هـ د = \frac{٣ \times ٤}{٢} = ٦ \text{ وحدة طول}$$

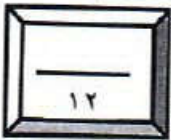
(ج) أوجد ٥ % من ٥٠٠ دينار.

درجتين

$$٥٠٠ \times \frac{٥}{١٠٠}$$

درجة

$$= ٢٥ \text{ دينار}$$



السؤال الرابع :

(أ) أوجد ناتج ما يلي في أبسط صورة :

$$\left(0, 4^{-} \right) \div 3 \frac{1}{5}$$

درجة

$$\left(\frac{2}{5}^{-} \right) \div 3 \frac{1}{5} =$$

درجة + درجة اختصار

$$\frac{5}{2}^{-} \times \frac{16}{5} =$$

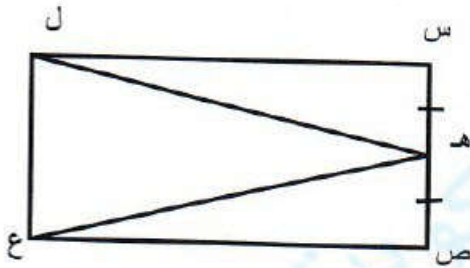


درجة

$$8^{-} =$$

(ب) في الشكل المقابل : س ص ع ل مستطيل ، هـ منتصف س ص .

أثبت بالبرهان أن : هـ ل \cong هـ ع



البرهان :

Δ ل س هـ ، Δ ع ص هـ فيهما :

ل س \cong ع ص من خواص المستطيل (درجة)

(س) \cong (ص) من خواص المستطيل (درجة)

هـ س \cong هـ ص معطى (نصف درجة)

$\therefore \Delta$ ل س هـ \cong Δ ع ص هـ بحالة (ض. ز. ض) (درجة)

وينتج من التطابق أن :

$$\overline{هـ ل} \cong \overline{هـ ع}$$

(نصف درجة)



(ج) لمجموعة البيانات التالية : ٦ ، ٦ ، ٧ ، ٥ ، ٧ ، ٦ ، ٨ ، ٧ ، ٩ ، ٩

كون جدول تكراري (بسيط) . ثم أوجد المتوسط الحسابي .

الجدول درجة ونصف

القيمة	٥	٦	٧	٨	٩	المجموع
التكرار	١	٣	٣	١	٢	١٠

درجتين

$$\text{المتوسط الحسابي} = \frac{(9 \times 2) + (8 \times 1) + (7 \times 3) + (6 \times 3) + (5 \times 1)}{10}$$

نصف درجة

$$7 = \frac{70}{10} =$$

ثانيا : الأسئلة الموضوعية :

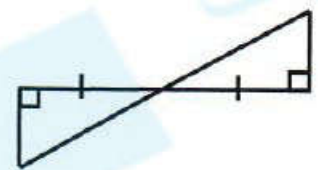
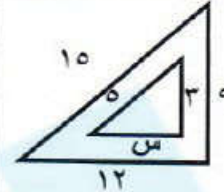
السؤال الخامس :

أولا : في البنود (١ - ٤) ظلل في جدول الإجابة (أ) إذا كانت العبارة صحيحة و (ب) إذا كانت العبارة غير صحيحة :

١	إذا كانت $E = \{a : a \geq 1, a > 1\}$ ، فإن E مجموعة خالية	(أ)	(ب)
٢	الأعداد : $0, 0, \bar{0}, 0, \frac{1}{0}$ مرتبة ترتيبا تصاعديا .	(أ)	(ب)
٣	في الشكل المرسوم : $\Delta L N \sim \Delta M N H$	(أ)	(ب)
٤	في التمثيل البياني المرسوم : إذا كان الدخل الشهري لاسرة ١٥٠٠ دينار . فإن ما تدخره شهريا يساوي ٣٠٠ دينار	(أ)	(ب)

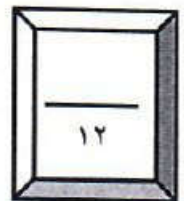
ثانيا : في البنود (٥-١٢) لكل سؤال أربع اختيارات إحداها فقط صحيحة ظلل دائرة الرمز الدالة عليها في الجزء المخصص للإجابة :-

٥	إذا كانت $E =$ مجموعة العوامل الموجبة للعدد ٨ ، فإن العبارة الصحيحة فيما يلي هي :	(أ) $E \ni 2$	(ب) $E \supseteq \{2\}$	(ج) $E \ni 16$	(د) $E \supseteq 4$
٦	$= \left(\frac{4}{9} + \frac{2}{9} \right) \times \frac{1}{4} -$	(أ) $\frac{1}{4}$	(ب) $\frac{2}{3}$	(ج) 3	(د) $\frac{1}{3}$
٧	$= \sqrt[3]{0,008}$	(أ) $0,2$	(ب) $0,02$	(ج) $0,8$	(د) 2

٨	<p>إذا كانت : $S = \{3, 5\}$ ، $V = \{6\}$ فإن : $(3, 6) \in$</p> <p>أ) $S \times S$ ب) $S \cup V$ ج) $S \cap V$ د) $S \times V$</p>									
٩	<p>في الشكل المرسوم : المثلثان متطابقان في حالة :</p>  <p>أ) (ض.ز.ض) ب) (ز.ض.ز) ج) (Δ و.ض) د) (ض.ض.ض)</p>									
١٠	<p>قيمة س في التناسب : $\frac{3}{9} = \frac{س}{6}$ تساوي</p> <p>أ) ١٢ ب) ٣ ج) ٢ د) ١٨</p>									
١١	<p>في مخطط الساق والاوراق المقابل : المنوال هو ..</p> <table border="1" data-bbox="111 851 287 1030"> <tr> <td>الاوراق</td> <td>الساق</td> </tr> <tr> <td>١</td> <td>٢٣</td> </tr> <tr> <td>٢</td> <td>٢٦</td> </tr> <tr> <td>٣</td> <td>٠٤٤</td> </tr> </table> <p>أ) ٣٤ ب) ٤٣ ج) ٤٤ د) ٢٢</p>	الاوراق	الساق	١	٢٣	٢	٢٦	٣	٠٤٤	
الاوراق	الساق									
١	٢٣									
٢	٢٦									
٣	٠٤٤									
١٢	<p>في الشكل المرسوم ويحسب المعطيات ، فإن قيمة س التي تجعل المثلثان متشابهان هي :</p>  <p>أ) ٣ ب) ٤ ج) ٥ د) ٦</p>									

جدول اجابة السؤال الموضوعي :

الإجابة		رقم السؤال
<input type="radio"/>	<input type="radio"/>	(١) أ
<input type="radio"/>	<input type="radio"/>	(٢) أ
<input type="radio"/>	<input type="radio"/>	(٣) ب
<input type="radio"/>	<input type="radio"/>	(٤) أ
<input type="radio"/>	<input type="radio"/>	(٥) أ
<input type="radio"/>	<input type="radio"/>	(٦) ب
<input type="radio"/>	<input type="radio"/>	(٧) ب
<input type="radio"/>	<input type="radio"/>	(٨) أ
<input type="radio"/>	<input type="radio"/>	(٩) أ
<input type="radio"/>	<input type="radio"/>	(١٠) ب
<input type="radio"/>	<input type="radio"/>	(١١) ب
<input type="radio"/>	<input type="radio"/>	(١٢) أ



مع تمنياتنا لكم بالتوفيق ،،



الصف : التاسع
عدد الأوراق : ٧
الدرجة : ستون
الزمن : ساعة ونصف

وزارة التربية
الإدارة العامة لمنطقة الأحمدية التعليمية
التوجيه الفني للتربية الإسلامية

امتحان نهاية الفترة الدراسية الأولى
لمادة التربية الإسلامية للصف التاسع
للعام الدراسي (١٩٧٢ / ١٩٧٣)
(نموذج الإجابة)

ملحوظة : تأكد أن عدد الأوراق (٧) مختلفة كما يجب عن إجماع الأسئلة الآتية .

السؤال الأول : في مجال حفظ الحديث الشريف : (١٠ درجات)
مما تقرر عليك حفظه أكمل كتابة الأحاديث الشريفة الآتية إلى آخرها :

أ) قال رسول الله - ﷺ - : " إذا مات الإنسان انقطع عمله إلا من ثلاث : صدقة جارية ، وعلم ينتفع به ، وولد صالح يدعو له " ص ١٩

٣

ب) قال رسول الله - ﷺ - : " من سره أن ينظر إلى شهيد يمشي على وجه الأرض فلينظر إلى طلحة بن عبيد الله " ص ٨٥

٣

ج) فرض رسول الله - ﷺ - زكاة الفطر صاعاً من تمر أو صاعاً من شعير على العبد والحر والذكر والأنثى والصغير والكبير من المسلمين ، وأمر بها أن تؤدى قبل خروج الناس إلى الصلاة " ص ١٠٧

٤

السؤال الثاني : في مجال العقيدة : (٩ درجات)

(أ) أكمل المخططات السهمية الآتية بما يناسبها من كلمات :

١- من الذنوب التي يُعذب عليها العصاة في القبر : ص ١٨

الكذب / الزنا / أكل الربوا / إيذاء الناس بالغيبة والنميمة / عدم التنزه من التبول / السيرقة

٢- ما ينتفع به الميت بعد موته : ص ١٩

الصلاة عليه / الدعاء له بعد دفنه مباشرة بالثنيب / الصدقة الجارية / الصدقة من الأبناء - الدعاء والأستغفار من سائر المسلمين / رباطه في سبيل الله تعالى في الدنيا .

٣- من أحوال الكفار والمشركين يوم القيامة : ص ٣٦

إزريق وجوه الكفار / عضي الكفار أيديهم / كفر المتبوع بالتابع / تبرؤ الملائكة من المشركين / عجز الأوثان عن نصره الكفار .

(ب) ضع علامة (√) مقابل العبارة الصحيحة و علامة (X) مقابل العبارة غير الصحيحة فيما يأتي:

١- إحياء الأموات يوم القيامة يسمى بالحشر. (X) ص ٢٨

٢- يكرم الله تعالى يوم القيامة أهل الجنة بالنظر إلى وجهه الكريم. (√) ص ٣٤

٣- من الذين يظلمهم الله يوم القيامة في ظله يوم لا ظل إلا ظله شاب نشأ في عبادة الله ، (√) ص ٣٣

(ج) اختر المكمل الصحيح من بين القوسين بوضع خط تحته فيما يأتي :

١- طول يوم القيامة بالسنين :

(أربعون ألفا - خمسون ألفا - ستون ألفا) ص ٣١

٢- يحشر الناس يوم القيامة على أرض :

(حمراء - عوجاء - بيضاء) ص ٣٠

٣- من الثلاثة الذين لا ينظر الله - عزوجل - إليهم يوم القيامة:

(العاق لوالديه - الكذاب - مانع الزكاة) ص ٣٦

تابع / اجابة امتحان نهاية الفترة الاولى- نمادة التربية الإسلامية - الصف التاسع - للعام الدراسي ٢٠١٨/٢٠١٩ م

السؤال الثالث : في مجال فهم الحديث الشريف (٦ درجات)

*- عن جندب بن عبدالله - رضي الله عنه - يقول : قال رسول الله - ﷺ - : "من صلى الصبح فهو في ذمة الله فلا يطلبنكم الله ذمته بشي ، فيدركه ، فيكبه في نار جهنم " ص ٥٥
(أ) اقرأ الحديث الشريف السابق ثم أكمل العبارات الآتية بما يناسبها :

١- صلاة الفجر تشهدها ...الملائكة . ص ٥٦

٢- من طرق المحافظة على صلاة الفجر*/إخلاص النية لله تعالى / الإبتعاد عن السهر / الاستعانة بوسائل الإيقاظ / الحرص على الطهارة وقراءة الأذكار . ص ٥٧

٣- المحافظة على صلاة الفجر لها آثار عديدة منها .. */القرب من الله / الشعور بالطمأنينة والخشوع / تحسين عمل القلب / إزالة العصبية والتوتر / اكتساب اللياقة البدنية والذهنية / تقوية البدن وزيادة المناعة / اكتساب الصفات الخلفية . ص ٥٧

عن عائشة - رضي الله عنها - قالت : قال رسول الله - ﷺ - : "من أحدث في أمرنا هذا ما ليس منه فهو رد " ص ٦٦

(ب) ضع علامة صح (√) مقابل العبارة الصحيحة وعلامة خطأ (x) مقابل العبارة غير الصحيحة فيما يأتي : ص ٦٨

١- البدعة : هي كل جديد مخترع في الدين مخالف للشريعة . (√)

٢- البدعة تنقسم إلى قسمين بدعة حسنة وبدعة سيئة . (x)

٣- البدعة من أهم أسباب التفرق والاختلاف في المجتمعات . (√)

السؤال الرابع : في مجال السيرة النبوية (٩ درجات)

(أ) اختر الإجابة الصحيحة من بين القوسين بوضع خط تحتها فيما يأتي:

١- وقعت غزوة أحد في السنة : ص ٨٠

(الثانية للهجرة - الثالثة للهجرة - التاسعة للهجرة)

٢- أول نصر للمسلمين على المشركين كان في غزوة : ص ٧٨

(بدر - تبوك - حنين)

٣- كان يلقب بزعيم المنافقين : ص ٨١

(أبو جهل - أبو لهب - عبدالله بن أبي بن سلول)

(ب) علل ما يأتي .

١ - نزول الرماة إلى ميدان المعركة في غزوة أحد . ص ٨٤
شاهدوا إخوانهم انتصروا وأخذوا يجمعون الغنائم . فأرادوا النزول لأخذ الغنائم .

٣

٢- انسحاب زعيم المنافقين ومن معه من الجيش في غزوة أحد . ص ٨١
حتى يحدث البلبلة والاضطراب في جيش المسلمين ومتظاهرا بأن الرسول - ﷺ - لم يأخذ برأيه في المعركة.

٣ - عفو الرسول - صلى الله عليه وسلم - عن هند زوجة أبي سفيان في فتح مكة . ص ٩٣
بسبب بيعتها وإسلامها .

(ج) حدد دور كل من الصحابة الكرام الآتية أسماؤهم في غزوات المسلمين :

١- عبدالله بن جبير - ﷺ - في (غزوة أحد) قائد الرماة على جبل أحد ص ٨٤ .

٢- مصعب بن عمير - ﷺ - في (غزوة أحد) حامل اللواء واخذ يدافع عن الرسول الكريم حتى تقطعت يده . ص ٨٦

٣- الحباب بن المنذر - ﷺ - في (غزوة بدر) أشار على الرسول الكريم ان يتقدم وينزل على أقرب ماء من العدو حتى يصنع المسلمون حياضا يجمعون فيها الماء لأنفسهم ثم يغفرون الآبار فيبقى العدو ولأمامه لديه . ص ٧٦

٤- السؤال الخامس : في مجال الفقه (٩ درجات)

(أ) ضع علامة (√) مقابل العبارة الصحيحة و علامة (x) مقابل العبارة غير الصحيحة فيما يأتي:

- ١- من فوائد الزكاة أنها تعود الفرد على البذل والعطاء. (√) ص ١٠٥
- ٢- من الأموال التي تجب فيها الزكاة الزروع والثمار. (√) ص ١٠٦
- ٣- حكم زكاة الفطر مستحبة . (x) ص ١٠٧

٣

(ب) أراد شخص أداء فريضة الزكاة تقربا إلى الله - تعالى - ولكنه لا يعلم ما هي شروط وجوبها ، حاول مساعدته مبينا له شروط وجوب الزكاة من خلال كتابتها في الدوائر التي أمامك :

ص ١١١ و ١١٢

دوران الحول

النية ، الإسلام ، ملك
النصاب

أن يكون المال مملوكا
لصاحبه ملكا تاما

٣

(ج) اكتب الحكم الشرعي (يجوز / لا يجوز) فيما يأتي مع ذكر السبب :

٣

١- امتنع شخص عن أداء الزكاة بخلا وتهاونا منه .

الحكم : -----لايجوز-----

السبب : -----يعتبر عاص لأوامر الله تعالى

ولا يكفر ومرتكب كبيرة من الكبائر . ص ١٠٥

٢- امتنع شخص عن إخراج الزكاة جاحدا لها .

الحكم : -----لايجوز-----

السبب : -----كافر خرج عن ملة الإسلام

لأنه أنكر معلوما من الدين بالضرورة . ص ١٠٥

٣- أخرج مسلم زكاة الفطر قبل صلاة العيد . ص ١٠٧

الحكم : -----يجوز-----

السبب : -----لأنه تم إخراجها في الوقت المعلوم .

السؤال السادس : في مجال التهذيب (٩ درجات)

(أ) قارن بين كل مما يأتي :

وجه المقارنة	حسن الظن	سوء الظن
التعريف	اعتقاد جانب الخير وترجيحه على جانب الشر فيما يحتمل الأمرين معا . (درجة واحدة)	اعتقاد جانب الشر وترجيحه على جانب الخير فيما يحتمل الأمرين معا . (درجة واحدة)
أقسامه	حسن الظن بالله تعالى حسن الظن بالمؤمنين ص ١١٧ (نصف درجة)	سوء الظن بالله تعالى سوء الظن بالمسلمين ص ١٢٠ (نصف درجة)

٣

(ب) أجب عما يأتي :

١- من آداب العمل . ص ١٢٥ و ١٢٦
*/حسن النية في التجارة ، العمل لا يمنع من أداء الفرائض ، أن يلزم ذكر الله تعالى ، أن يطلب الحلال ويبتعد عن الحرام ، البعد عن البيع بالغش ، ان يتجنب تأخير المعاملات وتأجيل أصحاب الحاجة ----- و ----- تجنب التكسب عن طريق الربا والميسر وكل المحرمات .

٢- من أهم الصفات المميزة لاختيار القدوة الصالحة .
-----الصدق ----- و الحياء ----- ص ص ١٣٢ و ١٣٣

٣- عرف البطالة .

*- ترك العمل مع القدرة عليه ص ١٢٨ -----

(ج) قال تعالى : (لقد كان لكم في رسول الله أسوة حسنة) :

*- أستخرج من الآية الكريمة السابقة قيمة ثم حدد مظهرها سلوكيا لها :
*-القيمة :القدوة الحسنة ص ١٣١

*- المظهر السلوكي : أقتدى بالرسول - ﷺ - في جميع أموري. (أو أي معنى قريب من ذلك)

*- (أكمل) : يعرض الظالم على يديه يوم القيامة لشعوره بـ ..الندم والحسرة ص ١٣٥

السؤال السابع : في مجال الثقافة الإسلامية (٨ درجات) ص ١٥٠

(أ) ضع علامة (√) مقابل العبارة الصحيحة و علامة (x) مقابل العبارة غير الصحيحة فيما يأتي:

١- الإسلام صالح لكل زمان ومكان . (√)

٢- الإسلام لا يشبع حاجات الإنسان الفطرية . (x)

٣- الإسلام شامل لجميع جوانب الحياة . (√)

٤- الإسلام مبني على التوسط والاعتدال في بعض الأمور . (x)

تابع / إجابة امتحان نهاية الفترة الأولى- لمادة التربية الإسلامية - الصف التاسع - للعام الدراسي ٢٠١٨/٢٠١٩م

٤

(ب) ضع الرقم المناسب من المجموعة (أ) وما يناسبه من المجموعة (ب) فيما يأتي :

م	المجموعة (أ)	الرقم	المجموعة (ب)
١	تحريم الخمر	٣	الحفاظ على الدين ص ١٤٢
٢	الحجاب الشرعي للمرأة	٢	الحفاظ على العرض ص ١٤٣
٣	الجهاد في سبيل الله	١	الحفاظ على العقل ص ١٤٤
٤	تحريم السرقة	٤	الحفاظ على المال ص ١٤٤
		—	الحفاظ على النفس ص ١٤٢

انتهت الإجابة والله الموفق،،