

الرياضيات

الفصل الدراسي الثالث
الثاني عشر متقدم

طريقك

192 سؤال

الأبوة

RA

amanahj.com/ae

by.sabry 0566626001

الأستاذ / هلال حسين

2020/2019



السؤال الأول:- اختر الإجابة الصحيحة

1) $\int \left(3 \sqrt{x} + \frac{2}{x^2} \right) dx =$

(a) $3\sqrt{x^3} - \frac{2}{x} + c$

(b) $2\sqrt{x^3} + \frac{2}{x} + c$

(c) $3\sqrt{x^3} - \frac{3}{x} + c$

(d) $2\sqrt{x^3} - \frac{2}{x} + c$ ✓

2) $\int (3x^2 - e^4x + \sec 25^\circ) dx =$

(a) $x^3 - \frac{1}{2}e^4x^2 - (\sec 25^\circ)x + c$

(b) $x^3 - \frac{1}{2}e^4x^2 + (\sec 25^\circ)x + c$

(c) $x^3 + 2e^4x^2 + (\sec 25^\circ)x + c$

(d) $4x^3 - \frac{1}{2}e^4x^2 - (\sec 25^\circ)x + c$

التصريف أثناء الغضب كالإبحار خلال العاصفة.



Hilal Husssein Ahmed

$$3) \int \left(x - \frac{1}{x}\right)^2 dx =$$

$$(a) \frac{x^3}{3} - 4x - \frac{1}{x} + c$$

$$(b) \frac{x^3}{6} - 2x - \frac{1}{x} + c$$

$$(c) \frac{x^3}{3} + 2x + \frac{1}{x} + c$$

$$(d) \frac{x^3}{3} - 2x - \frac{1}{x} + c$$

$$4) \int \frac{4x^2 - 9}{2x + 3} dx =$$

$$(a) x^2 - 3x + c$$

$$(b) x^2 + 3x + c$$

$$(c) 2x^2 - 3x + c$$

$$(d) x^2 - 9x + c$$

$$5) \int \tan \frac{x}{3} dx =$$

$$(a) 3 \ln \left| \sec \left(\frac{2x}{3} \right) \right| + c$$

$$(b) 3 \ln \left| \cos \left(\frac{x}{3} \right) \right| + c$$

$$(c) 3 \ln \left| \sec \left(\frac{x}{3} \right) \right| + c$$

$$(d) 3 \ln \left| \sin \left(\frac{x}{3} \right) \right| + c$$

اتق الله حيثما كنت.



$$6) \int \sqrt{x} (x + 2)^2 dx =$$

$$(a) \frac{2}{7}x^{7/2} + \frac{8}{5}x^{5/2} + \frac{8}{3}x^{3/2} + c$$

$$(b) \frac{2}{7}x^{7/2} + \frac{8}{3}x^{5/2} + \frac{8}{5}x^{3/2} + c$$

$$(c) \frac{3}{7}x^{7/2} - \frac{8}{5}x^{5/2} + \frac{8}{3}x^{3/2} + c$$

$$(d) \frac{2}{7}x^{7/2} - \frac{8}{5}x^{5/2} - \frac{8}{3}x^{5/2} + c$$

$$7) \int_{-5}^5 (8x^3 + 3x^2 - 4x) dx =$$

$$(a) \int_{-5}^5 (8x^3 - 4x) dx + 2 \int_0^5 3x^2 dx$$

$$(b) \int_{-5}^5 (8x^3 - 4x) dx + 4 \int_0^5 3x^2 dx$$

$$(c) \int_{-5}^5 (8x^3 - 4x) dx + 2 \int_0^5 3x^2 dx$$

السفر ميزان الأخلاق



$$(d) \int_{-5}^5 (8x^3 + 4x)dx + 8 \int_0^5 3x^2 dx$$

$$8) \int \sec x(\sec x + \tan x) dx =$$

- (a) $\tan x - \sec x + c$ (b) $\tan x + \cos x + c$
 (c) $\tan x + \sec x + c$ (d) $\tan x + \sin x + c$

$$9) \int \ln(ax)dx =$$

- (a) $x \ln(ax) - 2x + c$ (b) $x \ln(ax) - x + c$
 (c) $\ln(ax) - x + c$ (d) $\ln(ax) + x + c$

$$10) \int a^x dx = \frac{a^x}{\ln a} + c$$

- (a) $\frac{a^x}{\ln a} + c$ (b) $\frac{xa^x}{\ln a} + c$
 (c) $\frac{a^x}{\ln x} + c$ (d) $\frac{a^x}{x} + c$

اثنان يذهبان ضياعاً: عقل بلا دين، ومال بلا بذل.



$$11) \int 3\sin^2 x \cos x \, dx =$$

(a) $\frac{1}{3}\sin^3 x + c$ (b) $\sin^2 x + c$

(c) $\cos^3 x + c$ (d) $\sin^3 x + c$

$$12) \int \frac{x^4}{x^5 + e^2} \, dx =$$

(a) $\frac{1}{4}\ln|x^5 + e^2| + c$ (b) $\frac{2}{5}\ln|x^5 + e^2| + c$

(c) $\frac{1}{5}\ln|x^5 + e^2| + c$ (d) $\frac{3}{5}\ln|x^5 + e^2| + c$

$$13) \int x^3 \sqrt{3 - 6x^2} \, dx =$$

(a) $-\frac{1}{16}(3 - 6x^2)^{4/3} + c$ (b) $\frac{1}{16}(3 - 6x^2)^{4/3} + c$

(c) $-\frac{x}{8}(3 - 6x^2)^{4/3} + c$ (d) $-\frac{x}{16}(3 - 6x^2)^{4/3} + c$

أجود الناس من جاد من قلة، وصان وجه السائل عن المذلة.



$$14) \int \frac{3}{16 + x^2} dx$$

$$a) \frac{4}{3} \tan^{-1} \left(\frac{x}{4} \right) + c$$

$$b) \frac{3}{4} \tan^{-1} \left(\frac{x}{4} \right) + c$$

$$c) \frac{3}{16} \tan^{-1} \left(\frac{x}{4} \right) + c$$

d) غير ذلك

$$15) \int \frac{2}{4 + 4x^2} dx =$$

$$a) \sin^{-1} \left(\frac{x+1}{3} \right) + c$$

$$b) \sin^{-1} \left(\frac{x}{2} \right) + c$$

$$c) \frac{1}{2} \tan^{-1}(x) + c$$

$$d) \frac{-3}{4} \tan^{-1}(x) + c$$

$$16) \int \frac{1}{\sqrt{3 - 2x - x^2}} dx$$

$$a) \sin^{-1} \left(\frac{x+1}{3} \right) + c$$

$$b) \sin^{-1} \left(\frac{x}{3} \right) + c$$

$$c) \sin^{-1} \left(\frac{x-1}{2} \right) + c$$

$$d) \sin^{-1} \left(\frac{x+1}{2} \right) + c$$

أحسن القول ما وافق الحق.



$$17) \int \frac{x+1}{\sqrt{3-2x-x^2}} dx$$

a) $-\sqrt{-x^2+2x+3}+c$

b) $-\sqrt{-x^2-2x+3}+c$

c) $\sqrt{-x^2-2x+3}+c$

d) غير ذلك

$$18) \int \frac{4}{5+2x+x^2} dx$$

a) $2 \tan^{-1}\left(\frac{x}{2}\right)+c$

b) $-2 \tan^{-1}\left(\frac{x+1}{2}\right)+c$

c) $2 \tan^{-1}\left(\frac{x+1}{3}\right)+c$

d) $2 \tan^{-1}\left(\frac{x+1}{2}\right)+c$

$$19) \int \frac{4x}{5+x^2+2x} dx$$

a) $2 \tan^{-1}\left[\frac{x+1}{2}\right]^2+c$

b) $2 \tan^{-1}\left[\frac{x+1}{3}\right]^2+c$

c) $2 \tan^{-1}\left(\frac{x+2}{2}\right)+c$

d) غير ذلك

التائب من الذنب كمن لا ذنب له.



$$20) \int \frac{t+1}{t^2+2t+4} dx$$

$$a) \frac{3}{2} \ln|t^2+2t+4| + c \quad b) \frac{1}{2} \ln|t^2+2t+5| + c$$

$$c) \ln \sqrt{t^2+2t+4} + c \quad d) \text{غير ذلك}$$

$$21) \int e^{3-2x} dx$$

$$a) \frac{1}{2} e^{3-2x} + c \quad b) -\frac{1}{2} e^{3-2x} + c$$

$$c) \frac{2}{5} e^{3-2x} + c \quad d) \frac{2}{3} e^{3-2x} + c$$

$$22) \int \frac{4}{x^{1/3}(1+x^{2/3})} dx$$

$$a) 7 \ln|1+x^{2/3}| + c \quad b) \frac{12}{2} \ln|1+x^{2/3}| + c$$

$$c) -6 \ln|1+x^{2/3}| + c \quad d) \text{ليس أي مما سبق}$$

اطردوا واردات الهموم بعزائم الصبر.



23) $\int \frac{1}{x^2} \sin \left[\frac{1}{x} \right] dx$

a) $\sin \left[\frac{1}{x} \right] + c$

b) $\sec \left[\frac{1}{x} \right] + c$

c) $\cos(x) + c$

d) $\cos \left[\frac{1}{x} \right] + c$

24) $\int \frac{e^x}{\sqrt{1 - e^{2x}}} dx$

a) $\sin^{-1} e^{2x} + c$

b) $\cos^{-1} e^x + c$

c) $\tan^{-1} e^x + c$

d) غير ذلك

25) $\int \frac{x}{\sqrt{1 - x^4}} dx$

a) $\sin^{-1}(x^2) + c$

b) $\frac{1}{2} \cos^{-1}(x^2) + c$

c) $\frac{1}{2} \sin^{-1}(x^2) + c$

d) $\frac{3}{2} \cos^{-1}(x) + c$

اتق الله حيثما كنت.



Hilal Hussein Ahmed

$$26) \int \frac{2x^3}{\sqrt{1-x^4}} dx$$

a) $-\sqrt{1-x^4} + c$

b) $\sqrt{1-x^4} + c$

c) $\sqrt{1+x^4} + c$

d) $\tan^{-1}(x^2) + c$

$$27) \int \frac{1+x}{1+x^2} dx$$

a) $\tan^{-1}(x) - \frac{1}{2} \ln|1+x^2| + c$

b) $\tan^{-1}(x) + \ln|1+x^2| + c$

c) $\tan^{-1} x + \ln \sqrt{1+x^2} + c$

d) $\tan^{-1} x + \ln \sqrt{(1+x^2)^2} + c$

$$28) \frac{d}{dx} \int_1^4 \left(\frac{x^2+5}{x^4+3x^2+7} \right) dx$$

a) $\frac{3}{2}$

b) zero

c) $-\frac{3}{2}$

d) ليس أيّاً مما سبق



$$29) \frac{d}{dx} \int (\tan^{-1} x^3 + 4) dx$$

- a) $(\tan^{-1} x^3 + 4)$ b) $\tan^{-1} 3x^2 + 4$
 c) zero d) غير ذلك

$$(30) \text{ قيمة } \int 3 \frac{(\tan^{-1} x)^2}{1+x^2} dx \text{ هي:}$$

- $\frac{1}{3} (\tan^{-1} x)^3 + c$ (a)
 $(\tan^{-1} x)^3 + c$ (b)
 $\frac{(1+x^2)^3}{3} + c$ (c)
 (d) غير ذلك

$$(31) \text{ قيمة } \int (3 - 5x)^{10} dx \text{ هي:}$$

- $-\frac{1}{30} (3 - 5x)^{11} + c$ (a)
 $\frac{3}{55} (3 - 5x)^{11} + c$ (b)
 $-\frac{3}{55} (3 - 5x)^{11} + c$ (c)
 $\frac{-1}{55} (3 - 5x)^{11} + c$ (d)



$$\int x(1+x^2)^{\frac{1}{2}} dx = \quad (32)$$

$$\frac{1}{3}(1+x^2)^{\frac{3}{2}} + c \quad \bullet$$

$$\frac{2}{3}(1+x^2)^{\frac{3}{2}} + c \quad \bullet$$

$$3(1+x^2)^{\frac{3}{2}} + c \quad \bullet$$

$$-\frac{1}{3}(1+x^2)^{\frac{3}{2}} + c \quad \bullet$$

$$\int \sqrt{\sin x} \cos x dx = \quad (33)$$

$$\frac{3}{2} \times \sqrt{(\sin x)^3} + c \quad \bullet$$

$$\frac{4}{3} \times \sqrt{(\sin x)^3} + c \quad \bullet$$

$$\frac{2}{3} \times \sqrt{(\sin x)^3} + c \quad \bullet$$

$$\frac{2}{3} \times \sqrt{(\sin x)^2} + c \quad \bullet$$

السفر ميزان الأخلاق.



$$\int \frac{\sin \sqrt[3]{x}}{\sqrt[3]{x^2}} dx = \quad (34)$$

- $\cos \sqrt[3]{x} + c$
- $-3 \cos \sqrt[3]{x} + c$
- $3 \cos \sqrt[3]{x} + c$
- $3 \cos \sqrt[3]{-x} + c$

(35) قيمة $\int \frac{g'(x)}{\sqrt{g(x)}} dx$ هي

- $2\sqrt{g(x)} + c$
- $-2\sqrt{g(x)} + c$
- $\frac{2}{\sqrt{g(x)}} + c$
- $\frac{1}{2}\sqrt{g(x)} + c$

(36) لأي دالة متصلة f تكون: $\int \frac{f'(x)}{f(x)} dx =$

- $\ln|f(x)| + c$
- $-\ln|f(x)| + c$
- $\ln|f'(x)| + c$
- $\ln|f'(x)|^2 + c$



$$(37) \int \frac{\sin \sqrt{x}}{\sqrt{x}} dx = \text{قيمة}$$

$$1 \cos x \sqrt{x} + c \bullet$$

$$\cos \sqrt{x} + c \bullet$$

$$\frac{1}{2} \cos \sqrt{x} + c \bullet$$

$$-2 \cos \sqrt{x} + c \bullet$$

$$(38) \int \frac{x^2}{x^3+5} dx \text{ قيمة}$$

$$3 \ln|x^2+5| + c \bullet$$

$$\frac{1}{3} \ln|x^3+5| + c \bullet$$

$$\frac{1}{3} \ln|x^3+5| + c \bullet$$

$$\frac{1}{3} \ln|x^3-5| + c \bullet$$

$$(39) \int x \cos(x^2) dx \text{ قيمة}$$

$$\frac{1}{2} \sin x^2 + c \bullet$$

$$\frac{1}{2} \sin x^2 + c \bullet$$

$$2 \sin x^2 + c \bullet$$

$$\frac{1}{2} \sin^2 x + c \bullet$$

اثنان يذهبان ضياعاً: عقل بلا دين، ومال بلا بذل.



(40) قيمة التكامل: $\int e^{-2x} dx$ هي:

$-\frac{1}{2}e^{-2x} + c$ •

$-\frac{1}{2}e^{2x} + c$ •

$\frac{1}{2}e^{-2x} + c$ •

$-2e^{-2x} + c$ •

(41) المساحة بين $y = \sin x$ والمحور x حيث $0 \leq x \leq \pi$

3 •

2 •

$\frac{4}{5}$ •

$|\pi|$ •

(42) المساحة بين $y = \sin x$ والمحور x حيث $-\frac{\pi}{2} \leq x \leq \frac{\pi}{4}$

2.29293 •

1.59293 •

1.79293 •

1.29289 •

$\int \left(\sqrt{x} - \frac{1}{\sqrt{x}} \right)^2 dx =$ (43)

$\frac{1}{2}x^2 - 2x + \ln|x| + c$ •

$\frac{1}{2}x^2 + 2x + \ln|x| + c$ •

$\frac{1}{2}x^2 - 2x + \ln|2x| + c$ •

$\frac{1}{2}x^2 - 3x + \ln|x| + c$ •

اتق الله حيثما كنت.



$$\int x\sqrt{1+x^2}dx = \quad (44)$$

$$\frac{1}{3}(1+x^2)^{\frac{3}{2}} + c \quad \bullet$$

$$\frac{2}{3}(1+x^2)^{\frac{3}{2}} + c \quad \bullet$$

$$3(1+x^2)^{\frac{3}{2}} + c \quad \bullet$$

$$\frac{-1}{3}(1+x^2)^{\frac{3}{2}} + c \quad \bullet$$

$$\int \sqrt{\sin x} \cos x dx = \quad (45)$$

$$\frac{3}{2} \times \sqrt{(\sin x)^3} + c \quad \bullet$$

$$\frac{4}{3} \times \sqrt{(\sin x)^3} + c \quad \bullet$$

$$\frac{2}{3} \times \sqrt{(\sin x)^3} + c \quad \bullet$$

$$\frac{2}{3} \times \sqrt{(\sin x)^2} + c \quad \bullet$$

$$\int \frac{\sin \sqrt[3]{x}}{\sqrt[3]{x^2}} dx = \quad (46)$$

$$\cos \sqrt[3]{x} + c \quad \bullet$$

$$-3 \cos \sqrt[3]{x} + c \quad \bullet$$

$$3 \cos \sqrt[3]{x} + c \quad \bullet$$

$$3 \cos \sqrt[3]{-x} + c \quad \bullet$$

اثنان يذهبان ضياعاً: عقل بلا دين، ومال بلا بذل.



$$47) \int_0^{\pi/4} \sin^3 2x \cos 2x \, dx =$$

$$a) \frac{3}{8}$$

$$b) \frac{1}{81}$$

$$c) -\frac{1}{8}$$

$$d) \frac{1}{8}$$

$$48) \int (4x - 3)^5 \, dx =$$

$$(a) \frac{1}{20} (4x - 3)^6 + c$$

$$(b) \frac{1}{24} (4x - 3)^5 + c$$

$$(c) \frac{1}{24} (4x - 3)^6 + c$$

$$(d) \frac{1}{24} (4x - 3)^4 + c$$

$$49) \int \frac{x^2}{(x^3 + 5)^4} \, dx = -\frac{1}{9} \times \frac{1}{(x^3 + 5)^3} + c$$

$$(a) -\frac{1}{9} \times \frac{1}{(x^3 + 5)^3} + c$$

$$(b) \frac{1}{9} \times \frac{1}{(x^3 + 5)^3} + c$$

$$(c) -\frac{1}{3} \times \frac{1}{(x^3 + 5)^3} + c$$

$$(d) -\frac{2}{9} \times \frac{1}{(x^3 + 5)^3} + c$$

اثنان يذهبان ضياعاً: عقل بلا دين، ومال بلا بذل.



$$50 \int \frac{x^3}{(x^2 + 1)^2} dx = \frac{1}{2} [\ln|4| + 4^{-1}] =$$

$$(a) \frac{1}{4} \left[\ln|x^2 + 1| + \frac{1}{1 + x^2} \right] + c$$

$$(b) \frac{1}{2} \left[\ln|x^2 + 1| - \frac{1}{1 + x^2} \right] + c$$

$$(c) \frac{1}{3} \left[\ln|x^2 + 1| + \frac{1}{1 + x^2} \right] + c$$

$$(d) \frac{1}{2} \left[\ln|x^2 + 1| + \frac{1}{1 + x^2} \right] + c$$

$$(51) \text{ استخدم تعويضة مثلثية لحساب } \int \frac{\sqrt{x^2 - 49}}{x} dx \text{ حيث } x > 7.$$

$$(a) -\frac{7}{x} + c$$

$$(b) 7 \left(\sqrt{x^2 - 49} - \sec^{-1} \left(\frac{x}{7} \right) \right) + c$$

$$(c) \left(\sqrt{x^2 - 49} - 7 \sec^{-1} \left(\frac{x}{7} \right) \right) + c$$

$$(d) \left(-\sqrt{x^2 - 49} + \sec^{-1} \left(\frac{x}{7} \right) \right) + c$$

$$(e) \frac{7}{x} + c$$

$$(52) \text{ استخدم تعويضة مثلثية لحساب } \int \frac{\sqrt{1 - (\ln x)^2}}{x \ln x} dx$$

$$(a) \sqrt{1 - (\ln x)^2} - \ln \left| \frac{\ln x}{1 + \sqrt{1 - (\ln x)^2}} \right| + c$$

$$(b) \sqrt{1 - (\ln x)^2} + \ln \left| \frac{\ln x}{1 + \sqrt{1 - (\ln x)^2}} \right| + c$$

$$(c) \sqrt{1 + (\ln x)^2} + \ln \left| \frac{\ln x}{1 + \sqrt{1 - (\ln x)^2}} \right| + c$$

$$(d) \sqrt{1 - \ln x} + \ln \left| \frac{\ln x}{1 + \sqrt{1 - (\ln x)^2}} \right| + c$$

$$(e) \sqrt{1 - (\ln x)^2} + \ln \left| \frac{\ln x}{1 + \sqrt{1 - \ln x}} \right| + c$$

أحسن القول ما وافق الحق.



(53) استخدم تعويضة مثلثية لحساب $\int \frac{1}{\sqrt{4x^2 - 49}} dx$ حيث $x > \frac{7}{2}$;

(a) $\frac{1}{2} \ln \left| \frac{\sqrt{4x^2 - 49}}{7} \right| + c$ (b) $\frac{1}{2} \ln \left| \frac{\sqrt{4x^2 - 49}}{7} + \frac{2x}{7} \right| + c$

(c) $\ln \left| \frac{\sqrt{4x^2 - 49}}{7} + \frac{4x}{7} \right| + c$ (d) $\frac{1}{2} \ln \left| \frac{\sqrt{4x^2 - 49}}{7} + \frac{4x}{7} \right| + c$

(e) $\ln \left| \frac{\sqrt{4x^2 - 49}}{7} + \frac{2x}{7} \right| + c$

(54) استخدم تعويضة مثلثية لحساب $\int \frac{\sqrt{x^2 - 25}}{x^3} dx$ حيث $x > 5$;

(a) $\left(\frac{1}{10} \sec^{-1} \left(\frac{x}{5} \right) + \frac{\sqrt{x^2 - 25}}{2x^2} \right) + c$

(b) $\left(\frac{1}{10} \sec^{-1} \left(\frac{x}{5} \right) - \frac{\sqrt{x^2 - 25}}{x^2} \right) + c$

(c) $\left(\frac{5}{2} \sec^{-1} \left(\frac{x}{5} \right) + \frac{25\sqrt{x^2 - 25}}{2x^2} \right) + c$

(d) $\left(\frac{1}{10} \sec^{-1} \left(\frac{x}{5} \right) - \frac{\sqrt{x^2 - 25}}{2x^2} \right) + c$

(e) $\left(\sec^{-1} \left(\frac{x}{5} \right) - \frac{5\sqrt{x^2 - 25}}{x^2} \right) + c$

أجود الناس من جاد من قلة، وصان وجه السائل عن المذلة.



$$(55) \int \frac{1}{x^2 \sqrt{16-x^2}} dx =$$

$$(a) \frac{\sqrt{16-x^2}}{16x} + c$$

$$(b) -\frac{\sqrt{16+x^2}}{16x} + c$$

$$(c) -\frac{\sqrt{16-x^2}}{16x} + c$$

$$(d) -\frac{\sqrt{16-x^2}}{16x^2} + c$$

السؤال الثاني :-

هل العبارات التالية **True** or **False**

$$1) \int \frac{3}{16+x^2} dx = \frac{3}{16} \tan^{-1} \left[\frac{x}{4} \right] + c$$

$$2) \int \frac{10}{9+9x^2} dx = \frac{10}{9} \tan^{-1}(3x) + c$$

$$3) \int \frac{4}{5+2x+x^2} dx = 2 \tan^{-1} \left(\frac{x+1}{2} \right) + c$$

$$4) \int \frac{5}{\sqrt{16-x^2}} dx = 5 \sin^{-1} \left(\frac{x}{16} \right) + c$$



Hilal Hussein Ahmed

$$5) \int \frac{3}{\sqrt{1-16x^2}} dx = \frac{3}{4} \sin^{-1}(4x) + c$$

$$6) \int \frac{3}{\sqrt{16-16x^2}} dx = \frac{3}{4} \sin^{-1} x + c$$

$$7) \int \frac{2x+2}{x^2+2x+5} dx = \ln|x^2+x+5| + c$$

$$8) \int \frac{g'(x)}{\sqrt{g(x)}} dx = 2\sqrt{g(x)} + c$$

$$9) \frac{1}{2} \int \frac{2(x+1)}{\sqrt{5+x^2+2x}} dx = \sqrt{5+x^2+2x} + c$$

$$10) \int \frac{\cos x}{7+\sin x} dx = 2\sqrt{7+\sin x} + c$$

أجود الناس من جاد من قلة، وصان وجه السائل عن المذلة.



$$11) \int g(x)e^{g(x)} dx = e^{g(x)} + c$$

$$12) \int e^x e^{-e^x} dx = e^{e^x} + c$$

$$13) \int e^{(ax+b)} dx = \frac{1}{b} e^{ax+b} + c$$

$$14) \int \frac{2}{1 + (x + 7)^2} dx = 2 \tan^{-1}(x + 7) + c$$

$$15) \int \frac{2}{x^{\frac{1}{4}}(1 + x^{\frac{3}{4}})} dx = \frac{8}{3} \ln |1 + x^{\frac{3}{4}}|$$

أجود الناس من جاد من قلة، وصان وجه السائل عن المذلة.



السؤال الثالث:- أكمل الفراغات التالية:

1) $\int \frac{2x}{\sqrt{16 + x^2}} dx \dots\dots\dots$

2) $\int \frac{2}{(\cos^2 x)\sqrt{16 + \tan x}} dx \dots\dots\dots$

3) $\int \frac{dx}{x\sqrt{16 + \ln x}} \dots\dots\dots$

4) $\int \frac{dx}{x + x \ln x} \dots\dots\dots$

5) $\int \frac{1 + g'(x)}{\sqrt{x + g(x)}} dx \dots\dots\dots$

6) $\int \frac{e^{\sec x}}{\cos x \cot x} dx \dots\dots\dots$

7) $\int \frac{\ln x}{x} dx \dots\dots\dots$

8) $\int \frac{2 - \sqrt{1 - x^2}}{\sqrt{1 - x^2}} dx \dots\dots\dots$

9) $\int \frac{\sin \sqrt[3]{x}}{\sqrt[3]{x^2}} dx \dots\dots\dots$

Hilal Husssein Ahmed



Hilal Husssein Ahmed

10) $\int \sqrt{\sin x} \cos x \, dx \dots\dots\dots$

11) $\int e^x e^{e^x} \, dx \dots\dots\dots$

12) $\int \left(1 + \frac{5}{x+3}\right) \, dx \dots\dots\dots$

13) $\int \left(1 + \frac{10}{x^2+1}\right) \, dx \dots\dots\dots$

14) $\int \left(1 + \frac{e^x}{\sqrt{1-e^{2x}}}\right) \, dx \dots\dots\dots$

15) $\int \left(1 + \frac{e^{2x}}{1+e^{2x}}\right) \, dx \dots\dots\dots$

16) $\int \left(\frac{d}{dx}(5x + \tan^{10} 3x)\right) \, dx \dots\dots\dots$

17) $\int (e^{x^2+\ln x}) \, dx \dots\dots\dots$

18) $\int (\sec x \times e^{\ln(\sin x)}) \, dx \dots\dots\dots$

(19) $\int \frac{ax^2 + 5}{x^3 + 5x + 1} \, dx = \ln|x^3 + 5x + 1| + c$
 $\Rightarrow a \dots\dots\dots$



Hilal Husssein Ahmed

(20) $\int \frac{\cot x}{\sin x} dx \dots\dots\dots$

(22) $y = e^{1+\ln x} \Rightarrow \frac{dy}{dx} \dots\dots\dots$

(23) $\int \sin \frac{\pi}{2} dx \dots\dots\dots$

(24) $\int (3 + (\tan x)^2) dx \dots\dots\dots$

(25) $\int f(x) dx = \frac{1}{4}x^4 - \frac{1}{2}x^2 + c$

$\Rightarrow f(2) - f(-1) \dots\dots\dots$

(26) $\int \left(\frac{1}{(\sin x)^2} - 1 \right) dx \dots\dots\dots$

(27) $\int \frac{\tan x}{\cos x} dx \dots\dots\dots$

(28) $y = \sin x + \int_3^9 \frac{x^2+1}{x^2+7} dx \Rightarrow \frac{dy}{dx}|_{x=\pi} \dots\dots\dots$

(29) $y = x^2 + \int \frac{3x^2}{2x^2 + 7} dx \Rightarrow \frac{dy}{dx}|_{x=\pi} \dots\dots\dots$

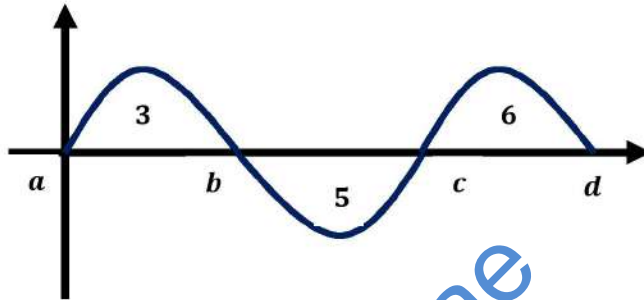
(30) $\frac{d}{dx} (\ln(\ln|\sin x|)) \dots\dots\dots$



Hilal Hussein Ahmed

(31) $\int \frac{4\sin(2x)}{\cos(x)} dx = \dots\dots\dots$

32) اعتمد على الشكل المرسوم :

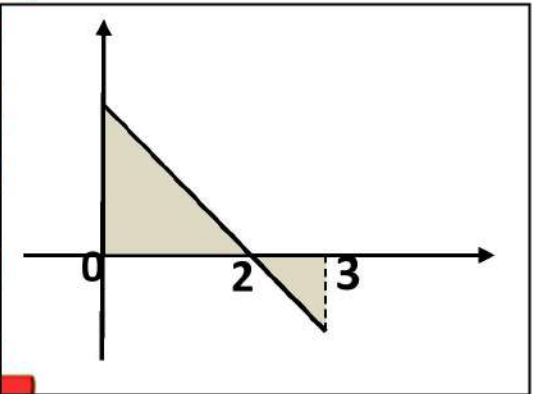


1) $\int_b^c f(x) dx = \dots\dots\dots$

2) $\int_a^d f(x) dx = \dots\dots\dots$

3) $\int_a^d |f(x)| dx = \dots\dots\dots$

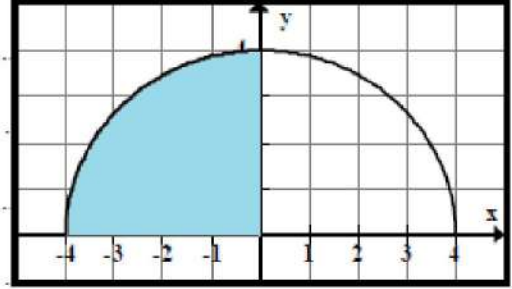
4) $|\int_a^d f(x) dx| = \dots\dots\dots$



33) مساحة المنطقة المظلة:

$\int_0^3 f(x) dx = \dots\dots\dots$

(34) الشكل يمثل بيان الدالة $f(x) = \sqrt{16 - x^2}$ فإن مساحة المنطقة المظللة =



(35) إذا علمت أن $f(x) = \int_0^x \frac{1}{1+t^2} dt + \int_0^{\frac{1}{x}} \frac{1}{1+t^2} dt$ فإن طول القوس حيث $2 \leq x \leq 5$ يساوي

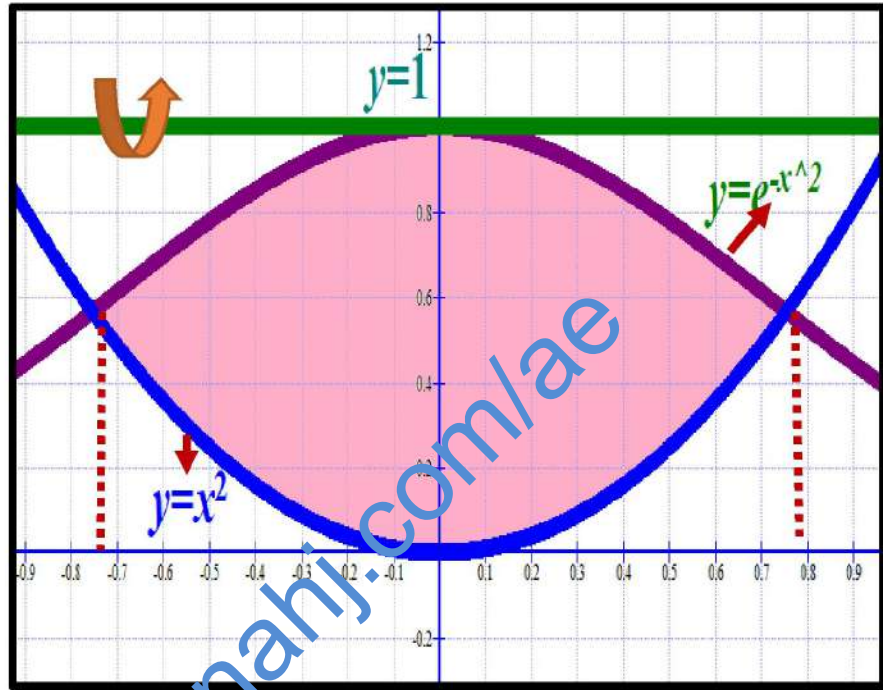
(36) يتم دوران المنطقة المحدودة بواسطة $y = x$ حول المحور $y = -x$ ، $x = 1$ فإن ارتفاع الصدفة الأسطوانية تساوي

(37) يمثل $\int_0^2 \pi(4 - y^2)^2 dy$ حجم مجسم. يكون محور الدوران هو

أجود الناس من جاد من قلّة، وصان وجه السائل عن المذلة.

(38) حجم المجسم الذي تكون من دوران المنطقة

المظللة حول المستقيم $y = 1$ بحيث $x \in [-0.7530, 0.7530]$



.....
.....
.....

(39) رافع أثقال يرفع $250 lb$ لمسافة $20in$.

أوجد الشغل المبذول (كما تم قياسه بالقدم - رطل)

.....
.....

أجود الناس من جاد من قلة، وصان وجه السائل عن المذلة.

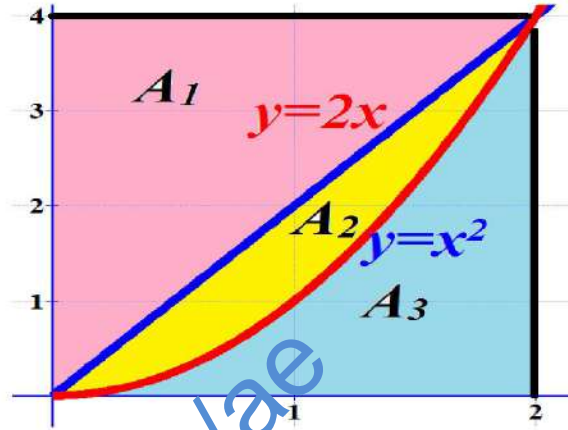
(40) أعط تكاملاً مساوياً لكل مساحة :

a) $A_2 + A_3 =$ _____.

b) $A_1 + A_2 =$ _____.

c) $A_1 =$ _____.

d) $A_3 =$ _____.



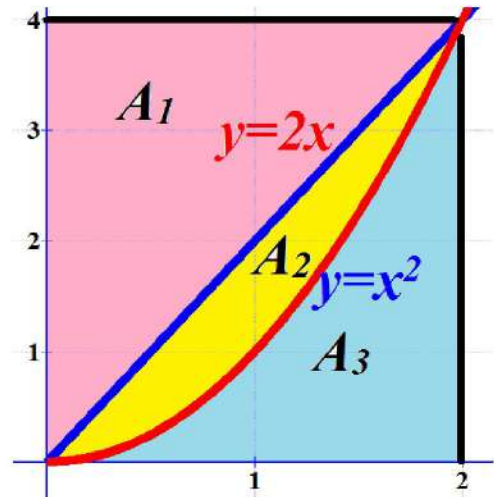
(41) بدلالة A_1 ، A_2 ، A_3 حدد المساحة المعطاة بكل تكامل :

a) $\int_0^2 (2x - x^2) dx =$ _____.

b) $\int_0^2 (4 - x^2) dx =$ _____.

c) $\int_0^4 (2 - \sqrt{y}) dy =$ _____.

d) $\int_0^4 \left(\sqrt{y} - \frac{y}{2} \right) dy =$ _____.



أجود الناس من جاد من قلة، وصان وجه السائل عن المذلة.



(42)

قيمة :

$$\int \frac{1}{\sqrt{4-(x-3)^2}} dx \dots\dots\dots$$


• قيمة :

$$\int \frac{2x-3}{x^2+1} dx = \dots\dots\dots$$

• قيمة :

$$\int \frac{x-1}{4x^2-4} dx = \dots\dots\dots$$

(43) إعتماًداً على الشكل المجاور، اكتب المساحات التالية على صورة تكاملات :



المساحة المحصورة بين $h(x)$ ، $g(x)$ و محور الصادات هي :

.....

المساحة المحصورة بين $h(x)$ ، $g(x)$ و محور السينات هي :

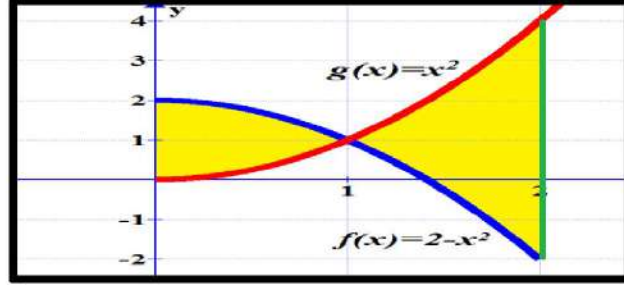
.....

المساحة المحصورة بين $h(x)$ ، $g(x)$ و المستقيم $x = b$ هي :

.....

Hilal Husssein Ahmed

(44) مساحة المنطقة المظللة هي :



.....

(45) إذا كان $g(x) = 3 - x$ ، $f(x) = 3x - x^2$:

- (a) أوجد المساحة بين f ، g ،

 (b) أوجد المساحة بين f ، g ، محور x ،

 (c) أوجد المساحة بين f ، g ، محور الصادات ،

(46) طول القوس من منحنى الدالة $f(x) = 5 + \sqrt{x^3}$ في $\left[0, \frac{1}{3}\right]$

(47) طول القوس من منحنى الدالة $f(x) = \frac{1}{3}(7 + 4x)^{\frac{3}{2}}$ في $\left[1, \frac{5}{4}\right]$

(48) طول القوس من منحنى الدالة $x = e^{\frac{y}{2}} + e^{-\frac{y}{2}}$ في $[-2, -1]$

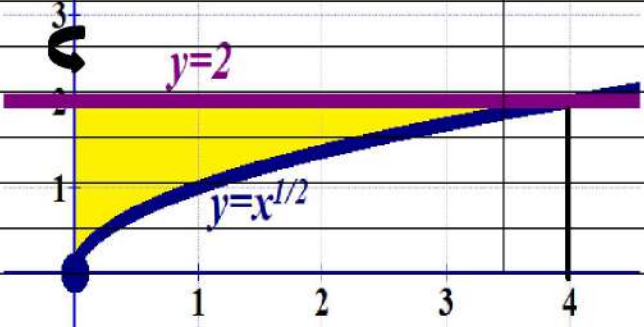
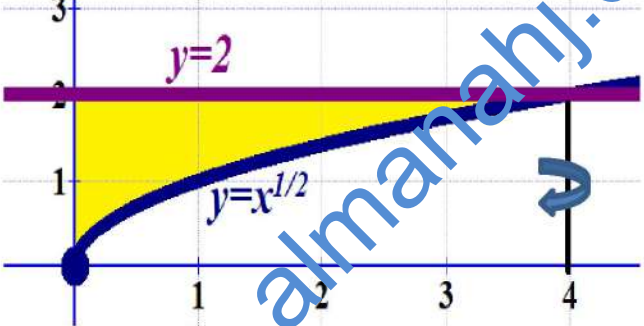
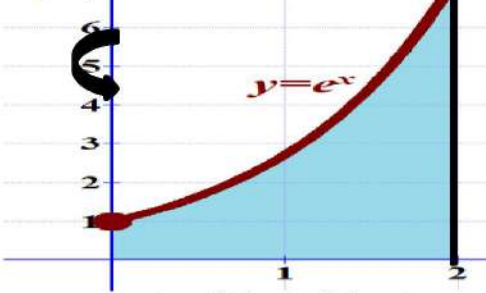
(49) مساحة سطح متولد من تدوير منحنى $y = \sqrt{x}$

حول المحور x حيث $0 \leq x \leq 2$

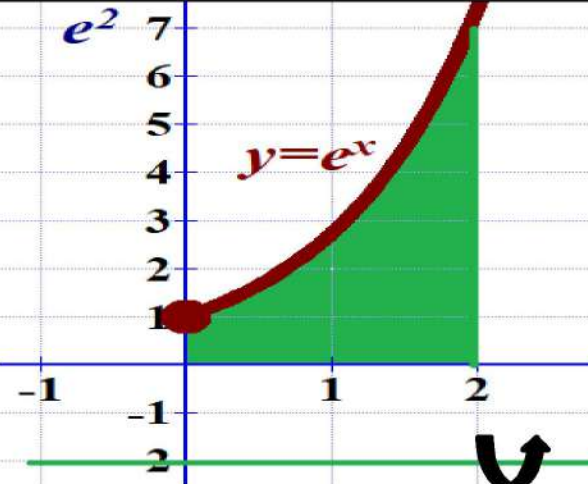
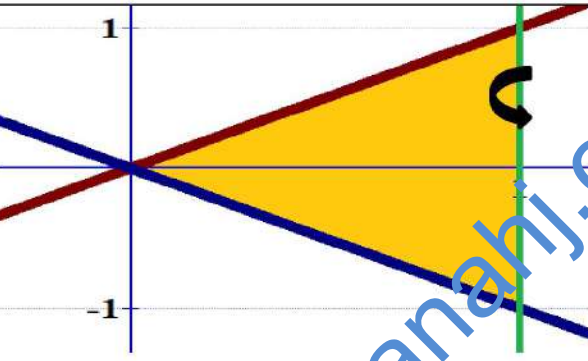
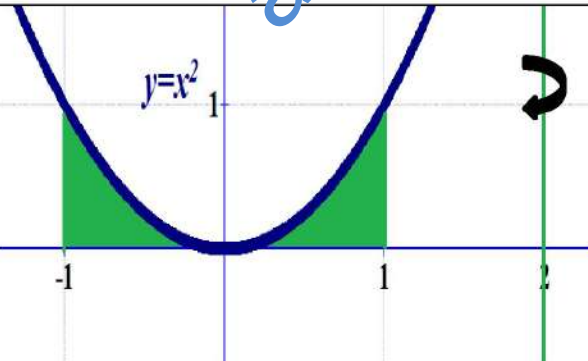


Hilal Husssein Ahmed

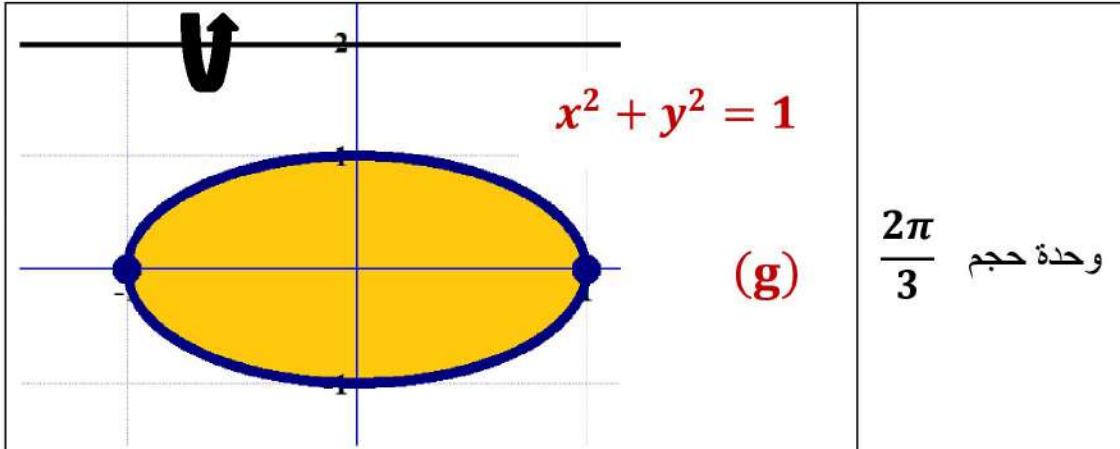
السؤال الرابع:- (a) وصل القائمة A بما يناسبها من القائمة B

| A | | B |
|--|--|---|
| <p>(a)</p>  <p>حجم الجسم الناتج من دوران المنطقة المظللة حول المحور y</p> | | <p>وحدة حجم 52.70</p> |
| <p>(b)</p>  <p>حجم الجسم الناتج من دوران المنطقة المظللة حول x=4</p> | | <p>وحدة حجم $\frac{32}{5}$</p> |
| <p>(c)</p>  <p>حجم الجسم الناتج من دوران المنطقة المظللة حول المحور y</p> | | <p>وحدة حجم 164.48</p> |

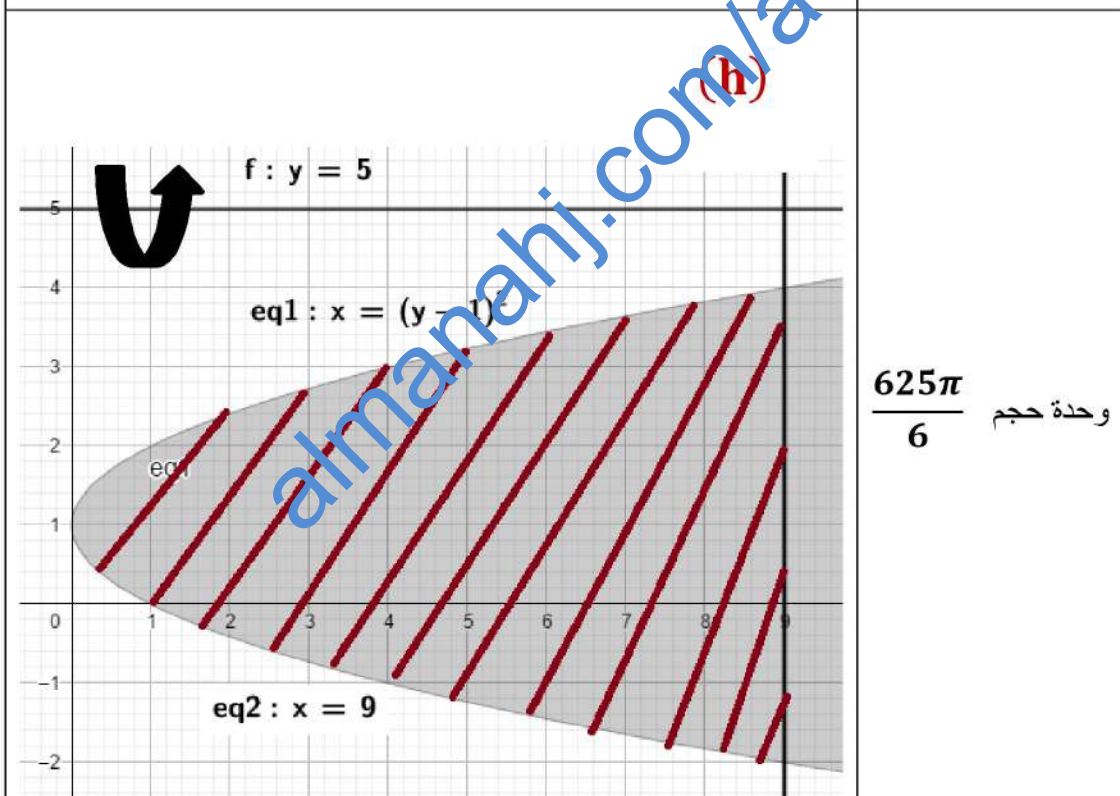


| | |
|---|--|
|  <p>(d)</p> <p>حجم المجسم الناتج من دوران المنطقة المظللة حول $y = -2$</p> | <p>وحدة حجم $\frac{224\pi}{15}$</p> |
|  <p>(e)</p> <p>حجم المجسم الناتج من دوران المنطقة المظللة حول $x = 1$</p> | <p>وحدة حجم $\frac{8\pi}{3}$</p> |
|  <p>(f)</p> <p>حجم المجسم الناتج من دوران المنطقة المظللة حول $x = 2$</p> | <p>وحدة حجم $4\pi^2$</p> |

اتق الله حيثما كنت.



حجم المجسم الناتج من دوران المنطقة المظللة حول $y=2$

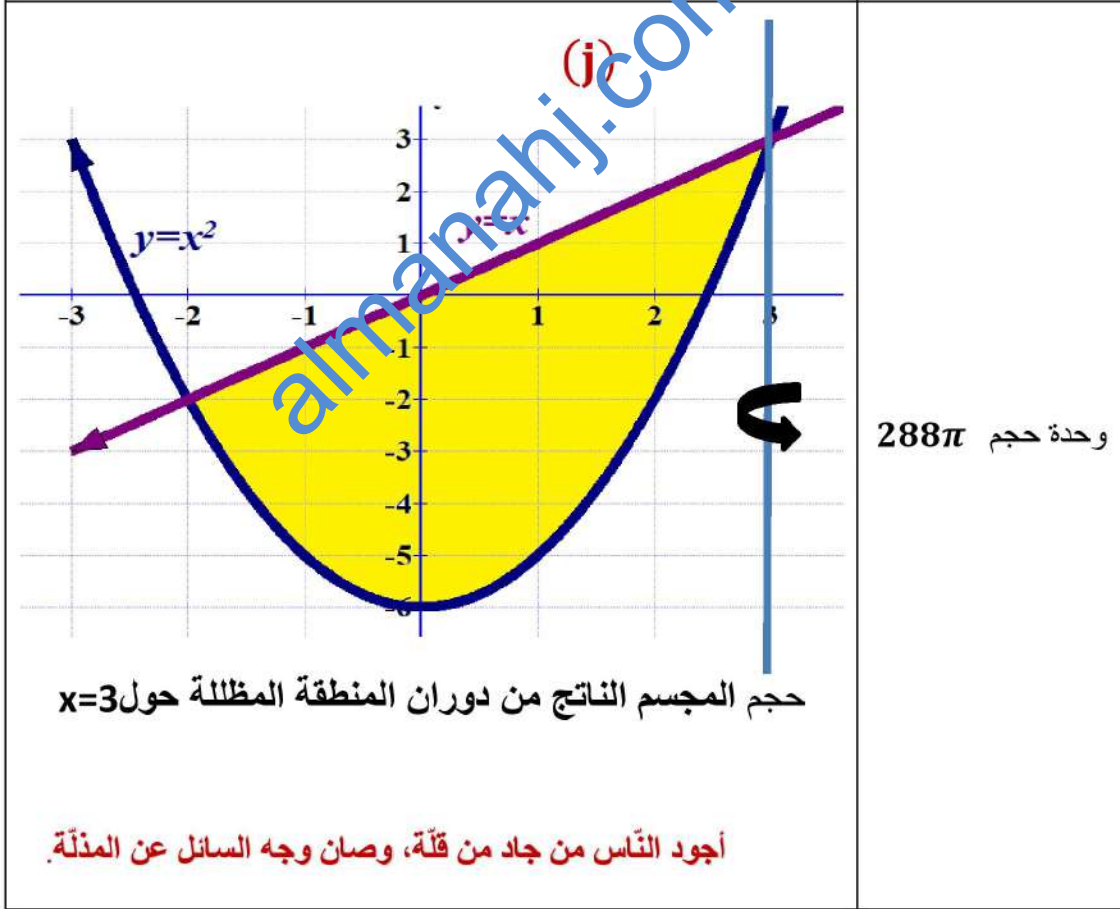
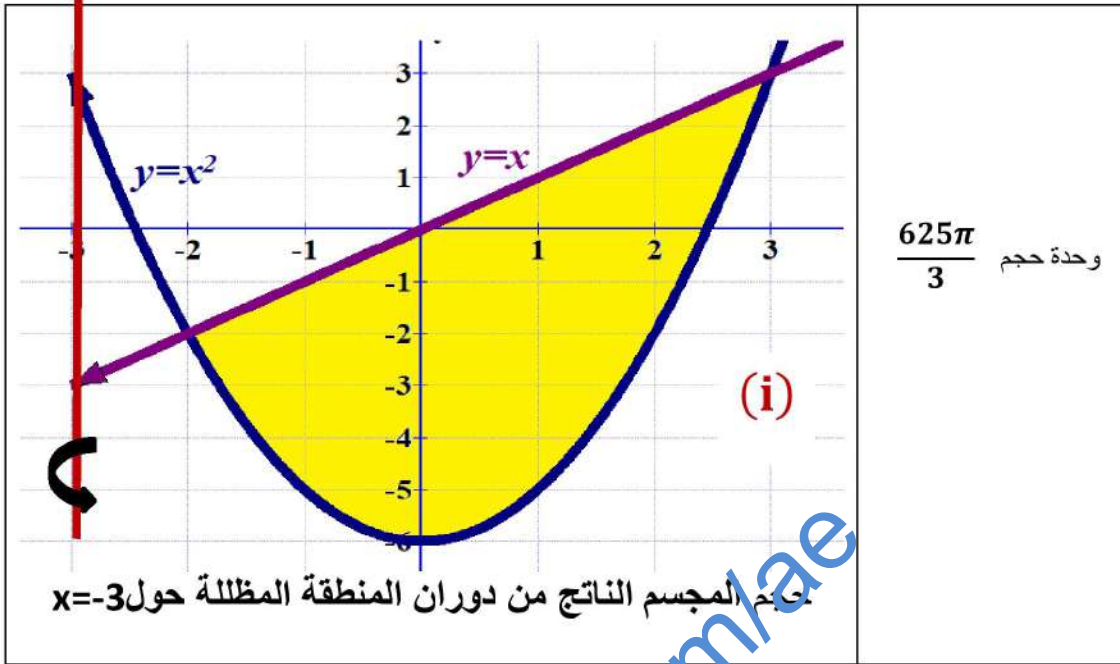


حجم المجسم الناتج من دوران المنطقة المظللة حول $y=5$

اتق الله حيثما كنت.

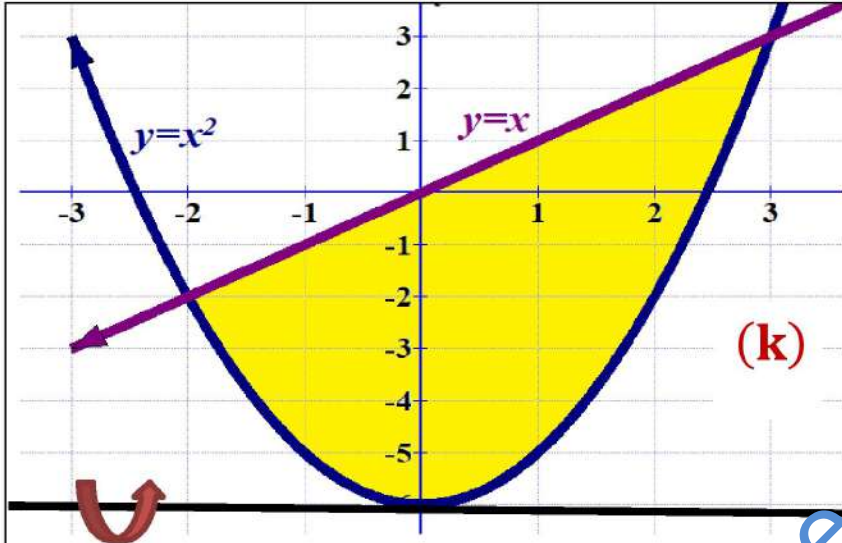


Hilal Hussein Ahmed





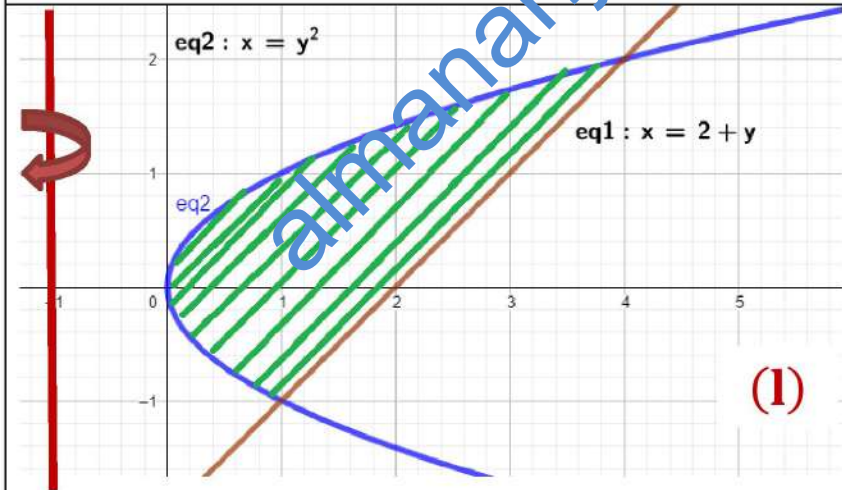
Hilal Husssein Ahmed



(k)

وحدة حجم $\frac{117\pi}{5}$

حجم المجسم الناتج من دوران المنطقة المظللة حول $y=-6$



(l)

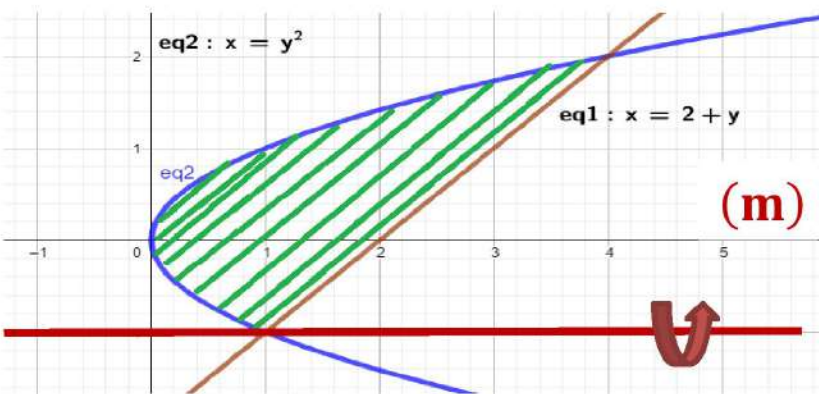
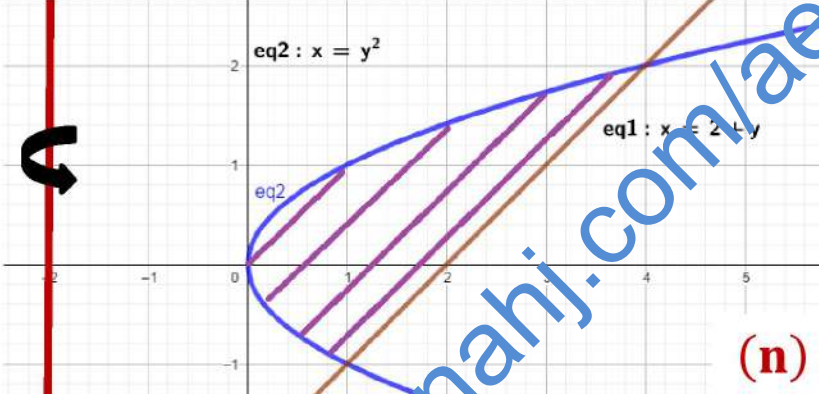
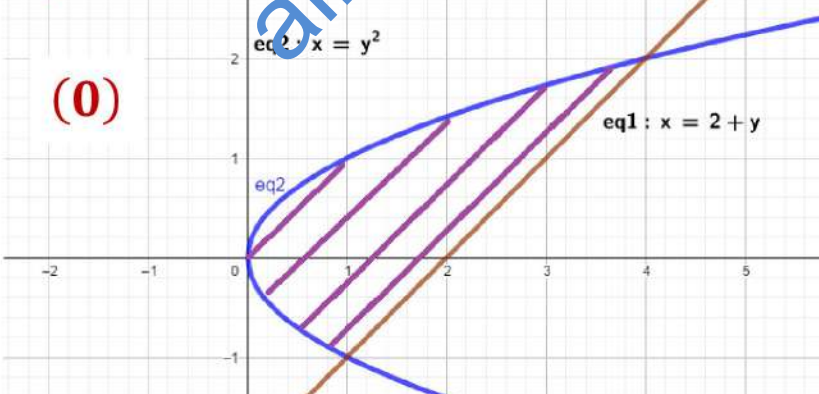
وحدة حجم $\frac{27\pi}{2}$

حجم المجسم الناتج من دوران المنطقة المظللة حول $x=-1$

أجود الناس من جاد من قلة، وصان وجه السائل عن المذلة.

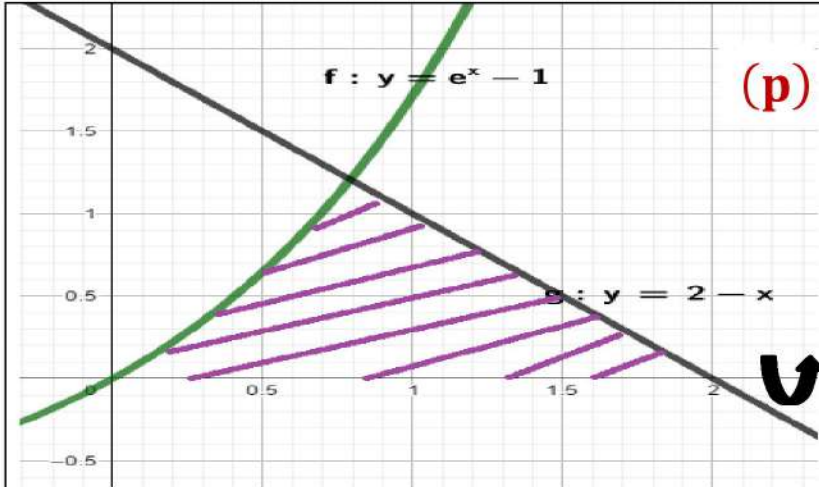


Hilal Hussein Ahmed

| | |
|--|---|
|  <p>(m)</p> <p>حجم الجسم الناتج من دوران المنطقة المظللة حول $y = -1$</p> | <p>وحدة حجم $\frac{162\pi}{5}$</p> |
|  <p>(n)</p> <p>حجم الجسم الناتج من دوران المنطقة المظللة حول $x = -2$</p> | <p>وحدة حجم $\frac{45\pi}{2}$</p> |
|  <p>(o)</p> <p>حجم الجسم الناتج من دوران المنطقة المظللة حول $y = -2$</p> | <p>وحدة حجم $\frac{500\pi}{3}$</p> |

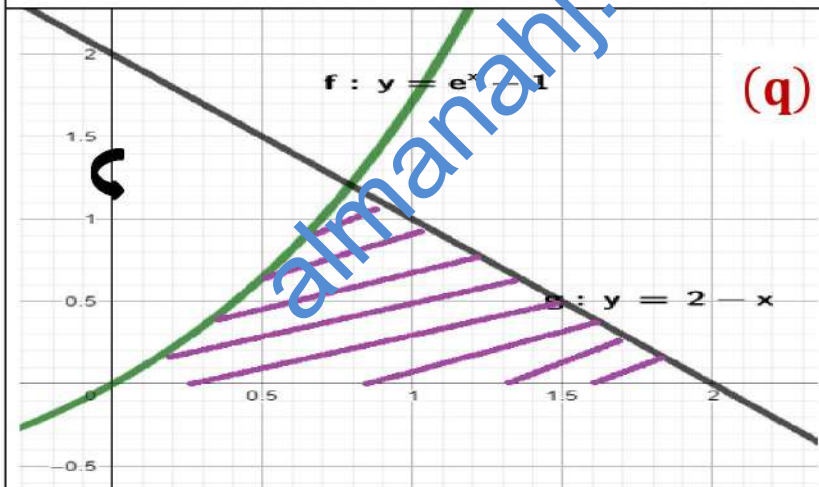
أجود الناس من جاد من قلة، وصان وجه السائل عن المذلة.

اللهم ارزقني قبل الموت توبة، وعند الموت شهادة، وبعد الموت جنة



وحدة حجم 4.482

حجم الجسم الناتج من دوران المنطقة المظللة حول المحور x



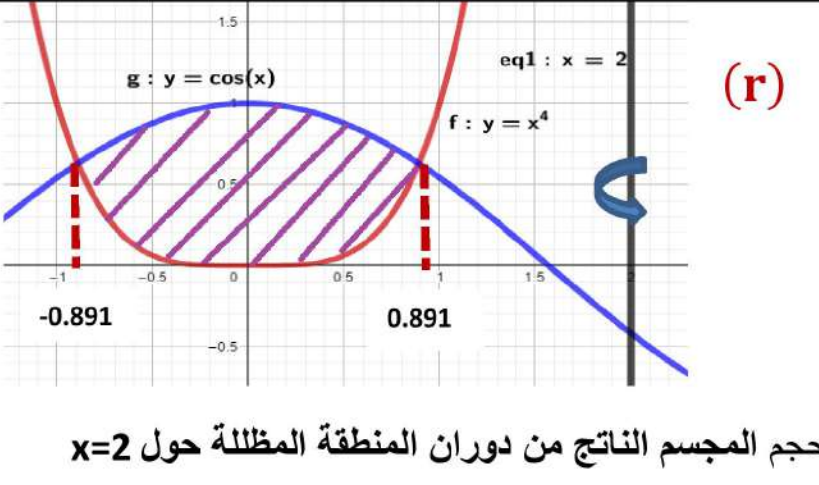
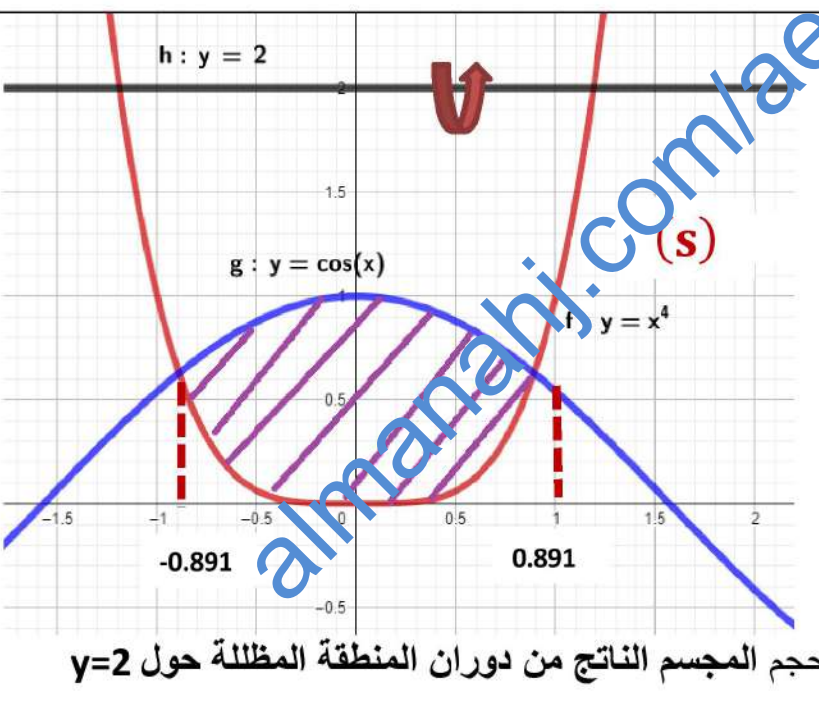
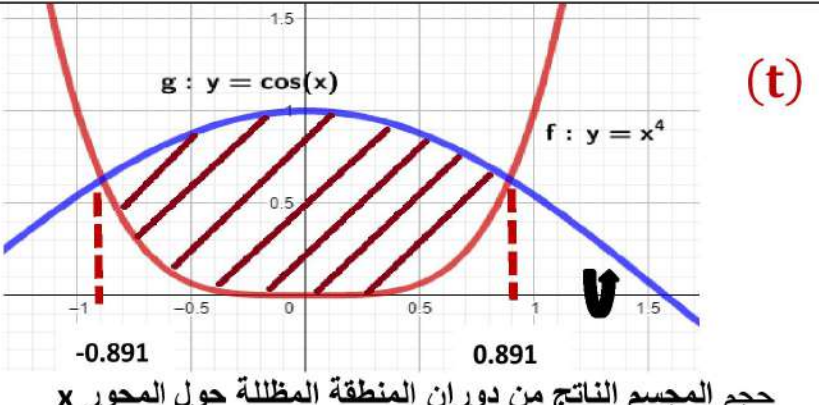
وحدة حجم 16.72

حجم الجسم الناتج من دوران المنطقة المظللة حول المحور y

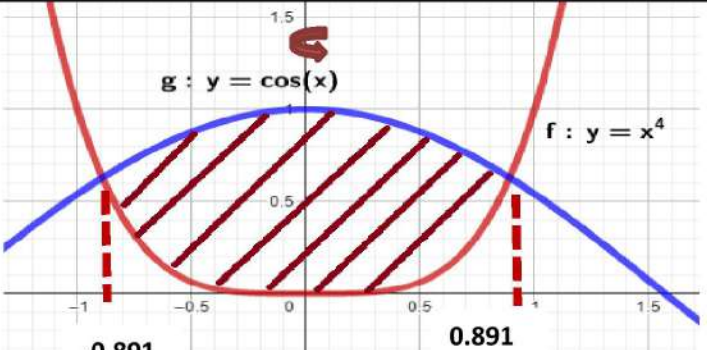
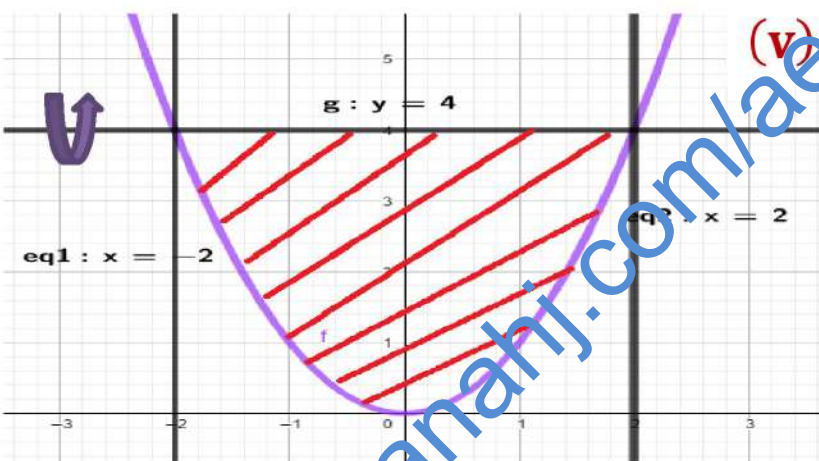
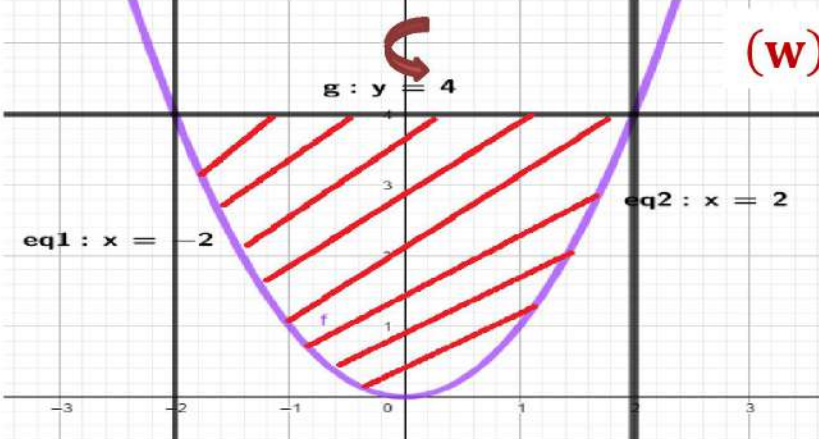
أجود الناس من جاد من قلة، وصان وجه السائل عن المذلة.



Hilal Hussein Ahmed

| | |
|---|--|
|  <p>(r)</p> <p>حجم المجسم الناتج من دوران المنطقة المظللة حول $x=2$</p> | <p>وحدة حجم 2.83</p> |
|  <p>(s)</p> <p>حجم المجسم الناتج من دوران المنطقة المظللة حول $y=2$</p> | <p>وحدة حجم 2.99</p> |
|  <p>(t)</p> <p>حجم المجسم الناتج من دوران المنطقة المظللة حول المحور x</p> | <p>وحدة حجم $\frac{512\pi}{15}$</p> |



| | |
|---|---|
| <p>(u)</p>  <p>حجم الجسم الناتج من دوران المنطقة المظلة حول المحور y</p> | <p>وحدة حجم 8π</p> |
| <p>(v)</p>  <p>حجم الجسم الناتج من دوران المنطقة المظلة حول $y=4$</p> | <p>وحدة حجم $\frac{384\pi}{5}$</p> |
| <p>(w)</p>  <p>حجم الجسم الناتج من دوران المنطقة المظلة حول المحور y</p> | <p>وحدة حجم 12.64</p> |



Hilal Hussein Ahmed

| | |
|--|---|
| <p>(x)</p> <p>حجم المجسم الناتج من دوران المنطقة المظللة حول $y = 6$</p> | <p>وحدة حجم 4.09</p> |
| <p>(y)</p> <p>حجم المجسم الناتج من دوران المنطقة المظللة حول $y = -4$</p> | <p>وحدة حجم $\frac{256\pi}{3}$</p> |
| <p>(z)</p> <p>حجم المجسم الناتج من دوران المنطقة المظللة حول $x = -4$</p> | <p>وحدة حجم $\frac{2048\pi}{15}$</p> |



(b) وصل القائمة A بما يناسبها من القائمة B

| <u>A</u> | <u>B</u> |
|----------------------------------|---|
| a) $\int x^6(1 - 4x^7)^8 dx =$ | $x \tan x + \ln \cos x + c$ |
| b) $\int \frac{\ln x^2}{x} dx =$ | $\frac{2}{3}x(x+1)^{3/2} - \frac{4}{15}(x+1)^{5/2} + c$ |
| c) $\int (x - 6)e^{-x} dx =$ | $(\ln x)^2 + c$ |
| d) $\int x \sec^2 x dx =$ | $-\frac{\cos^5 x}{5} + \frac{2}{7} \cos^7 x - \frac{1}{9} \cos^9 x + c$ |
| e) $\int x\sqrt{x+1} dx =$ | $= \frac{1}{8}x - \frac{1}{32} \sin 4x + c$ |
| f) $\int \sin^5 x \cos^4 x dx =$ | $-\frac{1}{252}(1 - 4x^7)^9 + c$ |
| g) $\int \sin^4 x \cos^3 x dx =$ | $\frac{1}{7} \sec^7 x - \frac{1}{5} \sec^5 x + c$ |
| h) $\int \sin^2 x \cos^2 x dx$ | $-(x - e)e^{-x} - e^{-x} + c$ |

اتَّقِ اللَّهَ حَيْثَمَا كُنْتَ.



| | |
|---|--|
| i) $\int \tan^3 x \sec^5 x dx =$ | $\sin x - \frac{1}{3} \sin^3 x + c$ |
| j) $\int \tan^3 x \sec^4 x dx =$ | $\frac{\sin^5 x}{5} - \frac{\sin 7x}{7} + c$ |
| k) $\int \cos^3 x dx =$ | $\frac{1}{4} \tan^4 x + \frac{1}{6} \tan^6 x + c$ |
| l) $\int \sec^6 x dx =$ | $\sqrt{x^2 - 9} - 3 \sec^{-1} \frac{x}{3} + c$ |
| m) $\int \frac{x^2}{\sqrt{9 - x^2}} dx =$ | $\frac{1}{3} [1 - x^2]^{3/2} - \sqrt{1 - x^2} + c$ |
| n) $\int \frac{\sqrt{x^2 - 9}}{x} dx =$ | $\sqrt{x^2 - 25} - 5 \sec^{-1} \frac{x}{5} + c$ |
| o) $\int \frac{x^3}{\sqrt{1 - x^2}} dx =$ | $-\frac{x}{\sqrt{x^2 - 1}} + c$ |
| p) $\int \frac{\sqrt{x^2 - 25}}{x} dx =$ | $\tan x + \frac{2}{3} \tan^3 x + \frac{1}{5} \tan^5 x + c$ |
| q) $\int \frac{1}{[x^2 - 1]^{3/2}} dx =$ | $\frac{9}{2} \sin^{-1} \frac{x}{3} - \frac{x}{2} \sqrt{9 - x^2} + c$ |

أجود الناس من جاد من قلة، وصان وجه السائل عن المذلة.



| | |
|--|--|
| r) $\int \frac{dx}{\sqrt{25x^2 - 4}} =$ | $= \frac{1}{6} \ln \left \frac{x+3}{x-3} \right + c$ |
| s) $\int \frac{dx}{(1+x^2)^2} + c$ | $6 \ln x+2 + \frac{5}{x+2} + c$ |
| t) $\int \frac{1}{9-x^2} dx$ | $\frac{1}{3} \tan^3 x + \frac{1}{5} \tan^5 x + c$ |
| u) $\int \frac{6x+7}{[x+2]^2} dx =$ | $\frac{1}{5} \ln \left \frac{5x}{2} + \frac{\sqrt{25x^2-4}}{2} \right + c$ |
| v) $\int \frac{x+4}{x^2+5x-6} dx$ | $= 0.5 \tan^{-1} x + \frac{1}{2} \times \frac{x}{1+x^2} + c$ |
| w) $\int \frac{\sin^2 x}{\cos^6 x} dx =$ | $\sin 2x + c$ |
| x) $\int 2 \cos 2x dx =$ | $x \tan^{-1} x - \frac{3}{2} (\tan^{-1} x)^2 - 0.5 \ln 1+x^2 + c$ |
| y) $\int \frac{x^2-2}{x^2+1} \tan^{-1} x dx =$ | $= \frac{1}{7} \ln (x-1)^5(x+6)^2 + c$ |
| z) $\int \tan^{-1} \sqrt{x} dx \tan^{-1} \sqrt{x}$ | $(x+1) \tan^{-1} \sqrt{x} - \sqrt{x} + c$ |

أجود الناس من جاد من قلّة، وصان وجه السائل عن المذلة.



السؤال الخامس: اختر الإجابة الصحيحة:-

حل المعادلة التفاضلية $2y' + y = 5$: $y(0) = 20$ (1)

(a) $y = 15 e^{-\frac{t}{2}} + 15$ (b) $y = 15 e^{\frac{t}{2}} + 5$

(c) $y = 15 e^{-\frac{t}{2}} - 5$ (d) $y = 15 e^{-\frac{t}{2}} + 5$

حل المعادلة التفاضلية $\frac{1}{2}y' = 4y$: $y(0) = 10$ (2)

(a) $y = -10 e^{8t}$ (b) $y = 10 e^{7t}$

(c) $y = 10 e^{8t}$ (d) $y = \frac{1}{2} e^{8t}$

حل المعادلة التفاضلية $2y' + y = 1$: $y(-1) = 2$ (3)

(a) $y = e^{-\frac{1}{2}t - \frac{1}{2}} + 1$ (b) $y = e^{\frac{1}{2}t - \frac{1}{2}} + 1$

(c) $y = e^{-\frac{1}{2}t + \frac{1}{2}} + 1$ (d) $y = e^{\frac{1}{2}t + \frac{1}{2}} + 1$

أجود الناس من جاد من قلة، وصان وجه السائل عن المذلة.



حل المعادلة التفاضلية $y'(0) = 1$: $\frac{1}{2}y' + y - 1 = 0$ (4)

(a) $y = \frac{1}{2}e^{-2t} + 1$

(b) $y = \frac{-1}{2}e^{-2t} + 1$

(c) $y = \frac{-1}{2}e^{2t} + 1$

(d) $y = \frac{-1}{2}e^{-2t} - 1$

حل المعادلة التفاضلية $y(\ln(2)) = 1$: $y' = 2y$ (5)

(a) $y = \frac{1}{2}e^{2t}$

(b) $y = \frac{1}{4}e^{2t}$

(c) $y = \frac{1}{4}e^{3t}$

(d) $y = \frac{-1}{4}e^{2t}$

حل المعادلة التفاضلية $y(1) = 2$: $y' = -y$ (6)

(a) $y = 2e^{1+t}$

(b) $y = -2e^{1-t}$

(c) $y = 2e^{1-t}$

(d) $y = 3e^{1-t}$

على فرض أن مستنبت بكتيري يتضاعف تعداده كل 4 ساعات . (7)

إذا كان عدد أفراد المجتمع 100 في البداية فإن الزمن الذي يصل فيه عدد الأفراد إلى 6000 .

(a) ≈ 24.62 (b) ≈ 22.62 (c) ≈ 23 (d) ≈ 23.62

التائب من الذنب كمن لا ذنب له.



إذا استثمرت $AED7000$ بمعدل مرابحة سنوية 5.75% . قيمة استثمارك بعد 5 سنوات . (8)

بمرابحة مركبة مستمرة تصبح القيمة =

(a) $\approx AED 1339.63$

(b) $\approx AED 9331.63$

(c) $\approx AED 3931.63$

(d) $\approx AED 3391.63$

(9) على فرض أحد الأصول هي $AED 10000$

تتناقص باستمرار بمعدل ثابت 24% في كل عام أوجد قيمة بعد 10 سنوات .

(a) $\approx AED 790.18$

(b) $\approx AED 907.18$

(c) $\approx AED 719.18$

(d) $\approx AED 709.18$

(10) حل المعادلة التفاضلية بفصل المتغيرات $\frac{dy}{dx} = (\cos x)e^{y+\sin x}$

(a) $y = \ln|-e^{\sin x} + C|^{-1}$ (b) $y = \ln|-e^{\sin x} + C|^2$

(c) $y = \ln|e^{\sin x} + C|^{-1}$ (d) $y = \ln|e^{\sin x} - C|^{-1}$

(11) حل المعادلة التفاضلية بفصل المتغيرات $\frac{dy}{dx} = -2xy^2$, $y(1) = 0.25$

(a) $y = \frac{1}{x^2 - 3}$

(b) $y = \frac{2}{x^2 + 3}$

(c) $y = \frac{1}{x^2 + 9}$

(d) $y = \frac{1}{x^2 + 3}$

التائب من الذنب كمن لا ذنب له.



(12) حل المعادلة التفاضلية بفصل المتغيرات $\frac{dy}{dx} = x \sqrt{y} \cos^2 \sqrt{y}$

(a) $y = (\tan^{-1}(x^2 + C))^2$ (b) $y = (\tan^{-1}(x^2 + C))^2$

(c) $y = (\tan^{-1}(x^2 + C))^2$ (d) $y = (\tan^{-1}(x^2 + C))^2$

(13) حل المعادلة التفاضلية بفصل المتغيرات $\frac{dy}{dx} = \frac{4\sqrt{y} \ln x}{x}$, $y(e) = 1$

(a) $y = (\ln|\ln|x|| + c)^2$ (b) $y = (\ln|\ln|3x|| + c)^2$

(c) $y = (\ln|\ln|2x|| + c)^1$ (d) $y = (\ln|\ln|x|| + c)^{\frac{1}{2}}$

(14) حل المعادلة التفاضلية بفصل المتغيرات $\frac{dy}{dx} = \frac{x^2 + 7x + 3}{y^2}$

(a) $y = \sqrt[3]{x^3 + \frac{21}{2}x^2 + 9x + 3c}$ (b) $y = \sqrt[3]{x^3 + \frac{21}{2}x^2 + 9x + 3c}$

(c) $y = \sqrt[3]{x^3 + \frac{21}{2}x^2 + 9x + 3c}$ (d) $y = \sqrt[3]{x^3 + \frac{21}{2}x^2 + 9x + 3c}$

(15) حل المعادلة التفاضلية $y' = 3y(2 - y)$, $y(0) = 1$

(a) $y = \frac{2e^{6t}}{1 - e^{6t}}$ (b) $y = \frac{2e^{6t}}{2 + e^{6t}}$

(c) $y = \frac{2e^{6t}}{1 + e^{6t}}$ (d) $y = \frac{3e^{6t}}{1 + e^{6t}}$

التائب من الذنب كمن لا ذنب له.



(16) حل المعادلة التفاضلية $y' = y(3 - y), y(0) = 2$

(a) $y = \frac{6e^{3t}}{1 + 3e^{3t}}$

(b) $y = \frac{3e^{3t}}{1 + 3e^{3t}}$

(c) $y = \frac{6e^{3t}}{1 - 3e^{3t}}$

(d) $y = \frac{e^{3t}}{1 + 3e^{3t}}$

(17) حل المعادلة التفاضلية $y' = 2y(5 - y), y(0) = 4$

(a) $y = \frac{20e^{15t}}{1 + 4e^{15t}}$

(b) $y = \frac{20e^{10t}}{1 + 4e^{10t}}$

(c) $y = \frac{10e^{10t}}{1 + 4e^{10t}}$

(d) $y = \frac{20e^{10t}}{1 + 2e^{10t}}$

(18) حل المعادلة التفاضلية $y' = y(4 - y), y(0) = \frac{3}{4}$

(a) $y = \frac{13e^{6t}}{1 + 3e^t}$

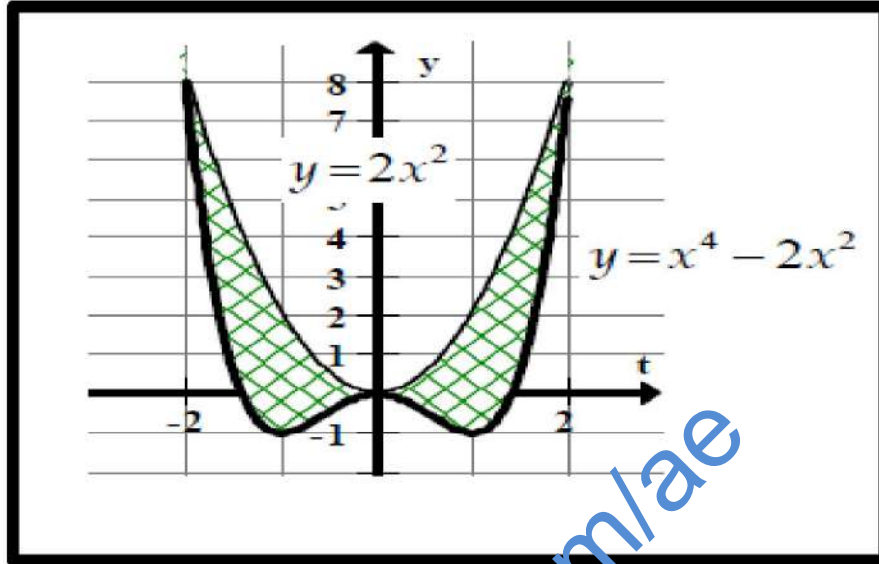
(b) $y = \frac{6e^{6t}}{1 + 3e^t}$

(c) $y = \frac{3e^{6t}}{1 - 3e^t}$

(d) $y = \frac{3e^{6t}}{1 + 3e^t}$

اطردوا واردرات الهموم بعزائم الصبر.

(19) مساحة المنطقة المظلة هي:-



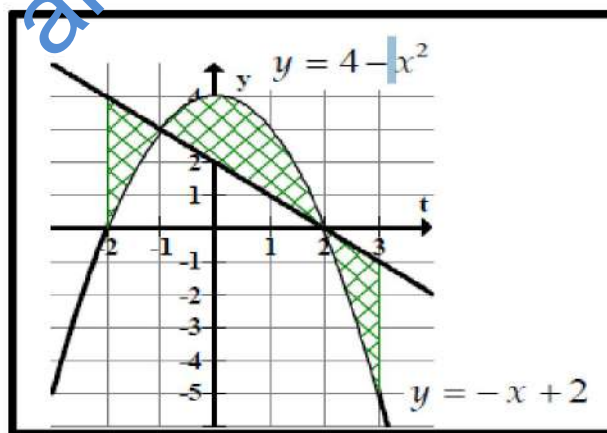
(a) $\frac{128}{5}$ وحدة مربعة

(b) $\frac{129}{25}$ وحدة مربعة

(c) $y = \frac{128}{15}$ وحدة مربعة

(d) $\frac{138}{15}$ وحدة مربعة

(19) مساحة المنطقة المظلة هي:-



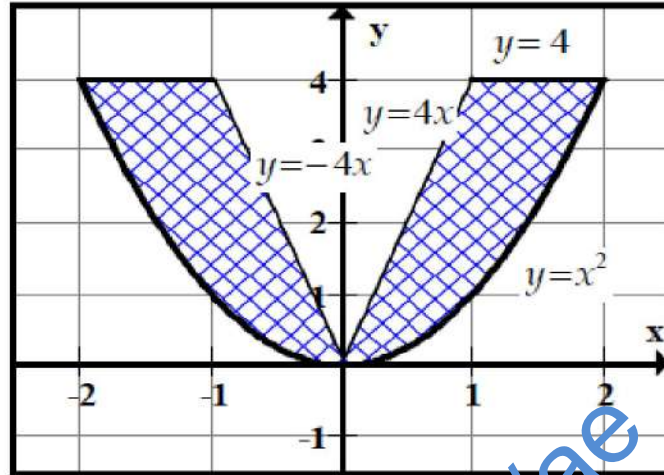
(a) $\frac{85}{6}$ وحدة مربعة

(b) $\frac{85}{6}$ وحدة مربعة

(c) $\frac{85}{6}$ وحدة مربعة

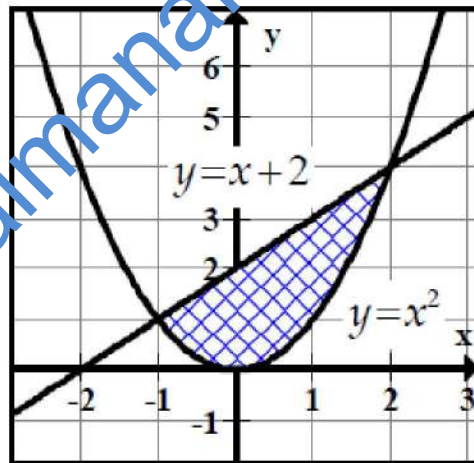
(d) $\frac{138}{15}$ وحدة مربعة

(20) مساحة المنطقة المظللة هي:-



- (a) وحدة مربعة $\frac{10}{3}$ (b) وحدة مربعة $\frac{10}{3}$ (c) وحدة مربعة $\frac{10}{3}$ (d) وحدة مربعة $\frac{10}{3}$

(21) مساحة المنطقة المظللة هي:-



- (a) وحدة مربعة $\frac{9}{4}$ (b) وحدة مربعة $\frac{2}{9}$ (c) وحدة مربعة $\frac{9}{4}$ (d) وحدة مربعة $\frac{9}{2}$

اطردوا واردرات الهموم بعزائم الصبر.



اللهم ارزقنا حبك وحب من يحبك ،
اللهم ظللنا تحت عرشك يوم لا ظل الا ظلك ،
رب اوزعني ان اشكر نعمتك علي وعلى والدي
وان اعمل صالحا ترضاه واصلح لي في ذريتي
اني تبت اليك واني من المسلمين ،
رب اغفر لي ولوالدي ربي ارحمهما كما ربياني صغيرا
اللهم اغفر لي ما لا يعلمون
ولا تؤاخذني بما يقولون
واجعلني خيرا مما يظنون

مع أطيب التمنيات بالدخول فيق والنجاح
أ. هلال حسين أحمد

2020/2019

مع الاعتذار للسهو

اتق الله حيثما كنت.