



• أجب عن جميع الأسئلة التالية

• السؤال الأول يتكون من ( أ- ب- ج- د- هـ ) (درجة لكل نقطة)

أ) صحح ما تحته خط في العبارات التالية:

- ١- احتلت دولة الكويت من قبل القوات العراقية عام ١٩٩٢م ( ١٩٩٠م ) ( ص ٥٩ )
- ٢- كان مقر الحكومة الكويتية فترة غزو النظام العراقي البائد في مدينة الخفجي . ( الطائف ) ( ص ٦١ )
- ٣- تحتفظ دولة الكويت باحتياطي يقارب ٣٥% من احتياطي النفط ( ١٥% ) ( ص ٨٠ )
- ٤- تعد الزراعة المصدر الرئيسي للدخل في دولة الكويت ( النفط ) ( ص ٨٠ )
- ٥- ميناء الدوحة ميناء يتميز بتصدير منتجات النفط الصناعية ( الشعبية ) ( ص ٨٨ )

ب) اكتب المفاهيم والمصطلحات الدالة على العبارات التالية:

١. (العصيان المدني) الامتناع عن التعاون وعن العمل مع النظام المحتل. ( ص ٦٠ )
  ٢. ( الاستثمار ) توظيف الفائض من الأموال الناتج عن زيادة دخل الدولة. ( ص ٨٠ )
  ٣. ( الزراعة المحمية ) زراعة الخضروات في غير مواسمها بحمايتها من تقلبات الطقس. ( ص ٨٤ )
  ٤. ( مؤسسة الموانئ الكويتية ) مؤسسة كويتية مستقلة تتولى إدارة وتشغيل وتطوير الموانئ التجارية. ( ص ٨٨ )
  ٥. ( السياحة ) انتقال الإنسان من مكان إلى آخر لفترة معينة ولغرض معين. ( ص ٩٦ )
- ج) صنف الصناعات الموجودة في المناطق الصناعية لدولة الكويت حسب الجدول التالي: ( ص ٨٢ )

( الأسمدة الكيماوية - المعكرونة - تكرير النفط - الأثاث - إسالة الغاز )

منطقة الشويخ	منطقة الشعبية
المعكرونة	الأسمدة الكيماوية
الأثاث	تكرير النفط
	إسالة الغاز

د) ظلل الإجابة التي لا تنتمي الى المجموعة في المربعات التالية:

(ص ٨٠)

(ص ٨٤)

مصادر الدخل في الكويت	
الزراعة	الثروة السمكية
النفط والغاز الطبيعي	صناعات السيارات

مناطق زراعية قديمة	
الفنطاس	الفنيطيس
العبدلي	الفحجيل

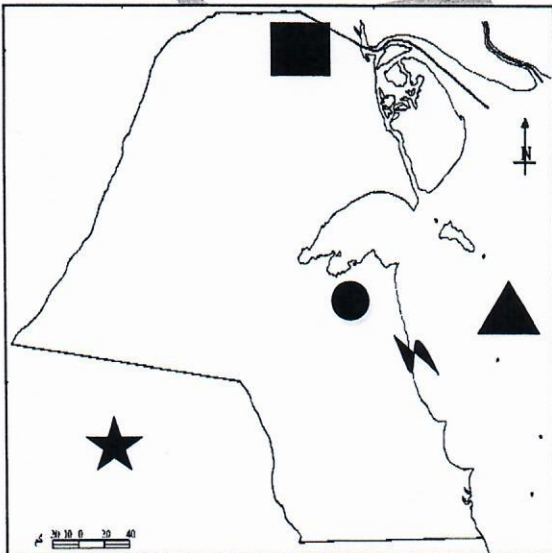
(ص ٦١)

(ص ٩٢)

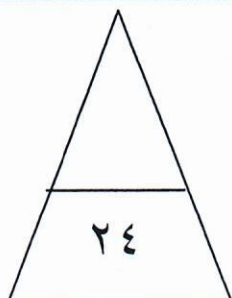
أعمال الكويتيون خارج الكويت فترة الغزو العراقي	
التطوع في الجيش الكويتي	المشاركة في مؤتمر جدة
حراسة الأحياء السكنية	ارسل وفود إلى دول العالم

أهداف الهيئة العامة للصناعة	
تطوير الصناعات المحلية	حماية البيئة من التلوث
تنويع الصناعات المحلية	تشجيع العمالة الوطنية

هـ) نفذ ما هو مطلوب منك على خريطة دولة الكويت الصماء:



- ١- منطقة الشويخ الصناعية باستخدام الرمز (ص ٨١) ○
- ٢- منطقة العبدلي الزراعية باستخدام الرمز (ص ٨٤) □
- ٣- الخليج العربي باستخدام الرمز (ص ٩٠) △
- ٤- المملكة العربية السعودية باستخدام الرمز (ص ٨٩) ☆
- ٥- منطقة الفنيطيس الزراعية باستخدام الرمز (ص ٨٤) ~



السؤال الثاني مقالتي ويتكون من ( أ - ب ) درجة لكل نقطة :

(أ) أذكر بعض الأماكن السياحية في دولة الكويت . (ص ٩٦)

- المجمعات التجارية . - الموروث الشعبي . - ابراج الكويت . ( ما يراه المصحح مناسباً )
- الاماكن الترفيهية . - المركز العلمي .
- الحدائق العامة . - مجمع الأفنيو .

(ب) أجب عن الأسئلة التالية:

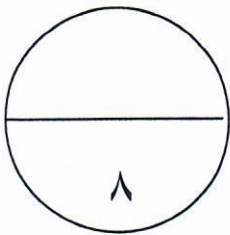
١- اذكر معوقات الزراعة في دولة الكويت: (ص ٨٤)

- فقر التربة .
- قلة المياه .
- شدة الحرارة .
- ٢- عدد أعمال اللجان الشعبية داخل الكويت أثناء غزو النظام العراقي البائد على دولة الكويت. (ص ٦١)

- حراسة الأحياء السكنية .
- إدارة الجمعيات التعاونية .
- توصيل المساعدات للأهالي .
- القيام بأعمال النظافة وتوصيل الخبز .

٣- عدد بعض طرق صيد الأسماك قديماً . (ص ٨٥)

- الحظرة .
- القرقور .
- ( ما يراه المصحح مناسباً )



السؤال الثالث مقالى ويتكون من ( أ - ب ) درجة لكل نقطة :

( أ ) أجب عن الأسئلة التالية:

١- أذكر جهود دولة الكويت في تشجيع القطاع الصناعي: ( ص ٨١ )

- إقامة المناطق الصناعية.
- إقامة المعاهد للتدريب الصناعي.
- تقديم القروض .
- إعفاء الآلات الصناعية من الرسوم الجمركية.

٢ - ما أهمية الثروة الحيوانية في حياتنا. ( ص ٨٥ )

- اللحوم .
  - الحليب .
  - البيض .
- ( ما يراه المصحح مناسباً )

( ب ) اكتب مواقف الدول التي شاركت في تحرير دولة الكويت: ( ص ٦٤ )

**موقف دول العالم**

- تحالف العديد من دول العالم والمساهمة بقوات عسكرية من مشاة وطييران.
- للولايات المتحدة الأمريكية دور بارز في تحرير دولة الكويت.

**الموقف العربي والإسلامي**

- ارسال قوات عربية وإسلامية مشتركة للمشاركة.
- كان للقوات المصرية والسورية دور بارز في حرب التحرير.

**الموقف الخليجي**

- المشاركة بقوات عسكرية
- استخدام مطارات دول الخليج العسكرية
- استدعاء الدول الخليجية للانطلاق من أراضيها لتحرير دولة الكويت ( المملكة العربية السعودية ) .