



وزارة التربية

الإدارة العامة لمنطقة مبارك الكبير التعليمية

اختبار نهاية الفصل الدراسي الثاني
٢٠١٩ / ٢٠١٨

«الخامس»	الصف
«الاجتماعيات»	المادة



المنهج الكامل



ملفات الكويت
التعليمية

kwEduFiles.com



أمريكا الجنوبية



آسيا



أفريقيا



أستراليا

* السؤال الأول و يتكون من (أ - ب) :

(أ) اختر البديل الصحيح من بين البدائل التي أمامك بوضع دائرة حوله :

١- أصغر قارات العالم مساحة : صفحة ١٧

٢- الجهة التي تتحدث فيها أرض الكويت الصحراوية : صفحة ٢٦



من الغرب إلى الشرق



الجمال



من الشمال إلى الجنوب



الجربوع



من الشرق إلى الغرب



الضب



الجنوب إلى الشمال



الأرنب

٣- حيوان يلقب بسفينة الصحراء : صفحة ٤٤

٤- الحاكم الذي قال عبارة (كلبونا جماعة) هو الشيخ : صفحة ٥٤



سعد العبدالله الصباح



صباح السالم الصباح



أحمد الجابر الصباح



عبدالله السالم الصباح

(ب) ظلل (أ) للعبارات الصحيحة ، و ظلل (ب) للعبارة غير الصحيحة :

(ب)	(أ)
(ب)	(أ)
(ب)	(أ)
(ب)	(أ)
(ب)	(أ)

١- عدد سكان دولة الكويت قليل / صفحة ٧٧

٢- يعتبر القرقور من طرق صيد الأسماك في دولة الكويت قديماً / صفحة ٨٥

٣- ميناء الشعبية هو أكبر و أول ميناء في دولة الكويت / صفحة ٨٨

٤- يطلق على السياحة صناعة القرن الواحد والعشرين / صفحة ٩٦

٥- الخط الأساسي الذي يقسم الكرة الأرضية شرقاً و غرباً هو خط الإستواء

* السؤال الثاني و يتكون من (أ - ب - ج) :

أ) اكتب المصطلحات الدالة على العبارات التالية في الجدول الذي أمامك :

م	المفهوم	العبرة
١	<u>الدولة البحرية</u>	الدولة التي بها منفذ بحري . ص ٢٣
٢	<u>الموقع النسبي</u>	موقع الدولة بالنسبة لليابس و الماء . ص ٢١
٣	<u>الدستور</u>	عبارة عن وثيقة مكتوبة يتكون من مجموعة من المواد التي تنظم العلاقة بين الحاكم و المحكوم و تحدد حقوق و واجبات المواطن نحو وطنه . ص ٥٢
٤	<u>الاستثمار</u>	توظيف الفائض من الأموال الناتج عن زيادة دخل الدولة . ص ٨٠

ب) من أنا ؟ :

١- الفراشة + الخنفساء + العنكبوت = الحشرات ص ٤٥

٢- قائد الإنسانية + الحاكم الخامس عشر لدولة الكويت = سمو الشيخ صباح الاحمد الصباح ص ٦٨

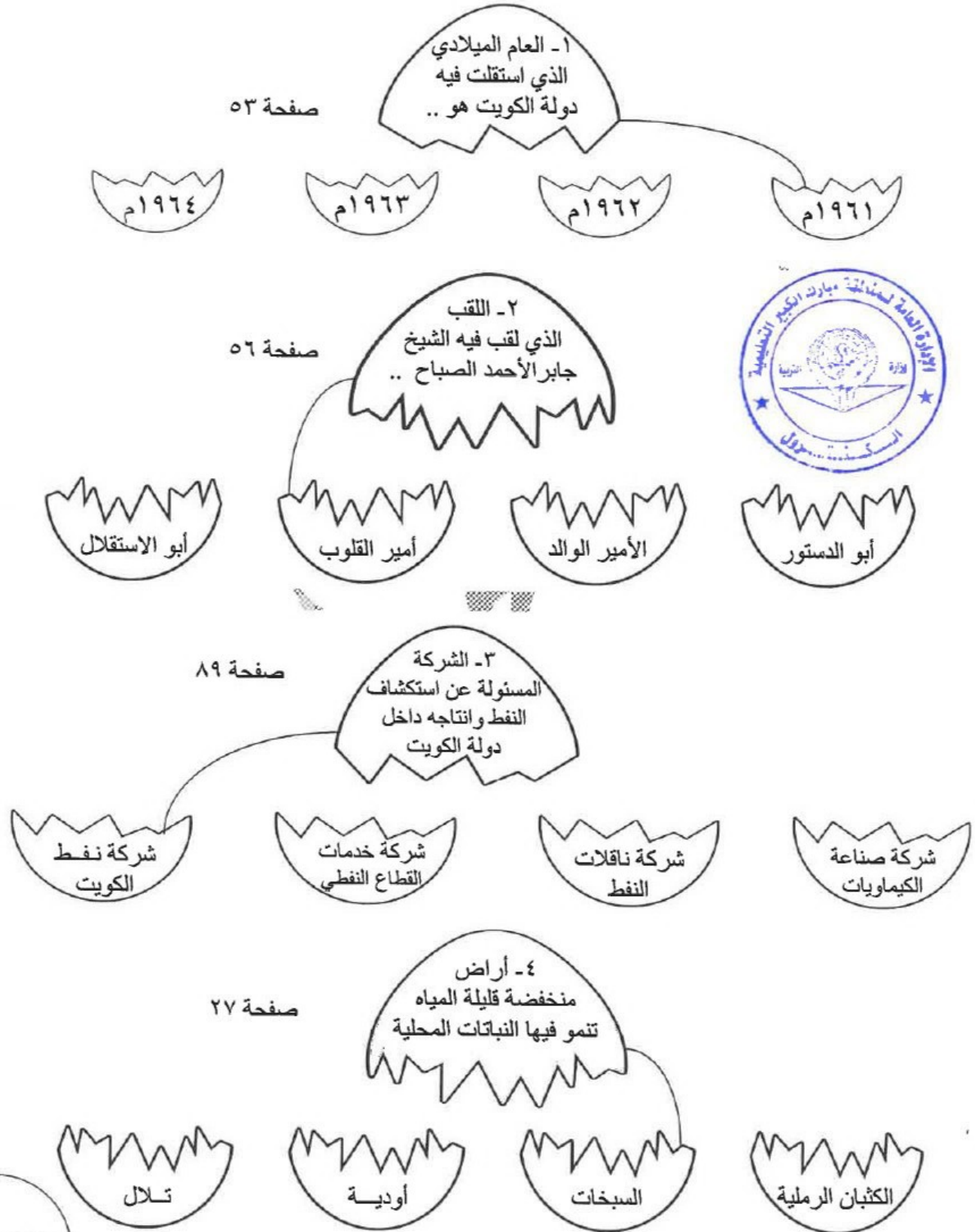


٣- عدد السكان ÷ المساحة = الكثافة السكانية ص ٧٤

ج) أكمل المخططات السهمية التالية :

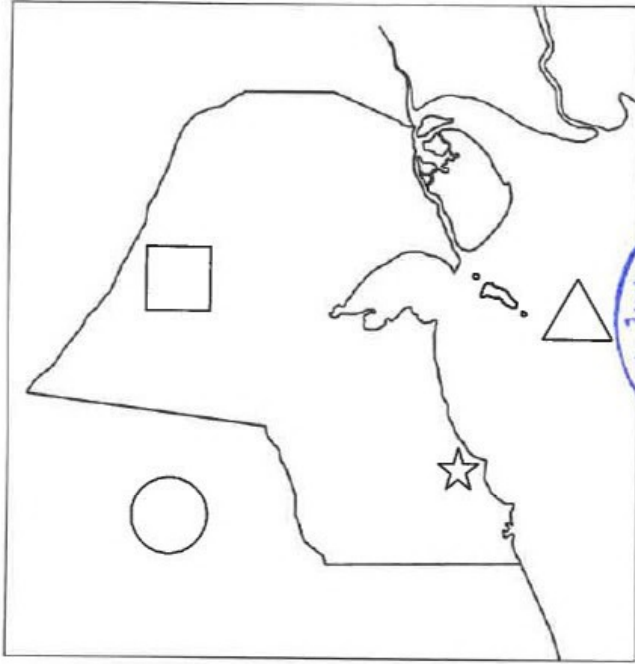



* السؤال الثالث : صل بين أجزاء البيضات المكسورة التالية بما يناسبها من البدائل أسفلها :




* السؤال الرابع و يتكون من (أ - ب) :


(أ) ضع الرمز المطلوب منك على الخريطة في مكانه الصحيح :



- الرمز  يمثل المملكة العربية السعودية .
صفحة ٥٨

- الرمز  يمثل الخليج العربي .
صفحة ١٤

- الرمز  يمثل وادي الباطن .
صفحة ٢٠

- الرمز  يمثل منطقة الشعبية الصناعية .
صفحة ٨١

(ب) أكمل الفقرة التالية من خلال أحداث القصة :

كانت جميلة تخبر جدتها عن موضوع درس اليوم ، عن الغزو العراقي الغاشم على دولة الكويت في عام ١٩٩٠ م :

* الجدة : هل تعرفين لماذا حدث الغزو العراقي على دولة الكويت ؟

* جميلة : نعم يا جدتي ، حدث الغزو العراقي بسبب الحدود و النفط / صفحة ٥٩

و قد أعلن أهل الكويت في الداخل العصيان المدني فوراً و لم يخضعوا للغدر .

* الجدة : ماذا يعني العصيان المدني ؟ صفحة ٦٠

* جميلة : العصيان المدني الامتناع عن العمل و عن التعاون مع النظام المحتل بأى شكل من الأشكال

* الجدة : و أهل الكويت في الخارج كان لهم دور كذلك فماذا فعل الكويتيين في الخارج ؟

* جميلة : نعم يا جدتي كان دورهم في مثل المشارك في مؤتمر جدة الشعبي

- تنشيط دور الاعلام و المسيرات

- التطوع في الجيش الكويتي الذي انضم لدرع الجزيرة

- ارسال وفود لدول العالم

- رفع الوضع الكويتي في جامعة الدول العربية و الامم المتحدة / صفحة ٦١

* الجدة : و في أي عام تحررت الكويت يا جميلة ؟

* جميلة : تحررت دولة الكويت من الغزو العراقي الغاشم في عام ١٩٩١ م / صفحة ٦١

٨ درجات

* السؤال الخامس و يتكون من (أ - ب) :

(أ) اجب عن ما يلي :



(ب) علل ما يلي :

صفحة ٣٤

١- اختلاف المناخ بين مناطق العالم

(١) الارتفاع عن مستوى سطح البحر

(٢) توزيع اليابس و الماء (٣) الموقع بالنسبة لدوائر العرض

٢- للسفر فوائد كثيرة

صفحة ٩٨

تفريج هم و اكتساب معيشة - علم و آداب و صحة ماجد

٣- يظهر الفقع في موسم الموسم

صفحة ٣٧

بسبب سقوط الأمطار

٤- فقر الغطاء النباتي في دولة الكويت

صفحة ٤٠

(١) التفاوت في درجة الحرارة (٢) قلة المطر (٣) ارتفاع نسبة التبخر

(٤) ارتفاع نسبة سطوع الشمس (٥) قلة المياه (٦) كثرة حدوث العواصف الترابية

انتمت الامثلة

٥

٨ درجات

نموذج إجابة امتحان نهاية الفصل الدراسي الثاني (المنهج الخاص)
للسف الخامس الابتدائي للعام الدراسي ٢٠١٨ - ٢٠١٩ م.((أجب عن جميع الأسئلة التالية))

• أولاً: الأسئلة الموضوعية:

- السؤال الأول : يتكون من (أ - ب - ج)

(أ) ظلل الحرف (أ) إذا كانت العبارة صحيحة وظلل الحرف (ب) إذا كانت العبارة خاطئة : (١×٥ = ٥ درجات)

م	العبارة	أ	ب
١-	من أعمال اللجان الشعبية أثناء الغزو العراقي لدولة الكويت حراسة الأحياء السكنية. ص ٦١	أ	ب
٢-	توافر فرص العمل بأجور عالية في دولة الكويت أدت إلى زيادة غير طبيعية. ص ٧٢	أ	ب
٣-	تعتبر دولة الكويت من الدول كثيرة السكان بالنسبة لباقي الدول. ص ٧٧	أ	ب
٤-	تعد حرب تحرير دولة الكويت أول حرب إلكترونية في العالم. ص ٦٥	أ	ب
٥-	فقر التربة وقلة المياه أدى إلى تطور القطاع الزراعي في دولة الكويت. ص ٨٤	أ	ب

(ب) ضع خطأ تحت الخيار الصحيح من بين الخيارات التي تلي كل عبارة : (١×٥ = ٥ درجات)

- ١- انتقال الإنسان من مكان إلى آخر لفترة معينة وغرض معين : ص ٩٦
(السياحة - الهجرة - الاستقرار - التنقل)
- ٢- أول ميناء تجاري في دولة الكويت تم إنشاؤه عام ١٩٦٠م : ص ٨٨
(الأحمدية - الشعبية - الشويخ - الفنتاس)
- ٣- المصدر الرئيسي للدخل في دولة الكويت : ص ٨٠
(الثروة الحيوانية - النفط - الثروة السمكية - الزراعة)
- ٤- أسباب الزيادة الطبيعية في دولة الكويت : ص ٧٢
(اصطحاب عائلات الوافدين - الأمن والاستقرار - توافر فرص عمل - زيادة الخدمات الصحية)
- ٥- من أعمال الشيخ سعد العبدالله قبل ولاية العهد : ص ٦٦
(الاحتفال بإسبوع المرور - ارتفاع دخل الفرد - الاهتمام بقضايا الأمن والشباب - تطوير التعليم الفني والمهني)

(ج) صل المجموعة (أ) بما يناسبها من المجموعة (ب) بوضع الرقم المناسب فيما يلي :
(١×٣ = ٣ درجات)

(أ)	الرقم	(ب)
١- الهيئة العامة للبيئة ص ٩٢	(٣)	- تطوير الصناعة المحلية.
٢- شركة نفط الكويت ص ٨٩	(١)	- حماية البيئة من التلوث.
٣- الهيئة العامة للصناعة ص ٩٢	(-)	- تصنيع وتسويق الأسمدة البتر وكيميائية.
	(٢)	- استكشاف النفط وإنتاجه داخل الكويت.

- السؤال الثاني: يتكون من (أ - ب - ج)

(أ) ظلل الإجابة الصحيحة من بين البدائل التي تلي كل عبارة: (١×٤ = ٤ درجات)

١- تحررت دولة الكويت من الاحتلال العراقي في ٢٦ فبراير من عام : ص ٦٤

١٩٩١م	١٩٩٢م	١٩٩٣م	١٩٩٤م
-------	-------	-------	-------

٢- أطلق مصطلح صناعة القرن الحادي والعشرين على : ص ٩٦

الصناعة	الزراعة	السياحة	الصيد
---------	---------	---------	-------

٣- أكبر المحافظات الكويتية من حيث عدد السكان : ص ٧٤

الفروانية	الأحمدي	الجهراء	حولي
-----------	---------	---------	------

٤- تبلغ نسبة احتياطي النفط في دولة الكويت بالنسبة للدول العربية حوالي : ص ٨٠

١٤%	١٥%	١٦%	١٧%
-----	-----	-----	-----



(ب) صنف المصطلحات العلمية والمفاهيم التالية في مكانها المناسب في الجدول الذي يليها : (١×٤ = ٤ درجات)

- العسيان المدني - الكثافة السكانية - الزراعة المحمية - الاستثمار

١- الزراعة المحمية ص ٨٤	زراعة الخضروات في غير مواسمها وذلك في بيوت بلاستيكية.
٢- العسيان المدني ص ٦٠	الامتناع عن العمل وعن التعاون مع النظام المحتل بأي شكل من الأشكال.
٣- الاستثمار ص ٨٠	توظيف الفائض من الأموال الناتج عن زيادة دخل الدولة.
٤- الكثافة السكانية ص ٧٤	عدد السكان مساحة الدولة

(ج) من أنا؟ (١×٣ = ٣ درجات)

١- أنا الحاكم الثاني عشر لدولة الكويت ولقبت بأبو الجميع. ص ٥٤
صباح السالم الصباح

٢- أنا الحاكم الثالث عشر لدولة الكويت ولقبت بأمير القلوب. ص ٥٦
جابر الأحمد الصباح

٣- أنا الحاكم الخامس عشر لدولة الكويت ولقبت بالأمير القائد. ص ٦٨
صباح الأحمد الصباح

• ثانياً: الأسئلة المقالية:

- السؤال الأول: يتكون من (أ - ب - ج - د)

(أ) أذكر لما يلي: (١ × ٢ = ٢ درجة)

١- أهداف الهيئة العامة للشباب والرياضة.

بناء الشباب الكويتي روحاً وجسداً - إبراز الوجه الحضاري محلياً ودولياً في مجال الشباب والرياضة - تنظيم المهرجانات والمسابقات - تتولى مسؤولية قسم الجوائز والمعسكرات ومراكز الشباب. ص ٩٢

٢- أنواع السياحة.

داخلية - خارجية ص ٩٦ - ٩٨

(ب) فسر ما يلي: (١ × ١ = ١ درجة)

- مؤسسة الموانئ الكويتية: هي مؤسسة مستقلة تتولى إدارة وتشغيل وتطوير الموانئ التجارية. ص ٨٨



(ج) لاحظ الدائرة البيانية التي أمامك ثم أجب عن الأسئلة التالية: (٣ × ١ = ٣ درجة) ص ٧٣



١- كم عدد الذكور غير الكويتيون؟

٣٩,١.

٢- كم عدد الإناث غير الكويتيات؟

٢٥,٤

٣- أيهما أعلى نسبة الذكور الكويتيون أم الإناث الكويتيات؟

الإناث الكويتيات

(د) اقرأ الفقرة التالية ثم أجب عن ما يليها من أسئلة: (٥ × ٢ = ١٠ درجة) ص ٥٤

" الشيخ صباح السالم الصباح من حكام دولة الكويت الذي تميز بإنسانيته وتواضعه وبساطته ، تولى الحكم بعد وفاة أخيه الشيخ عبدالله السالم ، برزت في عهده عدة أحداث مهمة منها تأمين النفط عام ١٩٧٥ م ، وافتتاح جامعة الكويت عام ١٩٦٦ م ."

١- متى تم افتتاح جامعة الكويت؟

١٩٦٦ م

٢- بما تميز الشيخ صباح السالم الصباح؟

الإنسانية - التواضع - البساطة.

- السؤال الثاني : يتكون من (أ - ب - ج)

(أ) لاحظ خريطة دولة الكويت الصماء ثم أجب عن ما يلي : (٤×١ = ٤ درجات)



١- حدد على الخريطة ما يلي باستخدام الأشكال التالية:

- منطقة الشويخ الصناعية (●) ص ٨١

- منطقة العبدلي الزراعية (▲) ص ٨٤

٢- اذكر منطقتين زراعتين قبل النفط.

- الجهراء - الفهيتيس - الفنتاس

- أبو حليفة - الفحيحيل - الشعبية

- جزيرة فيلكا - مدينة الكويت ص ٨٤

(ب) صنف الأحداث التالية في مكانها المناسب في الجدول التالي : (٢×١ = ٢ درجة)

- نادى إلى قيام مجلس التعاون الخليجي. - ممارسة المرأة الكويتية حق الانتخاب والترشيح لعضوية مجلس الأمة.

الشيخ صباح الأحمد الصباح ص ٥٦	الشيخ صباح الأحمد الصباح ص ٦٨
نادى إلى قيام مجلس التعاون الخليجي.	ممارسة المرأة الكويتية حق الانتخاب والترشيح لعضوية مجلس الأمة.

(ج) أجب عن الأسئلة التالية : (٣×١ = ٣ درجات)

١- علل لما يلي : (يكتفى بنقطة واحدة)

أ- تعرض دولة الكويت للغزو العراقي الغاشم عام ١٩٩٠م.

- قضايا الحدود - النفط ص ٥٩

ب- لم يكمل الشيخ سعد العبدالله السالم الصباح مسيرة الحكم.

- نظرا لظروفه الصحية ص ٦٦

٢- اذكر أحد صور الموقف الخليجي في تحرير دولة الكويت. ص ٦٤

المشاركة بقوات عسكرية - استخدام مطارات دول الخليج العسكرية - استدعاء القوات الخليجية للإنتلاق من أراضيها لتحرير دولة الكويت - كان للملكة العربية السعودية ودول الخليج دور كبير في هذا التحرير.

