





وزارة التربية

امتحان نهاية الفترة الدراسية الثانية

للعام : ٢٠١٨\٢٠١٩م

الإدارة العامة لمنطقة الفروانية التعليمية

للمصف الخامس

الزمن : ساعة وربع

التوجيه الفني للاجتماعيات

لمقرر بلادي الكويت

عدد الأوراق : ٤

الإجابة النموذجية

السؤال الأول : ويتكون من (أ - ب - ج - د - هـ) :

(أ) أكمل العبارات التالية بما يناسبها من الكلمات ما بين الأقواس :-

(الزراعة المحمية - الشويخ - الطائف - الموانئ الكويتية - العصيان المدني)

- ١- مقر الحكومة الكويتية المؤقتة فترة العدوان العراقي البائد كان في مدينة تسمى الطائف.....ص ٦١
 - ٢- مؤسسة كويتية مستقلة تتولى إدارة وتشغيل وتطوير الموانئ التجارية تسمى الموانئ الكويتية ص ٨٨
 - ٣- أول ميناء تجاري في دولة الكويت يسمى الشويخ....ص ٨٨
 - ٤- الامتناع عن العمل وعن التعاون مع النظام المحتل بأي شكل من الأشكال يسمى ... العصيان المدني ص ٦٠
 - ٥- زراعة الخضروات في غير مواسمها بحمايتها من تقلبات الطقس وذلك في بيوت بلاستيكية تسمى .الزراعة المحمية ص ٨١
- (ب) صحح ما تحته خطأ في العبارات التالية :-

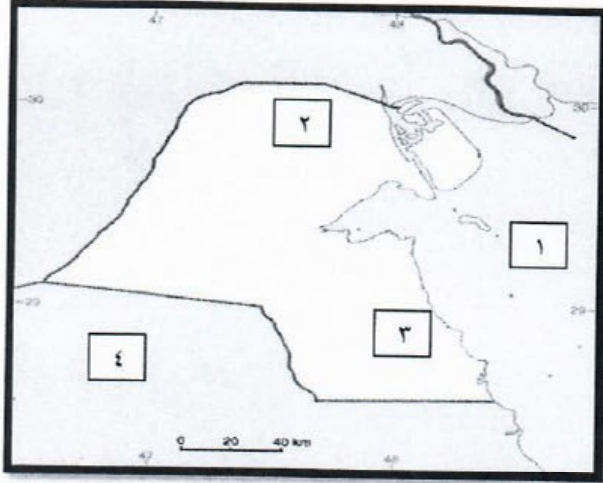
الرقم	العبارة	التصويب
١-	حدث غزو النظام العراقي البائد على دولة الكويت عام ١٩٩٥م	١٩٩٠م ص ٥٨-٥٩
٢-	ذاكرة الشعوب التي تسجل فيها الأحداث فنذكرها ونعتبر منها هي الأسواق	المتاحف ص ٥٨
٣-	من الفواكه التي نجحت دولة الكويت بزراعتها الموز	الفراولة ص ٨٤
٤-	توظيف الفائض من الأموال الناتج عن زيادة دخل الدولة يسمى التجارة	الاستثمار ص ٨٠
٥-	يشكل النفط ومنتجاته البتروكيمياوية والأسمدة من قيمة الصادرات الكويتية حوالي ٩٠%	٩٤% ص ٨٠

(ج) صنف الصناعات التالية حسب الجدول التالي :-

المعرونة	الورق	البسكويت	الألمنيوم	المرطبات
منطقة صباحان ص ٨٢	منطقة الشويخ ص ٨٢			
الورق - المرطبات - الألمنيوم	المعرونة - البسكويت			

تابع الإجابة النموذجية لامتحان نهاية الفترة الدراسية الثانية للصف الخامس مقرر بلادي الكويت عام ٢٠١٨ - ٢٠١٩ م

(د) لاحظ خريطة دولة الكويت ثم أجب عما يلي من أسئلة :-



- الخليج العربي يمثل على الخريطة الرقم ١....

- منطقة العبدلي يمثلها على الخريطة الرقم ٢..... ص ٨٤

- منطقة الشعيب الصناعية يمثلها على الخريطة الرقم ٣.. ص ٨١

(هـ) اختر الإجابة الصحيحة لإكمال المطلوب في الأشكال التالية :-

- فقر التربة ص ٨٤
- تساقط الثلوج
- قلة المياه
- شدة الحرارة



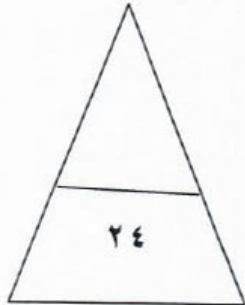
فقر التربة

قلة المياه

شدة الحرارة

الأماكن السياحية في دولة الكويت

- المجمعات التجارية ص ٩٦
- المركز العلمي
- الأهرامات
- الموروث الشعبي



٢

السؤال الثاني ويتكون من (أ - ب) :-

(أ) أجب عن الأسئلة التالية :-

١- عدد أعمال اللجان الشعبية داخل الكويت أثناء غزو النظام العراقي البائد . ص ٦١ (درجتين)

- إدارة الجمعيات التعاونية
- حراسة الأحياء السكنية
- القيام بأعمال النظافة وتوفير الخبز
- توصيل المساعدات المختلفة للأهالي

٢- اذكر الدول التي شاركت في تحرير دولة الكويت. ص ٦٤ (٣ درجات)

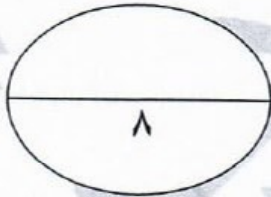
- دول الخليج العربي (المملكة العربية السعودية - قطر - البحرين - سلطنة عمان - الإمارات العربية المتحدة - مصر - سوريا - الولايات المتحدة الأمريكية

٣- ما أهداف الهيئة العامة للصناعة في بلادي الكويت . ص ٩٢ (درجتين)

- تطوير الصناعة المحلية
- تشجيع العمالة الوطنية
- تنويع الصناعات المحلية

(ب) عرف المفهوم التالي :- (درجة)

السياحة : انتقال الإنسان من مكان إاي آخر لفترة معينة ولغرض معين . ص ٩٦



تابع الإجابة النموذجية لامتحان نهاية الفترة الدراسية الثانية للصف الخامس مقرر بلادي الكويت عام ٢٠١٨-٢٠١٩م

السؤال الثالث ويتكون من (أ - ب) :-

(أ) ما فوائد كل من :- (٤ درجات)

فوائد السياحة الخارجية (السفر) ص ٩٨	فوائد الثروة الحيوانية ص ٨٥
الأستمتاع بالجو الجميل الأطلاع على ثقافة الشعوب اكتساب معيشة - علم وأدب - الصحبة قضاء وقت ممتع	اللحوم - البيض - منتجات الألبان

(ب) اذكر نقطتين حول كل من :-

- ١ - جهود دولة الكويت لتشجيع تربية الثروة الحيوانية . (درجتين)
- وفرت لها الرعاية البيطرية - وفرت الدعم المادي - وفرت الأعلاف بأسعار رمزية
- ٢ - مصادر الدخل في بلادي الكويت . (درجتين)
- النفط والغاز الطبيعي - الثروة السمكية - الصناعات النفطية - الزراعة - الثروة الحيوانية

انتهت الأسئلة نرجو لكم النجاح والتوفيق

