

منطقة حولي التعليمية

اختبار نهاية الفترة الدراسية الثانية

العام الدراسي 2019/2018م

# الصف الخامس

نموذج إجابة اختبار مادة

# الاجتماعيات

الاختبار الأساسي

العام الدراسي : ٢٠١٨/٢٠١٩ م  
الزمن : ساعة  
عدد الأوراق ( ٤ )  
نموذج الإجابة

امتحان نهاية الفترة الدراسية  
الثانية لمقرر بلادي الكويت  
للسف الخامس

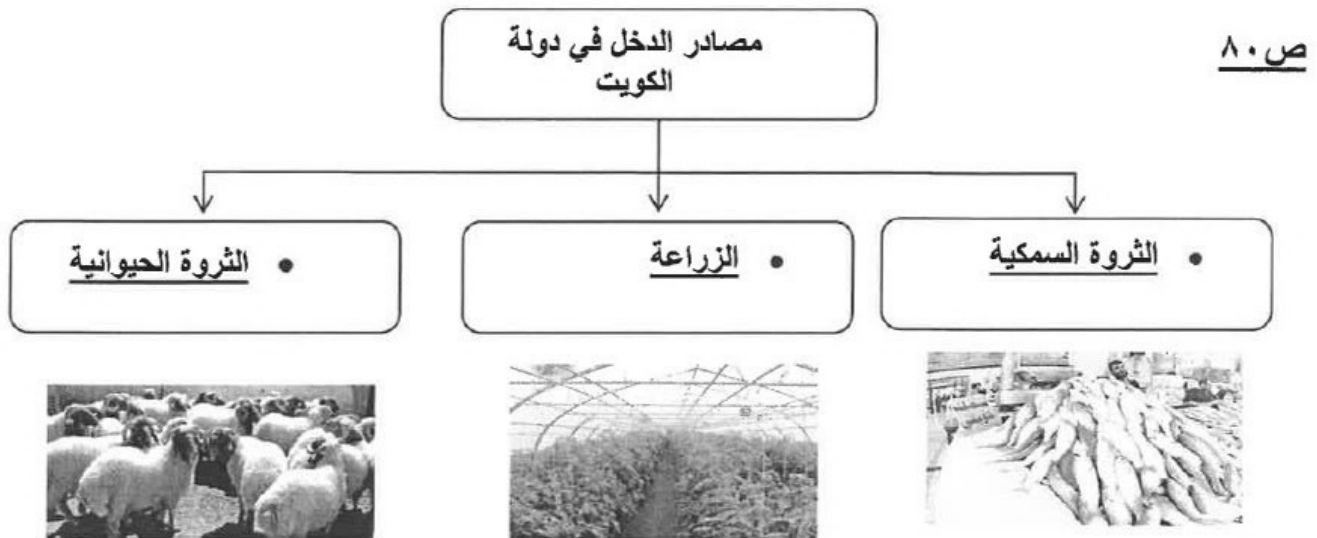
  
وزارة التربية  
الإدارة العامة لمنطقة حولي التعليمية  
التوجيه الفني للاجتماعيات

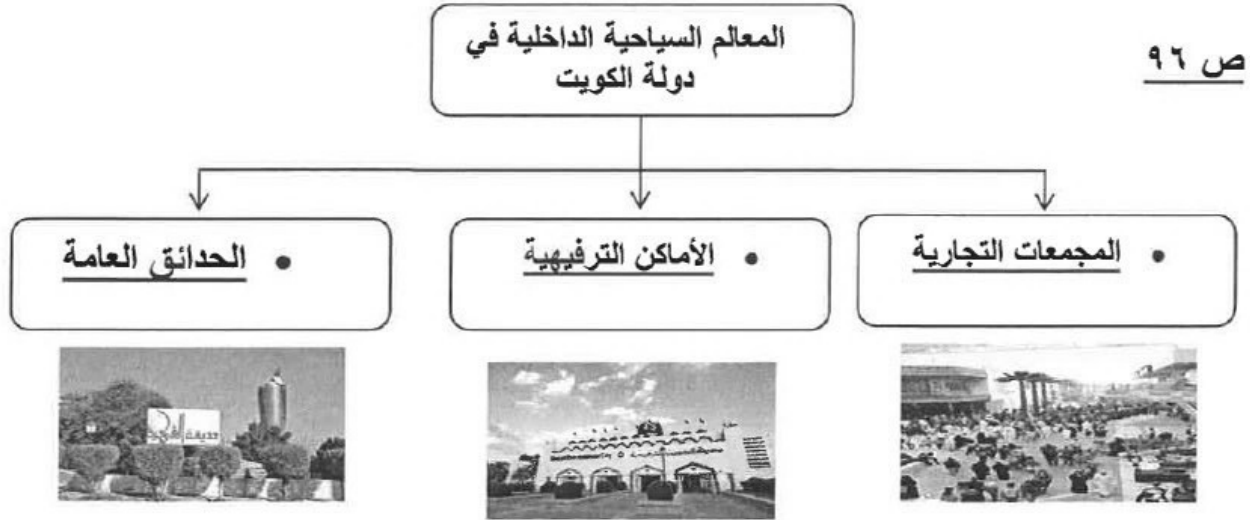
السؤال الأول : موضوعي ويتكون من ( أ - ب - ج - د ) درجة لكل سؤال = ٢٤ درجة

أ - صوب ما تحته خط في العبارات التالية وذلك بوضع الإجابة في الجهة المقابلة :

م	العبرة	التصويب
١	يعتمد الدخل في دولة الكويت اعتماداً كبيراً على الغاز الطبيعي والزراعة . ص ٨٠	النفط
٢	الامتناع عن العمل وعدم التعاون مع النظام المحتل بأي شكل من الأشكال يسمى الاستثمار . ص ٦٠	العصيان المدني
٣	تحررت دولة الكويت من العدوان العراقي في ٢٦ فبراير ١٩٩٠ م . ص ٦٤	١٩٩١ م
٤	انتقال الإنسان من مكان الى آخر لفترة معينة و غرض معين يسمى العدوان . ص ٩٦	السياحة
٥	أول وأكبر الموانئ التجارية في دولة الكويت ميناء الشعبية . ص ٨٨	الشويخ
٦	عمد النظام العراقي البائد إلى الخلافات والمشاكل مع دولة الكويت حول قضايا النفط والصناعة . ص ٥٩	الحدود

ب - أكمل المخططات السهمية التالية مستعيناً بالصور التي أمامك :





ج : صنف الصناعات التالية حسب المنطقة الصناعية وذلك بوضع الرقم : ص ٨٢

١- البلاط ٢- الأثاث ٣- تكرير النفط ٤- الألمنيوم ٥- إسالة الغاز ٦- المعكرونة

منطقة صبحان الصناعية	منطقة الشعبية الصناعية	منطقة الشويخ الصناعية
١	٣	٢
٤	٥	٦

د - أكمل العبارات التالية بما يناسبها :

- ١- توظيف الفائض من الأموال الناتج عن زيادة الدخل يسمى الاستثمار ص ٨٠
- ٢- من وسائل صيد السمك القديمة في دولة الكويت الحظرة و القرقور ص ٨٥
- ٣- من المحاصيل الزراعية التي نجحت دولة الكويت بزراعتها اسمها الفراولة ص ٨٤
- ٤- الشركة المسؤولة عن استكشاف النفط وإنتاجه داخل دولة الكويت تسمى نפט الكويت . ص ٨٩
- ٥- المدينة التي عقد الكويتيون بها مؤتمراً شعبياً بهدف عودة الشرعية الكويتية اسمها جدة . ص ٦١

٦- ميناء يقع جنوب دولة الكويت ويتميز بتصدير منتجات النفط اسمه الشعبية . ص ٨٨

السؤال الثاني: ويتكون من ( أ - ب - ج ) ٨ درجات

أ - فرق بين كل من : درجتين

الزراعة المحمية	الزراعة بدون تربة ص ٨٤
زراعة الخضراوات في غير مواسمها بحمايتها من تقلبات الطقس وذلك في بيوت بلاستيكية .	الزراعة التي تتم في بيئة من الرمل أو الحصى أو نشارة الخشب مضافاً لها المحاليل الغذائية .

ب - أكتب نقطتين حول كل من : ٤ درجات

- ١- فوائد السفر . ص ٩٨ ( درجتين ويكتفى بنقطتين )  
\* تفريج هم \* اكتساب معيشة \* علم وآداب وصحية .  
\* الاستمتاع بالجو الجميل . \* التعرف على ثقافة الشعوب .
- ٢ - دور دولة الكويت في تطوير الثروة الحيوانية . ص ٨٥ ( درجتين ويكتفى بنقطتين )  
\* وفرت مزارع خاصه . \* وفرت الرعاية البيطرية . \* الدعم المادي والأعلاف بأسعار رمزية .

ج - أكتب رسالة شكر الى المقاومة الكويتية واللجان الشعبية معبرا بها عن فخرك واعتزازك بجهودهم في تحرير دولة الكويت من العدوان العراقي الغاشم . درجتين ص ٦١

ترجع الى تقدير المصحح بما يتناسب مع ما هو مطلوب .



السؤال الثالث ويتكون من ( أ - ب - ج ) ٨ درجات

أ- أذكر أعمال اللجان الشعبية في مقاومة العدوان العراقي البائد على دولة الكويت . ص ٦١ درجتين

\* ادارة الجمعيات التعاونية \* حراسة الأحياء السكنية \* القيام بأعمال النظافة وتوفير الخبز  
\* توصيل المساعدات المختلفة للأهالي .

ب - أجب عن الأسئلة التالية :

١- علل - اهتمام دولة الكويت بتنوع موارد الدخل . ص ٨١ درجة  
\* لخطورة الاعتماد على مورد واحد وهو النفط .

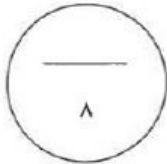
٢- حدد أهمية كل من : درجتين

أ- شركة ناقلات النفط الكويتية : مسؤولة عن نقل النفط الخام والمنتجات البترولية والغاز المسال الى مختلف أنحاء العالم . ص ٨٩  
ب - المتاحف : ذاكرة الشعوب التي تسجل فيها الأحداث فتتذكرها وتعتبر منها . ص ٥٨

ج - أكتب أهداف كل من : ص ٩٢      ٣ درجات يكتفى بهدف فقط لكل هيئة .

الهيئة العامة للشباب والرياضة	الهيئة العامة للبيئة	الهيئة العامة للصناعة
بناء الشباب الكويتي روحاً وجسداً	حماية البيئة من التلوث .	تطوير الصناعة المحلية
تسهم في ابراز الوجه الحضاري لدولة الكويت محلياً ودولياً	المحافظة على البيئة الطبيعية	تشجيع العمالة الوطنية
تتولى مسؤولية قسم الجوالة والمعسكرات وبيوت الشباب ومراكز الشباب	تحد من الآثار السلبية لاستخدام التكنولوجيا على الانسان وعلى البيئة	تنويع الصناعات المحلية

مجموع درجات السؤال الثالث.....



انتهت الاسئلة ..