

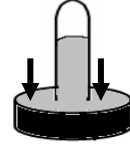
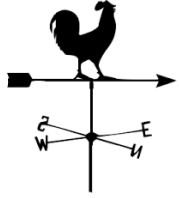
نموذج امتحان في مادة العلوم للصف الخامس الابتدائي الفصل الدراسي الثاني

النموذج الخامس

أولاً : الأسئلة الموضوعية

السؤال الأول : اختر الإجابة الصحيحة علمياً لكنم العبارات التالية بوضع علامة (✓) في المربع المقابل لها:

1- الأداة التي تقيس الضغط الجوي هي :



2- يطلق على كمية بخار الماء في الهواء بـ :

السماحيق

الرطوبة

الجهة

الرياح

3- الوقت الذي يستغرقه القمر ليدور مرة واحدة حول الأرض هو:

29½ يوم

29 يوم

19½ يوم

19 يوم

4- أبعد الكواكب عن الشمس هو كوكب :

نبتون

المشتري

الأرض

عطارد

5- المدة التي تستغرقها الأرض لتدور حول نفسها مرة واحدة :

سنة

شهر

أسبوع

يوم

السؤال الثاني: اكتب بين القوسين كلمة (صحيحة) للعبارة الصحيحة وكلمة (خطأ) للعبارة غير

الصحيحة في كل مما يأتي :

- 1 - لا تنتقل الموجات الصوتية في الفراغ . ()
- 2 - في المناطق الجافة نرى أعداداً كثيرة من السحب . ()
- 3 - تدور الأرض حول خط وهمي يسمى محوراً . ()
- 4 - جاذبية الشمس تجعل الأرض تبقى في مدارها حول الشمس . ()
- 5 - نرى القمر نصف بديراً عندما يكون نصف القمر المواجه للأرض كله مضاء . ()

السؤال الثالث : أكمل كل من العبارات التالية بما يناسبها علمياً :-

- 1-تعرف المسافة بين أي نقطة على جزء من موجة و النقطة نفسها على الموجة التالية ب.....
- 2-المسافة التي تفصل بين جسيمات الهواء من المسافة التي بين جسيمات الماء .
- 3-مدارات الكواكب الشكل .
- 4-عندما يكون القمر يكون نصف القمر المواجه للأرض كله مظلماً .
- 5-سنة الكوكب هي الوقت الذي يلزمه في الدوران حول.....

السؤال الرابع : اختر العبارة من المجموعة (ب) ما يناسبها من المجموعة (أ) واكتب الرقم أمامها :

الرقم	المجموعة (أ)	المجموعة (ب)
()	- تتشكل منطقة الضغط المنخفض عندما	1. يرتفع الهواء البارد إلى الأعلى
()	-تتشكل منطقة الضغط المرتفع عندما	2. ينزل الهواء البارد إلى الأسفل 3. يرتفع الهواء الدافئ إلى الأعلى

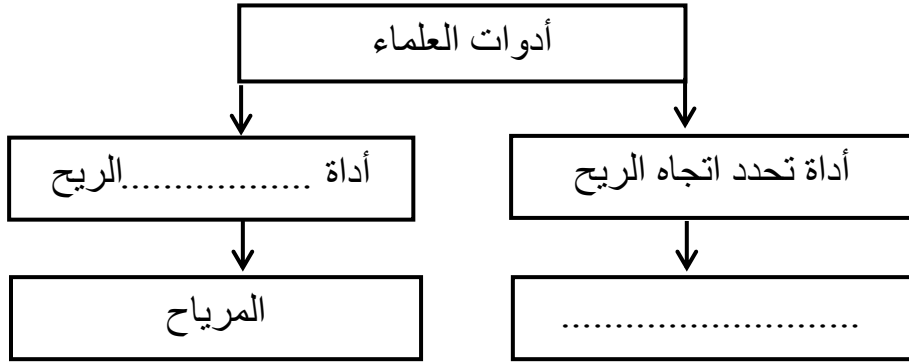
الرقم	المجموعة (أ)	المجموعة (ب)
()	- كوكب ليس له أقمار	1.الأرض
()	-كوكب له قمرٌ واحد	2. عطارد 3. أورانوس

السؤال الخامس : أكمل جداول المقابلة التالية: -

طيلة الأذن	القوقعة	وجه الشبه

البرد	المطر	وجه الشبه

السؤال السادس : مستعينا بالخريطة الذهنية التالية أجب عما يلي:



السؤال السابع : ماذا تتوقع أن يحدث في الحالات التالية؟

1- تتعرض الكتلة الهوائية إلى اختلافات في ضغط الهواء .

.....

2- تحدث ظاهرة كسوف الشمس في الكويت .

.....

السؤال الثامن : علل لما يأتي تعليلاً علمياً سليماً:

1- اختلاف درجات الحرارة في دول العالم حولنا .

.....

2- الكواكب القريبة من الشمس لا تصلح للحياة .

.....

السؤال التاسع : أجب عما يلي:

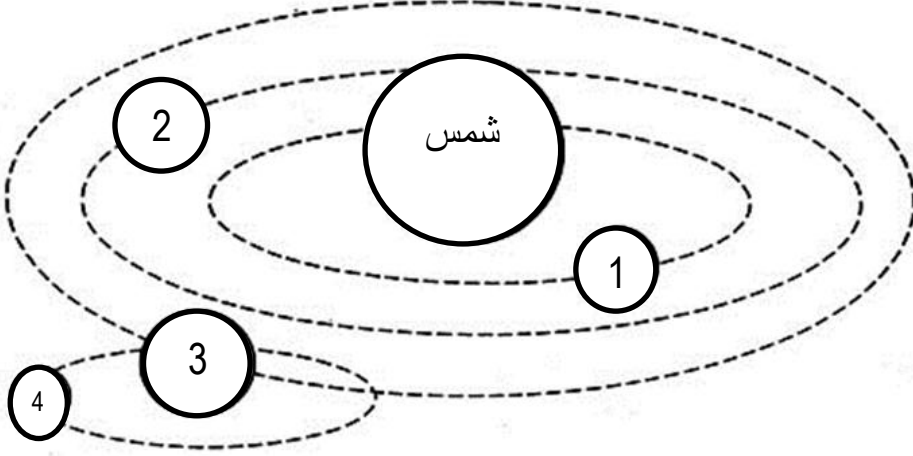
1- ما هو سبب شعورك بألم في أذنك أثناء سفرك بالطائرة؟

.....

2- ما هي فائدة قدرة الحيوانات على سماع أصوات لا يستطيع البشر سماعها؟

السؤال العاشر : ادرس الرسم التالي ثم أجب عن الأسئلة التالية:

الرسم التالي يمثل النظام الشمسي ودوران بعض الكواكب حول الشمس .



أ- رقم (3) يمثل

ب- رقم (4) يمثل

انتهت الأسئلة

