

تم تحميل هذا الملف من موقع المناهج السعودية



موقع المناهج المنهاج السعودي

* للحصول على أوراق عمل لجميع الصفوف وجميع المواد اضغط هنا

<https://www.almanahj.com/sa>

* للحصول على أوراق عمل لجميع مواد الصف الرابع اضغط هنا

<https://almanahj.com/sa/4>

* للحصول على جميع أوراق الصف الرابع في مادة اجتماعيات ولجميع الفصول, اضغط هنا

<https://almanahj.com/sa/4social>

* للحصول على أوراق عمل لجميع مواد الصف الرابع في مادة اجتماعيات الخاصة بـ الفصل الثاني اضغط هنا

<https://www.almanahj.com/sa/4social2>

* لتحميل كتب جميع المواد في جميع الفصول للـ الصف الرابع اضغط هنا

<https://www.almanahj.com/sa/grade4>

للحصول على جميع روابط الصفوف على تلغرام وفيسبوك من قنوات وصفحات: اضغط هنا

<https://t.me/sacourse>

السلام عليكم ورحمة الله وبركاته
اخواني المعلمين ... اخواتي المعلمات
هذا العمل وقف لجميع المعلمين والمعلمات
ولا نبتغي من ذلك إلا الاجر من الله
ولا نحلل المتاجرة به أو نسبته إلى أي شخص
نسأل الله التوفيق للجميع



بسم الله الرحمن الرحيم

ورقة عمل درس (الأرض)

اسم الطالب : الصف : رابع /

=====

س / ما المقصود بالأرض ؟

ج /



س / ما شكل الأرض ؟

ج /

س / هل التقطت صورة الكرة الأرضية في الشكل التالي من مكان

مرتفع من الأرض أو من الفضاء ؟

ج /



بسم الله الرحمن الرحيم

ورقة عمل درس (الأرض)

اسم الطالب : الصف : رابع /

=====

س / ما المقصود بالأرض ؟

ج /



س / ما شكل الأرض ؟

ج /

س / هل التقطت صورة الكرة الأرضية في الشكل التالي من مكان

مرتفع من الأرض أو من الفضاء ؟

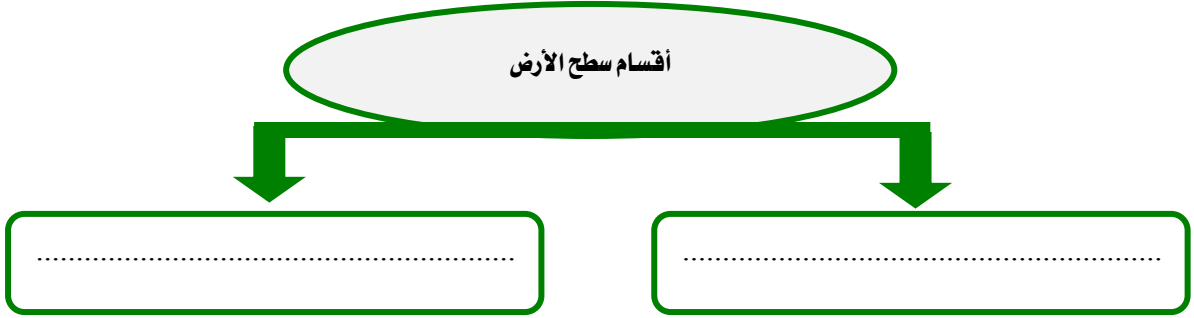
ج /



بسم الله الرحمن الرحيم
ورقة عمل درس (أشكال سطح الأرض)

اسم الطالب : الصف : رابع /

س / ينقسم سطح الأرض إلى قسمين ، أذكرهما ؟



س / أكمل الفراغات التالية بما يناسب :

أ - من أشكال اليابسة على سطح الأرض :

الجبال و و و

ب - من أشكال الماء على سطح الأرض :

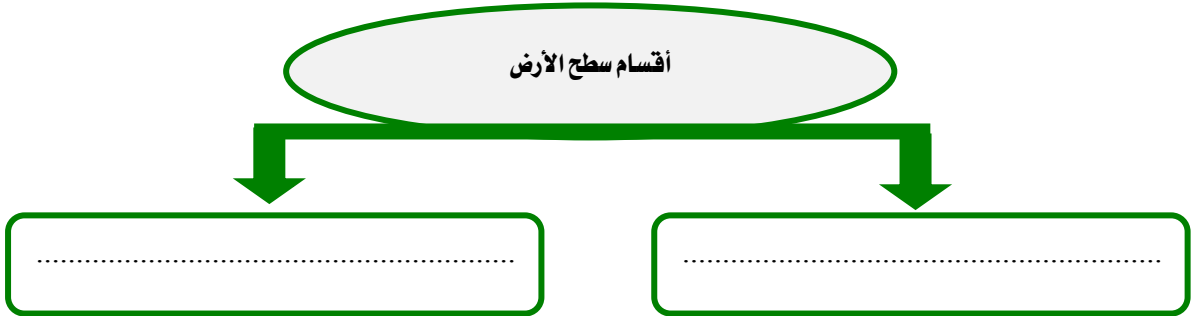
المحيطات و و



بسم الله الرحمن الرحيم
ورقة عمل درس (أشكال سطح الأرض)

اسم الطالب : الصف : رابع /

س / ينقسم سطح الأرض إلى قسمين ، أذكرهما ؟



س / أكمل الفراغات التالية بما يناسب :

أ - من أشكال اليابسة على سطح الأرض :

الجبال و و و

ب - من أشكال الماء على سطح الأرض :

المحيطات و و



بسم الله الرحمن الرحيم
ورقة عمل درس (دوران الأرض)

اسم الطالب : الصف : رابع /

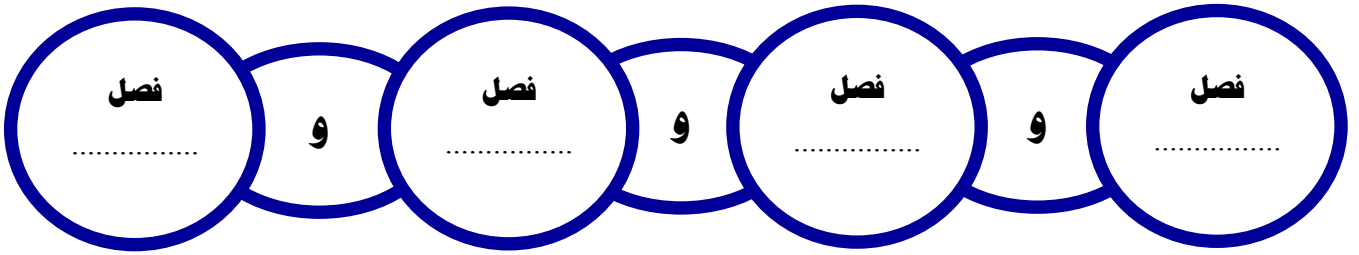
س / أكمل الفراغات التالية بما يناسب :

للأرض حركتان :

الأولى : وينتج عنها تعاقب و

الثانية : وتنتج عنها و

س / اكتب في الشكل الآتي الفصول الأربعة :



بسم الله الرحمن الرحيم
ورقة عمل درس (دوران الأرض)

اسم الطالب : الصف : رابع /

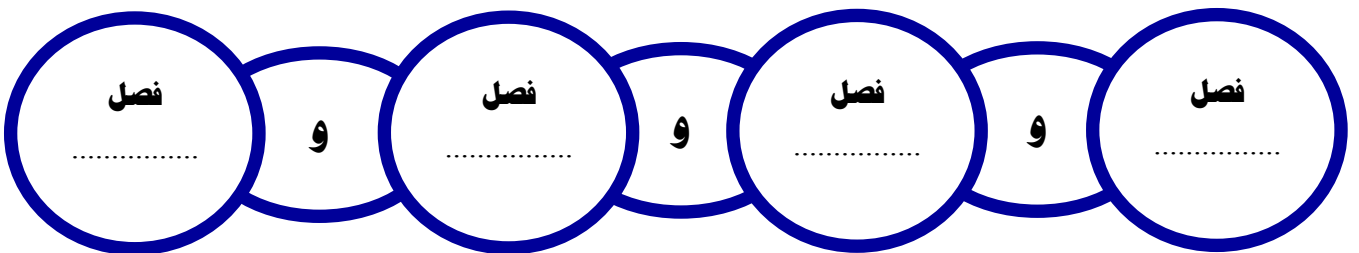
س / أكمل الفراغات التالية بما يناسب :

للأرض حركتان :

الأولى : وينتج عنها تعاقب و

الثانية : وتنتج عنها و

س / اكتب في الشكل الآتي الفصول الأربعة :





بسم الله الرحمن الرحيم

ورقة عمل درس (دوران القمر حول الأرض)

اسم الطالب : الصف : رابع /

س / ما المقصود بالقمر ؟

ج /

س / أكمل الفراغات التالية بما يناسب :

- أ - نحن نرى الجزء فقط من القمر
- ب - نسمي القمر المكتمل
- ج - عندما يبدأ الشهر فإننا نرى

س / ضع علامة (√) أمام العبارة الصحيحة وعلامة (×) أمام العبارة الخاطئة فيما يلي :

- 1 - يدور القمر حول الأرض مرة كل شهر
- 2 - كسوف الشمس هو احتجاب ضوء الشمس عن جزء من الأرض ، وذلك عندما يتوسط القمر بينهما



بسم الله الرحمن الرحيم

ورقة عمل درس (دوران القمر حول الأرض)

اسم الطالب : الصف : رابع /

س / ما المقصود بالقمر ؟

ج /

س / أكمل الفراغات التالية بما يناسب :

- أ - نحن نرى الجزء فقط من القمر
- ب - نسمي القمر المكتمل
- ج - عندما يبدأ الشهر فإننا نرى

س / ضع علامة (√) أمام العبارة الصحيحة وعلامة (×) أمام العبارة الخاطئة فيما يلي :

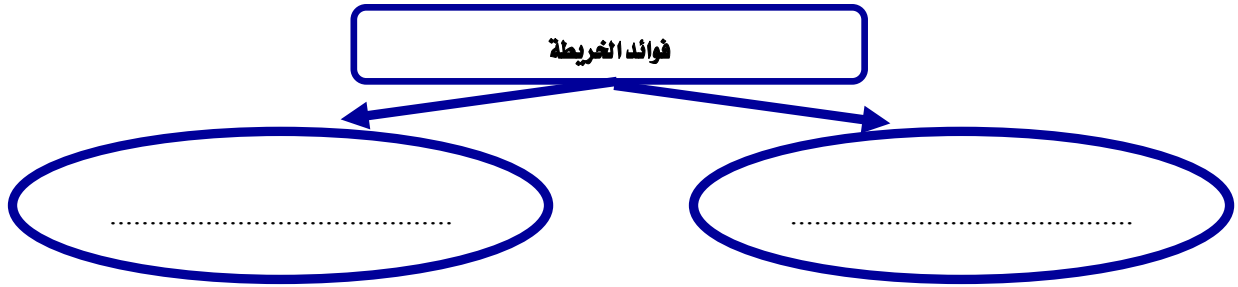
- 1 - يدور القمر حول الأرض مرة كل شهر
- 2 - كسوف الشمس هو احتجاب ضوء الشمس عن جزء من الأرض ، وذلك عندما يتوسط القمر بينهما



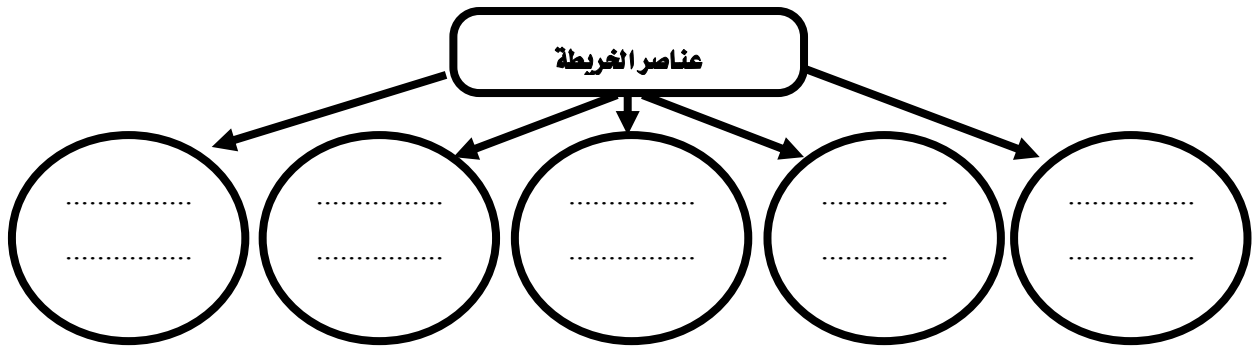
بسم الله الرحمن الرحيم
ورقة عمل درس (الخريطة)

اسم الطالب : الصف : رابع /

س / اذكر فوائد الخريطة ؟



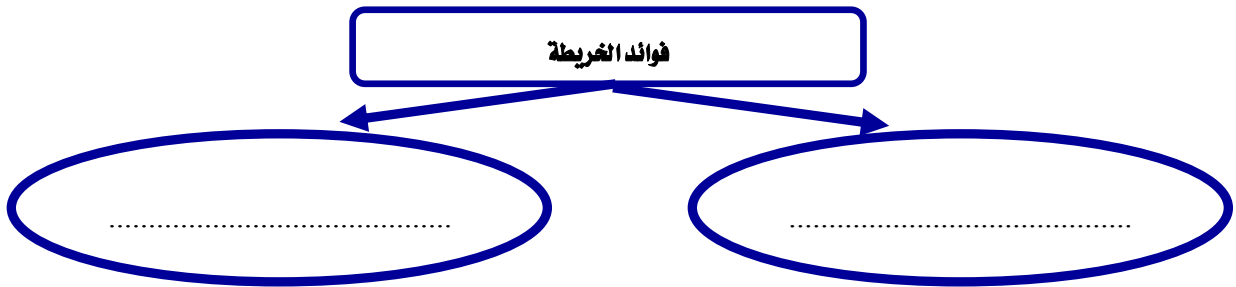
س / اذكر عناصر الخريطة في الشكل التالي :



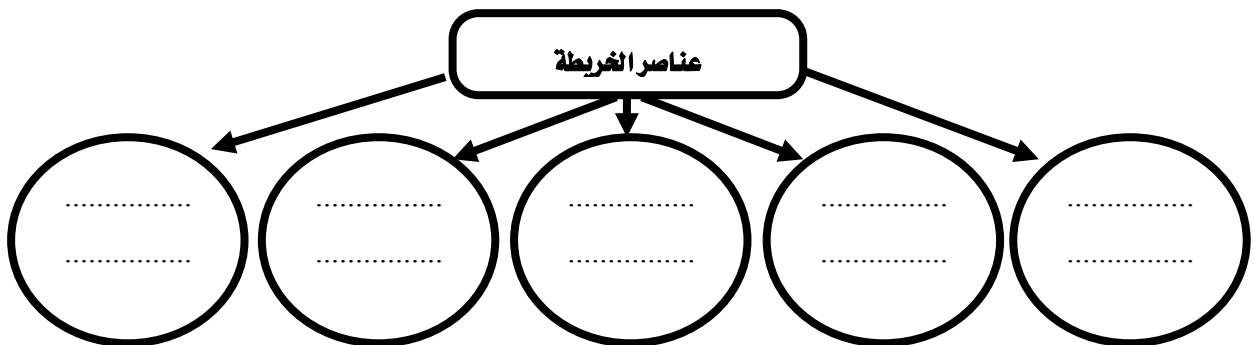
بسم الله الرحمن الرحيم
ورقة عمل درس (الخريطة)

اسم الطالب : الصف : رابع /

س / اذكر فوائد الخريطة ؟



س / اذكر عناصر الخريطة في الشكل التالي :





بسم الله الرحمن الرحيم

ورقة عمل درس (شبه الجزيرة العربية : الموقع والحضارة)

اسم الطالب : / الصف : رابع /

س / أكمل الفراغات التالية بما يناسب :

- ومن الشرق
- ومن الجنوب
- ومن الشمال

س / تعد شبه الجزيرة العربية مهد الحضارات اذكر اهمها :



س / ضع علامة (√) أمام العبارة الصحيحة وعلامة (×) أمام العبارة الخاطئة فيما يلي :

- ١ - تقع شبه الجزيرة العربية في الجنوب الغربي من قارة آسيا
- ٢ - من واجبتنا تجاه الحضارات القديمة في وطننا المملكة العربية السعودية المحافظة عليها
- ٣ - تقع حضارة ثمود في مدائن صالح في مصر



بسم الله الرحمن الرحيم

ورقة عمل درس (شبه الجزيرة العربية : الموقع والحضارة)

اسم الطالب : / الصف : رابع /

س / أكمل الفراغات التالية بما يناسب :

- ومن الشرق
- ومن الجنوب
- ومن الشمال

س / تعد شبه الجزيرة العربية مهد الحضارات اذكر اهمها :



س / ضع علامة (√) أمام العبارة الصحيحة وعلامة (×) أمام العبارة الخاطئة فيما يلي :

- ١ - تقع شبه الجزيرة العربية في الجنوب الغربي من قارة آسيا
- ٢ - من واجبتنا تجاه الحضارات القديمة في وطننا المملكة العربية السعودية المحافظة عليها
- ٣ - تقع حضارة ثمود في مدائن صالح في مصر

بسم الله الرحمن الرحيم

ورقة عمل درس (شبه الجزيرة العربية : السكان وأحوالهم)

اسم الطالب : / الصف : رابع /

س / سكن العرب أرض شبه الجزيرة العربية منذ آلاف السنين ، وينقسمون إلى قسمين أذكرهما :

- ٢

- ١

س / ضع علامة (√) أمام العبارة الصحيحة وعلامة (×) أمام العبارة الخاطئة فيما يلي :

١- الحنيفة هي ملة إبراهيم عليه السلام

٢- اتسم العرب بالقيم الأخلاقية الحميدة

٣- كانت النزاعات والحروب هي السمة البارزة بين القبائل في شبه الجزيرة العربية قبل الإسلام

س / عدد أهم الأنشطة الاقتصادية في شبه الجزيرة العربية :

الأنشطة الاقتصادية في شبه الجزيرة العربية

.....

.....

.....

بسم الله الرحمن الرحيم

ورقة عمل درس (شبه الجزيرة العربية : السكان وأحوالهم)

اسم الطالب : / الصف : رابع /

س / سكن العرب أرض شبه الجزيرة العربية منذ آلاف السنين ، وينقسمون إلى قسمين أذكرهما :

- ٢

- ١

س / ضع علامة (√) أمام العبارة الصحيحة وعلامة (×) أمام العبارة الخاطئة فيما يلي :

١- الحنيفة هي ملة إبراهيم عليه السلام

٢- اتسم العرب بالقيم الأخلاقية الحميدة

٣- كانت النزاعات والحروب هي السمة البارزة بين القبائل في شبه الجزيرة العربية قبل الإسلام

س / عدد أهم الأنشطة الاقتصادية في شبه الجزيرة العربية :

الأنشطة الاقتصادية في شبه الجزيرة العربية

.....

.....

.....

بسم الله الرحمن الرحيم
ورقة عمل درس (قبلة المسلمين)

اسم الطالب : الصف : رابع /

س / أكمل الفراغات التالية بما يناسب :

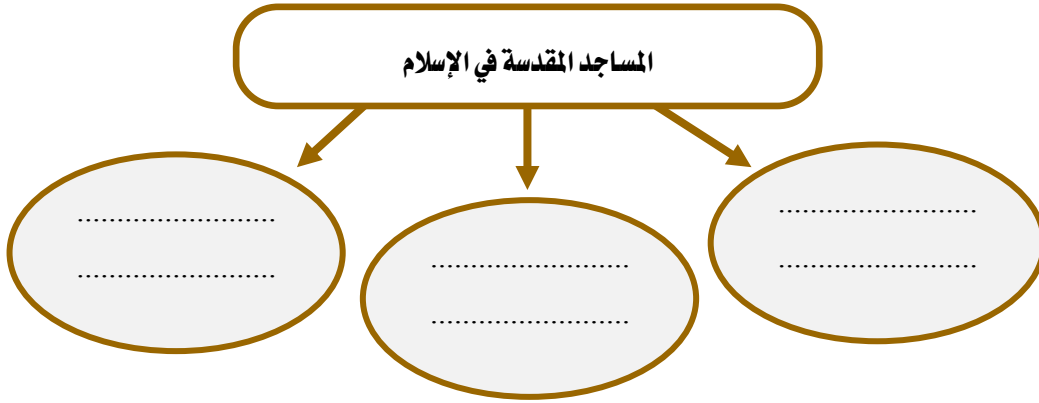
- أول قبلة للمسلمين قبل الكعبة المشرفة هي

- تقع قبلة المسلمين في وفيها المدن المقدسة الآتية

و.....

- يقع بيت المقدس في ويقع مسجد القبلتين في

س / عدد المساجد المقدسة في الإسلام :



بسم الله الرحمن الرحيم
ورقة عمل درس (قبلة المسلمين)

اسم الطالب : الصف : رابع /

س / أكمل الفراغات التالية بما يناسب :

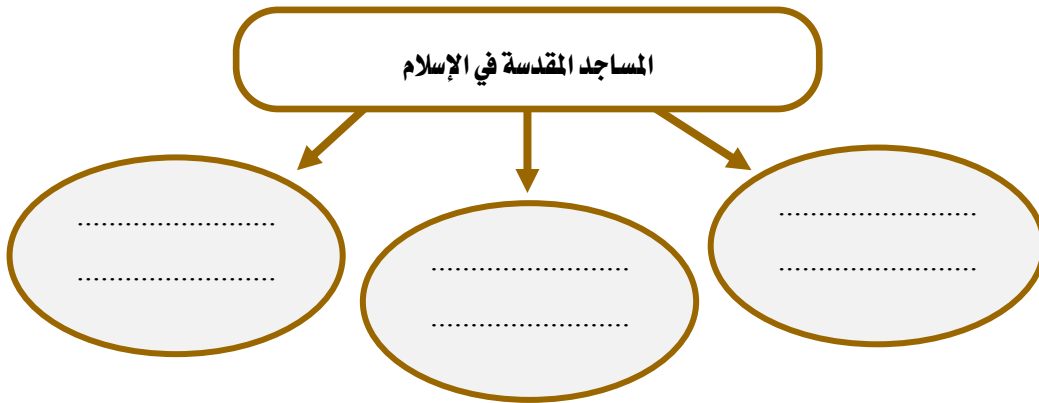
- أول قبلة للمسلمين قبل الكعبة المشرفة هي

- تقع قبلة المسلمين في وفيها المدن المقدسة الآتية

و.....

- يقع بيت المقدس في ويقع مسجد القبلتين في

س / عدد المساجد المقدسة في الإسلام :





بسم الله الرحمن الرحيم

ورقة عمل درس (الأثار)

اسم الطالب : / الصف : رابع /

س / في وطني المملكة العربية السعودية أثار تعود في تاريخها إلى آلاف السنين أذكرها :

..... / ٢

..... / ١

..... / ٤

..... / ٣

س / اختر الاجابة الصحيحة من بين الأقواس فيما يلي :

(جدة - الرياض - الطائف)

١ - يقع المتحف الوطني في بلادي في

(القصيم - نجران - جازان)

٢ - تقع أثار الأخدود في

(العلا - الدمام - الرياض)

٣ - تقع مدائن صالح في

س / لماذا نهتم بالآثار؟

..... / ج
.....



بسم الله الرحمن الرحيم

ورقة عمل درس (الأثار)

اسم الطالب : / الصف : رابع /

س / في وطني المملكة العربية السعودية أثار تعود في تاريخها إلى آلاف السنين أذكرها :

..... / ٢

..... / ١

..... / ٤

..... / ٣

س / اختر الاجابة الصحيحة من بين الأقواس فيما يلي :

(جدة - الرياض - الطائف)

١ - يقع المتحف الوطني في بلادي في

(القصيم - نجران - جازان)

٢ - تقع أثار الأخدود في

(العلا - الدمام - الرياض)

٣ - تقع مدائن صالح في

س / لماذا نهتم بالآثار؟

..... / ج
.....



بسم الله الرحمن الرحيم

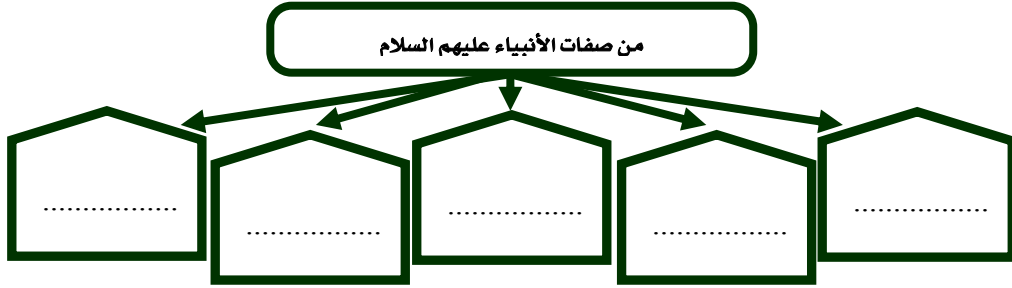
ورقة عمل درس (آدم ونوح عليهم السلام)

اسم الطالب : الصف : رابع /

س / ضع علامة (√) أمام العبارة الصحيحة وعلامة (×) أمام العبارة الخاطئة فيما يلي :

- ١- أول نبي من أنبياء الله تعالى هو آدم عليه السلام
- ٢- جميع البشر بمختلف ألوانهم وأشكالهم هم من ذرية آدم عليه السلام
- ٣- أخذ نبي الله نوح يدعو إلى توحيد الله في قومه ٩٥٠ عاماً
- ٤- أمر الله عز وجل نوح عليه السلام ببناء الحصون والقلاع لنجاتهم

س / اذكر صفات الأنبياء عليهم السلام :



بسم الله الرحمن الرحيم

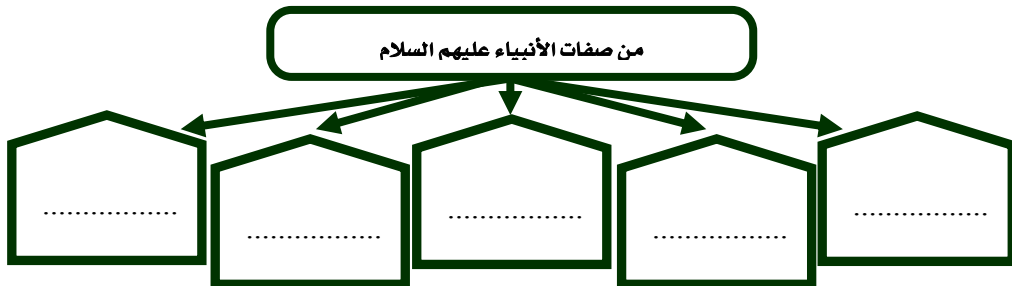
ورقة عمل درس (آدم ونوح عليهم السلام)

اسم الطالب : الصف : رابع /

س / ضع علامة (√) أمام العبارة الصحيحة وعلامة (×) أمام العبارة الخاطئة فيما يلي :

- ١- أول نبي من أنبياء الله تعالى هو آدم عليه السلام
- ٢- جميع البشر بمختلف ألوانهم وأشكالهم هم من ذرية آدم عليه السلام
- ٣- أخذ نبي الله نوح يدعو إلى توحيد الله في قومه ٩٥٠ عاماً
- ٤- أمر الله عز وجل نوح عليه السلام ببناء الحصون والقلاع لنجاتهم

س / اذكر صفات الأنبياء عليهم السلام :

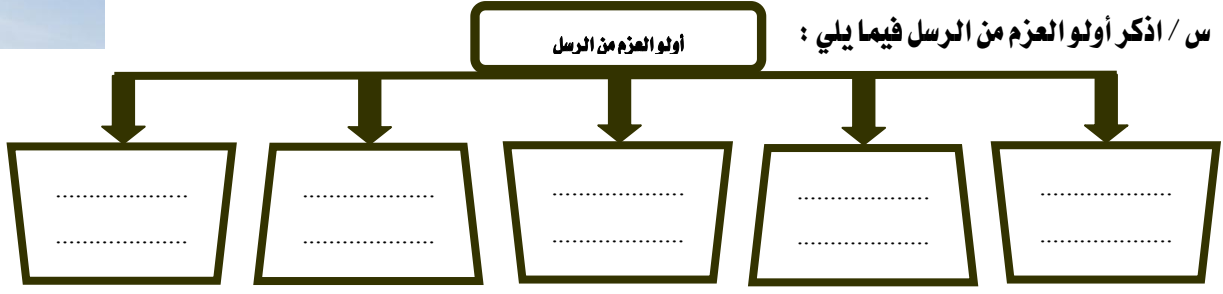




بسم الله الرحمن الرحيم

ورقة عمل درس (أولو العزم من الرسل)

اسم الطالب : الصف : رابع /



س / اكتب أسماء الكتب السماوية المنزلة على الأنبياء عليهم السلام أمام كل نبي فيما يلي :

الكتب المنزل عليهم	الأنبياء عليهم السلام
.....	١ - موسى عليه السلام
.....	٢ - عيسى عليه السلام
.....	٣ - محمد صلى الله عليه وسلم

س / ماذا نستفيد من قصص الأنبياء :

..... ١

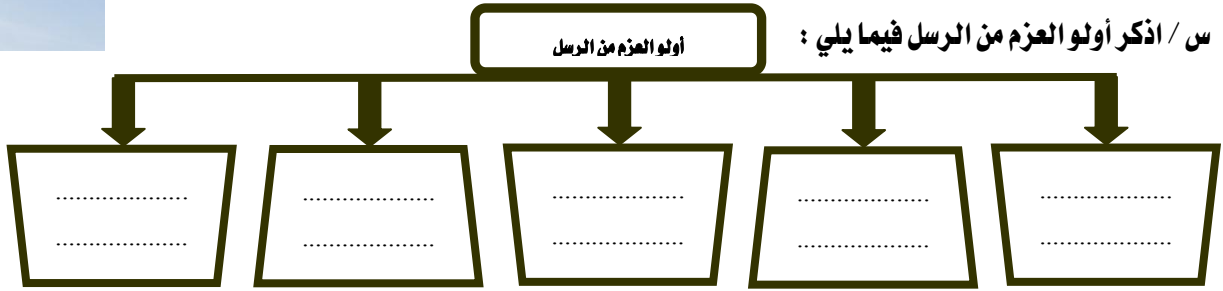
..... ٢



بسم الله الرحمن الرحيم

ورقة عمل درس (أولو العزم من الرسل)

اسم الطالب : الصف : رابع /



س / اكتب أسماء الكتب السماوية المنزلة على الأنبياء عليهم السلام أمام كل نبي فيما يلي :

الكتب المنزل عليهم	الأنبياء عليهم السلام
.....	١ - موسى عليه السلام
.....	٢ - عيسى عليه السلام
.....	٣ - محمد صلى الله عليه وسلم

س / ماذا نستفيد من قصص الأنبياء :

..... ١

..... ٢

بسم الله الرحمن الرحيم

ورقة عمل درس (نسب النبي محمد صلى الله عليه وسلم ونشأته)

اسم الطالب : الصف : رابع /

س / اذكر نسب نبينا محمد صلى الله عليه وسلم ؟

ج /

س / صل ما في المجموعة (أ) بما يناسبها في المجموعة (ب) بالاستعانة بالأرقام :

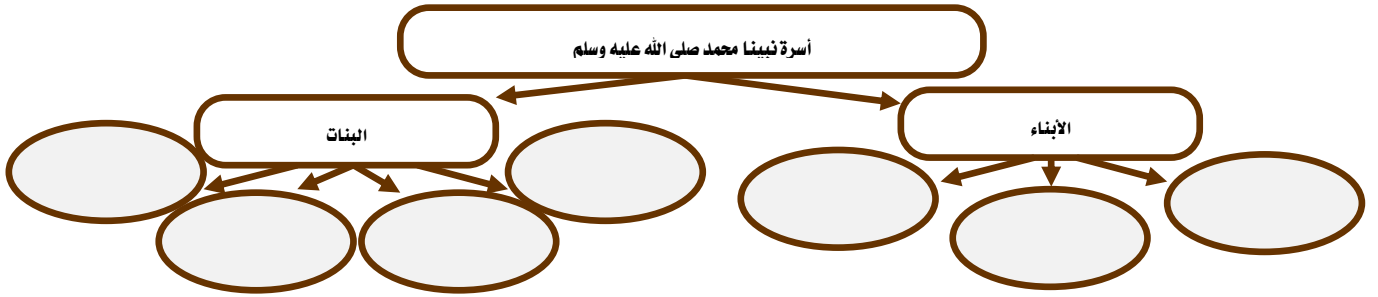
(أ)	(ب)
١- ولد نبينا محمد صلى الله عليه وسلم	() خديجة رضي الله عنها
٢- مرضعة نبينا محمد صلى الله عليه وسلم	() حليلة السعدية
٣- من زوجات نبينا محمد صلى الله عليه وسلم	() في عام الفيل

س / اشتهر نبينا محمد صلى الله عليه وسلم بصفتين اذكرهما ؟

٢-

١-

س / عدد أسرة نبينا محمد صلى الله عليه وسلم في الشكل التالي ؟



بسم الله الرحمن الرحيم

ورقة عمل درس (نسب النبي محمد صلى الله عليه وسلم ونشأته)

اسم الطالب : الصف : رابع /

س / اذكر نسب نبينا محمد صلى الله عليه وسلم ؟

ج /

س / صل ما في المجموعة (أ) بما يناسبها في المجموعة (ب) بالاستعانة بالأرقام :

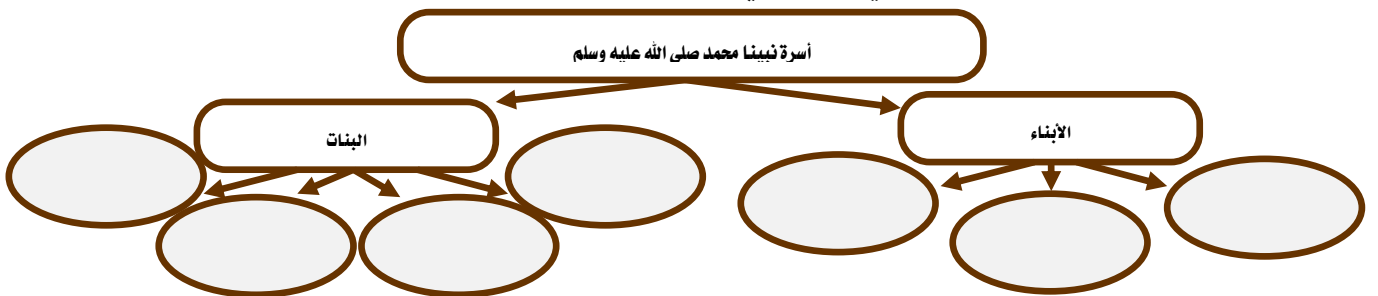
(أ)	(ب)
١- ولد نبينا محمد صلى الله عليه وسلم	() خديجة رضي الله عنها
٢- مرضعة نبينا محمد صلى الله عليه وسلم	() حليلة السعدية
٣- من زوجات نبينا محمد صلى الله عليه وسلم	() في عام الفيل

س / اشتهر نبينا محمد صلى الله عليه وسلم بصفتين اذكرهما ؟

٢-

١-

س / عدد أسرة نبينا محمد صلى الله عليه وسلم في الشكل التالي ؟





بسم الله الرحمن الرحيم

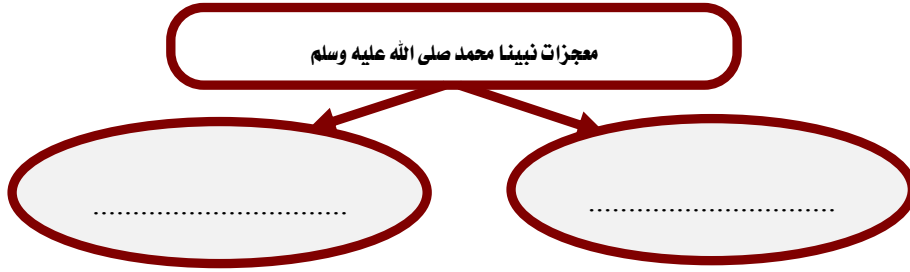
ورقة عمل درس (بعثة النبي محمد صلى الله عليه وسلم)

اسم الطالب : الصف : رابع /

س / ضع علامة (√) أمام العبارة الصحيحة وعلامة (×) أمام العبارة الخاطئة فيما يلي :

- ١ - نزل الوحي على نبيينا محمد صلى الله عليه وسلم في غار حراء
- ٢ - أول من آمن بدعوة نبيينا محمد صلى الله عليه وسلم من الرجال أبو بكر الصديق رضي الله عنه
- ٣ - أول هجرة في الإسلام إلى الحبشة

س / اذكر معجزات نبيينا محمد صلى الله عليه وسلم :



بسم الله الرحمن الرحيم

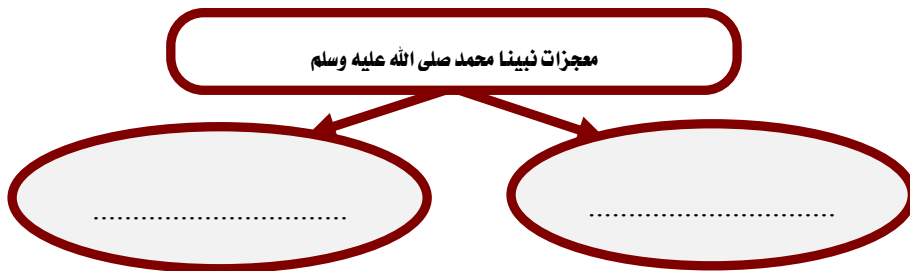
ورقة عمل درس (بعثة النبي محمد صلى الله عليه وسلم)

اسم الطالب : الصف : رابع /

س / ضع علامة (√) أمام العبارة الصحيحة وعلامة (×) أمام العبارة الخاطئة فيما يلي :

- ١ - نزل الوحي على نبيينا محمد صلى الله عليه وسلم في غار حراء
- ٢ - أول من آمن بدعوة نبيينا محمد صلى الله عليه وسلم من الرجال أبو بكر الصديق رضي الله عنه
- ٣ - أول هجرة في الإسلام إلى الحبشة

س / اذكر معجزات نبيينا محمد صلى الله عليه وسلم :





بسم الله الرحمن الرحيم

ورقة عمل درس (الهجرة إلى المدينة المنورة)

اسم الطالب : الصف : رابع /

س / ضع علامة (√) أمام العبارة الصحيحة وعلامة (×) أمام العبارة الخاطئة فيما يلي :

- ١- هاجر نبيينا محمد صلى الله عليه وسلم إلى المدينة عندما اشتد أذى المشركين له
- ٢- نشر نبيينا محمد صلى الله عليه وسلم الأمن والسلام في مجتمع المدينة
- ٣- تدل وثيقة المدينة على التسامح

س / حرص نبيينا محمد صلى الله عليه وسلم عندما وصل إلى المدينة على القيام بعدة أعمال ، اذكر اثنين منها :

١-

٢-

س / اختر الإجابة الصحيحة فيما يلي :

أ- هاجر مع نبيينا محمد صلى الله عليه وسلم :

- أبو بكر الصديق رضي الله عنه عمر بن الخطاب رضي الله عنه علي بن أبي طالب رضي الله عنه
- ب- من معالم المدينة المنورة :
- المسجد النبوي غار حراء الكعبة المشرفة



بسم الله الرحمن الرحيم

ورقة عمل درس (الهجرة إلى المدينة المنورة)

اسم الطالب : الصف : رابع /

س / ضع علامة (√) أمام العبارة الصحيحة وعلامة (×) أمام العبارة الخاطئة فيما يلي :

- ١- هاجر نبيينا محمد صلى الله عليه وسلم إلى المدينة عندما اشتد أذى المشركين له
- ٢- نشر نبيينا محمد صلى الله عليه وسلم الأمن والسلام في مجتمع المدينة
- ٣- تدل وثيقة المدينة على التسامح

س / حرص نبيينا محمد صلى الله عليه وسلم عندما وصل إلى المدينة على القيام بعدة أعمال ، اذكر اثنين منها :

١-

٢-

س / اختر الإجابة الصحيحة فيما يلي :

أ- هاجر مع نبيينا محمد صلى الله عليه وسلم :

- أبو بكر الصديق رضي الله عنه عمر بن الخطاب رضي الله عنه علي بن أبي طالب رضي الله عنه
- ب- من معالم المدينة المنورة :
- المسجد النبوي غار حراء الكعبة المشرفة



بسم الله الرحمن الرحيم

ورقة عمل درس (غزوات النبي محمد صلى الله عليه وسلم)

اسم الطالب : / الصف : رابع /

س / صل الأحداث بسنة وقوعها بالاستعانة بالأرقام :

سنة وقوعها	الغزوة
() سنة ٨ هـ	١ - غزوة بدر
() سنة ٦ هـ	٢ - غزوة أحد
() سنة ٥ هـ	٣ - غزوة الأحزاب
() سنة ٣ هـ	٤ - صلح الحديبية
() سنة ٢ هـ	٥ - فتح مكة

س / ضع علامة (√) أمام العبارة الصحيحة وعلامة (×) أمام العبارة الخاطئة فيما يلي :

- ١ - انتصر المسلمون في معركة بدر
- ٢ - هزم المسلمون في معركة أحد لمخالفة الرماة لأوامر
- ٣ - سلمان الفارسي صاحب فكرة حفر الخندق
- ٤ - صلح الحديبية عقد بين المسلمين وكفار قريش



بسم الله الرحمن الرحيم

ورقة عمل درس (غزوات النبي محمد صلى الله عليه وسلم)

اسم الطالب : / الصف : رابع /

س / صل الأحداث بسنة وقوعها بالاستعانة بالأرقام :

سنة وقوعها	الغزوة
() سنة ٨ هـ	١ - غزوة بدر
() سنة ٦ هـ	٢ - غزوة أحد
() سنة ٥ هـ	٣ - غزوة الأحزاب
() سنة ٣ هـ	٤ - صلح الحديبية
() سنة ٢ هـ	٥ - فتح مكة

س / ضع علامة (√) أمام العبارة الصحيحة وعلامة (×) أمام العبارة الخاطئة فيما يلي :

- ١ - انتصر المسلمون في معركة بدر
- ٢ - هزم المسلمون في معركة أحد لمخالفة الرماة لأوامر
- ٣ - سلمان الفارسي صاحب فكرة حفر الخندق
- ٤ - صلح الحديبية عقد بين المسلمين وكفار قريش



بسم الله الرحمن الرحيم

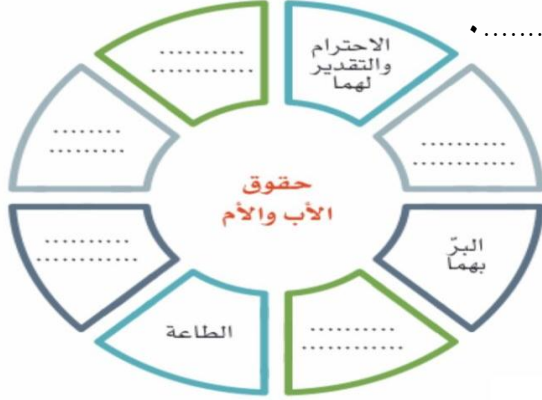
ورقة عمل درس (الأسرة)

اسم الطالب : الصف : رابع /

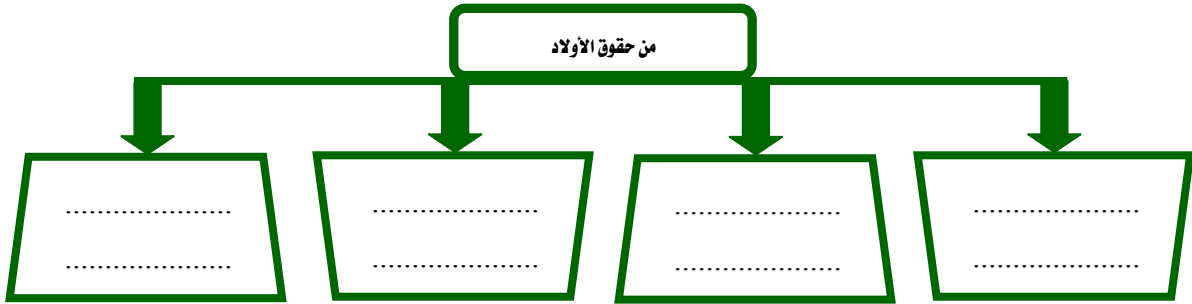
س / أكمل الفراغات التالية بما يناسب :

أ - الأسرة أساس وتتكون من و..... و.....

ب - يتكون المجتمع من عدة
س / أكمل حقوق الأب والأم في الشكل التالي :



س / للأولاد حقوق على الوالدين ، فما هي ؟



بسم الله الرحمن الرحيم

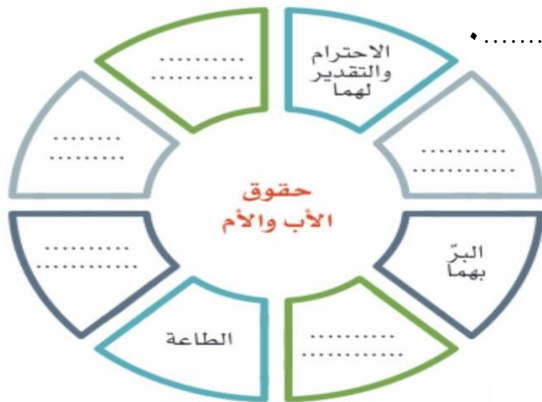
ورقة عمل درس (الأسرة)

اسم الطالب : الصف : رابع /

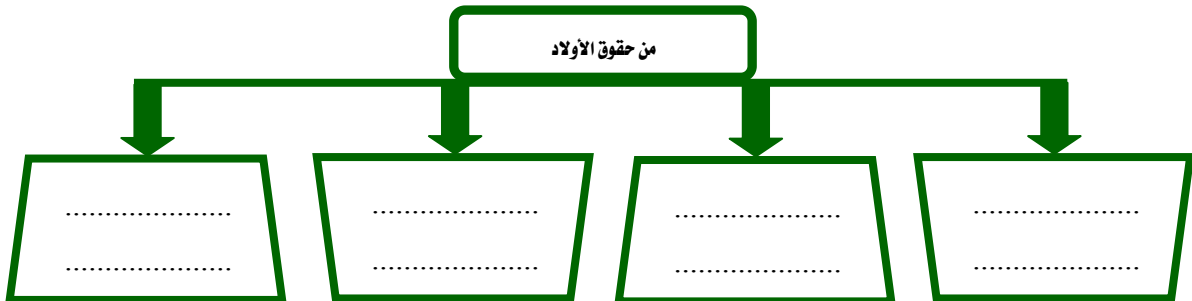
س / أكمل الفراغات التالية بما يناسب :

أ - الأسرة أساس وتتكون من و..... و.....

ب - يتكون المجتمع من عدة
س / أكمل حقوق الأب والأم في الشكل التالي :



س / للأولاد حقوق على الوالدين ، فما هي ؟



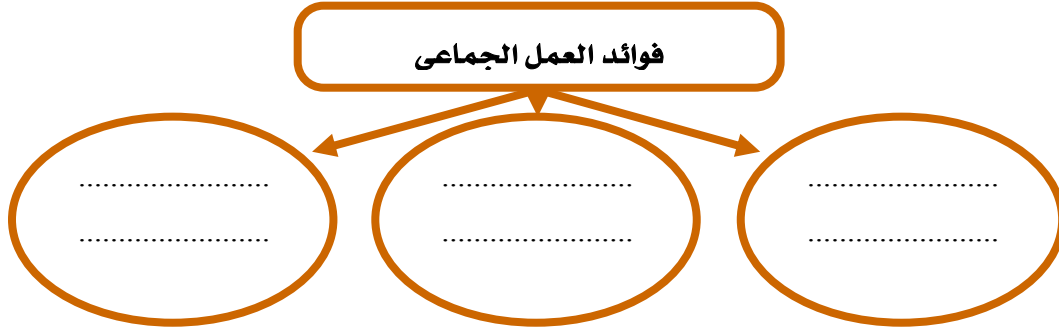


بسم الله الرحمن الرحيم

ورقة عمل درس (العمل الجماعي)

اسم الطالب : الصف : رابع /

س / اذكر ثلاثاً من فوائد العمل الجماعي :



س / ضع علامة (√) أمام العبارة الصحيحة وعلامة (×) أمام العبارة الخاطئة فيما يلي :

- ١- العمل الجماعي يكون بين اثنين أو أكثر
- ٢- تحديد الهدف من العمل من العوامل التي تحقق النجاح في العمل الجماعي
- ٣- نوزع العمل من أجل نجاح العمل الجماعي

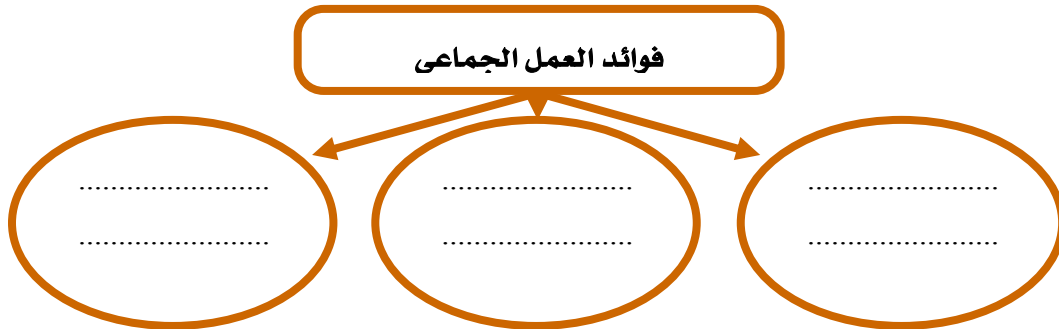


بسم الله الرحمن الرحيم

ورقة عمل درس (العمل الجماعي)

اسم الطالب : الصف : رابع /

س / اذكر ثلاثاً من فوائد العمل الجماعي :



س / ضع علامة (√) أمام العبارة الصحيحة وعلامة (×) أمام العبارة الخاطئة فيما يلي :

- ١- العمل الجماعي يكون بين اثنين أو أكثر
- ٢- تحديد الهدف من العمل من العوامل التي تحقق النجاح في العمل الجماعي
- ٣- نوزع العمل من أجل نجاح العمل الجماعي



بسم الله الرحمن الرحيم
ورقة عمل درس (العلم الوطني)

اسم الطالب : الصف : رابع /

س / ضع علامة (√) أمام العبارة الصحيحة وعلامة (×) أمام العبارة الخاطئة فيما يلي :

- ١- العلم السعودي لا ينكس أبداً
- ٢- النشيد الوطني يرمز إلى كلمة التوحيد
- ٣- في اليوم الوطني نفرح دون إيذاء الآخرين

س / وصل بين الصورة والوصف المناسب بالاستعانة بالأرقام :



- ١ - رمز الحق .
- ٢ - رمز النماء .




بسم الله الرحمن الرحيم
ورقة عمل درس (العلم الوطني)

اسم الطالب : الصف : رابع /

س / ضع علامة (√) أمام العبارة الصحيحة وعلامة (×) أمام العبارة الخاطئة فيما يلي :

- ١- العلم السعودي لا ينكس أبداً
- ٢- النشيد الوطني يرمز إلى كلمة التوحيد
- ٣- في اليوم الوطني نفرح دون إيذاء الآخرين

س / وصل بين الصورة والوصف المناسب بالاستعانة بالأرقام :



- ١ - رمز الحق .
- ٢ - رمز النماء .



بسم الله الرحمن الرحيم
ورقة عمل درس (الثقافة الوطنية)

اسم الطالب : / الصف : رابع /

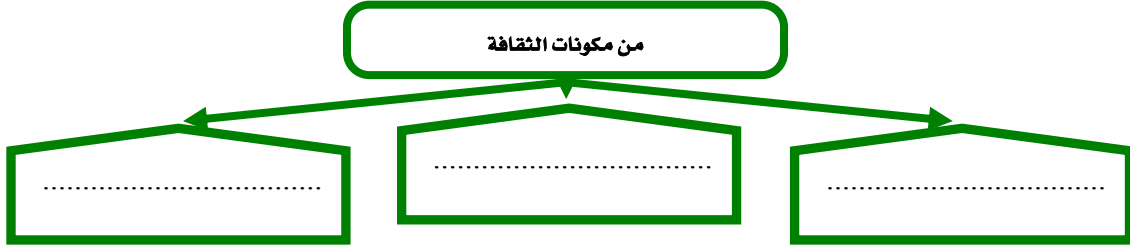
س / ما المقصود بالثقافة ؟

ج /

س / حدد نوع الثقافة : مادية (محسوسة) أو غير مادية (غير محسوسة) فيما يلي :

<p>الملابس التراثية</p> <p><input type="radio"/> ثقافة مادية (محسوسة)</p> <p><input type="radio"/> ثقافة غير مادية (غير محسوسة)</p>	<p>قصر المصمك</p> <p><input type="radio"/> ثقافة مادية (محسوسة)</p> <p><input type="radio"/> ثقافة غير مادية (غير محسوسة)</p>	<p>العرضة السعودية</p> <p><input type="radio"/> ثقافة مادية (محسوسة)</p> <p><input type="radio"/> ثقافة غير مادية (غير محسوسة)</p>	<p>روائي</p> <p><input type="radio"/> ثقافة مادية (محسوسة)</p> <p><input type="radio"/> ثقافة غير مادية (غير محسوسة)</p>
---	---	--	--

س / حدد نوع السلطة المتخصصة فيما يلي :



بسم الله الرحمن الرحيم
ورقة عمل درس (الثقافة الوطنية)

اسم الطالب : / الصف : رابع /

س / ما المقصود بالثقافة ؟

ج /

س / حدد نوع الثقافة : مادية (محسوسة) أو غير مادية (غير محسوسة) فيما يلي :

<p>الملابس التراثية</p> <p><input type="radio"/> ثقافة مادية (محسوسة)</p> <p><input type="radio"/> ثقافة غير مادية (غير محسوسة)</p>	<p>قصر المصمك</p> <p><input type="radio"/> ثقافة مادية (محسوسة)</p> <p><input type="radio"/> ثقافة غير مادية (غير محسوسة)</p>	<p>العرضة السعودية</p> <p><input type="radio"/> ثقافة مادية (محسوسة)</p> <p><input type="radio"/> ثقافة غير مادية (غير محسوسة)</p>	<p>روائي</p> <p><input type="radio"/> ثقافة مادية (محسوسة)</p> <p><input type="radio"/> ثقافة غير مادية (غير محسوسة)</p>
---	---	--	--

س / حدد نوع السلطة المتخصصة فيما يلي :

