

تم تحميل هذا الملف من موقع المناهج السعودية



# موقع المناهج المنهاج السعودي

\* للحصول على أوراق عمل لجميع الصفوف وجميع المواد اضغط هنا

<https://www.almanahj.com/sa>

\* للحصول على أوراق عمل لجميع مواد الصف الرابع اضغط هنا

<https://almanahj.com/sa/4>

\* للحصول على جميع أوراق الصف الرابع في مادة اجتماعيات ولجميع الفصول, اضغط هنا

<https://almanahj.com/sa/4social>

\* للحصول على أوراق عمل لجميع مواد الصف الرابع في مادة اجتماعيات الخاصة بـ الفصل الثاني اضغط هنا

<https://www.almanahj.com/sa/4social2>

\* لتحميل كتب جميع المواد في جميع الفصول للـ الصف الرابع اضغط هنا

<https://www.almanahj.com/sa/grade4>

للحصول على جميع روابط الصفوف على تلغرام وفيسبوك من قنوات وصفحات: اضغط هنا

<https://t.me/sacourse>

بسم الله الرحمن الرحيم

ورقة عمل درس ( الدراسات الاجتماعية )

اسم الطالب : ..... الصف : رابع / .....

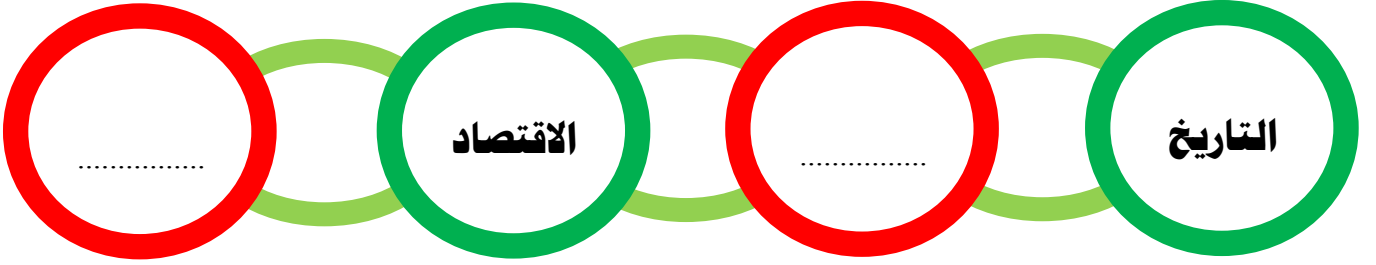
س / ضع علامة ( √ ) أمام العبارة الصحيحة وعلامة ( × ) أمام العبارة الخاطئة فيما يلي :

١- الدراسات الاجتماعية هي علوم تساعدني على فهم جوانب كثيرة في الحياة

٢- تفيدني الدراسات الاجتماعية في التعرف على وطني المملكة العربية السعودية

٣- اتعلم من دراسة التاريخ كيف أنفق

س / أكمل فروع الدراسات الاجتماعية في الشكل الآتي :



بسم الله الرحمن الرحيم

ورقة عمل درس ( الدراسات الاجتماعية )

اسم الطالب : ..... الصف : رابع / .....

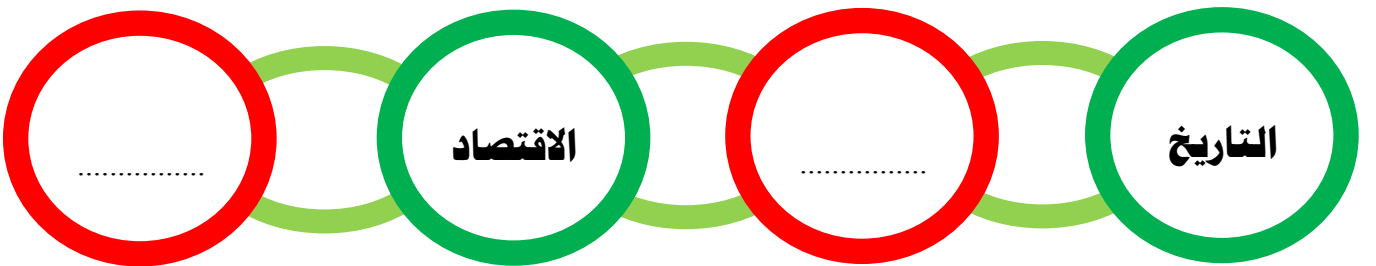
س / ضع علامة ( √ ) أمام العبارة الصحيحة وعلامة ( × ) أمام العبارة الخاطئة فيما يلي :

١- الدراسات الاجتماعية هي علوم تساعدني على فهم جوانب كثيرة في الحياة

٢- تفيدني الدراسات الاجتماعية في التعرف على وطني المملكة العربية السعودية

٣- اتعلم من دراسة التاريخ كيف أنفق

س / أكمل فروع الدراسات الاجتماعية في الشكل الآتي :





بسم الله الرحمن الرحيم

ورقة عمل درس ( التاريخ )

اسم الطالب : ..... الصف : رابع / .....

س / أكمل الفراغات التالية بما يناسب :

أ- التاريخ هو دراسة ..... للاستفادة منه في ..... و .....

ب- يدرس المؤرخ ..... لمعرفة أدلة من الماضي .

س / رتب الكلمات الدالة على الزمن حسب الأقدم :

الحاضر

المستقبل ٣

الماضي

س / حدد نوع الزمن الذي تعبر عنه الرسوم التالية :

ماضي



حاضر

ماضي



حاضر



بسم الله الرحمن الرحيم

ورقة عمل درس ( التاريخ )

اسم الطالب : ..... الصف : رابع / .....

س / أكمل الفراغات التالية بما يناسب :

أ- التاريخ هو دراسة ..... للاستفادة منه في ..... و .....

ب- يدرس المؤرخ ..... لمعرفة أدلة من الماضي .

س / رتب الكلمات الدالة على الزمن حسب الأقدم :


الحاضر

المستقبل ٣

الماضي

س / حدد نوع الزمن الذي تعبر عنه الرسوم التالية :

ماضي



حاضر

ماضي



حاضر



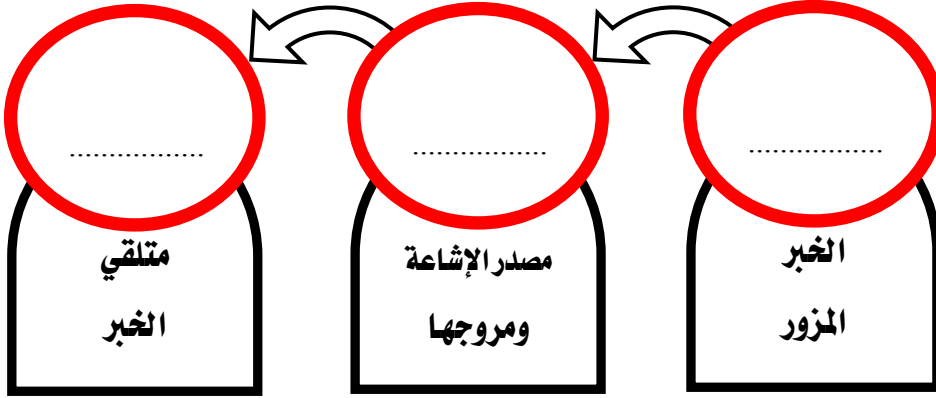
بسم الله الرحمن الرحيم  
ورقة عمل درس ( المصادر والأدلة )

اسم الطالب : ..... الصف : رابع / .....

س / حدد الكلمات الصحيحة في النص الآتي ؟

يبحث المؤرخ عن ( الهدف - الدليل ) من أجل أن يفهم ( الحدث - الوقت ) لكتابة ( الرياضيات - التاريخ )  
فهو يشبه رجل الأمن الذي يبحث عن ( الصديق - الدليل ) لكي يصل إلى المتسبب في ( الحدث - النخيل ) .

س / ضع الكلمات التالية ( المرسل - الإشاعة - المتلقي ) في مكانها المناسب في الشكل التالي :



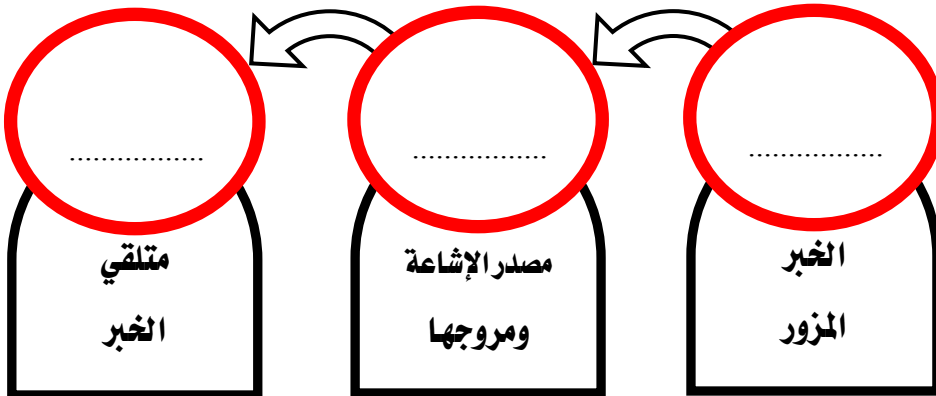
بسم الله الرحمن الرحيم  
ورقة عمل درس ( المصادر والأدلة )

اسم الطالب : ..... الصف : رابع / .....

س / حدد الكلمات الصحيحة في النص الآتي ؟

يبحث المؤرخ عن ( الهدف - الدليل ) من أجل أن يفهم ( الحدث - الوقت ) لكتابة ( الرياضيات - التاريخ )  
فهو يشبه رجل الأمن الذي يبحث عن ( الصديق - الدليل ) لكي يصل إلى المتسبب في ( الحدث - النخيل ) .

س / ضع الكلمات التالية ( المرسل - الإشاعة - المتلقي ) في مكانها المناسب في الشكل التالي :





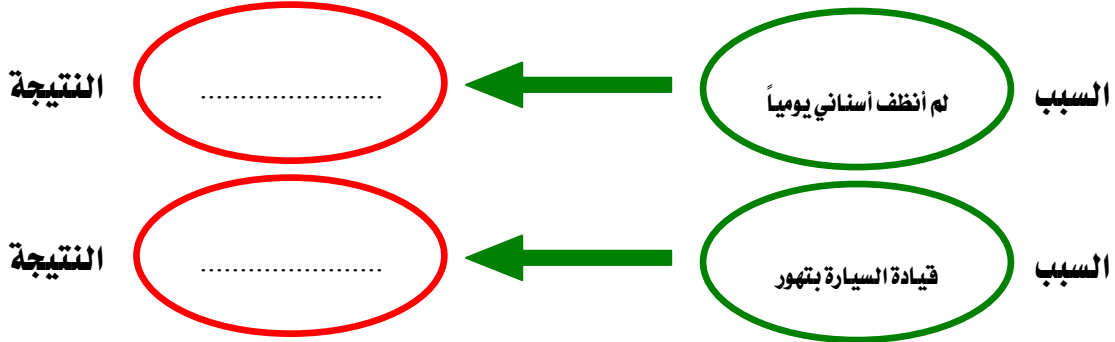
بسم الله الرحمن الرحيم  
ورقة عمل درس ( السبب والآخر )

اسم الطالب : ..... / الصف : رابع / .....

س / ضع علامة ( √ ) أمام العبارة الصحيحة وعلامة ( × ) أمام العبارة الخاطئة فيما يلي :

- ١- معرفة السبب والآخر ( النتيجة ) يساعدنا على فهم التاريخ والأحداث
- ٢- الآخر ( النتيجة ) في التاريخ هو ما ينتج عن الحدث

س / حدد نتائج الأسباب في الشكل التالي :



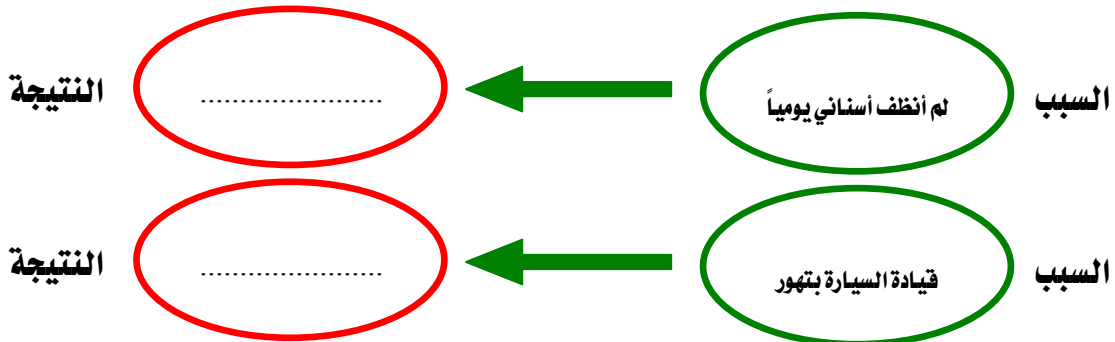
بسم الله الرحمن الرحيم  
ورقة عمل درس ( السبب والآخر )

اسم الطالب : ..... / الصف : رابع / .....

س / ضع علامة ( √ ) أمام العبارة الصحيحة وعلامة ( × ) أمام العبارة الخاطئة فيما يلي :

- ١- معرفة السبب والآخر ( النتيجة ) يساعدنا على فهم التاريخ والأحداث
- ٢- الآخر ( النتيجة ) في التاريخ هو ما ينتج عن الحدث

س / حدد نتائج الأسباب في الشكل التالي :





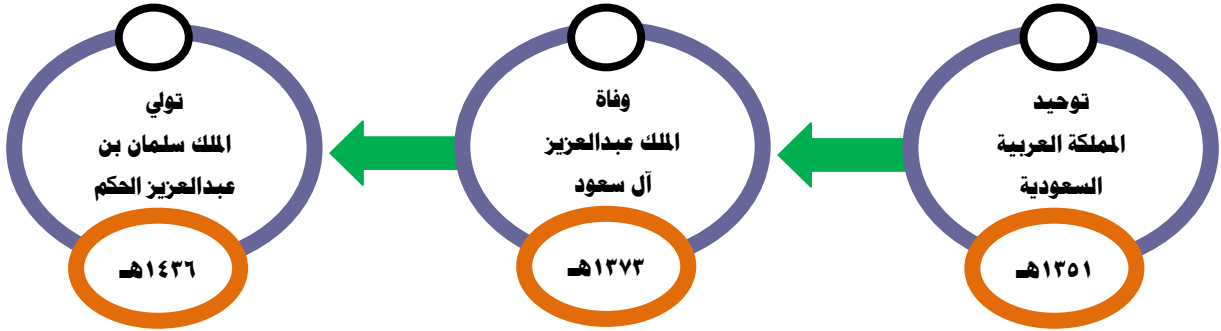
بسم الله الرحمن الرحيم  
ورقة عمل درس ( الترتيب الزمني )

اسم الطالب : ..... الصف : رابع / .....

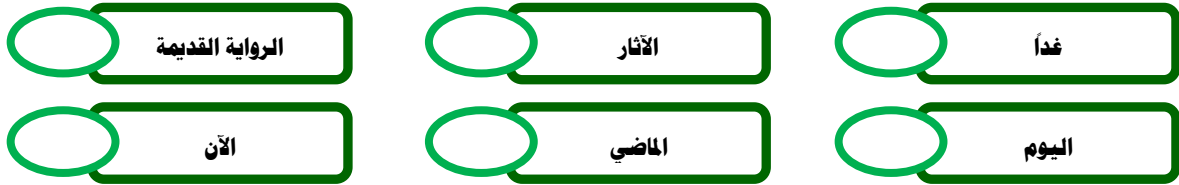
س / ضع الكلمات التالية ( الزمني – التاريخ ) في مكانها المناسب :

أ - جميع أحداث ..... تقوم على الترتيب ..... وتتابعه .

س / رتب الأحداث في تاريخ المملكة العربية السعودية بترتيب زمني :



س / حدد الكلمات التي لها علاقة بالتاريخ :



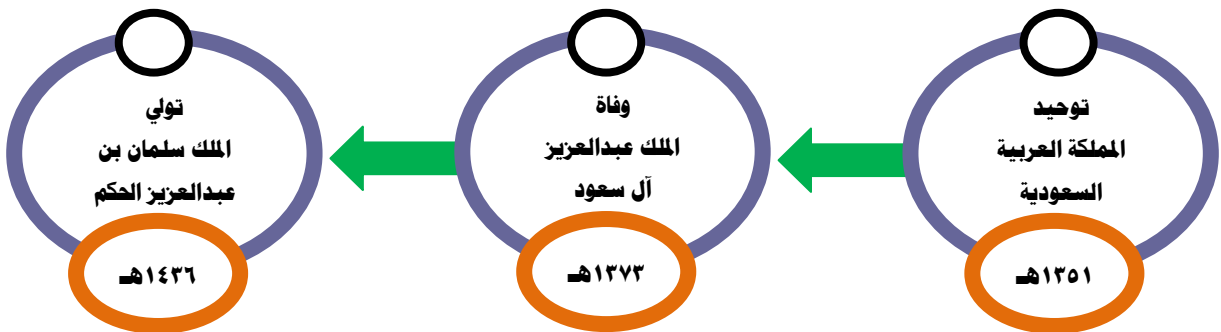
بسم الله الرحمن الرحيم  
ورقة عمل درس ( الترتيب الزمني )

اسم الطالب : ..... الصف : رابع / .....

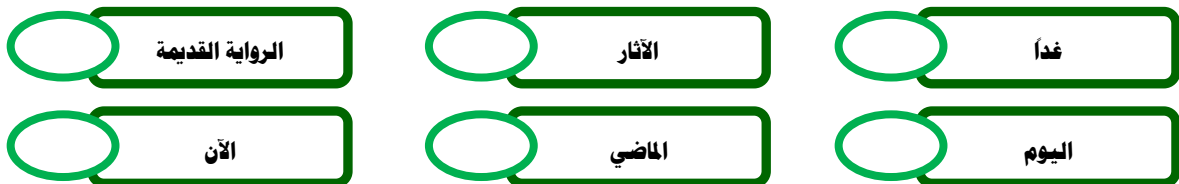
س / ضع الكلمات التالية ( الزمني – التاريخ ) في مكانها المناسب :

أ - جميع أحداث ..... تقوم على الترتيب ..... وتتابعه .

س / رتب الأحداث في تاريخ المملكة العربية السعودية بترتيب زمني :



س / حدد الكلمات التي لها علاقة بالتاريخ :





بسم الله الرحمن الرحيم  
ورقة عمل درس ( الجغرافيا )

اسم الطالب : ..... الصف : رابع / .....

س / ضع علامة ( √ ) أمام العبارة الصحيحة وعلامة ( × ) أمام العبارة الخاطئة فيما يلي :

- ١ - الجغرافيا كل ما يتعلق بالكرة الأرضية وتكويناتها
- ٢ - نستعمل الخرائط لمعرفة المواقع
- ٣ - البيئة هي طبيعة المكان وتعامل الإنسان معه

س / حدد نوع الجغرافيا للموضوعات الآتية :

- ١ - توزيع السكان :  بشرية  طبيعية
- ٢ - التضاريس :  بشرية  طبيعية
- ٣ - النشاط الصناعي :  بشرية  طبيعية



بسم الله الرحمن الرحيم  
ورقة عمل درس ( الجغرافيا )

اسم الطالب : ..... الصف : رابع / .....

س / ضع علامة ( √ ) أمام العبارة الصحيحة وعلامة ( × ) أمام العبارة الخاطئة فيما يلي :

- ١ - الجغرافيا كل ما يتعلق بالكرة الأرضية وتكويناتها
- ٢ - نستعمل الخرائط لمعرفة المواقع
- ٣ - البيئة هي طبيعة المكان وتعامل الإنسان معه

س / حدد نوع الجغرافيا للموضوعات الآتية :

- ١ - توزيع السكان :  بشرية  طبيعية
- ٢ - التضاريس :  بشرية  طبيعية
- ٣ - النشاط الصناعي :  بشرية  طبيعية



بسم الله الرحمن الرحيم

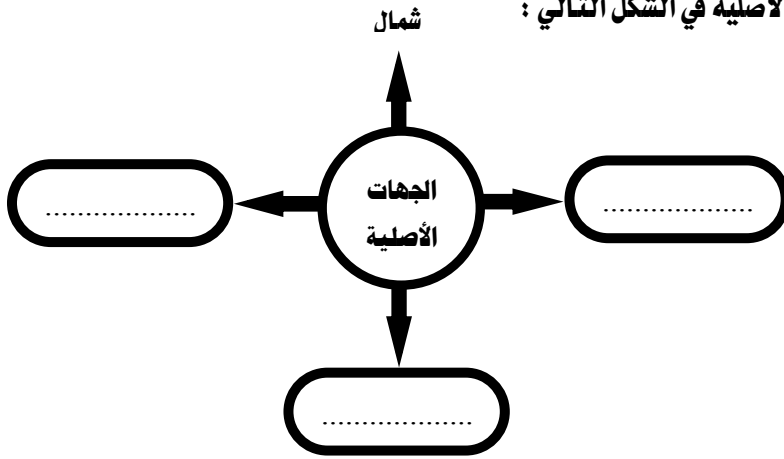
ورقة عمل درس ( الموقع )

اسم الطالب : ..... الصف : رابع / .....

س / ضع علامة ( √ ) أمام العبارة الصحيحة وعلامة ( × ) أمام العبارة الخاطئة فيما يلي :

- ١- يقع وطني المملكة العربية السعودية في قلب العالم
- ٢- تحديد الجهة يساعدني في معرفة القبلة لأداء الصلاة في وقتها
- ٣- من الجهات الأصلية الشمال الشرقي

س / حدد الجهات الأصلية في الشكل التالي :



بسم الله الرحمن الرحيم

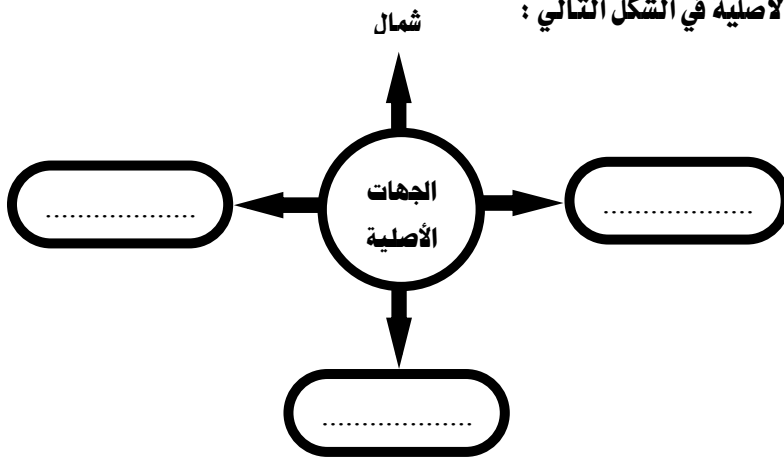
ورقة عمل درس ( الموقع )

اسم الطالب : ..... الصف : رابع / .....

س / ضع علامة ( √ ) أمام العبارة الصحيحة وعلامة ( × ) أمام العبارة الخاطئة فيما يلي :

- ١- يقع وطني المملكة العربية السعودية في قلب العالم
- ٢- تحديد الجهة يساعدني في معرفة القبلة لأداء الصلاة في وقتها
- ٣- من الجهات الأصلية الشمال الشرقي

س / حدد الجهات الأصلية في الشكل التالي :





بسم الله الرحمن الرحيم

ورقة عمل درس ( المكان )

اسم الطالب : ..... الصف : رابع / .....

س / ضع علامة ( √ ) أمام العبارة الصحيحة وعلامة ( × ) أمام العبارة الخاطئة فيما يلي :

١- المكان هو تحديد ووصف الموقع الذي تكون فيه

٢- العنوان الوطني هو رموز وأسماء لمكان محدد بحيث يسهل الوصول إليه

س / في وطني أماكن كثيرة وجميلة تستحق الزيارة اذكر بعضاً منها في الشكل التالي :



بسم الله الرحمن الرحيم

ورقة عمل درس ( المكان )


اسم الطالب : ..... الصف : رابع / .....

س / ضع علامة ( √ ) أمام العبارة الصحيحة وعلامة ( × ) أمام العبارة الخاطئة فيما يلي :

١- المكان هو تحديد ووصف الموقع الذي تكون فيه

٢- العنوان الوطني هو رموز وأسماء لمكان محدد بحيث يسهل الوصول إليه

س / في وطني أماكن كثيرة وجميلة تستحق الزيارة اذكر بعضاً منها في الشكل التالي :





بسم الله الرحمن الرحيم

ورقة عمل درس ( البيئة )

اسم الطالب : ..... / الصف : رابع / .....

س / ضع علامة ( √ ) أمام العبارة الصحيحة وعلامة ( × ) أمام العبارة الخاطئة فيما يلي :

- ١- البيئة هي المكان الذي يعيش فيه الإنسان فيتأثر به ويؤثر فيه
- ٢- أتجاوز النظام وأدخل الأماكن المحظورة دون إذن
- ٣- أنظف المكان قبل أن أتركه

س / حدد الحيوانات البرية المعروفة في المملكة العربية السعودية :

- النمر العربي  الضيل  النعام
- الغزال  الدب  الذئب

س / اختر الإجابة الصحيحة فيما يلي :

- ١- المحمية  مكاناً صناعياً  مكاناً طبيعياً
- ٢- الغطاء النباتي  الحشائش الأشجار  المخلوقات الحية



بسم الله الرحمن الرحيم

ورقة عمل درس ( البيئة )

اسم الطالب : ..... / الصف : رابع / .....

س / ضع علامة ( √ ) أمام العبارة الصحيحة وعلامة ( × ) أمام العبارة الخاطئة فيما يلي :

- ١- البيئة هي المكان الذي يعيش فيه الإنسان فيتأثر به ويؤثر فيه
- ٢- أتجاوز النظام وأدخل الأماكن المحظورة دون إذن
- ٣- أنظف المكان قبل أن أتركه

س / حدد الحيوانات البرية المعروفة في المملكة العربية السعودية :

- النمر العربي  الضيل  النعام
- الغزال  الدب  الذئب

س / اختر الإجابة الصحيحة فيما يلي :

- ١- المحمية  مكاناً صناعياً  مكاناً طبيعياً
- ٢- الغطاء النباتي  الحشائش الأشجار  المخلوقات الحية



بسم الله الرحمن الرحيم

ورقة عمل درس ( الحركة )

اسم الطالب : ..... الصف : رابع / .....

س / حدد حالات الحركة في العبارات الآتية :

أسافر إلى الطائف بغرض النزهة .

أنام في السرير مبكراً

يغادر قطار الحرمين مكة المكرمة إلى المدينة المنورة في الصباح

يشترى التاجر الأرز من الهند

س / لوطني موقع إستراتيجي يسهل الحركة ، ويربط بين قارات ثلاث هي :

القارات التي تربطها المملكة العربية السعودية

٣ .....	٢ .....	١ .....
------------	------------	------------



بسم الله الرحمن الرحيم

ورقة عمل درس ( الحركة )

اسم الطالب : ..... الصف : رابع / .....

س / حدد حالات الحركة في العبارات الآتية :

أسافر إلى الطائف بغرض النزهة .

أنام في السرير مبكراً

يغادر قطار الحرمين مكة المكرمة إلى المدينة المنورة في الصباح

يشترى التاجر الأرز من الهند

س / لوطني موقع إستراتيجي يسهل الحركة ، ويربط بين قارات ثلاث هي :

القارات التي تربطها المملكة العربية السعودية

٣ .....	٢ .....	١ .....
------------	------------	------------



بسم الله الرحمن الرحيم

ورقة عمل درس ( الاقتصاد )

اسم الطالب : ..... الصف : رابع / .....

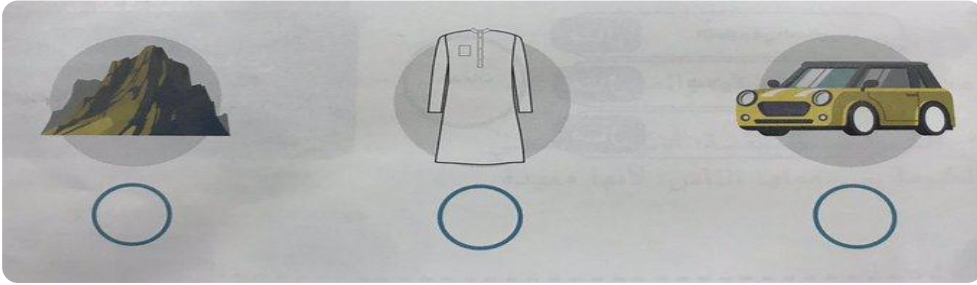
س / ضع علامة ( √ ) أمام العبارة الصحيحة وعلامة ( × ) أمام العبارة الخاطئة فيما يلي :

١- الاقتصاد هو انتاج وتوزيع وتبادل واستهلاك السلع والخدمات

٢- السلع هي ما يحتاج إليه الإنسان ، ويستهلكه في حياته

٣- من السلع الضرورية السيارات الفارهة

س / حدد السلعة في الأشكال الآتية :



بسم الله الرحمن الرحيم

ورقة عمل درس ( الاقتصاد )

اسم الطالب : ..... الصف : رابع / .....

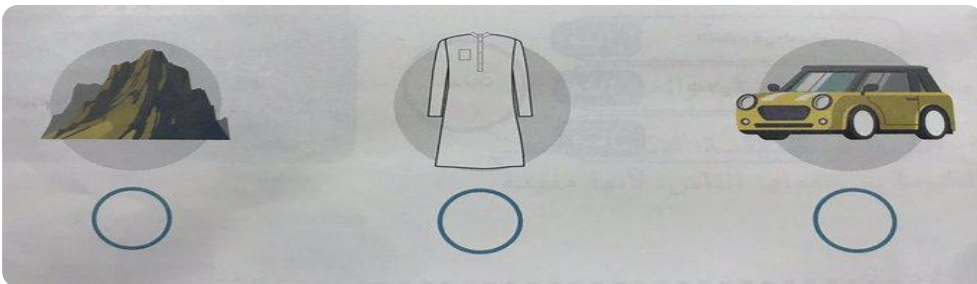
س / ضع علامة ( √ ) أمام العبارة الصحيحة وعلامة ( × ) أمام العبارة الخاطئة فيما يلي :

١- الاقتصاد هو انتاج وتوزيع وتبادل واستهلاك السلع والخدمات

٢- السلع هي ما يحتاج إليه الإنسان ، ويستهلكه في حياته

٣- من السلع الضرورية السيارات الفارهة

س / حدد السلعة في الأشكال الآتية :





بسم الله الرحمن الرحيم  
ورقة عمل درس ( الموارد والاستهلاك )

اسم الطالب : ..... الصف : رابع / .....

س / ضع علامة ( √ ) أمام العبارة الصحيحة وعلامة ( × ) أمام العبارة الخاطئة فيما يلي :

- ١- الموارد هي الأشياء التي يعتمد الاقتصاد عليها
- ٢- الادخار تخصيص جزء من المال وحفظه للمستقبل
- ٣- الترشيد ترك الإسراف في الإنفاق

س / حدد نوع الموارد التالية :

١	موارد طبيعية	٢	موارد بشرية	٣	رأس مال	
٣	شاحنة	طبيب	٢	معلمة	٣	نخلة
١	الشمس	مصنع	١	نخلة	١	شاحنة

س / ميّز بين المنتج والمستهلك من خلال الصورتين التاليتين :



بسم الله الرحمن الرحيم  
ورقة عمل درس ( الموارد والاستهلاك )

اسم الطالب : ..... الصف : رابع / .....

س / ضع علامة ( √ ) أمام العبارة الصحيحة وعلامة ( × ) أمام العبارة الخاطئة فيما يلي :

- ١- الموارد هي الأشياء التي يعتمد الاقتصاد عليها
- ٢- الادخار تخصيص جزء من المال وحفظه للمستقبل
- ٣- الترشيد ترك الإسراف في الإنفاق

س / حدد نوع الموارد التالية :

١	موارد طبيعية	٢	موارد بشرية	٣	رأس مال	
٣	شاحنة	طبيب	٢	معلمة	٣	نخلة
١	الشمس	مصنع	١	نخلة	١	شاحنة

س / ميّز بين المنتج والمستهلك من خلال الصورتين التاليتين :





بسم الله الرحمن الرحيم  
ورقة عمل درس ( التبادل التجاري )

اسم الطالب : ..... / الصف : رابع / .....

س / ضع الكلمات التالية ( التمور-السيارات - النفط - السلع ) في مكانها المناسب :

- أ - التبادل التجاري هو تداول ..... والخدمات بين الناس .
- ب - نستفيد من صناعات بعض الدول ، مثل .....
- ج - نبيع انتاجنا الوطني ، مثل ..... ومنتجاته ، و .....

س / أكمل الفراغات في الجدول الآتي :

حديثاً	قديماً	
.....	شهور	زمن نقل البضائع
السفن والطائرات و .....	.....	وسيلة المواصلات
السلعة بالـ .....	السلعة بالـ .....	طريقة التبادل التجاري



بسم الله الرحمن الرحيم  
ورقة عمل درس ( التبادل التجاري )

اسم الطالب : ..... / الصف : رابع / .....

س / ضع الكلمات التالية ( التمور-السيارات - النفط - السلع ) في مكانها المناسب :

- أ - التبادل التجاري هو تداول ..... والخدمات بين الناس .
- ب - نستفيد من صناعات بعض الدول ، مثل .....
- ج - نبيع انتاجنا الوطني ، مثل ..... ومنتجاته ، و .....

س / أكمل الفراغات في الجدول الآتي :

حديثاً	قديماً	
.....	شهور	زمن نقل البضائع
السفن والطائرات و .....	.....	وسيلة المواصلات
السلعة بالـ .....	السلعة بالـ .....	طريقة التبادل التجاري



بسم الله الرحمن الرحيم

ورقة عمل درس ( الحكومة )

اسم الطالب : ..... الصف : رابع / .....

س / ضع علامة ( √ ) أمام العبارة الصحيحة وعلامة ( × ) أمام العبارة الخاطئة فيما يلي :

- ١- الحكومة هي النظام الذي يدار به الوطن
- ٢- نظام الحكم في المملكة العربية السعودية هو نظام ملكي
- ٣- رئيس مجلس الوزراء هو ولي العهد

س / حدد نوع السلطة المتخصصة فيما يلي :

- أ- مجلس الوزراء :  
سلطة تنفيذية  سلطة قضائية  سلطة تنظيمية
- ب- مجلس الشورى :  
سلطة تنفيذية  سلطة قضائية  سلطة تنظيمية
- ج- المحاكم :  
سلطة تنفيذية  سلطة قضائية  سلطة تنظيمية



بسم الله الرحمن الرحيم

ورقة عمل درس ( الحكومة )

اسم الطالب : ..... الصف : رابع / .....

س / ضع علامة ( √ ) أمام العبارة الصحيحة وعلامة ( × ) أمام العبارة الخاطئة فيما يلي :

- ١- الحكومة هي النظام الذي يدار به الوطن
- ٢- نظام الحكم في المملكة العربية السعودية هو نظام ملكي
- ٣- رئيس مجلس الوزراء هو ولي العهد

س / حدد نوع السلطة المتخصصة فيما يلي :

- أ- مجلس الوزراء :  
سلطة تنفيذية  سلطة قضائية  سلطة تنظيمية
- ب- مجلس الشورى :  
سلطة تنفيذية  سلطة قضائية  سلطة تنظيمية
- ج- المحاكم :  
سلطة تنفيذية  سلطة قضائية  سلطة تنظيمية



بسم الله الرحمن الرحيم

ورقة عمل درس ( التربية البدنية )

اسم الطالب : ..... الصف : رابع / .....

س / ضع علامة ( √ ) أمام العبارة الصحيحة وعلامة ( × ) أمام العبارة الخاطئة فيما يلي :

- ١- المواطن الصالح هو من يلتزم بالنظام
- ٢- أتواصل مع من لا أعرفهم عند استخدام الإنترنت
- ٣- لا أتلفظ على الآخرين عندما أتواصل معهم رقمياً
- ٤- لا يحق لي السخرية من الآخرين بتاتاً

س / ما الاختيار الصحيح في صورتين ؟



بسم الله الرحمن الرحيم

ورقة عمل درس ( التربية البدنية )

اسم الطالب : ..... الصف : رابع / .....

س / ضع علامة ( √ ) أمام العبارة الصحيحة وعلامة ( × ) أمام العبارة الخاطئة فيما يلي :

- ١- المواطن الصالح هو من يلتزم بالنظام
- ٢- أتواصل مع من لا أعرفهم عند استخدام الإنترنت
- ٣- لا أتلفظ على الآخرين عندما أتواصل معهم رقمياً
- ٤- لا يحق لي السخرية من الآخرين بتاتاً

س / ما الاختيار الصحيح في صورتين ؟

