

تم تحميل هذا الملف من موقع المناهج السعودية



## موقع المناهج المنهاج السعودي

\* للحصول على أوراق عمل لجميع الصفوف وجميع المواد اضغط هنا

<https://www.almanahj.com/sa>

\* للحصول على أوراق عمل لجميع مواد الصف الرابع اضغط هنا

<https://almanahj.com/sa/4>

\* للحصول على جميع أوراق الصف الرابع في مادة رياضيات ولجميع الفصول, اضغط هنا

<https://almanahj.com/sa/4math>

\* للحصول على أوراق عمل لجميع مواد الصف الرابع في مادة رياضيات الخاصة بـ الفصل الأول اضغط هنا

<https://www.almanahj.com/sa/4math1>

\* لتحميل كتب جميع المواد في جميع الفصول للـ الصف الرابع اضغط هنا

<https://www.almanahj.com/sa/grade4>

للحصول على جميع روابط الصفوف على تلغرام وفيسبوك من قنوات وصفحات: اضغط هنا

<https://t.me/sacourse>

# بِسْمِ اللَّهِ الرَّحْمَنِ الرَّحِيمِ

رقم النشاط/  
زمن النشاط/  
نوعها/  
الصف :

ورقة عمل  
المادة/ رياضيات  
الموضوع/ القيمة المنزلية ضمن مئات الألف  
فردية  
الإسم : .....

\*\*\* اكتب كل مما يلي بالصيغتين القياسية والتحليلية

1) خمسة وعشرين ألفا وأربع مئة وثمانية .

الحل :

2) سبع مئة وواحد وستين ألفا وثلاث مئة وستة وخمسين .

الحل :

غير مجتازة	متمكنة	متقدمة	متفوقة
<input type="checkbox"/> غير متقن أقل من 80 %	<input type="checkbox"/> متقن المعيار من 80% إلى أقل من 90%	<input type="checkbox"/> متقن المعيار من 90% إلى أقل من 100%	<input type="checkbox"/> متقن المعيار 100%
معلمة المادة/ .....			

# بِسْمِ اللَّهِ الرَّحْمَنِ الرَّحِيمِ

رقم النشاط/  
زمن النشاط/  
نوعها/  
الصف :

ورقة عمل  
المادة/ رياضيات  
الموضوع/ القيمة المنزلية ضمن الملايين  
فردية  
الإسم : .....

\*\*\* اكتب كل مما يلي بالصيغتين القياسية والتحليلية

1) تسع مئة وخمس مئة واثنين وخمسين .

الحل :

2) مئتين وستا وأربعين مليوناً وتسع مئة الف وثمانية عشر .

الحل :

غير مجتازة	متمكنة	متقدمة	متفوقة
<input type="checkbox"/> غير متقن أقل من 80 %	<input type="checkbox"/> متقن المعيار من 80% إلى أقل من 90%	<input type="checkbox"/> متقن المعيار من 90% إلى أقل من 100%	<input type="checkbox"/> متقن المعيار 100%
معلمة المادة/ .....			

# بِسْمِ اللَّهِ الرَّحْمَنِ الرَّحِيمِ

رقم النشاط/  
زمن النشاط/  
نوعها/  
الصف :


ورقة عمل  
المادة/ رياضيات  
الموضوع/ مهارة حل المسألة  
فردية  
الإسم :  
الرابع

\*\*\* استعملي الخطوات الأربع لحل المسألة التالية :

- قام خالد وأصدقاؤه الخمسةُ بزيارة مدينة الألعاب الترفيهية. فإذا كان ثمن تذكرة الدُّخولِ 12 ريالاً، فما إجماليُّ ثمن تذاكرِ دُخولهم إلى مدينة الألعاب؟



الحل:



غير مجتازة	ممكنة	متقدمة	متفوقة
<input type="checkbox"/> غير متقن أقل من 80 %	<input type="checkbox"/> متقن المعيار من 80% إلى أقل من 90%	<input type="checkbox"/> متقن المعيار من 90% إلى أقل من 100%	<input type="checkbox"/> متقن المعيار 100%
معلمة المادة/ .....			

# بِسْمِ اللَّهِ الرَّحْمَنِ الرَّحِيمِ

رقم النشاط/  
زمن النشاط/  
نوعها/  
الصف :

ورقة عمل  
المادة/ رياضيات  
الموضوع/ المقارنة بين الأعداد  
فردية  
الإسم :  
الرابع

قَدَّرَتْ إِدارةُ المِصائِدِ البِحرِيَّةِ بوزارةِ الزِّراعةِ عددَ قواربِ صيدِ الأسماكِ في الخِليجِ العِربيِّ والبِحرِ الأحمَرِ عامَ 1422 بـ 10220 قاربًا، بينما قَدَّرَتْهُ في عامِ 1423 بـ 10785 قاربًا، في أَيِّ العامِينِ كانَ التَّقديرُ أكبرَ؟



الحل :

غير مجتازة	متمكنة	متقدمة	متفوقة
<input type="checkbox"/> غير متقن أقل من 80 %	<input type="checkbox"/> متقن المعيار من 80% إلى أقل من 90%	<input type="checkbox"/> متقن المعيار من 90% إلى أقل من 100%	<input type="checkbox"/> متقن المعيار 100%
معلمة المادة/ .....			

بِسْمِ اللَّهِ الرَّحْمَنِ الرَّحِيمِ

رقم النشاط/  
زمن النشاط/  
نوعها/ فردية  
الصف :

ورقة عمل  
المادة/ رياضيات  
الموضوع/ ترتيب الأعداد  
الإسم : .....

\*\*\* رتبي الأعداد التالية من الأكبر الى الأصغر :

٦٥٤٣ ، ٣٤٦٥ ، ٤٣٥٦ ، ٣٤٥٦

الحل :

غير مجتازة	متمكنة	متقدمة	متفوقة
<input type="checkbox"/> غير متقن أقل من 80 %	<input type="checkbox"/> متقن المعيار من 80% إلى أقل من 90%	<input type="checkbox"/> متقن المعيار من 90% إلى أقل من 100%	<input type="checkbox"/> متقن المعيار 100%
معلمة المادة/ .....			

# بِسْمِ اللَّهِ الرَّحْمَنِ الرَّحِيمِ

رقم النشاط/  
زمن النشاط/  
نوعها/ فردية  
الصف :

ورقة عمل  
المادة/ رياضيات  
الموضوع/ تقريب الأعداد  
الإسم :  
الرابع

س: يبلغ قطر كوكب زحل 120536 كلم.  
قربى هذا العدد إلى أقرب ألف.

الحل:

غير مجتازة

متمكنة

متقدمة

متفوقة

غير متقن أقل من 80 %

متقن المعيار من 80% إلى أقل من 90%

متقن المعيار من 90% إلى أقل من 100%

متقن المعيار 100%

معلمة المادة/

رقم النشاط/  
زمن النشاط/  
نوعها/

الصف :

ورقة عمل  
المادة/ رياضيات  
الموضوع/ استقصاء حل مسألة  
فردية

الإسم : .....

اختاري أفضل خطة لحل المسألة التالية :

س : اشترى والد طارق 8 تُحَفٍ، فإذا كان ثمنُ  
التُّحفةِ الواحدةِ 11 ريالاً فكم ريالاً دفعَ للبائع؟

المطلوبُ: كم ريالاً دفعَ والدُ طارقٍ للبائع؟

الحل :

غير مجتازة

متمكنة

متقدمة

متفوقة

غير متقن أقل من 80 %

متقن المعيار من 80% إلى أقل من 90%

متقن المعيار من 90% إلى أقل من 100%

متقن المعيار 100%

..... /معلمة المادة/



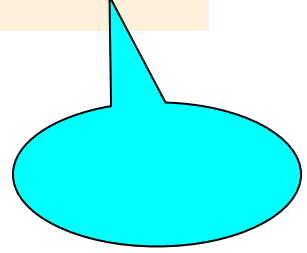
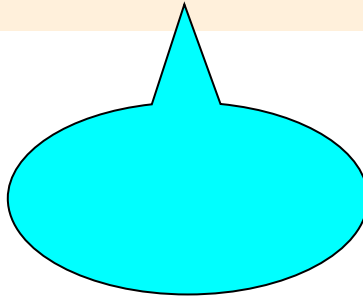
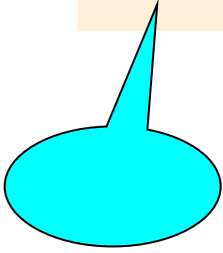
# بِسْمِ اللَّهِ الرَّحْمَنِ الرَّحِيمِ

رقم النشاط/  
زمن النشاط/  
نوعها/  
الصف :

ورقة عمل  
المادة/ رياضيات  
الموضوع/ الفصل الثاني ( الجمع والطرح )  
فردية  
الإسم : .....

س1 : أوجدني ناتج الطرح لكل مما يأتي :

$$\begin{array}{r} 47 \\ -19 \\ \hline \end{array}$$
$$\begin{array}{r} 31 \\ -7 \\ \hline \end{array}$$
$$\begin{array}{r} 26 \\ -9 \\ \hline \end{array}$$



غير مجتازة

متمكنة

متقدمة

متفوقة

غير متقن أقل من 80 %

متقن المعيار من 80% إلى أقل من 90%

متقن المعيار من 90% إلى أقل من 100%

متقن المعيار 100%


..... معلمة المادة/


# بِسْمِ اللَّهِ الرَّحْمَنِ الرَّحِيمِ


رقم النشاط/  
زمن النشاط/  
نوعها/ فردية  
الصف :

ورقة عمل  
المادة/ رياضيات  
الموضوع/ خصائص الجمع وقواعد الطرح  
الإسم :  
الرابع

س : اجمعي ذهنيا المسائل التالية ذهنيا :

  $=13+24 +17$

  $=15+22+35$

  $=29+22+31$

غير مجتازة	متمكنة	متقدمة	متفوقة
<input type="checkbox"/> غير متقن أقل من 80 %	<input type="checkbox"/> متقن المعيار من 80% إلى أقل من 90%	<input type="checkbox"/> متقن المعيار من 90% إلى أقل من 100%	<input type="checkbox"/> متقن المعيار 100%
معلمة المادة/ .....			


# بِسْمِ اللَّهِ الرَّحْمَنِ الرَّحِيمِ

رقم النشاط/  
زمن النشاط/  
نوعها/ فردية  
الصف :


ورقة عمل  
المادة/ رياضيات  
الموضوع/ (2-2) تقدير المجموع والفرق  
الإسم :  
الرابع

س : قَدِّرِ الإجابة بتقريب الأعداد لأقرب قيمة منزلية مُعطاة في كلِّ مَّا يَأْتِي:

(1)  $73+21$  ؛ عشرة



(2)  $1529-2746$  ؛ عشرة



غير مجتازة	متمكنة	متقدمة	متفوقة
<input type="checkbox"/> غير متقن أقل من 80 %	<input type="checkbox"/> متقن المعيار من 80% إلى أقل من 90%	<input type="checkbox"/> متقن المعيار من 90% إلى أقل من 100%	<input type="checkbox"/> متقن المعيار 100%
معلمة المادة/ .....			

# بِسْمِ اللَّهِ الرَّحْمَنِ الرَّحِيمِ

رقم النشاط/  
زمن النشاط/  
نوعها/ فردية  
الصف :

ورقة عمل  
المادة/ رياضيات  
الموضوع/ (2-3) مهارة حل مسألة  
الإسم :  
الرابع



الحل :

غير مجتازة	متمكنة	متقدمة	متفوقة
<input type="checkbox"/> غير متقن أقل من 80 %	<input type="checkbox"/> متقن المعيار من 80% إلى أقل من 90%	<input type="checkbox"/> متقن المعيار من 90% إلى أقل من 100%	<input type="checkbox"/> متقن المعيار 100%
معلمة المادة/ .....			

# بِسْمِ اللَّهِ الرَّحْمَنِ الرَّحِيمِ

رقم النشاط/  
زمن النشاط/  
نوعها/ فردية  
الصف :

ورقة عمل  
المادة/ رياضيات  
الموضوع/ (2-4) الجمع  
الإسم :  
الرابع

س : يمثل الجدول الآتي عدد بطاقات الدخول المباعة يومي الأربعاء والخميس لحضور مباراتين في كرة السلة . فما مجموع بطاقات الدخول المباعة؟



مبيعات بطاقات الدخول	
اليوم	العدد
الأربعاء	٥٧١٣
الخميس	٤٨٢٧

الحل :

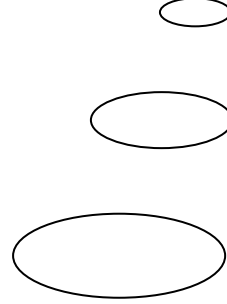
غير مجتازة	متمكنة	متقدمة	متفوقة
<input type="checkbox"/> غير متقن أقل من 80 %	<input type="checkbox"/> متقن المعيار من 80% إلى أقل من 90%	<input type="checkbox"/> متقن المعيار من 90% إلى أقل من 100%	<input type="checkbox"/> متقن المعيار 100%
معلمة المادة/ .....			

# بِسْمِ اللَّهِ الرَّحْمَنِ الرَّحِيمِ

رقم النشاط/  
زمن النشاط/  
نوعها/ فردية  
الصف :

ورقة عمل  
المادة/ رياضيات  
الموضوع/ ( 5-2 ) الطرح  
الإسم :  
الرابع

س : في رحلةٍ بينَ مدينتينِ قطعتُ طائرةٌ مسافةً 957 كلم.  
فإذا كانتِ المسافةُ بينَ المدينتينِ 3214 كلم. فكَمْ تبلغُ  
المسافةُ المُتبقيةُ؟



الحل :

غير مجتازة

متمكنة

متقدمة

متفوقة

غير متقن أقل من 80 %

متقن المعيار من 80% إلى أقل من 90%

متقن المعيار من 90% إلى أقل من 100%

متقن المعيار 100%

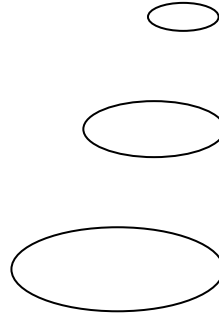
..... / معلمة المادة

# بِسْمِ اللَّهِ الرَّحْمَنِ الرَّحِيمِ

رقم النشاط/  
زمن النشاط/  
نوعها/ فردية  
الصف :

ورقة عمل  
المادة/ رياضيات  
الموضوع/ (2-6) الطرح بوجود الأصفار  
الإسم :  
الرابع

س : اشترت مدرسة تجهيزاتٍ مِخْبَرِيَّةً بمبلغ 5004  
ريالات. فإذا كان ثمنُ المِجْهَرِ 2815 ريالاً، فَمَا ثمنُ  
التَّجْهِيزَاتِ الأُخْرَى ؟



الحل :

غير مجتازة	متمكنة	متقدمة	متفوقة
<input type="checkbox"/> غير متقن أقل من 80 %	<input type="checkbox"/> متقن المعيار من 80% إلى أقل من 90%	<input type="checkbox"/> متقن المعيار من 90% إلى أقل من 100%	<input type="checkbox"/> متقن المعيار 100%
معلمة المادة/ .....			

# بِسْمِ اللَّهِ الرَّحْمَنِ الرَّحِيمِ

رقم النشاط/  
زمن النشاط/  
نوعها/ فردية  
الصف : الرابع

ورقة عمل  
المادة/ رياضيات  
الموضوع/ الفصل الثالث  
الاسم : (1-3) جمع البيانات وتنظيمها

## نظمى البيانات التالية فى لوحة إشارة :

يُبيِّنُ الجدولُ الآتي الوَسائِلَ المُخْتَلِفَةَ الَّتِي  
تستعملُها مجموعةٌ مِنَ الطُّلَّابِ لِلوَصُولِ إلى  
المدرسةِ.

كيف تأتي إلى المدرسة؟	
التكرار	الوسيلة
٨	بالحافلة
١٢	بالسيارة
٦	مشياً

الحل :

غير مجتازة	ممكنة	متقدمة	متفوقة
<input type="checkbox"/> غير متقن أقل من 80 %	<input type="checkbox"/> متقن المعيار من 80% إلى أقل من 90%	<input type="checkbox"/> متقن المعيار من 90% إلى أقل من 100%	<input type="checkbox"/> متقن المعيار 100%
معلمة المادة/ .....			



رقم النشاط/

زمن النشاط/

نوعها/

الصف :

ورقة عمل

المادة/ رياضيات

الموضوع/ (2-3) المنوال والوسيط والقيم المتطرفة  
فردية

الإسم : .....

س: أوجدىِ المنوالَ والوسيطَ، وحددىِ القيمَ المتطرفةَ إن  
وُجدتْ:

درجاتُ الطُلابِ في اختبارِ الرِّياضيَّاتِ (من ١٠ درجات)	
الاسمُ	الدرجةُ
أحمدُ	٩
عبدُ الرَّحمنِ	٧
ماجدُ	٩
تركى	٨
طلالُ	٧

الإجابة :

المنوال : .....

الوسيط : .....

القيم المتطرفة : .....

متفوقة	متقدمة	متمكنة	غير مجتازة
<input type="checkbox"/> متقن المعيار 100%	<input type="checkbox"/> متقن المعيار من 90% إلى أقل من 100%	<input type="checkbox"/> متقن المعيار من 80% إلى أقل من 90%	<input type="checkbox"/> غير متقن أقل من 80%
معلمة المادة/ .....			

# بِسْمِ اللَّهِ الرَّحْمَنِ الرَّحِيمِ

رقم النشاط/  
زمن النشاط/  
نوعها/ فردية  
الصف :

ورقة عمل  
المادة/ رياضيات  
الموضوع/ (3-3) خطة حل مسألة  
الإسم : .....

س : يقضي عدنان 40 دقيقة يوميًا في ممارسة  
رياضة المشي. فكم دقيقة يمشي في 5 أيام؟

اليوم	الوقت (دقيقة)
السبت	40
الأحد	80
الاثنين	120
الثلاثاء	■
الأربعاء	■

الحل :

غير مجتازة

متمكنة

متقدمة

متفوقة

غير متقن أقل من 80 %

متقن المعيار من 80% إلى أقل من 90%

متقن المعيار من 90% إلى أقل من 100%

متقن المعيار 100%

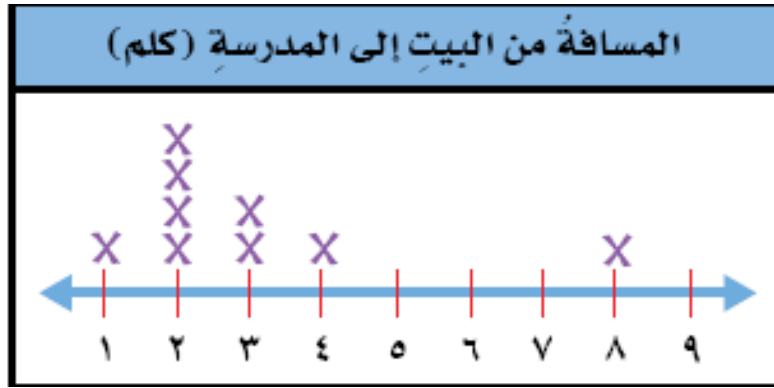
..... / معلمة المادة

## بِسْمِ اللَّهِ الرَّحْمَنِ الرَّحِيمِ

رقم النشاط/  
زمن النشاط/  
نوعها/ فردية  
الصف :

ورقة عمل  
المادة/ رياضيات  
الموضوع/ (3-4) التمثيل بالنقاط  
الإسم : .....

س: أوجدي المنوال والوسيط والقيمة المتطرفة إن وجدت :



**الإجابة :**

المنوال : .....

الوسيط : .....

القيم المتطرفة : .....

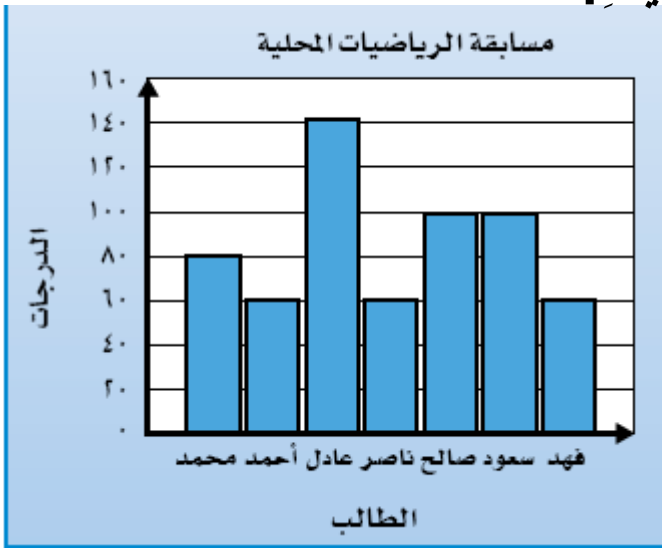
غير مجتازة	متمكنة	متقدمة	متفوقة
<input type="checkbox"/> غير متقن أقل من 80 %	<input type="checkbox"/> متقن المعيار من 80% إلى أقل من 90%	<input type="checkbox"/> متقن المعيار من 90% إلى أقل من 100%	<input type="checkbox"/> متقن المعيار 100%
معلمة المادة/ .....			

# بِسْمِ اللَّهِ الرَّحْمَنِ الرَّحِيمِ

رقم النشاط/  
زمن النشاط/  
نوعها/ فردية  
الصف :

ورقة عمل  
المادة/ رياضيات  
الموضوع/ (3-5) التمثيل بالأعداد  
الإسم :  
الرابع

يُبَيِّنُ التَّمثِيلُ التَّالِيَّ دَرَجَاتِ سَبْعَةٍ مِنَ الطُّلَّابِ فِي الْمَسَابِقَةِ الْمَحَلِّيَّةِ  
لِلرِّيَاضِيَّاتِ:



1) من من الطلاب الذين حصلوا على الدرجة نفسها ؟

الحل :

2) كم تزيد درجات عادل على درجات محمد ؟

الحل :

غير مجتازة	متمكنة	متقدمة	متفوقة
<input type="checkbox"/> غير متقن أقل من 80 %	<input type="checkbox"/> متقن المعيار من 80% إلى أقل من 90%	<input type="checkbox"/> متقن المعيار من 90% إلى أقل من 100%	<input type="checkbox"/> متقن المعيار 100%
معلمة المادة/ .....			

# بِسْمِ اللَّهِ الرَّحْمَنِ الرَّحِيمِ

رقم النشاط/  
زمن النشاط/

ورقة عمل

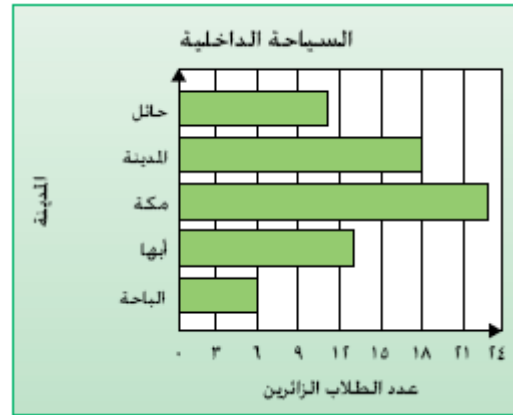
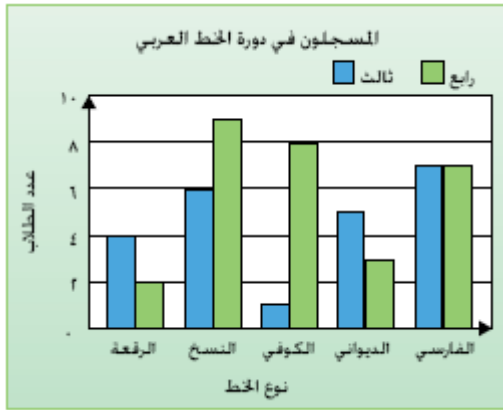
المادة/ رياضيات

الموضوع/ (3-6) التمثيل بالأعمدة والأعمدة المزدوجة نوعها/ فردية

الصف:

الإسم:  
الرابع

س: استعملي التمثيلين الآتيين للإجابة عن الأسئلة:



1) ما المدينة التي زارها أكبر عدد من الطلاب؟

الحل:

2) ما مجموع الطلاب في هذه الدورة؟

الحل:

غير مجتازة

متمكنة

متقدمة

متفوقة

غير متقن أقل من 80 %

متقن المعيار من 80% إلى أقل من 90%

متقن المعيار من 90% إلى أقل من 100%

متقن المعيار 100%

معلمة المادة/ .....

# بِسْمِ اللَّهِ الرَّحْمَنِ الرَّحِيمِ

رقم النشاط/  
زمن النشاط/  
نوعها/ فردية  
الصف :

ورقة عمل  
المادة/ رياضيات  
الموضوع/ (3-6) تمثيل البيانات بأعمدة مزدوجة  
الإسم :  
الرابع

مثلى البيانات التى فى الجدول بالأعمدة المزدوجة ؟

عدد الكتب المُستعارة		
سارة	نورة	الشهر
٢	٣	المحرم
٦	٥	صفر
٥	٤	ربيع الأول
٤	٦	ربيع الثاني

غير مجتازة

متمكنة

متقدمة

متفوقة

غير متقن أقل من 80 %

متقن المعيار من 80% إلى أقل من 90%

متقن المعيار من 90% إلى أقل من 100%

متقن المعيار 100%


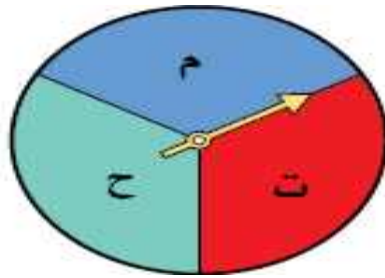
..... / معلمي المادة

# بِسْمِ اللَّهِ الرَّحْمَنِ الرَّحِيمِ

رقم النشاط/  
زمن النشاط/  
نوعها/ فردية  
الصف :

ورقة عمل  
المادة/ رياضيات  
الموضوع/ (7-3) النواتج الممكنة  
الإسم :  
الرابع

س : مَا النَّوَاتِجُ الْمُمْكِنَةُ إِذَا أُدِيرَ الْمُؤَشِّرُ مَرَّتَيْنِ؟



غير مجتازة	متمكنة	متقدمة	متفوقة
<input type="checkbox"/> غير متقن أقل من 80 %	<input type="checkbox"/> متقن المعيار من 80% إلى أقل من 90%	<input type="checkbox"/> متقن المعيار من 90% إلى أقل من 100%	<input type="checkbox"/> متقن المعيار 100%
معلمة المادة/ .....			

# بِسْمِ اللَّهِ الرَّحْمَنِ الرَّحِيمِ

رقم النشاط/

زمن النشاط/

نوعها/ فردية

الصف :

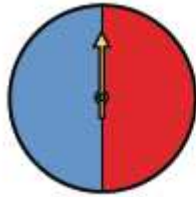
ورقة عمل

المادة/ رياضيات

الموضوع/ (7-3)

الاسم :  
الرابع

س1: استعملى طريقة الرَّسْمِ الشَّجَرِيِّ لإيجاد عدد النّواتج المُمكنة لتجربة رمي القطعة النّقدية وتدوير المؤشّر.



غير مجتازة

متمكنة

متقدمة

متفوقة

غير متقن أقل من 80 %

متقن المعيار من 80% إلى أقل من 90%

متقن المعيار من 90% إلى أقل من 100%

متقن المعيار 100%

..... / معلمة المادة



# بِسْمِ اللَّهِ الرَّحْمَنِ الرَّحِيمِ

رقم النشاط/  
زمن النشاط/  
نوعها/ فردية  
الصف :

ورقة عمل  
المادة/ رياضيات  
الموضوع/ (8-3) الاحتمال  
الإسم :  
الرابع

س: إذا تمّ تدوير المؤشّر، فصِفِي احتمالَ النّواتج؛ استعملي  
(مؤكّده، أكثر احتمالاً، متساوي الإمكانية، أقل احتمالاً،  
مستحيل)



عدّد زوجي



عدّد فردي



# بِسْمِ اللَّهِ الرَّحْمَنِ الرَّحِيمِ

رقم النشاط

ورقة عمل

غير مجتازة	متمكنة	متقدمة	متفوقة
<input type="checkbox"/> غير متقن أقل من 80 %	<input type="checkbox"/> متقن المعيار من 80% إلى أقل من 90%	<input type="checkbox"/> متقن المعيار من 90% إلى أقل من 100%	<input type="checkbox"/> متقن المعيار 100%
معلمة المادة/ .....			

زمن النشاط/  
نوعها/ فردية  
الصف :

المادة/ رياضيات  
الموضوع/ الفصل الرابع ( الأنماط والجبر )  
الإسم : .....

\*\*\* قارنى بين كل عددين مستعمله < أو > أو = :

٢٦	●	٦٢	٢
٨	●	٥	١
١٠	●	٩ + ٢	٦
١٠	●	٧ + ٣	٥

بسم الله الرحمن الرحيم

رقم النشاط/  
زمن النشاط

ورقة عمل  
المادة/ رياضيات

غير مجتازة	متمكنة	متقدمة	متفوقة
<input type="checkbox"/> غير متقن أقل من 80 %	<input type="checkbox"/> متقن المعيار من 80% إلى أقل من 90%	<input type="checkbox"/> متقن المعيار من 90% إلى أقل من 100%	<input type="checkbox"/> متقن المعيار 100%
..... معلمة المادة/			

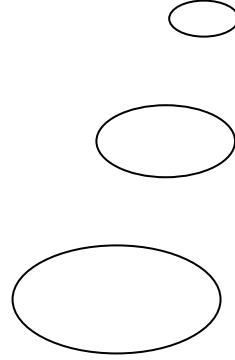
الموضوع / (1-4) تمثيل الجمل العديّة وكتابتها

نوعها / فردية

الصف :

الإسم :  
الرابع

س : يزنُ خروفٌ صغيرٌ 15 كيلوغرامًا، بينما يصلُ وزنُ أمِّه حوالي 70 كيلوغرامًا. اكتبِ جُملةً عديَّةً تُبيِّنُ الفرقَ بينَ الوزنيْنِ.



الحل :

غير مجتازة

متمكّنة

متقدّمة

متفوّقة

غير متقن أقل من 80 %

متقن المعيار من 80% إلى أقل من 90%

متقن المعيار من 90% إلى أقل من 100%

متقن المعيار 100%

معلّمة المادة / .....


# بِسْمِ اللَّهِ الرَّحْمَنِ الرَّحِيمِ

رقم النشاط/  
زمن النشاط/  
نوعها/ فردية  
الصف :

ورقة عمل  
المادة/ رياضيات  
الموضوع/ (2-4) تمثيل العبارات العددية  
الإسم :  
الرابع :

## استعملي التمثيل التالي عن الأسئلة

1) ما النكهتان الأكثر تفضيلاً؟ أكتبي جملةً عدديّةً تُعبّر عن الفرق بين



الحل :

2) أكتبي جملةً عدديّةً تُعبّر عن مجموع الَّذِينَ يُفَضِّلُونَ نكهةَ الفانيليا وَالَّذِينَ يُفَضِّلُونَ نكهةَ الثّوتِ.

الحل :

غير مجتازة

متمكّنة

متقدمة

متفوقة

غير متقن أقل من 80 %

متقن المعيار من 80% إلى أقل من 90%

متقن المعيار من 90% إلى أقل من 100%

متقن المعيار 100%

..... /معلّمة المادة/

# بِسْمِ اللَّهِ الرَّحْمَنِ الرَّحِيمِ

رقم النشاط/  
زمن النشاط/  
نوعها/ فردية  
الصف :

ورقة عمل  
المادة/ رياضيات  
الموضوع/ (3-4) مهارة حل المسألة  
الإسم :  
الرابع

س: يبلغ طول مضمار الجري 400 متر. ركض أسامة مسافة 80 متراً في المرة الأولى، ثم ركض 60 متراً في المرة الثانية. فإذا كان قد بدأ من مسافة 6 أمتار بعد خط البداية، فكم متراً بقي ليصل إلى خط النهاية؟



الحل :

غير مجتازة

متمكنة

متقدمة

متفوقة

غير متمكن أقل من 80 %

متمكن المعيار من 80% إلى أقل من 90%

متمكن المعيار من 90% إلى أقل من 100%

متمكن المعيار 100%

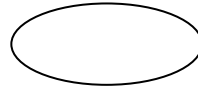
..... /معلمة المادة/

# بِسْمِ اللَّهِ الرَّحْمَنِ الرَّحِيمِ

رقم النشاط/  
زمن النشاط/  
نوعها/ فردية  
الصف :

ورقة عمل  
المادة/ رياضيات  
الموضوع/ (4-4) اكتشاف قاعدة من جدول  
الإسم :  
الرابع

س : يَكُونُ يَزِيدُ 5 مَثَلَّاتٍ مَنفَصِلَةً بِاسْتِعْمَالِ الْعِيدَانِ. فَإِذَا  
اسْتَعْمَلَ 3 عِيدَانٍ لِلْمَثَلِّ الْأَوَّلِ وَ 3 عِيدَانٍ أُخْرَى لِلْمَثَلِّ الثَّانِي،  
فَكَمْ عَوْدًا يَحْتَاجُ لِتَكْوِينِ 5 مَثَلَّاتٍ؟



الحل :

غير مجتازة

متمكنة

متقدمة

متفوقة

غير متقن أقل من 80 %

متقن المعيار من 80% إلى أقل من 90%

متقن المعيار من 90% إلى أقل من 100%

متقن المعيار 100%

..... / معلمة المادة

# بِسْمِ اللَّهِ الرَّحْمَنِ الرَّحِيمِ

رقم النشاط/  
زمن النشاط/  
نوعها/ فردية  
الصف :

ورقة عمل  
المادة/ رياضيات  
الموضوع/ ( 4- 5 ) جداول الجمع والطرح  
الإسم :  
الرابع

س : إذا عَلِمْتَ أَنَّ عُمَرَ سَعَادَ أَكْبَرُ مِنْ عُمَرَ إِحْدَى السَّلَاحِفِ بِ 4 سنواتٍ. فَأَجِبْ عَنِ السُّؤَالَيْنِ التَّالِيَيْنِ :

(1) أَنشِئْ جَدُولَ دَائِلَةٍ لِتَجِدَ عُمَرَ السَّلَحْفَاةِ عِنْدَمَا يَكُونُ عَمْرُ سَعَادَ

13-14-15-16 سنة .



غير مجتازة

متمكنة

متقدمة

متفوقة

غير متقن أقل من 80 %

متقن المعيار من 80% إلى أقل من 90%

متقن المعيار من 90% إلى أقل من 100%

متقن المعيار 100%

..... / معلمة المادة

# بِسْمِ اللَّهِ الرَّحْمَنِ الرَّحِيمِ

رقم النشاط/  
زمن النشاط/  
نوعها/ فردية  
الصف :

ورقة عمل  
المادة/ رياضيات  
الموضوع/ (4-6) استقصاء حل المسألة  
الإسم :  
الرابع

س : ما عدد قَوَالِبِ الزُّبْدِ الَّتِي يَنْبَغِي أَنْ تُضَافَ إِلَى كِفَّةِ الْمِيزَانِ الِئْمَنَى لِلْحُصُولِ عَلَى وَزْنَيْنِ مُتَسَاوَيْنِ؟



الحل :

غير مجتازة	متمكنة	متقدمة	متفوقة
<input type="checkbox"/> غير متقن أقل من 80 %	<input type="checkbox"/> متقن المعيار من 80% إلى أقل من 90%	<input type="checkbox"/> متقن المعيار من 90% إلى أقل من 100%	<input type="checkbox"/> متقن المعيار 100%
معلمة المادة/ .....			



# بِسْمِ اللَّهِ الرَّحْمَنِ الرَّحِيمِ

رقم النشاط/  
زمن النشاط/  
نوعها/ فردية  
الصف :

ورقة عمل  
المادة/ رياضيات  
الموضوع/ ( 4 - 7 ) جداول الضرب والقسمة  
الإسم : .....

\*\*\* إذا عَلِمْتِي أَنَّ فِي كُلِّ كَيْسٍ 6 كُرَاتٍ فَاسْتَعْمَلِي  
الجدولَ المُجاورَ لِتَجِدَ العَدَدَ الكُلِّيَّ لِلْكُرَاتِ فِي أَعْدَادِ  
مُخْتَلِفَةٍ مِنَ الأكياسِ.

القاعدة: $6 \times \Delta$	
المُدخلة $\Delta$	المُخرجة $\square$
5	<input type="checkbox"/>
6	<input type="checkbox"/>
7	<input type="checkbox"/>
8	<input type="checkbox"/>

غير مجتازة	متمكنة	متقدمة	متفوقة
<input type="checkbox"/> غير متقن أقل من 80 %	<input type="checkbox"/> متقن المعيار من 80% إلى أقل من 90%	<input type="checkbox"/> متقن المعيار من 90% إلى أقل من 100%	<input type="checkbox"/> متقن المعيار 100%
معلمة المادة/ .....			

# بِسْمِ اللَّهِ الرَّحْمَنِ الرَّحِيمِ

رقم النشاط/  
زمن النشاط/  
نوعها/  
الصف :

ورقة عمل  
المادة/ رياضيات  
الموضوع/ (4-8) العبارات الجبرية  
فردية  
الإسم :  
الرابع :

\*\*\* عند مُباركٍ 3 قِطِ، وَلَدَتْ وَاحِدَةً مِنْهَا عِدَدًا مِنَ الْقِطِ

الصَّغِيرَةِ:

عر في مُتَعَيِّرًا، ثُمَّ اكْتُبِي عِبْرَةَ تُمَثِّلُ عِدَدَ الْقِطِ الْكَبِيرَةِ وَالْقِطِ  
الصَّغِيرَةِ عِنْدَ مُبَارِكِ الْآنَ.

الحل :

غير مجتازة	متمكنة	متقدمة	متفوقة
<input type="checkbox"/> غير متقن أقل من 80 %	<input type="checkbox"/> متقن المعيار من 80% إلى أقل من 90%	<input type="checkbox"/> متقن المعيار من 90% إلى أقل من 100%	<input type="checkbox"/> متقن المعيار 100%
معلمة المادة/ .....			

# بِسْمِ اللَّهِ الرَّحْمَنِ الرَّحِيمِ

رقم النشاط/  
زمن النشاط/  
نوعها/ فردية  
الصف :

ورقة عمل  
المادة/ رياضيات  
الموضوع/ (1-5) الضرب في مضاعفات 01، 001، 0001  
الإسم :  
الترابيع :

س: إذا كان وزن سيارة الإطفاء  $8 \times 2000$  كيلو غرام فما  
وزنها بالكيلو غرامات؟



الحل :

غير مجتازة

متمكنة

متقدمة

متفوقة

غير متقن أقل من 80 %

متقن المعيار من 80% إلى أقل من 90%

متقن المعيار من 90% إلى أقل من 100%

متقن المعيار 100%

معلمة المادة/ .....

# بِسْمِ اللَّهِ الرَّحْمَنِ الرَّحِيمِ

رقم النشاط/  
زمن النشاط/  
نوعها/ فردية  
الصف :

ورقة عمل  
المادة/ رياضيات  
الموضوع/ ( 5-2 ) مهارة حل المسألة  
الإسم :  
الترابيع

تُظهِرُ الْقَائِمَةُ الْآتِيَةُ مَجْمُوعَ الرِّيَالَاتِ الَّتِي يُوقِرُهَا مَجْمُوعَةٌ مِنْ الْأَطْفَالِ فِي حَصَّالَاتِهِمْ: فَهَلْ مِنْ الْمَعْقُولِ الْقَوْلُ إِنَّ مَجْمُوعَ مَا يُوقِرُهُ الْأَطْفَالُ جَمِيعًا هُمْ 200 رِيَالٍ تَقْرِيبًا؟

الطفلة	عدد الريالات
ناهد	٤٨
نص	٥٢
خلود	٤٧
وفاء	٥٣

الحل :

# بِسْمِ اللَّهِ الرَّحْمَنِ الرَّحِيمِ

رقم النشاط/  
زمن النشاط/  
نوعها/ فردية

ورقة عمل  
المادة/ رياضيات  
الموضوع/ ( 5-3 ) تقدير نواتج الضرب

غير مجتازة

ممكنة

متقدمة

متفوقة

غير متقن أقل من 80 %

متقن المعيار من 80% إلى أقل من 90%

متقن المعيار من 90% إلى أقل من 100%

متقن المعيار 100%

..... / معلمي المادة

الإسم : الرابع

الصف :

\*\*\* في كل فصلٍ من فصولِ مدرسةِ حَسَّانِ بنِ ثابتِ  
الابتدائيَّةِ 24 طالبًا. كم يبلغُ عددُ طلابِ المدرسةِ تقريبًا  
إذا كانَ عددُ فُصولِ المدرسةِ 8 فصولٍ .

الحل :

بِسْمِ اللَّهِ الرَّحْمَنِ الرَّحِيمِ

ورقة عمل

المادة/ رياضيات

الموضوع/ (5-4) ضرب عدد من رقمين في عدد من رقم واحد

رقم النشاط/

زمن النشاط/

نوعها/ فردية

الصف :

الإسم : الرابع

oo

س : أوجدى ناتج الضرب، واستعملى التقريب لتتأكد من معقولية

الإجابة:

غير مجتازة	ممكنة	متقدمة	متفوقة
<input type="checkbox"/> غير متقن أقل من 80 %	<input type="checkbox"/> متقن المعيار من 80% إلى أقل من 90%	<input type="checkbox"/> متقن المعيار من 90% إلى أقل من 100%	<input type="checkbox"/> متقن المعيار 100%
معلمة المادة/ .....			





















